

BaC → 2022

الجمهورية الجزائرية الديمقراطية الشعبية

التاريخ و الجغرافيا

الباقية تحتوي :

مواضيع و حلول البكالوريات
من 2008 إلى 2021

علوم تجريبية + رياضيات + تقني رياضي

... تذكروا أن :

تعب المراجعة أفضل من ألم السقوط

<https://www.facebook.com/okba.bac.2010>

من تجميع و تنظيم : عقبة بن نافع



الجمهورية الجزائرية الديمقراطية الشعبية
وزارة التربية الوطنية



دورة: 2021

الديوان الوطني للامتحانات والمسابقات
امتحان بكالوريا التعليم الثانوي

الشعبة: علوم تجريبية، رياضيات، تقني رياضي

المدة: 03 سا و 30 د

اختبار في مادة: التاريخ والجغرافيا

على المترشح أن يختار أحد الموضوعين الآتين:
الموضوع الأول

التاريخ:

الجزء الأول: (06 نقاط)

(1) "... لقد كان لتعاظم المدّ الشيوعي في أوروبا أثر كبير على السياسة الخارجية الأمريكية لفترة ما بعد الحرب، فالمدّ الشيوعي يشكّل خطرا لا بد من مقاومته... لذا اتخذت الولايات المتحدة الأمريكية إجراءات عدّة لمقاومته باتباع سياسة المساعدات الاقتصادية التي برزت من خلال مشروع مارشال وإقامة تحالفات عسكرية، واتضح ذلك جليا في حلف شمال الأطلسي...".

المراجع: د/ ايناس سعدي عبد الله. السياسة الأمريكية تجاه الاتحاد السوفياتي 1950/1945. صفحة: 124.

المطلوب: اشرح ما تحته خطّ في النصّ.

(2) عرّف بالشخصيات التالية:

- ديدوش مراد - نيكيتا خروتشوف - هاري ترومان

الجزء الثاني: (04 نقاط)

بالتوقيع على اتفاقية وقف اطلاق النار في عام 1962، بدأت ملامح قيام الدولة الجزائرية تتضح، ولإعادة بنائها سارع قادة الثورة لعقد مؤتمر طرابلس الذي حدّد الاختيارات الكبرى للجزائر المستقلة.

المطلوب: انطلاقا من العبارة واعتمادا على ما درست، اكتب مقالا تاريخيا تبين فيه:

(1) الظروف السياسية التي قامت فيها الدولة الجزائرية.

(2) الاختيارات السياسية والاقتصادية التي أقرّها مؤتمر طرابلس لإعادة بناء الدولة الجزائرية.



الجغرافيا

الجزء الأول: (06 نقاط)

1) "... من المتعارف عليه اقتصاديا، أنّ التدفقات الدولية لرؤوس الأموال تساهم في دفع عجلة التنمية الاقتصادية وبالرغم من صحة هذه العلاقة على وجه العموم في كثير من الدول المتقدمة، وكذا بعض الدول الناشئة، إلا أنّ الدراسات التطبيقية الحديثة التي أجريت في عدد من الدول النامية تشير إلى أنّ هذه العلاقة ليست مستقرة، وقد تختلف من اقتصاد إلى آخر...".

المرجع: أ/د/محفوظ جبار، د/سامية عمر. التدفقات الدولية لرؤوس الأموال. الصفحة: 137.

المطلوب: اشرح ما تحته خط في النص.

2) إليك جدولاً يمثل نسبة استخدام الروبوتات الصناعية في العالم عام: 2018.

المنطقة	افريقيا	أمريكا	أوروبا	آسيا	بقية مناطق العالم
النسبة %	2.8%	13.6%	17.3%	65%	1.3%

المصدر: تقرير صندوق النقد الدولي عام: 2019.

المطلوب: مثل المعطيات الإحصائية الواردة في الجدول بدائرة نسبية. نق = 4 سم.

الجزء الثاني: (04 نقاط)

تضافرت عوامل مختلفة جعلت من إقليم الراين أحد أهم الأقاليم الاقتصادية في العالم، حيث أصبح يحتل مكانة هامة في اقتصاد الاتحاد الأوروبي.

المطلوب: انطلاقاً من العبارة واعتماداً على ما درست، اكتب مقالا جغرافيا تبين فيه:

1) مكانة إقليم الراين في اقتصاد الاتحاد الأوروبي.

2) العوامل التي ساعدت إقليم الراين على تحقيق تلك المكانة.



الموضوع الثاني

التاريخ:

الجزء الأول: (06 نقاط)

1) "... عرفت شوارع العاصمة والعديد من المدن الجزائرية الأخرى في يوم 1960/12/11 نزول الشعب الجزائري في مظاهرات للإعلان عن رغبته في نيل الاستقلال وتدعيمه المطلق للكفاح المسلح... كما يمثل هذا اليوم محطة بارزة في تاريخنا المعاصر، ومنعطف حاسم في استرجاع السيادة الوطنية".

المرجع: الكتاب المدرسي. مادة التاريخ. السنة الثالثة ثانوي. صفحة: 202.

المطلوب: اشرح ما تحته خط في النص.

2) أكمل الجدول التالي:

التاريخ	الحدث
1955/05/14	
1956/08/20	
	إعلان مبدأ ترومان

الجزء الثاني: (04 نقاط)

وضعت نهاية المواجهة العسكرية الثانية معايير جديدة تشكّل عليها العالم، أدّت إلى انقسامه إلى معسكرين مختلفين إيديولوجيا، غربي تقوده الولايات المتحدة الأمريكية، وشرقي يقوده الاتحاد السوفياتي، وتميّزت العلاقات بينهما بشدة التوتر.

المطلوب: انطلاقا من العبارة واعتمادا على ما درست، اكتب مقالا تاريخيا تبين فيه:

1) معايير تشكّل العالم التاريخية والاقتصادية بعد المواجهة العسكرية الثانية.

2) أسباب التوتر بين المعسكرين.



الجغرافيا:

الجزء الأول: (06 نقاط)

(1) "... لقد أدت سرعة التقدم التكنولوجي في العقود الماضية... إلى الاستفادة من موارد الإنتاج البعيدة، حيث مكّنتها من خدمة أسواق متزايدة الاتساع... وهذا الاتجاه نحو العولمة الذي عززته سياسات تحرير التجارة... ألهب النمو المُطرد للاستثمار والتجارة في السلع والخدمات على الصعيد الدولي...".
المرجع: دليل احصائيات التجارة الدولية في الخدمات. السلسلة: ميم. صفحة: 07. العدد: 86.

المطلوب: اشرح ما تحته خط في النص.

(2) إليك جدولا يمثل نسب أهم الشركاء التجاريين لدول شرق وجنوب شرق آسيا (الآسيان) عام: 2017.

المنطقة	بين دول الآسيان	الصين	الاتحاد الأوروبي	و.م. الأمريكية	اليابان
النسبة %	23 %	17 %	10 %	9 %	9 %

المصدر: صندوق النقد الدولي. جنوب شرق آسيا. التمويل والتنمية. صفحة: 35 / سبتمبر 2018.

المطلوب: علق على المعطيات الإحصائية الواردة في الجدول.

الجزء الثاني: (04 نقاط)

تخضع أسعار القمح في الأسواق العالمية لمجموعة من العوامل، ولأهميته الاستراتيجية، تلعب الدول المنتجة له دورا حاسما في التحكم فيها.

المطلوب: انطلاقا من العبارة واعتمادا على ما درست، اكتب مقالا جغرافيا تبين فيه:

(1) أهمية القمح.

(2) العوامل المتحركة في أسعاره.

العلامة		عناصر الإجابة (الموضوع الأول)
مجموعة	مجزأة	
06		<p>التاريخ:</p> <p>الجزء الأول:</p> <p>1) شرح ما تحته خط في النص:</p> <p>❖ المد الشيوعي: انتشار الأفكار الشيوعية خارج الاتحاد السوفياتي في كل من أوروبا وآسيا وإفريقيا وأمريكا اللاتينية لكسب مناطق النفوذ ومواجهة الرأسمالية (الصين، كوريا الشمالية، الفيتنام، كوبا...) خلال الحرب الباردة.</p> <p>❖ مشروع مارشال: مشروع اقتصادي تقدم به جورج مارشال وزير خارجية (و.م.أ) في 1947/06/05 يقوم على تقديم مساعدات اقتصادية ومالية لدول أوروبا من أجل إعادة بنائها واحتواء المد الشيوعي السوفياتي بها...</p> <p>❖ حلف شمال الأطلسي: تكتل عسكري ضمّ دول أوروبا الغربية الرأسمالية بزعامة الولايات المتحدة الأمريكية، تأسس في 1949/04/04 هدفه تطويق المد الشيوعي في أوروبا والدفاع على مصالح المعسكر الغربي، مقره بروكسل (بلجيكا)، توسع نحو أوروبا الشرقية بعد نهاية الحرب الباردة....</p> <p>2) التعريف بالشخصيات التالية:</p> <p>❖ ديدوش مراد: (1927-1955) أحد قادة الثورة الجزائرية، وعضو (ح.إ.ح.د) والمنظمة الخاصة، اللجنة الثورية للوحدة والعمل، مجموعة 22، مجموعة 06، عين قائدا للولاية الثانية، من مفجري الثورة، استشهد في عام 1955.</p> <p>❖ نيكيتا خروتشوف: عضو في القيادة الثلاثية، ورئيس الاتحاد السوفياتي (1953-1964) بعد وفاة ستالين، صاحب مبادرة التعايش السلمي، قام بحل جهاز الكومنفورم 1956، عاصر أزمة قناة السويس 1956 وأزمة برلين الثانية 1961، وأزمة كوبا 1962...</p> <p>❖ هاري ترومان: رئيس الولايات المتحدة الأمريكية (1945-1953) وافق على استخدام القنبلة الذرية على اليابان خلال المواجهة العسكرية الثانية، أحد أقطاب الحرب الباردة، له مبدأ حمل اسمه (مبدأ ترومان 1947)، تدخل عسكريا في كوريا، عرف بدعّمه الشديد لليهود...</p> <p>الجزء الثاني:</p> <p>مقدمة قيام الدولة الجزائرية بين الظروف السياسية والاختيارات الكبرى لمؤتمر طرابلس.</p> <p>(تقبل كل مقدمة وظيفية)</p> <p>1) الظروف السياسية التي قامت فيها الدولة الجزائرية.</p> <p>❖ التوقيع على اتفاقيات إيفيان يوم 1962/03/18 وإعلان وقف إطلاق النار وسريان مفعوله في 1962/03/19.</p> <p>(تقبل كل الإجابات الصحيحة الأخرى).</p>
	01	
	01	
	01	
	01.5	
	0.75	
	0.75	
	0.50	
	0.25	

العلامة		عناصر الإجابة (الموضوع الأول)
مجموعة	مجزأة	
04	0.25	❖ إنشاء هيئة تنفيذية مؤقتة لتسيير المرحلة الانتقالية ترأسها عبد الرحمان فارس.
	0.25	❖ اشتداد النشاط الإرهابي لمنظمة الجيش السري الفرنسي (O.A.S) لإجهاض تطبيق اتفاقيات ايفيان.
	0.25	❖ انعقاد مؤتمر طرابلس في ماي/ جوان 1962 والذي حدّد الاختيارات الكبرى للجزائر المستقلة.
	0.25	❖ إجراء استفتاء تقرير المصير يوم 1962/07/01 وإعلان النتائج في 1962/07/03 واعتراف فرنسا باستقلال الجزائر في 1962/07/05.
04	0.25	❖ تكوين جمعية تأسيسية برئاسة فرحات عباس وإعلان قيام الجمهورية الجزائرية المستقلة في: 1962/09/26 برئاسة أحمد بن بلة.
	0.25	(2) <u>الاختيارات السياسية والاقتصادية التي أقرها مؤتمر طرابلس لإعادة بناء الدولة الجزائرية.</u>
	0.25	(أ) <u>الاختيارات السياسية:</u>
	3 × 0.25	❖ تشييد دولة عصرية على أسس ديمقراطية في إطار الحزب الواحد. ❖ دعم السلم والتعاون الدوليين ومحاربة كل أشكال الاستعمار. ❖ تجسيد الوحدة المغاربية والعربية والافريقية...
06	0.25	(ب) <u>الاختيارات الاقتصادية:</u>
	3 × 0.25	❖ اعتماد الاشتراكية كنظام اقتصادي لتحقيق التنمية الشاملة. ❖ استعادة السيادة على ثروات البلاد ومحاربة الاحتكار والاقطاعية. ❖ انشاء عملة وطنية (الدينار الجزائري).
	0.50	<u>خاتمة:</u> اختيارات مؤتمر طرابلس تجسيد لمواثيق الثورة في بناء الدولة الجزائرية. (تقبل كل خاتمة وظيفية)
	01	<u>الجغرافيا</u>
06	01	<u>الجزء الأول:</u>
	01	(1) <u>شرح ما تحته خط في النص:</u>
	01	❖ <u>رؤوس الأموال:</u> الموارد المتنوعة الثابتة (المصانع، العقارات...) والمنقولة (الأموال، الآلات...) التي تستثمر في المشاريع المختلفة وتستخدم في العملية الإنتاجية قصد المساهمة في الدخل القومي.
	01	❖ <u>التنمية:</u> مجموعة القرارات والإجراءات والتدابير التي تقوم بها الدولة في مختلف القطاعات للاستغلال الأمثل للإمكانات (الاقتصادية والطبيعية والبشرية...) بهدف تحقيق التطور الاقتصادي والرفاهية الاجتماعية.
06	01	(تقبل كل الإجابات الصحيحة الأخرى)

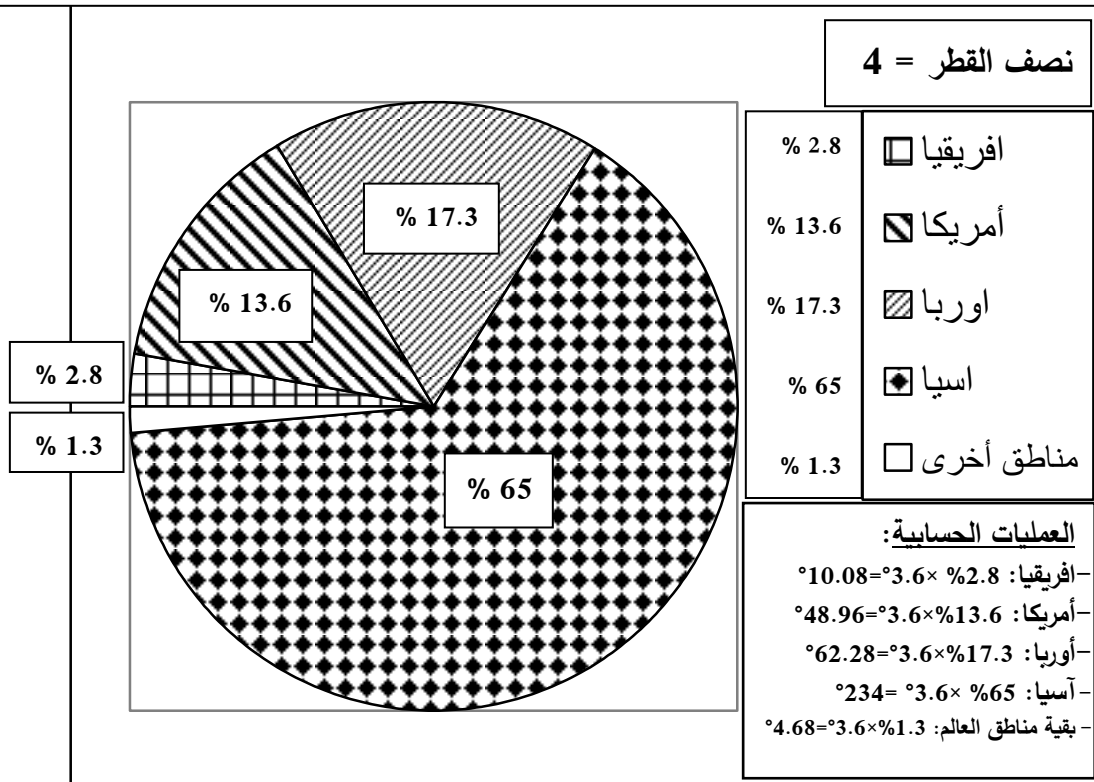
العلامة		عناصر الإجابة (الموضوع الأول)
مجموعة	مجزأة	
04	01	❖ <u>الدول المتقدمة</u> : مجموعة الدول الكبرى التي تتحكم في الاقتصاد العالمي إنتاجا وتسويقا، وفي رؤوس الأموال...تنتهي لعالم الشمال (العالم المتقدم) مثل الأقطاب الاقتصادية الكبرى (وم أ والاتحاد الأوروبي وشرق آسيا...).
	03	(2) رسم دائرة نسببة تمثل نسبة استخدام الروبوتات الصناعية عام 2018. - العنوان: 0.25 - المقياس: 0.25 - المفتاح: 0.50 - الإنجاز: 01.50. -العمليات الحسابية: 0.50 * مثلا: - أمريكا: $13.6\% \times 3.6^\circ = 48.96^\circ$
	0.50	<u>الجزء الثاني:</u> <u>مقدمة:</u> إقليم الراين بين عوامل قوته الاقتصادية، ومكانته في اقتصاد الاتحاد الأوروبي. (تقبل كل مقدمة وظيفية)
	0.25 $6 \times$	(1) <u>مكانة إقليم الراين في اقتصاد الاتحاد الاوربي:</u> ❖ أكبر إقليم من حيث النشاط الاقتصادي (صناعة، زراعة، تجارة...). ❖ تتواجد به أهم البورصات في العالم مثل: باريس، فرانكفورت... ❖ به ثاني أكبر ميناء للتبادل التجاري في العالم (ميناء روتردام هولندا). ❖ إقليم مكتظ بالسكان (يد عاملة، سوق استهلاكية...) وبه أكبر تجمع مدن في الاتحاد الأوروبي. ❖ أكبر إقليم مساهم في صادرات وواردات الاتحاد الأوروبي. ❖ يلعب دورا كبيرا في تسهيل المواصلات والمبادلات التجارية بين مدنه من خلال نهر الراين.
	0.25 $6 \times$	(2) <u>العوامل التي ساعدت إقليم الراين على تحقيق تلك المكانة:</u> ❖ القوة البشرية واليد العاملة المؤهلة والسوق الاستهلاكية الواسعة. ❖ قوة البنية التحتية. ❖ الامكانيات الطبيعية (نهر الراين والثروات الباطنية). ❖ انفتاح إقليم الراين على الواجهة البحرية الشمالية. ❖ حرية انتقال الأشخاص والأموال. ❖ وفرة رؤوس الأموال من خلال البورصات والبنوك.
	0.50	<u>خاتمة:</u> يبقى إقليم الراين أهم فضاء اقتصادي في أوروبا والعالم. (تقبل كل خاتمة وظيفية) (تقبل كل الإجابات الصحيحة الأخرى)

العلامة		عناصر الإجابة (الموضوع الثاني)								
مجموعة	مجزأة									
06	01	التاريخ: الجزء الأول: (1) شرح ما تحته خط في النص: ❖ مظاهرات: أسلوب نضال سياسي يتمثل في خروج الشعب إلى الشارع بلافتات وشعارات، (تظاهر الشعب) انتهجته الجزائر في حربها ضد الاستعمار الفرنسي لتحقيق الاستقلال، ظهر ذلك في مظاهرات 1960/12/11... ❖ الكفاح المسلح: أسلوب مقاومة يقوم على القوة باستعمال السلاح، اعتمدت عليه الجزائر في ثورتها التحريرية (1954-1962) ضد الوجود الاستعماري لتحقيق الاستقلال.... ❖ السيادة الوطنية: استعادة الدولة السيطرة على مجالها الجغرافي والبحري والجوي وثرواتها وقراراتها السياسية مثل: استرجاع الجزائر لسيادتها بعد تحقيق الاستقلال... (2) اكمل الجدول التالي:								
		<table><tr><th>الحدث</th><th>تاريخه</th></tr><tr><td>إنشاء حلف وارسو</td><td>1955/05/14</td></tr><tr><td>انعقاد مؤتمر الصومام</td><td>1956/08/20</td></tr><tr><td>إعلان مبدأ ترومان</td><td>1947/03/12</td></tr></table>	الحدث	تاريخه	إنشاء حلف وارسو	1955/05/14	انعقاد مؤتمر الصومام	1956/08/20	إعلان مبدأ ترومان	1947/03/12
		الحدث	تاريخه							
		إنشاء حلف وارسو	1955/05/14							
	انعقاد مؤتمر الصومام	1956/08/20								
	إعلان مبدأ ترومان	1947/03/12								
	01	الجزء الثاني: مقدمة: معايير تشكل العالم بعد المواجهة العسكرية الثانية، وأسباب التوتر بين المعسكرين. (تقبل كل مقدمة وظيفية) (1) معايير تشكل العالم التاريخية والاقتصادية بعد المواجهة العسكرية الثانية: أ) التاريخية: ❖ بروز قوتين جديدتين (الولايات المتحدة الأمريكية والاتحاد السوفياتي) بعد المواجهة العسكرية الثانية وانقسام العالم إلى معسكرين... ❖ ميلاد منظمة الأمم المتحدة كأداة لتنظيم العلاقات الدولية وحفظ السلم والأمن الدوليين. ❖ تراجع مكانة أوروبا بعد المواجهة العسكرية الثانية، وظهور موجة التحرر بمستعمراتها. ب) الاقتصادية: ❖ إقامة نظام مالي جديد (1944) وإنشاء مؤسسات مالية وتجارية (BIRD GATT.FMI). ❖ خروج الو.م.أ قوة اقتصادية بعد المواجهة. ع.2. مسيطرة على 80 % من الذهب العالمي. ❖ خروج أوروبا محطمة اقتصاديا من المواجهة. ع.2. (تقبل كل الإجابات الصحيحة الأخرى).								
		01								
		01								
	0.50									
04	0.25 3 ×									
	0.25 3 ×									

العلامة		عناصر الإجابة (الموضوع الثاني)
مجموعة	مجزأة	
06	0.25 6 ×	<p>(2) أسباب التوتر بين المعسكرين:</p> <ul style="list-style-type: none"> ❖ الاختلاف الإيديولوجي بين المعسكرين. ❖ زوال مبررات التحالف الذي كان قائما بينهما خلال المواجهة العسكرية الثانية. ❖ تصادم المصالح ورغبة كل طرف في فرض هيمنته على العالم. ❖ خروج الولايات المتحدة الأمريكية من عزلتها ودفاعها عن العالم الحر. ❖ سيطرة الاتحاد السوفياتي على أوروبا الشرقية وانتشار الاشتراكية خارجها. ❖ بداية السباق نحو التسلح النووي.
		<p>خاتمة: تكريس انقسام العالم إلى معسكرين ودخولهما في مواجهة (الحرب الباردة). (تقبل كل خاتمة وظيفية)</p>
		<p>الجغرافيا: الجزء الأول:</p>
		<p>(1) شرح ما تحته خط في النص:</p>
		<p>❖ العولمة: تعني الشمولية أي انتشار نفس الآليات التي تدير الأنشطة الاقتصادية والتجارية في كل دول العالم مثل فرض النمط الأمريكي على العالم، أو هي توجه عالمي نحو إزالة كل الحواجز أمام تنقل السلع، والخدمات، ورؤوس الأموال، والأشخاص...</p>
		<p>❖ تحرير التجارة: سياسة تتبناها (OMC) تقوم على رفع الحواجز الجمركية وتسهيل حركة الأشخاص والسلع والأموال....</p>
	0.50	<p>❖ الاستثمار: توظيف رؤوس الأموال في العملية الاقتصادية لتنشيط الانتاج الزراعي، الصناعي والتجاري والخدمات لتحقيق الربح والرفاهية....</p>
		<p>(2) التعليق على المعطيات الإحصائية الواردة في الجدول</p>
		<p>❖ تباين نسبة مبادلات الشركاء التجاريين مع منطقة الآسيان.</p>
		<p>❖ معظم الشركاء التجاريين للآسيان من دول العالم المتقدم (28%).</p>
04	0.25 0.25	<p>❖ تعدد الشركاء التجاريين لمنطقة الآسيان.</p>
		<p>الجزء الثاني:</p>
		<p>مقدمة: القمح بين الأهمية في الاقتصاد العالمي وعوامل التحكم في أسعاره. (تقبل كل مقدمة وظيفية)</p>
		<p>(1) أهمية القمح:</p>
	0.50 0.50 0.25 0.25	<p>❖ يساهم في الدخل القومي للعديد من الدول في العالم.</p>
		<p>❖ يدخل في العديد من الصناعات الغذائية ويوفر مناصب العمل في الزراعة والصناعة.</p>
		<p>❖ يستعمل كوسيلة ضغط من الدول المصدرة ضد الدول المستوردة (السلاح الأخضر).</p>
		<p>❖ مادة غذائية أساسية لمعظم دول العالم. (تقبل كل الإجابات الصحيحة الأخرى).</p>
	0.50	<p>(2) العوامل المتحكم في أسعاره:</p>
		<p>❖ تأثر الإنتاج العالمي بالتقلبات المناخية (الجفاف، الكوارث الطبيعية...)</p>

0.25 6×	<p>❖ ضعف إنتاجه في العالم الثالث، وتقلص المساحات المخصصة لزراعته...</p> <p>❖ تخضع تجارته لاتفاقيات تبرم بين الدولة المصدرة والدولة المستوردة (المفاوضات).</p> <p>❖ دور الشركات الاحتكارية الكبرى (دريفس، كارجيل...).</p> <p>❖ الجودة والتنوعية....</p>
0.50	<p>❖ زيادة الطلب العالمي عليه وقانون السوق.</p> <p><u>خاتمة:</u> أهمية القمح الاستراتيجية وتحكم الكبرى في أسعاره.</p> <p>(تقبل كل خاتمة وظيفية)</p> <p>(تقبل كل الإجابات الصحيحة الأخرى).</p>

دائرة نسببة تمثل نسبة استخدام الروبوتات الصّناعية في العالم عام: 2018.



الجمهورية الجزائرية الديمقراطية الشعبية
وزارة التربية الوطنية



دورة: 2020

الديوان الوطني للامتحانات والمسابقات
امتحان بكالوريا التعليم الثانوي
الشعبة: علوم تجريبية، رياضيات، تقني رياضي

المدة: 03 سا و 30 د

اختبار في مادة: التاريخ والجغرافيا

على المترشح أن يختار أحد الموضوعين الآتيين:

الموضوع الأول

التاريخ

الجزء الأول: (06 نقاط)

(1) "... إن فشل مخطط شال ميدانيا لا يعني أنه لم يلحق الأضرار بجيش جبهة التحرير الوطني، بل إن عملياته قد أضرت كثيرا بالثورة الجزائرية ولولا الصمود المستميت من المجاهدين، وفعالية التكتيك المتمثل في انتهاء حرب الكمائن بشكل مكثف ومنظم... لأصبح مخطط شال من الخطط الاستعمارية الناجحة..."
المرجع: محمد ياحي، الخطط الجهنمية الفرنسية في مواجهة الثورة الجزائرية، الأسلاك الشائكة المكهربة، ص 28.

المطلوب: اشرح ما تحته خط في النص.

(2) عرّف بالشخصيات التالية:

- جورج مارشال - ميخائيل غورباتشوف - محمد العربي بن مهيدي.

الجزء الثاني: (04 نقاط)

إن زوال الخطر الشيوعي يعدّ حدثا استراتيجيا، ترتّب عنه إعادة تنظيم العلاقات الدولية، بما يخدم مصالح الولايات المتحدة الأمريكية التي فرضت نظاما دوليا جديدا.

المطلوب: انطلاقا من العبارة واعتمادا على ما درست، اكتب مقالا تاريخيا تبين فيه:

(1) ملامح النظام الدولي الجديد.

(2) انعكاساته على العلاقات الدولية.

الجغرافيا

الجزء الأول: (06 نقاط)

1) " اعتمدت اتفاقية ماستريخت منذ نوفمبر 1992 على تحقيق التكامل الاقتصادي بين بلدان الاتحاد الأوروبي تمهيدا لتحقيق الوحدة النقدية من خلال تنسيق السياسات الاقتصادية...وبذلك حقق الاتحاد الأوروبي حلما مشتركا...والذي يعتبر خطوة أساسية على طريق تحقيق الوحدة الأوروبية الكاملة، وتظهر أهميته من خلال تأمينه لحرية انتقال البضائع فخفضت جلّ المعاملات التجارية بين دول الاتحاد لقواعد التجارة الداخلية...".
المرجع: كفية قسميوري، التكامل الاقتصادي بالاتحاد الأوروبي ... صفحة: 43، 44 بسكرة الجزائر.

المطلوب: اشرح ما تحته خط في النص.

2) إليك جدولا يمثل نسب إنتاج بعض دول العالم للغاز المسال بالنسبة للإنتاج العالمي لسنة 2017.

الدولة	قطر	أستراليا	روسيا	ماليزيا	إندونيسيا	الجزائر
نسبة الإنتاج (%)	29.9 %	17.2 %	4.2 %	9.7 %	6.4 %	4.5 %

المصدر: تقرير الاتحاد الدولي للغاز 2018.

المطلوب: مثل المعطيات الإحصائية الواردة في الجدول بأعمدة بيانية بمقياس رسم: 2 سم = 5%.
1 سم = سُمْك العمود.

الجزء الثاني: (04 نقاط)

تمتلك الولايات المتحدة الأمريكية أقوى اقتصاد في العالم، إذ لا يجاريه من حيث الحجم أي اقتصاد آخر، فهو يعتمد اقتصاد السوق المبني على الاستثمار الحر والمنافسة التجارية.

المطلوب: انطلاقا من العبارة واعتمادا على ما درست، اكتب مقالا جغرافيا تبين فيه:

1) عوامل القوة الاقتصادية الأمريكية.

2) مظاهر قوتها الاقتصادية.

الموضوع الثاني**التاريخ****الجزء الأول: (06 نقاط)**

1) " كانت حركة عدم الانحياز تستهدف معارضة القواعد والأحلاف العسكرية والمحافظة على السلام وتخفيف حدة التوتر الدولي والعمل على نزع السلاح وتحريم الأسلحة الذرية والقضاء على الاستعمار والإمبريالية الجديدة وعلى التمييز والتفرقة العنصرية..."

المرجع: لماذا انهارت الشيوعية، عبد الكريم غلاب، ص: 169.

المطلوب: اشرح ما تحته خط في النص.

2) أكمل الجدول التالي:

التاريخ	الحدث
	تأسيس حلف شمال الاطلسي
1958/09/19	
	تأسيس منظمة الكوميكون

الجزء الثاني: (04 نقاط)

في إطار استراتيجيتها الشاملة للقضاء على الثورة الجزائرية، عمدت فرنسا إلى اتباع سياسة عسكرية صارمة ومتكاملة غير أنّ قوة الثورة وتنظيمها مكّنها من التصدي لهذه السياسة وإفشالها.

المطلوب: انطلاقا من العبارة واعتمادا على ما درست، اكتب مقالا تاريخيا تبين فيه:

1) السياسة العسكرية التي اعتمدتها فرنسا للقضاء على الثورة.

2) رد فعل الثورة على تلك السياسة العسكرية.

الجغرافيا

الجزء الأول: (06 نقاط)

(1) " يعدّ النفط من الموارد الاستراتيجية الهامة التي يدور حولها التنافس والصراع الدولي بهدف السيطرة على المصادر والأسواق والتحكم في آليات الإنتاج والتوزيع، الأمر الذي يجعل اقتصادات الدول النامية تعيش مزيدا من التشابك والاندماج في المنظومة الاقتصادية العالمية، مما يلقي مزيدا من التحديات... في سياق الصراعات الدولية وتحديد مفاعيلها السلبية والإيجابية على العلاقات الاقتصادية الدولية. "

المرجع: أهمية النفط في الاقتصاد والتجارة الدولية، قصي عبد الكريم إبراهيم، ص: 07.

المطلوب: اشرح ما تحته خط في النص.

(2) إليك جدولا يمثل قيمة المبادلات التجارية للسلع والخدمات للاتحاد الأوروبي سنة: 2017.

الوحدة: مليار دولار.

المبادلات التجارية	الصادرات	الواردات	الميزان التجاري
السلع	1547	2410	-863
الخدمات	762	516	246

المصدر: منظمة التجارة العالمية 2018.

المطلوب: علق على المعطيات الإحصائية الواردة في الجدول.

الجزء الثاني: (04 نقاط)

رغم المشاكل المتعددة التي تعاني منها الدول المتخلفة في المجال الاقتصادي، إلا أنها تسعى جاهدة لإحداث تنمية شاملة تخرجها من دائرة التخلف.

المطلوب: انطلاقا من العبارة واعتمادا على ما درست، اكتب مقالا جغرافيا تبين فيه:

(1) المشاكل الاقتصادية التي تواجه البلدان المتخلفة.

(2) الحلول المقترحة لتجاوز تلك المشاكل.

انتهى الموضوع الثاني

العلامة		عناصر الإجابة (الموضوع الأول)
مجموعة	مجزأة	
06		<p>التاريخ: الجزء الأول:</p> <p>(1) شرح ما تحته خط في النص:</p> <p>❖ مخطط شال: مجموعة من الخطط العسكرية نسبة للجنرال مورييس شال (قائد القوات العسكرية) عام 1959 تتمثل في عمليات منسقة برية، بحرية، جوية استهدفت مختلف المناطق الواحدة تلو الأخرى من أجل البحث عن الثوار والقضاء عليهم وعلى الثورة في عام واحد منها: عملية الأحجار الكريمة، التاج، الشرارة...</p> <p>❖ جبهة التحرير الوطني: تنظيم سياسي ثوري جزائري تأسس خلال اجتماع 1954/10/23 قاد الثورة التحريرية إلى غاية الاستقلال (1954 - 1962) وهو الممثل الوحيد والشرعي للشعب الجزائري.</p> <p>❖ الثورة الجزائرية: رد فعل الشعب الجزائري بشتى الوسائل ضد الاستعمار الفرنسي (1954 - 1962) بقيادة جبهة التحرير وجيش التحرير الوطني ضد الاستعمار الفرنسي بهدف تحقيق الاستقلال واستعادة السيادة الوطنية.</p> <p>(2) التعريف بالشخصيات التالية:</p> <p>❖ جورج مارشال: (1880 - 1959) وزير خارجية الولايات المتحدة الأمريكية (1947 - 1949) في عهد الرئيس ترومان، رئيس أركان الجيش الأمريكي اثناء الحرب العالمية 2 والمستشار العسكري للرئيس روزفلت، له مشروع باسمه يقضي بتقديم مساعدات اقتصادية لأوروبا واليابان 1947 (اعادة اعمارها بعد الحرب العالمية 2)...</p> <p>❖ مخائيل غورباتشوف: رئيس الاتحاد السوفياتي (1985 - 1991) صاحب اصلاحات (بيروسترويكيا، غلاسنوست) حضر قمة مالطا 1989 مع الرئيس الاميركي جورج بوش الاب، في عهده سقط الاتحاد السوفياتي وانتهت الحرب الباردة ...</p> <p>❖ محمد العربي بن مهيدي: (1923 - 1957) شهيد جزائري، عضو حزب الشعب، حركة انتصار الحريات الديمقراطية، عضو في المنظمة الخاصة، اللجنة الثورية للوحدة والعمل، ثم مجموعة 22 ومجموعة 06، من مفجري الثورة التحريرية، قائد المنطقة الخامسة وهران (الغرب) حضر مؤتمر الصومام 1956 عضو لجنة التنسيق والتنفيذ.</p> <p>ملاحظة: (تقبل كل الإجابات الصحيحة الأخرى)</p>

العلامة		عناصر الإجابة (الموضوع الأول)
مجموعة	مجزأة	
04	0.5	<p>الجزء الثاني:</p> <p>مقدمة: نهاية الحرب الباردة مهدت لنظام دولي جديد كان له انعكاسات على العلاقات الدولية.</p> <p>(1) ملامح النظام الدولي الجديد: (تقبل كل مقدمة وظيفية تخدم الموضوع)</p> <ul style="list-style-type: none"> ❖ تفكك الكتلة الشرقية وسقوط الاتحاد السوفياتي. ❖ زوال الثنائية وظهور الأحادية القطبية. ❖ تراجع الإيديولوجية الشيوعية. ❖ إنفراد الو.م.أ. بالزعامة الدولية. ❖ نهاية الحرب الباردة. ❖ تراجع دور هيئة الأمم المتحدة وحركة عدم الانحياز.
	<p>×0.25</p> <p>6</p>	<p>(2) انعكاساته على العلاقات الدولية:</p> <ul style="list-style-type: none"> ❖ قيادة الولايات المتحدة الأمريكية للعالم (أمركة العالم). ❖ تراجع دور روسيا في العلاقات الدولية حيث أصبحت تجاري الو.م.أ. وحلفائها. ❖ تحول الصراع من شرق - غرب إلى شمال - جنوب أي من إيديولوجي إلى اقتصادي علمي. ❖ هيمنة وتحكم الولايات المتحدة الأمريكية في الاقتصاد العالمي. ❖ هيمنة الو.م.أ. على المؤسسات السياسية والاقتصادية الدولية وتسخيرها لخدمة مصالحها. ❖ تدخل الو.م.أ. في شؤون الدول الداخلية وتوسيع دائرة الاضطرابات والحروب الأهلية وتنصيب الأنظمة الموالية لها في أغلب الدول خاصة العالم الثالث. <p>خاتمة: ظهور النظام الدولي الجديد وانعكاساته على العلاقات الدولية كرّس الهيمنة الأمريكية على العالم.</p> <p>جغرافيا:</p>
06	0.50	<p>الجزء الأول:</p> <p>(1) شرح ما تحته خط في النص:</p> <ul style="list-style-type: none"> ❖ التكتل الاقتصادي: شكل من أشكال التعاون والشراكة بين دولتين أو أكثر ويتم بموجب معاهدة، يقوم التكتل على تنسيق الجهود بين الأعضاء والاستغلال الجماعي للإمكانيات المتاحة وإلغاء الرسوم الجمركية وحرية انتقال الأشخاص والأموال والسلع وإقامة المشاريع المشتركة ويهدف إلى تحقيق المنفعة العامة لجميع الأطراف مثل: الاتحاد الأوروبي، الآسيان، إلينا... ❖ الاتحاد الأوروبي: تكتل اقتصادي وسياسي قاري أوروبي تأسس بموجب معاهدة روما 1957 <p>ب: 06 دول تحت اسم السوق الأوروبية المشتركة ثم أخذ في التوسع ليتحول بعد معاهدة ماستريخت 1992 إلى الاتحاد الأوروبي ويضم 27 دولة أوروبية (بعد انسحاب بريطانيا رسميا) ويهدف إلى تحقيق التكامل والتعاون والتطور في جميع المجالات وهو أحد أقطاب الثلاث الاقتصادية العالمي...</p> <p>ملاحظة: (تقبل كل الإجابات الصحيحة الأخرى)</p>
	<p>01</p> <p>01</p>	

العلامة		عناصر الإجابة (الموضوع الأول)
مجموعة	مجزأة	
	01	<p>❖ <u>التجارة الداخلية</u>: تعني التجارة البينية أي التبادل التجاري (السلع، الأموال، الخدمات...) بين الدول الأعضاء في الاتحاد الأوروبي وقد تطور هذا التبادل بشكل ملفت بفعل إلغاء الرسوم الجمركية وتطبيق مبدأ الأفضلية في التعامل التجاري والاقتصادي، أو هي التبادل التجاري الذي يتم داخل الدولة الواحدة...</p> <p>(2) <u>التمثيل البياني</u>: أعمدة بيانية تمثل نسب إنتاج بعض الدول للغاز المسال بالنسبة للإنتاج العالمي عام 2017:</p> <p>- الإنجاز: 02 - المفتاح: 0.25 - المقياس: 0.25 - العنوان: 0.50</p>
	03	<p><u>العنوان</u>: أعمدة بيانية تمثل نسب إنتاج بعض دول العالم للغاز المسال سنة 2017</p> <p>الحزب الثاني:</p>
	0.5	<p><u>مقدمة</u>: الولايات المتحدة بين تنوع مواردها وشساعة إقليمها وقوة اقتصادها.</p> <p>(تقبل كل مقدمة وظيفية تخدم الموضوع)</p> <p>(1) <u>عوامل القوة الاقتصادية الأمريكية</u>:</p>
04	0.25 ×6	<p>❖ العامل التاريخي (الاستفادة من الثورة الصناعية عن طريق الهجرة الأوروبية-الاستفادة من الح ع 2...).</p> <p>❖ الموقع الاستراتيجي حيث تتحصر بين محيطين إلى جانب اتساع المساحة.</p> <p>❖ تنوع الأقاليم المناخية ووفرة الشبكة المائية وتنوع المواد الأولية الطبيعية والغابية....</p> <p>❖ قوة ديمغرافية: توفر اليد العاملة الخبيرة والفنية وفعالية الفرد الأمريكي.</p> <p>❖ البحث العلمي والتكنولوجيا المتطورة واستقطاب الكفاءات والأدمغة من الخارج...</p> <p>❖ القوة المالية وقوة شركاتها الاحتكارية.</p>

		ملاحظة: (تقبل كل الإجابات الصحيحة الأخرى)
العلامة		عناصر الإجابة (الموضوع الأول)
مجموعة	مجزأة	
		<p>(2) مظاهر قوتها الاقتصادية:</p> <ul style="list-style-type: none"> ❖ ضخامة الإنتاج الصناعي والفلاحي وتنوعه واحتلالها المراتب الأولى عالميا. ❖ قوة عملتها الدولار باعتبارها عملة مرجعية. ❖ امتلاكها لأكبر البورصات في العالم مثل (بورصة وول ستريت). ❖ سيطرتها على المؤسسات المالية والاقتصادية العالمية مثل (صندوق النقد الدولي...). ❖ ضخامة الاستثمارات الأمريكية في العالم واحتكارها الأسواق العالمية... ❖ ضخامة استهلاكها للمواد الأولية. <p>خاتمة: الامكانيات الاقتصادية الضخمة والمتنوعة ساعدت الولايات المتحدة الأمريكية على امتلاك اقتصاد قوي فرضت به هيمنتها على العالم.</p> <p>(تقبل كل خاتمة وظيفية تخدم الموضوع)</p> <p>ملاحظة: (تقبل كل الإجابات الصحيحة الأخرى)</p>
	0.25 ×6	
	0.50	

العلامة		عناصر الإجابة (الموضوع الثاني)								
مجموعة	مجزأة									
06		<p>تاريخ الجزء الأول:</p> <p>(1) <u>شرح ما تحته خط في النص:</u></p> <p>❖ حركة عدم الانحياز: تنظيم سياسي إقليمي تأسس في مؤتمر بلغراد (يوغسلافيا) سنة 1961، ويضم الدول المستقلة حديثا والتي تبنت سياسة الحياد الإيجابي وعدم الميل لأي معسكر من المعسكرين المتصارعين في إطار الحرب الباردة.</p> <p>❖ الأحلاف العسكرية: تكتلات عسكرية ظهرت مع اشتداد الحرب الباردة وهي استراتيجية تبناها المعسكران الشرقي والغربي في إطار الحرب الباردة وتقوم على مبدأ الدفاع المشترك مثل حلف شمال الأطلسي وحلف وارسو....</p> <p>❖ التوتر الدولي: نزاعات وصراعات وأزمات عرفها العالم في إطار الصراع بين الشرق والغرب نتيجة الاختلاف الأيديولوجي وانعدام الثقة بين المعسكرين(الحرب الباردة).</p> <p>(2) <u>التواريخ المعلمية:</u></p> <table><tr><th>التاريخ</th><th>الحدث</th></tr><tr><td>1949/04/04</td><td>تأسيس حلف شمال الأطلسي</td></tr><tr><td>1958/09/19</td><td>تأسيس الحكومة المؤقتة للجمهورية الجزائرية</td></tr><tr><td>1949/01/25</td><td>تأسيس منظمة الكوميكون</td></tr></table>	التاريخ	الحدث	1949/04/04	تأسيس حلف شمال الأطلسي	1958/09/19	تأسيس الحكومة المؤقتة للجمهورية الجزائرية	1949/01/25	تأسيس منظمة الكوميكون
	التاريخ	الحدث								
	1949/04/04	تأسيس حلف شمال الأطلسي								
	1958/09/19	تأسيس الحكومة المؤقتة للجمهورية الجزائرية								
	1949/01/25	تأسيس منظمة الكوميكون								

العلامة		عناصر الإجابة (الموضوع الثاني)
مجموعة	مجزأة	
04	0.25 06×	<p>(2) <u>رد فعل الثورة على تلك السياسة العسكرية:</u></p> <ul style="list-style-type: none"> ❖ الاعتماد على أسلوب حرب الكمائن والتكثيف من الهجومات والعمليات الفدائية... ❖ هجومات الشمال القسنطيني في المنطقة الثانية وفك الحصار على المنطقة 01 الأوراس. ❖ انشاء هيئة الأركان وتنظيم جيش التحرير الوطني. ❖ احداث الولاية السادسة في الصحراء لتوسيع نطاق الثورة (شموليتها). ❖ نقل الثورة إلى التراب الفرنسي (الولاية السابعة). ❖ انشاء جيش الحدود الغربية والشرقية لاختراق خط شال وموريس والبحث عن مصادر التمويل بالعتاد والسلاح.
	0.50	<p><u>خاتمة:</u> نجاح الثورة الجزائرية في افشال المخططات الاستعمارية العسكرية.</p> <p><u>الجغرافيا:</u> (تقبل كل خاتمة وظيفية تخدم الموضوع)</p> <p><u>الجزء الأول:</u></p> <p>(1) <u>شرح ما تحته خط في النص:</u></p> <ul style="list-style-type: none"> ❖ <u>الموارد الاستراتيجية:</u> مجموع المواد الأولية الخام ذات الأهمية الاقتصادية والسياسية التي يكثر عليها الطلب في الأسواق العالمية مثل البترول والقمح.
06	01	<ul style="list-style-type: none"> ❖ <u>الاسواق:</u> هي الفضاءات المخصصة لتداول جميع السلع (بيع، شراء، مقايضة) وعقد الصفقات التجارية بين مختلف دول العالم.
	01	<ul style="list-style-type: none"> ❖ <u>الدول النامية:</u> مجموعة من البلدان التي تنتمي الى العالم الثالث وتسمى بدول الجنوب وحقت الاستقلال حديثا بعدما خضعت للاستعمار وتعرف نموا اقتصاديا بطيئا وتعاني من مشاكل في العديد من القطاعات وتسعى إلى التطور باستغلال امكانياتها المختلفة وانتهاج سياسة تنموية شاملة للخروج من دائرة التخلف...
	01	<p>(2) <u>التعليق على المعطيات الإحصائية التي تمثل قيمة المبادلات التجارية للسلع والخدمات للاتحاد الأوروبي عام 2017.</u></p> <ul style="list-style-type: none"> ❖ ضخامة قيمة المبادلات التجارية. ❖ التباين بين قيمة الصادرات وقيمة الواردات. ❖ العجز الكبير في الميزان التجاري الأوروبي في مجال السلع والذي بلغ 863 مليار دولار. ❖ فائض الميزان التجاري في مجال الخدمات والذي بلغ 246 مليار دولار.
	0.75 × 4	<p><u>ملاحظة:</u> (تقبل كل الإجابات الصحيحة لأخرى)</p>

العلامة		عناصر الإجابة (الموضوع الثاني)
مجموعة	مجزأة	
04	0.50	<p>الجزء الثاني:</p> <p>مقدمة: العالم الثالث بين المشاكل الاقتصادية والجهود التنموية للتخلص من التخلف. (تقبل كل مقدمة وظيفية تخدم الموضوع)</p> <p>(1) المشاكل الاقتصادية التي تواجه البلدان المتخلفة:</p> <ul style="list-style-type: none"> ❖ نقص رؤوس الاموال بسبب عجز ميزانها التجاري واعتمادها على تصدير مادة واحدة. ❖ ضعف الهياكل القاعدية خاصة شبكة المواصلات وعدم التحكم في التكنولوجيا وضعف البحث العلمي.
	0.25 06×	<ul style="list-style-type: none"> ❖ التبعية الاقتصادية والمالية لدول الشمال والتواجد المكثف للشركات الاحتكارية على أراضيها (استغلال أراضيها). ❖ ارتفاع حجم المديونية وفوائدها. ❖ سوء استغلال الموارد الطبيعية والبشرية والاعتماد على الصناعة الاستخراجية. ❖ فشل معظم التجارب والسياسات التنموية في بلدان العالم المتخلف.
	0.25 06×	<p>(2) الحلول المقترحة لتجاوز تلك المشاكل:</p> <ul style="list-style-type: none"> ❖ حسن استغلال الموارد والاستثمار الأمثل للإمكانيات. ❖ اعتماد استراتيجية تنمية اقتصادية واضحة الأهداف. ❖ دعم البحث العلمي والتكنولوجي واستيعابهما بدلا من استيرادهما. ❖ عقلنة التسيير وترشيد النفقات وتنويع الصادرات والتقليل من الواردات. ❖ توفير الجو الملائم للاستثمارات (قوانين محفزة، أمن، استقرار...). ❖ الاعتماد على الامكانيات الذاتية والتعاون (جنوب - جنوب).
	0,50	<p>خاتمة: التعاون والاستغلال الأمثل للإمكانيات المحلية ضرورة حتمية للخروج من دائرة التخلف. (تقبل كل خاتمة وظيفية تخدم الموضوع)</p> <p>ملاحظة: (تقبل كل الإجابات الصحيحة الأخرى)</p>



الجمهورية الجزائرية الديمقراطية الشعبية
وزارة التربية الوطنية



دورة: 2019

الديوان الوطني للامتحانات والمسابقات
امتحان بكالوريا التعليم الثانوي

الشعبة: علوم تجريبية، رياضيات، تقني رياضي

المدة: 03 سا و 30 د

اختبار في مادة: التاريخ والجغرافيا

على المترشح أن يختار أحد الموضوعين الآتيين:
الموضوع الأول

التاريخ

الجزء الأول: (06 نقاط)

(1) "... ولأنّ المسائل المتعلقة بالاستعمار عموما كان يتعيّن مناقشتها... داخل الجمعية العامة ... و ليس في مجلس الأمن، فقد أصبحت بمنأى عن سطوة "الفيّتو"، ولذلك لم تتمكن القوى الاستعمارية التقليدية من الوقوف أمام رياح التّغيير بل و أصبحت الحرب الباردة وقودا يُعطي مزيدا من القوة لحركات التحرر الوطني والاستقلال..."

المرجع: الامم المتحدة في نصف قرن ص 159

د/ حسن نافعة. عالم المعرفة العدد 202

المطلوب:

- اشرح ما تحته خطّ في النّص.

(2) على خريطة العالم المرفقة وقّع الدول دائمة العضوية في مجلس الأمن و تتمتع بحق «الفيّتو»

الجزء الثاني: (04 نقاط)

لعزل الشعب الجزائري عن ثورته ، قدّم الاستعمار الفرنسي مشاريع إغرائية، إلا أنّ وعي الشعب الجزائري حال دون تحقيق أهدافه.

المطلوب: انطلاقا من الفقرة واعتمادا على ما درست، اكتب مقالا تاريخيا تبرز فيه:

(1) المشاريع الإغرائية التي قدّمها الاستعمار لعزل الشعب عن الثورة.

(2) رد فعل الشعب الجزائري على ذلك.



الجغرافيا:

الجزء الأول: (06 نقاط)

(1) "...يُعد التّوجه نحو عالمية الاقتصاد أو ما يعرف باقتصاد السوق... هو التّوجه السائد والمهيمن على اقتصاديات العالم... و تعكس مؤشرات حركة رؤوس الأموال توجّها متزايدا نحو المضاربة في الأسواق المالية الكبرى المتمركزة في دول الشّمال..."

المرجع: الاتحاد الأوروبي والتفاعل الدولي في ظل النظام الدولي الجديد ص 141 معن عبد العزيز الرئيس.

المطلوب:

- اشرح ما تحته خطّ في النّص.

(2) إليك جدولا يمثل نسب مساهمة بعض الدول في التّجارة العالمية (الصادرات والواردات) عام 2017

الدول	الو.م أ	الصين	ألمانيا	اليابان	بريطانيا	فرنسا	هونغ كونغ	كوريا الجنوبية
الواردات %	13.40	10.20	06.50	03.70	3.60	03.50	03.30	02.70
الصادرات %	08.70	12.80	08.20	03.90	02.50	03.00	03.10	03.20

المصدر: المنظمة العالمية للتجارة (احصاءات التجارة الدولية 2018)

المطلوب: علّق على المعطيات الواردة في الجدول.

الجزء الثاني: (04 نقاط)

تضافرت مجموعة من العوامل جعلت من الاتحاد الأوروبي قوة اقتصادية كبرى، رغم المعوقات التي تعترضه.

المطلوب: انطلاقا من العبارة واعتمادا على ما درست، اكتب مقالا جغرافيا تبرز فيه:

(1) العوامل الطبيعية والبشرية التي جعلت الاتحاد الأوروبي قوة اقتصادية كبرى.

(2) المعوقات الخارجية التي تعترضه.

انتهى الموضوع الأول



الموضوع الثاني

التاريخ

الجزء الأول: (06 نقاط)

(1) "... ولكن الهزيمة العسكرية المهيمنة التي تلقاها الاستعمار الفرنسي في "ديان بيان فو" لم تكن سوى مرحلة في الكفاح الطويل والشاق ضدّ الإمبريالية، فمنذ الخمسينيات بدأت الولايات المتحدة الأمريكية تتدخل بطريقة مباشرة وغير مباشرة في الفيتنام، كما استعملت حلف جنوب شرق آسيا ... لخلافة الاستعمار الفرنسي..."

المرجع: الثورة الجزائرية معطيات وتحديات (ص 165)

محمد العربي ولد خليفة

المطلوب:

- اشرح ما تحته خط في النص.

(2) أكمل الجدول التالي:

التاريخ	الحدث
1956 - 10 - 22
1962 - 03 - 18
.....	مشروع ايزنهاور

الجزء الثاني: (04 نقاط)

ما إن أُعلن عن نهاية الحرب الباردة حتّى بدأت الكتلة الشرقية تتعرّض للتفكك الذي كانت له انعكاسات عديدة خاصة على قارة أوروبا.

المطلوب: انطلاقا من العبارة واعتمادا على ما درست، اكتب مقالا تاريخيا تبين فيه:

(1) أسباب تفكك الكتلة الشرقية.

(2) انعكاسات التفكك على قارة أوروبا.



الجغرافيا:

الجزء الأول: (06 نقاط)

(1) "... لقد شهد العقدان الماضيان زيادة هائلة في تدفقات رؤوس الأموال الدولية، ويرى بعض الاقتصاديين أنّ السبب في ذلك يعود إلى التطورات الكبيرة في قطاع تكنولوجيا المعلومات ونمو الشركات متعددة الجنسيات..."

المراجع: قياس وتحليل أثر التدفقات المالية الدولية

أ. م. د. ابراهيم موسى جامعة بغداد 2009

المطلوب:

- اشرح ما تحته خط في النص.

(2) إليك جدولاً يمثل مساهمة القطاعات الاقتصادية في الناتج الداخلي الخام للولايات المتحدة الأمريكية عام 2017.

النسبة المئوية %	القطاع
80.20	الخدمات
18.90	الصناعة
0.90	الفلاحة

المصدر: إحصائيات البنك العالمي 2018

- مثل معطيات الجدول بدائرة نسبية: نق = 3 سم

الجزء الثاني: (04 نقاط)

يزداد الاستهلاك العالمي للقمح لتزايد الطلب عليه، فإنتاجه يضع البلد في مأمن من الضغوطات والمخاطر، وغيابه يضع البلد تحت رحمة الدول المصدرة له وشركاتها الاحتكارية، وبلدان العالم الجنوب أكثر عرضة لذلك لضعف الإنتاج بها.

المطلوب: انطلاقاً من العبارة واعتماداً على ما درست، اكتب مقالاً جغرافياً تبرز فيه:

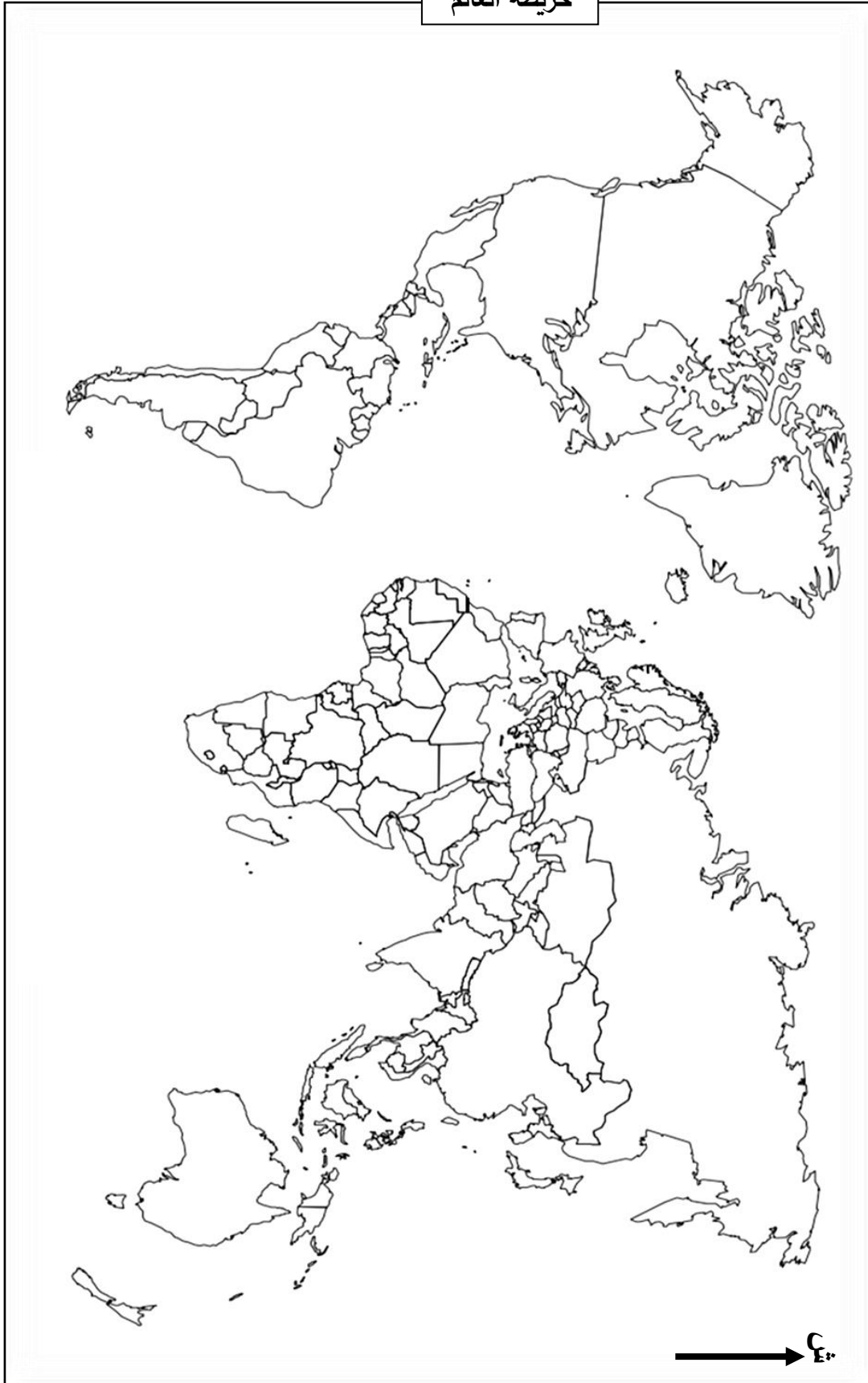
(1) أهمية القمح الاقتصادية والاجتماعية.

(2) انعكاسات ضعف إنتاج القمح على بلدان العالم الجنوب.

انتهى الموضوع الثاني



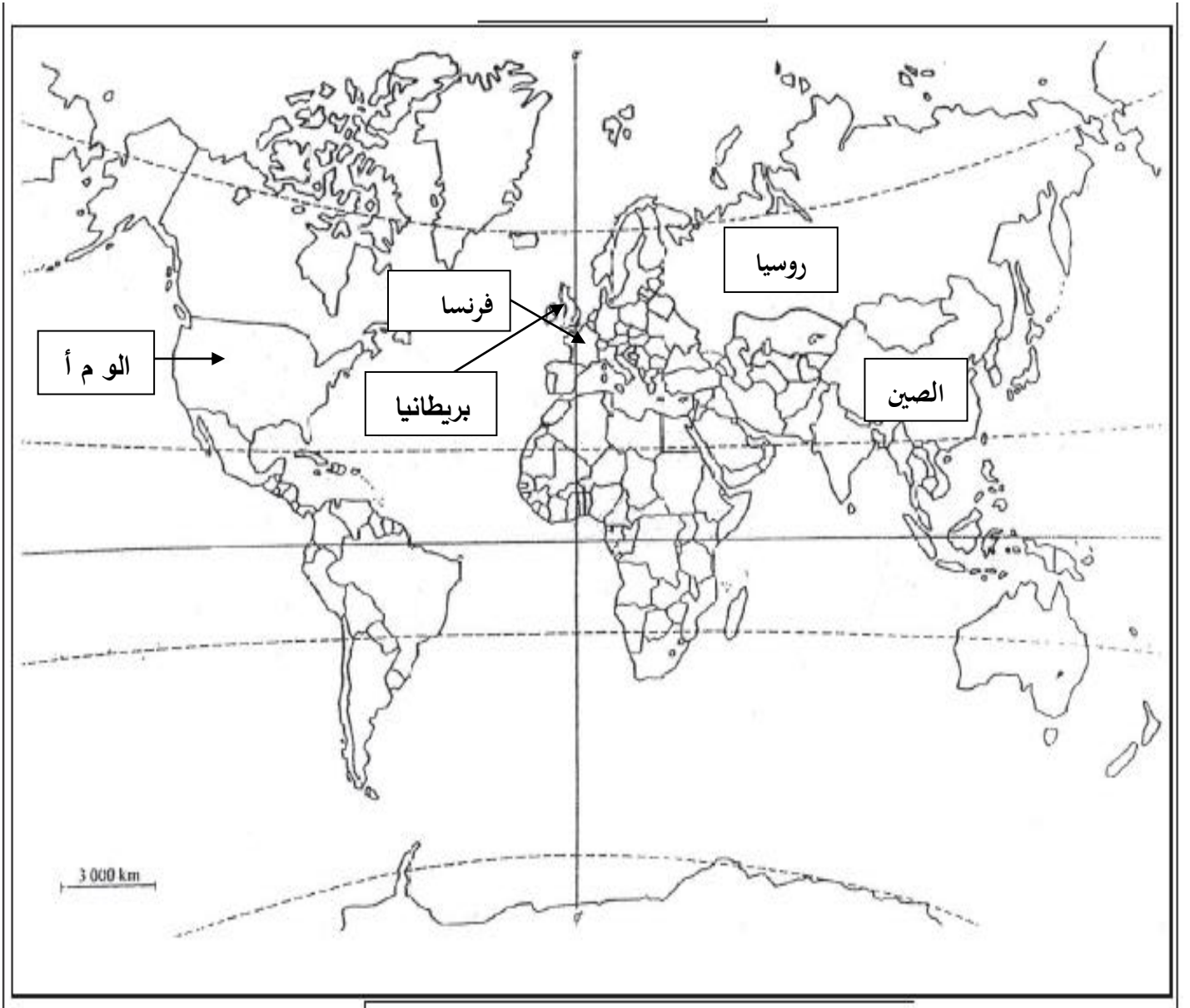
خريطة العالم



ينجز العمل المطلوب على الخريطة وتعاد مع أوراق الإجابة

العلامة		عناصر الإجابة (الموضوع الأول)
مجموع	مجزأة	
06	0.75	<p>الجزء الأول: (06ن)</p> <p>(1) شرح المصطلحات:</p> <ul style="list-style-type: none"> • مجلس الأمن: أحد أجهزة هيئة الأمم المتحدة وأهمها (0.25)، تكمن مهامه في الحفاظ على السلم والأمن العالميين، يصدر قرارات واجبة التنفيذ (0.25)، يتكون من 15 عضو 05 دائمون و10 ينتخبون لمدة سنتين. (0.25) • الحرب الباردة: صراع ايديولوجي بين القوتين العظميين ظهر بعد (ح ع 2) (0.50) ، استعملت فيه كل الوسائل ماعدا المواجهة العسكرية المباشرة. (0.50) • حركات التحرر: رد فعل شعوب المستعمرات في كل من إفريقيا واسيا وأمريكا اللاتينية على الوجود الاستعماري (0.25)، اتخذت أشكالا متعددة سياسية، عسكرية. (0.25)، تهدف إلى الاستقلال واسترجاع السيادة الوطنية... (0.25) <p>(2) التوقيع على الخريطة الدول دائمة العضوية في مجلس الأمن: الوم أ – روسيا – بريطانيا – الصين – فرنسا (0.5×5 = 2.5 + 0.25 = المفتاح (0.50) العنوان (0.50))</p>
		<p>الجزء الثاني: (04ن)</p> <p>مقدمة: الشعب الجزائري بين إغراءات فرنسا وواجب الالتفاف حول الثورة (تقبل كل مقدمة وجبهة)</p> <p>(1) المشاريع الإغرائية التي قدمها الاستعمار الفرنسي:</p> <ul style="list-style-type: none"> • مشروع جاك سوستيل 15-02-1955... • مشروع قسنطينة: طرحه ديغول في 03-10-1958 (مشروع اقتصادي المظهر سياسي الباطن) • إنشاء القوة الثالثة: <p>(2) رد فعل الشعب الجزائري: تفتن الشعب الجزائري ومن ورائه جبهة التحرير الوطني للأهداف الخفية للمشروعين فكان رد فعله كالتالي:</p> <ul style="list-style-type: none"> • رفض المشروعين وعدم الاستجابة لهما. • هجومات الشمال القسنطينة 20-08-1955 • استمرار الشعب في دعم الثورة بمختلف الوسائل (إيواء المجاهدين، التموين...) • ازدياد عدد المنخرطين في صفوف جيش التحرير الوطني. • استجابة الشعب لكل نداءات الثورة (الاضراب، المظاهرات...) • تأطير الشعب الجزائري في منظمات جماهيرية (الاتحاد العام للعمال الجزائريين...)
		<p>خاتمة: التفاف الشعب حول الثورة ،أحبط مخططات الاستعمار الفرنسي في عزله عنها.</p> <p>(تقبل كل خاتمة وجبهة)</p>
		<p>تقبل كل الإجابات الأخرى الصحيحة</p>
04	0.5	

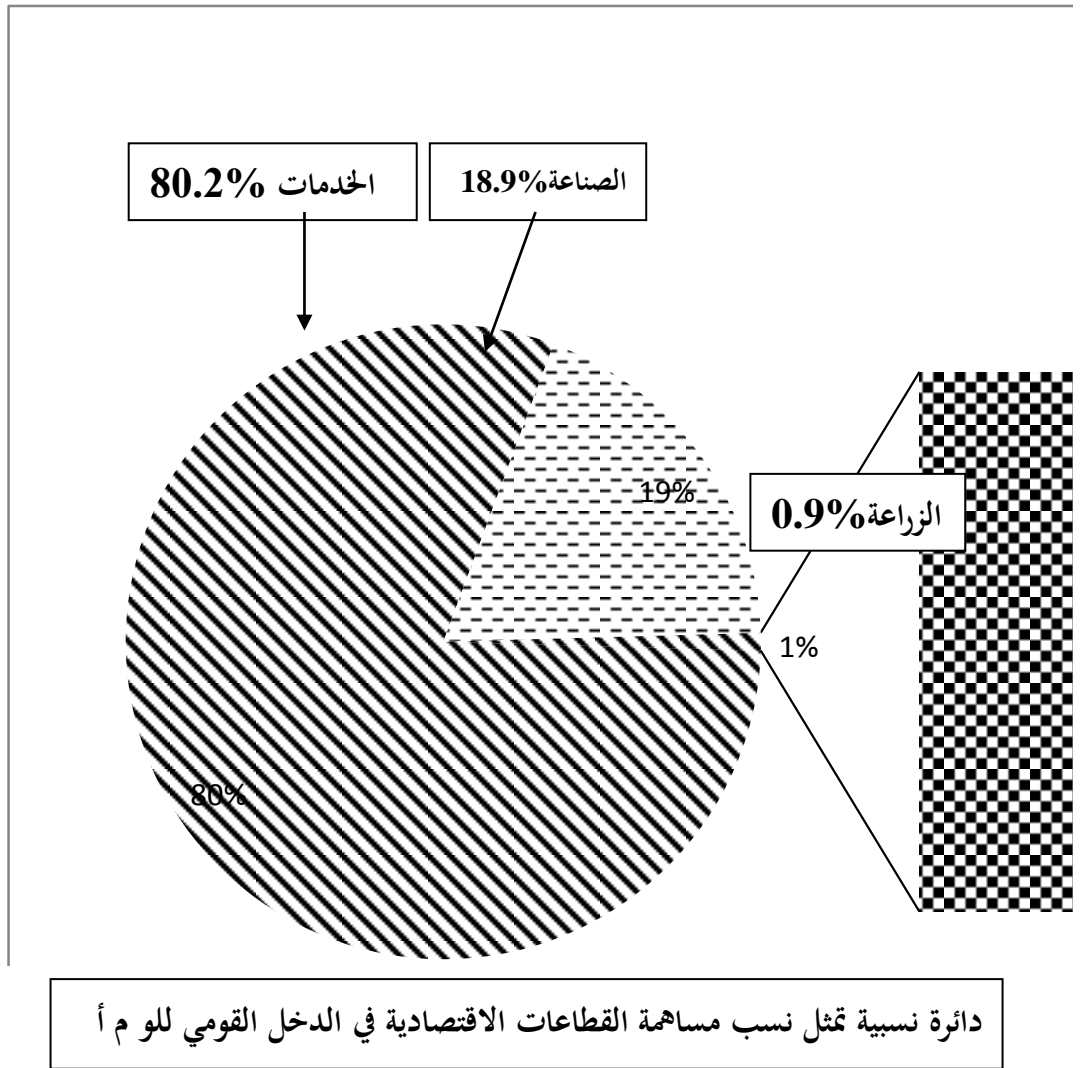
العلامة		عناصر الإجابة (الموضوع الأول)
مجموع	مجزأة	
06	01	جغرافيا:
		الجزء الأول: (06ن)
		(1) شرح المصطلحات:
		• اقتصاد السوق: اقتصاد يقوم على الحرية الاقتصادية للأموال والتجارة والاستثمار (0.50)، يخضع للمنافسة وقانون العرض والطلب (عدم تدخل الدولة في توجيه الاقتصاد) (0.50).
		• الأسواق المالية: فضاء تدار فيه العمليات المالية كبيع الاسهم والسندات (0.50)، كما تحدد فيه أسعار العملات، يخضع لقانون العرض والطلب... (0.50)
		• دول الشمال: هي الدول التي يقع معظمها في النصف الشمالي للكرة الأرضية (0.50) وتتميز بالتقدم الاقتصادي والتكنولوجي والرفاهية... (0.50)
		(2) التعليق على الجدول:
		• تنتمي كل الدول الواردة في الجدول للعالم المتقدم ماعدا الصين. (0.75)
		• تباين نسب المساهمة في الصادرات والواردات لهذه الدول. (0.75)
		• سيطرة الدول الآسيوية مجتمعة على التجارة العالمية. (0.50)
04	03	• الو م أ والصين أكبر قوتين مساهمة في التجارة العالمية في حين مساهمة كوريا الجنوبية ضئيلة. (0.50)
		• هيمنة الدول الكبرى على التجارة العالمية (0.50).
		الجزء الثاني: (04ن)
		مقدمة: الاتحاد الأوروبي قوة اقتصادية عالمية تعترضه معوقات خارجية (تقبل أي مقدمة وجيهة)
		(1) العوامل الطبيعية والبشرية التي جعلت الاتحاد الأوروبي قوة اقتصادية
		• الطبيعية:
		■ اتساع المساحة الزراعية وخصوبة التربة واحتوائه على بعض الموارد الطبيعية.
		■ تنوع المناخ وملاءمته.
		■ إطلاله على واجهات بحرية عديدة واتساع الشبكة الهيدروغرافية.
		• البشرية:
		■ قوة بشرية (سوق استهلاكية واسعة، يد عاملة...)
		■ تبني سياسة التكتل في جميع القطاعات (السياسة الزراعية المشتركة، أوربا الزرقاء...)
		■ قوة مالية والتقدم التكنولوجي.
		(2) المعوقات الخارجية التي تواجه الاتحاد الأوروبي:
		■ المنافسة الخارجية التي يتعرض لها الاتحاد خاصة من الو م أ واليابان والصين في الأسواق العالمية.
		■ تبعيته للخارج في المواد الأولية.
		■ تعرض بلدانه لظاهرة الهجرة غير الشرعية.
		■ تقلص الأسواق الخارجية نتيجة ظهور قوى اقتصادية ناشئة (الهند، البرازيل، تركيا...)
		خاتمة: رغم المعوقات التي تعترض الاتحاد الأوروبي يبقى قوة اقتصادية عالمية.
		(تقبل كل خاتمة وجيهة)
		(تقبل كل الإجابات الأخرى الصحيحة)



خريطة تبين الدول دائمة العضوية في مجلس الأمن.

العلامة		عناصر الإجابة (الموضوع الثاني)
مجموع	مجزأة	
06	01	<p>التاريخ:</p> <p>الجزء الأول (06 نقاط).</p> <p>(1) شرح ما تحته خط في النص:</p> <ul style="list-style-type: none"> • ديان بيان فو: منطقة تقع في شمال فيتنام وقعت فيها معركة بين قوات الفيتنام بقيادة الجنرال جياب ضد الاستعمار الفرنسي (0.50) امتدت من 13 مارس إلى 7 ماي 1954 (0.25) انتهت بانتصار قوات الفيتنام... (0.25) • الامبريالية: سيطرة القوى السياسية الكبرى خاصة الوم أ على العالم (0.50) باستعمال كل الوسائل (الضغوطات، السلاح الأخضر، الديون، الأنظمة، التدخلات، العقوبات...) (0.50) • حلف جنوب شرق آسيا: حلف عسكري تأسس عام 1954 في شرق وجنوب شرق آسيا (0.25) للوقوف في وجه المد الشيوعي (0.25) مقره الفلبين ضم دول المنطقة منها: الفلبين، بريطانيا، اليابان (0.25) وهو أحد وسائل الحرب الباردة... (0.25) <p>(2) ربط الأحداث بتواريخها: (القرصنة الجوية 22 - 10 - 1956 - مشروع إيزنهاور 05 - 01 - 1957) (توقيع اتفاقية إيفيان 18 - 03 - 1962)</p>
		<p>الجزء الثاني: (04 نقاط).</p> <p>المقدمة: تفكك الكتلة الشرقية وأثره على أوربا. (تقبل كل مقدمة وجيهة)</p> <p>(1) أسباب تفكك الكتلة الشرقية:</p> <p>✓ الداخلية:</p> <ul style="list-style-type: none"> • فشل النظام الشيوعي في بناء اقتصاد منافس للاقتصاد الرأسمالي. • طبيعة الأنظمة الشيوعية المستبدّة. • إصلاحات غورباتشوف (البروسترايكا والglasnost) التي جاءت متأخرة. • بروز الحركات الانفصالية في المعسكر الشيوعي. <p>✓ الخارجية:</p> <ul style="list-style-type: none"> • سياسة التطويق التي مارسها المعسكر الغربي. • دور الإعلام الغربي في ذلك. • انعكاسات انسحاب الاتحاد السوفييتي من أفغانستان. • عدم قدرة (الاس) مسايرة (الوم أ) عسكريا (تبنى الوم أ "حرب النجوم" في عهد ريغن) <p>(2) انعكاسات التفكك على أوربا:</p> <ul style="list-style-type: none"> • توحيد الألمانيتين 1990 وحل منظمة الكوميكون • زوال الأنظمة الشيوعية بأوربا الشرقية وتبنيها النظام الرأسمالي وانضمام بعضها للحلف الأطلسي • استقلال العديد من دول أوربا الشرقية عن الاتحاد السوفيتي، وظهور مجموعة الدول المستقلة. • انقسام بعض الدول مثل يوغسلافيا وتشيكوسلوفاكيا وحل حلف وارسو... <p>الخاتمة: تخلص أوربا من الشيوعية وتوجهها نحو الوحدة الشاملة.</p> <p>(تقبل كل خاتمة وجيهة)</p>
		<p>(تقبل كل الإجابات الصحيحة الأخرى)</p>

العلامة		عناصر الإجابة (الموضوع الثاني)
مجموع	مجزأة	
06	3×01	<p>الجغرافيا</p> <p>الجزء الأول: (06 نقاط).</p> <p>(1) شرح ما تحته خط في النص:</p> <ul style="list-style-type: none"> • رؤوس الأموال: الملكيات الثابتة (أرض، آلة مصانع...) والمنقولة (النقد...) (0.50) لإقامة نشاط اقتصادي بهدف الربح (0.50) • تكنولوجيا المعلومات: استخدام التطور التقني في المجال التكنولوجي (0.25) لنقل المعلومات (0.25) بسرعة فائقة و غزارة ربعا للجهد والوقت.... (0.50) • الشركات متعددة الجنسيات: هي شركات عملاقة تقع مقراتها بالدول المتقدمة خاصة الوم أ (0.50) لها فروع في مختلف مناطق العالم تهيمن على مختلف الأنشطة الاقتصادية والخدمات... (0.50) <p>• تمثيل النسب الواردة في الجدول بدائرة نسبية:</p> <p>الإنجاز: 1.50 - المفتاح: 0.25 - المقياس: 0.25 العنوان: 0.50 العمليات الحسابية 0.50</p>
		<p>الجزء الثاني: (04 نقاط).</p> <p>المقدمة: القمح مادة استراتيجية تؤثر في العلاقات الاقتصادية والسياسية. (تقبل كل مقدمة وجيهة)</p>
		<p>(1) أهمية القمح الاقتصادية والاجتماعية:</p> <ul style="list-style-type: none"> • مادة أولية للعديد من الصناعات الغذائية. • يساهم في الدخل القومي للدول المنتجة له. • مصدر غذاء أساسي لمعظم شعوب العالم. • يوفر مناصب شغل في القطاعين الزراعي والصناعي. • سلعة أساسية في التجارة الدولية.
	0.50	<p>(2) انعكاسات ضعف الانتاج على بلدان عالم الجنوب:</p> <ul style="list-style-type: none"> • ارتفاع فاتورة استيراده. • انتشار المجاعة وسوء التغذية. • تعرض الدول لاضطرابات اجتماعية (مشاكل داخلية/ غياب الاستقرار السياسي) • تعرض الدول للضغوطات الأجنبية والتدخل في سياستها (سلاح أخضر). • تدخل المؤسسات المالية العالمية (صندوق النقد الدولي) في السياسة الاقتصادية لدول الجنوب. • تخبط الدول المستوردة له في مشكل المديونية.
04	0.50	<p>خاتمة: يبقى القمح مادة أساسية لكل شعوب العالم...</p> <p>(تقبل كل خاتمة وجيهة)</p> <p>(ملاحظة: تقبل كل الإجابات الصحيحة الأخرى)</p>
		<p>(1) أهمية القمح الاقتصادية والاجتماعية:</p> <ul style="list-style-type: none"> • مادة أولية للعديد من الصناعات الغذائية. • يساهم في الدخل القومي للدول المنتجة له. • مصدر غذاء أساسي لمعظم شعوب العالم. • يوفر مناصب شغل في القطاعين الزراعي والصناعي. • سلعة أساسية في التجارة الدولية.
		<p>(2) انعكاسات ضعف الانتاج على بلدان عالم الجنوب:</p> <ul style="list-style-type: none"> • ارتفاع فاتورة استيراده. • انتشار المجاعة وسوء التغذية. • تعرض الدول لاضطرابات اجتماعية (مشاكل داخلية/ غياب الاستقرار السياسي) • تعرض الدول للضغوطات الأجنبية والتدخل في سياستها (سلاح أخضر). • تدخل المؤسسات المالية العالمية (صندوق النقد الدولي) في السياسة الاقتصادية لدول الجنوب. • تخبط الدول المستوردة له في مشكل المديونية.
	6×0.25	<p>خاتمة: يبقى القمح مادة أساسية لكل شعوب العالم...</p> <p>(تقبل كل خاتمة وجيهة)</p> <p>(ملاحظة: تقبل كل الإجابات الصحيحة الأخرى)</p>





الجمهورية الجزائرية الديمقراطية الشعبية

وزارة التربية الوطنية

امتحان بكالوريا التعليم الثانوي

الشعبة: علوم تجريبية، رياضيات، تقني رياضي



الديوان الوطني للامتحانات والمسابقات

دورة: 2018

المدة: 03 سا و 30 د

اختبار في مادة: التاريخ والجغرافيا

على المترشح أن يختار أحد الموضوعين الآتيين:

الموضوع الأول

التاريخ:

الجزء الأول: (06 نقاط)

(1) "يعدّ مؤتمر الصومام الحدث الأكثر أهمية في تاريخ جبهة التحرير الوطني... ففي هذا المؤتمر استطاع جيش التحرير الوطني أن يخرج مستقيدا من دروس عشرين شهرا مضت من الحرب، واستطاع أن يحدد الأهداف السياسية للثورة والمبادئ الأساسية التي سارت عليها حرب التحرير إلى أن استطاعت تحقيق الغاية التي قامت لأجلها، والمتمثلة في الاستقلال الوطني".

المرجع: ازغدي محمد لحسن، مؤتمر الصومام وتطور ثورة التحرير الوطنية 1956 - 1962، ص 57.

المطلوب: اشرح ما تحته خط في النص.

(2) عرّف بالشخصيات التالية:

- رابح بيطاط - جواهرلال نهرو - دوايت ايزنهاور

الجزء الثاني: (04 نقاط)

أدت المواجهة بين القوتين الولايات المتحدة الأمريكية والاتحاد السوفياتي خلال الحرب الباردة إلى استحالة انتصار أحدهما على الآخر، ما دفعهما إلى التقارب، فظهرت بوادر انفراج في العلاقات الدولية، كان لحركة عدم الانحياز دور في تجسيدها.

المطلوب: انطلاقا من الفقرة واعتمادا على ما درست، اكتب مقالا تاريخيا تبين فيه:

(1) عوامل ظهور سياسة الانفراج الدولي.

(2) دور حركة عدم الانحياز في تجسيدها.



الجغرافيا:

الجزء الأول: (06 نقاط)

1) " هناك علاقات مجحفة في مختلف المجالات ... بين العالم المتقدم والعالم المتخلف، ففي مجال التجارة الخارجية لاتزال الدول المتخلفة تصدر الغالبية العظمى من مواردها الطبيعية إلى الدول المصنعة بأسعار زهيدة ... وفي مجال التكنولوجيا تسيطر الشركات الاحتكارية التابعة للدول الغنية على معظم الاختراعات وتحتكرها، أما في مجال التمويل فتعاني الدول النامية من أعباء الديون الثقيلة وخدماتها".

المرجع: الكتاب المدرسي، السنة الثالثة ثانوي، ص25.

المطلوب: اشرح ما تحته خط في النص.

2) إليك جدولا يمثل كمية استهلاك النفط في بعض دول العالم سنة 2014. (الوحدة: مليون برميل يوميا).

الدول	الو.م.أ	اليابان	ألمانيا	البرازيل	كوريا الجنوبية	الصين
كمية الاستهلاك	19.43	4.29	2.39	3.21	2.35	10.42

المرجع: The Word Top 10 (chou sand barrel/ day 25/11/2015)

المطلوب: مثل معطيات الجدول بأعمدة بيانية. المقياس: 1 سم لكل 2 مليون برميل يوميا.

1 سم لكل دولة.

الجزء الثاني: (04 نقاط)

بفضل دور العنصر البشري، تمكنت دول شرق وجنوب شرق آسيا من أن تتحول إلى قطب اقتصادي عالمي ينافس الأقطاب الاقتصادية الأخرى.

المطلوب: انطلاقا من العبارة واعتمادا على ما درست، اكتب مقالا جغرافيا تبين فيه:

1) دور العنصر البشري في تحول المنطقة إلى قطب اقتصادي عالمي.

2) المكانة الاقتصادية للمنطقة في الاقتصاد العالمي.

انتهى الموضوع الأول



الموضوع الثاني

التاريخ:

الجزء الأول: (06 نقاط)

(1) " لم تكن الأمم المتحدة بالنسبة للاتحاد السوفياتي ولا سيما بعد اندلاع الحرب الباردة مع الكتلة الغربية، هي الساحة الملائمة لمعالجة المشكلات الدولية في مرحلة ما بعد الحرب العالمية الثانية، فقد كان ينظر إليها أنها معقل النفوذ الغربي... وأن الولايات المتحدة الأمريكية ستحاول استخدامها كأداة... ضده عن طريق محاولة عزله دوليا وإحكام سياسة الاحتواء التي كانت قد بدأت تنتهجها في مواجهته...".

المرجع: الحرب الباردة دراسة تاريخية للعلاقات الأمريكية - السوفياتية صفحة: 159 د/ ايناس سعدي عبد الله.

المطلوب: اشرح ما تحته خط في النص.

(2) أكمل الجدول التالي:

التاريخ	الحدث
25 جانفي 1949	
	القرصنة الجوية، واعتقال قادة الثورة الجزائرية
	تأسيس حركة عدم الانحياز

الجزء الثاني: (04 نقاط)

لم تكتف فرنسا خلال الفترة (1958 - 1960) باستعمال القوة العسكرية للقضاء على الثورة الجزائرية، بل تعدتها إلى إتباع سياسة إغرائية لإفراغها من محتواها، إلا أن قوة الثورة أفشلت ذلك.

المطلوب: انطلاقا من العبارة واعتمادا على ما درست، اكتب مقالا تاريخيا تبين فيه:

(1) السياسة الإغرائية التي انتهجتها فرنسا للقضاء على الثورة الجزائرية (1958 - 1960).

(2) أسباب فشل تلك السياسة.



الجغرافيا:

الجزء الأول: (06 نقاط)

(1) " إنَّ التكامل الاقتصادي الأوروبي يهدف إلى الاستفادة من رؤوس الأموال الأجنبية، مما يؤدي إلى تحسين شروط التبادل التجاري. فالتكامل الاقتصادي يساهم في تخفيض تكاليف الإنتاج...ومن ثمَّ الأسعار والخدمات... ".
المرجع: التكامل الاقتصادي للاتحاد الاوربي أطروحة ماجستير صفحة: 104 جامعة محمد خيضر بسكرة.
المطلوب: اشرح ما تحته خط في النص.

(2) إليك جدولا يمثل بعض مناطق التبادل التجاري للاتحاد الأوروبي خلال عام 2013.

المناطق	أمريكا الجنوبية والوسطى	أمريكا الشمالية	آسيا	إفريقيا	الشرق الأوسط
نسبة الصادرات	7%	28%	4%	13%	11%
نسبة الواردات	6%	14%	38%	9%	5%

المرجع: الاتحاد الأوروبي صفحة 131 - جون بيندر وسيمون أشروود.

المطلوب: علق على معطيات الجدول.

الجزء الثاني: (04 نقاط)

يعدّ البترول موردا استراتيجيا هاما للاقتصاد العالمي، إلّا أنّ عدم استقرار أسعاره ينعكس سلبا على البلدان التي تعتمد عليه كمصدر وحيد للدخل.

المطلوب: انطلاقا من العبارة، واعتمادا على ما درست، اكتب مقالا جغرافيا تبين فيه:

(1) العوامل المتحركة في أسعار البترول.

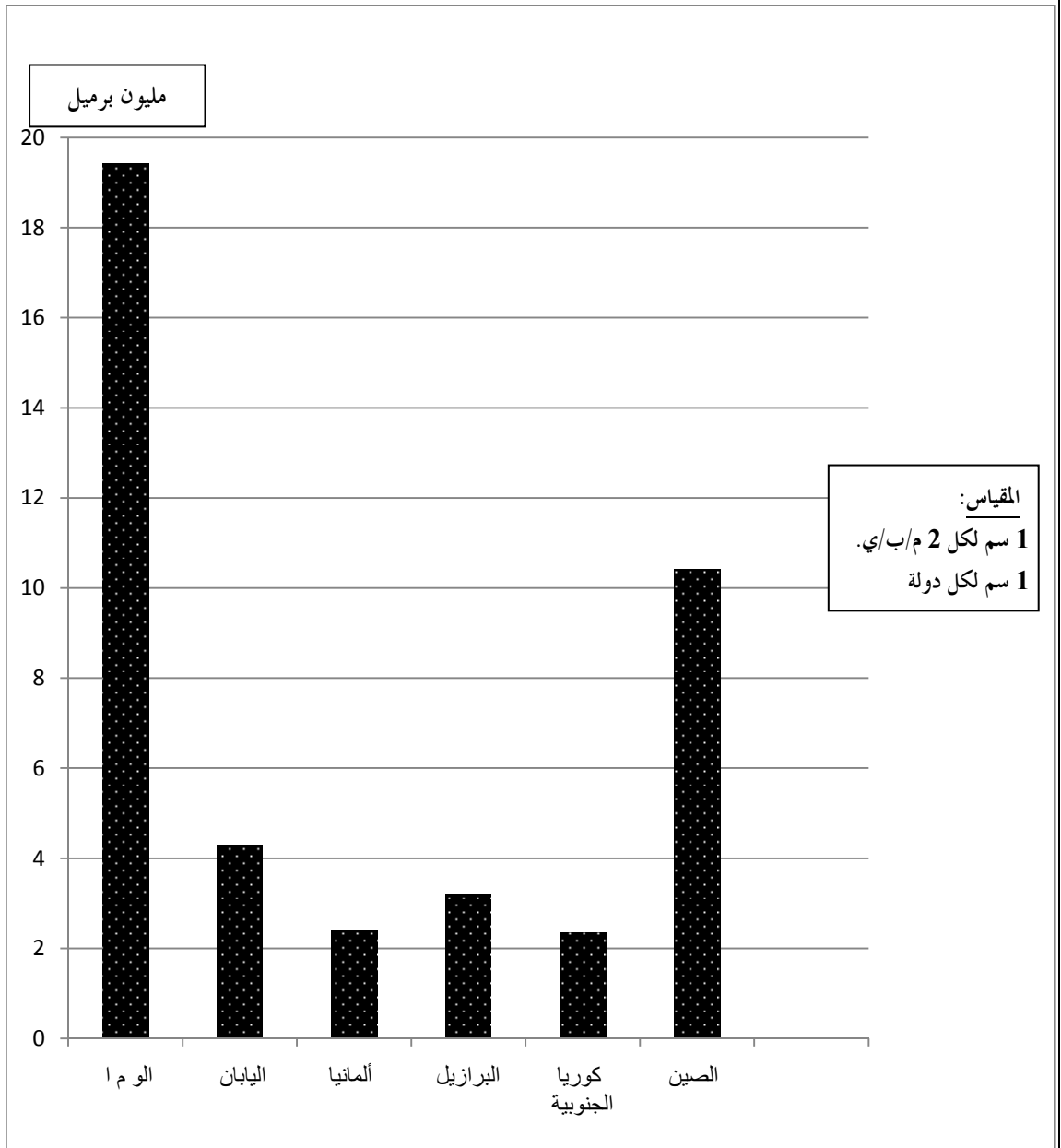
(2) انعكاسات انخفاض أسعاره على البلدان التي تعتمد عليه كمصدر وحيد للدخل.

انتهى الموضوع الثاني

العلامة		عناصر الإجابة (الموضوع الأول)
مجموع	مجزأة	
06	01	التاريخ: الجزء الأول: (1) شرح ما تحته خط في النص: - مؤتمر الصومام: أول لقاء تقييمي تنظيمي للثورة، انعقد في 20 أوت 1956 بالولاية الثالثة (القبائل) بحضور قادة الثورة، وضع الهياكل الأساسية لها وحدد الأهداف لاستمراريتها (ميثاق الصومام).... - جبهة التحرير الوطني: تنظيم سياسي أعلن عن تأسيسه خلال اجتماع 06 في 1954/10/23 قاد الثورة المسلحة، وهو الممثل الشرعي والوحيد للشعب الجزائري خلال المفاوضات.... - حرب التحرير: الحرب التي خاضتها الجزائر بين 1954-1962 ضد الاستعمار الفرنسي بهدف استرجاع السيادة والاستقلال استعملت فيها كل الوسائل المشروعة...
		(2) التعريف بالشخصيات التالية: - راجح بيطاط: (1925 - 2000) شخصية جزائرية بارزة، عضو في المنظمة الخاصة، واللجنة الثورية للوحدة والعمل، ومجموعة 22 ولجنة 06، من مفجري الثورة، قائد المنطقة 04 ورئيس المجلس الشعبي الوطني. - جواهر لال نهرو: (1889-1964) سياسي هندي، وزير أول، من أقطاب حركة عدم الانحياز، شارك في مؤتمر باندونغ 1955، من زعماء حركات التحرر في العالم. - دوايت أيزنهاور: (1890 - 1969): رئيس الولايات المتحدة الأمريكية، رئيس أركان التحالف خلال الحرب.ع.2، صاحب مشروع أيزنهاور 1957، صاحب سياسة ملء الفراغ، كان طرف في عدة أزمات....
		الجزء الثاني: - مقدمة: الانفراج الدولي بين ضغط صراع القطبين ودور حركة عدم الانحياز في بلورته. (تقبل كل مقدمة وظيفية) (1) عوامل ظهور سياسة الانفراج الدولي: - توازن الرعب النووي بين المعسكرين. - شدة التوتر والتأزم واستحالة انتصار طرف على آخر. - ارتفاع تكاليف الصراع وارتفاع الخسائر البشرية للقوتين. - ضغط الرأي العام العالمي الرافض للصراع. (2) دور حركة عدم الانحياز في تجسيدها: - رفض الحرب الباردة منذ مؤتمر باندونغ 1955. - تبني سياسة الحياد الإيجابي ورفض الميل إلى أحد المعسكرين. - رفض دول الحركة الانضمام إلى الأحلاف العسكرية وإقامة القواعد العسكرية على أراضيها. - ظهور كتلة العالم الثالث ورفضها سياسة الاستقطاب . - خاتمة: استحالة انتصار أحد المعسكرين على الآخر وضغط كتلة عدم الانحياز ساهما في بلورة سياسة الانفراج الدولي. (تقبل كل خاتمة وظيفية) ملاحظة: (تقبل كل الإجابات الصحيحة الأخرى).
		01
		01
		01
		01
		01
		01
		01
		01
04	01	01
		01
		01
		01
		01
		01
		01
		01
		01
		01

06	01	الجغرافيا:
		الجزء الأول:
		1) شرح ما تحته خط في النص:
		- التجارة الخارجية: حركة تبادل السلع والخدمات ورؤوس الأموال بين الدول عن طريق الصادرات والواردات قصد تنشيط الاقتصاد والمساهمة في الدخل القومي....
		01 - الشركات الاحتكارية: شركات عملاقة عابرة للقارات تملك امكانيات ضخمة تنشط في العديد من القطاعات وتحتكرها، تتواجد معظمها في الدول المتقدمة خاصة الولايات المتحدة الأمريكية...
		01 - الدول النامية: الدول التي استقلت حديثا تقع في الجنوب وتعرف نموا اقتصاديا بطيئا وتعاني من مشاكل عديدة، تتواجد معظمها في قارات إفريقيا وآسيا وأمريكا اللاتينية....
		2) تمثيل معطيات الجدول الذي يمثل كمية استهلاك النفط في بعض دول العالم عام: 2014. بأعمدة بيانية:
		03
		* الإنجاز: 01.50 * المفتاح: 0.50
		* المقياس: 0.50 * العنوان: 0.50
04	0.25x6	الجزء الثاني:
		- مقدمة: المكانة الاقتصادية لدول شرق وجنوب شرق آسيا ودور العنصر البشري فيها.
		(تقبل كل مقدمة وظيفية)
		1) دور العنصر البشري في تحول المنطقة إلى قطب اقتصادي عالمي:
		- وفرة اليد العاملة الرخيصة.
		- سرعة التكيف مع التكنولوجيا الحديثة والاهتمام بالتعليم والبحث العلمي....
		- طبيعة الفرد (حب العمل، الاتقان، الاخلاص، السرعة، الادخار، الانفتاح على الآخر...).
		- انتماء العنصر البشري إلى ثقافة واحدة (غياب التمييز...).
		- اتساع السوق الاستهلاكية.
		- تدفق رؤوس أموال المهاجرين والمساهمة في الاستثمار الداخلي والانفتاح على العالم الخارجي.
	0.25x6	2) المكانة الاقتصادية للمنطقة في الاقتصاد العالمي:
		- أكبر منطقة استقطابا للاستثمارات الأجنبية.
		- تساهم بنسبة مرتفعة في الاقتصاد (التجارة العالمية 13%) .
		- أحد أقطاب الثالوث الاقتصادي العالمي.
		- تتواجد بها بورصات عالمية (طوكيو، شنغهاي، هونغ كونغ، سنغافورة...).
		- تملك أكبر أسطول بحري تجاري في العالم.
		- تسيطر على العديد من الصناعات خاصة الالكترونية....
		- خاتمة: نجاح دول المنطقة يعود إلى حسن استغلال العنصر البشري.
		(تقبل كل خاتمة وظيفية)
		0.50 ملاحظة: (تقبل كل الإجابات الصحيحة الأخرى).

أعمدة بيانية تمثل كمية استهلاك النفط في بعض دول العالم عام 2014



العلامة		عناصر الإجابة (الموضوع الثاني)
مجموع	مجزأة	
06		التاريخ: الجزء الأول: (1) شرح ما تحته خط في النص: * الأمم المتحدة: تنظيم دولي تأسس في 1945/10/24 مقره نيويورك يضم دول العالم المستقلة مهمته الحفاظ على السلم والأمن الدوليين.... * الكتلة الغربية: مصطلح أطلق على الدول الرأسمالية التي تسير في فلك الولايات المتحدة الأمريكية خلال الحرب الباردة مثل: أوروبا الغربية، كندا، اليابان وغيرها.... * سياسة الاحتواء: سياسة تبنتها الولايات المتحدة الأمريكية خلال الحرب الباردة تقوم على إقامة أحلاف وقواعد عسكرية وتقديم مساعدات مالية بهدف محاصرة المد الشيوعي مثل: تقديم مساعدات مالية لتركيا واليونان 1947. (2) إكمال الجدول:
	01	
	01	
	01	
	01	
	01	
	01	
	01	
	01	
	01	
04	0.50	الجزء الثاني: * مقدمة : الثورة الجزائرية بين قوة السلاح وإغراءات فرنسا. (تقبل كل مقدمة وظيفية). (1) السياسة الإغرائية التي انتهجتها فرنسا للقضاء على الثورة (1958 – 1960): - تقديم مشروع قسنطينة 1958/10/03: تقدم به شارل ديغول ظاهره اقتصادي يقوم على توزيع الأراضي، بناء المساكن، تحسين الخدمات، فتح مناصب شغل.... وباطنه سياسي يهدف إلى تشكيل قوة ثالثة.... - إعلان ديغول عن سلم الشجعان 1958/10/23: تقدم به شارل ديغول يدعو فيه الثوار تسليم الأسلحة مقابل حريتهم وهدفه تمزيق الصف الوطني. - طرح مشروع تقرير المصير 1959/09/16: تقدم به شارل ديغول ويعترف فيه بحق الشعب الجزائري في تقرير مصيره بإجراء استفتاء حول (الاستقلال، الاندماج، الحكم الذاتي) (2) أسباب فشل تلك السياسة: - رفض الشعب الجزائري لتلك السياسة (المشاريع الإغرائية). - التفاف الشعب الجزائري حول الثورة. - النجاحات العسكرية للثورة داخليا والديبلوماسية خارجيا. - تأسيس الحكومة المؤقتة للجمهورية الجزائرية في 1958/09/19 وتمثيلها في المحافل الدولية. - مظاهرات 11 ديسمبر 1960 وإبطالها مقولة الجزائر فرنسية. - خاتمة : وعي الشعب الجزائري وقوة الثورة احبطا مراوغات وإغراءات الاستعمار الفرنسي. (تقبل كل خاتمة وظيفية) ملاحظة: (تقبل كل الإجابات الصحيحة الأخرى).
	0.50	
	0.50	
	0.50	
	0.50	
	0.50	
	0.25	
	0.25	
	0.25	
	0.50	

	<p>الجغرافيا:</p> <p>الجزء الأول:</p> <p>(1) شرح ما تحته خط في النص:</p>
01	<p>* التكامل الاقتصادي: سياسة تتم بين دولتين أو أكثر تقوم على تنسيق الجهود بينها وإزالة الحواجز والتعاون لاستغلال الإمكانيات المتاحة قصد تحقيق التنمية الشاملة. والاتحاد الأوروبي نموذج للتكامل.</p>
01	<p>* رؤوس الأموال: هي الموارد المختلفة الثابتة (المصانع، الأراضي...) والمنقولة (الأموال...) التي تستثمر في المشاريع المختلفة لضمان الإنتاج....</p>
06	<p>* الخدمات: توفير الحاجيات المختلفة للمواطن مثل: الصحة، النقل، الأترنيت... بأسعار منخفضة قصد تحقيق الرفاهية.</p>
	<p>(2) التعليق على جدول مناطق التبادل التجاري للاتحاد الأوروبي عام 2013:</p>
01	<p>- التباين بين نسب (الصادرات والواردات).</p>
01	<p>- تعدد مناطق التبادل التجاري للاتحاد الأوروبي.</p>
0.50	<p>- ارتفاع نسبة صادراتها مع أمريكا الشمالية.</p>
0.50	<p>- ارتفاع نسبة وارداتها من قارة آسيا.</p>
	<p>الجزء الثاني :</p>
0.50	<p>- مقدمة: تذبذب أسعار البترول وانعكاساتها على الدول التي تعتمد عليه في الدخل القومي.</p>
	<p>(تقبل كل مقدمة وظيفية)</p>
	<p>(1) العوامل المتحركة في أسعار البترول:</p>
0.50	<p>- الطبيعية: نوعيته، مناطق الاستخراج، الظروف الطبيعية (البرودة، الحرارة).</p>
0.50	<p>- السياسية: القرارات السياسية، الاضطرابات السياسية.</p>
0.50	<p>- الاقتصادية: الانكماش والانتعاش الاقتصادي، قانون العرض والطلب، دور كارتل البترول، دور الأوبك....</p>
04	<p>(2) انعكاسات انخفاض أسعاره على الدول التي تعتمد عليه كمصدر وحيد للدخل:</p>
	<p>- تراجع الدخل القومي للدول.</p>
0.25x6	<p>- انخفاض الميزانية الداخلية (العجز).</p>
	<p>- التعرض لأزمات مالية مما يدفع الدول إلى الاستدانة.</p>
	<p>- تعطل المشاريع الانمائية.</p>
	<p>- ارتفاع نسبة البطالة.</p>
	<p>- ظهور مشاكل اجتماعية (انخفاض القدرة الشرائية....)</p>
0.50	<p>- خاتمة : ضرورة تنويع مصادر الدخل لتجنب خطر المورد الواحد.</p>
	<p>(تقبل كل خاتمة وظيفية)</p>
	<p>ملاحظة: (تقبل كل الإجابات الصحيحة الأخرى).</p>

على المترشح أن يختار أحد الموضوعين الآتيين:

الموضوع الأول

التاريخ:

الجزء الأول: (06 نقاط)

(1) " وقد أدى تفكك الاتحاد السوفياتي وانهاره كدولة قطبية إلى التعديل في هيكل النسق العالمي، حيث أصبح يعتمد على قوة قطبية واحدة هي الولايات المتحدة الأمريكية التي راحت تستفيد من ذلك التفوق في تقرير صورة علاقات القوة على مستوى النسق العالمي من خلال ما يعرف بالنظام العالمي الجديد، ومقنعة تلك السيطرة بإطار من الشرعية الدولية وذلك من خلال سيطرتها على منظمة الأمم المتحدة ".
المرجع: أحمد وهبان، ممدوح نصار-العلاقات السياسية بين القوى الكبرى - ص 356.

المطلوب: اشرح ما تحته خط في النص.

(2) أكمل الجدول التالي:

التاريخ	الحدث
19 مارس 1962
.....	تأسيس حلف بغداد
03 أكتوبر 1990

الجزء الثاني: (04 نقاط)

أدركت السلطة الفرنسية أهمية الدعم الإقليمي والدولي في نجاح الثورة الجزائرية وازدياد فعاليتها، فاستخدمت كل الوسائل للحد من هذا الدعم.

المطلوب: انطلاقا من العبارة واعتمادا على ما درست، اكتب مقالا تاريخيا تبين فيه:

(1) الإجراءات التي قامت بها السلطات الفرنسية لعزل الثورة عن الخارج.

(2) رد فعل الثورة الجزائرية على هذه الإجراءات.

الجغرافيا:

الجزء الأول: (06 نقاط)

(1) " إنَّ الوزن الديمغرافي والاهتمام الفعلي لدول المنطقة - شرق وجنوب شرق آسيا- ووفرة اليد العاملة المؤهلة والبحث عن الربح والاندماج في الاقتصاد الرأسمالي، كلها مقومات ساهمت في إبراز المنطقة كقطب اقتصادي أساسي في العالم في القرن 21 م ."

المرجع: الكتاب المدرسي، السنة الثالثة ثانوي ص 76.

المطلوب: اشرح ما تحته خط في النص.

(2) إليك جدولا يمثل نسبة مستخدمي الانترنت في بعض دول العالم لسنة 2015م.

الدول	إندونيسيا	اسلندا	الدنمارك	النرويج	مصر	كوبا	الهند	اليابان	نيجيريا	فنلندا
النسبة المئوية %	22	98	96	96	35	31	26	93	47	92

المصدر: هيئة الأمم المتحدة statistics year book 2016

المطلوب: علق على الجدول.

الجزء الثاني: (04 نقاط)

يُقسَم العالم اليوم اقتصاديا إلى عالم الشمال المتقدم وعالم الجنوب المتخلف، وذلك باعتماد عدة معايير ومؤشرات منها الاقتصادية والثقافية والاجتماعية...

المطلوب: انطلاقا من العبارة واعتمادا على ما درست، اكتب مقالا جغرافيا تبين فيه:

(1) المعايير الاقتصادية والاجتماعية ومؤشراتها المعتمدة في التصنيف.

(2) الصعوبات الاقتصادية التي تواجه بلدان العالم المتخلف.

انتهى الموضوع الأول

الموضوع الثاني

التاريخ:

الجزء الأول: (06 نقاط)

(1) "... ومع ازدياد حدّة التّوتر في العلاقات الدولية... سجل التاريخ تراجع القوى الاستعمارية التقليدية... وبروز موجة التحرر في العالم، وتطلع الشعوب إلى التحرر كليا من السيطرة الأجنبية، وهو ما تمخض عنه استقلال بعض الشعوب من التي كانت تواصل نضالها السياسي والعسكري لاسترجاع استقلالها... مستفيدة في ذلك من الأوضاع الدولية الجديدة ووجود منظمة الأمم المتحدة الراعية لحرية الشعوب في تقرير مصيرها ... "

المرجع: الكتاب المدرسي السنة الثالثة ثانوي تاريخ ص 84 بتصرف

المطلوب: اشرح ما تحته خط في النص.

(2) عرّف بالشخصيات التالية:

- فرحات عباس - هوارى بومدين - جورج بوش (الأب)

الجزء الثاني: (04 نقاط)

عرف العالم خلال الفترة الممتدة ما بين (1945- 1956) اشتدادا في الصراع الإيديولوجي، استخدم فيه كل قطب استراتيجيات مختلفة لإضعاف الآخر.

المطلوب: انطلاقا من العبارة واعتمادا على ما درست، اكتب مقالا تاريخيا تبين فيه:

(1) عوامل الصراع القائم بين القطبين.

(2) الاستراتيجية العسكرية الغربية لمواجهة المعسكر الشرقي.

الجغرافيا:

الجزء الأول: (06 نقاط)

(1) " تم توقيع اتفاقيات الشراكة الأوروبية - المتوسطية بين الاتحاد الأوروبي والجزائر في أبريل 2002 وفيما يتعلق بعنصر التجارة الحرة في الاتفاقية تعهدت الجزائر بإلغاء الضرائب عن وارداتها من السلع المصنعة من دول الاتحاد الأوروبي، بالتدريج في خلال 12 سنة، وتعهدت الجزائر أيضا بخفض التعرفة الجمركية عن المنتجات الزراعية الواردة من دول الاتحاد الأوروبي".

المراجع: الكتاب المدرسي السنة الثالثة جغرافيا ص 168

المطلوب: اشرح ما تحته خط في النص.

(2) إليك جدولا يمثل تطور أسعار البترول (برميل خام البرانت) بالدولار.

السنة	2005	2006	2007	2008	2009	2010	2011	2012	2013	2014	2015
السعر	54.6	65.2	72.4	96.9	61.7	79.6	111.3	111.6	108.7	99.0	52.4

المراجع: مجلة النفط والتعاون العربي، المجلد 42، 2015، العدد 156.

المطلوب: مثل معطيات الجدول بمنحنى بياني بمقياس (1سم لكل سنة، 1 سم لكل 10 دولار).

الجزء الثاني: (04 نقاط)

يعد الإقليم الشمالي الشرقي في الولايات المتحدة الأمريكية نواة الاقتصاد الأمريكي وأساس تفوقها الاقتصادي في العالم.

المطلوب: انطلاقا من العبارة واعتمادا على ما درست، اكتب مقالا جغرافيا تبين فيه:

(1) عوامل حيوية الإقليم الشمالي الشرقي في الولايات المتحدة الأمريكية.

(2) أثر التفوق الاقتصادي الأمريكي على الاقتصاد العالمي.

انتهى الموضوع الثاني

العلامة		عناصر الإجابة								
مجموع	مجزأة									
06	01	التاريخ: الجزء الأول: (1) شرح ما تحته خط في النص: - دولة قطبية: دولة مؤثرة على العلاقات الدولية استقطبت الاتحاد السوفياتي عددا من الدول الشيوعية في إطار الحرب الباردة وقد تزعمت المعسكر الشرقي. - النظام الدولي الجديد: الأسس والمبادئ التي أصبحت تسير وفقها العلاقات الدولية في ظل انفراد الو. م أ بالزعامة الدولية بعد انهيار المعسكر الشيوعي في 1989 وسعيها إلى أمركة العالم في إطار الأحادية القطبية. - الشرعية الدولية: مبدأ سيادة القانون الدولي في إطار المواثيق الدولية، والتي تمثلها هيئة الأمم المتحدة. (2) إكمال الجدول: <table><tr><th>الحدث</th><th>تاريخه</th></tr><tr><td>وقف إطلاق النار</td><td>19 مارس 1962</td></tr><tr><td>تأسيس حلف بغداد</td><td>24 فيفري 1955</td></tr><tr><td>توحيد الألمانيتين</td><td>03 أكتوبر 1990</td></tr></table>	الحدث	تاريخه	وقف إطلاق النار	19 مارس 1962	تأسيس حلف بغداد	24 فيفري 1955	توحيد الألمانيتين	03 أكتوبر 1990
		الحدث	تاريخه							
		وقف إطلاق النار	19 مارس 1962							
		تأسيس حلف بغداد	24 فيفري 1955							
		توحيد الألمانيتين	03 أكتوبر 1990							
		04	0.50 							

		<p><u>الجغرافيا</u></p> <p><u>الجزء الأول:</u></p> <p>1 (شرح ما تحته خط في النص:</p> <p>الوزن الديمغرافي : القوة البشرية التي تمثل طاقة إنتاجية واستهلاكية كما هو الحال في شرق وجنوب شرق آسيا ما يقارب 3/1 من سكان العالم.</p> <p>الاقتصاد الرأسمالي: الاقتصاد الليبرالي (الحر) المرتكز على الملكية الخاصة لوسائل الإنتاج والمنافسة الحرة والمبادرة الفردية.</p> <p>قطب اقتصادي: منطقة تمثل قوة اقتصادية مؤثرة فاعلة في الاقتصاد العالمي من خلال قدرتها على جذب رؤوس الأموال، اليد العاملة والمواد الأولية والتكنولوجيا.</p> <p>(2) التعليق على الجدول:</p> <p>- الوثيقة جدول إحصائي لمستخدمي الإنترنت في العالم سنة 2015م، مصدره هيئة الأمم المتحدة.</p> <p>- التباين الكبير في نسب استخدام الأنترنت بين الدول في العالم.</p> <p>- ارتفاع نسبة استخدام الأنترنت في الدول المتقدمة (الدنمارك، إيسلندا، اليابان، النرويج، فلندا)، بنسبة تتعدى 90 % نتيجة التطور التكنولوجي وتوجه هذه الدول نحو رقمنة مجتمعاتها.</p> <p>- ضعف نسبة مستخدمي الأنترنت في الدول المتخلفة (إندونيسيا- الهند، كوبا- مصر- نيجيريا)، نتيجة تخلفها التكنولوجي.</p> <p>- فهذه النسب هي انعكاس للمستوى المعيشي والثقافي لشعوب هذه البلدان.</p> <p>- نسبة مستخدمي الأنترنت مؤشر على تقدم وتخلف الدول.</p> <p>الجزء الثاني:</p> <p>مقدمة: تتداخل عدة معايير ومؤشرات اقتصادية واجتماعية في تصنيف الدول إلى متقدمة ومتخلفة.</p> <p>(1) المعايير ومؤشراتها الاقتصادية والاجتماعية المعتمدة في التصنيف:</p> <p>- الناتج الوطني الخام: مرتفع في الدول المتقدمة ومنخفض في الدول المتخلفة.</p> <p>- حجم استهلاك الطاقة والمواد الأولية: قدرة الدول المتقدمة على استهلاكها بكميات ضخمة والتأثير في سوقها عكس الدول المتخلفة.</p> <p>- نسبة المساهمة في التجارة العالمية: الدول المتقدمة تكاد تحتكر التجارة العالمية كما ونوعا، وتسيطر على أسواق المال عكس الدول المتخلفة.</p> <p>- بنية الاقتصاد: في الدول المتقدمة كل القطاعات تساهم بنسب عالية في الناتج الداخلي الخام عكس الدول المتخلفة حيث يبنى اقتصادها على قطاع واحد.</p> <p>- الدخل الفردي: مرتفع في الدول المتقدمة ومنخفض في الدول المتخلفة (يعكس المستوى المعيشي)</p> <p>- معدل التنمية البشرية: مرتفع في البلدان المتقدمة (أكبر من 0.8) والعكس في البلدان المتخلفة</p> <p>(2) الصعوبات الاقتصادية التي تواجه بلدان العالم المتخلف:</p> <p>- قلة الموارد المالية وتذبذب المداخل لاعتمادها على مصدر واحد للدخل.</p> <p>- التبعية الاقتصادية، المالية، التقنية والغذائية.</p> <p>- ضعف البنى التحتية (خاصة المواصلات).</p> <p>- التخلف التكنولوجي الذي عرقل عملية التنمية.</p> <p>-ثقل الديون وما يترتب عنها من فوائد وضغوط اقتصادية.</p> <p>-ارتفاع أسعار المواد المصنعة والغذائية المستوردة وانخفاض أسعار المواد الأولية المصدرة.</p> <p>— خاتمة: ضرورة التكامل والاستغلال الأمثل للموارد البشرية والاقتصادية لدول العالم الثالث.</p> <p>ملاحظة: تقبل الإجابات الصحيحة الأخرى.</p>
06	01	
	01	
	01	
	0.50	
	6×	
	0.50	
	0.25	
	6×	
04	0.25	
	6×	
	0.50	

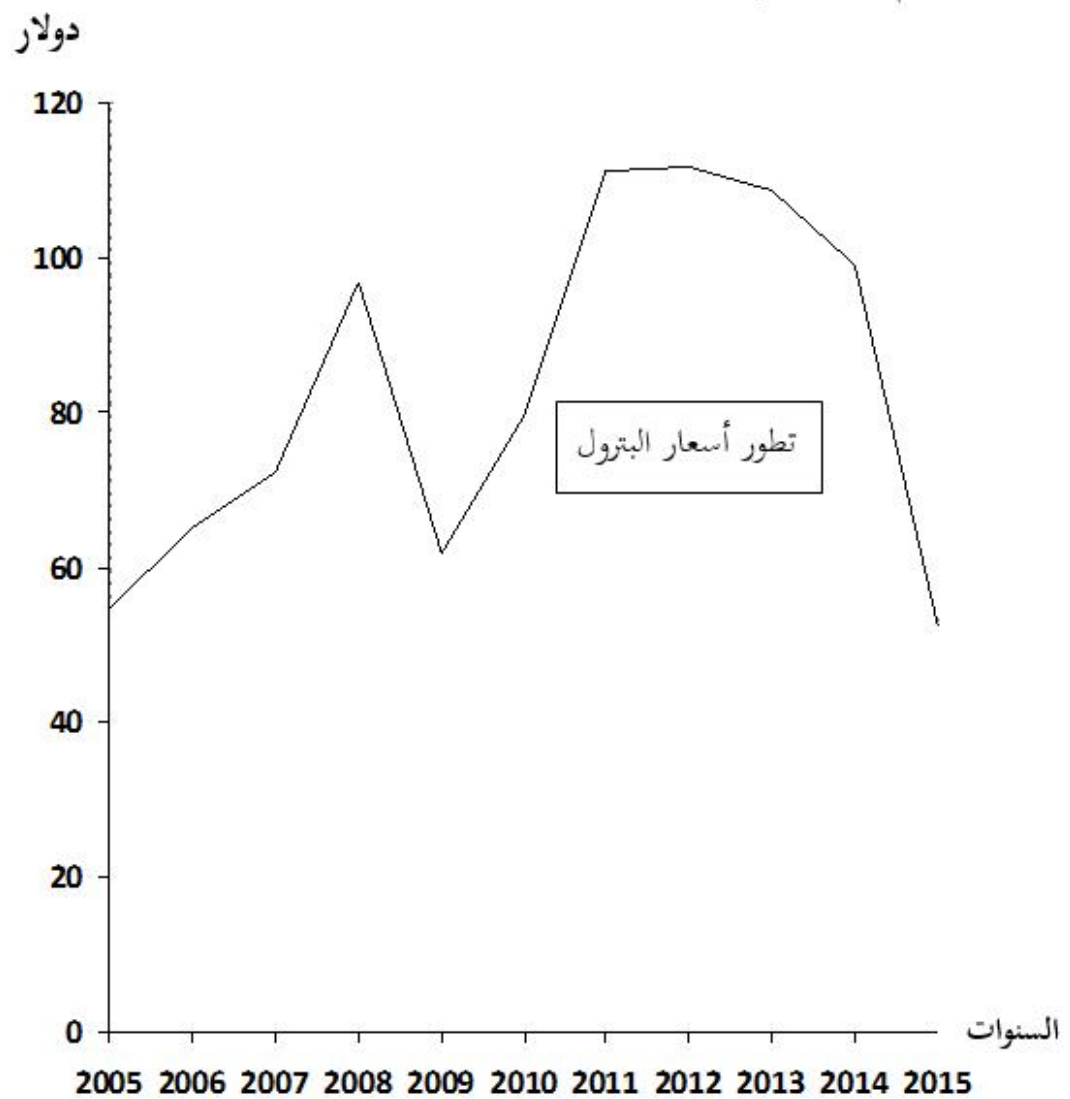
		التاريخ:
		الجزء الأول:
		1) شرح ما تحته خط في النص:
06	01	- القوى الاستعمارية التقليدية: الدول الاستعمارية التي اعتمدت على الأساليب و الوسائل التقليدية (الاستيطان، السيطرة المباشرة، الاحتلال العسكري...) خاصة بريطانيا و فرنسا.
	01	موجة التحرر: اتساع نطاق الحركات التحررية واشتدادها وإصرارها على التخلص من الاستعمار في إفريقيا وآسيا
	01	- تقرير مصيرها: اختيار نظام الحكم الملائم من الشعوب دون التعرض لضغوط أجنبية وهو حق تكفله المواثيق والأعراف الدولية.
		2) التعريف بالشخصيات:
	01	- فرحات عباس: (1899-1985) سياسي جزائري من دعاة الإدماج ، حرر بيان فيفري 1943، أنشأ حركة أحباب البيان والحرية 1944، ثم الاتحاد الديمقراطي للبيان الجزائري 1946، انضم للثورة التحريرية سنة 1956 ، أول رئيس للحكومة المؤقتة للجمهورية الجزائرية عند إنشائها سنة 1958.
	01	- هوارى بومدين : (1932 - 1978) رجل دولة جزائري قائد الولاية الخامسة في 1958 ثم قائد أركان جيش التحرير الوطني في 1960 ثم وزيرا للدفاع مع الاستقلال 1962 ن رئيس مجلس الثورة بعد التصحيح الثوري 1965 اشتهر بدعمه لحركات التحرر ودوره المميز في حركة عدم الانحياز.
	01	- جورج بوش (الأب): (1924 -...) رجل دولة أمريكي نائب للرئيس ريغن ثم رئيس الو.م.أ 1989-1993 شهدت فترة حكمه نهاية الحرب الباردة (قمة مالطا 1989) صاحب فكرة النظام الدولي الجديد وحرب العراق الأولى 1991.
		الجزء الثاني:
04	0.50	مقدمة: نهاية التحالف الاستراتيجي خلال الحرب العالمية الثانية وعودة الخلاف الإيديولوجي .
		1) عوامل الصراع القائم بين القطبين:
	0.25	- زوال مبررات التحالف الظرفي بين الاتحاد السوفياتي والحلفاء.
	6×	- التباين والاختلاف الإيديولوجي بين المعسكرين.
		- خروج الو.م.أ. من العزلة السياسية.
		- التوسع السوفيتي خاصة في شرق أوروبا وانتشار المذهب الاشتراكي.
04		- تصادم مصالح المعسكرين في كثير من مناطق العالم.
		- السباق نحو التسليح خاصة أسلحة الدمار الشامل.
		2) الاستراتيجية العسكرية الغربية لمواجهة المعسكر الشرقي:
	0.25	- إنشاء الأحلاف العسكرية (حلف الشمال الأطلسي 1949، حلف جنوب شرق آسيا 1954 حلف بغداد 1955 أو المركزي بعد انسحاب العراق).
	6×	- بناء القواعد العسكرية عبر مناطق العالم.
		- وانتهاج سياسة التطويق والاحتواء.
04		- إتباع سياسة الردع النووي.
		- القيام بتدخلات عسكرية في إطار سياسة ملء الفراغ.
04		- تدبير الانقلابات والاعتقالات...ضد الحكام والشخصيات المناوئة.
	0.50	- خاتمة: امتد الصراع الايديولوجي بين المعسكرين وازدادت خطورته على كل شعوب العالم.

		الجغرافيا
		الجزء الأول:
		(1) شرح ما تحته خط في النص:
06	01	- الشراكة: سياسة اقتصادية تقوم على التعاون وتوحيد الإمكانيات والجهود بين مجموعة من الدول أو الشركات بهدف تحقيق التطور ومواجهة التكتلات المنافسة لها.
	01	- الاتحاد الأوروبي: كتل اقتصادي قاري يضم 27 دولة أوروبية تأسس بموجب معاهدة روما في 1957/03/25 يهدف إلى تحقيق التعاون والتطور في جميع المجالات.
	01	- التعرفة الحمركية: هي تلك الرسوم الضريبية المفروضة على البضائع الأجنبية من أجل حماية الانتاج الوطني من المنافسة الخارجية .
		(2). التمثيل البياني :
		- التمثيل البياني: (أعمدة بيانية).
	01.5	- الانجاز :
	0.50	- المفتح :
	0.50	- المقياس :
	0.50	- العنوان :
		الجزء الثاني:
04	0.50	مقدمة: يحتل الإقليم الشمالي الشرقي في الولايات المتحدة الأمريكية مكانة هامة وحيوية في الاقتصاد الأمريكي حيث يعد بمثابة الركيزة الأساسية لتطوره والذي مكنها من احتلال الصدارة العالمية.
		(1) أسباب حيوية الإقليم الشمالي الشرقي.
		- العامل التاريخي (الهجرة الأوروبية)، يضم أكثر من 40 % من سكان الوم أ مما يوفر اليد العاملة، الأسواق (تجمع المدن الكبرى، العاصمة الفدرالية.
	0.25	- أقدم المناطق الصناعية تتواجد به مقرات الشركات الكبرى وأكبر البورصات و المؤسسات المالية .
	6×	- وفرة الموارد والثروات الطبيعية (الفحم الحجري في الأبلاش ، الحديد غرب البحيرات الكبرى).
		- وجود بنيات تحتية متطورة (طرق ، موانئ ، ممرات مائية...).
		- المناخ المعتدل الملائم للنشاط، الأراضي الخصبة (السهول الوسطى الواسعة)، الأنهار.
		- الانفتاح على العالم الخارجي خاصة أوربا عن طريق موانئ المحيط الأطلسي.
	0.25	(2) أثر التفوق الاقتصادي الأمريكي على الاقتصاد العالمي.
	6×	- الهيمنة على الأسواق العالمية وارتفاع قيمة استثماراتها في الخارج.
		- التحكم في المنظمات الاقتصادية العالمية (صندوق النقد الدولي، البنك العالمي، منظمة التجارة العالمية...
		- دور الشركات الاحتكارية في استنزاف ثروات بلدان العالم الثالث والتدخل في شؤونها.
		- هيمنة الدولار كعملة عالمية على المبادلات المالية والتجارية العالمية وأثر تغير قيمته على أسعار المواد الاستراتيجية.
		- تأثر الاقتصاد العالمي بأزماتها الاقتصادية والمالية.
		- تقييد بلدان العالم الثالث وإتقال كاهلها بالديون.
	0.50	- خاتمة: رغم توسع النشاط الاقتصادي في باقي الأقاليم لايزال الإقليم الشمالي الشرقي يحتل مكانة هامة ويساهم بشكل كبير في القوة الاقتصادية للولايات المتحدة الأمريكية.
		- ملاحظة: (تقبل الإجابات الصحيحة الأخرى).

- **العنوان:** منحنى بياني يمثل تطور أسعار البترول من سنة 2005 إلى سنة 2015

- **المقياس:** 1 سم = سنة .

1 سم = 10 دولار .





على المترشح أن يختار أحد الموضوعين الآتيين:
الموضوع الأول

التاريخ:

الجزء الأول: (06 نقاط)

(1) "... تميزت المرحلة الأولى من مراحل السياسة الديغولية إزاء الجزائر عن سياسة الجمهورية الرابعة بتنظيم معركة مزدوجة ضد جبهة التحرير الوطني في الداخل والخارج، ففي الميدان الداخلي تمثلت السياسة الديغولية في تعبئة كل الطاقات العسكرية ضد جيش التحرير الوطني، في نفس الوقت الذي تضاعفت فيه مراكز التجميع، وبلغت هذه السياسة أوجها مع برنامج شال الذي كان يهدف إلى سحق المناطق التي يتمركز بها جيش التحرير من كل المجاهدين بواسطة تنظيم عمليات هجومية برية وجوية منسقة ... وفي الميدان الخارجي نشطت الدبلوماسية الفرنسية معتمدة على عرض سلم الأبطال الذي قدمته في شكل عرض تفاوضي، حتى تظهر جبهة التحرير في مظهر المتهرب من التفاوض..."

المرجع: الجزائر في مرآة التاريخ، عبد الله شريط ومحمد الملي، مكتبة البعث، ص 233.

المطلوب: اشرح ما تحته خط في النص.

(2) أكمل الجدول التالي:

الحدث	التاريخ	الانعكاسات
المؤتمر الرابع لحركة عدم الانحياز بالجزائر		
	1990/11/21-19	
الثورة الكوبية		

الجزء الثاني: (04 نقاط)

"... سارت العلاقات الأمريكية السوفياتية وفق خط تصعيدي بدأ بمجموعة من الخطب والرسائل المتبادلة التي أفصحت عن تباعد في المواقف بين المعسكرين... إلا أن الخطوات العملية لهذا التباعد جاءت عند إعلان وزير الخارجية الأمريكي الجنرال مارشال عن مشروعه المعروف في دعم الدول الأوروبية..."

المرجع: موسى محمد آل طويرش، العالم المعاصر بين الحربين، ص 120.

المطلوب: انطلاقا من الفقرة واعتمادا على ما درست، اكتب مقالا تاريخيا تبين فيه:

(1) أهداف مشروع مارشال.

(2) رد فعل الاتحاد السوفياتي على هذا المشروع.



الجغرافيا:

الجزء الأول: (06 نقاط)

(1) "... انخفضت تدفقات الاستثمار الأجنبي المباشر إلى المنطقة العربية (بما فيها البلدان المصدرة للنفط) بأكثر من النصف في عام 2011، لتصل إلى ما يقدر بـ 9.5 مليار دولار مقابل 22.7 مليار دولار في عام 2010. وقد سجلت أكبر الانخفاضات في جميع أنحاء المغرب الكبير ومصر والأردن وسوريا. كما انخفض صافي تدفقات رؤوس الأموال الداخلة بما يعادل 90% خلال السنة، مما يعكس تدفقات خارجية كبيرة على أدوات الدين نظرا لإقبال المستثمرين الأجانب والمحليين على بلدان أكثر أمنا. وخسرت أسواق الأسهم المحلية 15% خلال السنتين الماضيتين، مقابل مكاسب متواضعة تقدر بـ 2.5% لجميع الدول الناشئة، في حين انخفض إصدار السندات من 3.2 مليار دولار في عام 2010 إلى مليار دولار في عام 2011..."

المرجع: تقرير البنك العالمي، الشرق الأوسط وشمال إفريقيا 2016. ص1 (بتصرف).

المطلوب: اشرح ما تحته خط في النص.

(2) إليك جدولا يمثل قيمة ونسبة صادرات وواردات الجزائر حسب المناطق (سنة 2010)

(الوحدة: مليون دولار).

المناطق	المغرب العربي	إفريقيا	أوروبا	بقية العالم
قيمة الواردات	544	396	21092	18441
نسبتها %	1.34	0.98	52.12	45.56
قيمة الصادرات	1281	79	28019	27674
نسبتها %	02.25	0.14	49.11	48.5

المرجع: إحصائيات التجارة الخارجية للجزائر 2010. وزارة التجارة ص 16.

المطلوب: مثل نسب الصادرات والواردات في دائرتين نسبيتين: (نق = 3 سم).

الجزء الثاني: (04 نقاط)

"... تعد تجربة الاتحاد الأوروبي من أكثر التجارب التكاملية الاندماجية الإقليمية نجاحا... وقد تطورت هذه التجربة الأوروبية في التعاون والتكامل الإقليمي على مدى أكثر من نصف قرن إلى أن أصبحت على مشارف وحدة سياسية تضم غالبية الدول الأوروبية..."

المرجع: د. مخلص عبيد، الاتحاد الأوروبي كظاهرة إقليمية متميزة، ص6.

المطلوب: انطلاقا من الفقرة واعتمادا على ما درست، اكتب مقالا جغرافيا تبين فيه:

(1) مظاهر التكامل والاندماج داخل الاتحاد الأوروبي.

(2) أثر التطور العددي على القوة الاقتصادية.

انتهى الموضوع الأول



الموضوع الثاني

التاريخ:

الجزء الأول: (06 نقاط)

(1) "... تعتبر الخمسينات عقد الحرب الباردة لأنها بداية الاستقطاب الثنائي الحاد، والستينات هي عقد التعايش السلمي حيث ظهر عدم الانحياز وأخيرا فإن السبعينات كانت الرد المباشر على تحديات التعايش السلمي بظهور الوفاق أو ما يدعى بالانفراج الدولي..."

المصدر: جمال حمدان. استراتيجية الاستعمار والتحرر.

المطلوب: اشرح ما تحته خط في النص.

(2) عرّف بالشخصيات التالية:

- عبان رمضان - هاري ترومان - ليونيد بريجنيف.

الجزء الثاني: (04 نقاط)

جاء في نداء الحكومة المؤقتة الجزائرية يوم 18 مارس 1962:

"... إن الاستعمار بالرغم من الوسائل التي استعملها فقد انتهى به الأمر بعد سنوات طويلة من المعارك إلى التخلي عن حلمه في الانتصار العسكري والدخول في مفاوضات جدية مع الطرف الجزائري..."

المصدر: أزغدي محمد لحسن، مؤتمر الصومام وتطور ثورة التحرير الوطني الجزائري 1956-1962.

المطلوب: انطلاقا من الفقرة واعتمادا على ما درست، اكتب مقالا تاريخيا تبين فيه:

(1) العوامل التي أجبرت فرنسا على قبول مبدأ التفاوض.

(2) الموقف الجزائري من المناورات الفرنسية في المفاوضات.



الجغرافيا:

الجزء الأول: (06 نقاط)

1) "... ترمي العولمة إلى إرساء قواعد و مبادئ كفيلة بضمان سيولة المبادلات سواء على مستوى تجارة السلع و تجارة الخدمات أو على مستوى حركة رؤوس الأموال، وتعمل الهيئات المالية الدولية ومنظمة التجارة العالمية في هذا الاتجاه مؤيدة نظرتها ...".

المصدر: مجلة المدرسة العليا الحربية، العدد التجريبي ص20، جوان 2007.

المطلوب: اشرح ما تحته خط في النص.

2) إليك جدولاً يمثل قيمة صادرات و واردات بعض بلدان شرق وجنوب شرق آسيا (سنة 2010).
(الوحدة: مليار دولار).

البلدان	الصين	اليابان	كوريا ج	سنغافورة	ماليزيا	تايلاندا
قيمة الصادرات	1578	770	466	352	199	195
قيمة الواردات	1395	693	425	311	165	182
الميزان التجاري	183	77	41	41	34	13

المصدر: منظمة التجارة العالمية (تقرير حول التجارة العالمية ص 33 لسنة 2011).

المطلوب: علق على معطيات الجدول.

الجزء الثاني: (04 نقاط)

يؤكد "وون بدريار" في كتابه أمريكا:

"... أن اعتقاد الأمريكيين بأنهم قلب العالم، والقوة الأعظم فيه والنموذج الأمثل ليس خاطئاً".

المطلوب: انطلاقاً من العبارة واعتماداً على ما درست، اكتب مقالاً جغرافياً تبين فيه:

1) العوامل الطبيعية لقوة الاقتصاد الأمريكي.

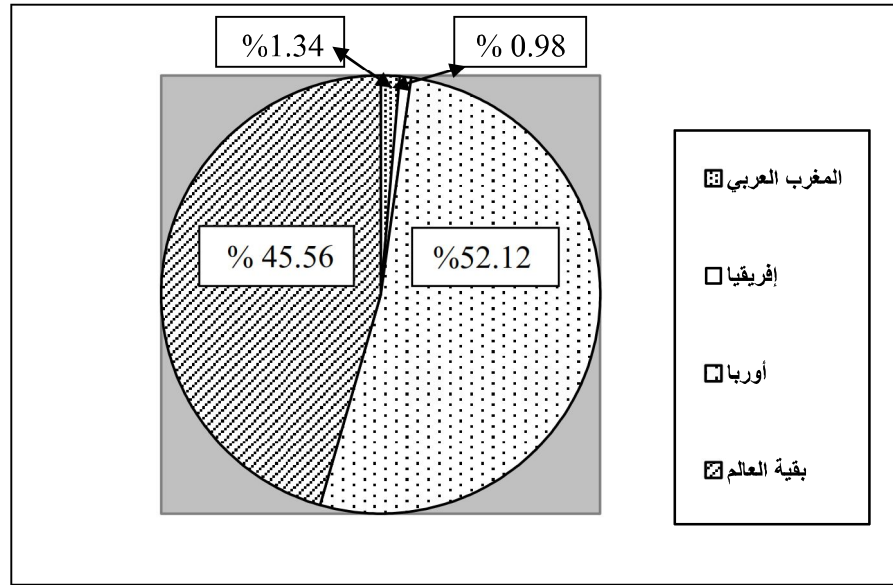
2) مظاهر النفوذ الاقتصادي الأمريكي في العالم.

العلامة		عناصر الإجابة												
مجموع	مجزأة													
06		<p>الموضوع الأول:</p> <p>التاريخ:</p> <p>الجزء الأول:</p> <p>(1) شرح ما تحته خط في النص:</p> <p>- برنامج شال: عبارة عن مجموعة من الخطط العسكرية التي وضعها الجنرال موريس شال قائد القوات الفرنسية في مطلع سنة 1959 تتضمن عمليات منسقة برية وبحرية وجوية استهدفت مختلف المناطق الواحدة تلو الأخرى.</p> <p>- الديبلوماسية الفرنسية: النشاطات السياسية التي تقوم بها الحكومة الفرنسية على المستوى الخارجي (الدولي) من أجل دفع الدول إلى عدم دعم القضية الجزائرية.</p> <p>- سلم الأبطال: مناورة سياسية اعتمدها ديغول 1958/10/23 تقضي بأن يسلم الثوار أسلحتهم مقابل ضمان حمايتهم وعدم متابعتهم.</p> <p>(2) أكمل الجدول التالي:</p> <table><tr><th>الحدث</th><th>تاريخه</th><th>انعكاساته</th></tr><tr><td>المؤتمر الرابع لحركة عدم الانحياز</td><td>1973/9/9-5</td><td>اهتمامات اقتصادية للحركة: المطالبة بنظام اقتصادي دولي عادل، حوار شمال جنوب، إعادة النظر في أسعار المواد الأولية، دورة استثنائية للجمعية العامة للأمم المتحدة...</td></tr><tr><td>مؤتمر باريس الخاص بالحرب الباردة.</td><td>1990/11/21-9</td><td>النهاية الرسمية للحرب الباردة وظهور النظام الدولي الجديد...</td></tr><tr><td>الثورة الكوبية</td><td>1959 - 1958</td><td>إقامة نظام شيوعي في كوبا ثم الأزمة الكوبية بين الو.م.أ. والاتحاد السوفيتي.</td></tr></table>	الحدث	تاريخه	انعكاساته	المؤتمر الرابع لحركة عدم الانحياز	1973/9/9-5	اهتمامات اقتصادية للحركة: المطالبة بنظام اقتصادي دولي عادل، حوار شمال جنوب، إعادة النظر في أسعار المواد الأولية، دورة استثنائية للجمعية العامة للأمم المتحدة...	مؤتمر باريس الخاص بالحرب الباردة.	1990/11/21-9	النهاية الرسمية للحرب الباردة وظهور النظام الدولي الجديد...	الثورة الكوبية	1959 - 1958	إقامة نظام شيوعي في كوبا ثم الأزمة الكوبية بين الو.م.أ. والاتحاد السوفيتي.
	الحدث	تاريخه	انعكاساته											
	المؤتمر الرابع لحركة عدم الانحياز	1973/9/9-5	اهتمامات اقتصادية للحركة: المطالبة بنظام اقتصادي دولي عادل، حوار شمال جنوب، إعادة النظر في أسعار المواد الأولية، دورة استثنائية للجمعية العامة للأمم المتحدة...											
	مؤتمر باريس الخاص بالحرب الباردة.	1990/11/21-9	النهاية الرسمية للحرب الباردة وظهور النظام الدولي الجديد...											
	الثورة الكوبية	1959 - 1958	إقامة نظام شيوعي في كوبا ثم الأزمة الكوبية بين الو.م.أ. والاتحاد السوفيتي.											
			<p>الجزء الثاني:</p> <p>مقدمة: يعتبر مشروع مارشال من أهم وسائل الضغط التي استعملتها الولايات المتحدة الأمريكية تجاه البلدان الشيوعية في إطار الحرب الباردة.</p> <p>(1) أهداف مشروع مارشال:</p> <p>(أ) المعلنة:</p> <p>- مساعدة الدول الأوروبية على إعادة بناء اقتصادها.</p> <p>- تحسين الظروف المعيشية للشعوب الأوروبية.</p> <p>- التعاون الاقتصادي بين الولايات المتحدة والبلدان الأوروبية</p> <p>(ب) الخفية:</p> <p>- وقف الزحف الشيوعي على دول أوروبا الغربية ومحاولة إحداث شقاق بين الاتحاد السوفيتي ودول أوروبا الشرقية.</p> <p>- الهيمنة على اقتصاديات الدول الأوروبية.</p> <p>- التخلص من الفائض المالي واستثماره في شكل قروض وإنعاش الشركات الأمريكية.</p>											
	01													
	01													
	01													
	01													
01														
01														
01														
01														
0.50														
3×0.25														
04														
3×0.25														

06	3×0.50	(2) رد فعل الاتحاد السوفيتي على هذا المشروع: - رفض المساعدة الأمريكية ودفع دول أوروبا الشرقية إلى رفضها أيضا. - إعلان مبدأ جدانوف 1947 وإقامة مكتب الكومنغورم 1947. - العمل على إقامة تعاون اقتصادي بينه وبين الدول الشيوعية خاصة في أوروبا الشرقية والذي توج بإنشاء منظمة الكوميكون 1949.
		خاتمة: أدى اختلاف المواقف بين المعسكرين إلى المزيد من التوتر في العلاقات الدولية وهو ما كرسه مشروع مارشال.
		الجغرافيا:
		الجزء الأول:
	01	(1) شرح ما تحته خط في النص: الاستثمار الأجنبي المباشر: إنجاز مشاريع اقتصادية أو خدمات من قبل شركات أجنبية في البلدان العربية مع الإشراف عليها بطريقة مباشرة بهدف الحصول على الأرباح.
		تدفقات خارجة: نقل الأموال والاستثمارات من البلدان العربية إلى بلدان أخرى.
		الدول الناشئة: مجموعة من الدول التي استطاعت أن تحقق قفزة اقتصادية نتيجة نجاح تجاريتها التتموية والتي مكنتها من الوصول إلى مصاف الدول المتقدمة كالصين، التينيات...
		(2) التمثيل البياني (دائرتين نسبيتين):
	02 0.50 0.25 0.25	- الإنجاز - العنوان - المفتاح - المقياس
		الجزء الثاني:
		مقدمة: ساهمت سياسة التكتل والاندماج والتطور العددي في القوة الاقتصادية للاتحاد الأوروبي.
		(1) مظاهر التكامل والاندماج داخل الاتحاد الأوروبي: - اعتماد سياسة زراعية مشتركة قائمة على مبدأ الأفضلية. - المشاريع الصناعية المشتركة (طائرة إيرباص). - العملة الأوروبية الموحدة (اليورو). - إلغاء التعريفات الجمركية بين دوله. - حرية تنقل الأشخاص، البضائع والأموال (الاستثمارات). - سياسة الصيد البحري المشتركة (أوروبا الزرقاء).
04	6 x 0.25	(2) أثر التطور العددي على القوة الاقتصادية للاتحاد الأوروبي: - تزايد الإمكانات الطبيعية والبشرية (المساحة، الموارد، السكان). - احتلال المراتب الأولى في العديد من المنتجات الزراعية (الحبوب، الحوامض...).
		- تزايد حجم الاستثمارات. - ضخامة المشاريع الصناعية (صناعة الطائرات، المركبات الفضائية...).
	0.50	- ارتفاع حجم المساهمة التجارية عالميا بما يقارب 40 %. - قوة العملة الأوروبية.
		خاتمة: قوة الاتحاد الأوروبي الاقتصادية هي نتاج نجاح تجربة التكامل والاندماج.
		ملاحظة: (تقبل الإجابات الصحيحة الأخرى).

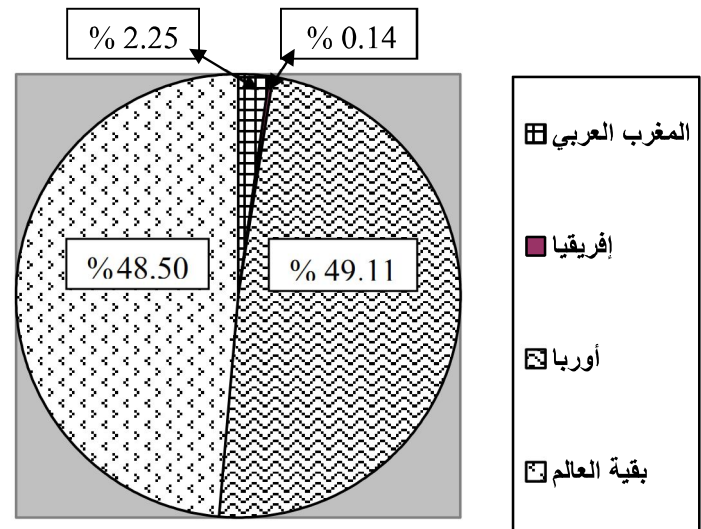
– نق: 3سم.

– دائرة نسبية تمثل نسب واردات الجزائر حسب المناطق.



– نق: 3سم.

– دائرة نسبية تمثل نسب صادرات الجزائر حسب المناطق.



العلامة		عناصر الإجابة
مجموع	مجزأة	
06	01	التاريخ الجزء الأول: (1) شرح ما تحته خط في النص: - الاستقطاب الثنائي : استراتيجية اعتمدتها الو.م.أ والاتحاد السوفياتي خلال الحرب الباردة بهدف جذب أكبر عدد ممكن من الدول. - عدم الانحياز : مبدأ و موقف اتخذته مجموعة من دول العالم الثالث تجاه صراع الحرب الباردة وذلك بعدم الميل لأي من المعسكرين المتصارعين . - التعايش السلمي : سياسة تقوم على مبدأ قبول فكرة تعدد المذاهب الإيديولوجية والتفاهم بين المعسكرين إزاء المشاكل الدولية العالقة (مبادرة من قبل الرئيس السوفيتي خروتشوف سنة 1956). (2) التعريف بالشخصيات التالية: - عبان رمضان : (1920- 1957) مناضل في صفوف حركة الانتصار للحريات الديمقراطية ، عضو في المنظمة الخاصة 1947، التحق بالثورة في 1955، شارك في التحضير لمؤتمر الصمام 1956 استشهد في 1957. - هاري ترومان : (1884- 1972) رئيس الولايات المتحدة الأمريكية (1945-1952) أمر بقنبلة هيروشيما ونقازاكي بالقنبلة الذرية أثناء الحرب .ع.2، أحد أقطاب الحرب الباردة ،صاحب مبدأ يحمل اسمه 1947 والذي يتضمن تقديم مساعدات مالية لتركيا واليونان ، كان طرف في عدة أزمات (أزمة برلين ، كوريا) ومؤيد الهجرة اليهودية إلى فلسطين. - ليونيد برجنيف : (1906- 1982) رئيس الاتحاد السوفيتي (1964- 1982) ، له مبدأ باسمه ، وقع اتفاقية سالت الأولى مع الرئيس الأمريكي نيكسون والثانية مع جيمي كارتر، كان وراء العديد من التدخلات العسكرية (تشيكوسلوفاكيا ،أفغانستان). الجزء الثاني: مقدمة: فشل السياسة الفرنسية الاستعمارية وقوة الثورة أجبر فرنسا على قبول مبدأ التفاوض مع جبهة التحرير الوطني. (1) العوامل التي أجبرت فرنسا على قبول مبدأ التفاوض: - فشل استراتيجية الاستعمار الفرنسي في القضاء على الثورة . - الخسائر البشرية في صفوف الجيش الفرنسي. - التقاف الشعب حول الثورة (مظاهرات 11ديسمبر 1960 و 17 أكتوبر 1961 ...) - عجز الحكومات الفرنسية المتعاقبة على إخماد الثورة. - الأزمة الاقتصادية (إفلاس الخزينة) من جراء تزايد ميزانية "حرب الجزائر" والسياسية (المحاولات الانقلابية). - تزايد الدعم الدولي للقضية الجزائرية. (2) الموقف الجزائري من المناورات الفرنسية في المفاوضات: * التمسك بمبادئ جبهة التحرير الآتية : - السيادة الكاملة على كل التراب الوطني.
04	0.25 × 6	
	0.50 0.25	

06	0.25	- وحدة التراب الوطني.
	0.25	- وحدة الأمة.
	0.25	- جبهة التحرير الوطني الممثل الشرعي والوحيد للشعب الجزائري.
		- وقف إطلاق النار بعد الاتفاق.
	0.50	- خاتمة: المفاوضات تتويج لسلسلة من مراحل الكفاح، وتأكيد لنجاح الثورة في تحقيق الاستقلال رغم المناورات الفرنسية.
		الجغرافيا
		الجزء الأول:
		(1) شرح ما تحته خط في النص :
	01	- العولمة: توجه عالمي نحو إزالة كل الحواجز أمام تنقل السلع والخدمات والثقافات و سهولة الاتصال.
	01	- تجارة الخدمات: تبادل الخدمات بين الدول :إعارة الطائرات ،البواخر تسخير الهياكل القاعدية كالموانئ والمطارات تحويل الأموال عن طريق البنوك ،تكوين اليد العاملة ...
04	01	- الهيئات المالية الدولية: يقصد بها المؤسسات المالية العالمية التي تهدف الى تنظيم العلاقات المالية بين الدول (صندوق النقد الدولي- البنك العالمي).
		(2) التعليق على المعطيات الإحصائية:
		- تمثل أرقام الجدول إحصائيات حول قيمة المبادلات التجارية لبعض بلدان جنوب شرق آسيا:
		- تباين في قيمة المبادلات التجارية للبلدان المذكورة نتيجة التباين في حجم النشاط الاقتصادي بينها.
		- ضخامة حجم المبادلات بالنسبة للصين التي تحتل الصدارة في التجارة العالمية تليها اليابان (الثالثة عالميا).
	×0.75 4	- تحقق فائضا في ميزانها التجاري تختلف قيمته من دولة لأخرى (183مليار دولار بالنسبة للصين، 77 م/ د لليابان، 34 لماليزيا و 13 بالنسبة لتايلاند...).
		- تحتل سنغافورة رغم صغر مساحتها (693 كم2) وقلة عدد سكانها حوالي 6 ملايين نسمة فقط مكانة اقتصادية وتجارية عالمية متقدمة تضاهي او تفوق مكانة إفريقيا أو الشرق الأوسط.
		الجزء الثاني:
	0.50	مقدمة: اقتصاد الولايات المتحدة الأمريكية، بين ضخامة إمكاناتها وتأثيره العالمي.
		(1) العوامل الطبيعية لقوة الاقتصاد الأمريكي:
04		- الموقع الاستراتيجي الهام بين المحيطين الهادي والأطلسي.
		- المساحة الشاسعة (9.3 مليون كلم ²).
	0.25	- تنوع الأقاليم المناخية.
	×	- اتساع الشبكة الهيدروغرافية .
	6	- ضخامة وتنوع المواد الأولية.
		- اتساع المساحة الزراعية.
		(2) مظاهر النفوذ الاقتصادي الأمريكي في العالم:
	0.25	- احتكار الأسواق وغزو المنتجات الأمريكية للأسواق العالمية.
	×	- تزايد نشاط الشركات الاحتكارية الأمريكية في العالم.
	6	- الهيمنة على المؤسسات الاقتصادية والمالية العالمية.
		- التحكم في مراكز تحديد الأسعار.

	0.50	<ul style="list-style-type: none">- استخدام القوة الاقتصادية كوسيلة ضغط.- سيطرة الدولار على 65% من احتياطي صرف العملات.- خاتمة: القوة الاقتصادية الأمريكية وتأثيرها العالمي ثمرة تنوع الإمكانيات وحسن الاستثمار. <p><u>ملاحظة:</u> (تقبل الإجابات الصحيحة الأخرى)</p>
--	------	--

على المترشح أن يختار أحد الموضوعين التاليين:

الموضوع الأول

ملاحظة:

- يحتوي الموضوع الأول على 03 صفحات (من الصفحة 1 من 7 إلى الصفحة 3 من 7)
- الصفحة 4 من 7 فارغة.

التاريخ :

الجزء الأول: (06 نقاط)

1- "... يمكن اعتبار مؤتمر باندونغ أول انتصار دولي لدبلوماسية جبهة التحرير الوطني ... وأنه أوصى بعرض القضية الجزائرية على هيئة الأمم المتحدة ... التي افتتحت الدورة في 30 سبتمبر 1955 غداة هجوم جيش التحرير الوطني على الشمال القسنطيني... أعقبه انسحاب الوفد الفرنسي من الجلسة احتجاجا على هذا القرار... نتيجة للصدى الذي حققته القضية الجزائرية على الصعيد الدولي ورغبة منها في تفعيل العمل الدبلوماسي، أعلنت جبهة التحرير الوطني عن تأسيس حكومة مؤقتة بالمنفى، كمرحلة جديدة في مسار الكفاح التحرري، حيث كان هذا الحدث بمثابة قفزة نوعية في دبلوماسية جبهة التحرير الوطني... ".
المرجع: مجلة الجيش/نوفمبر 2011 العدد 580 ، ص31.

أ - اشرح ما تحته خط في النص.

ب- حدّد تواريخ الأحداث التالية والواردة في النص: مؤتمر باندونغ، هجوم جيش التحرير الوطني على الشمال القسنطيني، تأسيس حكومة مؤقتة.

2- "... في تلك الفترة الزمنية ومع انهيار النظام الاستعماري ونضال شعوب إفريقيا وآسيا وأمريكا اللاتينية من أجل الاستقلال، طرح زعماء دول آسيا وإفريقيا وأوروبا فكرة تأسيس حركة... أبرزهم الهندي جواهر لال نهرو والمصري جمال عبد الناصر واليوغسلافي جوزيف بروز تيتو، من دون إغفال الدور الهام الذي لعبه الزعيم الأندونيسي أحمد سوكارنو في تأسيس هذه الحركة... ".
المرجع: عدم الانحياز... بين الأمس واليوم/أبو ظبي.

- عرّف بالشخصيات التي تحتها خط.

الجزء الثاني: (04 نقاط)

قال الجنرال فون ناجوين جياب: "...إننا لسنا أقوياء لإخراج نصف مليون جندي أمريكي من الجنوب، لكننا نريد كسر شوكة الحكومة الأمريكية عبر استخدام قوتنا البشرية الصغيرة في مواجهة آلة الحرب الأمريكية العملاقة...".

المطلوب: انطلاقاً من العبارة، واعتماداً على ما درست، اكتب مقالا تاريخياً تبيّن فيه:

1- أسلوب التحرر في الهند الصينية.

2- الاستراتيجيات المنتهجة من قبل الولايات المتحدة الأمريكية في المنطقة.

الجغرافيا:

الجزء الأول: (06 نقاط)

جاء في تقرير خبراء بنك "باركليز"؛ البريطاني:

"... إن توجهات الاستهلاك والاستثمار في الولايات المتحدة تبدو اليوم مشابهة لما كانت عليه قبل تأزم الاقتصاد الأمريكي الذي يعتبر القوة الرأسمالية الأهم عالمياً. ولا تزال البيانات الواردة من أوروبا تؤكد تنامي الانتعاش الاقتصادي وتوافر ظروف اقتصادية مواتية نتيجة التحسّن المستمر لقطاع الائتمان... ويوصي التقرير أيضاً بخفض حصة النقد والسندات ذات آجال الاستحقاق القصيرة... مما يتيح تحرير الأموال للاستفادة من تراجع أسعار الأسهم في الأسواق المتقدمة. وأوصى البنك بالاستفادة من النقد لحيازة أصول عالية الجودة بأسعار منصفة وبالتحديد: أسهم الأسواق المتقدمة التي توفر نقطة دخول مناسبة للمستثمرين...".

المرجع: "باركليز": الاقتصاد الأمريكي سيدفع عجلة النمو العالمي.

1- اشرح ما تحته خط في النص.

2- إليك جدولاً لتطور التجارة الخارجية في الجزائر للفترة: (2005-2014) القيمة: مليار دولار أمريكي

السنوات	2005	2006	2007	2008	2009	2010	2011	2012	2013	2014
الصادرات	45.036	54.613	60.163	79.298	45.194	57.053	73.489	71.866	65.917	62.956
الواردات	20.048	21.456	27.631	39.479	39.294	40.473	47.247	47.490	54.852	58.330

المرجع: المركز الوطني للإعلام الآلي و الإحصاء التابع للجمارك.

المطلوب:

أ- مثل أرقام الجدول بمنحنيين بيانيين في معلم واحد بمقياس:

1سم ← 10 مليار دولار.

1سم ← 1 سنة.

ب- علّق على الرسم.

الجزء الثاني: (04 نقاط)

ينذر الانهيار الكبير لسعر النفط في السوق العالمية بعواقب اقتصادية واجتماعية كبيرة على العديد من الحكومات، وقد يهدد هذا التطور السلم الاجتماعي الذي استثمرت فيه السلطات عائداتها البترولية لضمان الاستقرار وحكمها أيضا.

المطلوب:

انطلاقا من الفقرة، واعتمادا على ما درست، اكتب مقالا جغرافيا تبين فيه:

- 1- العوامل المتحركة في تجارة البترول.
- 2- أثر انخفاض أسعار البترول على العلاقات الدولية.

انتهى الموضوع الأول

الموضوع الثاني

يحتوي الموضوع الثاني على 03 صفحات (من الصفحة 5 من 7 إلى الصفحة 7 من 7)

التاريخ:

الجزء الأول: (06 نقاط)

«... صحيح أنّ احتمالات قيام حرب عالمية ثالثة تضاءلت في ظل توازن الرعب النووي والذي بدا جليا في أزمة كوبا لكن هذا لم يمنع العملاقين من المراهنة على استعراض قدرتيهما النووية، وهو ما جعل حظوظ النجاح في التعايش السلمي محدودة أو منعدمة ...».

المرجع: الكتاب المدرسي، تاريخ العالم المعاصر، السنة 3 ثانوي، ص172.

- 1- اشرح ما تحته خط في النص.
- 2- عرّف بالشخصيات التالية: هوشي منه - نيكيتا خروشوف - محمد بوضياف.
- 3- عيّن على خريطة العالم المرفقة مقرات المنظمات والمؤتمرات الدولية الآتية:
حلف وارسو - مؤتمر باندونغ - هيئة الأمم المتحدة .

الجزء الثاني: (04 نقاط)

لم ينتظر قادة الثورة الجزائرية انقضاء حولين بعد تفجير ثورة نوفمبر الخالدة حتى استقر رأيهم على عقد مؤتمر يضع للثورة إطارا تنظيميا ومنهجيا سياسيا محكما.

المطلوب:

انطلاقا من الفقرة، واعتمادا على ما درست، اكتب مقالا تاريخيا تبين فيه:

- 1- أسباب اختيار منطقة الصومام.
- 2- التنظيمات السياسية والعسكرية المنبثقة عن مؤتمر الصومام.

الجغرافيا:

الجزء الأول: (06 نقاط)

« تهيمن على الاقتصاد العالمي الشركات متعددة الجنسيات بما فيها شركات الثالوث الاقتصادي الذي هو موطن 85 % من بين مائة شركة في العالم حيث تعود حصة الأسد في الاستثمار الأجنبي للدول المتقدمة على حساب الدول المتخلفة...»

مؤتمر الأمم المتحدة للتجارة والتنمية 2006.

1- اشرح ما تحته خط في النص.

2- إليك جدولاً يمثل نسب مساهمة القطاعات الاقتصادية في الدخل الوطني الخام للولايات المتحدة الأمريكية:

القطاع	نسبة المساهمة %
الزراعة	02
الصناعة	23
الخدمات	75

الكتاب المدرسي السنة الثالثة ثانوي - ص 46.

المطلوب:

أ- مثل معطيات الجدول بدائرة نسبية (نصف قطرها 3 سم).

ب- علق على الرسم.

الجزء الثاني: (04 نقاط)

يعد القمح الغذاء الرئيسي لمعظم سكان المعمورة ويكتسي أهمية بالغة في المبادلات التجارية العالمية.

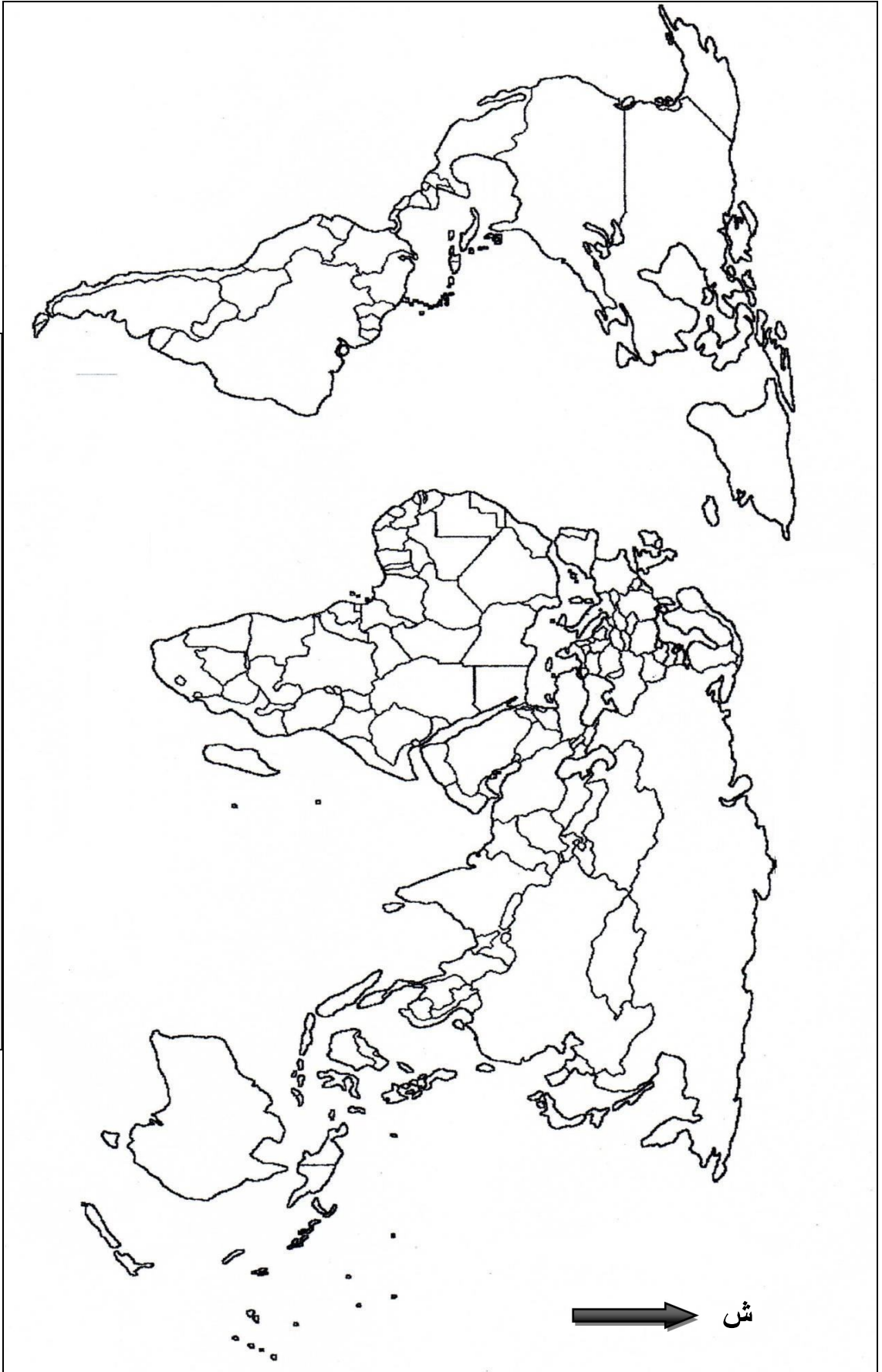
المطلوب:

انطلاقاً من العبارة، واعتماداً على ما درست، اكتب مقالاً جغرافياً تبين فيه:

1- أهمية القمح.

2- أثر احتكار الدول المصدرة لهذه المادة على العالم المتخلف.

ينجز العمل المطلوب على الخريطة وتعاد مع أوراق الإجابة



انتهى الموضوع الثاني

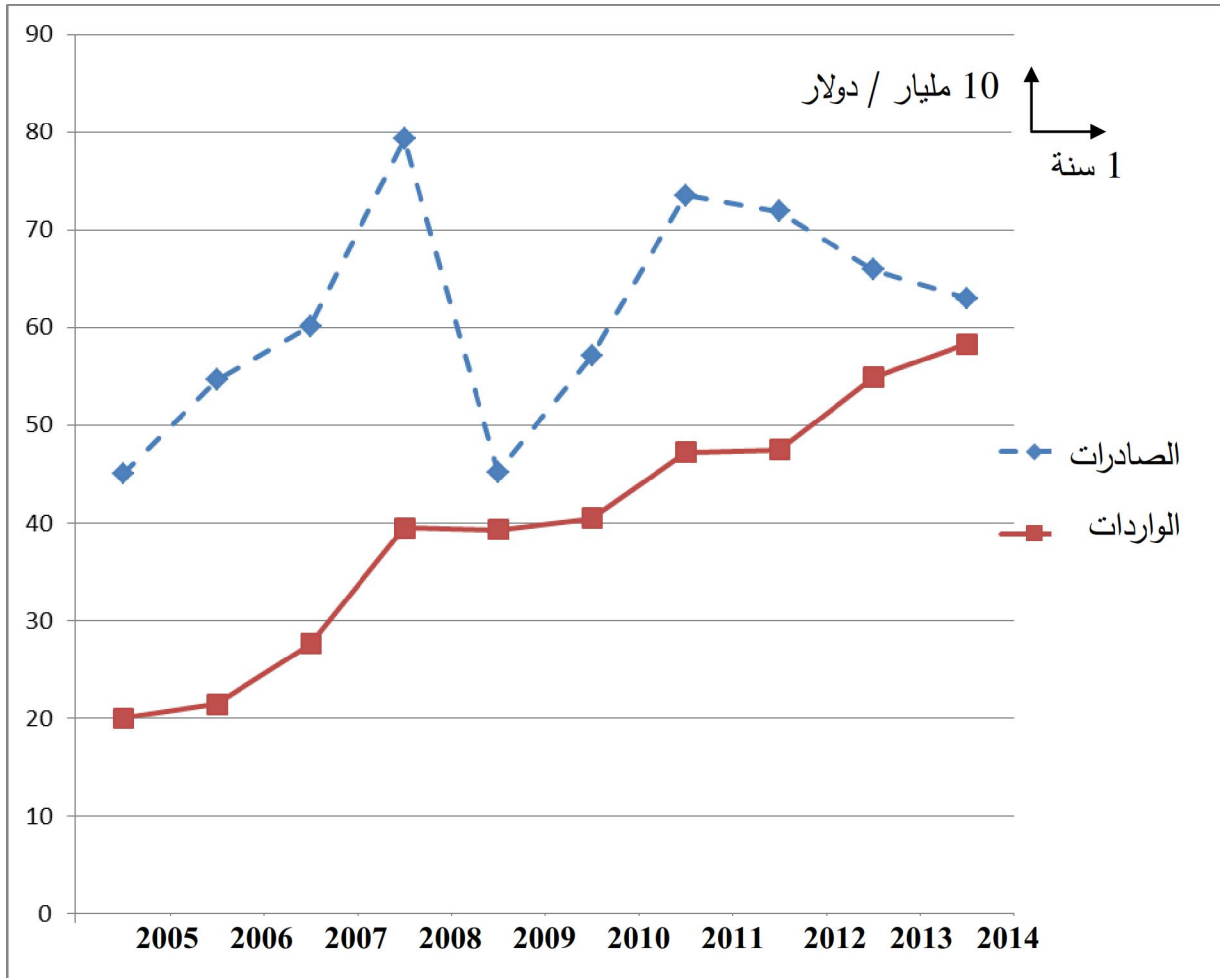
العلامة		عناصر الإجابة (الموضوع الأول)								
مجموع	مجزأة									
06		التاريخ : الجزء الأول								
		1-أ- شرح ما تحته خط:								
	0.75	* - جبهة التحرير الوطني: الجناح السياسي للثورة التحريرية تم تأسيسها في 1954/10/23 أعلن عنها رسميا في 1954/11/01.								
	0.75	* - هيئة الأمم المتحدة: تنظيم دولي يضم جميع الدول المستقلة تأسس في 1945/10/24 بغرض الحفاظ على السلم والأمن العالميين وتنظيم العلاقات الدولية، مقرها نيويورك.								
	0.75	* - العمل الدبلوماسي: كل نشاط سياسي خارج الدولة ويقصد به هنا النشاط السياسي لجبهة التحرير الوطني خلال الثورة بغرض التعريف بالقضية الوطنية في مختلف المحافل الإقليمية والدولية.								
		1- ب- الأحداث التاريخية:								
	0.50	<table><tr><th>التاريخ</th><th>الحدث</th></tr><tr><td>1955/04/24-18</td><td>مؤتمر باندونغ</td></tr><tr><td>1955/08/20</td><td>هجوم الشمال القسنطيني</td></tr><tr><td>1958/09/19</td><td>تأسيس الحكومة المؤقتة</td></tr></table>	التاريخ	الحدث	1955/04/24-18	مؤتمر باندونغ	1955/08/20	هجوم الشمال القسنطيني	1958/09/19	تأسيس الحكومة المؤقتة
	التاريخ	الحدث								
	1955/04/24-18	مؤتمر باندونغ								
	1955/08/20	هجوم الشمال القسنطيني								
	1958/09/19	تأسيس الحكومة المؤقتة								
	0.50									
0.50										
0.50										
	2- التعريف بالشخصيات:									
0.75	* - جمال عبد الناصر (1918-1970): من الضباط الأحرار، رئيس الجمهورية المصرية، مؤمم قناة السويس، من مؤسسي حركة عدم الانحياز.									
0.75	* - جوزيف بروز تيتو (1892-1980): مؤسس جمهورية يوغسلافيا ورئيسها بعد الحرب العالمية الثانية، أحد زعماء حركة عدم الانحياز، من مناصري حركات التحرر.									
0.75	* - أحمد سوكرانو (1901-1970): رئيس أندونيسيا (1949/1967) ترأس مؤتمر باندونغ الذي احتضنته بلاده عام 1955 للتضامن الأفرو آسيوي، أحد مؤسسي حركة عدم الانحياز.									
0.75	الجزء الثاني:									
	المقدمة: الهند الصينية بين المد التحرري وتكالب القوى الخارجية.									
0.50	1- أسلوب التحرر في الهند الصينية:									
	<ul style="list-style-type: none">• الدمج بين الكفاح المسلح والنضال السياسي.• اعتماد حرب العصابات.• الاعتماد على الإمكانيات الذاتية والخارجية.• الاستمرارية في المواجهة.									
3×0.50	ملاحظة: الأخذ بعين الاعتبار ثلاث إجابات صحيحة في هذا السؤال.									

العلامة		عناصر الإجابة (الموضوع الأول)
مجموع	مجزأة	
04	3×0.5	<p>2- الاستراتيجيات المنتهجة من قبل الولايات المتحدة الأمريكية في المنطقة:</p> <ul style="list-style-type: none"> • دعم الأحزاب الليبرالية والحكومات الموالية (باوداي). • رفض قرارات مؤتمر جنيف 1954 من طرف الو.م.أ. • إنشاء حلف جنوب شرق آسيا 1954. • التدخل العسكري الأمريكي في الفيتنام في إطار سياسة ملء الفراغ 1964. <p>ملاحظة: الأخذ بعين الاعتبار ثلاث إجابات صحيحة في هذا السؤال.</p> <p>الخاتمة: رغم تشبث القوى الاستعمارية بمصالحها إلا أن إرادة الشعوب أقوى ولا تقهر.</p>
	0.50	<p>الجغرافيا:</p> <p>الجزء الأول:</p> <p>1- شرح ما تحته خط:</p> <ul style="list-style-type: none"> • الرأسمالية: هي نظام اقتصادي يعتمد على الملكية الفردية لوسائل الإنتاج والمنافسة والحرية الاقتصادية (قانون السوق). • الانتعاش الاقتصادي: الانتقال من وضعية الركود والانكماش الاقتصادي إلى وضعية النمو الإيجابي. • الأسهم: قيم مالية تمثل حصص المستثمرين في رأسمال شركة مساهمة يتعرض مالكوها للربح والخسارة والمساهمة في التسيير.
	0.75	<p>2- أ- الرسم البياني:</p> <ul style="list-style-type: none"> • الإنجاز. • العنوان. • المفتاح. • المقياس.
	0.75	<p>2- ب- التعليق على الرسم:</p> <p>نلاحظ من خلال الرسم البياني الخاص بتطور التجارة الخارجية للجزائر ما بين 2005-2014 ما يلي:</p> <ul style="list-style-type: none"> • تذبذب قيم الصادرات والواردات بحكم الأسواق العالمية وقيمة الدولار. • التطور الإيجابي بين 2005-2008. • تراجع قيمة الصادرات سنة 2009 بـ 34 مليار دولار بسبب الأزمة المالية العالمية. • تفوق قيم الصادرات على قيم الواردات (فائض الميزان التجاري).
06	2×0.5	
	0.25	
	0.25	
	0.25	

العلامة		عناصر الإجابة (الموضوع الأول)
مجموع	مجزأة	
04	0.50	<p>الجزء الثاني:</p> <p>المقدمة: تجارة البترول بين تضارب المصالح وإستراتيجية المادة.</p> <p>1- العوامل المتحكمة في تجارة البترول:</p> <ul style="list-style-type: none"> - قانون العرض والطلب (تشبع السوق). - الأزمات السياسية والاقتصادية (العراق، ليبيا، سوريا ونيجيريا). - الاحتكارات (الشركات متعددة الجنسيات والوكالة الدولية للطاقة). - المضاربة في الأسواق. - انضباط وعدم انضباط الدول المنتجة (الأوبك) بحصصها. - تقلبات أسعار الدولار.
	6×0.25	<p>2- أثر انخفاض أسعار البترول على العلاقات الدولية:</p> <ul style="list-style-type: none"> - الضغوطات الداخلية والخارجية على الدول المصدرة للبترول. - تراجع الاستثمارات في مجال التنقيب والاستخراج. - فرض إجراءات اقتصادية صارمة في حق الدول المصدرة من طرف صندوق النقد الدولي (التقشف والترشيد). - الاضطرابات السياسية والمهنية. - احتدام الصراع بين الشركات الاحتكارية والدول المنتجة المصدرة حول نسب الفوائد والاستثمار. - الخلافات والصراعات داخل منظمة الأوبك، وبينها وباقي الدول المصدرة.
	6×0.25	<p>الخاتمة: البترول ثروة امتلكتها الشعوب وتحكمت فيها الشركات الاحتكارية.</p>
	0.50	<p>ملاحظة: تقبل كل الإجابات الصحيحة الأخرى.</p>

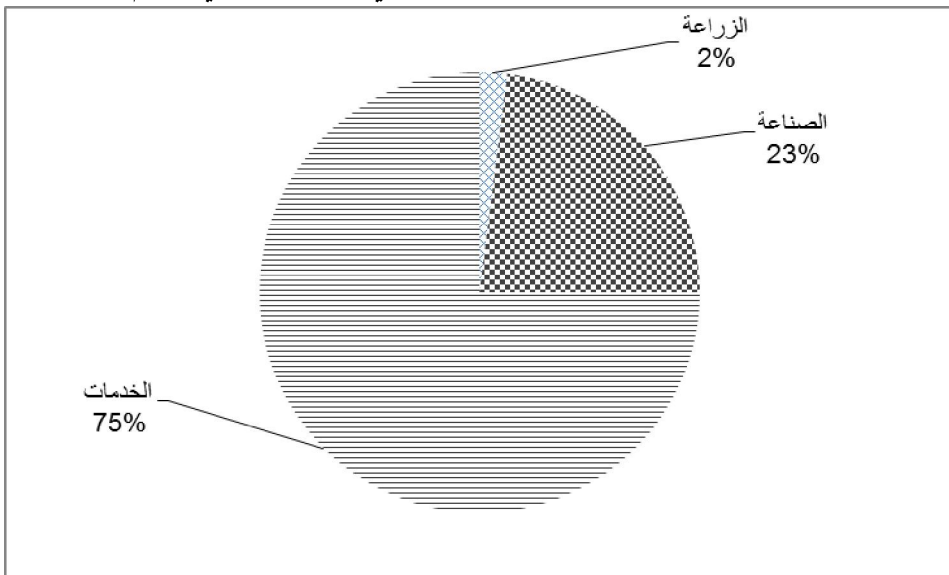
العلامة		عناصر الإجابة (الموضوع الأول)
مجموع	مجزأة	

تطور التجارة الخارجية للجزائر ما بين 2005-2014



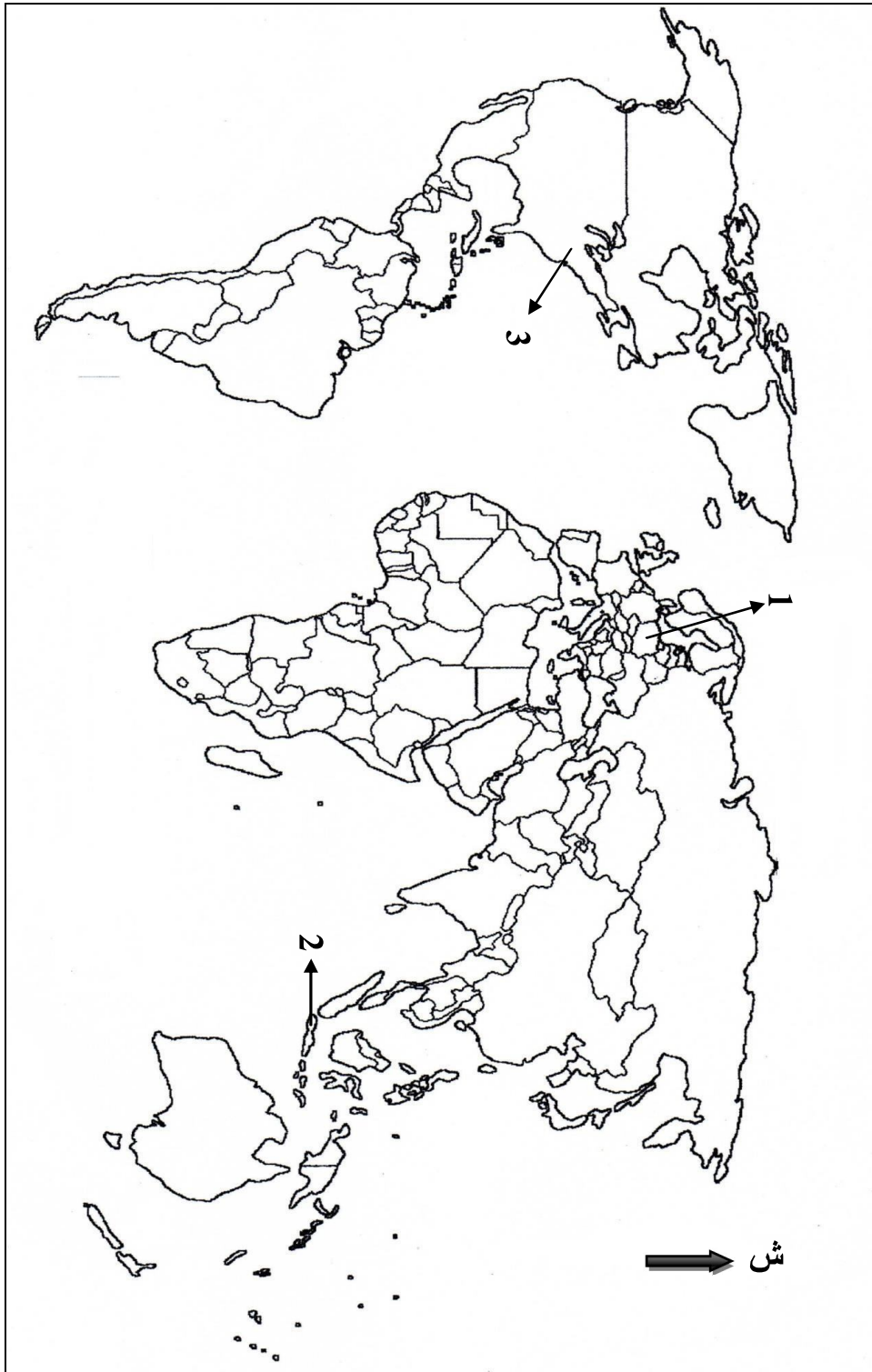
العلامة		عناصر الإجابة (الموضوع الثاني)
مجموع	مجزأة	
06		التاريخ: الجزء الأول: 1- شرح ما تحته خط: - توازن الرعب النووي: يقصد به التكافؤ في ميزان القوة النووية بين الاتحاد السوفياتي والولايات المتحدة الأمريكية واقتناع الطرفين بخطورة المواجهة العسكرية المباشرة. - العلاقين: يقصد بهما القوتين العظميين (الولايات المتحدة والاتحاد السوفياتي) المتصارعتين في إطار الحرب الباردة. - التعايش السلمي: سياسية جديدة في العلاقات الدولية تؤمن بتعدد الايديولوجيات في المجتمع الدولي، أساسها التفاهم والتقارب بين الكتلتين، وقد تبناها رئيس الاتحاد السوفياتي نيكيتا خروتشوف سنة 1956. 2- التعريف بالشخصيات : - هوشي منه (1890 - 1969): مؤسس الحزب الشيوعي الفيتنامي ثم (الفيت منه) قاد حربا ناجحة ضد الوجود الفرنسي (1946 - 1954) ثم ضد الحكومة العميلة والو.م.أ في الجنوب منذ 1960، مؤسس حكومة الفيتنام الشمالي في هانوي. - نيكيتا خروتشوف (1894-1971): حكم الاتحاد السوفياتي من 1953 إلى 1964، الأمين العام للحزب الشيوعي السوفييتي، صاحب فكرة التعايش السلمي، عرف عهده بحدوث عدة أزمات منها أزمة صواريخ كوبا. - محمد بوضياف (1919-1992): عضو حزب الشعب الجزائري، حركة الانتصار للحريات الديمقراطية، مسؤول في المنظمة الخاصة وعضو مجموعة الاثني والعشرين، من الأعضاء الست المفجرين للثورة اعتقل في حادث اختطاف الطائرة 56/10/22 لغاية وقف إطلاق النار، رئيس المجلس الأعلى للدولة جانفي 1992 إلى أن تم اغتياله بعنابة في جوان 1992. 3- التوقيع على الخريطة : - الإنجاز - المفتاح - العنوان
	0.75	
	0.75	
	0.75	
	0.75	
	0.75	
	0.75	
	0.75	
	0.25	
	0.50	

العلامة		عناصر الإجابة (الموضوع الثاني)
مجموع	مجزأة	
04	0.50	<p>الجزء الثاني:</p> <p>المقدمة:</p> <p>الثورة التحريرية بين التقييم والحاجة الماسة للتنظيم لضمان استمراريتها وإنجاحها.</p> <p>1- أسباب اختيار منطقة الصومام:</p> <p>- منطقة وسط بين المناطق الثورية.</p> <p>- منطقة مؤمنة طبيعيا.</p> <p>- تكذيب إدعاءات فرنسا أن منطقة القبائل تحت سيطرتها.</p>
	3×0.5	<p>2- التنظيمات السياسية والعسكرية المنبثقة عن مؤتمر الصومام:</p> <p>أ - السياسية:</p> <p>- تأسيس المجلس الوطني للثورة (34 عضو).</p> <p>- إنشاء لجنة التنسيق والتنفيذ.</p> <p>- تقسيم الجزائر إلى 06 ولايات.</p>
	3×0.25	<p>ب - العسكرية:</p> <p>- إنشاء مصالح تابعة لجيش التحرير الوطني (صحية، اجتماعية، دعائية).</p> <p>- هيكلة جيش التحرير الوطني (مسؤوليات، تقسيم، رتب).</p> <p>- إنشاء قيادتين للعمليات العسكرية على الحدود الشرقية والغربية.</p> <p>- تقسيم البلاد إلى ولايات حربية.</p>
	3×0.25	<p>الخاتمة:</p> <p>استراتيجية الثورة بعد مؤتمر الصومام أفشلت كل المخططات الاستعمارية الفرنسية وأجبرتها على البحث عن مخرج مشرف.</p>
	0.50	
		<p>الجغرافيا:</p> <p>الجزء الأول:</p> <p>1 - شرح ما تحته خط:</p> <p>الشركات متعددة الجنسيات: شركات عملاقة ذات رؤوس أموال ضخمة وإمكانيات تكنولوجية هائلة، لها فروع في مختلف أنحاء العالم متعددة الوظائف والجنسيات، تسيطر على الأسواق العالمية ويتعدى نشاطها المجال الاقتصادي.</p>
	0.75	<p>الثالوث الاقتصادي: هو الاقطاب الاقتصادية المتحركة في الاقتصاد العالمي وتتمثل في الو.م.أ والاتحاد الأوروبي والقطب الآسيوي (دول شرق وجنوب شرق آسيا).</p>
	0.75	

العلامة		عناصر الإجابة (الموضوع الثاني)
مجموع	مجزأة	
06	0.75	<p>الدول المتخلفة: تسمية تطلق على الدول المستقلة حديثا من إفريقيا وآسيا وأمريكا اللاتينية والتي تعاني من التخلف الاقتصادي والتأخر الاجتماعي والثقافي وضعف التحكم في التكنولوجيا.</p> <p>2- أ- التمثيل البياني:</p> <p>نسب مساهمة القطاعات الاقتصادية في الدخل الوطني الخام</p>  <p>الزراعة 2%</p> <p>الصناعة 23%</p> <p>الخدمات 75%</p>
	0.50	<p>- تحويل النسب إلى درجات:</p> $\left\{ \begin{array}{l} 100\% \leftarrow 360^\circ \\ 1\% \leftarrow \text{س} \end{array} \right.$ <p>ومنه: $\text{س} = \frac{360 \times 1}{100} = 3,6$</p> <p>الزراعة: $7,2 = 3,6 \times 2$</p> <p>الصناعة: $82,8 = 3,6 \times 23$</p> <p>الخدمات: $270 = 3,6 \times 75$</p>
	0.75	- الإنجاز
	0.25	- العنوان
	0.25	- المفتاح
		2- ب- التعليق على الرسم:
		نلاحظ من خلال الرسم البياني الخاص بنسب مساهمة القطاعات الاقتصادية في الدخل الوطني الخام ما يلي:
	0.50	- التباين الكبير في نسب مساهمة القطاعات الثلاثة.
	0.50	- تسجيل القطاع الزراعي لأدنى مساهمة 02 %.
	0.50	- قوة مساهمة القطاع الخدماتي 75 %.
	0.50	- تواضع نسبة مساهمة القطاع الصناعي.

العلامة		عناصر الإجابة (الموضوع الثاني)
مجموع	مجزأة	
04	0.50	<p>الجزء الثاني:</p> <p>المقدمة: القمح بين القيمة الغذائية والأهمية الاستراتيجية في المبادلات التجارية العالمية .</p> <p>1 - أهمية القمح:</p> <ul style="list-style-type: none"> - الغذاء الأساسي لمعظم سكان العالم. - توفير مناصب الشغل. - ضخامة العائدات المالية للدول المصدرة له. - مادة أولية للصناعات الغذائية. - مادة استراتيجية وأداة ضغط (السلح الأخضر). - القابلية للتخزين لمدة أطول. <p>2 - أثر احتكار الدول المصدرة لهذه المادة على العالم المتخلف :</p> <ul style="list-style-type: none"> - تأثر الوضع السياسي والاجتماعي (الاضطرابات الاجتماعية - المجاعات - سوء التغذية) - التبعية الغذائية وتعاضم حجم الديون. - رهن الدول المستوردة لسيادتها و حرية قراراتها السياسية. <p>الخاتمة: الأمن الغذائي مرهون بحسن استغلال الإمكانيات المتاحة وتفعيل التعاون الدولي.</p> <p>ملاحظة: تقبل كل الإجابات الصحيحة الأخرى.</p>
	6×0.25	
	3×0.5	
	0.5	

خريطة مقرات المنظمات والمؤتمرات الدولية



المفتاح		
3	2	1
هيئة الأمم المتحدة	مؤتمر باندونغ	حلف وارسو

على المترشح أن يختار أحد الموضوعين التاليين:

الموضوع الأول

التاريخ:

الجزء الأول: (06 نقاط)

"... إن إدراك القوتين لما ينتج عن المواجهة المسلحة بينهما جعلهما يفكران في إيجاد صيف التقارب حتى لا يتحملاً مسؤولية ما ينجر عن ذلك. إقامة علاقات سلمية أصبحت أكثر من حتمية لأن إمكانية حدوث حرب نووية قد لا يمكن للطرفين استبعادها...".

المرجع: كتاب المنار في التاريخ السنة 3 ثانوي ص 36.

1. اشرح ما تحته خط في النص.

2. عزّف الشخصيات التالية:

- مصطفى بن بو لعيد - رونالد ريغن - ليونيد برجنيف.

3. أكمل جدول الأحداث:

التاريخ	الحدث
1954/03/23	
	تأسيس حلف بغداد
1954/05/07	

الجزء الثاني: (04 نقاط)

تمثّل هجومات الشمال القسنطيني 20 أوت 1955 نقطة التحول الأولى في الثورة التحريرية، وأول التحام حقيقي بين جيش التحرير الوطني والشعب.

المطلوب: انطلاقاً من الفقرة، واعتماداً على ما درست، اكتب مقالا تاريخيا تُبرز فيه:

1. ظروف هجومات الشمال القسنطيني.

2. أهداف هذه الهجومات.

الجغرافيا:

الجزء الأول: (06 نقاط)

"... سواء تم جمع المال على مستوى البنوك أو البورصات أو مؤسسات التأمين أو أنها تستثمر مباشرة من طرف الأفراد، فإنّ رؤوس الأموال تعرف استثمارا متزايدا ومستمرًا من خلال نشاطات موجودة أو مستحدثة، دون أن يكون هناك أي حاجز بالنسبة لتنقلها بل هناك ما يشجع ذلك من سياسة التبادل الحر التي تدعمها المجتمعات الرأسمالية عن طريق مؤسسات دولية مثل المنظمة العالمية للتجارة و صندوق النقد الدولي. لذا تشهد المعمورة سوقا عالمية مشتركة لاستهلاك المواد والخدمات التي تنتجها العناصر التي في حوزتها أرصدة مالية كبرى".

الكتاب المدرسي للسنة الثالثة ثانوي ص 28.

1. حدّد مفهوم المصطلحات التي تحتها خط في النصّ.

2. إليك جدولاً لإنتاج الدول العشر الكبرى للقمح في العالم.

الدول	الصين الشعبية	الهند	الوم أ	روسيا	فرنسا	استراليا	كندا	باكستان	ألمانيا	أكرانيا
الإنتاج	117.4	86.9	56.2	54.4	38	27.4	25.3	25.2	22.8	22.3

الوحدة: مليون طن

المصدر: المنظمة العالمية للتغذية والزراعة (FAO) 2011.

المطلوب:

1. مثّل إنتاج الدول العشر من القمح بأعمدة بيانية بمقياس: 1 سم ← 10 م طن

1 سم ← دولة

2. على خريطة العالم المرفقة عيّّن ثلاث دول مصدرة للقمح وثلاث دول مستوردة له من الجدول.

الجزء الثاني: (04 نقاط)

رغم النجاح الذي حققته دول الاتحاد الأوروبي في بناء تكتلها الاقتصادي إلا أنّ تجربتها اصطدمت بتحديات عديدة داخلية وخارجية.

المطلوب: انطلاقاً من الفقرة، واعتماداً على ما درست، اكتب مقالاً جغرافياً تبين فيه:

1. الإمكانيات الاقتصادية للاتحاد الأوروبي.

2. العوائق التي ما تزال تعرقل طموحاته.

الموضوع الثاني

التاريخ:

الجزء الأول: (06 نقاط)

"... فإذا كان هدف أي حركة ثورية في 'الواقع' هو خلق جميع الظروف الثورية للقيام بعملية تحريرية فإننا نعتبر الشعب الجزائري في أوضاعه الداخلية متحدًا حول قضية الاستقلال، أما في الأوضاع الخارجية فإنّ الانفراج الدولي مناسب لتسوية بعض المشاكل الثانوية التي من بينها قضيتنا التي تجد سندها الدبلوماسي وخاصة من طرف إخواننا العرب والمسلمين ...".

من بيان الفاتح نوفمبر 1954.

1. اشرح ما تحته خط في النص.

2. عرّف الشخصيات التالية:

- هواري بومدين - جواهرلال نهرو - جورج مارشال.

3. أكمل جدول الأحداث:

التاريخ	الحدث
	أحداث ساقية سيدي يوسف
1947/09/22	
	مشروع إيزنهاور

الجزء الثاني: (04 نقاط)

"صرّح الرئيس الأمريكي نيكسون في 20 ماي 1972 بأنه ذاهب إلى موسكو من أجل إقامة علاقات أفضل وفرص أحسن للسلام بين الدولتين وفي صيف 1973 قام برجنيف بزيارة للولايات المتحدة الأمريكية".

المطلوب: انطلاقًا من الفقرة، واعتمادًا على ما درست، اكتب مقالًا تاريخيًا تبين فيه:

1. مظاهر التقارب بين الشرق والغرب.

2. موقف العالم الثالث من هذا التطور في العلاقات.

الجغرافيا:

الجزء الأول: (06 نقاط)

"شكلت الدول النامية خلال الستينيات وحدة حقيقية تعاني نمو ديمغرافيا كبيرا غير قادرة على ضمان أمنها الغذائي وتعاني تأخرا في الهياكل والمنشآت (الصحة والتعليم) وأنظمة إنتاجية غير متنوعة وجلّ الصادرات مواد أولية. لقد كانت السبعينات والثمانينات مسرحا لتغيرات وإعادة تشكل عميقة ... والخلاصة أنه خلال ثلاث عشرات انتقلنا من جنوب موحد إلى جنوب متفرق ومتنوع".

الفضاء العالمي ناتان ص 278 بتصرف.

1. حدّد مفهوم المصطلحات التي تحتها خط في النصّ.
2. إليك الجدول التالي الذي يمثل تطور أسعار البترول الخام ما بين 1990-2012 .

السنة	1990	1995	2000	2005	2010	2012
السعر	23.73	17.02	28.50	54.52	79.50	111.67

الوحدة: دولار.

المصدر: إحصائيات مجلة أويك 2013.

المطلوب:

1. مثل أرقام الجدول بواسطة منحنى بياني بمقياس: 1 سم ← 10 دولار
1 سم ← 2 سنة
2. على خريطة العالم المرفقة عين ثلاث دول مصدرة للبترول وثلاث دول مستوردة له.

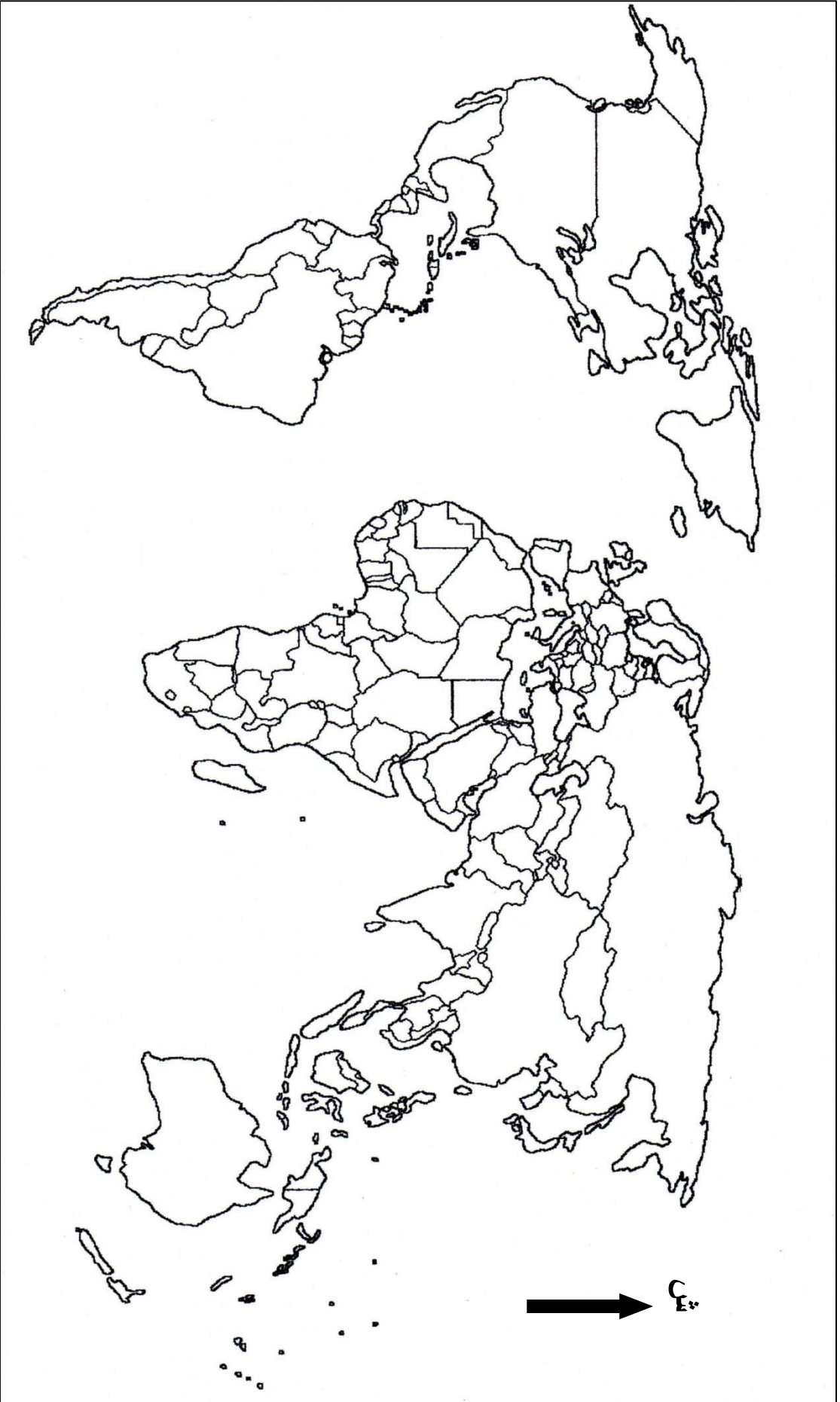
الجزء الثاني: (04 نقاط)

أصبحت الولايات المتحدة الأمريكية بعد نهاية الحرب العالمية الثانية أكبر قوة اقتصادية في العالم، مستغلة في ذلك إمكانياتها الطبيعية وقاعدتها الاقتصادية المتنوعة.

المطلوب: انطلاقا من الفقرة، واعتمادا على ما درست، اكتب مقالا جغرافيا تبين فيه:

1. مظاهر القوة الاقتصادية للولايات المتحدة الأمريكية.
2. الصعوبات الاقتصادية التي تواجه الولايات المتحدة الأمريكية.

خريطة العالم



ينجز العمل المطلوب على الخريطة وتعاد مع أوراق الإجابة

العلامة		عناصر الإجابة	(الموضوع الأول)								
مجموع	مجزأة										
06	0.75	<u>التاريخ:</u> <u>الجزء الأول: (06 نقاط)</u> 1- تعريف المصطلحات التي تحتها خط: - القوتين: الدولتان الكبيرتان (الو.م.أ. والاتحاد السوفييتي) اللتان كانت كل واحدة منهما تقود معسكرا يضم مجموعة من الدول في أوروبا والعالم. - صيغ التقارب: سياسة الوفاق بين المعسكرين التي ظهرت منذ سنة 1956 في إطار التعايش السلمي. - حرب نووية: الحرب التي تستخدم فيها الأسلحة الذرية والنووية التي تمتلكها الدول الكبرى. 2 - تعريف الشخصيات: - مصطفى بن بو لعبد: (1917 . 1956) مناضل جزائري بدأ نشاطه في حزب الشعب، من مؤسسي المنظمة الخاصة ، عضو لجنة 22 ، قائد الولاية الأولى، استشهد إثر انفجار مذياع مفخخ سنة 1956. - رونالد ريغن: (1911-2004) رئيس الو.م.أ بين 1981-1989م عرف بالتشدد في علاقاته مع الاتحاد السوفييتي صاحب مشروع حرب النجوم أو عسكرة الفضاء وهو أحد رموز الحرب الباردة والمهندسين لانهايار المعسكر الشيوعي بالضغط والتهديد. - ليونيد برجنيف: (1906 . 1982) رجل دولة سوفييتي اشتهر بالمبدأ الذي عرف باسمه ، كان وراء العديد من التدخلات العسكرية مثل غزو أفغانستان 1979، أبرم معاهدتي سالت 1 وسالت 2. 3. جدول الأحداث:									
		<table><tr><th>التاريخ</th><th>الحدث</th></tr><tr><td>1954/03/23</td><td>تأسيس اللجنة الثورية للوحدة و العمل</td></tr><tr><td>1955/02/24</td><td>تأسيس حلف بغداد</td></tr><tr><td>1954/05/07</td><td>معركة ديان بيان فو بالفيتنام</td></tr></table>		التاريخ	الحدث	1954/03/23	تأسيس اللجنة الثورية للوحدة و العمل	1955/02/24	تأسيس حلف بغداد	1954/05/07	معركة ديان بيان فو بالفيتنام
		التاريخ	الحدث								
		1954/03/23	تأسيس اللجنة الثورية للوحدة و العمل								
		1955/02/24	تأسيس حلف بغداد								
		1954/05/07	معركة ديان بيان فو بالفيتنام								

04	0.50	<p>الجزء الثاني: (04 نقاط)</p> <p>المقدمة: بعد الفزع والرعب الذي أصاب السلطة الاستعمارية والمستوطنين من خلال عمليات الفاتح نوفمبر 1954م، كثف الاستعمار عملياته على منطقة الأوراس فما هو رد فعل الثورة عن ذلك؟</p> <p>العرض:</p> <p>1. ظروف هجومات الشمال القسنطيني:</p> <p>0.25 . استشهاد بعض القادة مثل ديدوش مراد 1955/01/18 واعتقال مصطفى بن بو لعيد و رابح بيطاط 1955.</p> <p>0.25 . سقوط حكومة مانديس فرانس في فبراير 1955 وتولي إدغار فور .</p> <p>0.25 . الحصار المفروض من طرف الاستعمار على منطقة الأوراس .</p> <p>0.25 . سعي الحاكم العام الفرنسي جاك سوستال لطرح مشروعه الإغرائي 1955.</p> <p>0.25 . إعلان حالة الطوارئ في الجزائر 03 أبريل 1955.</p> <p>0.25 . استعداد هيئة الأمم المتحدة لعقد دورتها العاشرة في شهر سبتمبر 1955 و إسماع صوت الثورة الجزائرية.</p> <p>2. أهداف هذه الهجومات:</p> <p>0.25 . فك الحصار المضروب على منطقة الأوراس .</p> <p>0.25 . الحصول على السلاح و الرد على مجازر العدو .</p> <p>0.25 . تحدي الاستعمار وتفنيد ادعاءاته حول الثورة بتنظيم الهجومات في وضوح النهار .</p> <p>0.25 . معرفة الموقف الحقيقي لجماهير الشعب من الثورة .</p> <p>0.25 . التضامن مع المغرب في الذكرى الثانية لنفي السلطان محمد الخامس .</p> <p>0.25 . إسماع صوت الثورة الجزائرية للعالم و تدويلها كقضية تصفية استعمار (انعقاد الدورة العاشرة للجمعية العامة 1955/09/30).</p> <p>الخاتمة:</p> <p>0.50 رغم شراسة الاستعمار الفرنسي و محاولته خنق الثورة إلا أنها تمكنت من تحقيق التلاحم الشعبي حولها، و إعطاء القضية الجزائرية بعدا إقليميا و دوليا بعد أحداث 20 أوت 1955.</p>
----	------	--

الإجابة النموذجية لموضوع امتحان البكالوريا دورة: 2015

اختبار مادة: التاريخ و الجغرافيا الشعبة: علوم تجريبية ، رياضيات ، تقني رياضي المدة: 03 سا و 30 د.

		<p>الجغرافيا: الجزء الأول: (06 نقاط)</p> <p>1 - تعريف المصطلحات التي تحتها خط:</p> <p>0.75 - <u>البورصات</u>: أسواق مالية منظمة تخضع لقوانين السوق يتم فيها تداول العملات والسندات والأسهم وتحديد أسعار المواد الأولية المختلفة.</p> <p>0.75 - <u>رؤوس الأموال</u>: (رساميل) هي الموارد المالية المختلفة التي يمكن استخدامها في مجالات التنمية و الاستثمار.</p> <p>0.75 - <u>صندوق النقد الدولي</u>: مؤسسة مالية دولية تأسست في 1945 مقرها واشنطن تعمل على تسيير النظام النقدي الدولي منذ الحرب العالمية الثانية.</p> <p>1.50 التمثيل بالأعمدة البيانية: - الإنجاز: (الدول العشر المنتجة للقمح)</p> <p>0.25 - المقياس: 1 سم ← 10 م طن ، 1 سم ← دولة</p> <p>0.50 - المفتاح العنوان:</p> <p>التعيين على الخريطة:</p> <p>0.75 03 دول مصدرة مثل: الو.م.أ ، فرنسا ، كندا.</p> <p>0.75 03 دول مستوردة مثل: الصين الشعبية ، الهند ، باكستان .</p>
06		<p>الجزء الثاني: (04 نقاط)</p> <p>0.50 المقدمة: كانت دول القارة الأوروبية أكثر تأثرا بخسائر الحرب العالمية الثانية مما دفعها إلى التكتل والاندماج لاستعادة المكانة الضائعة ، فما هي الإمكانيات الاقتصادية لتحقيق ذلك؟ وما هي العوائق التي مانزال تواجهها؟</p> <p>العرض:</p> <p>0.50 1 . الإمكانيات الاقتصادية للاتحاد الأوربي:</p> <p>0.50 . وفرة رؤوس الأموال و قوتها الاستثمارية.</p> <p>0.50 . ضخامة الإنتاج الزراعي و الصناعي و تنوعه.</p> <p>0.50 . التحكم في التكنولوجيا و البحث العلمي.</p> <p>0.50 . سوق تجارية مثالية للتكامل و الاندماج.</p> <p>0.25 2 . العوائق التي ما تزال تعرقل طموحاته:</p> <p>0.25 . الافتقار إلى المواد الأولية (الطاقة و المعادن).</p> <p>0.25 . عدم انضمام كل دول الاتحاد إلى منطقة اليورو و الأزمات المالية و تأثيراتها (اليونان).</p> <p>0.25 . تفاوت درجة التطور بين دول الاتحاد (أوروبا الشرقية و الغربية).</p> <p>0.50 . عدم احترام مبدأ الأفضلية من بعض دول الاتحاد و اشتداد المنافسة الخارجية.</p> <p>الخاتمة: رغم العراقيل التي تواجه الاتحاد الأوربي إلا أنه يحتل مركز ريادة اقتصادية على الصعيد العالمي.</p>

الإجابة النموذجية لموضوع امتحان البكالوريا دورة: 2015

اختبار مادة: التاريخ و الجغرافيا الشعبة: علوم تجريبية ، رياضيات ، تقني رياضي المدة: 03 سا و 30 د.

العلامة		عناصر الإجابة	(الموضوع الثاني)								
مجموع	مجزأة										
06		<u>التاريخ:</u> <u>الجزء الأول: (06 نقاط)</u> 1 - تعريف المصطلحات التي تحتها خط: <u>حركة ثورية:</u> حركة وطنية تحريرية تتخذ من الكفاح المسلح أسلوبا لها لتغيير الأوضاع القائمة تهدف إلى الاستقلال الوطني كهدف من أهداف الثورة الجزائرية. <u>الانفراج الدولي:</u> سياسة التقارب التي ظهرت في أفق العلاقات بين الشرق والغرب بعد ستالين وبداية حل الأزمات كما حدث في مؤتمر جنيف 1954 الخاص بالهند الصينية. <u>سندها الدبلوماسي:</u> الدعم السياسي الذي لقيته القضية الجزائرية اقليميا و دوليا (المحافل الدولية). 2 - تعريف الشخصيات: - <u>هوارى بومدين:</u> (1932-1978) زعيم ثوري وسياسي جزائري شارك في الثورة التحريرية تولى قيادة أركان جيش التحرير الوطني سنة 1961م عين نائبا للرئيس بن بلة من 1963 - 1965 قاد حركة 19/06/1965م ورئيس مجلس الثورة ثم رئيس الجزائر 1965-1978م عرف بإنجازاته الداخلية الضخمة وبمواقفه التحريرية الخارجية ترأس عدم الانحياز 1973-1976م طالب بإعادة النظر في أسعار المواد الأولية. - <u>جواهرلال نهرو:</u> (1889-1964) زعيم سياسي هندي رفيق غاندي وأول رئيس وزراء للهند بعد الاستقلال 1947-1964م وأحد أقطاب حركة عدم الانحياز الثلاثة. - <u>جورج مارشال:</u> جنرال أمريكي رئيس أركان الجيش الأمريكي أثناء الحرب العالمية الثانية ، وزير خارجية أمريكا من 1947-1949 صاحب المشروع الذي يحمل اسمه. 3 . جدول الأحداث:									
	0.75										
	0.75										
	0.75										
	0.75										
	0.75										
	0.75										
	0.75										
	0.75										
	0.75										
	0.50		<table><tr><th>التاريخ</th><th>الحدث</th></tr><tr><td>1958/02/08</td><td>أحداث ساقية سيدي يوسف</td></tr><tr><td>1947/09/22</td><td>مبدأ جدانوف</td></tr><tr><td>1957/01/05</td><td>مشروع إيزنهاور</td></tr></table>	التاريخ	الحدث	1958/02/08	أحداث ساقية سيدي يوسف	1947/09/22	مبدأ جدانوف	1957/01/05	مشروع إيزنهاور
	التاريخ	الحدث									
	1958/02/08	أحداث ساقية سيدي يوسف									
1947/09/22	مبدأ جدانوف										
1957/01/05	مشروع إيزنهاور										
0.50											
0.50											

الإجابة النموذجية لموضوع امتحان البكالوريا دورة: 2015

اختبار مادة: التاريخ و الجغرافيا الشعبة: علوم تجريبية ، رياضيات ، تقني رياضي المدة: 03 سا و 30 د.

		الجزء الثاني: (04 نقاط)
0.50		المقدمة: تميزت فترة السبعينيات من القرن الماضي بتبادل الزيارات بين قادة المعسكرين لتجسيد سياسة الانفراج الدولي.
		العرض:
		1. مظاهر التقارب بين الشرق و الغرب:
0.25		. التقارب الصيني الأمريكي بعد زيارة الرئيس الأمريكي ريتشارد نيكسون إلى بكين 1972 و حصول الصين الشعبية على مقعد دائم في مجلس الأمن.
0.25		. تبادل الزيارات بين الرئيسين الأمريكي نيكسون والسوفييتي بريجنيف سنتي 1972 و 1973م.
0.25		. توقيع اتفاقيات الحد من الأسلحة الإستراتيجية الهجومية في موسكو سالت 1 سنة 1972 وسالت 2 سنة 1979.
0.25	04	. التبادل التجاري والتعاون العلمي (تصدير القمح الأمريكي إلى الاتحاد السوفييتي وتصدير الغاز السوفييتي إلى غرب أوروبا).
0.25		. توقيع وثيقة هلسنكي حول الأمن و التعاون في أوروبا 1975.
0.25		. التعاون العلمي في مجال غزو الفضاء (أبولو الأمريكية و سيوز السوفياتية).
		2. موقف العالم الثالث من هذا التطور في العلاقات:
0.50		. الترحيب بالتقارب بين المعسكرين.
0.50		. الدعوة إلى حل المشاكل الدولية بالطرق السلمية و رفض التدخل في الشؤون الداخلية للدول.
0.50		. المطالبة بتصفية الاستعمار و حق الشعوب في تقرير المصير و محاربة الميز العنصري و الصهيونية.
0.50		الخاتمة: استنتاج حول انعكاسات سياسة التقارب بين الشرق و الغرب على العالم.
		الجغرافيا:
		الجزء الأول: (06 نقاط)
		1 - تعريف المصطلحات التي تحتها خط:
0.75		الدول النامية: دول العالم الثالث التي خضعت للاستعمار المباشر و غير المباشر و استقلت حديثا تسعى لاستغلال إمكانياتها للخروج من دائرة التخلف.
0.75		أمنها الغذائي: أي قدرتها على تأمين المواد الغذائية اللازمة لسكانها و بالقدر الكافي اعتمادا على إمكانياتها الذاتية دون اللجوء إلى الاستيراد.
0.75		مواد أولية: مختلف الموارد الطبيعية الباطنية و السطحية مثل الطاقة والمعادن والغابات.

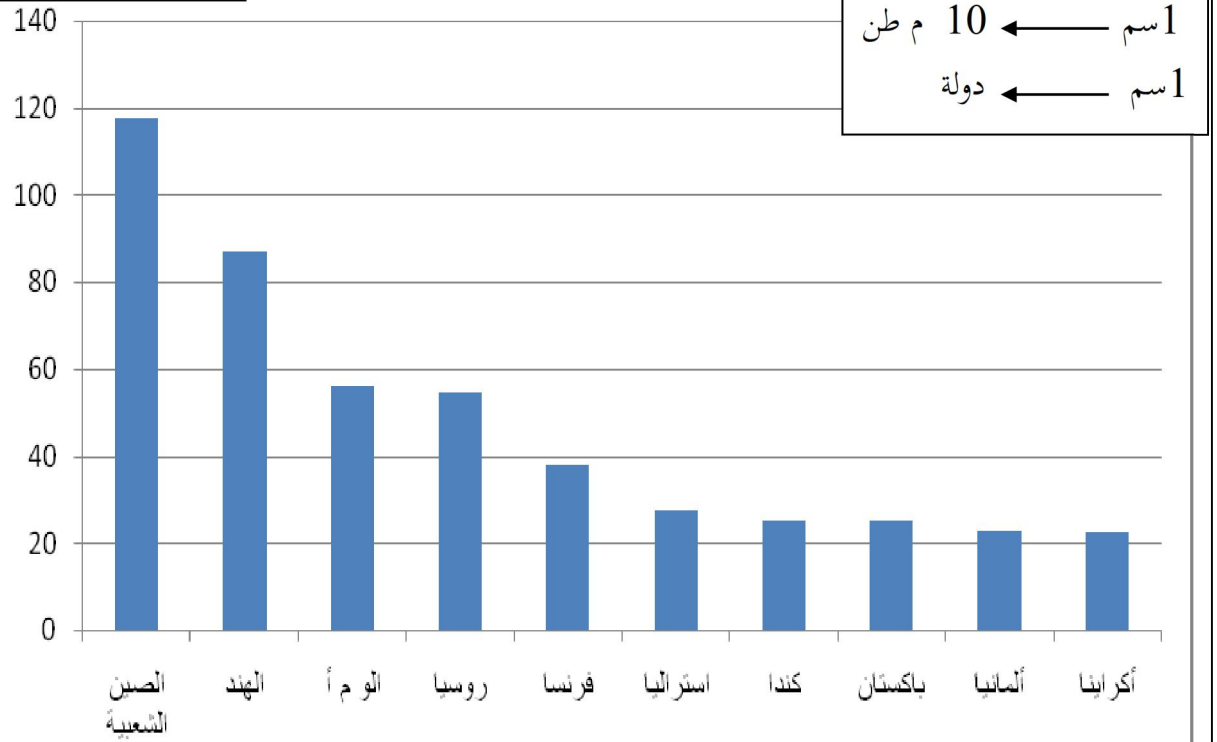
الإجابة النموذجية لموضوع امتحان البكالوريا دورة: 2015

اختبار مادة: التاريخ و الجغرافيا الشعبة: علوم تجريبية ، رياضيات ، تقني رياضي المدة: 03 سا و 30 د.

06	التمثيل بمنحنى بياني: منحني بياني لتطور أسعار البترول 1990 . 2012.	
	1.50	. الإنجاز
	0.50	. العنوان
	0.25	. المقياس
	<u>التعيين على الخريطة:</u>	
	0.75	. 3 دول مصدرة للبترول: السعودية . فنزويلا . الجزائر .
	0.75	. 3 دول مستوردة له: الو.م.أ . اليابان . فرنسا .
	<u>الجزء الثاني: (04 نقاط)</u>	
	0.50	المقدمة: الو.م.أ. رابع قوة مساحية في العالم ، وثالث قوة بشرية بعد الصين والهند ، وهي أول قوة اقتصادية في العالم بدون منازع ، فما هي مظاهر هذه القوة الاقتصادية الأمريكية؟ و ما الصعوبات التي تواجهها؟
	<u>العرض:</u>	
04	1 . مظاهر القوة الاقتصادية للولايات المتحدة الأمريكية:	
	0.25	. قوة فلاحية كبرى في العالم (ثاني قوة فلاحية بعد الصين).
	0.25	. أكبر قوة صناعية في العالم (ضخامة الإنتاج الصناعي و تنوعه).
	0.25	. قوة تجارية كبرى في العالم ، تساهم بـ 15% من التجارة العالمية.
	0.25	. قاعدة للتطور العلمي والبحث التكنولوجي ووفرة البنيات التحتية (مطارات، طرق، سكة حديدية).
	0.25	. هيمنة الدولار على المبادلات التجارية العالمية (50% من المبادلات تتم بالدولار).
	0.25	. تحكمها في المؤسسات المالية الكبرى (وول ستريت).
	0.25	2. الصعوبات الاقتصادية التي تواجه الولايات المتحدة الأمريكية:
	0.25	. الحاجة إلى المواد الأولية و في مقدمتها الطاقة المحركة رغم ضخامة و تنوع مواردها.
	0.25	. المنافسة العالمية خاصة من طرف اليابان و الاتحاد الأوروبي و الصين الشعبية.
	0.25	. عجز الميزان التجاري الأمريكي المزمّن (500 مليار دولار سنويا).
	0.25	. تزايد الديون الخارجية حيث تعتبر الو.م.أ أكبر بلد مدين في العالم.
	0.25	. الأزمات الاقتصادية و المالية الدورية (أزمة 2008).
	0.25	. تزايد التلوث البيئي بسبب كثرة النفايات الصناعية.
	0.50	الخاتمة: يبقى الاقتصاد الأمريكي أقوى اقتصاد مهيم على العالم رغم تعدد مشاكله و أزماته.
	ملاحظة: تقبل مختلف الإجابات الصحيحة الأخرى في الموضوعين الأول والثاني مع احترام سلم التقييط الوطني.	

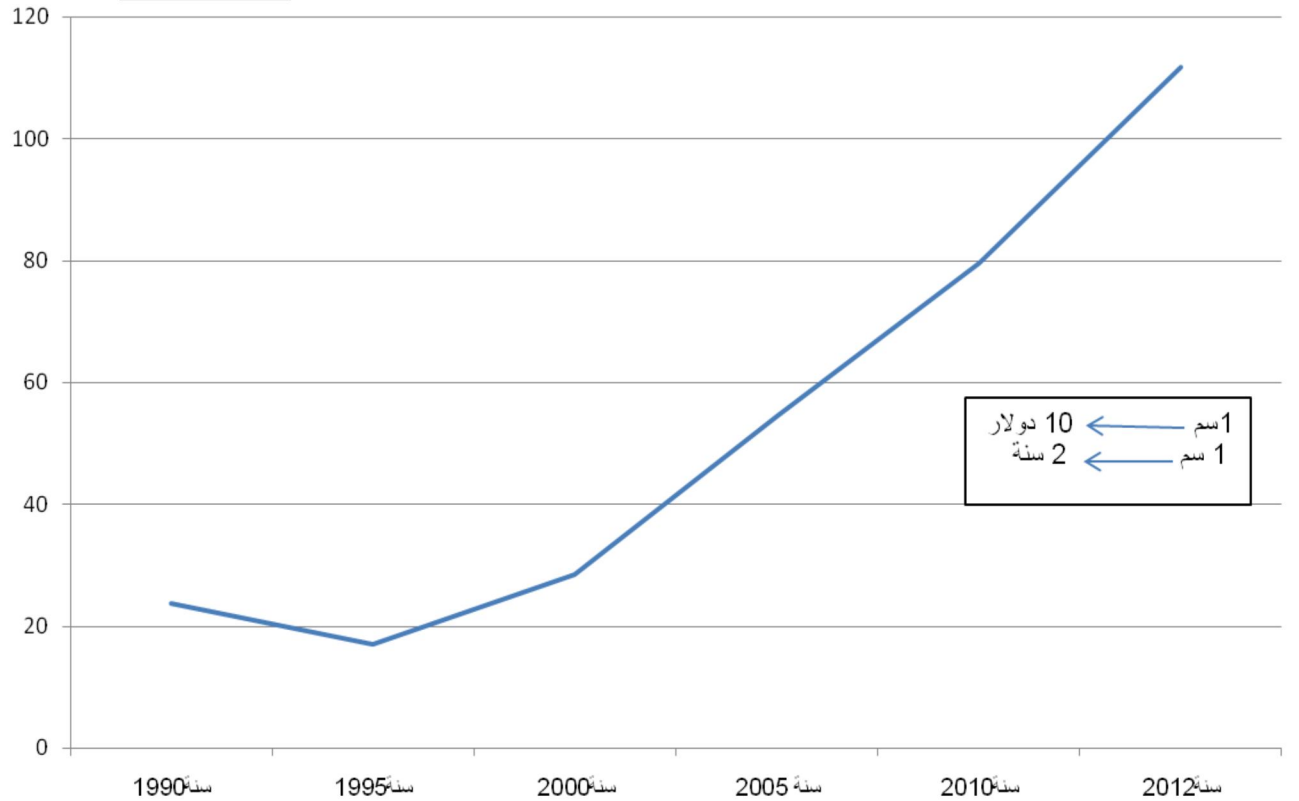
الدول العشر الكبرى المنتجة للقمح 2011

الوحدة: مليون طن

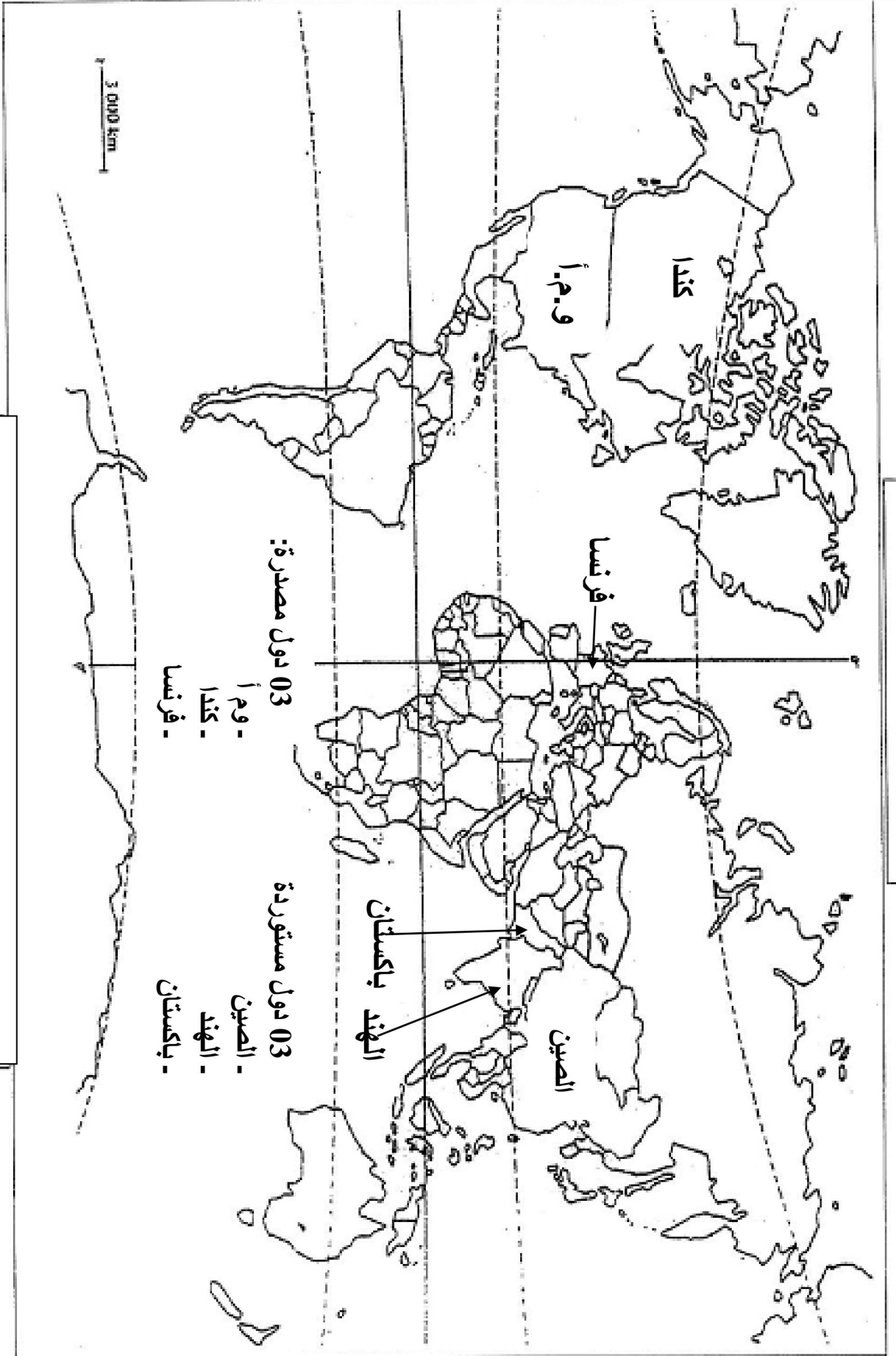


تطور أسعار البترول الخام 1990 - 2012

الوحدة : دولار

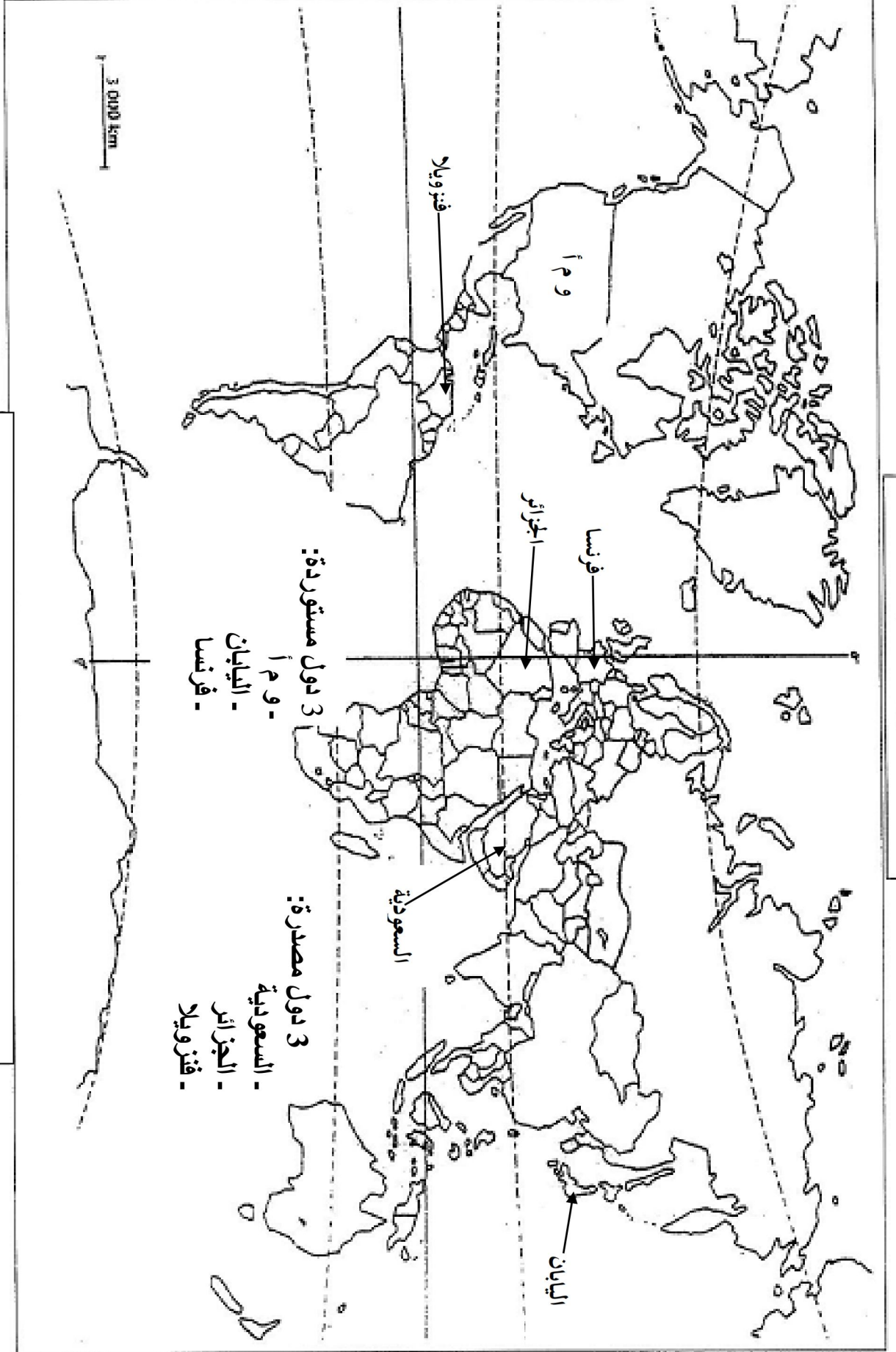


خريطة العالم



03 دول مصدرة و 03 دول مستوردة للقطن 2011

خريطة العالم



3 دول مصدرة و 3 دول مستوردة للبترول

على المترشح أن يختار أحد الموضوعين التاليين:

الموضوع الأول

التاريخ:

الجزء الأول: (06 نقاط)

«...وقد تمثل الهدف الرئيسي لحلف وارسو في مواجهة سياسة الاحتواء التي اتبعتها الغرب... وقد مثلت الأيدولوجية الماركسية الرباط الذي نجح السوفييت من خلاله في فرض سيطرتهم على دول أوروبا الشرقية...».

المرجع: التاريخ الدبلوماسي-العلاقات السياسية بين القوى الكبرى 1815-1991 د.ممدوح منصور. ص268.

1- اشرح ما تحته خط في النص.

2- عرّف بالشخصيات التالية: - هاري ترومان - ميخائيل غورباتشوف - العربي بن مهيدي.

3- أكمل الجدول التالي:

التاريخ	الحدث
09 نوفمبر 1989
.....	تأسيس الحكومة المؤقتة للجمهورية الجزائرية
17 أكتوبر 1961
.....	مشروع مارشال

الجزء الثاني: (04 نقاط)

انعقد مؤتمر الصومام في 20 أوت 1956 بعد أن حققت الثورة الجزائرية انتصارات عسكرية وسياسية وواجهت تحديات مصيرية.

المطلوب: انطلاقا من الفقرة واعتمادا على ما درست، اكتب مقالا تاريخيا تبين فيه:

1- دوافع انعقاد مؤتمر الصومام.

2- أهم القرارات التي خرج بها المؤتمر.

الجغرافيا:

الجزء الأول: (06 نقاط)

«...السكان هم الذين يبنون القوة الاقتصادية للبلاد، سواء توفرت أم لم تتوفر الثروات الطبيعية، فالاقتصاد البلد يرتبط أساسا بتقنيات الإنتاج ورأس المال وفعالية نظام التوازن الاجتماعي لتحقيق التنمية...».

المرجع: الكتاب المدرسي. ص 45 بتصرف.

1- اشرح ما تحته خط في النص.

2- إليك جدولا يمثل نسب صادرات وواردات الاتحاد الأوروبي من مختلف المواد لسنة 2009:

المواد	الصادرات %	الواردات %
مواد غذائية	5.7	6.2
مواد أولية	2.5	3.9
طاقة	5.3	24.2
مواد كيميائية	17.9	9.4
آلات ووسائل النقل	41.5	28.5
مواد أخرى	27.1	27.8

Source Eurostat 2009

أ- مثل نسب الجدول بدائرتين نسبيتين. مقياس الرسم: نق = 04 سم.

ب- علق على الرسم.

الجزء الثاني: (04 نقاط)

تعتبر منطقة شرق وجنوب شرق آسيا فضاء وقوة ديموغرافية واقتصادية كبيرة، تمّ فيها تنظيم شبكات كبرى للمبادلات التجارية على المستوى العالمي.

المطلوب: انطلاقا من الفقرة واعتمادا على ما درست، اكتب مقالا جغرافيا تبين فيه:

1- العوامل الطبيعية التي ساهمت في تطور اقتصاد المنطقة.

2- مكانة المنطقة في الاقتصاد العالمي.

الموضوع الثاني

التاريخ:

الجزء الأول: (06 نقاط)

«... ففي سنة 1956 نادى غي مولي بثالوثه المشهور: وقف القتال ثم الانتخابات ثم المفاوضات ...»
وفي سنة 1958 ابتدع الجنرال ديغول سلم الشجعان، وفي سنة 1959 كان اعترافه بمبدأ تقرير المصير... إذ اقترح أيضا وقف القتال ثم فكرة المهادنة ثم الاستفتاء...».
المرجع: د/عبد الله شريط: الثورة الجزائرية في الصحافة الدولية 1960، منشورات وزارة المجاهدين - ص 40، 41.

1- اشرح ما تحته خط في النص.

2- عرّف بالشخصيات التالية: - ادوايت إيزنهاور - أندري جدانوف - بن يوسف بن خدة.

3- اربط الحدث بتاريخه:

الحدث	التاريخ
تأسيس حلف شمال الأطلسي	14 ماي 1955
سلم الشجعان	05 إلى 09 سبتمبر 1973
تأسيس حلف وارسو	04 أفريل 1949
المؤتمر الرابع لحركة عدم الانحياز بالجزائر	23 أكتوبر 1958

الجزء الثاني: (04 نقاط)

عرف المعسكر الشيوعي في نهاية الثمانينات وبداية التسعينات تغيرات جذرية وهزّأت عميقة مسّت مختلف الميادين، نتج عنها زوال الاتحاد السوفياتي وتفكّك الكتلة الشرقية وبرز نظام دولي جديد أحادي القطب بقيادة الولايات المتحدة الأمريكية.

المطلوب: انطلاقا من الفقرة واعتمادا على ما درست، اكتب مقالا تاريخيا تبين فيه:

1- مظاهر انهيار المعسكر الشيوعي.

2- الأهداف الخفية للنظام الدولي الجديد.

الجغرافيا:

الجزء الأول: (06 نقاط)

«...إنّ الإمضاء على اتفاق الشراكة مع الاتحاد الأوروبي وانضمام الجزائر لمنظمة التجارة العالمية سيؤدي حتما إلى انفتاح كبير لحدودنا الاقتصادية، مما يفرض علينا تأهيل أداتنا الإنتاجية لتحضير مؤسساتنا لمواجهة المنافسة وحيازة مواقع في الأسواق العالمية وتشجيع الاستثمار وتوسيع رقعته في البلاد...».

المرجع: الكتاب المدرسي ص 169.

1- اشرح ما تحته خط في النص.

2- إليك جدولا يوضح الدول العشرة الأوائل في الإنتاج اليومي للبترول في العالم لسنة 2010:

الدول	السعودية	روسيا	و م أ	إيران	الصين	كندا	المكسيك	الإمارات	الكويت	فنزويلا
كمية الإنتاج	10.78	09.81	08.51	04.17	03.79	03.35	03.18	03.04	02.74	02.64

المصدر: موسوعة شبكة المعرفة الريفية 2010.

الوحدة: مليون برميل

أ- مثل معطيات الجدول بواسطة أعمدة بيانية بمقياس رسم:

01 سم ← عمود
01 سم ← 02 مليون برميل

ب- علّق على الرسم.

الجزء الثاني: (04 نقاط)

تقف في وجه تنمية العالم المتخلف معوقات طبيعية واقتصادية، أفشلت استراتيجياته التنموية

رغم جهوده المبذولة للخروج من دائرة التخلف.

المطلوب: انطلاقا من الفقرة واعتمادا على ما درست، اكتب مقالا جغرافيا تبين فيه:

1- المعوقات الطبيعية والاقتصادية للتنمية.

2- الحلول الممكنة للخروج من دائرة التخلف.

الإجابة النموذجية

العلامة		عناصر الإجابة
مجموع	مجزأة	
06		الموضوع الأول
		التاريخ:
		الجزء الأول: 06 ن
		1- شرح المصطلحات:
	0.75	- حلف وارسو: تكتل عسكري شرقي تأسس في 14 ماي 1955 مقره وارسو، يهدف إلى مواجهة الأحلاف الغربية، والدفاع المشترك ضد أي هجوم عسكري محتمل على الدول الأعضاء.
	0.75	سياسة الاحتواء: تقوم هذه السياسة على فكرة إنشاء سلسلة من الأحلاف والقواعد العسكرية، بهدف تطويق الاتحاد السوفياتي ومنع انتشار أيديولوجيته إلى الدول المجاورة و سائر مناطق العالم.
06	0.5	الأيديولوجية: مذهب فكري وعقائدي وسياسي، كانت سبب الصراع بين الشرق الشيوعي والغرب الرأسمالي، أساسها التعارض بين فكرتين ويستعان في نشرها على الإكراه والترغيب.
		2- التعريف بالشخصيات:
	0.5	هاري ترومان: رئيس للو.م.أ (1945 - 1953)، نقل العالم من الحرب الساخنة إلى الباردة، صاحب مبدأ عرف باسمه، شجع الهجرة اليهودية إلى فلسطين وأول من اعترف بقيام دولة إسرائيل.
	0.75	ميخائيل غورباتشوف: رئيس الاتحاد السوفياتي (1985-1991). اشتهر بإصلاحاته (البريستورويكا والglasnost). يعتبر عند الغرب الصانع الحقيقي لسياسة الوفاق الدولي. وقّع العديد من الاتفاقيات التي أدت إلى إنهاء الحرب الباردة .
	0.75	العربي بن مهيدي: مجاهد وشهيد جزائري ناضل في حزب الشعب وحركة الانتصار، عضو المنظمة الخاصة واللجنة الثورية للوحدة والعمل ومجموعة 22، ولجنة 06 أحد مفجري الثورة، قائد الولاية الخامسة، أُنْتُشِهد بالسجن تحت التعذيب يوم 03 مارس 1957.

تابع الإجابة النموذجية وسلم التقييط اختبار مادة: التاريخ والجغرافيا الشعبة: ع ت، تقى ريا، ريا بكالوريا دورة: 2014

العلامة		عناصر الإجابة										
مجموع	مجزأة											
		3-إكمال الجدول:										
		<table><tr><th>التاريخ</th><th>الحدث</th></tr><tr><td>09 نوفمبر 1989</td><td>تحطيم جدار برلين</td></tr><tr><td>19 سبتمبر 1958</td><td>تأسيس الحكومة المؤقتة للجمهورية الجزائرية</td></tr><tr><td>17 أكتوبر 1961</td><td>مظاهرات العمال الجزائريين المهاجرين بفرنسا</td></tr><tr><td>05 جوان 1947</td><td>مشروع مارشال</td></tr></table>	التاريخ	الحدث	09 نوفمبر 1989	تحطيم جدار برلين	19 سبتمبر 1958	تأسيس الحكومة المؤقتة للجمهورية الجزائرية	17 أكتوبر 1961	مظاهرات العمال الجزائريين المهاجرين بفرنسا	05 جوان 1947	مشروع مارشال
	التاريخ	الحدث										
	09 نوفمبر 1989	تحطيم جدار برلين										
	19 سبتمبر 1958	تأسيس الحكومة المؤقتة للجمهورية الجزائرية										
17 أكتوبر 1961	مظاهرات العمال الجزائريين المهاجرين بفرنسا											
05 جوان 1947	مشروع مارشال											
	0.50											
	0.50											
	0.50											
	0.50											
	0.50											
04	0.5	الجزء الثاني: 04 ن المقدمة: مؤتمر الصومام بين نجاحات الثورة العسكرية والسياسية وضرورة التنظيم. العرض: 1- دوافع انعقاد مؤتمر الصومام: - تقييم المرحلة السابقة للثورة . - الحاجة إلى التنظيم والتخطيط المستقبلي للثورة . - تأكيد وضمان استمرارية الثورة حتى النصر. - بناء وتأسيس الهياكل والمؤسسات المنظمة للعمل الثوري. - إقناع المترددين بالالتحاق بصفوف الثورة. - إعطاء الصدى الخارجي للثورة. 2- أهم القرارات التي خرج بها المؤتمر: - تأسيس المجلس الوطني للثورة (34 عضو). - إنشاء لجنة التنسيق والتنفيذ. - تقسيم الجزائر إلى 06 ولايات حربية . - إقرار مبدأ القيادة الجماعية للثورة. - أولوية الداخل على الخارج والسياسي على العسكري. - تدويل القضية الجزائرية. الخاتمة: نجاح مؤتمر الصومام انتصار للثورة، وبداية تحقيق أهدافها. ملاحظة: تقبل الإجابات الصحيحة الأخرى.										
	0.25 6×											
	0.25 6×											
	0.5											
	0.5											

العلامة		عناصر الإجابة
مجموع	مجزأة	
06		الجغرافيا:
		الجزء الأول: (06 ن)
		1-شرح المصطلحات:
	0.75	- الثروات الطبيعية: هي جميع الثروات السطحية والباطنية مثل المعادن والبتترول والتربة والغابات التي تنمو وتتشكل بتأثير العوامل الطبيعية وبشكل تلقائي دون تدخل الإنسان فيها ويمكن أن تتحول إلى ثروة فعلية بأي صورة من الصور إما على هيئة سلع أو خدمات أو غيرها.
	0.75	- رأس المال: هي الموارد المختلفة التي يمكن استخدامها في العملية الإنتاجية لغرض تحسين إنتاجية العمل وتحقيق الربح.
	0.50	- التنمية: هي قدرة المجتمع الإنتاجية لتحقيق وتحسين مستوى معيشة أفراده بالاستغلال الأمثل للإمكانات الطبيعية والمادية والبشرية.
	01.00	2-الرسم البياني:
	0.25	-الاجاز: الدائرة النسبية للصادرات:
	0.25	-العنوان
	01.00	-المقياس
	0.25	-الاجاز: الدائرة النسبية للواردات:
	0.25	-العنوان
	0.25	-المقياس
		3-التعليق
	0.25	- تنوع المبادلات التجارية للاتحاد الأوروبي (مواد غذائية، مواد أولية، طاقة...)
	0.25	- ارتفاع وارداته من الطاقة 24.2 % (تبعية) .
	0.25	- ارتفاع مبادلاته التجارية من وسائل النقل.
	0.25	- قلة مبادلاته التجارية من المواد الغذائية والأولية مقارنة بالمواد الأخرى .
	0.50	الجزء الثاني: 04 ن
		المقدمة: أهمية العوامل الطبيعية في تطور منطقة شرق و جنوب شرق آسيا
		1- العوامل الطبيعية التي ساهمت في تطور اقتصاد المنطقة:
	0.25	- الطابع الجزري وشبه الجزري بالإضافة إلى طول السواحل.
	0.25	- التعاريج والمضائق الساحلية التي سمحت بإقامة الموانئ الهامة .
	0.25	- وفرة بعض الخامات المعدنية والفلاحية .
	0.25	- تنوع المناخ سمح بتنوع المحاصيل الزراعية
	0.25	- اتساع الشبكة النهرية
	0.25	- الإطلالة على المسطحات المائية -المحيط الهادي والهندي -

العلامة		عناصر الإجابة
مجموع	مجزأة	
04	0.25 6×	<p>2- مكانة المنطقة في الاقتصاد العالمي</p> <ul style="list-style-type: none"> - تزايد الدخل القومي للمنطقة - 7000 مليار دولار -. - المساهمة المتزايدة في التجارة العالمية بنسبة 25%. (ضخامة الإنتاج و تنوعه) - تعد أهم منطقة للاستثمار الأجنبي . - قوتها المالية بضخامة بورصاتها العالمية -بورصة طوكيو ثاني أقوى بورصة عالميا - - غزو الأسواق العالمية بمنتجات تنافسية . - تزايد حجم استثماراتها في الخارج خاصة في مجال الثروات الطبيعية . <p>الخاتمة: منطقة شرق وجنوب شرق آسيا قوة اقتصادية عالمية.</p> <p>ملاحظة: تقبل الإجابات الصحيحة الأخرى.</p>
	0.50	
06		<p>الموضوع الثاني</p> <p>التاريخ:</p> <p>الجزء الأول:</p> <p>1- شرح المصطلحات:</p> <p>المفاوضات: صيغة دبلوماسية لحل أزمة ما في شكل لقاءات سرية أو علنية ثنائية أو متعددة الأطراف، وهنا جمعت ممثلين عن فرنسا و جبهة التحرير الوطني لإيجاد حل للقضية الجزائرية، انتهت بتوقيع اتفاقيات إيفيان.</p> <p>تقرير المصير: مشروع سياسي جاء به الجنرال ديغول في 16 سبتمبر 1959 يعترف فيه بحق الشعب الجزائري في تقرير مصيره بشروط تعجيزية رفضتها الثورة.</p> <p>الاستفتاء: إدلاء الشعب الجزائري برأيه في قضية الاستقلال جرى يوم 01 جويلية 1962 عن طريق التصويت بنعم أو لا. نظمت اللجنة المؤقتة التي سيرت الجزائر بعد التوقيع على اتفاقيات إيفيان.</p> <p>2- التعريف بالشخصيات:</p> <p>ادوايت إيزنهاور: رئيس الوم أ (1953-1961) صاحب مشروع عُرف باسمه، طبق سياسة ملء الفراغ، قبل مبادرة التعايش السلمي التي بادر بها الاتحاد السوفياتي، عايش أزمتي برلين الثانية والسويس.</p> <p>أندري جدانوف: رجل سياسي سوفياتي صاحب أطروحة الكتلتين (الكتلة الشرقية - الكتلة الغربية). من الذين ساهموا في التشدد الإيديولوجي في العهد الستاليني مهندس الحلف الجرمانى السوفياتي وصاحب المشروع المعروف باسمه.</p> <p>بن يوسف بن خدة: مجاهد وسياسي جزائري صيدلي التكوين، عضو اللجنة المركزية لحركة الانتصار ثم أمينا عاما لها، ترأس الحكومة المؤقتة للجمهورية الجزائرية من 1961 إلى 1962، توفي سنة 2003.</p>
	0.75	
	0.50	
	0.75	
	0.50	
	0.75	

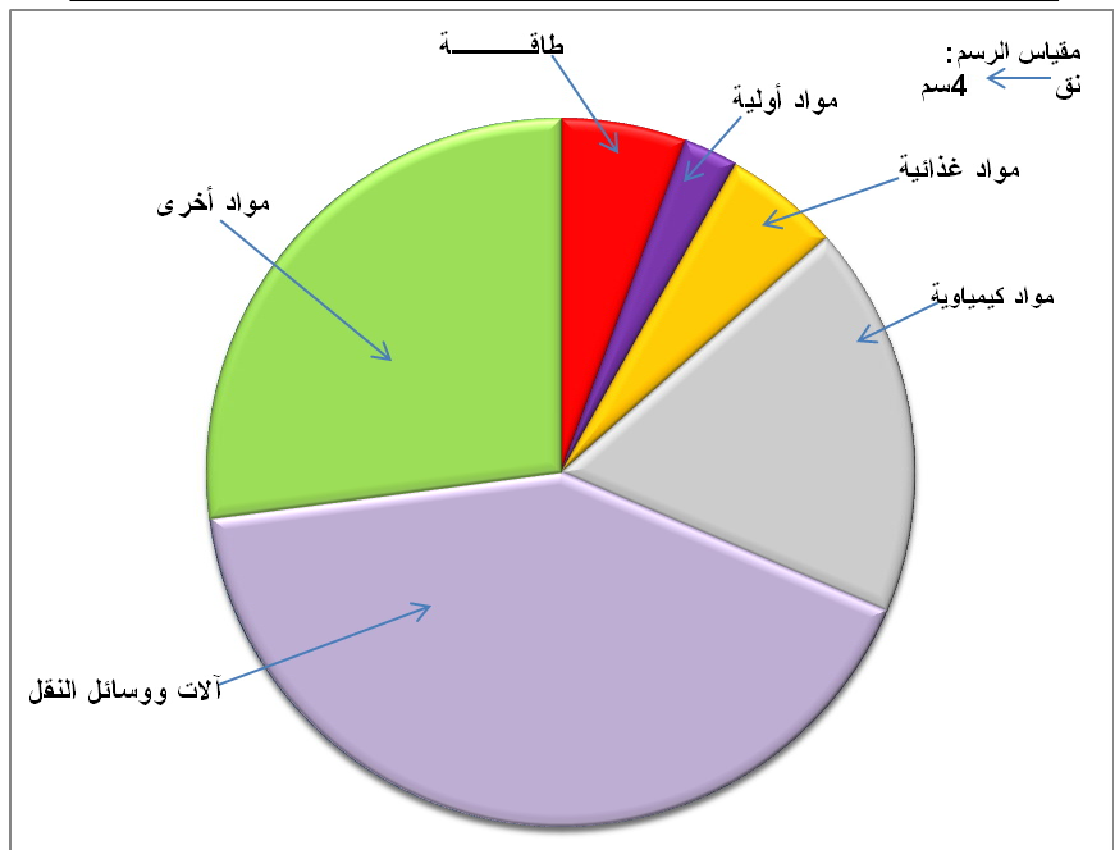
تابع الإجابة النموذجية وسلم التتقيط اختبار مادة: التاريخ والجغرافيا الشعبة: ع ت، تق ربا، ربا بكالوريا دورة: 2014

العلامة		عناصر الإجابة										
مجموع	مجزأة											
		<p>3- ربط الحدث بتاريخه:</p> <table><tr><th>الحدث</th><th>تاريخه</th></tr><tr><td>تأسيس حلف شمال الأطلسي</td><td>04 أفريل 1949</td></tr><tr><td>المؤتمر الرابع لحركة عدم الانحياز بالجزائر</td><td>09/05 سبتمبر 1973</td></tr><tr><td>تأسيس حلف وارسو</td><td>14 ماي 1955</td></tr><tr><td>سلم الشجعان</td><td>23 أكتوبر 1958</td></tr></table>	الحدث	تاريخه	تأسيس حلف شمال الأطلسي	04 أفريل 1949	المؤتمر الرابع لحركة عدم الانحياز بالجزائر	09/05 سبتمبر 1973	تأسيس حلف وارسو	14 ماي 1955	سلم الشجعان	23 أكتوبر 1958
الحدث	تاريخه											
تأسيس حلف شمال الأطلسي	04 أفريل 1949											
المؤتمر الرابع لحركة عدم الانحياز بالجزائر	09/05 سبتمبر 1973											
تأسيس حلف وارسو	14 ماي 1955											
سلم الشجعان	23 أكتوبر 1958											
04	<p>0.5</p> <p>0.25 6×</p> <p>0.25 6×</p> <p>0.5</p>	<p>2 - الجزء الثاني: 04 ن</p> <p>المقدمة: العلاقات الدولية بين انهيار الكتلة الشرقية و بروز الأحادية القطبية</p> <p>العرض:</p> <p>1- مظاهر انهيار المعسكر الشيوعي:</p> <ul style="list-style-type: none">- تحطيم جدار برلين 09 نوفمبر 1989.- توحيد الألمانيتين 03 أكتوبر 1990.- حل منظمة الكوميكون الاقتصادية 28 جوان 1991.- حل حلف وارسو 01 جويلية 1991.- مؤتمر ألما-أتا و ظهور مجموعة الدول المستقلة 21 ديسمبر 1991.- زوال الاتحاد السوفياتي 25 ديسمبر 1991. <p>2- الأهداف الخفية للنظام الدولي الجديد:</p> <ul style="list-style-type: none">- زعامة الو م أ للعالم سياسيا وعسكريا واقتصاديا.- تكوين جبهة موحدة تقودها الو م أ ضد محور الشر والدول المارقة (حسب زعم الو م أ)- تسخير المؤسسات الدولية لخدمة مصالحها .- الهيمنة على الثروات الطبيعية للعالم المتخلف .- حل المشاكل الدولية بحلول هامشية كالقضية الفلسطينية .- تحويل الصراع شرق - غرب إلى صراع شمال جنوب . <p>الخاتمة: انهيار الكتلة الشرقية فصح المجال لبروز القطبية الأحادية (الهيمنة الأمريكية).</p> <p>ملاحظة: تقبل الإجابات الصحيحة الأخرى.</p>										

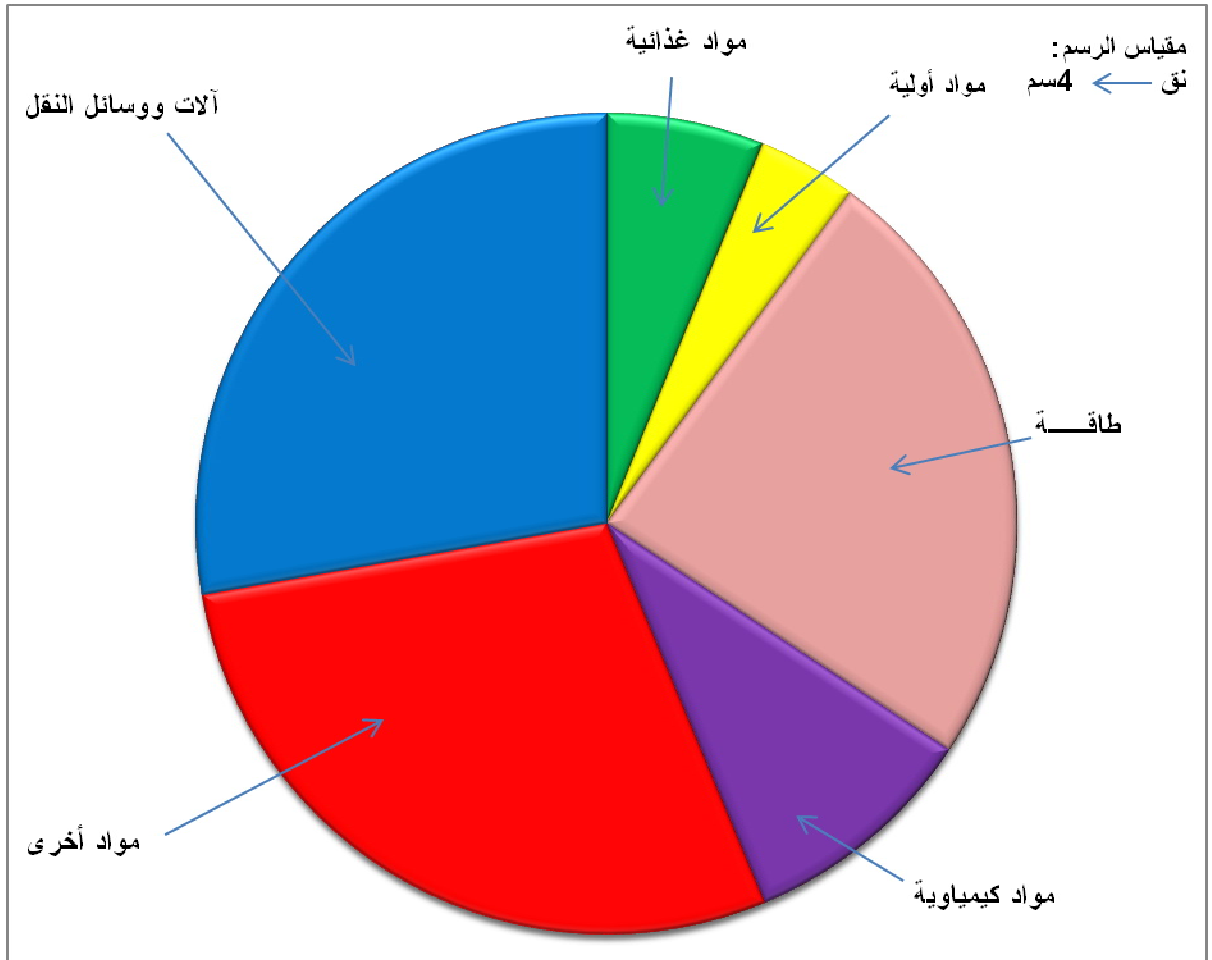
العلامة		عناصر الإجابة
مجموع	مجزأة	
06	01	الجغرافيا: الجزء الأول: الاتحاد الأوروبي: تكتل اقتصادي وسياسي أوروبي تأسس وفق اتفاقية ماستريخت 1993 يضم 27 دولة أوروبية. يهدف لبناء أوروبا الموحدة. منظمة التجارة العالمية: منظمة اقتصادية دولية تأسست سنة 1995 على أنقاض الاتفاقية العامة للتعريف الجمركية، تعمل على وضع قواعد للتبادل التجاري وتحرير التجارة العالمية برفع الحواجز الجمركية كما تتولى فض النزاعات التجارية بين الدول الأعضاء. الاستثمار: توظيف رؤوس الأموال في مشاريع مختلفة قصد تحقيق الربح . أ- تمثيل الجدول: - الانجاز : - العنوان : - المقياس : ب- التعليق: - ضخامة الإنتاج اليومي للبترو في العالم . - ارتفاع مساهمة دول الأوبك في الإنتاج اليومي للبترو. - قلة مساهمة الدول المتقدمة في الإنتاج اليومي للبترو مقارنة بدول الأوبك . - ارتفاع مساهمة الدول المتخلفة في الإنتاج اليومي للبترو لكونه مصدرا أساسيا للدخل.
		0.75
		0.75
		01.50
		0.50
		0.50
		0.25 ×4
		0.5
		0.25 2 ×
		0.25 4×
04	01	الجزء الثاني: 04 ن المقدمة: العالم المتخلف بين ظاهرة التخلف ومحاولة التنمية الشاملة. العرض: 1- المعبيقات الطبيعية والاقتصادية للتنمية: أ-المعبيقات الطبيعية: - طبيعة السطح (صحراء، غابات استوائية و مدارية، جبال...) - قساوة المناخ (حار وجاف ،موسمي... فياضانات). ب- المعبيقات الاقتصادية: - ارتفاع حجم المديونية - الاعتماد على الصناعات الاستخراجية. - قلة وضعف الإنتاج الزراعي والصناعي. - التخلف العلمي و التكنولوجي.
		0.5
		0.25 2 ×
		0.25 4×
		0.25 2 ×
		0.25 4×
		0.25 2 ×
		0.25 4×
		0.25 2 ×
		0.25 4×

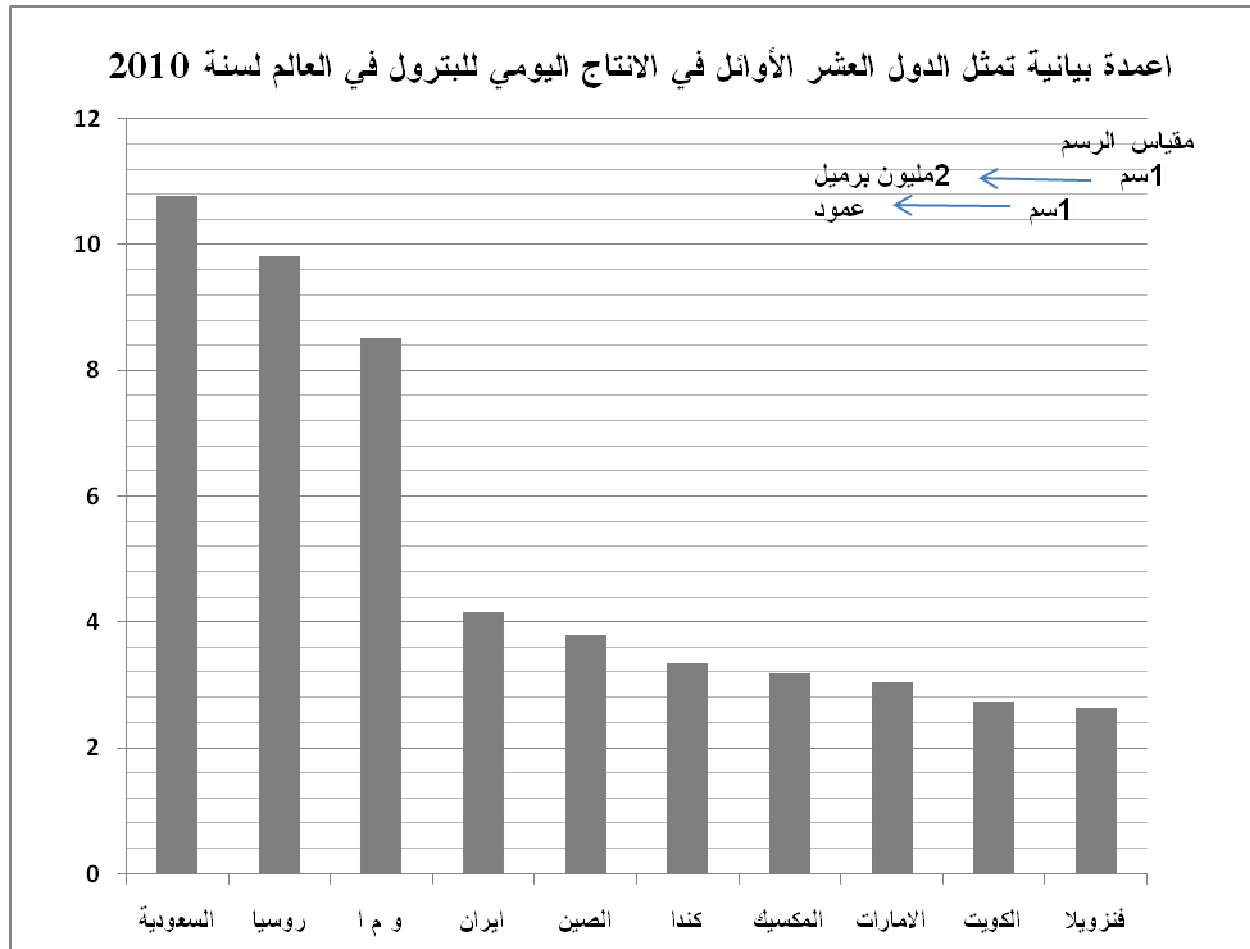
العلامة		عناصر الإجابة
مجموع	مجزأة	
		<p>2- الحلول الممكنة للخروج من دائرة التخلف:</p> <ul style="list-style-type: none"> - إتباع أسلوب التنمية المستدامة. - إقامة شراكة حقيقية مع العالم المتقدم. وتفعيل التعاون جنوب -جنوب. - دعم البحث العلمي والتكنولوجي، استيعاب التكنولوجيا بدلا من استيرادها. - اعتماد سياسة زراعية رشيدة تحقيقا للاكتفاء الذاتي والأمن الغذائي. - الاهتمام بقطاع الصناعة. - تشجيع الاستثمار في كل المجالات وتفعيل دور العنصر البشري. <p>الخاتمة: حتمية التحدي لتخطي ظاهرة التخلف رغم كثرة المعوقات.</p> <p>ملاحظة: تقبل الإجابات الصحيحة الأخرى.</p>
	0.25 6×	
	0.50	

دائرة نسبية تمثل صادرات الاتحاد الأوروبي من مختلف المواد لسنة 2009



دائرة نسبية تمثل واردات الاتحاد الأوروبي من مختلف المواد لسنة 2009





الجمهورية الجزائرية الديمقراطية الشعبية

وزارة التربية الوطنية

الديوان الوطني للامتحانات والمسابقات

امتحان بكالوريا التعليم الثانوي

دورة: جوان 2013

الشعب: علوم تجريبية، رياضيات ، تقني رياضي

اختبار في مادة: التاريخ والجغرافيا

المدة : 03 سا و 30 د

على المترشح أن يختار أحد الموضوعين التاليين:

الموضوع الأول

التاريخ:

الجزء الأول: (06 نقاط)

"... إن مرحلة الحرب الباردة قد اتسمت بالتوتر الشديد بين القطبين وبين المعسكرين الشرقي والغربي... وتزايدت حدة الحملات الدعائية التثهيرية المتبادلة وحدة السباق نحو التسليح على المستويين التقليدي والنووي... كما شهدت هذه المرحلة تزايد حدة سياسات الاستقطاب الدولي لاجتذاب أكبر عدد من دول العالم الثالث حديثة الاستقلال بعد أن نجح في اقتسام القارة الأوربية بينهما..."

د. ممدوح منصور و د. أحمد وهبان/ التاريخ الدبلوماسي 1815-1991 ص 209

1- اشرح ما تحته خط في النصّ.

2- عرّف بالشخصيات التالية:

- جمال عبد الناصر - نيكيتا خروتشوف - رابح بيطاط.

3- على خريطة أوربا المرفقة، وقّع أربع دول من المعسكر الشرقي وأربع دول من المعسكر الغربي.

الجزء الثاني: (04 نقاط)

شهدت القضية الجزائرية أحداثا وتطورات هامة في المحافل الدولية والإقليمية، أثرت على مكانة فرنسا الخارجية، مما جعلها ترضخ للتفاوض.

المطلوب: انطلاقا من الفقرة، واعتمادا على ما درست، اكتب مقالا تاريخيا تبين فيه:

1- الأساليب التي استخدمتها الثورة على المستوى الخارجي.

2- انعكاسات هذه الأساليب على مكانة فرنسا الخارجية.

الجغرافيا:

الجزء الأول: (06 نقاط)

1- «... ترى نظرية ارتباط التخلف بظهور الرأسمالية والاستعمار: إن العالم الثالث لم يكن متخلفا قبل أن تستولي عليه أوربا الاستعمارية... إن نهب ثروات المستعمرات أدى إلى نمو الصناعة والزراعة في أوربا... ووجهت اقتصاديات بلدان العالم الثالث لخدمة الاقتصاد الاستعماري الرأسمالي وفرض الاستعمار التقسيم الدولي للعمل أين تخصص العالم الثالث في إنتاج وتصدير المواد الأولية والمحاصيل الزراعية النقدية كالقطن في مصر والكروم في الجزائر، القصدير في بوليفيا، البن في البرازيل، قصب السكر في كوبا، الكاكاو في غانا والشاي في الهند... أما المركز الرأسمالي فيحولها إلى مواد مصنعة ويعيد بيعها إلى بلدان العالم الثالث بأسعار عالية...»
رابح لونييسي/البديل الحضاري ص 53

المطلوب:

أ- اشرح ما تحته خط في النصّ.

ب- على خريطة العالم المرفقة، وقّع أربع دول وردت في النصّ.

2- الجدول التالي يمثل صادرات الصين سنة 2002 :

البلد أو المنطقة	القيمة (مليون دولار)	% من مجموع الصادرات
الولايات المتحدة الأمريكية	69950	21,5
أوربا	659226	18,2
اليابان	48437	14,8
آسيا	121878	37,5
باقي العالم	26074	08,0

صور اقتصادية 2006

المطلوب: علّق على معطيات الجدول.

الجزء الثاني: (04 نقاط)

عمل قادة أوربا الغربية منذ 1957 على أن تكون القارة الأوروبية البيت الأوروبي الموحد،

وتجلى ذلك في عدد الدول المشكلة للإتحاد الأوروبي سنة 2007.

المطلوب: انطلاقا من الفقرة، واعتمادا على ما درست، اكتب موضوعا جغرافيا تبين فيه:

1- أهداف التكتل الأوروبي.

2- مظاهر القوة والضعف في الإتحاد الأوروبي.

الموضوع الثاني

التاريخ:

الجزء الأول: (06 نقاط)

1- «... مثلت حركة التحرر في الهند الصينية مظهرا من مظاهر انحسار وتصفية الاستعمار التقليدي وظهور الاستعمار الجديد المجسد في القوى العظمى التي أفرزتها الحرب العالمية الثانية وعلى رأسها الولايات المتحدة الأمريكية التي اشتهرت بسياسة ملء الفراغ الإيديولوجي في المنطقة عقب انسحاب فرنسا...».

تاريخ العالم المعاصر، ص: 233

المطلوب:

- أ- اشرح ما تحته خط في النص.
- ب- على خريطة العالم المرفقة، وقّع أسماء المناطق والدول الواردة في الوثيقة.
- 2- عرّف بالشخصيات التالية :
- هو شي منه - الجنرال جياب - أحمد سوكارنو.

الجزء الثاني: (04 نقاط)

رغم تباين شعوب المستعمرات من حيث الموقع الجغرافي والوضع السياسي والاقتصادي والاجتماعي والرصيد التاريخي، إلا أنها اشتركت في بعض خصائصها التحررية.

المطلوب: انطلاقا من الفقرة، واعتمادا على ما درست، اكتب مقالا تاريخيا تبرز فيه:

- 1- الخصائص المشتركة للحركات التحررية.
- 2- نتائج الحركات التحررية في إفريقيا.

الجغرافيا:

الجزء الأول: (06 نقاط)

1- حدّد مفهوم المصطلحات التالية:

- التنمية المستدامة - الشراكة - العولمة.

2- الجدول التالي يمثل كمية إنتاج واستهلاك الاتحاد الأوروبي للموارد الطاقوية والمعدنية لسنة

2004 :

المادة	الفحم	البترول	الحديد	الغاز الطبيعي
الإنتاج م/طن	340	165	14.8	250 مليار م ³
الاستهلاك م/طن	307	750	141	420 مليار م ³

المنظمة العالمية للتجارة 2005

المطلوب: علق على معطيات الجدول.

3- على خريطة آسيا المرفقة، وقّع التتينات الأربعة.

الجزء الثاني: (04 نقاط)

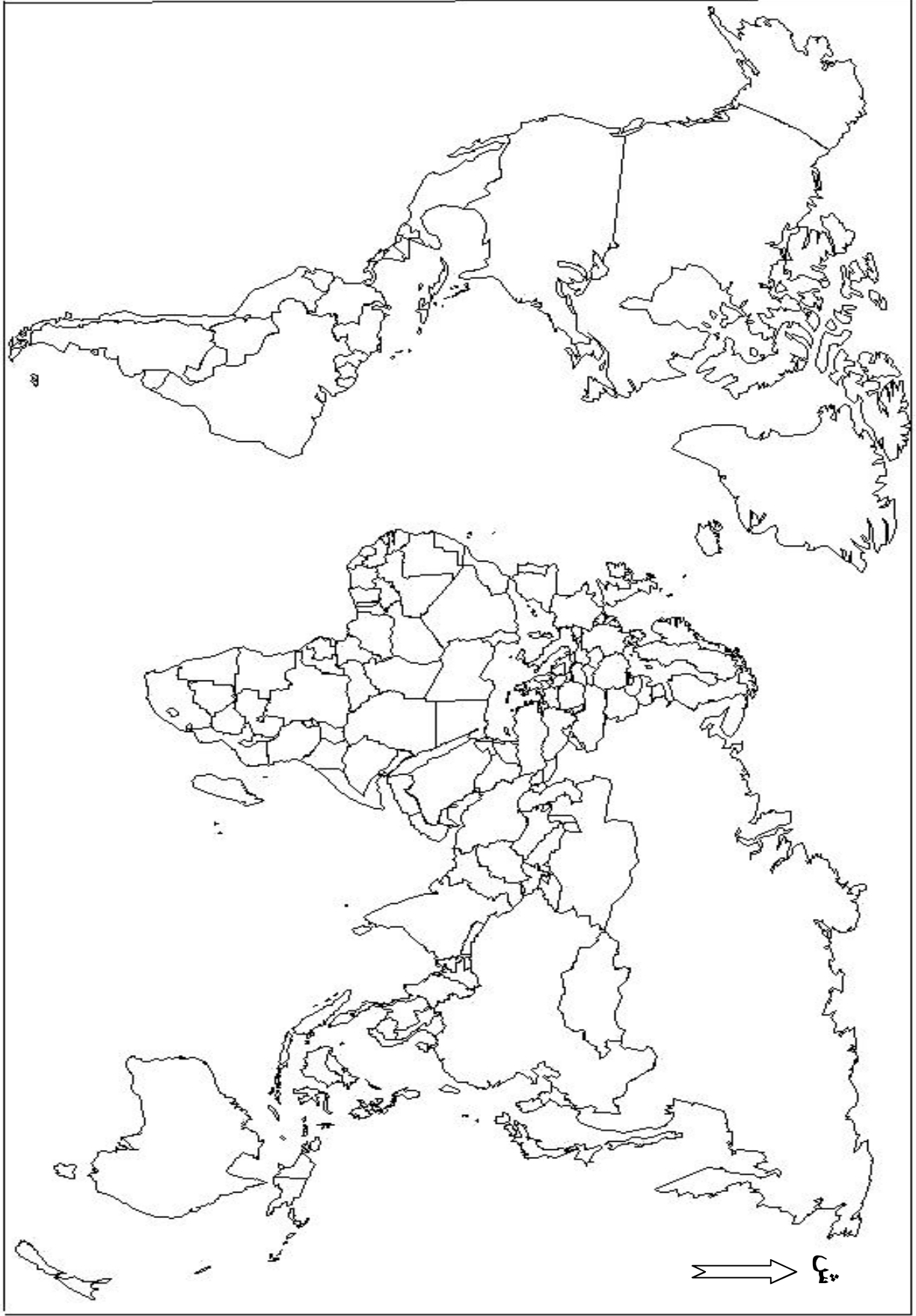
يعرف العالم تزايداً هائلاً في مبادلات السلع والخدمات، وتتنقل أسعا لرؤوس الأموال والإعلام.

المطلوب: انطلاقاً من الفقرة، واعتماداً على ما درست، اكتب موضوعاً جغرافياً تبين فيه:

1- خصائص أسواق المواد الإستراتيجية (الغذاء والطاقة).

2- انعكاسات واقع المبادلات على العالم المتخلف.

خريطة العالم



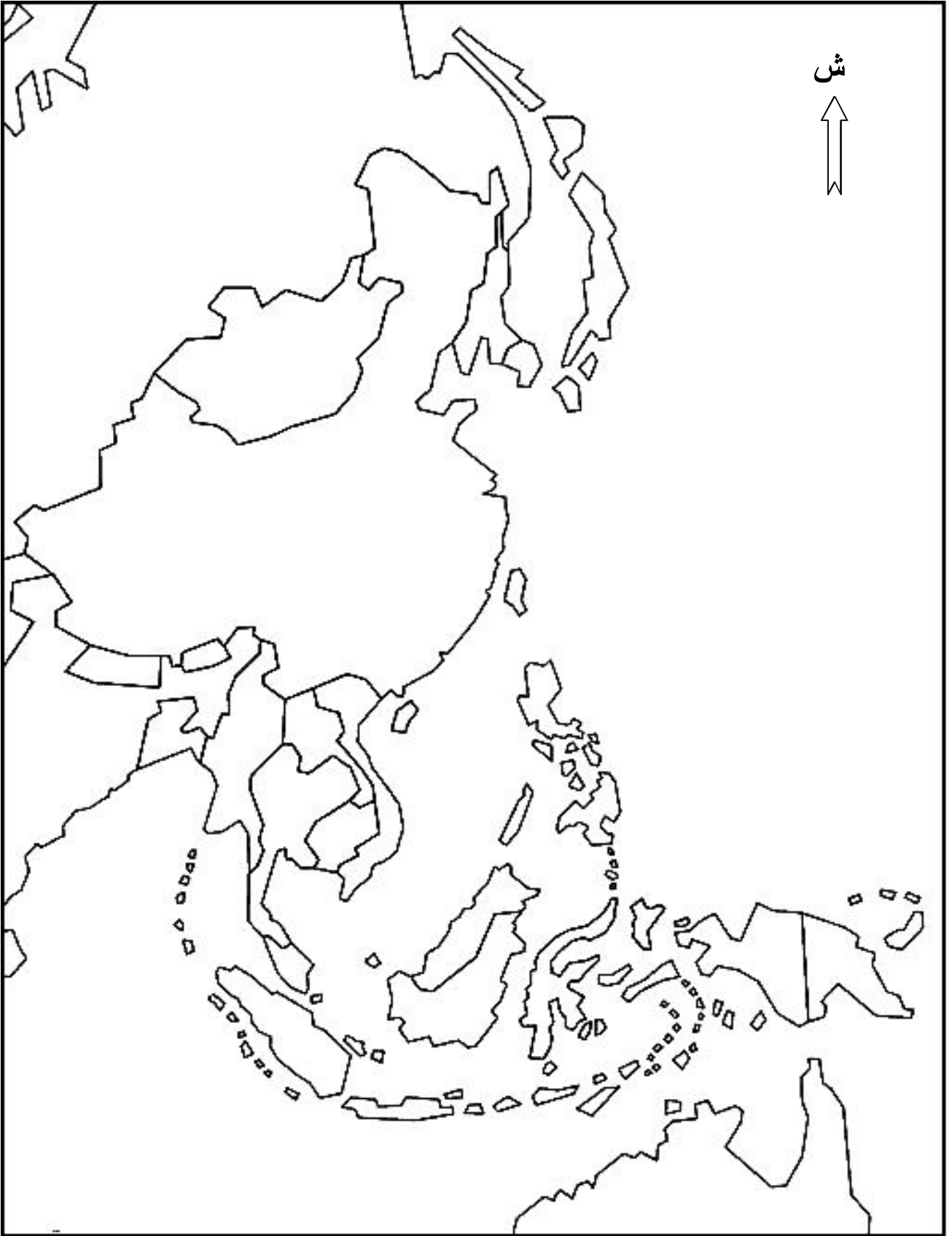
ينجز العمل المطلوب على الخريطة وتعاد مع أوراق الإجابة

خريطة أوروبا



ينجز العمل المطلوب على الخريطة وتعاد مع أوراق الإجابة

خريطة شرق وجنوب شرق آسيا



ينجز العمل المطلوب على الخريطة وتعاد مع أوراق الإجابة


دورة: جوان 2013

الإجابة النموذجية لموضوع امتحان : البكالوريا

اختبار مادة: التاريخ والجغرافيا الشعبة: علوم تجريبية، رياضيات وتقني رياضي المدة: 03 سا و 30 د

الإجابة النموذجية وسلم التنقيط

العلامة		عناصر الإجابة	محاور الموضوع
المجموع	مجزأة		
06		الموضوع الأول	
		التاريخ:	
		الجزء الأول: (6 نقاط)	
		1- شرح ما تحته خط:	
	0.75	- الحرب الباردة: صراع إيديولوجي بين الاتحاد السوفيتي والولايات المتحدة الأمريكية	
	0.75	ظاهرها حربا بين الشيوعية والرأسمالية وحقيقتها صراع مصالح.	
	0.75	- المعسكرين: دول المعسكر الشيوعي (الاتحاد السوفيتي، دول وسط وشرق أوروبا	
		الصين، الفيتنام ، كوبا ...) ودول المعسكر الرأسمالي (الولايات المتحدة	
	0.75	كندا، اليابان ، دول أوروبا الغربية ...)	
	0.75	- الاستقطاب الدولي: سعي كل كتلة إلى جذب دول من العالم إلى صفها من خلال عضوية:	
		الأحلاف، المعاهدات الدفاعية المشتركة، المشاريع الاقتصادية ...	
		2- التعريف بالشخصيات:	
	0.75	* - جمال عبد الناصر: 1918-1970، زعيم الثورة المصرية 1952، رئيس جمهورية	
	0.75	مصر 1954-1970، أحد مؤسسي حركة عدم الانحياز.	
	0.75	* - نيكيتا خروتشوف: (1894-1971)، رجل دولة سوفياتي خلف ستالين سنة 1953،	
	0.75	ساهم في إرساء دعائم التعايش السلمي، أبعد عن السلطة في سنة 1964.	
	0.75	* - راج بيباط: 1925-2000، مناضل في حزب الشعب وحركة الانتصار للحريات	
		الديمقراطية، عضو اللجنة الثورية للوحدة والعمل أول رئيس للمجلس الشعبي الوطني.	
		3- التوقيع على خريطة أوروبا:	
	4×0.25	- الإنجاز.	
	0.25	- العنوان.	
	0.25	- المفتاح.	


العلامة		عناصر الإجابة	محاوَر الموضوع
المجموع	مجزأة		
		<p>تعيين دول من المعسكر الشرقي وأخرى من المعسكر الغربي:</p> <p>المفتاح:</p> <p>دول المعسكر الشرقي:</p> <p>1- ألمانيا الشرقية</p> <p>2- بولندا</p> <p>3- المجر</p> <p>4- الاتحاد السوفياتي</p> <p>دول المعسكر الغربي:</p> <p>أ- إيطاليا</p> <p>ب- ألمانيا الغربية</p> <p>ج- فرنسا</p> <p>د- بريطانيا</p>	
			

العلامة		عناصر الإجابة	محاور الموضوع
المجموع	مجزأة		
04	0.50	الجزء الثاني: (4 نقاط) المواجهة مع الاستعمار الفرنسي كانت داخلية وخارجية، عسكرية وسياسية.	المقدمة
	6×0.25	1- الأساليب التي استخدمتها الثورة على المستوى الخارجي: - إنشاء إذاعة صوت الجزائر بالقاهرة. - إرسال وفود إلى مختلف الدول للتعريف بالقضية الجزائرية. - تفعيل النشاط الدبلوماسي في الخارج. - إنشاء الحكومة الجزائرية المؤقتة. - طرح القضية الجزائرية في مختلف المحافل الدولية والإقليمية. - نقل الثورة إلى داخل فرنسا.	العرض
	0.50	2- انعكاسات هذه الأساليب على مكانة فرنسا الخارجية: - اهتزاز مكانة فرنسا دوليا وتراجع دورها. - تزايد الضغوط الخارجية على الدولة الفرنسية. - اتساع المواجهة وتزايد حداثتها في المستعمرات الفرنسية.	الخاتمة
	0.50	نجاح الدبلوماسية الجزائرية وتدويل القضية فرض على فرنسا التسليم بمبدأ حق تقرير المصير	
	0.50	الجغرافيا: الجزء الأول: (06 نقاط) 1- أ - مفهوم المصطلحات: - العالم الثالث: تسمية أطلقت على دول إفريقيا ، آسيا وأمريكا اللاتينية التي لم تتكفل في سياق الحرب الباردة وهو مصطلح مرادف للعالم المتخلف أو الدول النامية أو السائرة في طريق النمو. - التقسيم الدولي للعمل: توزيع إجمالي للأدوار بين الدول المتقدمة والدول المتخلفة بحيث تقوم الدول المتخلفة بتصدير خامات الموارد الأولية بينما تقوم الدول المتقدمة بتحويلها إلى مواد مصنعة وتصديرها. - المركز الرأسمالي: الدول المتقدمة أو الشركات متعددة الجنسيات من خلال (الاستثمار، القروض، النشاط الزراعي و الصناعي والخدمات).	
	0.75	ب - التوقيع على خريطة العالم : الدول الواردة في الوثيقة . * - الإنجاز: * - العنوان:	06
	0.75	2- التعليق على الجدول: * - تفاوت في نسب التبادل التجاري الصيني من منطقة إلى أخرى. * - تعدد التعامل التجاري الصيني . * - ضخامة نسبة التعامل مع العالم المتقدم 54.5 %. * - أكثر من نصف معاملاتها مع الدول الآسيوية.	
	0.75		
	0.50		
	0.50		
	0.50		


تابع الإجابة اختبار مادة : التاريخ والجغرافيا .الشعبة : ع.تجريبية ، رياضيات ، تقني رياضي دورة: جوان 2013

[illegible]

العلامة		عناصر الإجابة	محاوَر الموضوع
المجموع	مجزأة		
06		الموضوع الثاني	
		التاريخ:	
		الجزء الأول: (06 نقاط)	
		أ – مفهوم المصطلحات:	
	0.75	* – حركة التحرر: هو رد الفعل النضالي الوطني الذي قامت به شعوب المستعمرات في كل من إفريقيا وآسيا وأمريكا اللاتينية ضد الاستعمار الأوروبي من أجل التحرر والانعقاد.	
	0.75	* – الاستعمار التقليدي: يطلق على الحركة الاستعمارية التي ظهرت بعد الكشوفات الجغرافية والثورة الصناعية، تزعمتها كل من بريطانيا، فرنسا، هولند والبرتغال، استعملت فيها عدة أساليب لفرض الهيمنة على شعوب إفريقيا وآسيا وأمريكا اللاتينية.	
	0.75	* – ملء الفراغ: سياسة استعمارية جديدة تبنتها الو.م. أ في عهد إيزنهاور بعد تراجع القوى الاستعمارية التقليدية وطبقتها في الهند الصينية بعد انسحاب الاستعمار الفرنسي منها.	
	1.25	ب – التوقيع على خريطة العالم المناطق والدول الواردة في الوثيقة:	
	0.25	* – الإنجاز:	
		* – العنوان:	
		2- التعريف بالشخصيات:	
	0.75	* – هوشي منه: زعيم سياسي فيتنامي قاد حركة التحرر في بلاده رئيس جمهورية فيتنام الشمالية 1945.	
	0.75	* – الجنرال جياب: فان غويان جياب: بطل معركة ديان بيان فو 1954 وصاحب مقولة الاستعمار تلميذ غبي لا يفهم إلا بتكرار الدرس.	
	0.75	* – أحمد سوكارنو: 1901-1970، سياسي وزعيم اندونيسي، تزعم تحرير بلاده من الاستعمار الهولندي، رئيس اندونيسيا 1951-1967، ساهم في تأسيس حركة عدم الانحياز من خلال مؤتمر باندونغ 1955.	

العلامة		عناصر الإجابة	محاور الموضوع
المجموع	مجزأة		
04			
	0.5	<p>الجزء الثاني: (04 نقاط)</p> <p>الحركات التحررية بين الخصائص المشتركة والأهداف المحققة.</p>	المقدمة:
	0.25	1- الخصائص المشتركة :	العرض:
	0.50	- وحدة العدو: الاستعمار بأشكاله المختلفة.	
	0.25	- وحدة الهدف: الاستقلال.	
	0.25	- الشمولية والشعبية.	
	0.25	- التضامن والوطنية.	
	0.25	- التزامن.	
	0.50	2- نتائج الحركات التحررية في إفريقيا:	الخاتمة:
	0.25	- حصول أغلب الدول على الاستقلال وتراجع الإمبراطوريات الاستعمارية	
	0.25	- ظهور التضامن الأفروآسيوي.	
	0.50	- القضاء على الأنظمة العميلة .	
	0.50	- تزايد قوة الدول المستقلة وتكتلها في منظمات إقليمية (الوحدة الإفريقية سابقا وحركة عدم الانحياز) .	
	0.50	تمكنت الحركات التحررية من تحرير الشعوب إلا أنها لم تتمكن من تحريرها من التخلف	

العلامة		عناصر الإجابة	محاور الموضوع
المجموع	مجزأة		
06		الجغرافيا: الجزء الأول: (06 نقاط)	
	0.75	1- مفهوم المصطلحات: *- التنمية المستدامة: هي التنمية التي تلبي حاجيات الحاضر دون المساس بمستقبل الأجيال القادمة.	
	0.75	*- الشراكة: التعاون بين دولتين أو أكثر بموجب اتفاقيات ،تهدف إلى تبادل الخبرات والمنفعة لتحقيق مصالح مشتركة .	
	0.75	*- العولمة: ظاهرة فرضت نفسها منذ الثمانينات ،تتميز بتوزيع أنماط سياسية اقتصادية وثقافية ،أنتجها الشمال المتقدم	
		2 - التعليق على معطيات الجدول:	
	0.50	- التفاوت الكبير في الإنتاج باستثناء الفحم.	
	0.50	- طاقة إنتاجية كبيرة وقوة استهلاكية.	
	0.25	- الاستهلاك أكبر من الإنتاج دليل على الحركية الصناعية والتبعية للخارج.	
	0.50	- استهلاك الفحم أقل من الإنتاج بسبب الاعتماد على البترول والغاز والطاقات البديلة.	
	0.25	- استهلاك الحديد يفوق الإنتاج بحوالي 10 مرات وهذا مظهر من مظاهر النشاط الصناعي الواسع.	
	0.25	- استهلاك الغاز ضعف الإنتاج بسبب النشاط الاقتصادي وكذلك الظروف المناخية (البرودة)	
		3 - التوقيع على خريطة آسيا:	
	4×0.25	- الإنجاز - توقيع التينينات الأربعة.	
	0.25	- المفتاح.	
	0.25	- العنوان.	

محاور الموضوع	عناصر الإجابة	العلامة مجزأة المجموع
	<p>تعيين التتينات الآسيوية الأربعة: كوريا الجنوبية، هونغ كونغ، تايوان، سنغفورة.</p> 	

العلامة		عناصر الإجابة	محاور الموضوع
المجموع	مجزأة		
04		الجزء الثاني: (04 نقاط)	
	0.50	العولمة التجارية وأثرها على العالم المتخلف.	المقدمة
		1 — خصائص أسواق المواد الاستراتيجية:	
	0.50	— احتكار العالم المتقدم لتجارة المواد الاستراتيجية	
	0.25	— سيطرة المواد الغذائية والأولية على صادرات العالم المتقدم إلى العالم المتخلف.	
	0.25	— سيطرة المواد الطاقوية والأولية على صادرات العالم المتخلف.	
	0.50	— تحكم العالم المتقدم في الأسواق العالمية: إنتاجا وأسعارا.	العرض
		2 — انعكاسات واقع المبادلات على العالم المتخلف:	
	0.50	— التبعية التجارية والمالية.	
	0.25	— عجز الموازين التجارية وموازين المدفوعات.	
	0.50	— ارتفاع حجم الديون الخارجية.	
	0.25	— استنزاف الثروات وانتشار الأزمات في العالم المتخلف.	
	0.50	ضرورة تكتل دول الجنوب والتصدي لظاهرة العولمة وانعكاساتها.	الخاتمة
		<u>ملاحظة: تقبل الإجابات الصحيحة الأخرى.</u>	

الجمهورية الجزائرية الديمقراطية الشعبية

الديوان الوطني للامتحانات والمسابقات

دورة: جوان 2012

وزارة التربية الوطنية

امتحان بكالوريا التعليم الثانوي

الشعب: علوم تجريبية ، رياضيات ، تقني رياضي

المدة: 03 ساعات و نصف

اختبار في مادة: التاريخ و الجغرافيا

على المترشح أن يختار أحد الموضوعين التاليين:

الموضوع الأول

مادة التاريخ:

الجزء الأول: (06 نقاط)

"... أرى بالنسبة لمؤتمر طرابلس أنه كان قد عقد من أجل دراسة وضعية قائمة و على أساس هذه الوضعية يمكن الخروج بخطة مستقبلية ولذا نجده في أول نقطة يركز على قضية السيادة الوطنية، بطبيعة الحال أنه أشار إليها بأنها قد تحققت باتفاقية إيفيان، وإن كان ينقصها ما ينقصها..."

المرجع : الدكتور الجنيدي خليفة / حوار حول الثورة / ج 3 ص 347

1- حدّد مفهوم المصطلحات التي تحتها خط.

2- عرّف بالشخصيات الآتية:

* هاري ترومان * مصطفى بن بولعيد * جوزيف بروز تيتو

3- أكمل جدول الأحداث التالية:

التاريخ	الحدث
1949-04-04
.....	سلم الشجعان
1961-09-01

الجزء الثاني: (04 نقاط)

إن السياسة التوسعية للولايات المتحدة الأمريكية تهدف إلى الهيمنة العسكرية والإستراتيجية والاقتصادية من خلال المساعدات التي تؤدي بالضرورة إلى تغيير الخط السياسي للبلد المستفيد من المساعدة.

المطلوب:

انطلاقا من الفقرة واعتمادا على ما درست، اكتب مقالا تاريخيا تبين فيه:

- 1- أسباب التوتر بين المعسكرين.
- 2- دور حركة عدم الانحياز في التخفيف من حدة الصراع.

مادة الجغرافيا:

الجزء الأول: (06 نقاط)

"... يشكل الخط الفاصل بين الدول المصنعة والدول النامية في الوقت الراهن شرخا كبيرا من حيث التفاوت في الدخل بالنسبة للدول الغنية والدول الفقيرة ... ويرتبط مستوى الناتج الداخلي الخام بالنسبة للفرد بمؤشرات مثل الاستفادة من المياه والتربية والصحة وتكنولوجيات الإعلام والاتصال كالهاتف و الإنترنت ..."

المرجع : كتاب الجغرافيا، السنة الثالثة ثانوي ص 112

1- حدّد مفهوم المصطلحات التي تحتها خط.

2- الجدول الآتي يمثل أكبر البورصات في العالم:

الوحدة مليار دولار

البورصة	وول ستريت	طوكيو	لندن	باريس	فرانكفورت
رأسمالها	7500	2600	1750	750	630

المرجع : كتاب الجغرافيا ، السنة الثالثة ثانوي . ص 60

المطلوب:

أ / مثل الجدول بأعمدة بيانية، بمقياس : 1 سم ← 1000 مليار دولار

1 سم ← بورصة

ب / على خريطة العالم المرفقة وقع البورصات الواردة في الجدول.

الجزء الثاني: (04 نقاط)

تعتبر آسيا الشرقية والجنوبية الشرقية قوة ديمغرافية وفضاء قويا للنمو الاقتصادي وقطبا اقتصاديا ضمن الثالوث العالمي.

المطلوب:

انطلاقا من الفقرة واعتمادا على ما درست، اكتب موضوعا جغرافيا تبين فيه:

1- دور استثمار العنصر البشري في تحقيق التطور الاقتصادي.

2- مكانة المنطقة في الاقتصاد العالمي.

الموضوع الثاني

مادة التاريخ :

الجزء الأول: (06 نقاط)

1- حدّد مفهوم المصطلحات التالية:

* المنظمات غير الحكومية

* القوة الثالثة

* الستار الحديدي

2- عرّف بالشخصيات الآتية :

* أحمد سوكارنو

* ميخائيل غورباتشوف

* زيغود يوسف

3- أكمل جدول الأحداث:

التاريخ	الحدث
1955/05/14
.....	توحيد الألمانيتين
1958/09/19

الجزء الثاني: (04 نقاط)

إن إعادة بعث الدولة الجزائرية استلهمت أسسه من موانيق الثورة التحريرية، وخاصة ميثاق طرابلس الذي تضمن برنامجا يرسم الخطوط العريضة للجزائر المستقلة.

المطلوب:

انطلاقا من الفقرة واعتمادا على ما درست، اكتب مقالا تاريخيا تبين فيه:

1- ظروف قيام الدولة الجزائرية السياسية والاجتماعية.

2- الاختيارات السياسية التي أقرها ميثاق طرابلس.

مادة الجغرافيا :

الجزء الأول: (06 نقاط)

1- حدّد مفهوم المصطلحات التالية:

* التكتل الاقتصادي * تبييض الأموال * التتينات الأربعة

2- الجدول الآتي يمثل نسب إنتاج الأرز لبعض الدول في العالم:

الدولة	الصين	الهند	اندونيسيا	بنغلاديش	الفيتنام
النسبة %	28.70	19.51	09.40	06.96	05.68

المصدر: منظمة الأغذية و الزراعة (F. A .O) 2009

المطلوب:

- أ- مثل نسب الجدول بأعمدة بيانية، بمقياس: 1 سم ← 5 % ، 1 سم ← دولة
ب- علق على الجدول.

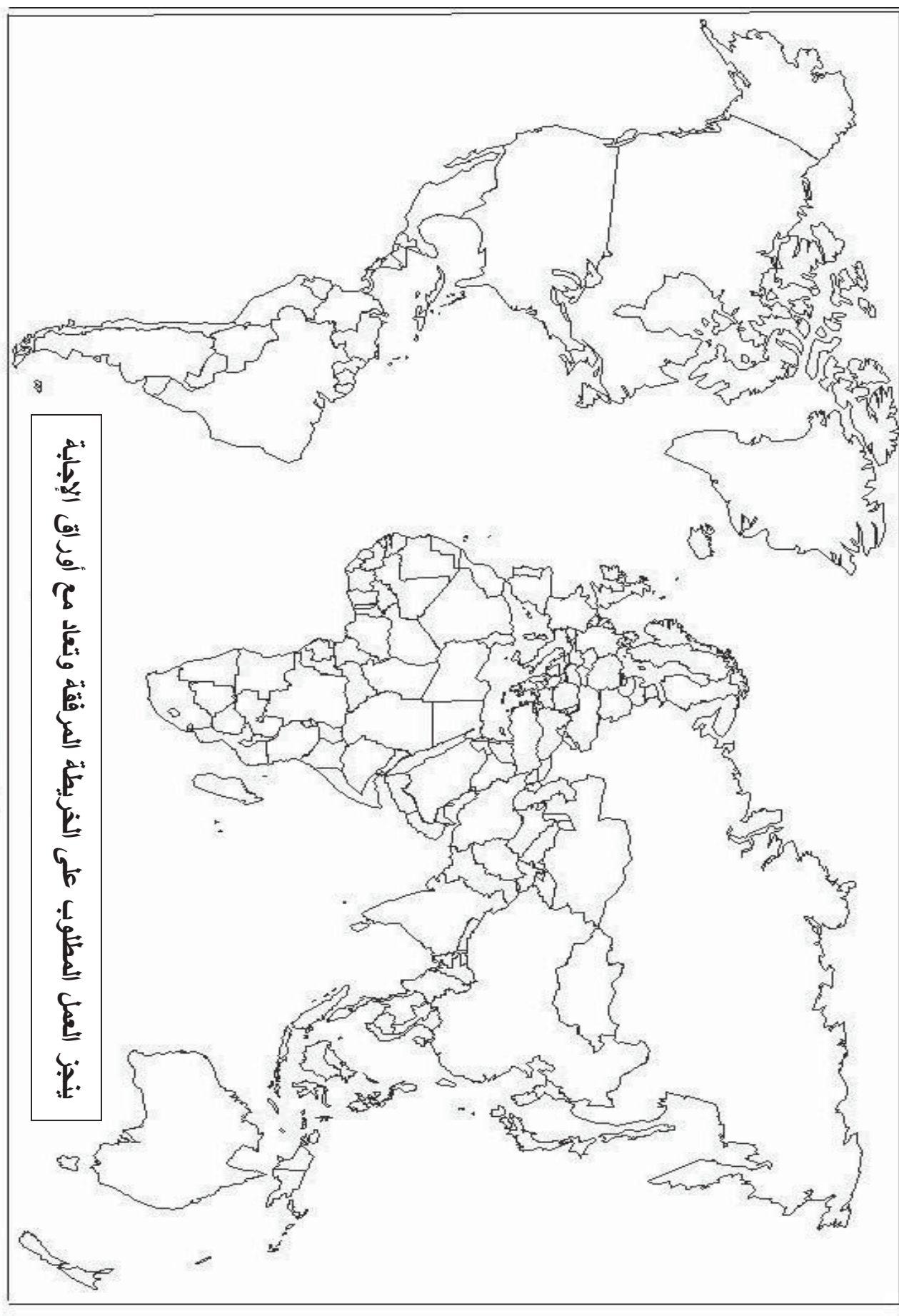
الجزء الثاني: (04 نقاط)

إن تقسيم العالم إلى شمال وجنوب هو في الأساس تقسيم اقتصادي، يرتبط ارتباطا وثيقا بالنظام الاقتصادي العالمي الذي يتكون من دول المركز الرأسمالية الصناعية والتي تحقق تقدمها على حساب استغلال وتخلف الأطراف الأخرى.

المطلوب:

انطلاقا من الفقرة واعتمادا على ما درست، اكتب مقالا جغرافيا تبين فيه:

- 1- عوامل التفاوت بين الشمال والجنوب.
2- مظاهر التخلف باعتماد مؤشرات اقتصادية.

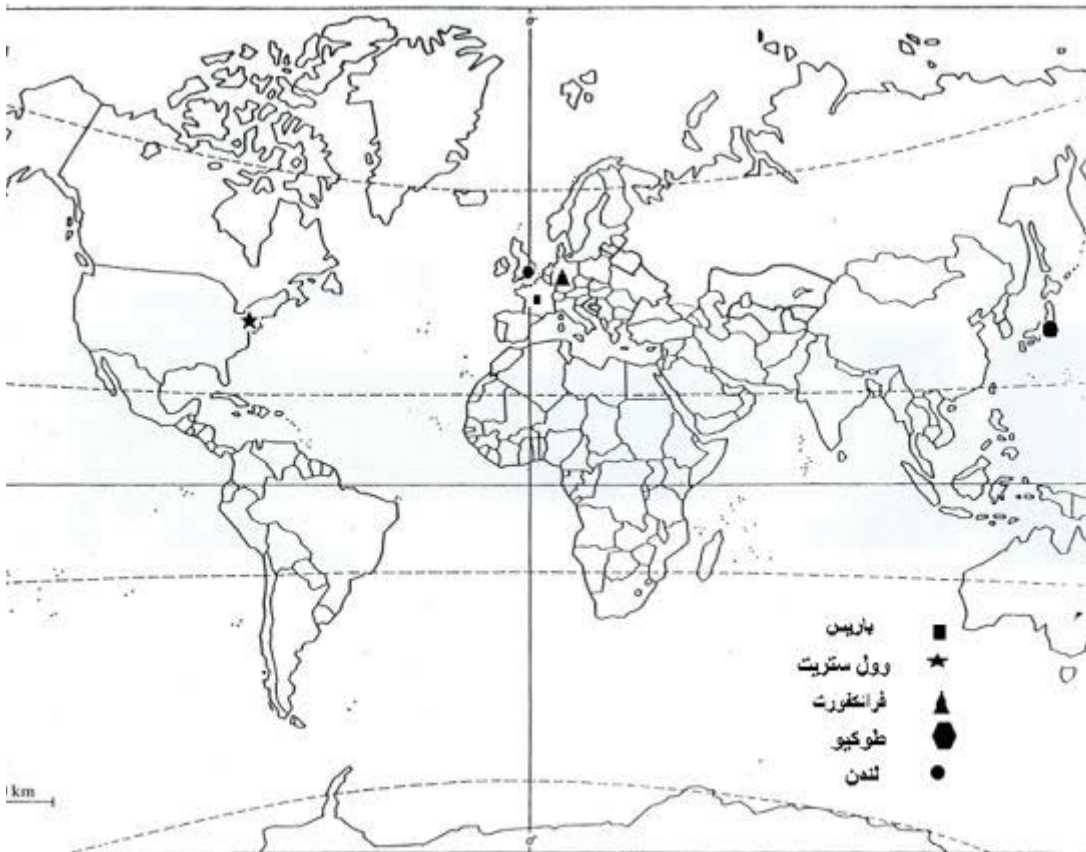
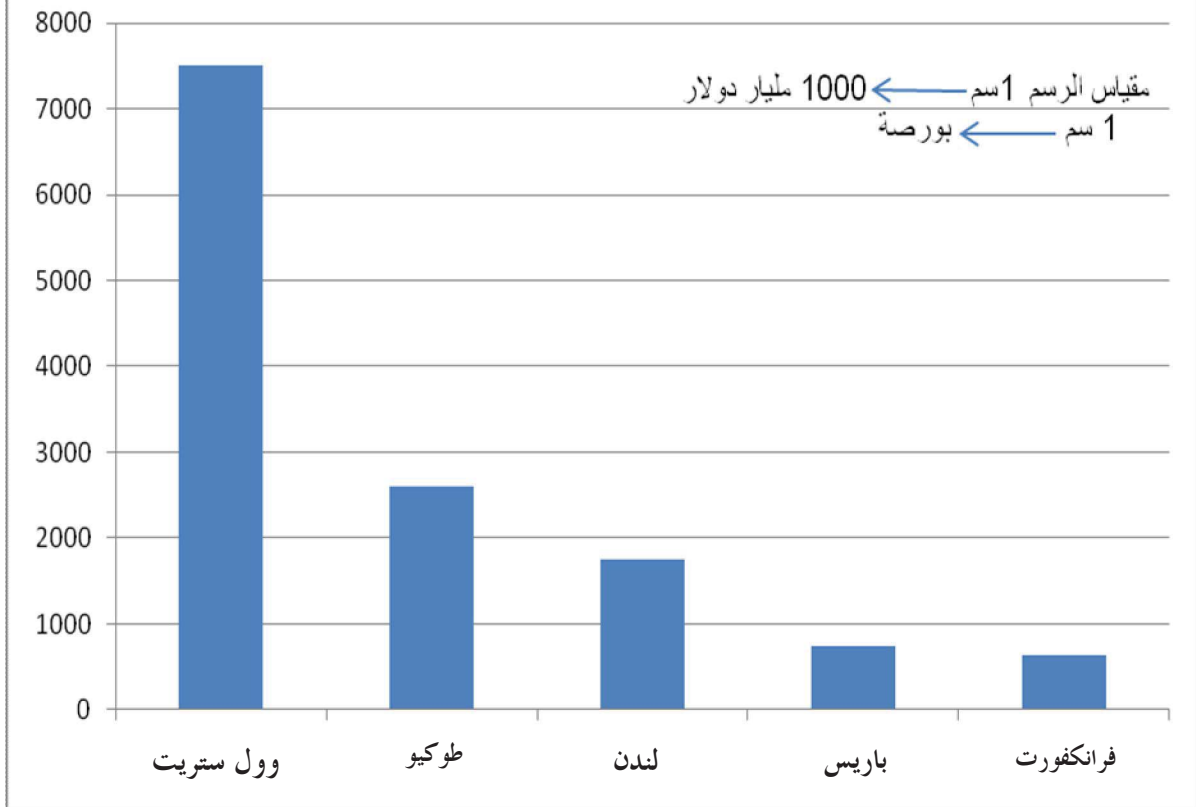


ينجز العمل المطلوب على الخريطة المرفقة وتعاد مع أوراق الإجابة

العلامة		عناصر الإجابة							
مجموع	مجزأة								
06		الموضوع الأول							
		التاريخ							
		الجزء الأول : (06 نقاط)							
		1- مفاهيم المصطلحات :							
	0.75	* - مؤتمر طرابلس: ثاني مؤتمر للثورة الجزائرية بعد مؤتمر الصومام، انعقد بطرابلس الليبية من 27 ماي إلى 04 جوان 1962 حضره معظم قادة الثورة من الحكومة المؤقتة و قادة الجيش و حدد معالم الدولة الجزائرية المستقلة.							
	0.75	* - السيادة الوطنية: هي السلطة الفعلية للدولة على إقليمها و ما فيه من سكان و موارد و الحرية في المواقف و الاختيارات .							
	0.75	* - اتفاقية إيفيان: وقعت في 18 مارس 1962 بمدينة إيفيان بين الجانبين الجزائري و الفرنسي احتوت على العديد من النقاط أهمها وقف إطلاق النار .							
		2- التعريف بالشخصيات:							
	0.75	* - هاري ترومان (1884 - 1972): رئيس و م أ من 1945 إلى 1952 صاحب الإذن بضرب اليابان بالقنبلة الذرية ، صاحب المبدأ الذي حمل اسمه ، مؤيد للحركة الصهيونية .							
	0.75	* - مصطفى بن بولعيد (1917 - 1956): مناضل في حزب الشعب ، المنظمة الخاصة، من مؤسسي اللجنة الثورية للوحدة و العمل، أحد مفجري الثورة و قائد المنطقة الأولى.							
	0.75	* - جوزيف بروز تيتو (1892 - 1980): سياسي يوغسلافي رئيس جمهورية يوغسلافيا و من مؤسسي حركة عدم الانحياز.							
		3- جدول الأحداث :							
		<table><tr><th>التاريخ</th><th>الحدث</th></tr><tr><td>1949-04-04</td><td>تأسيس حلف شمال الأطلسي</td></tr><tr><td>1958 - 10 - 23</td><td>سلم الشجعان</td></tr><tr><td>1961-09-01</td><td>المؤتمر التأسيسي لحركة عدم الانحياز</td></tr></table>	التاريخ	الحدث	1949-04-04	تأسيس حلف شمال الأطلسي	1958 - 10 - 23	سلم الشجعان	1961-09-01
التاريخ	الحدث								
1949-04-04	تأسيس حلف شمال الأطلسي								
1958 - 10 - 23	سلم الشجعان								
1961-09-01	المؤتمر التأسيسي لحركة عدم الانحياز								
0.50									
0.50									
0.50									

العلامة		عناصر الإجابة
مجموع	مجزأة	
04	0.50	<p>الجزء الثاني : (04 نقاط)</p> <p>المقدمة : العالم في ظل القطبية الثنائية 1945 – 1989 و دور حركة عدم الانحياز</p> <p>العرض :</p> <p>1- أسباب التوتر بين المعسكرين :</p> <p>* - الاختلاف الأيديولوجي بين الرأسمالية و الاشتراكية.</p> <p>* - تصادم مصالح المعسكرين .</p> <p>* - النظرة التوسعية للاتحاد السوفياتي و رغبته في نشر الشيوعية.</p> <p>* - خروج و م أ من العزلة السياسية و تصميمها على تطويق الشيوعية</p> <p>2 - دور حركة عدم الانحياز في التخفيف من حدة الصراع :</p> <p>* - محاربة سياسة الأحلاف العسكرية (حلف جنوب شرق آسيا و حلف بغداد)</p> <p>* - محاربة القواعد العسكرية.</p> <p>* - انتهاج سياسة الحياد الايجابي.</p> <p>* - مساندة حركات التحرر في العالم الثالث.</p> <p>الخاتمة : نهاية الحرب الباردة لا يعني انتهاء دور حركة عدم الانحياز.</p>
	0.50	
	0.25	
	0.25	
	0.25	
	0.50	
	0.25	
	0.50	
	0.50	
	0.50	
06		<p>الجغرافيا:</p> <p>الجزء الأول: (06 نقاط)</p> <p>1- مفهوم المصطلحات:</p> <p>* - الناتج الداخلي الخام: هو الثروة المنتجة في دولة ما داخليا خلال سنة واحدة.</p> <p>* - مؤشرات: جمع مؤشر و هو رقم إحصائي يمثل ظاهرة معينة في فترة زمنية محددة</p> <p>لقياس متغيرات كمية أو نوعية اقتصادية ، اجتماعية و ثقافية (إيجابي - سلبي)</p> <p>* - الانترنت: هي عبارة عن شبكة حاسوبية عملاقة تتكون من شبكات أصغر بحيث يمكن لأي شخص متصل بها أن يتجول في هذه الشبكة و أن يحصل على المعلومات.</p> <p>2- التمثيل البياني:</p> <p>أ - رسم بياني:</p> <ul style="list-style-type: none"> • الانجاز • المفتاح • العنوان • المقياس <p>ب- التعيين على الخريطة :</p> <ul style="list-style-type: none"> • الانجاز • العنوان • المفتاح
	0.75	
	0.75	
	0.75	
	1.25	
	0.25	
	0.25	
	0.25	
	1.25	
	0.25	

أعمدة بيانية لأكبر البورصات في العالم

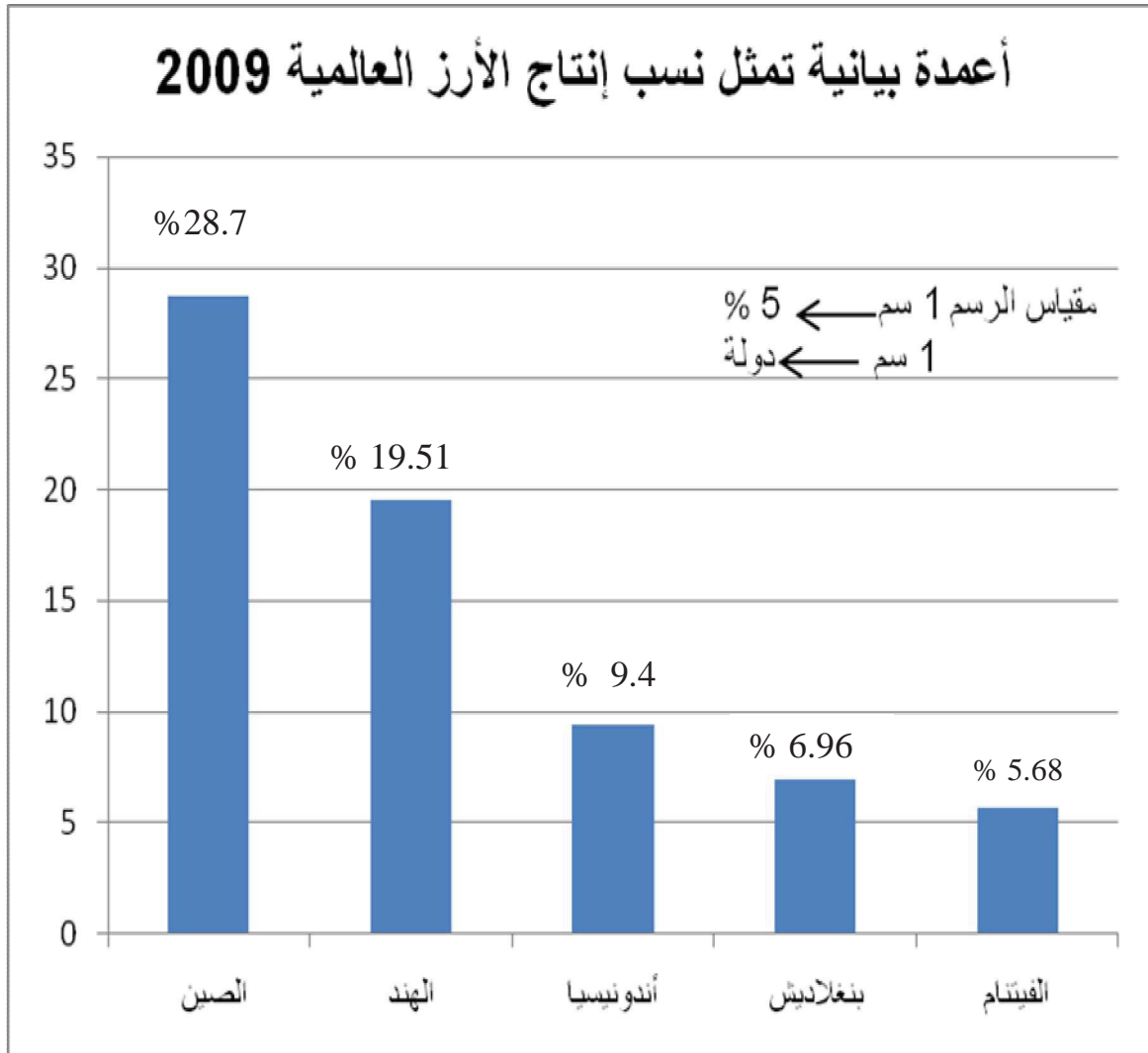


خريطة تمثل أكبر البورصات في العالم

العلامة		عناصر الإجابة
مجموع	مجزأة	
04	0.50	<p>الجزء الثاني : (04 نقاط)</p> <p>المقدمة: الظاهرة الآسيوية بين القوة الديموغرافية و التطور الاقتصادي.</p> <p>العرض:</p> <p>1- دور استثمار العنصر البشري في تحقيق التطور الاقتصادي:</p> <ul style="list-style-type: none"> * - وفرة اليد العاملة المؤهلة. * - سوق استهلاكية واسعة. * - حركة الهجرة و دورها في تدفق رؤوس الأموال . * - ارتفاع ميزانية التعليم و الاهتمام بالبحث العلمي و الباحثين الأجانب. <p>2- مكانة المنطقة في الاقتصاد العالمي:</p> <ul style="list-style-type: none"> * - ثالث قطب اقتصادي. * - تعدد أقطابها الصناعية. * - قوة الأسطول التجاري (يساهم ب 30 % من الأسطول العالمي). * - انفتاح المنطقة على الاستثمارات الأجنبية. * - قوة أسواقها المالية . <p>الخاتمة: حسن استغلال العنصر البشري مكن دول شرق و جنوب شرق آسيا من بناء قوتها الاقتصادية.</p>
	0.50	
	0.25	
	0.50	
	0.25	
	0.50	
	0.25	
	0.25	
	0.25	
	0.25	
	0.25	
	0.25	
	0.25	
	0.50	
06		<p>الموضوع الثاني</p> <p>تاريخ :</p> <p>الجزء الأول : (06 نقاط)</p> <p>1- مفهوم المصطلحات :</p> <ul style="list-style-type: none"> * - الستار الحديدي : مفهوم استعمله ونستون تشرشل رئيس وزراء بريطانيا للتعبير عن أطماع الاتحاد السوفياتي التوسعية لعزل أوروبا الشرقية عن الغربية . * - القوة الثالثة : قوة أنشأتها فرنسا من الموالين لها (العملاء، القياد، بعض المنتخبين) الهدف منها تظليل الرأي العام العالمي . * - المنظمات غير الحكومية: هي منظمات خيرية تعرف بالمجتمع المدني موظفوها متطوعون تنشط في كافة الميادين كالبيئة ، حقوق الإنسان ، الإغاثة ، الرعاية الصحية ، الطفولة ... <p>2- التعريف بالشخصيات:</p> <ul style="list-style-type: none"> * - زيغود يوسف (1921 - 1956) : مناضل في حزب الشعب ثم المنظمة الخاصة ، عضو في اللجنة الثورية للوحدة و العمل قائد المنطقة الثانية بعد استشهاد ديدوش مراد ، منظم و منفذ هجومات الشمال القسنطيني 20 أوت 1955. * - ميخائيل غورباتشوف (1931) : آخر رؤساء الاتحاد السوفياتي 1985 - 1991 صاحب فكرتي البريسترويكا و الغلاسنوست ، وقع العديد من الاتفاقيات التي أدت إلى إنهاء الحرب الباردة . * - أحمد سوكارنو (1901 - 1970): سياسي و زعيم اندونيسي تزعم حركة تحرير بلاده ضد الهولنديين رئيسا لاندونيسيا حتى عام 1967 من مؤسسي حركة عدم الانحياز.
	0.75	
	0.75	
	0.75	
	0.75	
	0.75	
	0.75	
	0.75	
	0.75	
	0.75	

العلامة		عناصر الإجابة								
مجموع	مجزأة									
04		3- جدول الأحداث:								
		<table><tr><th>الحدث</th><th>تاريخه</th></tr><tr><td>حلف وارسو</td><td>1955/05/14</td></tr><tr><td>توحيد الألمانيتين</td><td>1990/10/03</td></tr><tr><td>تأسيس الحكومة المؤقتة للجمهورية الجزائرية</td><td>1958/09/19</td></tr></table>	الحدث	تاريخه	حلف وارسو	1955/05/14	توحيد الألمانيتين	1990/10/03	تأسيس الحكومة المؤقتة للجمهورية الجزائرية	1958/09/19
	الحدث	تاريخه								
	حلف وارسو	1955/05/14								
	توحيد الألمانيتين	1990/10/03								
	تأسيس الحكومة المؤقتة للجمهورية الجزائرية	1958/09/19								
	0.50	الجزء الثاني: (04 نقاط) المقدمة: الجزائر بين الموروث الاستعماري و إعادة بناء دولة ذات سيادة. العرض:								
		1- ظروف قيام الدولة الجزائرية السياسية و الاجتماعية:								
	0.25	أ- السياسية:								
	0.25	• نشاط منظمة الجيش السري الإرهابية (O.A.S).								
	0.25	• قيود إتفاقيات إيفيان 1962/03/18.								
	0.25	• مؤتمر طرابلس و قراراته.								
	0.25	• استفتاء تقرير المصير 1962/07/01.								
	0.25	• تكوين الجمعية التأسيسية سبتمبر 1962 التي أعلنت قيام الجمهورية الجزائرية الديمقراطية الشعبية في 1962/09/26 .								
	0.25	ب - الاجتماعية:								
	0.50	• ضحايا الثورة التحريرية و مخلفاتها .								
0.25	• الثالوث الأسود (فقر ، جهل ، مرض) .									
	2- الاختيارات السياسية التي أقرها ميثاق طرابلس :									
0.25	• تشييد دولة عصرية تعتمد ممارسة المسؤولية السياسية فيها على التحليل الموضوعي ، و تتحقق الفكرة الديمقراطية في مؤسساتها.									
0.25	• رفض كل أشكال النزعة الذاتية و الارتجال و الغموض.									
0.25	• إتباع سياسة خارجية متحررة و رافضة للاستعمار و التبعية.									
0.50	• العمل على تجسيد الوحدة المغاربية و العربية و الإفريقية .									
	الخاتمة: إعادة بناء الدولة الجزائرية تجسيد لمواثيق الثورة.									
	الجغرافيا:									
	الجزء الأول: (06 نقاط)									
	1- مفهوم المصطلحات:									
0.75	* - التكتل الاقتصادي: اتحاد مجموعة دول موثق في اتفاقية له هياكل عضوية تنظيمية موحدة يتمتع									
0.75	بالشخصية القانونية له مجال جغرافي تلغى فيه الحواجز الجمركية بين الدول الأعضاء.									
	* - تبييض الأموال: تحويل الأموال غير المشروعة إلى أموال مشروعة عبر عمليات بنكية وتجارية.									
0.75	* - التتينات الأربعة: مصطلح جغرافي اقتصادي يطلق على أربع دول آسيوية: كوريا الجنوبية، هونغ كونغ، سنغافورة ، تايوان ، تتميز بنمو اقتصادها السريع.									

العلامة		عناصر الإجابة
مجموع	مجزأة	
06	01	<p>2- التمثيل البياني:</p> <p>أ- الرسم البياني : - الانجاز</p> <p>- المقياس</p> <p>- المفتاح</p> <p>- العنوان</p> <p>ب- التعليق:</p> <p>* - هيمنة البلدان الآسيوية على إنتاج الأرز.</p> <p>* - احتلال الصين الشعبية للمرتبة الأولى عالميا في إنتاجه .</p> <p>* - اهتمام هذه الدول بهذا المحصول كونه الغذاء الرئيسي للسكان.</p> <p>* - ملائمة الظروف الطبيعية لزراعته.</p>
	0.25	
	0.25	
	0.25	
	0.50	
	0.50	
	0.50	
	0.50	
04	0.50	<p>الجزء الثاني: (04 نقاط)</p> <p>المقدمة : النظام الاقتصادي العالمي و انعكاساته.</p> <p>العرض: 1- عوامل التفاوت بين الشمال و الجنوب :</p> <p>* - الاستعمار .</p> <p>* - الاستقرار السياسي في الشمال و انعدامه في الجنوب .</p> <p>* - إجحاف النظام الاقتصادي العالمي القائم .</p> <p>* - نجاح السياسات الاقتصادية في الشمال و فشلها في الجنوب .</p> <p>* - تشجيع العلم و البحث العلمي في الشمال عكس الجنوب .</p> <p>* - تحكم الشمال في التكنولوجيا عكس الجنوب .</p> <p>2- مظاهر التخلف باعتماد مؤشرات اقتصادية :</p> <p>* - ضعف نسبة المساهمة في الإنتاج الزراعي العالمي 35 % .</p> <p>* - ضعف نسبة المساهمة في الإنتاج الصناعي العالمي 10 % .</p> <p>* - ضعف نسبة المساهمة في التجارة الدولية 18 % .</p> <p>* - الاعتماد على تصدير المواد الأولية .</p> <p>* - المساهمة في الدخل الخام العالمي بـ 20 % .</p> <p>الخاتمة: ضرورة إعادة النظر في النظام الاقتصادي العالمي القائم .</p>
	0.25	
	0.25	
	0.25	
	0.25	
	0.25	
	0.25	
	0.25	
	0.25	
	0.25	
	0.25	
	0.50	



الجمهورية الجزائرية الديمقراطية الشعبية

وزارة التربية الوطنية

الديوان الوطني للامتحانات والمسابقات

امتحان بكالوريا التعليم الثانوي

دورة: جوان 2011

الشعبة: علوم تجريبية، رياضيات، تقني رياضي

اختبار في مادة: التاريخ والجغرافيا

المدة: 03 سا و30د

على المترشح أن يختار أحد الموضوعين الآتين:

الموضوع الأول

التاريخ

الجزء الأول: (06 نقاط)

1. "...بعد غياب الاتحاد السوفيتي كقطب دولي مؤثر في السياسة الدولية، تعرض التوازن الدولي إلى خلل كبير إيدانا بنهاية القطبية الثنائية وبداية عهد القطبية الأحادية مثلتها الولايات المتحدة الأمريكية... إلى المناداة بما أسمته النظام الدولي الجديد... وتراجع وضعف دول الجنوب...".
المرجع: عبد العظيم جيري حافظ / النظام الدولي الجديد والولايات المتحدة الأمريكية.
■ حدد مفهوم المصطلحات التي تحتها خط.

2. عرف بالشخصيات الآتية:

* هوشي منه. * شارل ديغول. * هواري بومدين.

3. أكمل جدول الأحداث:

التاريخ	الحدث
	تأسيس المنظمة الفرانكفونية
15 أوت 1947	
	قيام الجمهورية الجزائرية

الجزء الثاني: (04 نقاط)

ركزت الولايات المتحدة الأمريكية بعد تفكك المعسكر الشرقي على توسيع سيطرتها بفرض هيمنتها السياسية والاقتصادية والعسكرية على العالم وذلك بتوظيف مؤسسات ووسائل وفق متطلبات استراتيجياتها.

المطلوب: انطلاقا من الفقرة واعتمادا على ما درست أكتب مقالا تاريخيا تبين فيه:

1. ملامح النظام الدولي الجديد.

2. المؤسسات والوسائل التي وظفتها الولايات المتحدة الأمريكية.

الجزء الأول: (06 نقاط)

1. "...يمثل الاتحاد الأوروبي قطبا اقتصاديا بدأ يتشكل بعد الحرب العالمية الثانية...وهكذا بدأ الأوروبيون في الخمسينات في إنشاء سوق مشتركة، فمن معاهدة روما الشهيرة، فسوق أوروبية موحدة، فاتحاد اقتصادي ونقدي ضمن معاهدة ماستريخت وبذلك تكون التحالفات الاقتصادية في أوروبا سوقا موحدة تضم 337 مليون نسمة...لكن مجموع ناتجها القومي الإجمالي أكبر بكثير من مثيله بالولايات المتحدة الأمريكية وإذا ما التحقت بقية وسط أوروبا وشرقها فإنها يمكن أن تتشئ سوقا تضم حوالي 850 مليون نسمة..."

" الصراع الاقتصادي...إلى أين؟ " - محمد عبد الدايم -

* حدد مفهوم المصطلحات التي تحتها خط.

2. إليك جدول لمناطق التبادل التجاري للجزائر سنة 2008. الوحدة: مليون دولار

المناطق	الصادرات	النسبة %	الواردات	النسبة %
المغرب العربي	1324	1.69	387	0.99
إفريقيا	316	0.40	396	1.01
أوروبا	39970	51.09	21504	54.92
بقية العالم	36623	46.82	16869	43.08
المجموع	78233	100	39156	100

المرجع: الوزارة المالية / الإدارة العامة للجمارك الجزائرية

المطلوب:

أ- مثل نسب الصادرات والواردات بدائرتين نسبيتين نق = 4 سم

ب- علق على الرسم.

الجزء الثاني (04 نقاط):

تضم الولايات المتحدة الأمريكية عدة أقاليم متعددة المجالات ومتفاوتة الإمكانيات، وهو ما أهلها إلى بناء قوة اقتصادية عالمية.

المطلوب: انطلاقا من الفقرة واعتمادا على ما درست أكتب موضوعا جغرافيا تبين فيه:

1. خصوصيات الإقليم الشمالي الشرقي للولايات المتحدة الأمريكية.

2. أثر القوة الاقتصادية الأمريكية على الاقتصاد العالمي.

الموضوع الثاني

التاريخ

الجزء الأول: (06 نقاط)

1. "...فمنذ إعلان الرئيس السوفيتي غورباتشوف عن إصلاحات البروسترويك، إلى هدم جدار برلين وتحرير الكويت من الغزو العراقي 1991، تهيأت ظروف للهيمنة الأمريكية على المستوى الاقتصادي والسياسي...أفرزت أول أحادية قطبية سياسية وإيديولوجية كان لها الأثر العميق في الإسراع بوضع نظام دولي جديد...".
- " الصراع الاقتصادي ... إلى أين؟ " - محمد عبد الدايم -
- * حدد مفهوم المصطلحات التي تحتها خط.
2. عرف بالشخصيات الآتية :
- * زيغود يوسف.
- * فيدال كاسترو.
- * نيكيتا خروتشوف.
3. أكمل جدول الأحداث.

التاريخ	الحدث
	حادثة ساقية سيدي يوسف
01 جانفي 1965	
	مشروع مارشال

الجزء الثاني: (04 نقاط)

- قال منديس فرانس رئيس الحكومة الفرنسية سنة 1954:
- "...وقد اتخذنا الإجراءات الصارمة...وأعدنا وجندنا جميع الإمكانيات حتى تتغلب قوة الأمة. إن الجزائر هي فرنسا من فلاندر حتى الكونغو، ليس هناك إلا قانون واحد وبرلمان واحد هذا هو الدستور وهذه إرادتنا...".

المطلوب:

- انطلاقا من الفقرة واعتمادا على ما درست أكتب مقالا تاريخيا تبرز فيه:
1. الإستراتيجية العسكرية الفرنسية للقضاء على الثورة 1954 - 1956.
 2. رد فعل الثورة على هذه الإستراتيجية.

الجزء الأول: (06 نقاط)

- 1 "...ارتفعت أسعار النفط في الأسواق العالمية بشكل كبير إذ تجاوزت 70 دولارا للبرميل في نهاية تعاملات سنة 2006...ويرى مندوبون في منظمة الأوبك أن العوامل السياسية هي التي ترفع السعر مشددين على أنه لا نقص في معروض النفط في السوق...ويبدو أن أسباب الزيادة ما تزال مستوطنة في منطقة الشرق الأوسط نفسها...".
- تسييس النفط يلقي بظلاله على أسواق الطاقة الدولية -عماد غانم-
- * حدد مفهوم المصطلحات التي تحتها خط.

2 إليك جدول يمثل بعض الدول المنتجة للبترول سنة 2007:

الوحدة: مليون طن

الدول	م.ع السعودية	روسيا	الوم أ	إيران	الصين	المكسيك	كندا	الإمارات	فنزويلا	الكويت
الإنتاج	493.1	491.3	311.5	212.1	186.7	173	158.9	135.9	133.9	129.6
النسبة	21.3	11.2	9.3	7,9	7	6.4	3.3	3.2	2.9	2.2

المرجع: المجلة الإحصائية العالمية للطاقة 2008

المطلوب:

أ- علق على الجدول.

ب- على خريطة العالم المرفقة وقع أسماء الدول المنخرطة في منظمة الأوبك الواردة في الجدول.

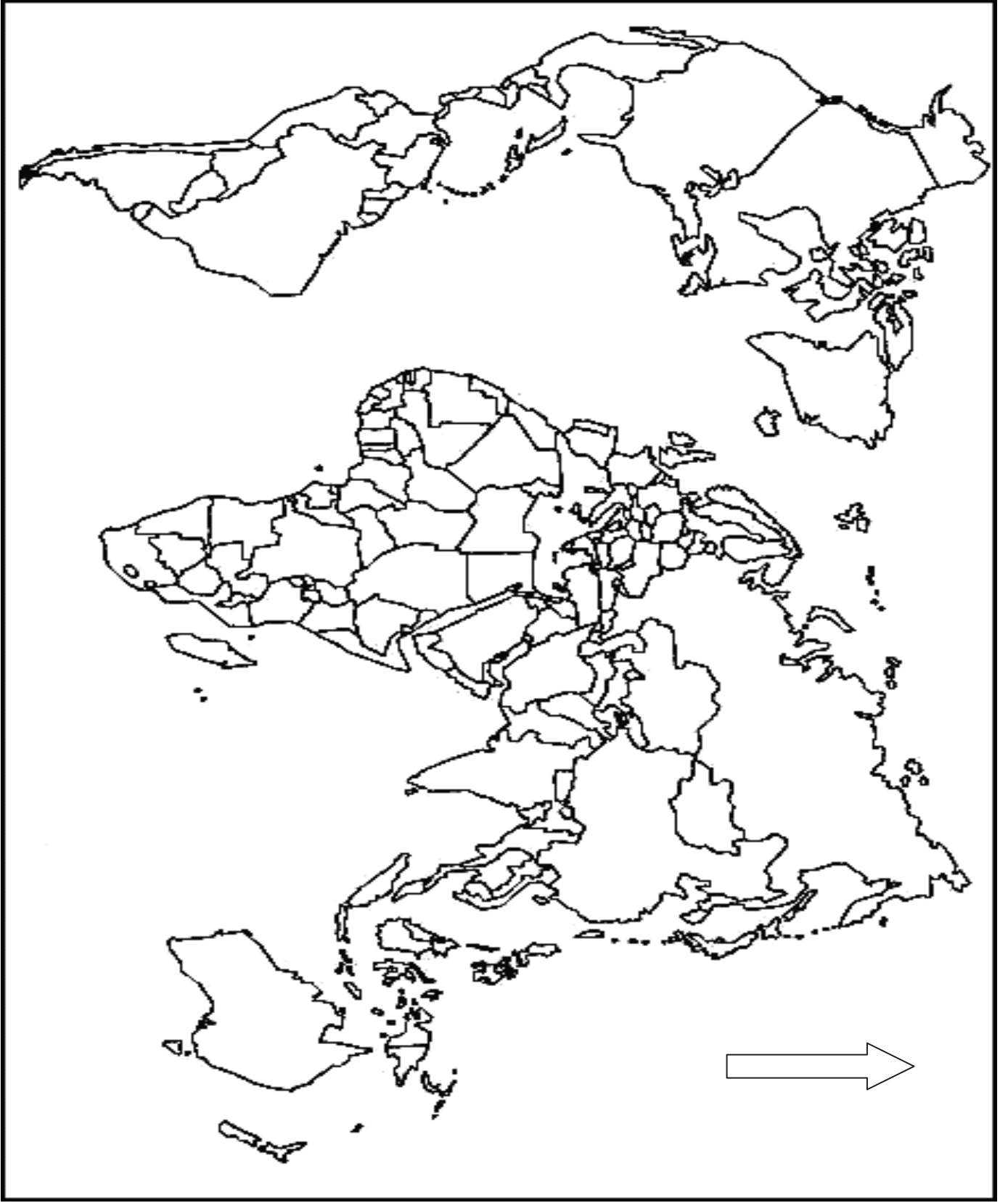
الجزء الثاني: (04 نقاط)

يعد الاتحاد الأوروبي في شكله الجديد أكبر سوق في العالم ورائدا في مجال البحث العلمي والتكنولوجي وثاني قوة مصدرة للمواد الغذائية بعد الولايات المتحدة الأمريكية.

المطلوب: انطلاقا من الفقرة واعتمادا على مكتسباتك أكتب موضوعا جغرافيا تبرز فيه:

- (1) - مكانة الاتحاد الأوروبي في الاقتصاد العالمي.
- (2) - التحديات التي تواجه الاتحاد الأوروبي حاليا.

خريطة العالم م



ينجز العمل المطلوب على الخريطة وتعاد مع أوراق الإجابة

الإجابة النموذجية

العلامة		عناصر الإجابة
مجموع	مجزأة	
06		الموضوع الأول
		تاريخ:
		الجزء الأول: (06 نقطة)
		1- مفهوم المصطلحات:
	0.75	*التوازن الدولي: توازن عسكري نووي دولي منبثق من امتلاك كل من الو.م. أ و الإتحاد السوفياتي للسلاح النووي تستطيع بها تدمير القوة الأخرى واقتناع كل طرف استحالة تدمير الطرف الآخر.
	0.75	*القطبية الثنائية: نمط للعلاقات الدولية ظهر بعد الحرب العالمية الثانية واستمر إلى غاية 1989 ارتبط بصراع الحرب الباردة، يقوم على تنافس الكتلتين الشرقية والغربية من اجل الهيمنة على العالم.
	0.75	*النظام الدولي الجديد: مجموعة من المبادئ والقيم والضوابط التي تدير العلاقات الدولية في مختلف المجالات السياسية والاقتصادية كميثاق دولي ملزم للجميع، تجلت بواكره الأولى في مؤتمر مالطا 1989م وهو تصور العلاقات الدولية كما تريدها الولايات المتحدة.
		2- التعريف بالشخصيات:
	0.75	* هوشي منه: (1894-1969). مؤسس الحزب الفيتنامي 1930، شارك في تأسيس جبهة الفيت منه، أعلن عن تأسيس حكومة وطنية في هانوي 1945، خاض حربا ضد الاحتلال الفرنسي والأمريكي.
	0.75	* شارل ديغول: (1890-1970م). قائد المقاومة الفرنسية ضد النازية الألمانية ورئيس الحكومة الحرة من 1944-1946م، أصبح رئيسا للجمهورية الفرنسية الخامسة سنة 1958م حاول القضاء على الثورة الجزائرية لكنه أجبر على الاعتراف باستقلال الجزائر سنة 1962.
	0.75	* هواري بومدين: محمد إبراهيم بخروبة، (1932-1978) سياسي وعسكري من قادة الثورة، وزيرا للدفاع 1962-1965 ثم رئيسا لمجلس الثورة 65-76 ثم رئيس للدولة 76-78 من مناصري حركات التحرر وأحد أقطاب حركة عدم الانحياز.

العلامة		عناصر الإجابة								
مجموع	مجزأة									
04		3- جدول الأحداث :								
		<table><tr><th>التاريخ</th><th>الحدث</th></tr><tr><td>1970/03/20</td><td>تأسيس المنظمة الفرانكفونية</td></tr><tr><td>1947/08/15</td><td>استقلال وتقسيم الهند</td></tr><tr><td>1962/09/25</td><td>قيام الجمهورية الجزائرية</td></tr></table>	التاريخ	الحدث	1970/03/20	تأسيس المنظمة الفرانكفونية	1947/08/15	استقلال وتقسيم الهند	1962/09/25	قيام الجمهورية الجزائرية
	التاريخ	الحدث								
	1970/03/20	تأسيس المنظمة الفرانكفونية								
	1947/08/15	استقلال وتقسيم الهند								
	1962/09/25	قيام الجمهورية الجزائرية								
	0.50									
	0.50									
	0.50									
	0.50									
	0.50									
	0.50									
	0.50									
	0.50									
0.50										
0.50										
0.50										

الجزء الثاني: (04 نقطة)

المقدمة: الو. م. ا بين تراجع الدور السوفيتي والرغبة في الهيمنة العالمية.

العرض:

1/ ملامح النظام الدولي الجديد:

- * انهيار المعسكر الشرقي وتفكك الاتحاد السوفيتي.
- * زوال القطبية الثنائية وبروز الأحادية القطبية.
- * هيمنة الولايات المتحدة الأمريكية على المنظمات الدولية والإقليمية.
- * وصول حركة عدم الانحياز إلى مفترق الطرق.

2/ المؤسسات والوسائل التي وظفتها الو م أ:

- * سياسيا: هيئة الأمم المتحدة (قرارات - الفيتو).
- * اقتصاديا: المؤسسات المالية والاقتصادية (صندوق النقد الدولي ،البنك العالمي، المنظمة العالمية للتجارة) والشركات متعددة الجنسيات والوكالة الدولية للطاقة الذرية والمنظمات غير الحكومية.
- * عسكريا: الحلف الأطلسي.
- * إعلاميا: التحكم في وسائل الإعلام.
- * تكنولوجيا: التحكم في وسائل الاتصال (الأقمار الصناعية - الانترنت...).

الخاتمة: العالم من هيمنة ثنائية إلى أحادية قطبية.

جغرافيا:

الجزء الأول: (06 نقطة)

1- مفهوم المصطلحات

- * الاتحاد الأوروبي: تكتل دول أوروبية فيما بينها اقتصاديا مكونة سلسلة من التكتلات منذ اتفاقية روما 1957. من السوق الأوروبية المشتركة إلى الاتحاد الأوروبي يضم 27 دولة منذ سنة 2007.
- * معاهدة ماستريخت: نسبة إلى بلدة هولندية والتي وضعت فيها أسس وأهداف ومبادئ الاتحاد الأوروبي وبموجبها تغير اسم المجموعة الاقتصادية الأوروبية في: 1992/2/7 إلى الاتحاد الأوروبي.
- * الناتج القومي الإجمالي: مجموع قيمة السلع المنتجة والخدمات المقدمة، في بلد ما خلال سنة معينة " بالدولار الأمريكي ".

مجموع	مجزأة	
06	01.25	2- أ) رسم بياني :
	0.25	* الانجاز
	0.25	* المفتاح
	0.25	* العنوان
	0.50	ب) التعليق:
	0.50	- تفاوت في نسب المبادلات التجارية بين المناطق (التنوع).
04	0.50	- ضعف نسب المبادلات التجارية مع دول المغرب العربي وإفريقيا (التخلف- نقص التواصل)
	0.50	- ارتفاع نسب المبادلات التجارية مع أوروبا (التطور -العامل التاريخي).
	0.50	- ارتفاع نسب المبادلات التجارية مع بقية العالم (الانفتاح-التنوع).
	0.50	الجزء الثاني:(04نقطة)
	0.50	المقدمة: دور الإقليم في الاقتصاد الأمريكي ومكانة الولايات المتحدة في الاقتصاد العالمي.
	0.50	العرض:
	0.25	1- خصوصيات الإقليم الشمالي الشرقي :
	0.25	* - ينقسم إلى منطقتين:
	0.25	- الميغالو بوليس(تجمع المدن الكبرى).
	0.25	- البحيرات الكبرى.
	0.25	* - يشغل 12 %من المساحة الكلية و يمثل 42 % من مجموع سكان الو. م. أ.
	0.25	* - إقليم زراعي هام(نطاق الخضر والفواكه والقمح، الذرة وتربية المواشي، مملكة الألبان)
	0.25	وتمركز 48 % من الصناعات (الحديد والصلب وبناء السفن والالكترونية...).
	0.25	* - قطب المؤسسات المالية(بورصة وول استريت)
	0.25	* - العاصمة السياسية (واشنطن) ومركز سياحي.
	0.25	2- أثر القوة الاقتصادية الأمريكية على الاقتصاد العالمي:
	0.25	* - تفوق الدولار الأمريكي كعملة عالمية يمثل 50% من المبادلات الدولية.
	0.25	* - الهيمنة والتأثير على المؤسسات المالية العالمية.
	0.25	* - استخدام القمح كورقة ضغط ضد الدول الضعيفة " السلاح الأخضر".
	0.25	* - نفوذ الشركات متعددة الجنسيات عن طريق إقامة فروع لها في مختلف العالم.
	0.25	* - الهيمنة على التجارة العالمية.
	0.25	* - التحكم في التكنولوجيا.
	0.25	* - التحكم في منابع الموارد الإستراتيجية ومصادر القرار.
	0.50	الخاتمة: وظفت الو م أ مختلف إمكاناتها الاقتصادية لبسط نفوذها وفرض هيمنتها على دول العالم الخارجي.

مجموع	مجزأة									
06		<p>الموضوع الثاني</p> <p>التاريخ:</p> <p>الجزء الأول: (06نقطة)</p> <p>1- مفهوم المصطلحات:</p> <p>* البروسترويك: مصطلح سياسي واقتصادي اعتمده غورباتشوف زعيم الاتحاد السوفيتي بعد وصوله إلى الحكم 1985. يعني إعادة بناء وهيكلية الاقتصاد السوفيتي على النمط الغربي.</p> <p>* جدار برلين(جدار العار): شرع الشيوعيون في إقامته سنة 1961، يفصل مدينة برلين إلى جزئين (شرقي وغربي)،تم تحطيمه سنة 1989.</p> <p>* أحادية قطبية: نظام دولي بدأت تنزعها الولايات المتحدة الأمريكية بعد نهاية الحرب الباردة (لقاء مالطا). يعتمد على قوة دولة واحدة توجه السياسة الدولية.</p> <p>2- التعريف بالشخصيات:</p> <p>* زيغوديسوف: (1921-1956)مناضل في حزب الشعب ثم المنظمة الخاصة. اشترك في التحضير للثورة المسلحة، من مجموعة 22 التاريخية. قاد هجوم الشمال القسنطيني في 20أوت 1955عضو المجلس الوطني للثورة الجزائرية 1956. استشهد في23 سبتمبر 1956.</p> <p>* فيدال كاسترو: رئيس كوبا خلفا للجنرال باتيستا من 1959 الي 2008. عرف بمواقفه المعارضة للامبريالية والولايات المتحدة الأمريكية. لقي دعما كبيرا من طرف ا.س. تولى عن رئاسة كوبا بسبب المرض لأخيه راؤول كاسترو.</p> <p>* نيكيتا خروتشوف (1895-1975): زعيم سوفيتي وأحد كبار قادة الحزب الشيوعي تولى قيادة الاتحاد السوفيتي بعد وفاة ستالين ضمن القيادة الثلاثية مع بولغانين ومالينكوف تميز باعتداله تجاه الصراع مع الغرب الرأسمالي وأحد دعاة التعايش السلمي.</p> <p>3- جدول الأحداث :</p> <table><tr><th>التاريخ</th><th>الحدث</th></tr><tr><td>1958/02/08</td><td>حادثة ساقية سيدي يوسف</td></tr><tr><td>1965/01/01</td><td>اندلاع الثورة الفلسطينية</td></tr><tr><td>1947/06/05</td><td>مشروع مارشال</td></tr></table>	التاريخ	الحدث	1958/02/08	حادثة ساقية سيدي يوسف	1965/01/01	اندلاع الثورة الفلسطينية	1947/06/05	مشروع مارشال
	التاريخ	الحدث								
	1958/02/08	حادثة ساقية سيدي يوسف								
	1965/01/01	اندلاع الثورة الفلسطينية								
	1947/06/05	مشروع مارشال								
	0.75									
	0.75									
	0.75									
	0.75									
	0.75									
0.50										
0.50										
0.50										

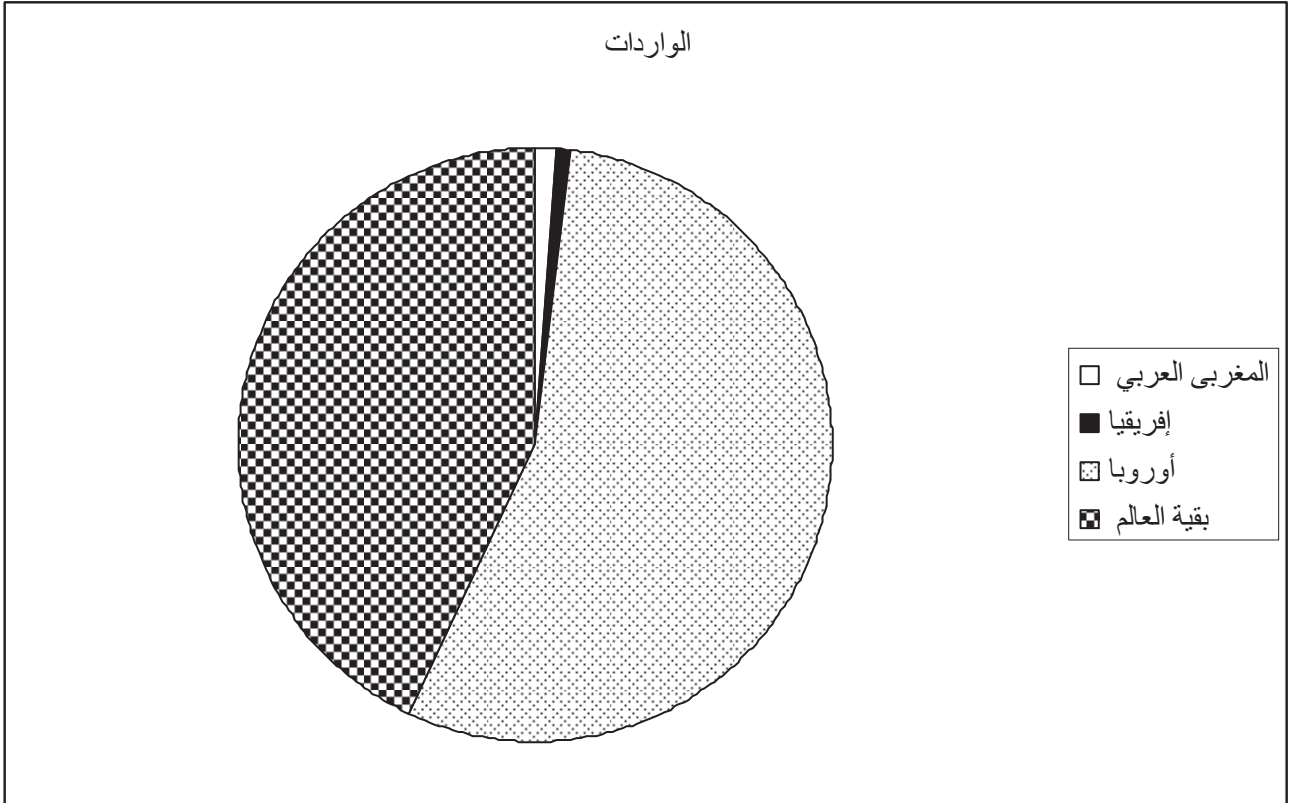
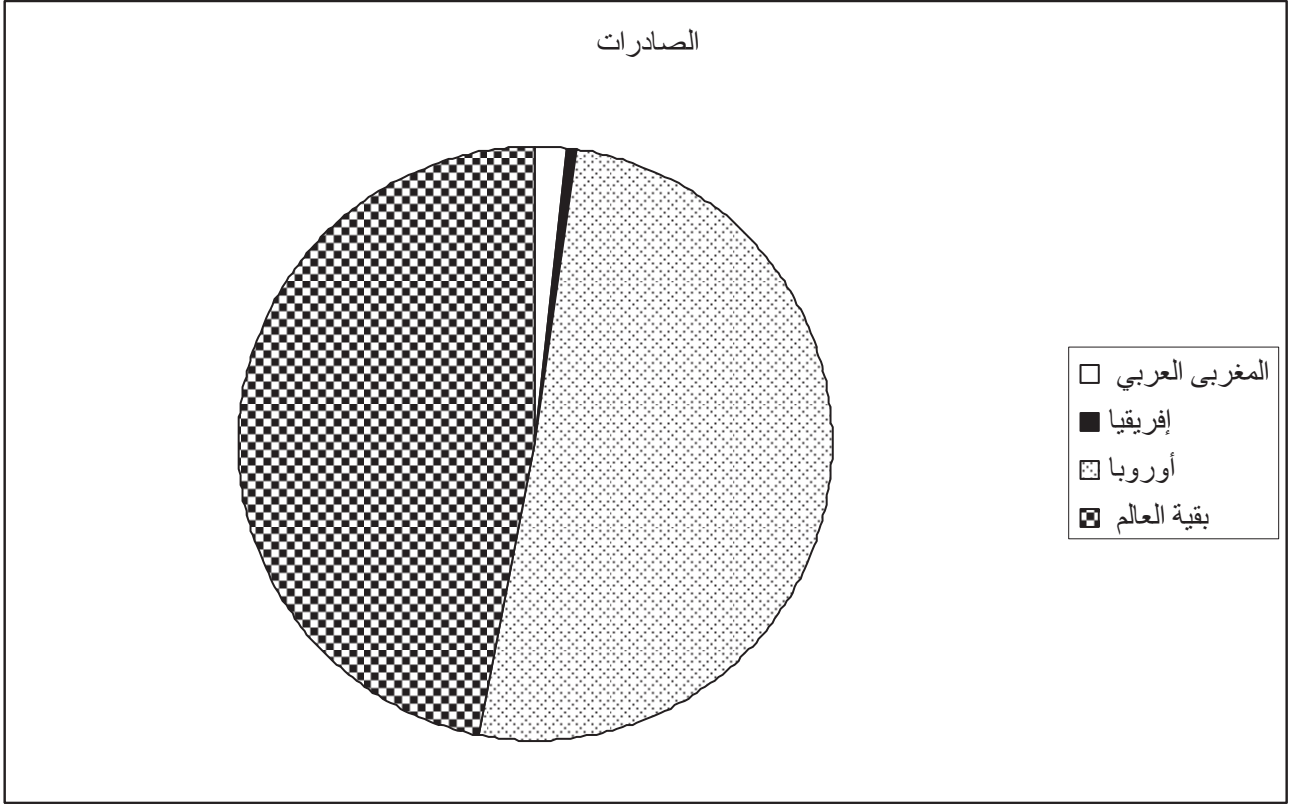
مجموع	مجزأة	
04	0.50	الجزء الثاني: (04 نقطة) المقدمة: مساعي فرنسا للقضاء على الثورة ورد الفعل. العرض: 1- الإستراتيجية العسكرية الفرنسية للقضاء على الثورة 1954-1956: * فرض الحصار العسكري على منطقة الأوراس. * زيادة عدد الجيش الفرنسي. * فرض حالة الطوارئ على الجزائر 1955/04/30. * إنشاء مكاتب الفرق الإدارية الخاصة (لاصاص) وإتباع سياسة القمع والإيقاف الجماعي 1956 (مدرسة جان دارك). * الخطوط المكهربة على الحدود وإقامة مناطق الألغام والمراكز العسكرية. 2- رد فعل الثورة على هذه الإستراتيجية: * الاعتماد على حرب العصابات وخطة الكر والفر. * تنفيذ ادعاءات الاستعمار. * تنظيم و تقسيم الجزائر الى خمس مناطق ثم إلى ست ولايات عسكرية سنة 1956. * توسيع وتوزيع العمليات العسكرية في مختلف أرجاء البلاد (حرب المدن). * هجوم الشمال القسنطيني 1955/08/20. الخاتمة: إرادة الشعب الجزائري قهرت جبروت وتغنت فرنسا.
	0.25	
	0.25	
	0.25	
	0.25	
	0.25	
	0.25	
	0.25	
	0.25	
	0.25	
	0.25	
	0.25	
	0.25	
	0.25	
06	0.50	الجغرافيا: الجزء الأول: (06 نقطة) 1- التعريف بالمصطلحات: * الأسواق العالمية: الفضاءات المسخرة لتداول جميع السلع (بيع، شراء ومقايضة) وعقد الصفقات التجارية. * البرميل: وحدة قياس انجليزية تستعمل في التجارة البترولية ويقدر البرميل بـ 159 لتر من البترول الخام. * منظمة الأوبك: منظمة الدول المصدرة للبترول تأسست في 1960/9/10 من طرف خمس دول مقرها فينا. 2- التعليق: * ضخامة الإنتاج العالمي للبترول. * معظم الدول المنتجة من الجنوب (أكثر من ثلثي الإنتاج العالمي). * التفاوت في الإنتاج بين الدول المنتجة. 3- الخريطة: * - الإنجاز. * - العنوان.
	0.75	
	0.75	
	0.75	
	0.75	
	0.75	
	0.75	
	0.75	
	0.75	
	0.75	
	0.75	
	0.75	
	0.75	
	0.75	
	0.25x5 0.25	

تابع الإجابة النموذجية لموضوع مقترح لامتحان / مسابقة:البكالوريا..... دورة: 2011
اختبار مادة:التاريخ والجغرافيا..... الشعبة/السلك (*): ع/ تجريبية + رياضيات + تقني رياضي. المدة: 3 سا ونصف

مجموع	مجزأة	
04	0.50	الجزء الثاني:(04نقطة) المقدمة: الاتحاد الأوروبي بين قوة ومكانته الاقتصادية والتحديات المستقبلية. العرض:
	0.50	1- مكانة الاتحاد الأوروبي في الاقتصاد العالمي: * قوة التكامل الصناعي (الصناعة الميكانيكية - الطائرات - ...) والزراعي (وضع سياسة مشتركة - أوروبا الخضراء).
	0.25	* ارتفاع قيمة العملة الأوروبية ودورها في الاقتصاد العالمي.
	0.25	* قوة بشرية (يد عاملة مؤهلة، سوق استهلاكية).
	0.25	* تحقيق فائض في الميزان التجاري.
	0.25	* القدرة على المنافسة الخارجية ثاني قطب اقتصادي في العالم.
	0.25	2- التحديات التي تواجه الاتحاد الأوروبي حاليا: * التوسع قد يشكل تهديدا لاقتصاديات الدول العضوة حاليا.
	0.25	* التراجع الرهيب في النمو الديمغرافي.
	0.25	* هيمنة بعض الأقطاب (ألمانيا، فرنسا وبريطانيا).
	0.25	* الهجرة نحو دول الاتحاد وتدفق مواطني أوروبا الوسطى والشرقية العضوة على دول أوروبا الغربية.
	0.25	* التباين الإقليمي وتفاوت النمو الاقتصادي.
	0.25	* الأزمات (المالية، السياسية، العملة).
	0.50	الخاتمة: يبقى الاتحاد الأوروبي يشكل قوة اقتصادية وثاني قطب عالمي رغم وجود بعض الصعوبات التي تضعه أمام تحديات جديدة .

المرفقات:

مناطق التبادل التجاري للجزائر سنة 2008





على المترشح أن يختار أحد الموضوعين التاليين

الموضوع الأول: (20 نقطة)

التاريخ

الجزء الأول: (06 نقاط)

1- حدّد مفهوم المصطلحات التالية:

- مشروع قسنطينة - القوة الثالثة - تقرير المصير.

2- عرّف بالشخصيات التالية:

- مصالي الحاج - هاري ترومان - ليونيد بريجنيف.

3 - أكمل الجدول التالي:

التاريخ	الحدث
04 أفريل 1949	
	مظاهرات شعبية في الجزائر
03 ديسمبر 1989	

الجزء الثاني: (04 نقاط)

ساد الاعتقاد لدى الاتحاد السوفياتي بعد الحرب العالمية الثانية أن أمركة أوروبا ستصبح خطرا عظيما لأنها ستؤدي لأمركة العالم بأسره، وحينها ستفقد الإنسانية جمعاء ماضيها.

المطلوب :

انطلاقا من الفقرة واعتمادا على ما درست، أكتب مقالا تاريخيا تبرز فيه:

1- أساليب تصدي الاتحاد السوفياتي لأمركة أوروبا والعالم.

2- مدى صحة هذا الاعتقاد بعد 1989 مدعما إجابتك بأمثلة.

الجغرافيا

الجزء الأول: (06 نقاط)

1- حدّد مفهوم المصطلحات التالية:

- عالم الشمال - الاستثمار - الشراكة.

2- إليك جدولاً لصادرات الصين نحو العالم سنة 2002:

المنطقة	و. م. أ.	أوروبا	اليابان	آسيا	بقية العالم
النسبة %	21.5	18.2	14.8	37.5	08

الكتاب المدرسي - ص: 103

المطلوب: مثل أرقام الجدول بدائرة نسبية: نق = 3 سم.

3- إليك جدولاً للدول الخمس الأولى المنتجة والمصدرة والمستهلكة للنفط في العالم سنة 2005:

الدول المنتجة	الكمية م/طن	الدول المصدرة	الكمية م/طن	الدول المستهلكة	الكمية م/طن
م. العربية السعودية	418	م. العربية السعودية	302	و. م. أ.	498
روسيا	367	روسيا	188	الصين	245
و. م. أ.	360	النرويج	141	اليابان	242
الصين	168	فنزويلا	112	الهند	97
إيران	166	نيجيريا	102	إيطاليا	93

المصدر: صورة اقتصادية للعالم 2005.

المطلوب: علق على الجدول.

الجزء الثاني: (04 نقاط)

تؤكد تقارير هيئة الأمم المتحدة على تنامي ظاهرة الفقر في دول الجنوب واتساعها في ظل النظام الاقتصادي العالمي الحالي.

المطلوب:

انطلاقاً من الفقرة واعتماداً على ما درست، اكتب موضوعاً جغرافياً تبرز فيه:

1- أثر الواقع الاقتصادي العالمي على دول الجنوب.

2- بعض الحلول للخروج بدول الجنوب من هذه الظاهرة.

الموضوع الثاني: (20 نقطة)

التاريخ

الجزء الأول: (06 نقاط)

- 1- حدّد مفهوم المصطلحات التالية: - سياسة ملء الفراغ - الانفراج الدولي - الصراع الإيديولوجي.
- 2- عرّف بالشخصيات التالية: - نيكيتا خروتشوف - جورج مارشال - رابح بيطاط.
- 3- أكمل جدول الأحداث:

الحدث	تاريخه
تأسيس هيئة الأمم المتحدة	
	1961/ 09 / 01
قيام الجمهورية الجزائرية	

الجزء الثاني: (04 نقاط)

جندت السلطات الاستعمارية الفرنسية كافة الوسائل من أجل القضاء على الثورة الجزائرية إلا أنها باءت بالفشل.

المطلوب: انطلاقا من الفقرة واعتمادا على ما درست، أكتب مقالا تاريخيا تبين فيه:

- 1- استراتيجية تنفيذ الثورة على المستوى الداخلي والخارجي.
- 2- ردود الفعل الفرنسية للقضاء على الثورة.

الجغرافيا

الجزء الأول: (06 نقاط)

- 1- حدّد مفهوم المصطلحات التالية: - منطقة اليورو - تكنولوجيا المعلومات - الآسيان.
- 2- إليك جدولا بنسب مساهمة بعض الدول في الإنتاج العالمي للغاز الطبيعي سنة 2004:

الدولة	روسيا	و.م.أ	كندا	بريطانيا	إيران	هولندا	النرويج	الجزائر	أندونيسيا	م.ع.م السعودية
% من الإنتاج العالمي	22.6	19	06.6	03.6	03.1	03	03	02.9	02.5	02.3

المصدر: حالة العالم-2006.

المطلوب:

أ- علّق على الجدول.

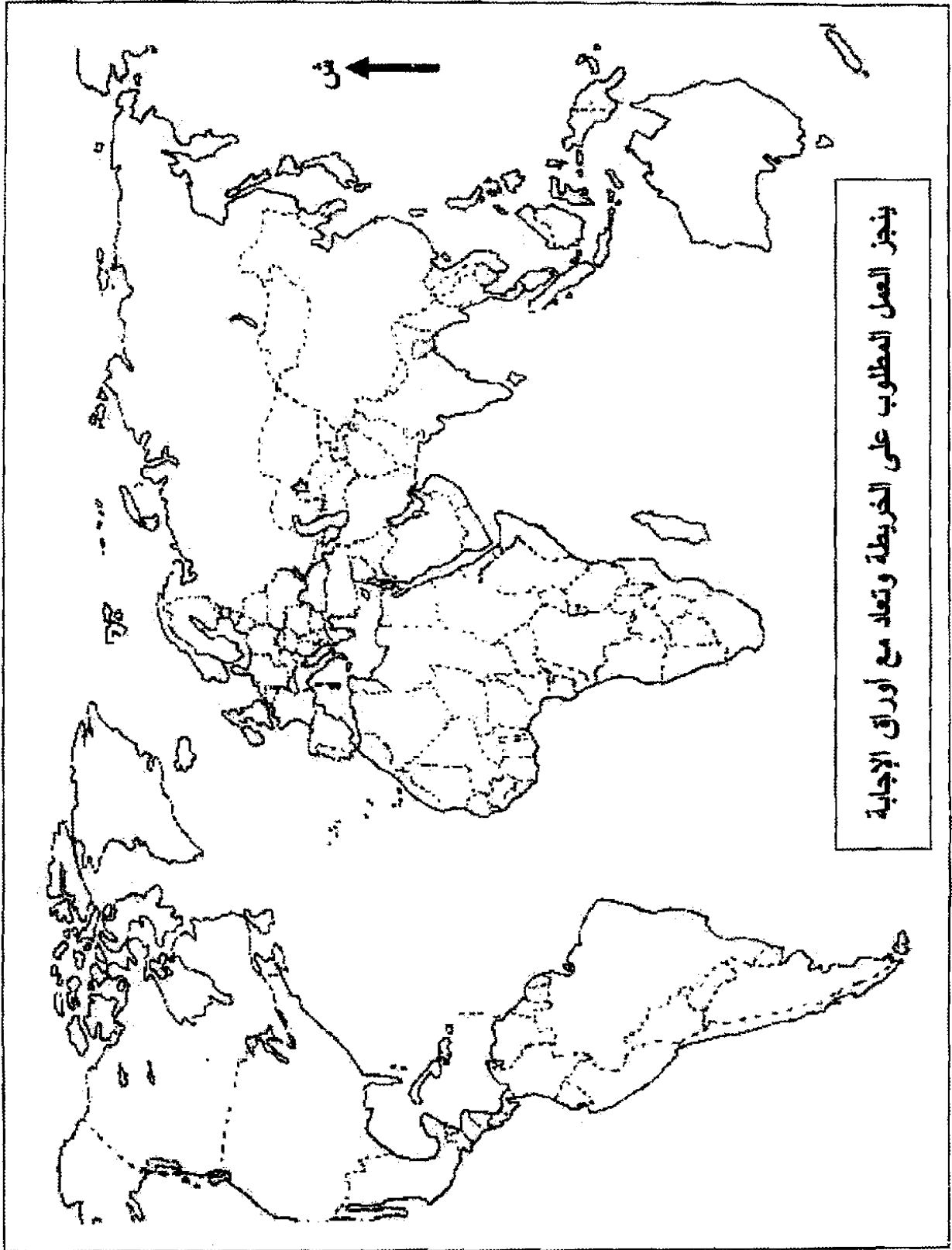
ب- من خلال الجدول وقع على الخريطة المرفقة الدول الأعضاء في منظمة الأوبك.

الجزء الثاني: (04 نقاط)

شهدت دول شرق وجنوب شرق آسيا نموا اقتصاديا ملحوظا مما جعلها تنافس الولايات المتحدة الأمريكية والاتحاد الأوروبي.

المطلوب: انطلاقا من الفقرة واعتمادا على ما درست، أكتب موضوعا جغرافيا تبرز فيه:

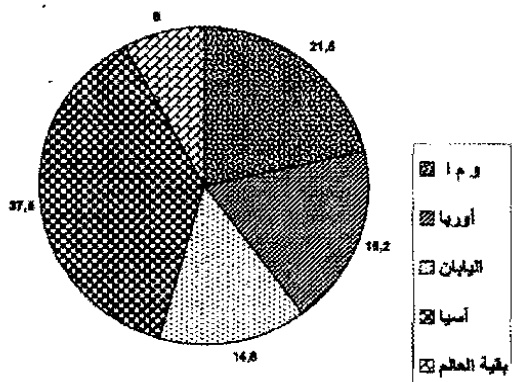
- 1- عوامل التطور الاقتصادي في المنطقة.
- 2- مكانة المنطقة في الاقتصاد العالمي.



الإجابة النموذجية وسلم التنقيط

مقايير الموضوع	عناصر الإجابة		المعلامة
	مجزاة	المجموع	
1- مفهوم المصطلحات	الموضوع الأول :		
	• - تاريخ		
	- الجزء الأول		
	0.75	• مشروع قسنطينة: برنامج اقتصادي اجتماعي اقترحه ديغول يوم 1958/10/3 هدفه عزل الشعب عن الثورة عن طريق الإغراء وتكوين طبقة برجوازية مرتبطة بفرنسا.	
	0.75	• القوة الثالثة: مجموعة من العملاء الجزائريين كونتها فرنسا لغرض خدمة مصالحها والتفاوض معها حول مصير الجزائر.	
	0.75	- تقرير المصير: مبدأ يقر بحق الشعوب في تسيير شؤونها بنفسها .	
	0.75	• مصالي الحاج : سياسي جزائري أول من نادى بالاستقلال التام للجزائر من خلال مطالب النجم وحزب الشعب، تعرض للاعتقال والنفي والإقامة الجبرية عدة مرات.	
	0.75	• هاري ترومان : رئيس الو.م.أ : 1945-1953 أمر بإلقاء القنبلة الذرية على اليابان في 1945، احد رموز الحرب الباردة من مؤيدي قيام دولة إسرائيل على أرض فلسطين.	
	0.75	• ليونيد بريجنيف: 1906-1982 سياسي روسي، رئيس الاتحاد السوفيتي 1964 — 1982 ، وقع معاهدة سالت 1 سنة 1972 .	
	2- التعريف بالشخصيات		
3- جدول الأحداث			

العلامة		محلور الموضوع	عناصر الإجابة
المجموع	مجزأة		
04	0.5	مقدمة	الجزء الثاني : احتدام المواجهة المصلحية والإيديولوجية بين الاتحاد السوفياتي والولايات المتحدة الأمريكية بمبررات إنسانية.
	0.75	العرض	1- أساليب تصدي الاتحاد السوفياتي لأمركة أوروبا والعالم : - العسكرية :الأحلاف، القواعد العسكرية، السباق نحو التسلح، الاضطرابات.
	0.50		- الاقتصادية: المشاريع (منظمة الكوميكون الاقتصادية 1949)، الإعانات.
	0.75		- السياسية: مناصرة الحركات التحررية، تدعيم الأحزاب الشيوعية في العالم الرأسمالي (تركيا - اليونان).
	0.50		2- مدى صحة هذا الاعتقاد : - في عصر ازدهار الاتحاد السوفياتي 45-85، هيمنت أمريكا على أجزاء من أوروبا والعالم.
	0.50		- بعد سنة 89 (انهيار الاتحاد السوفياتي) تهيمن الولايات المتحدة الأمريكية على العالم بمحافظه ومنظماته (هيئة الأمم المتحدة، صندوق النقد الدولي، البنك العالمي).
	0.5	الخاتمة	بعد انهيار الاتحاد السوفياتي لم تعد هناك قوة قادرة على كبح جموح الولايات المتحدة الأمريكية.
06			- جغرافيا
			- الجزء الأول
	0.75	1- مفهوم المصطلحات :	• عالم الشمال : الدول المتقدمة التي تتحكم في التكنولوجيا وتشهد تقدما وازدهارا، تقع في الجزء الشمالي من الكرة الأرضية .
	0.75		• الاستثمار : توظيف مبالغ مالية في مشاريع مختلفة أو توجيه مدخرات واستخدامها حيث تؤدي إلى إشباع حاجات اقتصادية (تنمية الثروة).
	0.75		• الشراكة : تعاون اقتصادي يقوم على تحقيق مصالح متبادلة.
	01	2- التمثيل البياني :	- الإنجاز :
	0.25		- المقياس :
	0.25		- العنوان :
	0.25		- المفتاح :

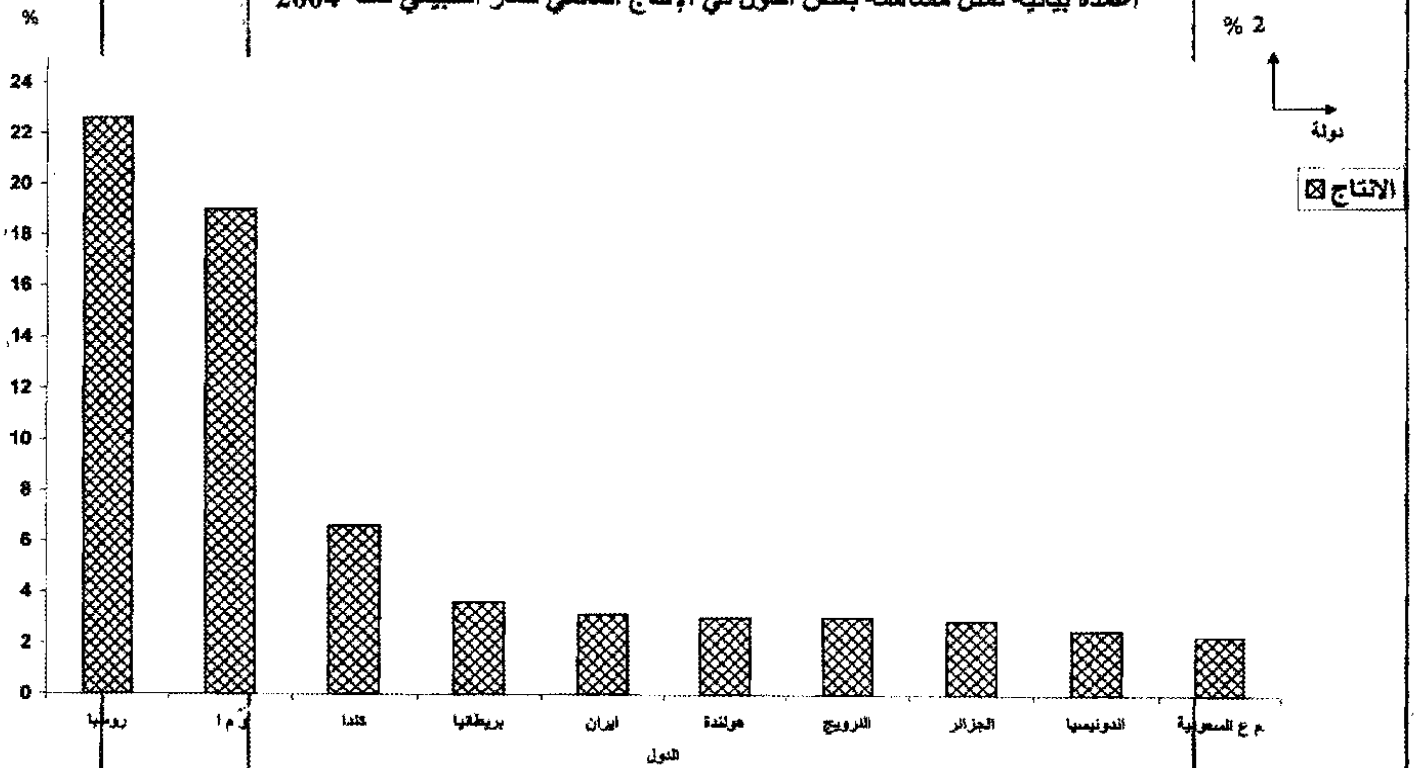
العلامة	مجزأة	عناصر الإجابة	محاوَر الموضوع
	0.50 0.50 0.50 0.50	<p data-bbox="512 488 1155 528">دائرة نسببة تمثل نسب صادرات الصين نحو العالم سنة 2002</p>  <p data-bbox="1385 1137 1517 1218">3- التعليق على الجدول</p> <ul style="list-style-type: none"> - 50,8 % من الإنتاج مصدره الجنوب - 60% من النفط المصدر مصدره دول الجنوب. - 70% من الاستهلاك يتم في دول الشمال. - انضمام الصين والهند إلى المجموعة الأكثر استهلاكاً للنفط في العالم. 	

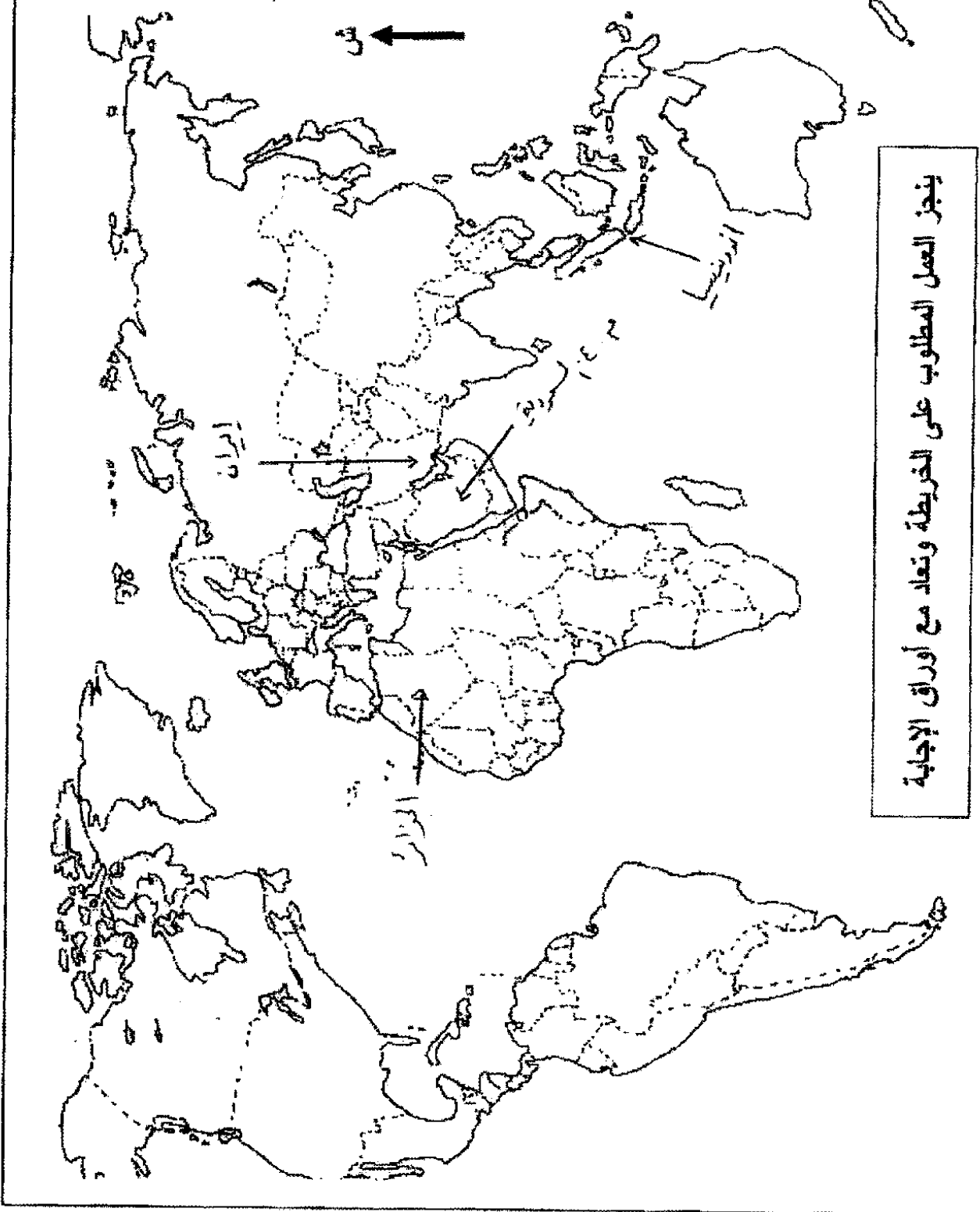
العلامة		عناصر الإجابة	محاور الموضوع
المجموع	مجزأة	الجزء الثاني :	
04	0.50	دول الجنوب بين تردي أوضاعها الاقتصادية وجور النظام الاقتصادي العالمي.	مقدمة :
	0.50	1- أثر الواقع الاقتصادي العالمي على دول الجنوب :	
	0.25	- التبعية المفرطة للعالم المتقدم.	
	0.25	- اتساع وتفشي التلوث الأسود.	
	0.25	- الاستغلال المجحف لثروات وإمكانات دول الجنوب.	
	0.25	- فقدان السيادة في اتخاذ القرار.	
	0.25	- الاستقرار (السياسي والاقتصادي والاجتماعي).	
		2- الحلول :	
	0.50	- الانطلاق من الإمكانيات الذاتية والتعاون جنوب جنوب.	
	0.50	- الاستثمار الأفضل للإمكانات في إرساء قواعد تنمية متينة.	العرض
	0.50	- العمل على تغيير قواعد النظام الاقتصادي.	
	0.50	لن يتغير واقع العالم الثالث ما لم ينطلق في تغيير واقعه.	الخاتمة

العلامة		محاور الموضوع	عناصر الإجابة								
مجموع	مجزأة		الموضوع الثاني :								
06	0.75	1- مفهوم المصطلحات	- تاريخ - الجزء الأول - سياسة ملء الفراغ: سياسة تبنتها الو.م.أ. تقضي بأن تحل محل بريطانيا وفرنسا في مستعمراتها مثل الفيتنام 54 والشرق الأوسط 1957 . - الانفراج الدولي: التقارب بين المعسكرين عن طريق السعي إلى حل الخلافات بالطرق السلمية. - الصراع الإيديولوجي: صراع عقائدي بين النظامين الشيوعي والراسمالي يقوم على مبدأ استحالة تعايشهما في عالم واحد .								
	0.75										
	0.75										
	0.75	2- التعريف بالشخصيات:	- نيكيتا خروتشوف: 1894-1971 أحد أعضاء القيادة الجماعية بالاتحاد السوفياتي بعد ستالين 1953 أب التعايش السلمي ورئيس الاتحاد السوفياتي 1956-1964. - جورج مارشال: وزير خارجية الو.م.أ. اقترن اسمه بمشروع اقتصادي لإعادة إعمار أوروبا بعد الحرب العالمية II (مشروع مارشال). - رابح بيطاط : 1925-2000، مناضل في حزب الشعب، حركة الانتصار للحريات الديمقراطية، عضو اللجنة الثورية للوحدة والعمل أول رئيس للمجلس الشعبي الوطني 1978.								
	0.75										
	0.75										
	0.50	3- جدول الأحداث:	<table><tr><th>الحدث</th><th>تاريخه</th></tr><tr><td>تأسيس هيئة الأمم المتحدة</td><td>1945-10-24</td></tr><tr><td>تأسيس حركة عدم الانحياز</td><td>1961-09-01</td></tr><tr><td>قيام الجمهورية الجزائرية</td><td>1962-09-26</td></tr></table>	الحدث	تاريخه	تأسيس هيئة الأمم المتحدة	1945-10-24	تأسيس حركة عدم الانحياز	1961-09-01	قيام الجمهورية الجزائرية	1962-09-26
	الحدث		تاريخه								
	تأسيس هيئة الأمم المتحدة		1945-10-24								
	تأسيس حركة عدم الانحياز	1961-09-01									
قيام الجمهورية الجزائرية	1962-09-26										
0.50											
0.50											
0.50											
0.5	مقدمة	الجزء الثاني : الثورة الجزائرية ما بين استراتيجية جبهة التحرير الوطني ورد فعل الاستعمار الفرنسي . 1 - استراتيجية تنفيذ الثورة: أ - على المستوى الداخلي : - التعبئة الشعبية من خلال البيانات والمناشير ووسائل الإعلام - هيكلة القاعدة الشعبية من خلال المنظمات . - دعم ومساندة الشعب من خلال المساعدات والتكفل بالعائلات - توسيع النشاط العسكري للثورة وتقسيمه جغرافيا . - نقل الثورة من الريف إلى المدينة وتكثيف النشاط الفدائي. - تجنيد الشعب من خلال المظاهرات والإضرابات . ب - على المستوى الخارجي: - إنشاء إذاعة صوت الجزائر بالقاهرة . - نقل الثورة إلى داخل الأراضي الفرنسية، من خلال فدرالية جبهة التحرير الوطني بفرنسا . - تفعيل النشاط الدبلوماسي للتعريف بالقضية الجزائرية . - إنشاء الحكومة المؤقتة 19-09-1958 . - القبول بمبدأ المفاوضات مع فرنسا وفق مبادئ الثورة . - السعي لكسب المزيد من التأييد الدولي .									
0.5											
0.5											
04	01	العرض									
	01										

العلامة		عناصر الإجابة	محاور الموضوع
المجموع	مجزأة		
		2- ردود الفعل للقضاء على الثورة : * - عسكريا : - حرب الإبادة . - التكثيف من العمليات العسكرية . - رفع عدد القوات المسلحة . - الاستعانة بالحلف الأطلسي . * - سياسيا : - الإعلان عن مشروع سلم الشجعان . - إنشاء القوة الثالثة . - الحرب النفسية والإعلامية . * - اقتصاديا : - سياسة المشاريع (مشروع قسنطينة) . قوة استراتيجية الثورة أفضلت المخططات الفرنسية * - جغرافيا - الجزء الأول * - منطقة اليورو : مجموعة دول داخل الاتحاد الأوروبي اعتمدت عملة موحدة "الأورو " أنشئت سنة 1999 تضم 13 دولة وبداية العمل بها في 2002/1/1. * - تكنولوجية المعلومات : مجموعة الأساليب والطرق لتخزين المعلومات وتبادلها (إعلام آلي ، انترنيت ، وسائل إعلامية) . * - الآسيان : تكتل دول جنوب شرق آسيا 1967 لترقية الموارد الأولية والفلاحية والتنمية الاقتصادية، يضم تايلاندا أندونيسيا، ماليزيا، سنغافورة الفلبين، بروناي، الفيتنام، اللاوس، كمبوديا وبرماتيا . - تساهم 10 دول بنسبة 70 % من الإنتاج العالمي . - تساهم 03 دول (و.م.أ + روسيا + كندا) بنسبة 42.2 % من الإنتاج العالمي . - احتكار تجارة الغاز الطبيعي إنتاجا وتسويقا . - التفاوت في إنتاج الغاز الطبيعي . الإنجاز : - السعودية - إيران - الجزائر - إندونيسيا العنوان	الخاتمة 1- مفهوم المصطلحات : 3- أ- التعليق ب- التوقيع على الخريطة الدول الأعضاء في منظمة الأوبك
	01		
	0.5		
	0.75		
	0.75		
	0.75		
	0.5		
06	0.5		
	0.25		
	0.25		
	0.50		
	0.50		
	0.50		
	0.50		
	0.25		

العلامة		عناصر الإجابة	محاور الموضوع
المجموع	مجزأة		
04	0.50	الجزء الثاني :	مقدمة :
		الظاهرة الآسيوية بين النمو والتحدي الغربي .	
	0.50	1- عوامل التطور الاقتصادي :	
		أ- بشريا : وفرة وتحدٍ .	
	0.50	ب- اقتصاديا : وفرة وتنوع وتكثف، امتلاك تكنولوجيا ورؤوس	
	0.25	الأموال وضخامة الأسواق.	
		ج- سياسيا : الاستقرار .	
	0.50	2- مكانة المنطقة في الاقتصاد العالمي :	العرض
	0.25	- بروز المنطقة كالثق قطب في العالم .	
	0.25	- تعدد الأقطاب الصناعية (اليابان ،الصين ،كوريا الجنوبية).	
	0.25	- المساهمة ¼ للدخل العالمي .	
	0.25	- ارتفاع متوسط النمو الاقتصادي ب 10% .	
	0.50	- قوة الأسطول التجاري 30 % من النقل العالمي .	
	0.50	دول جنوب شرق آسيا قوى اقتصادية متنامية مهددة للغرب.	الخاتمة
		أعمدة بيانية تمثل مساهمة بعض الدول في الإنتاج العالمي للغاز الطبيعي سنة 2004	



العلامة	عناصر الإجابة	محاور الموضوع
مجموعة	مجزأة	
الدول الاعضاء في منظمة الاوبيك		ينجز العمل المطلوب على الخريطة وتعد مع أوراق الإجابة

الجمهورية الجزائرية الديمقراطية الشعبية

الديوان الوطني للامتحانات والمسابقات

وزارة التربية الوطنية

دورة: جوان 2009

امتحان شهادة بكالوريا التعليم الثانوي

الشعب : العلوم التجريبية، الرياضيات، التقني رياضي

المدة : 03 ساعات ونصف

اختبار في مادة : التاريخ والجغرافيا

على المترشح أن يختار أحد الموضوعين التاليين:

الموضوع الأول

التاريخ

الجزء الأول: (06 نقاط)

"... بدأ تصنيف دول العالم استنادا إلى انتمائها العقائدي ، واستخدمت الدولتان القطبيتان سياسات الترغيب والترهيب، لحمل بقية دول العالم الثالث على الانضواء تحت لوائها، وانتقلت حالة العداء والتوتر الشديد في علاقات القطبين إلى منظمة الأمم المتحدة واستخدام الدول دائمة العضوية في مجلس الأمن لحقها في الاعتراض التوقيقي على قرارات المجلس (حق الفيتو) مما أدى إلى إصابة هذا الجهاز الحيوي من أجهزة المنظمة بالشلل فعجز عن القيام بدوره في حفظ السلم والأمن الدوليين. وقد أدى ذلك إلى تراجع مصداقية الأمم المتحدة كمنظمة دولية..."

ممدوح منصور وأحمد وهبان / التاريخ الدبلوماسي

- 1 - أشرح ما تحته خط في النص.
- 2 - عرف الشخصيات التالية:
أحمد سوكرانو - جوزيف بروز تيتو - دوايت إيزنهاور - فيدال كاسترو.
- 3 - وقع على خريطة العالم الدول دائمة العضوية في مجلس الأمن.

الجزء الثاني: (04 نقاط)

دخلت الثورة الجزائرية بعد عام 1956 مرحلة جديدة من الكفاح، نجاح عسكري ودبلوماسي، مما جعل السلطات الاستعمارية تلجأ إلى مختلف الوسائل للقضاء عليها.

المطلوب : انطلاقا من الفكرة، واستنادا على ما درست. أكتب مقالا تاريخيا تجيب فيه على:

- 1 - مظاهر النجاح العسكري والدبلوماسي للثورة بعد عام 1956.
- 2 - رد فعل الاستعمار تجاه الثورة.

الجغرافيا


الجزء الأول: (06 نقاط)

(... سمحت التحسينات في ميادين النقل والاتصالات والمعرفة والتكنولوجيا بتقسيم أكثر دقة للعمل بحيث أمكن للأنشطة المنتجة التي كانت مدمجة في السابق أن تتجزأ وتتوزع ضمن شبكة دولية، وقد شملت تلك التجزئة على مدى الزمن: الأسواق العالمية تبعا لتلازمها مع انخفاض تكلفة الخدمات واكتسابها طابعا تجاريا. كما نتجت عن مجموعة من التجديدات التكنولوجية التي يسرت فك التركيز الجغرافي للإنتاج، وفي ظل تسارع التطور التكنولوجي لم يعد بإمكان الشركات أن تضمن بقاءها بالاكتماء بما تحققه من فوائد داخل أسواقها الوطنية ... الشركات لم تكن مخيرة في الإنتاج للأسواق الخارجية بل كانت مرغمة على ذلك أمام خطر الزوال الذي كان يهددها.)

المصدر : جوزيف ريبول 1999 - حركة رؤوس الأموال الدولية

1 - اشرح ما تحته خط في النص.

2 - إليك دائرة نسبية تمثل حصة الأقطار والمناطق من الإجمالي العالمي لنفقات البحث والتطوير لسنة 2002.



— علق على نسب الدائرة.

3 - وقع على خريطة العالم الدول التالية : الولايات المتحدة الأمريكية - ألمانيا - اليابان - جنوب إفريقيا.

الجزء الثاني: (04 نقاط)

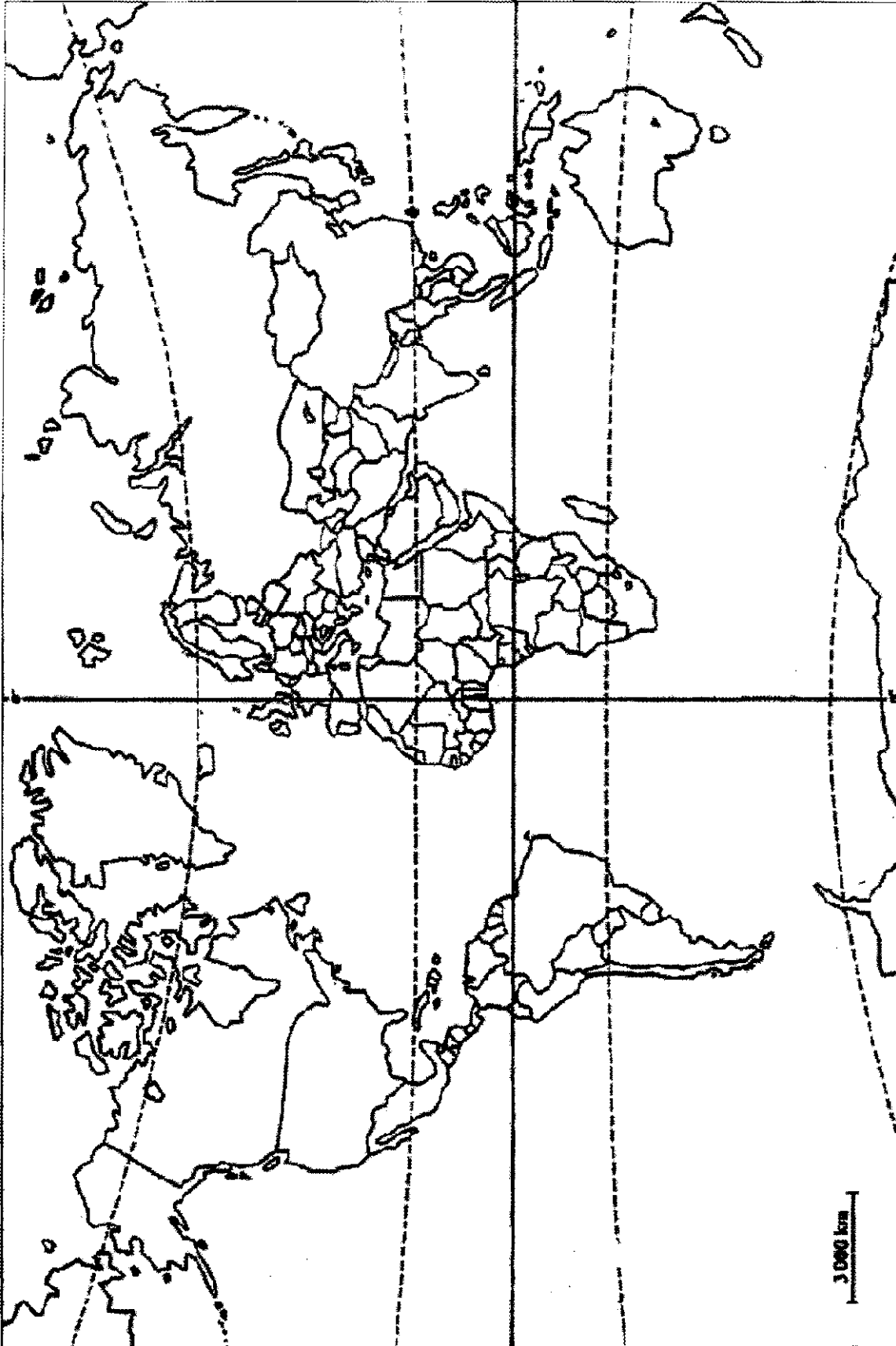
يمثل البناء المشترك الذي يميز الاتحاد الأوروبي عن بقية الثالوث الاقتصادي بما يتضمنه من أهداف وما قطعه من مراحل وما يستند إليه من سياسات مشتركة متنوعة دعامة أساسية للقوة الأوروبية.

المطلوب : انطلاقا من الفكرة، واعتمادا على ما درست. أكتب مقالا جغرافيا تجيب فيه على :

1- دور التكتل في تحقيق القوة الاقتصادية للاتحاد الأوروبي.

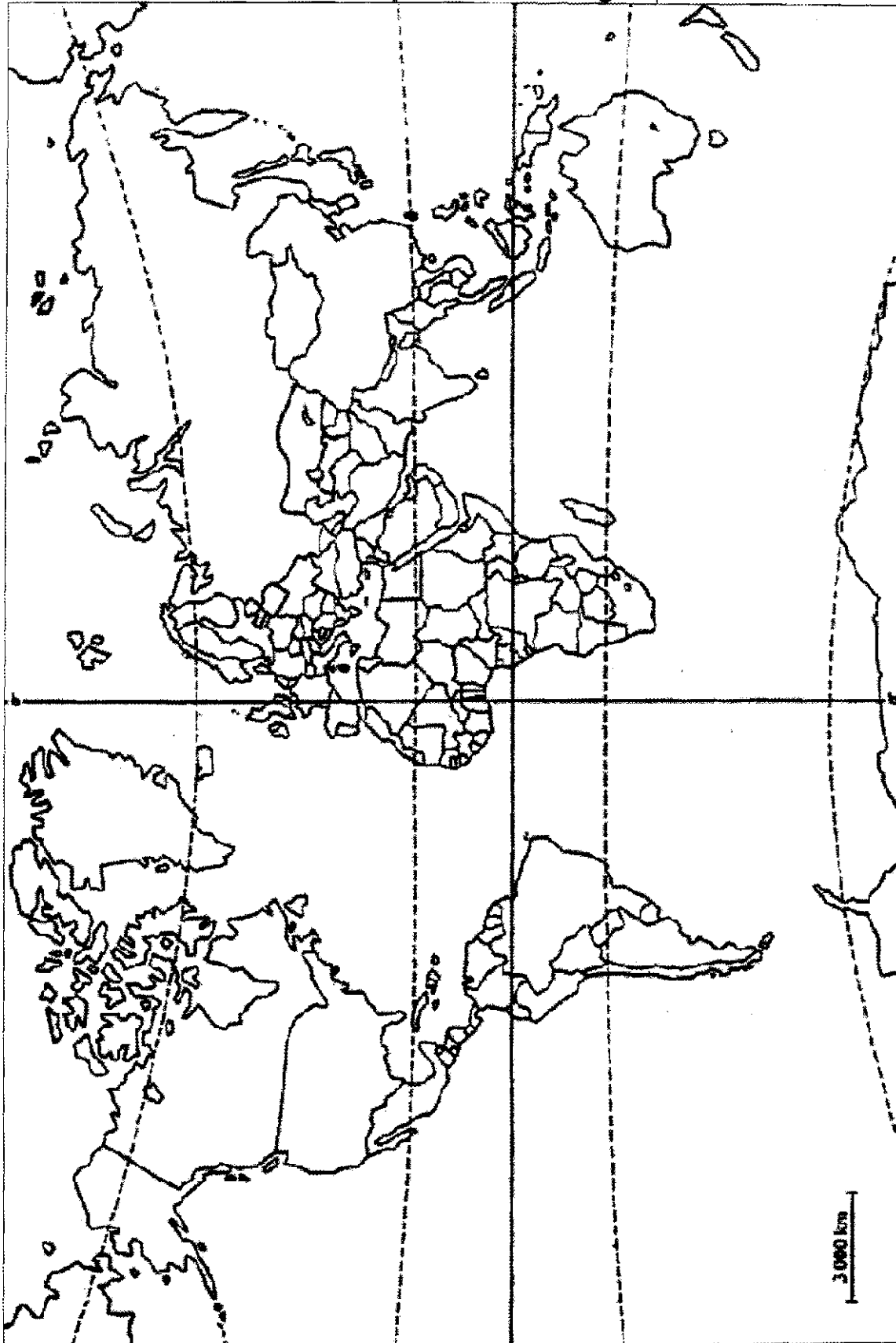
2 - المعوقات التي واجهت هذا التكتل.

خريطة العالم : وقع عليها الدول الدائمة العضوية



ينجز العمل على الخريطة وتعاد مع أوراق الإجابة

خريطة العالم : وقع عليها الدول الواردة في المطلب الثالث من الجغرافيا



ينجز العمل على الخريطة وتعاد مع أوراق الإجابة

الموضوع الثاني

التاريخ

الجزء الأول: (06 نقاط)

" في الصراع الاستراتيجي بين الكتلتين، كان هناك صراع من نوع آخر تمثل في الصراعات التقنية وسباق التسلح، كما لم يذخر الطرفان جهدا في عملية التجسس واغتيال عملاء الطرف الندد. وتجدر الإشارة أن الصراعات المسلحة الجانبية كحرب فيتنام ومثيلاتها أرقّت منام العالم في احتمال تطور تلك الصراعات إلى حرب عالمية نووية. كان من نتائج الحرب الباردة انهيار الاتحاد السوفيتي وميلاد النظام العالمي الجديد."

اسماعيل صبري / العلاقات السياسية والدولية

- 1- اشرح ما تحته خط في النص.
- 2- عرف الشخصيات التالية :
هواري بومدين - جواهر لال نهرو - ميخائيل غورباتشوف - رونالد ريغن.
- 3- على خريطة الجزائر المرفقة وقع الولايات الثورية المنبثقة عن مؤتمر الصومام.

الجزء الثاني: (04 نقاط)

إن النظام الدولي السابق، ذي القطبية الثنائية والذي هيمن على العلاقات الدولية لأكثر من أربعة عقود، قد انتهى عمليا بتدهور الاتحاد السوفيتي وتفككه ومعه المعسكر الشيوعي لتبقى الولايات المتحدة كدركي وحيد في العالم، وقوة الاستقطاب الوحيدة في العالم كله، وخصما وحكما وحيدا فيه.

المطلوب : انطلاقا من الفقرة، واعتمادا على ما درست. اكتب مقالا تاريخيا تجيب فيه على:

- 1- ملامح النظام الدولي الجديد.
- 2- مؤسساته الفاعلة.

الجغرافيا

الجزء الأول: (06 نقاط)

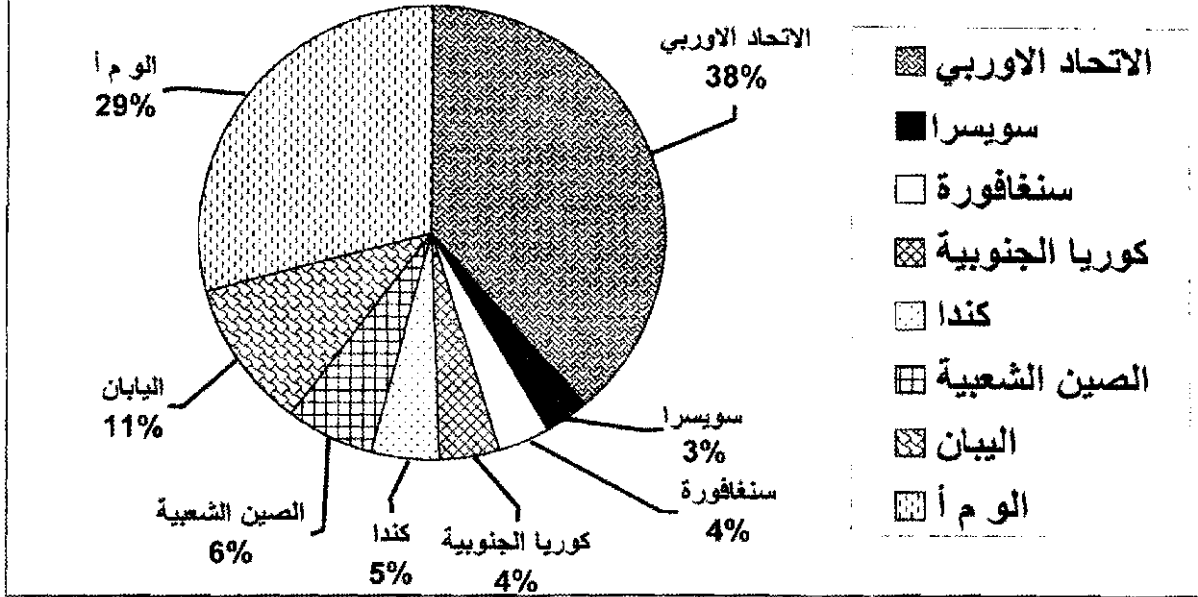
" يضم الاتحاد الأوروبي أكثر من 455 مليون نسمة الذي توحدت فيه 27 دولة مشكلة فضاء اقتصاديا مقبلا على الاندماج وفق شروط، أولها الانتماء إلى القارة الأوروبية، التسيير بواسطة مؤسسات ديمقراطية للوصول إلى مستوى نمو اقتصادي ملائم... يشهد الفضاء الجغرافي للاتحاد الأوروبي صعوبات قد تعيق الاندماج المرتقب، ويتمثل ذلك في الأزمات الحادة في بعض البلدان."

الكتاب المدرسي السنة الثالثة ثانوي ص 65

- 1- اشرح ما تحته خط في النص.
- 2- وقع على خريطة الاتحاد الأوروبي الدول المنظمة له بين 1981 و 1995.

3- علق على الرسم التالي:

حصة الاتحاد الاوربي من اجمالي المبادلات العالمية للخدمات سنة 2004م



الجزء الثاني: (04 نقاط)

يتميز المجال العالمي بتفاوت واضح في التقدم الاقتصادي والاجتماعي المرتبط بعوامل اقتصادية واجتماعية.

المطلوب : انطلاقا من الفكرة، واعتمادا على ما درست. اكتب مقالا جغرافيا تجيب فيه على :

- 1- عوامل التفاوت بين الشمال والجنوب.
- 2- مظاهر التفاوت الاقتصادي والاجتماعي بين العالمين.

خريطة الجزائر : توقيع ولايات الثورة حسب تقسيم مؤتمر الصومام



ينجز العمل على الخريطة ويعاد مع أوراق الإجابة

خريطة أوروبا: توقيع الدول المنظمة للاتحاد الأوروبي بين 1981 و1995



ينجز العمل على الخريطة ويعاد مع أوراق الإجابة

الإجابة النموذجية و سلم التنقيط

المدة : 03 ساعات ونصف

دورة: 2009

الإجابة النموذجية لموضوع مقترح لامتحان شهادة البكالوريا
الشعب: علوم تجريبية/ رياضيات / تقني رياضي

محلور الموضوع	عناصر الإجابة	العلامة
	مجزأة	المجموع

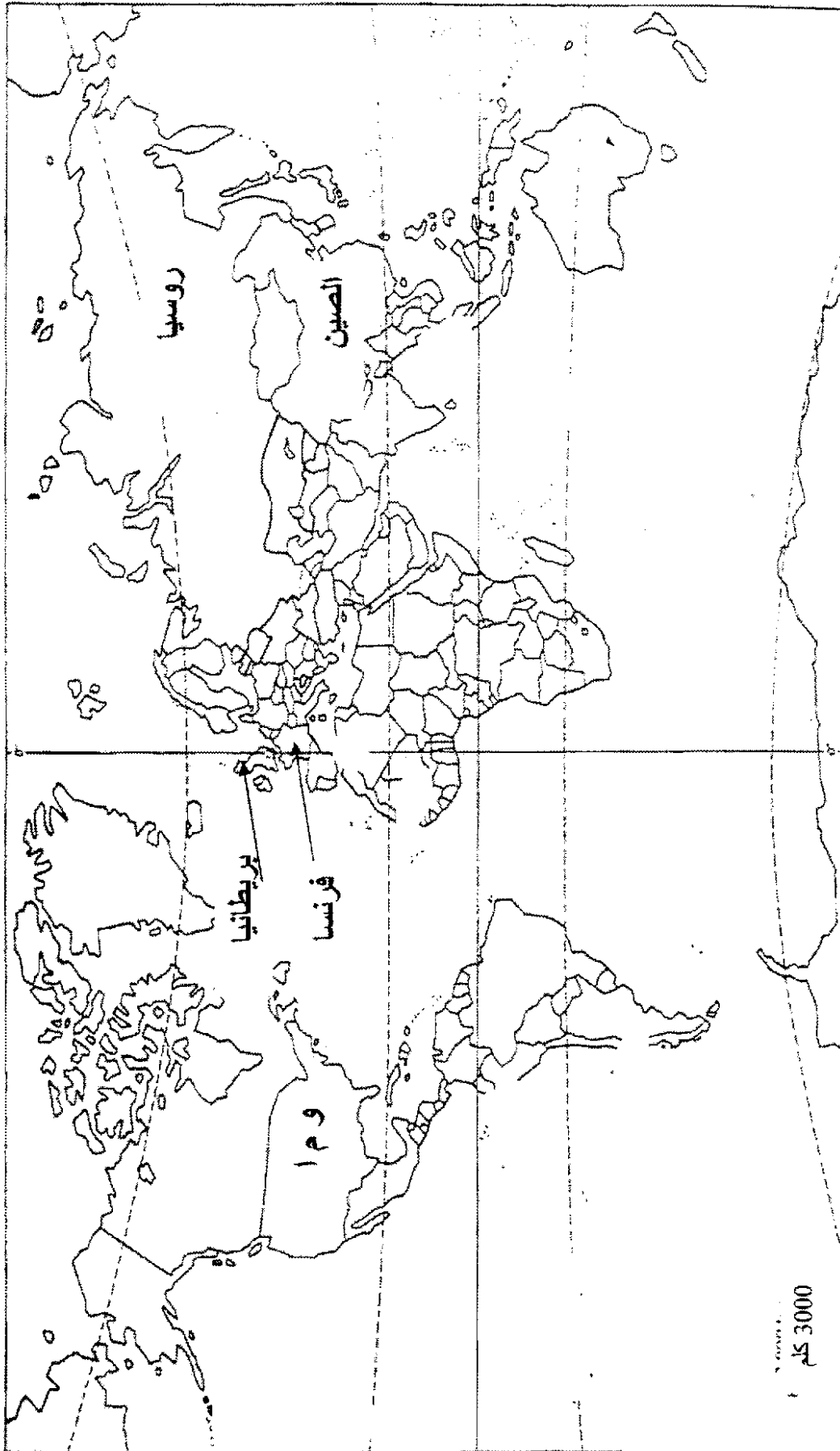
الموضوع الأول

التاريخ

		الجزء الأول: (6 نقاط)
		1- <u>شرح ما تحته خط في النص :</u>
0.50		- العالم الثالث : مصطلح سياسي ، اقتصادي واجتماعي يضم الدول حديثة العهد بالاستقلال.
0.50		- منظمة الأمم المتحدة : هيئة أممية تأسست عام 1945، تضم الدول المستقلة مقرها نيويورك تعمل على تحقيق الأمن والسلم في العالم.
0.50		- مجلس الأمن : الجهاز التنفيذي في هيئة الأمم المتحدة يتكون من 15 عضوا كدائمون و 10 ينتخبون لمدة سنتين .
0.50		- حق الفيتو : امتياز تتمتع به الدول دائمة العضوية في مجلس الأمن بالامتناع أو الاعتراض على أي قرار صادر منه.
		2- <u>تعريف الشخصيات :</u>
0.75		- احمد سوكارنو : قاد كفاح شعبه من أجل الاستقلال .أول رئيس لاندونيسيا المستقلة.ترأس مؤتمر باندونغ 1955. من أبرز مؤسسي حركة عدم الانحياز.
0.75		- جوزيف بروز تيتو : رئيس جمهورية يوغسلافيا.من أبرز قادة الحركة الشيوعية في العالم ، ومن مؤسسي حركة عدم الانحياز.
0.50		- دوايت ايزنهاور : سياسي وعسكري أمريكي .قائد الحلف الاطلسي سنة 1949. رئيس الولايات المتحدة الامريكية 1953-1961. أنهى الحرب الكورية 1953.صاحب المشروع الذي يحمل اسمه.
0.75		- فيدال كاسترو : رئيس كوبا منذ 1959، أطاح بحكم الديكتاتور باتيستا مقيما نظاما شيوعيا في الجزيرة .عرفت فترته أزمة كوبا 1962.
		3- <u>التوقيع على الخريطة</u>
01.25	5×0.25	الو.م.أ - روسيا - بريطانيا - فرنسا - الصين

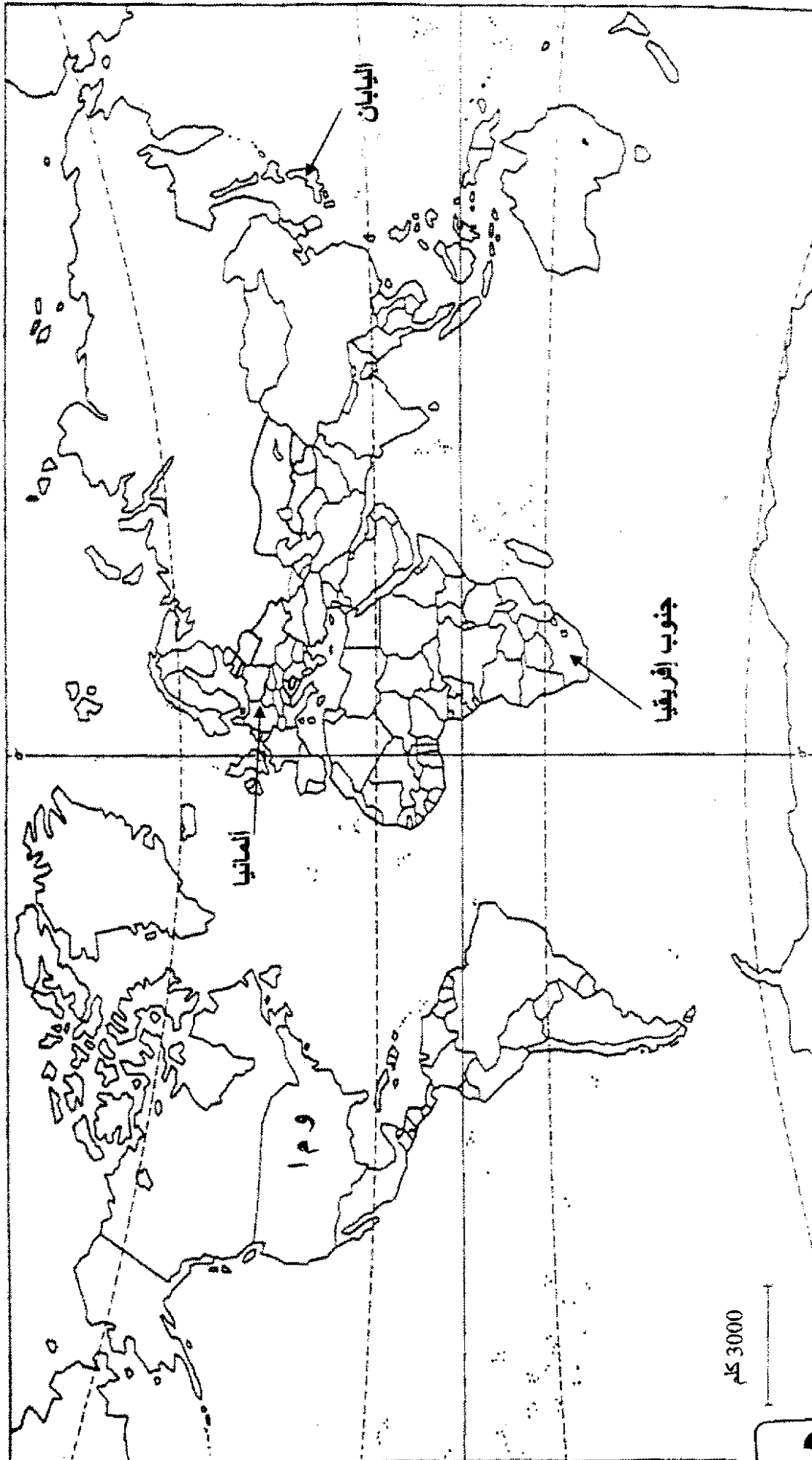
العلامة		عناصر الإجابة	محاو الموضوع
المجموع	مجزاة		
0.50	0.50	الجزء الثاني: (4 نقاط)	المقدمة
		نجاحات الثورة الجزائرية بعد مؤتمر الصومام، وانعكاسات ذلك على الاستعمار الفرنسي.	
01.50	0.25	1- <u>مظاهر النجاح العسكري والديبلوماسي للثورة بعد عام 1956</u>	العرض
		أ - <u>النجاح العسكري :</u>	
		- توسيع دائرة الثورة لتشمل مختلف مناطق الوطن .	
		- البناء الهيكلي لجيش التحرير الوطني وضبط المسؤوليات.	
		- إنشاء قيادتين للعمليات العسكرية:	
		* القيادة الشرقية في غار الدماء بتونس.	
		* القيادة الغربية في وجدة بالمغرب.	
		- تقسيم التراب الوطني إلى 6 ولايات عسكرية .	
		ب : <u>النجاح الديبلوماسي</u>	
		- مواصلة عرض القضية الجزائرية في المحافل الدولية .	
11.50	0.25	- تكثيف النشاط الإعلامي للتعريف بالثورة الجزائرية وفضح السياسة الاستعمارية وإثارة الرأي العام الفرنسي ضد أشكال الإبادة المرتكبة في الجزائر.	الخاتمة
		2- <u>رد فعل الاستعمار تجاه الثورة .</u>	
		أ : <u>الرد العسكري</u>	
		- تكثيف العمليات العسكرية وإنشاء خطوط الأسلاك المكهربة .	
		- إنشاء المحتشدات ومراكز التعذيب .	
		- تطبيق سياسة الأرض المحروقة وتجنيد العملاء.	
		ب : <u>الرد السياسي</u>	
		- إنشاء القوة الثالثة من العملاء .	
		- تظليل الرأي العام العالمي بالتعتيم الإعلامي .	
		لم تفلح سياسة القوة والبطش ولا سياسة الإغراء في إجهاد الثورة الجزائرية.	
0.50	05.0		

خريطة العالم : 5 دول دائمة العضوية في مجلس الأمن



العلامة		عناصر الإجابة	محاو الموضوع
المجموع	مجزأة	الجغرافيا	
		الجزء الأول: (6 نقاط)	
		1- <u>شرح ما تحته خط في النص :</u>	
02.50	0.75	- التكنولوجيا :هي أعلى درجات التطور العلمي والمقصود بها علم التقنيات المطبقة في مختلف المجالات .	
	0.75	- الأسواق العالمية : الفضاءات المسخرة لتداول جميع السلع (بيع ، شراء ومقايضة) وعقد الصفقات التجارية.	
	0.50	- الشركات : مؤسسات متخصصة متعددة المجالات ، وفي أنشطة مختلفة	
	0.50	- الفوائد : القيم المالية الناتجة عن بيع منتج معين أو استثمار في مجال ما	
		2- <u>التعليق على الدائرة النسبية :</u>	
02.50	0.50	- هيمنة الولايات المتحدة الأمريكية على مجال البحث العلمي بأكثر من 3/1 النسبة العالمية (34%)، خصصت 34 مليار دولار سنة 2005 .	
	0.50	- المرتبة الثانية .الاتحاد الأوربي بأكثر من 5/1 النسبة العالمية(24% لمجموع 15 دولة).يخصص ما نسبته 2.5% من ميزانية دوله.	
	0.50	- احتلال اليابان لوحده المرتبة 3 عالميا بنسبة22% ، يخصص 3.1% من ميزانيته للبحث العلمي .	
	0.50	- لا تمثل كل الدول النامية إلا 22% فقط من النسبة العالمية	
	0.50	-هيمنة العالم المتطور على مجال البحث والتطوير بنسبة78% ولا تتعد نسبة العالم المتخلف 22%	
		3- <u>التوقيع على خريطة العالم</u>	
1.00	0.25	الو.م.أ	
	0.25	المانيا	
	0.25	اليابان	
	0.25	جنوب افريقيا	

العلامة		عناصر الإجابة	المجموع
المجموع	مجزأة		
		الجزء الثاني: (4 نقاط)	
0.50	0.50	الأهمية الإستراتيجية للتكتلات الاقتصادية في ظل التطورات الدولية الراهنة	قيمة
		1- دور التكتل في تحقيق القوة الاقتصادية للإتحاد الأوربي:	
	0.25	- مضاعفة الوزن الاقتصادي للاتحاد.	عرض
01.50	0.50	- تحقيق مشروع الاندماج الاقتصادي والسياسي.	
	0.50	- مواجهة منافسة الدول الكبرى.	
	0.25	- تحقيق فضاء السلام والرفاهية في أوربا (أحد أقطاب الثالوث العالمي ومركزا من مراكز القرار).	
		2- المعوقات التي واجهت التكتل :	عرض
	0.25	- ضيق المساحة مقارنة بالسكان.	
01.50	0.50	- الافتقار إلى المواد الأولية خاصة موارد الطاقة.	
	0.25	- الفوارق الاقتصادية والاجتماعية بين الدول الأعضاء.	
	0.25	- عدم احترام مبدأ الأفضلية.	
	0.25	- المنافسة الخارجية خاصة الولايات المتحدة واليابان.	قيمة
0.50	0.50	على الرغم من المعوقات التي تواجه الاتحاد الأوربي إلا أن الإرادة تغلبت وتحققت آمال وطموحات شعوب أوربا.	



العلامة		عناصر الإجابة	محلور موضوع
المجموع	مجزأة		
الموضوع الثاني			
التاريخ			
		الجزء الأول (6 نقاط)	
		1* شرح ما تحته خط :	
02.00	0.50	- سباق التسلح :السياسة العسكرية المنتهجة من طرف المعسكرين بهدف التفوق في المجال العسكري لمختلف أنواع الأسلحة من توفير الردع العسكري.	
	0.50	- عملاء:الخونة الموالين للعدو	
	0.50	- الحرب الباردة : صراع إيديولوجي بين المعسكر الشرقي الشيوعي بزعامة الاتحاد السوفيتي وغربي رأسمالي بزعامة الولايات المتحدة الأمريكية.	
	0.50	- النظام العالمي الجديد :سياسة تبنتها الولايات المتحدة بعد سقوط الاتحاد السوفيتي لغرض الهيمنة والاستغلال والتحكم الأحادي في تسيير شؤون العالم.	
		2* تعريف الشخصيات :	
	0.75	- هواري بومدين : قائد أركان جيش التحرير الوطني خلال الثورة . وزير الدفاع بعد الاستقلال. رئيس دولة من 1965-1976 فرئيس جمهورية حتى 1978/12/27.	
02.50	0.75	- جواهر لال نهرو : رئيس المؤتمر الوطني الهندي.وزير أول من 1947 إلى 1964 .من أقطاب حركة عدم الانحياز	
	0.50	- ميخائيل غورباتشوف" آخر رؤساء الإتحاد السوفيتي 1985-1991 . مهندس تفكيك الاتحاد السوفيتي. حاصل على جائزة نوبل للسلام .	
	0.50	- رونالد ريغن : رئيس الولايات المتحدة الأمريكية 1981-1989.صاحب فكرة حرب النجوم . وقع مع الاتحاد السوفيتي على معاهدة تدمير الصواريخ النووية	
1.50	6×0.25	3* التوقيع على الخريطة	

العلامة		عناصر الإجابة	محاور الموضوع
المجموع	مجزأة		
0.50	0.50	الجزء الثاني (4 نقاط) انهيار المعسكر الشيوعي وتفكك الاتحاد السوفياتي فرض القوة الأمريكية المطلقة على العالم	المقدمة
	0.25	1 - ملامح النظام الدولي الجديد :	العرض
01.5	0.50	- تهميش دور الاتحاد السوفياتي في العلاقات الدولية	
	0.50	- تهميش المنظمات العالمية والإقليمية	
	0.50	- غزو الو.م.أ واحتلالها العديد من المناطق في العالم (العراق 2003 ، أفغانستان 2001 ...)	
11.50	0.25	- الدعم اللامتناهي للكيان الصهيوني	الخاتمة
	0.50	2 - <u>مؤسساته الفاعلة:</u>	
	0.50	- الاقتصادية : صندوق النقد الدولي، البنك العالمي، منظمة التجارة العالمية	
	0.50	الشركات الاحتكارية	
	0.25	السياسية : هيئة الأمم المتحدة	
0.50	0.25	العسكرية : حلف الشمال الأطلسي	
	0.25	الإعلامية : وكالات الأنباء ، الانترنت	
	0.50	عانى الشعوب الضعيفة في ظل القطبية الأحادية ما لم تعانیه في ظل القطبية الثنائية.	

الولايات المنبثقة عن مؤتمر الصومام



العلامة		عناصر الإجابة	محاور الموضوع
المجموع	مجزأة		
الجغرافيا			
		الجزء الأول (6نقاط)	
		1* شرح ما تحته خط:	
	0.75	-الاتحاد الأوروبي : تكتل اقتصادي سياسي ثقافي اجتماعي، ظهر بموجب معاهدة روما 1957 ويبلغ تعداد دوله حاليا 27 دولة أوروبية.	
12.50	0.50	- الاندماج :سياسة تبناها الاتحاد الأوروبي لتحقيق الوحدة الشاملة	
	0.75	- النمو الاقتصادي: مؤشر كمي يقيس عملية الغنى(الثراء) لبلد معين خلال فترة زمنية محدودة.	
	0.50	-الفضاء الجغرافي:الامتداد الجغرافي للاتحاد الأوروبي الذي تقدر مساحته بحوالي 3 مليون كلم ²	
11.50	6×0.25	2*التوقيع على الخريطة	
		3* التعليق على الرسم:	
	0.75	- ارتفاع مساهمة الاتحاد الأوروبي عالميا في قطاع الخدمات 26 %نتيجة:	
12.00	0.25	- التكتل الاقتصادي بين دول الاتحاد.	
	0.25	- تنوع الأنشطة الخدماتية.	
	0.75	- ارتفاع مساهمة الاتحاد الأوروبي في قطاعي الزراعة والصناعة عالميا	
		الجزء الثاني (4نقاط)	
0.50	0.50	التقدم والتخلف بين الإرث التاريخي والهيمنة.	المقدمة
		1- عوامل التفاوت بين الشمال والجنوب:	
	0.50	- الاستعمار (استفادة الشمال واستنزاف خيرات الجنوب)	
11.50	0.25	- الاستقرار السياسي في الشمال وانعدامه في الجنوب.	العرض
	0.25	- التحكم في التكنولوجيا في الشمال والضعف في الجنوب.	
	0.25	- نجاح السياسات الاقتصادية في الشمال وفشلها في الجنوب.	
	0.25	- طبيعة العلاقات الاقتصادية بين الشمال والجنوب (غير عادلة)	

نوع	عناصر الإجابة		العلامة	
			مجزأة	المجموع
نص	1- مظاهر التفاوت الاقتصادية والاجتماعية بين العالمين:			
	* الاقتصادية:			
	-	الزراعة (35% في الجنوب، 65% في الشمال).	0.25	
	-	الصناعة (10% في الجنوب 90% في الشمال).	0.25	
	-	التجارة الدولية (18% في الجنوب 82% في الشمال).	0.25	01.50
	* الاجتماعية:			
	-	الدخل الفردي (1500 دولار في الجنوب 15000 دولار في الشمال)	0.25	
	-	التخمة في الشمال وسوء التغذية والمجاعة في الجنوب.	0.25	
	-	الأمية في الجنوب 40% وشبه منعدمة في الشمال.	0.25	
	خروج عالم الجنوب من التخلف مرهون بحسن استغلال إمكاناته وتنمية التعاون فيما بين دوله.		0.50	0.50

الدول العضوة في الاتحاد الأوروبي من 1981 إلى 1995



الجمهورية الجزائرية الديمقراطية الشعبية
وزارة التربية الوطنية
الديوان الوطني للامتحانات والمسابقات
امتحان شهادة بكالوريا التعليم الثانوي دورة جوان 2008
الشعب : العلوم التجريبية، الرياضيات والتقني رياضي
اختبار في مادة : التاريخ والجغرافيا
المدة : 03 ساعات ونصف

على المترشح أن يختار أحد الموضوعين التاليين
الموضوع الأول : (20 نقطة)

التاريخ

الجزء الأول : (06 نقاط)

- 1- حدد مفهوم المصطلحات الآتية :
* البرسترويكا
* عدم الانحياز
* الكومنولث .
- 2 - عرف بالشخصيات الآتية :
* جورج مارشال
* جمال عبد الناصر
* جوزيف بروز تيتو .
- 3 - أكمل جدول الأحداث

الحادث	تاريخه
إقامة جدار برلين	
معركة ديان بيان فو	
	1956/10/29

الجزء الثاني : (04 نقاط) .

تعتبر القضية الفلسطينية أكثر القضايا تعقيدا وحساسية على الإطلاق ،حتى أطلق عليها البعض " معضلة العصر " .

المطلوب :

- انطلاقا من الفقرة واعتمادا على ما درست ،أكتب مقالا تاريخيا تبرز فيه :
- 1- أربع محطات للقضية الفلسطينية في المحافل الدولية ما بين 1947 - 1991 .
 - 2- مستقبل القضية بعد اتفاق غزة أريحا 1993 .

*- إليك جدولا يمثل تطور الواردات البترولية للولايات المتحدة الأمريكية ما بين 1995-2003 :
الوحدة مليون طن

السنوات	1995	1997	1998	1999	2003
البترول الخام	365.5	415.3	431.2	432	462
البترول المكرر	41	51.9	49	55.8	64.4

جغرافية الوطن العربي والعالم ص : 65

المطلوب : علق على الجدولين .

3 - على خريطة أوربا المرفقة وقع أسماء الدول المؤسسة للاتحاد الأوروبي .

الجزء الثاني : (04 نقاط)

إن عالم اليوم يشهد تزايدا كبيرا في الإنتاج والاستهلاك مما أدى إلى تنوع المبادلات التجارية والتدفقات المالية والتنقلات البشرية ، خضعت في مجملها لهيمنة أقطاب وقوى اقتصادية عالمية .

المطلوب :

انطلاقا من الفقرة واعتمادا على ما درست ، أكتب موضوعا جغرافيا تبرز فيه :

1- مظاهر التنوع .

2- أثر الهيمنة الاقتصادية على العالم الثالث .

الجغرافيا

الجزء الأول: (06 نقاط)

- 1 - حدد مفهوم المصطلحات الآتية :
* - تهيئة الإقليم * - الاحتباس الحراري * - المناطق الحرة

- 2 - إليك جدولاً يمثل الدول الخمس الأوائل المنتجة والمصدرة والمستهلكة للنفط في العالم سنة 2005 .

الدول المنتجة		الدول المصدرة		الدول المستهلكة	
الدولة	الكمية م/ط	الدولة	الكمية م/ط	الدولة	الكمية م/ط
م. العربية السعودية	418	م. العربية السعودية	302	و.م.أ.	498
روسيا	367	روسيا	188	الصين	245
و.م.أ.	360	النرويج	141	اليابان	242
الصين	168	فنزويلا	112	الهند	97
إيران	166	نيجيريا	102	إيطاليا	93

الكتاب المدرسي ص : 31

المطلوب : علق على الجدول .

- 3 - على خريطة العالم المرفقة وقع أسماء ثلاث دول واردة في الجدول .

الجزء الثاني : (04 نقاط)

تحتل الولايات المتحدة الأمريكية الصدارة الدولية في مختلف القطاعات الاقتصادية " زراعة ، صناعة ، تجارة " بفعل وفرة الإمكانيات الطبيعية والبشرية من جهة وحسن استغلالها من جهة ثانية .

المطلوب :

انطلاقاً من الفقرة واعتماداً على ما درست ، أكتب موضوعاً جغرافياً تبرز فيه :

- 1- عوامل القوة الاقتصادية للولايات المتحدة الأمريكية .
- 2- انعكاسات القوة الاقتصادية على السياسة الخارجية للولايات المتحدة الأمريكية .

الموضوع الثاني : (20 نقطة)

التاريخ

الجزء الأول : (06 نقاط)

- 1 - حدد مفهوم المصطلحات الآتية :
* - الحياض الإيجابي * - سياسة ملء الفراغ * - الحركات التحررية .
- 2 - عرف بالشخصيات الآتية :
* - رونالد ريغن * - جون كينيدي * - جواهر لال نهرو .

3 - أكمل الجدول التالي :

المستعمرة	أسلوب الكفاح
الهند الصينية	-----
الهند	-----

الجزء الثاني : (04 نقاط)

عاش العالم لمدة 45 سنة تحت وصاية كل من الولايات المتحدة الأمريكية والاتحاد السوفياتي إلى أن انهار هذا الأخير لتنفرد أمريكا بقيادة العالم .

المطلوب :

- انطلاقا من الفقرة واعتمادا على ما درست ، أكتب مقالا تاريخيا تبرز فيه :
- 1 - الإستراتيجية الخاصة بكل كتلة .
 - 2 - انعكاسات القطبية الأحادية على العالم الثالث .

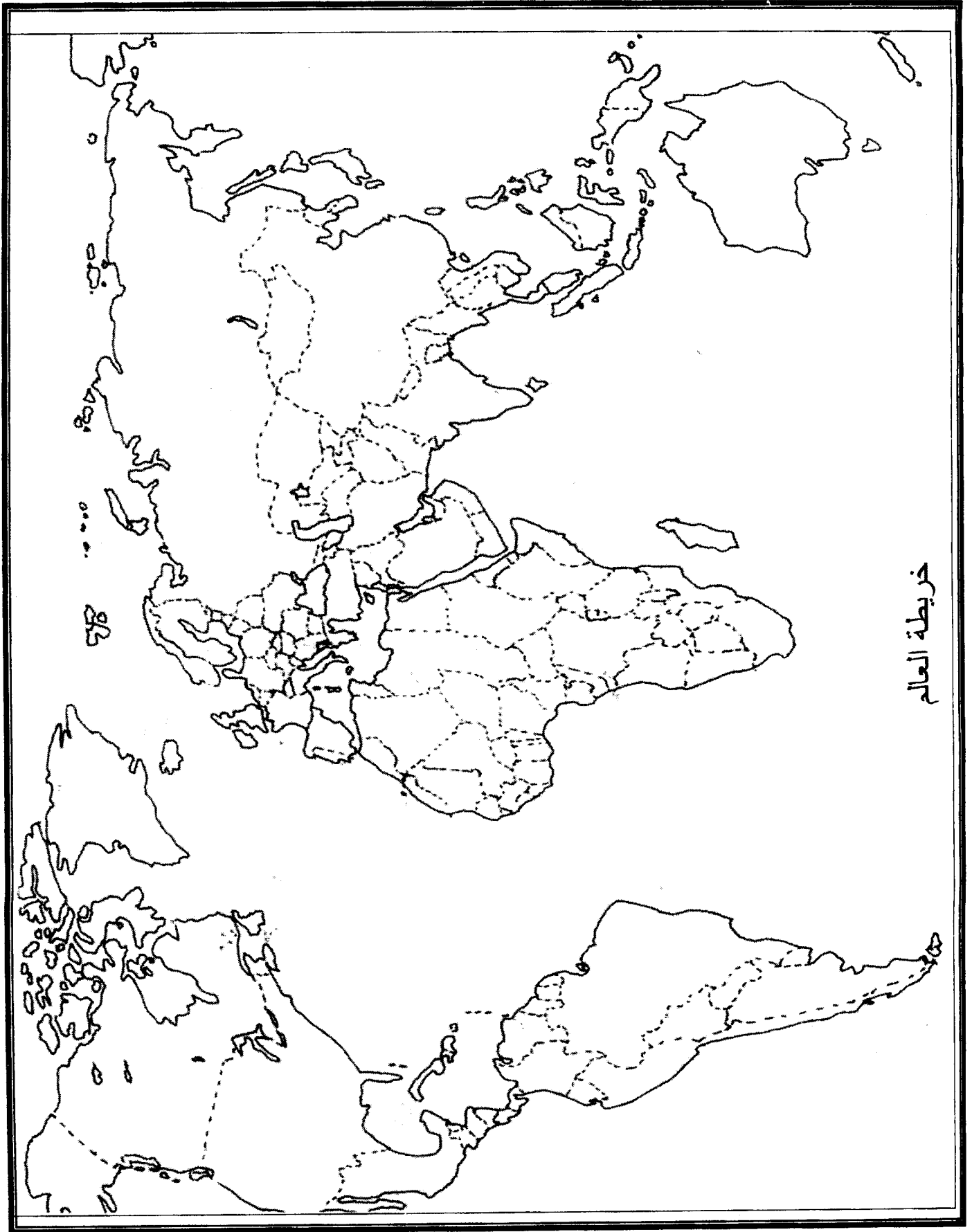
الجغرافيا

الجزء الأول : (06 نقاط)

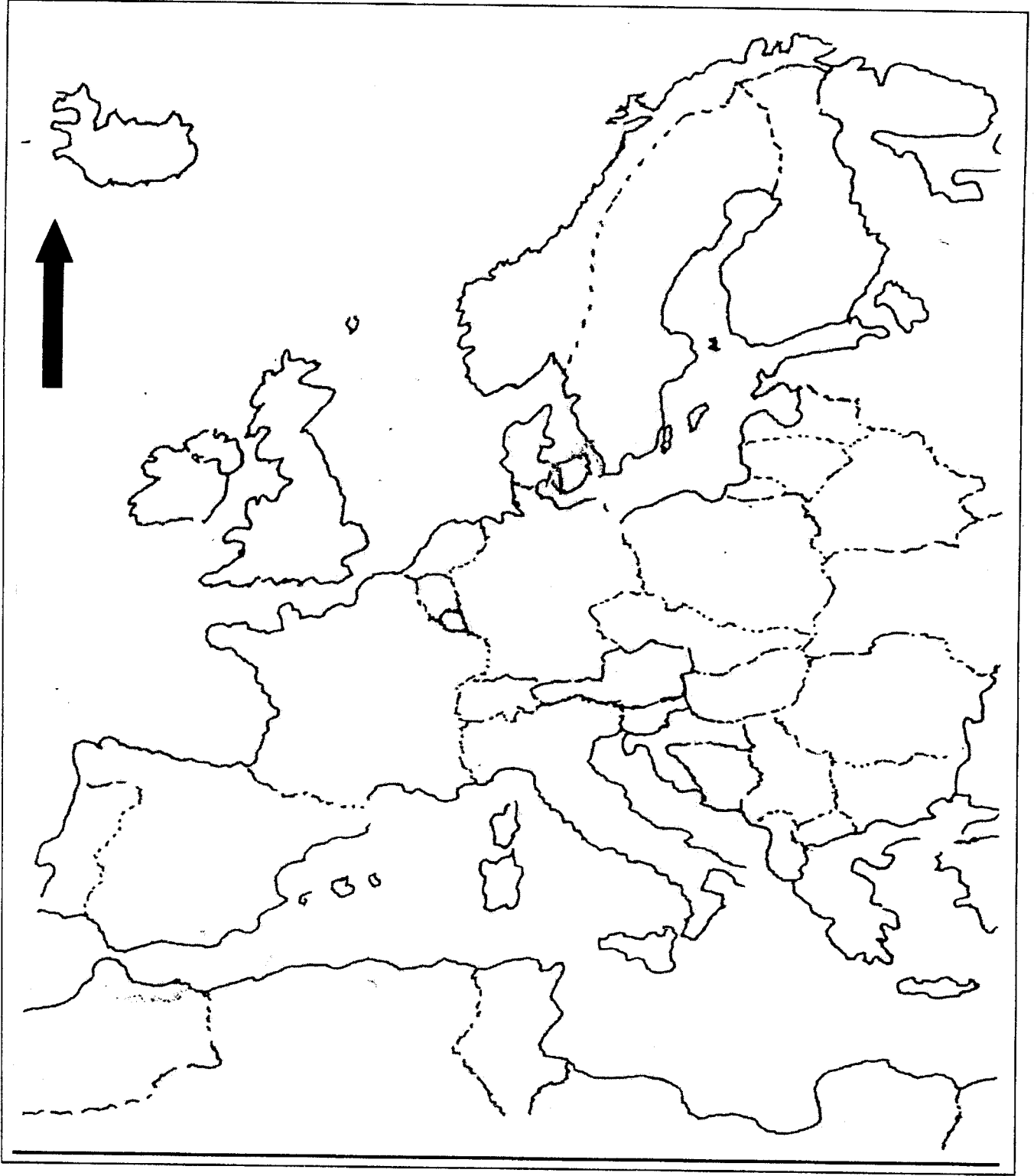
- 1 - حدد مفهوم المصطلحات الآتية :
* - الاستثمار * - التنمية * - الأسهم
- 2 - إليك جدولا يمثل تطور إنتاج البترول في الولايات المتحدة الأمريكية ونسبة المساهمة في الإنتاج العالمي ما بين 1960-2003 : الوحدة : مليون طن

السنوات	1960	1970	1978	1990	1995	1999	2003
الإنتاج	348	375.2	479.70	411.38	386.10	358.22	360
% العالمية	32.93	16.46	15.50	13.15	11.85	10.48	10.50

جغرافية الوطن العربي والعالم ص : 4



خريطة أوروبا



ينجز العمل المطلوب على الخريطة وتعاد مع أوراق الإجابة

الإجابة النموذجية وسلم التقييم

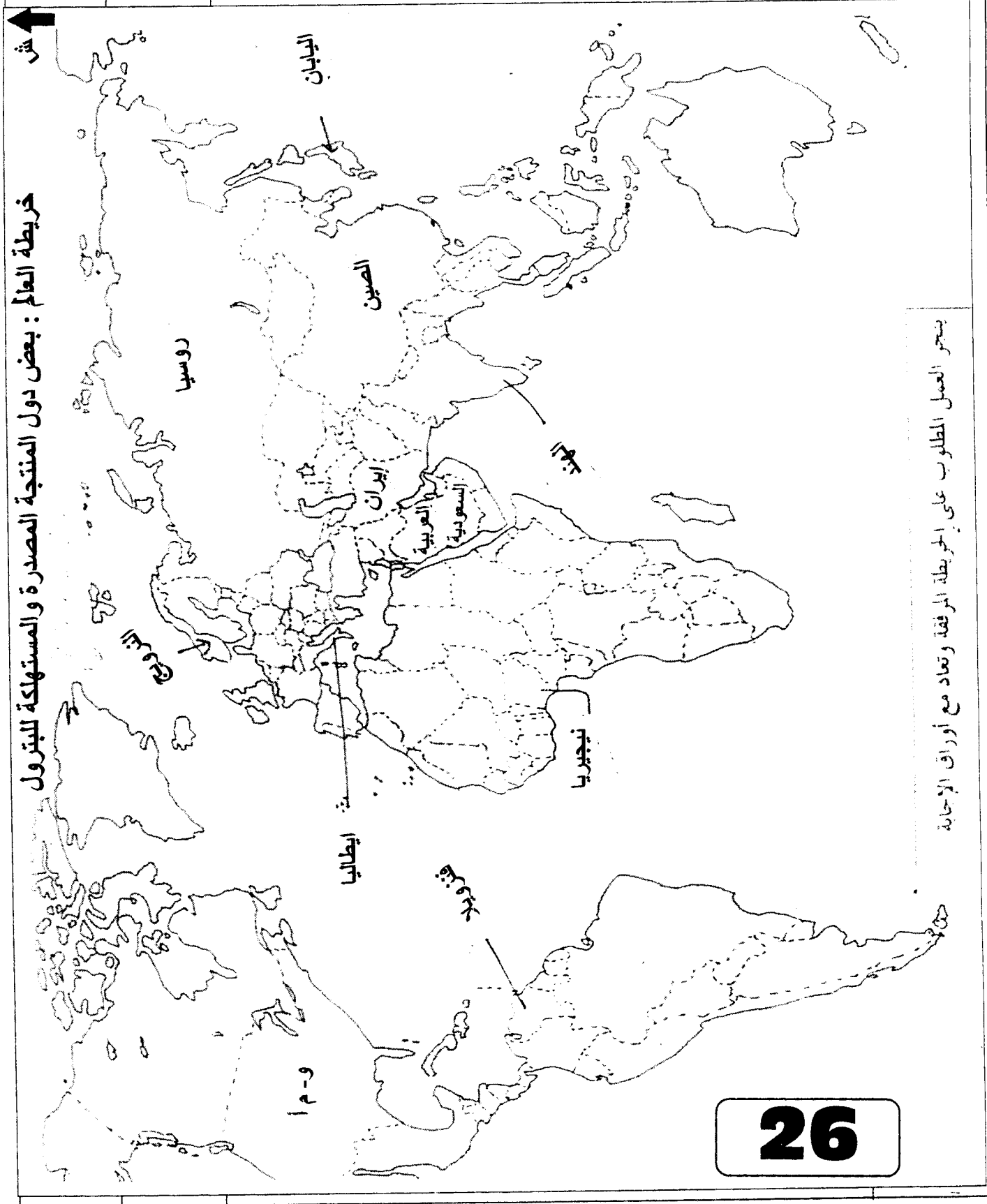
العلامة		عناصر الإجابة	محاوَر الموضوع								
المجموع	مجزأة										
06		الموضوع الأول									
		التاريخ الجزء الأول : (06 نقاط)									
		1- مفهوم المصطلحات :									
	0.50	• البرسترويكا : إعادة هيكلة الإقتصاد أو إعادة الترتيب، وتشير إلى السياسة الداخلية المنتهجة في عهد الرئيس غورباتشوف 1985.									
	0.75	• عدم الانحياز : سياسة انتهجت من طرف الدول المستقلة بعد ح ع 2 ومعناها عدم الانضمام إلى أي من المعسكرين المتصارعين، ظهرت رسميا في مؤتمر بلغراد سنة 1961.									
	0.75	• الكومنولث : رابطة سياسية واقتصادية تجمع بريطانيا بمستعمراتها. نشأت في 11-12-1931 تضم 54 دولة									
		2- التعريف بالشخصيات :									
	0.50	• جورج مارشال : وزير خارجية الولايات المتحدة الأمريكية اقترن اسمه بمشروع اقتصادي لإعادة إعمار أوربا بعد ح ع II - مشروع مارشال.									
	0.75	• جمال عبد الناصر : أحد مؤسسي منظمة الضباط الأحرار تزعم الثورة في مصر، رئيس الجمهورية المصرية ما بين 1954-1970 مؤمم قناة السويس 1956. من مؤسسي حركة عدم الانحياز 1961.									
	0.75	• جوزيف بروز تيتو : 1892-1980 قائد المقاومة ضد النازية رئيس جمهورية يوغسلافيا، من مؤسسي حركة عدم الانحياز 1961 .									
		3- جدول الأحداث :									
		<table><tr><th>الحدث</th><th>تاريخه</th></tr><tr><td>إقامة جدار برلين</td><td>1961/08/09</td></tr><tr><td>معركة ديان بيان فو</td><td>13 مارس إلى 07 ماي 1954</td></tr><tr><td>العدوان الثلاثي على مصر</td><td>1956/10/29</td></tr></table>	الحدث	تاريخه	إقامة جدار برلين	1961/08/09	معركة ديان بيان فو	13 مارس إلى 07 ماي 1954	العدوان الثلاثي على مصر	1956/10/29	
الحدث	تاريخه										
إقامة جدار برلين	1961/08/09										
معركة ديان بيان فو	13 مارس إلى 07 ماي 1954										
العدوان الثلاثي على مصر	1956/10/29										

24

العلامة	مجزأة	عناصر الإجابة	محاوَر الموضوع
04	0.50 4×0.50 0.25 0.25 0.50 0.50	<p>الجزء الثاني : (04 نقاط)</p> <p>القضية الفلسطينية بين تجاذب القوى الإقليمية والدولية.</p> <p>1- محطات القضية :</p> <ul style="list-style-type: none"> - مشروع التقسيم في 1947/11/29. - القرار 242 الصادر بتاريخ 1967/11/22. - القرار 338 الصادر بتاريخ 1973/10/22. - اعتراف الأمم المتحدة بمنظمة التحرير الفلسطينية 1974/11/13. - مؤتمر السلام في الشرق الأوسط - مدريد في 1991/11/30. <p>2- مستقبل القضية :</p> <ul style="list-style-type: none"> - ابداء اسرائيل استعدادها أحيانا لقبول مشروع الأرض مقابل السلام والتراجع عنه أحيانا أخرى. - استمرار الضغوط الخارجية خاصة الأمريكية للحصول على المزيد من التنازلات من طرف السلطة الفلسطينية (خارطة الطريق). - القضية مرشحة للتعقيد والتصعيد أكثر. <p>لن تجد القضية طريقا للحل ما لم يمتلك الفلسطينيون والعرب القوة التي تمكنهم من استرجاع ما ضاع منهم بالقوة.</p>	<p>المقدمة :</p> <p>العرض :</p> <p>الخاتمة :</p>
06	0.50 0.75 0.75 0.75 0.50 0.75 0.50 0.25 1.25	<p>جغرافيا</p> <p>الجزء الأول : (06 نقاط)</p> <p>1- مفهوم المصطلحات :</p> <ul style="list-style-type: none"> • تهينة الإقليم : هو إعداد شبكة من الهياكل القاعدية الخاصة تؤهله لاستغلال مجاله وإمكانياته بكل سهولة ولعب دوره في الحياة الاقتصادية . • الاحتباس الحراري : ظاهرة ناجمة عن نفاذ كمية كبيرة من الحرارة عبر ثقب الأوزون وتسربها نحو الأرض بفعل تراكم الغازات (التلوث) مما أدى إلى ارتفاع درجة الحرارة. • المناطق الحرة : هي مناطق خاصة للتبادل الحر للسلع غير خاضعة للتعرفة الجمركية. <p>2- التعليق على الجدول :</p> <ul style="list-style-type: none"> - ضخامة الإنتاج العالمي - مساهمة دول الجنوب بأكثر من 50 % . - ضخامة استهلاك دول الشمال (70 %). <p>3- التوقيع على الخريطة :</p> <ul style="list-style-type: none"> - العنوان. - المفتاح. - الانجاز. 	

25

محاوَر الموضوع		عناصر الإجابة		العلامة
مجموع		مجزأة		مجموع



تابع الإجابة اختبار مادة : التاريخ والجغرافيا الشعبة : علوم تجريبية، رياضيات وتقني رياضي

العلامة		عناصر الإجابة	محاوّر الموضوع
المجموع	مجزأة		
04	0.50	الجزء الثاني : (04 نقاط)	المقدمة :
		الولايات المتحدة الأمريكية قوة اقتصادية بفعل تضافر إمكاناتها وحسن الاستثمار.	
	0.50	1- عوامل القوة :	العرض :
	0.50	- طبيعية : السطح - المناخ - الشبكة المائية.	
	0.50	- بشرية ومادية	
		- تاريخية	
	0.50	2- انعكاساتها على السياسة الخارجية :	
	0.50	- ممارسة الضغط والهيمنة.	
	0.50	- التدخل في مناطق متعددة (العراق - أفغانستان).	
		- استخدام المحافل والمنظمات الإقليمية والدولية لفرض إرادتها.	
	0.50	الازدهار الاقتصادي بوالولايات المتحدة الأمريكية زعامة العالم.	الخاتمة :

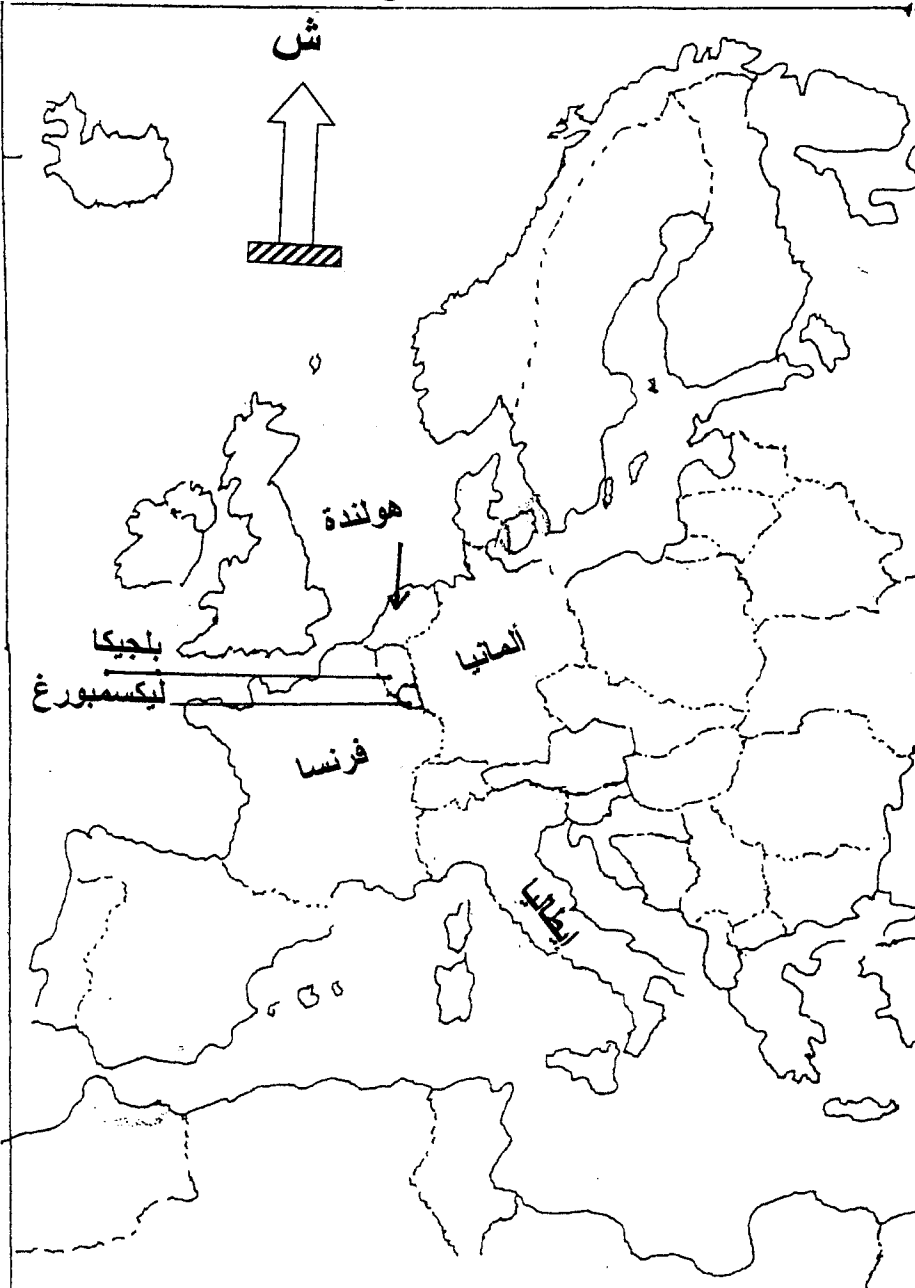
معايير الإجابة		معايير الإجابة						
العلامة	مجزأة	المجموع						
06		<p>الموضوع الثاني</p> <p>التاريخ الجزء الأول</p> <p>1- مفهوم المصطلحات :</p> <p>* الحياد الإيجابي : مناصرة القضايا العادلة في العالم تبنته حركة عدم الانحياز على لسان أحد أقطابها " جواهر لال نهرو .</p> <p>* - سياسة ملء الفراغ : استبدال القوى الجديدة " و.م.أ " للقوى الاستعمارية القديمة " فرنسا ، بريطانيا " في المناطق المستعمرة مثل الهند الصينية .</p> <p>* - الحركات التحررية : رد فعل ونضال وطني وشكل من أشكال الرفض والمقاومة من قبل الشعوب المستعمرة ضد الدول الاستعمارية ، اتخذ عدة أشكال (سياسي ، عمل مسلح ، الدمج بينهما) .</p> <p>2- التعريف بالشخصيات :</p> <p>* - رونالد ريغن : 1911 - 2004 ، رئيس الولايات المتحدة الأمريكية من 1981-1989 ، تميز بالتشدد تجاه الاتحاد السوفياتي ، صاحب مشروع حرب النجوم .</p> <p>* - جون كينيدي : رئيس الولايات المتحدة الأمريكية 1960-1963 ديمقراطي ، رفض القواعد العسكرية السوفياتية في كوبا ، استعد لمواجهة السوفيات ، اغتيل في سنة 1963 .</p> <p>* - جواهر لال نهرو : 1889 - 1964 زعيم سياسي هندي ، رئيس وزراء الهند 1947-1964 من مؤسسي حركة عدم الانحياز .</p> <p>3- تكمل الجدول :</p> <table border="1"> <tr> <th>الحدث</th> <th>أسلوب الكفاح</th> </tr> <tr> <td>الهند الصينية</td> <td>الكفاح المسلح</td> </tr> <tr> <td>الهند</td> <td>السلم/المقاطعة/العنف الإيجابي</td> </tr> </table>	الحدث	أسلوب الكفاح	الهند الصينية	الكفاح المسلح	الهند	السلم/المقاطعة/العنف الإيجابي
	الحدث	أسلوب الكفاح						
	الهند الصينية	الكفاح المسلح						
	الهند	السلم/المقاطعة/العنف الإيجابي						

تابع الإجابة اختبار مادة : التاريخ والجغرافيا . الشعبة : علوم تجريبية، رياضيات وتقني رياضي

تابع
محاو

العلامة		عناصر الإجابة	محاو
المجموع	مجزاة		
04	0.25 0.25 0.25 0.25 0.25 0.25 0.25 0.25 0.50	<p>ب - الولايات المتحدة الأمريكية :</p> <ul style="list-style-type: none"> * - اقتصادية : مشروع مارشال ، الإعانات . * - سياسية : مبدأ ترومان ، مبدأ إيزنهاور . * - عسكرية : السباق نحو التسليح ، الأحلاف . * - الدعاية والإعلام <p>2- انعكاسات القطبية الأحادية على العالم الثالث :</p> <ul style="list-style-type: none"> - ازدياد الهيمنة الأمريكية . - فرض نظام دولي جديد بمنظور أمريكي . - استخدام الهيئات والمنظمات الدولية ضد مصالح العالم .. - ممارسة الضغوط والتدخل في شؤون دول العالم الثالث . <p>* - الخاتمة : مثلما كانت القطبية الثنائية شرا على العالم الثالث ، فالقطبية الأحادية جحيم عليه</p>	
06	0.75 0.75 0.50 0.75 0.50 0.75 0.75 1.50 0.25 0.25	<p>جغرافيا الجزء الأول</p> <p>1- مفهوم المصطلحات :</p> <ul style="list-style-type: none"> * الاستثمار : توظيف مبالغ مالية في مشاريع معينة ، أو توجيه مدخرات واستخدامها حيث يؤدي إلى إشباع حاجات اقتصادية . . * التنمية : عملية اقتصادية شاملة والسعي لاستغلال أمثل للموارد البشرية والمادية والعمل بأساليب جادة للتحكم في التسيير القائم على استقرار المؤسسات بهدف تحقيق نمو اقتصادي متوازن ورفاهية اجتماعية * - الأسهم : أقساط وحصص ذات قيم مالية يساهم بها الفرد أو المؤسسة في أي مشروع اقتصادي أو اجتماعي تكون متداولة في البورصة . <p>2 - التعليق على الجدولين :</p> <ul style="list-style-type: none"> - تطور طردي بين الإنتاج ونسبة المساهمة في الإنتاج العالمي . - ضخامة الواردات النفطية الأمريكية . - تفوق واردات النفط الأمريكية على إنتاجها تماشيا مع سياستها . <p>3- التوقيع على الخريطة : - الانجاز .</p> <ul style="list-style-type: none"> - المفتاح . - العنوان . 	
04	0.50 0.50 0.50 0.50 0.50 0.50 0.50 0.50	<p>الجزء الثاني</p> <p>* - المقدمة : عالم اليوم من وحدات وتكتلات اقتصادية وسياسية إلى عالم القرية (العولمة)</p> <p>* - العرض : 1- مظاهر التنوع : - التجارية : الضخامة ، السرعة ، التنوع .</p> <ul style="list-style-type: none"> - التدفقات : التركز ، سرعة الانتقال ، الاحتكار .. - التنقلات البشرية : الحرية ، السهولة ، نقل الخبرات <p>2- أثر الهيمنة على العالم الثالث : * - التبعية بجميع أشكالها .</p> <ul style="list-style-type: none"> * - فقدان التحكم في اتخاذ القرار . * - سوق استهلاكية (فضاء تجاري استهلاكي) <p>لن تتحرر دول العالم الثالث ما لم تستطع تأمين حاجيات مجتمعاتها الاستراتيجية</p> <p>الخاتمة :</p>	


تابع الإجابة اختبار مادة : التاريخ والجغرافيا . الشعبة : علوم تجريبية، رياضيات وتقني رياضي

محاور الموضوع	عناصر الإجابة	العلامة
مجزأة	المجموع	
		<p>خريطة أوروبا: الدول المؤسسة للسوق الأوروبية المشتركة</p> 
30		

- شعار العمل في الموسم -

تَعَبُ الْمُرَاجَعَةِ أَفْضَلُ مِنْ أَلَمِ السَّقُوطِ

بالتوفيق و النجاح لجموع التلاميذ الشرفاء



صناعة الطريق الذهبي نحو بكالوريا 2022



<https://www.facebook.com/okba.bac.2010>