



EXAMEN TERCER TRIMESTRE

Primer grado

NOMBRE DEL ALUMNO: _____

ESCUELA: _____

FECHA _____ N. L. _____ GRUPO: _____

NOMBRE DEL MAESTRO: _____

ASIGNATURA	ACIERTOS	TOTAL	CALIF.
ESPAÑOL			
MATEMÁTICAS			
CONOCIMIENTO DEL MEDIO			
EDUC. SOCIOEMOCIONAL			
ARTES			

Firma del padre



EXAMEN DE ESPAÑOL

PRIMER GRADO

TERCER TRIMESTRE

Nombre: _____

Encierra las palabras que están escritas con mayúsculas y subraya las que están en minúsculas.

México Xalapa papalote dulce
Dulce Sofía cacahuete Karla Mónica



Escribe palabras que comiencen igual que la palabra del inicio.

Rosa _____

Flor _____

Eduardo _____

Lupe _____



Lee el siguiente texto y contesta las preguntas.

El sol brillaba en el cielo. Loba abuela entró en la guarida y preguntó:

-Lobo chiquito, ¿has visto que tardé? Estupenda para jugar en el bosque.

-Ya lo sé.

-Entonces, ¿qué haces ahí medio escondido?

1. ¿Cuántas palabras comienzan con mayúsculas?

2. ¿Todas las palabras que encontraron son nombres de personas o lugares? _____




Describe cómo eres.



Observa los animales y el alfabeto y escribe en cada línea los nombres de los animales.




A B C D E F G H I J K L M N Ñ O P Q R S T U V X Y Z



Lee los nombres de los animales y escribe otros nombres de animales.





serpiente



lagartija

Completa el crucigrama.

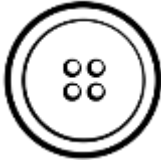




Completa los nombres de los dibujos.



z _ _ _ o



b _ _ _ n

p _ _ _ _ n



Escribe dos nombres que se usan para nombrar lo siguiente.

Observa las situaciones y escribe como dirías en cada una.



Para pagar en una tienda yo digo:



Para contarle a mi mamá como me fue en la escuela yo digo



Lee cada oración y escribe el número de palabras que tienen.

Rafael y su amiga juegan pelota. _____

Los pájaros vuelan. _____

Pedro baila. _____

A mí me gustan las empanadas. _____



Recuerda algún cuento que hayas leído con tus compañeros y escribe lo que se te pide.

Título del
cuento: _____

Anota los nombres de los personajes:




Lee lo siguiente, separa las palabras de las oraciones para descubrir nuevos significados y escríbelas.

Emilianocomepastel.

Lucianocorre.

Elenacomehelado





Une cada tipo de texto con su nombre.

ESTÉTICA CANINA
"EL PERRO ESPONJOSO"

Lo dejamos
limpio,
hermoso y
oloroso.




Baño: \$150
Corte: \$100
Baño y corte: \$200

Encuétranos en:
Calle 29 núm. 714
Tel. 27123000



noticia

Akira vence a todos los Chow Chows



El día domingo se llevó a cabo la primera carrera de perros de raza Chow chow en el parque central de esta ciudad. La cita se dio en punto de las 9:00 hrs, cuando llegaron alrededor de 20 perros. Durante la carrera se observaron cómo los perros corrían felices junto a sus dueños; siendo ganadora entre todos una perrita llamada Akira, quien según sus dueños entrena diariamente a las 7:00 am, por ello ganó la carrera.

infografía



cartel



EXAMEN DE MATEMÁTICAS

PRIMER GRADO

TERCER TRIMESTRE

Nombre: _____

1. Colorea las fichas de azul y rojo para representar la cantidad que se indica.

Cantidad	Decenas	Unidades
35		
67		

Observa el tablero y realiza lo que se indica.

1	2	3	4	5	6	7	8	9	10
11	12	13	14	15	16	17	18	19	20
21	22	23	24	25	26	27	28	29	30
31	32	33	34	35	36	37	38	39	40
41	42	43	44	45	46	47	48	49	50
51	52	53	54	55	56	57	58	59	60
61	62	63	64	65	66	67	68	69	70
71	72	73	74	75	76	77	78	79	80
81	82	83	84	85	86	87	88	89	90
91	92	93	94	95	96	97	98	99	100



Colorea de rojo las decenas.

Cuenta de 5 en 5 y colorea de verde las casillas.

Colorea de amarillo las casillas que resultan de contar 2 en 2.

Escribe en la recta los números que faltan.



50 51 ____ ____ 54 ____ 56 ____ ____ ____ 60



12 ____ ____ ____ 52 62 ____ ____ ____ 102 112



Dibuja las tarjetas de 10 y de 1 para formar la cantidad que se indica.

46:

39:

83:

Escribe el número que se forma con las tarjetas:

10	10	10	10	10	10	10	10	1	
1	1	1	1						
10	10	10	10	10	1	1	1		
10	10	10	1	1	1	1	1	1	



Realiza las operaciones.

$30 + 40 =$

$40 - 20 =$

$10 + 30 =$

$7 - 6 =$

$6 - 2 =$

$50 + 2 =$



Observa el calendario del mes y contesta.



JUNIO 2019



dom	lun	mar	mié	jue	vié	sáb
						1
2	3	4	5	6	7	8
9	10	11	12	13	14	15
16	17	18	19	20	21	22
23	24	25	26	27	28	29
30						


¿Qué día de la semana es hoy?

¿Qué día fue ayer?


¿Cuántos alumnos asistieron hoy a clases?



El 5 de mayo celebramos la batalla de puebla, dibuja y pinta las otras celebraciones del mes.



Observa la imagen y responde.



Cuánto pagó?


Resuelve los problemas en la recta numérica.

Yo tenía 15 pesos y mi mamá me dio 18. ¿Cuánto tengo ahora? _____





Ahora calcula la cantidad de dinero con el tablero, poniendo las fichas donde corresponden para realizar la operación.



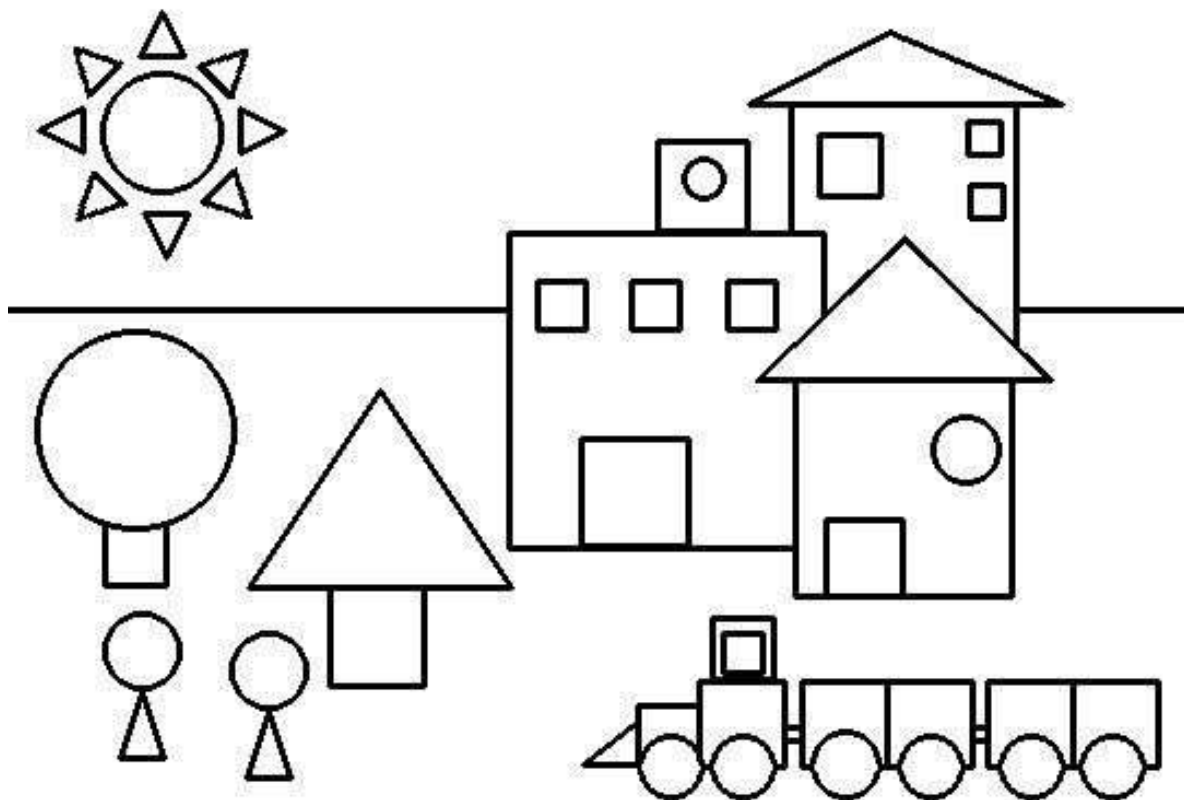
$$15 + 18 = \underline{\hspace{2cm}}$$

Encierra donde se resolvió bien el problema.

Sumé $23 + 19$ y obtuve 42.

Resté $34 - 17$ y obtuve 19.

Colorea la imagen y escribe cuantas figuras geométricas de cada tipo se coloreo en el cuadro.





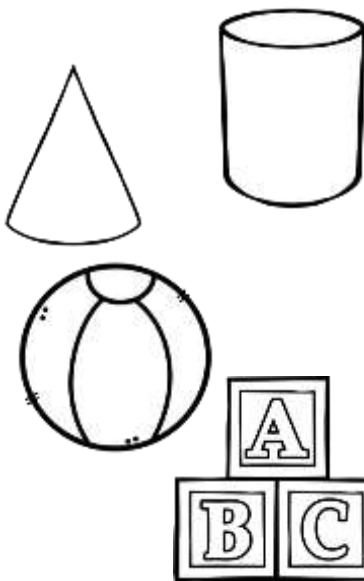
De las cuatro figuras colorea de morado la que tenga lados curvos y de amarillo la de lados rectos.



Colorea de naranja los objetos grandes, de rojo los medianos y de morado los pequeños.



Une con una línea los objetos con su característica.



Un objeto que rueda y gira.

Un objeto que rueda y avanza.

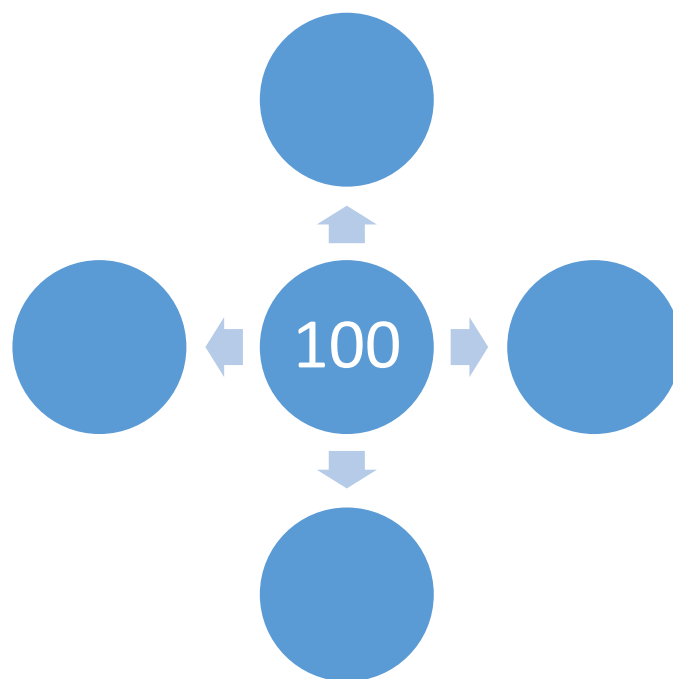
Un objeto que solo rueda por una de sus partes y avanza.

En los siguientes vasos dibuja el agua como se indica: el primero está más lleno, lo otros dos tienen la misma cantidad de líquido.





Escribe diferentes maneras de obtener usando sumas y restas





EXAMEN DE CONOCIMIENTO DEL MEDIO

PRIMER GRADO

TERCER TRIMESTRE

Nombre: _____

Escribe tus responsabilidades en casa.



Dibuja las acciones que realiza cada miembro en casa para convivir mejor en

Papá ayuda en

Mamá ayuda en:

Los hijos ayudamos en:

Une con una línea las causas y consecuencias de los acuerdos.

En casa cuando me equivoco
yo...

Lo expreso sin agredir.

Cuando me enojo...

Se lo cuento a alguien.

Cuando me pongo triste...

Ofrezco disculpas.



Lee la situación y escribe el acuerdo.


La mamá de Juan ha estado muy enferma, su papá trabaja todo el día y no hay quien haga la limpieza de la casa ¿Qué debe hacer Juan?






Dibuja varios tipos de desechos que se generan en tu casa y escuela.

Desechos de casa	Desechos de la escuela



Contesta lo que se te pide.

El agua es importante para _____ y la usamos para _____



Objetos que puedes jalar.

Objetos que puedes empujar.

Tacha las imágenes donde se desperdicie el agua.



Une con una línea los objetos con su característica.



Pesado


Ligero

Suave

Rígido


Flexible

Dibuja a tu familia en el árbol genealógico y contesta.



Mi familia me apoya cuando:

Dibuja un momento especial co tu familia.





EXAMEN DE EDUCACIÓN SOCIOEMOCIONAL PRIMER GRADO TERCER TRIMESTRE

Nombre: _____


Completa lo siguiente.

Mi nombre es _____

yo soy _____

me gusta _____

Dibujate.



Une las imágenes con la descripción de las personas que te ayudan.



Juega contigo, a veces te presta sus cosas y se hacen compañía.

Te dan cariño, alimentación, te visten, protegen y te llevan a la escuela.

Te llevan a verlo cuando estas enfermo y te receta la medicina para que te alivies.

Te enseña y ayuda para aprender cosas nuevas en la escuela.

Escribe lo que puedes hacer solo.





Encierra con color azul lo que debes hacer para mejorar y aprender muchas cosas.

Cumplir con todas mis responsabilidades.

Hacer solo lo que me gusta.


Salir a jugar y no terminar la tarea.

Desobedecer a mis padres.

Leer muy poquito.



Observa los dibujos, lee las oraciones y escribe el numero de cada oración con la imagen que corresponda.



1. Cuando trabajamos en equipo terminamos rápido y todos aprendemos.

2. Si cuido mis utiles escolares los tengo listos cuando los necesite.

3. Si estudio siempre sacaré 10 en mis materias.

4. Cuando leo todos los días mejoro mi lectura.



Completa lo siguiente.

Me gustaría lograr en la escuela:

lo que necesito hacer es _____
_____.

Une las acciones que debes realizar en equipo para cumplir con las metas.

Llevar los materiales que acordé con mis compañeros.	Ganarnos el banderín de la puntualidad con mi grupo.
Asistir puntualmente a la escuela.	Ganar el partido de futbol.
Entrenar futbol.	Elaborar una maqueta.






EXAMEN DE ARTES
TERCER TRIMESTRE

PRIMER GRADO

Nombre: _____

..

ESCRIBE O DIBUJA QUÉ ACTIVIDADES TE PERMITEN REALIZAR LOS SIGUIENTES SENTIDOS

Lee la canción infantil y vuelve a escribirla cambiando algunas partes de la letra.

Los pollitos dicen
Pío, pío, pío
Cuando tienen hambre
Cuando tienen frío.

La galina busca
el maíz y el trigo
les da la comida
y les busca un abrigo.

Bajo sus dos alas
Se están quietecitos
Y hasta el otro día
Duermen los pollitos.





Diseña un vestuario para una pesta de escena de una manifestación cultural y escribe el nombre de esa manifestación.

