

5. Choose the correct answer from a, b or c :

[4 Marks]

[1] I don't a parrot.

a) wanted

b) want

c) wants

[2] The ball is to the chair.

a) in

b) under

c) next

[3] I do my homework the afternoon.

a) at

b) on

c) in

[4] He is the car.

a) washes

b) wash

c) washing

C - Writing (16 Marks)

6. Look and answer the questions :

[6 Marks]



1. What does she look like ?



2. What's this ?



3. Do you like pizza ?



4. What does he want ?


7. Look and write THREE sentences :

[6 Marks]

.....

.....

.....



8. Punctuate the following :

[4 Marks]

1. my name s ragab

السؤال الأول : حدّد أماكن خريطة صماء لمصر اكتب ما تعلّق عليه الأرقام الآتية



١. النهر
٢. الصحراء
٣. هضبة
٤. بحيرة

به - بم تفسر:-

١- تركز السكان في وادي النيل ومنتاه .

.....

.....

٢- هجرة الأسماك المصري من الهضبة إلى الوادي .

.....

.....

٣- ضيق السهول الساحلية للبحر الأحمر .

.....

.....

غير مصرح بالكتابة في هذا المكان

السؤال الثاني:- أختار الإجابة الصحيحة مما بين القوسين :-

- ١- صنع المصري القديم ملاحسه من
(الحرير - القطن - القطن - الصوف)
- ٢- النسبة بين المسافة على أي خريطة وما يقابلها على الطبيعة تسمى
(عنوان الخريطة - مقياس الرسم - اتجاه الشمال - دليل الرموز والألوان)
- ٣- عدد السكان الذين يعيشون فوق وحدة مساحية من الأرض مكي الكيلو متر
المربع تسمى
(كثافة سكانية - هجرة السكان - زيادة السكان - نمو سكاني)
- ٤- عملية حفظ الجسم سليماً بعد الموت تسمى
(يعمل - قلوباً - تحنيطاً - توحيداً)

ب- قارن بين مملكة الشمال ومملكة الجنوب مستعيناً بالجدول التالي :

وجه المقارنة	مملكة الشمال	مملكة الجنوب
التاج		
العاصمة		
الشعار		

السؤال الثالث:-

اكتب كلمة (صح) أمام العبارة الصحيحة وكلمة (خطأ) أمام العبارة الخاطئة صحيحة فيما يلي:-

- ١- يدور طريق رأس الرجاء الصالح حول قارة آسيا. ()
- ٢- عرف الإنسان المصري القديم النار واستخدمها في تعداد الحيوانات المفترسة. ()
- ٣- الحدود الشمالية لمصر حدود بشرية. ()
- ٤- توجد علاقة متبادلة بين الإنسان والبيئة التي يعيش فيها. ()

ب) اكتب ما تشير إليه كل عبارة من العبارات الآتية:

- ١- الشجار ضيقة أوقفاها عريضة وتنمو في المناطق غريبة الأمطار. (.....)
- ٢- المكان الذي يعيش فيه الإنسان ينثر ويؤثر فيه. (.....)
- ٣- الفرق بين هذه المواليد والوفيات. (.....)

السؤال الرابع :- املأ الخرج من المجموعة (ب) ما يناسبه من الصور (١)

(١)

(١)

١- النقل لا يفر من ماله في القرى

٢- طين الرموز والالوان في الخريطة

٣- التلويح

٤- القرب التلويح

١- بنى المصري القديم مسئلة من

٢- الهجرة الخارجية هي

٣- ملحق الخريطة هو

ب- أكمل الجمل الآتية:-

١- تقع مصر في الركن الشمالي الشرقي لقارة

٢- يمر بمصر نهر وهو من أطول أنهار العالم .

٣- من العوامل الطبيعية لقيام الحضارة المصرية

٤- من المحافظات الجاذبة للسكان في مصر محافظة

(مع احبب الامنياسات بالسجاس والتوقيعات) ...

Question (1)

Complete the following statements :

1. Solids have definite and
2. Burning of wood is considered as change, but the melting of ice is change.
3. is a liquid metal, while is a liquid non-metal.
4. Green plants depend on gas in the process of photosynthesis.
5. The return back of water to its normal level after the tide is called.....

Question (2)

A) Write the scientific term

1. Every thing occupies a place and has mass. []
2. It is dark body rotates around the earth. []
3. A brittle and brown layer that covers the iron surface in the presence of oxygen and water. []
4. Changing of the matter from a gaseous state to a liquid state by cooling. []
5. The groups of elements that have luster and ability to conduct electricity. []
6. The most beautiful planet. []

B) Give reason for:

1- Moon seems shiny.

2- Using copper in manufacturing of electric wires.

الرقم السري

اسم المعلمة :

المرحلة :

رقم الجلوس

المادة : اللغة الإنجليزية

المصنف : الرابع الابتدائي

الرقم السري

مستطابق المصف الرابع الابتدائي

مديرية التربية والتعليم بالقاهرة

إدارة شرق منطقة التعليم

توجيه اللغة الإنجليزية

نصف الفصل الدراسي الأول : ١٤٣٠ - ١٤٣١ هـ

المادة : اللغة الإنجليزية - الزمن : ساعة ونصف

A. Listening (6 Marks)

1. Listen and circle the word with the short vowel : [6 Marks]

1	2	3	4
gum	fish	dog	july
blue	queen	door	cup

2. Listen and complete with one word : [6 Marks]

- What's?
- I'm
- She in the afternoon.
- It's on the

B. Reading (2 Marks)

3. Read and circle the suitable word : [4 Marks]

[1]	[2]	[3]	[4]
			
chips ketchup popcorn	family book boys	Tuesday Monday Friday	goat cat cow

4. Read and circle the odd one : [4 Marks]

- | | | | |
|-----------|---------|--------|------|
| 1. nurse | teacher | doctor | tall |
| 2. school | house | tie | zoo |
| 3. fat | dog | thin | big |
| 4. boy | kite | key | tape |

امتحان الفصل الدراسي الأول لعام ٢٠١٤ / ٢٠١٥

أولاً : القرآن الكريم

قال تعالى : ﴿عَمَّ يَتَسَاءَلُونَ﴾ (١) عَنِ النَّبِيِّ الْعَظِيمِ (٢) الَّذِي هُمْ فِيهِ مُخْتَلِفُونَ (٣)

أ- أكتب الآيات إلى قوله تعالى " ماء ثجاجا " .

ب- ما معنى النبا ثجاجا سباتا

ج- لسورة النبا اسم آخر أذكره

د- أذكر ثلاثة من نعم الله علينا .

ثانياً : الحديث الشريف

" من كان يؤمن بالله واليوم الآخر فليحسن إلى ومن كان واليوم الآخر

فليكرم ومن كان يؤمن بالله واليوم الآخر فليقل أو

أ- أكمل مكان النقط .

ب- ما المقصود باليوم الآخر ؟ ومضاد يصمت

ج- إلى أي شيء يدعونا رسولنا الكريم في الحديث السابق ؟

١- ٢- ٣-

ثالثاً : باقي الفروع

س ١ : ضع خطأ تحت التكملة الصحيحة مما بين القوسين :

١- نشأ سيدنا إبراهيم عليه السلام في قوم يعبدون (الله الواحد - الأصنام - الملائكة) .

٢- كانت الحرب بين المسلمين ويهود بني قينقاع في (أول شوال - منتصف شوال - آخر رمضان)

٣- صلاة الجمعة (فرض - سنة - سنة مؤكدة) .

٤- ترك الرسول ﷺ اليهود يخرجون من المدينة إلى (مكة - مصر - الشام) .

س ٢ : ضع علامة (✓) أمام العبارة الصحيحة وعلامة (x) أمام العبارة غير الصحيحة :

١- صاحب الرأي في موقعة بدر هو الحباب بن المنذر .

٢- صلاة العيد سنة مؤكدة .

٣- اتقان العمل يوفر الوقت والجهد ويؤدي إلى انهيار المجتمع وتأخره .

٤- استشار النبي ﷺ أصحابه في حرب المشركين .

س ٣ : أذكر اثنين من الأسباب التي أدت إلى انتصار المسلمين على الكفار في غزوة بدر .

ما أنسى وما أنسى
ريان الصفة والمظفر

والجانب الثاني من الأجزاء
والتي هي من الجانب الثاني

: خبأ ثم اقبل " الكون هو النيل " من يشهد " من

المحفوظات : ١٢٢٢

2. $\frac{1}{2} \times \frac{1}{2} = \frac{1}{4}$

() - تعتقد بأنها مؤتمرات عن السلام - مدينته آمنة (مدينته آمنة لأنها)
() - شبه جزيرة سيناء - العريش - مصر (مصر)
() - المقصود بأرض القنطرة - مصر (مصر)

الخبر (أ) اختار الإجابة المناسبة مما بين القوسين لما يلي :

في "السلام" وما قبله ، "مبتدأ" (أ) ما جمع

م. السلام. مدنية لقرى الوينسكو المنظمة عليها أطلقت الطبخ الشيم مدنية مشرم الانترنت ان مدنية مشرم الانترنت في صديقي يا صديقي

جاء : " اقبلوا السلام " الشيخ مدنيہ السلام " شرح " موضوع من موضوعات

تدريس اللغة العربية في المرحلة المتوسطة

مجلسه و محفل : در روز جمعه ، ماه رجب ، سنه الفی فی الفی الهی الحسب علی خانی و احدی بالقیل و الدلیل (خ)

"؟ " " الضوء " وما من ادق ، وما من " العلم " وما مضاد " عاقل " ما مفرد " عاقل " (أ)

.. "الصوت والصوت المشهور، وهذا هو الصوت"

هذا ومنكادورع وخفف خوفه أهرام عجائب الدنيا السبع: الهرم الذي في مصر الآن " نحن الآن في "

: "أقرا يا بني" فقالوا "هنا موضوع من موضوعاتنا"

١٥٠ : الف : ثانياً

٥- مراجعة على شيخنا في النجاة والنجاة

①- ॐ नमो भगवते वासुदेवाय ॥

(ج) - انظر سمير الطويل من الفرق

١ - في هذا الموضع

والله اعلم بالصواب

س : رتب الجمال الآتية لتكون قصة قصيرة :

168 : 171

اختيار الفصل الذي يسمى الأول للصف الرابع

القطاع الأول اختبار نصف العام للنصف الرابع للعام الدراسي ٢٠١٤/٢٠١٥

الورقة الأولى

أولا التحديد : اكتب احدى العبارات على بساط الريح وت شاهد أثر مصر
الكتب أربعة أسطر في ذلك

ثانيا القراءة : (هنا القاهرة) وهذه إحدى عجائب الدنيا السبع : أهرام خوفو و خفرع و منكاورخ ، وهذا مشروع الصوت

والضوء الذي يحيى تاريخ مصر بكل اللغات

(أ) اختر الإجابة الصحيحة مما بين القوسين

- ١ - معنى يبعث (يشاهد - يقص - ينمو)
- ٢ - مضاد الضوء (الهلال - الظلام - الخيط)
- ٣ - جمع تاريخ (ترخ - ترخ - تواريخ)

(ب) ما فائدة مشروع الصوت والضوء ؟

(ج) اذكر إحدى عجائب الدنيا السبع ؟

٢ - من موضوع فقرة ندى ورقة شجر

ورق الشجر فرحة بمولده يوم جديد

(أ) اختر الإجابة الصحيحة مما بين القوسين

- ١ - مرادف (رابع) (عاصف - جميل - حار)
- ٢ - مضاد (فرحة) (سعيدة - حزينة - قبيحة)
- ٣ - جمع (الدنيا) (الدنيا - الداني - الأتني)

(ب) أين سقطت فقرة ندى ؟

(ج) ضع كلمة الشجر في شبكة



ولقبي أنت بعد الدين دين

وستلما يا بلادي

ثالثا المخطوطات : ١ - (من نص اسلمي يا مصر) ومعنى قلبى وعزمى للجهد

لك يا مصر السلامة

(أ) اختر الإجابة الصحيحة مما بين القوسين ١ - معنى : (عزمى) (اصرارى - قلبى - تخضعى)

٢ - مضاد (سلاما) (جوعا - حربا - سالمين)

٣ - مفرد (بلدى) (بلدان - بلدى - بلدة)

(ب) علام يدل تكرار كلمة يا مصر في النشيد ؟

٢ - علام يدل تكرار كلمة يا مصر في النشيد ؟

[illegible]

- (١) ما مرادف " أبهى " ، وما مفرد " شواطئ " ، وما مضاد " أنضر " ؟
 (ب) بم وصف الشاعر النيل في البيتين السابقين ؟
 (ج) اذكر من النشيد ما يدل على المعنى التالي : " يبدو النيل جميلاً وهو ممتلئ بالماء " .

س ٢ من نشيد " اسلمي يا مصر " اقرأ ثم أجب :
 اسلمي يا مصر إنني الفدا
 ذي يدي إن مدت الدنيا يدا

- (أ) اختر الأجوبة الصحيحة مما بين القوسين :
 ١- معنى " عزمى " (ضعفي - إصراري - دفاعي)
 ٢- جمع " قلب " (قلوبات - أقلاب - قلوب)
 ٣- مضاد " تستكين " (تخضع - تنتفض - تبتعد)
 (ب) كيف يتحقق حبنا لمصر ؟

(ج) وضح الجمال في قول الشاعر " ذي يدي " ؟

(د) هات من النشيد ما يدل على المعنى التالي : " لن تخضعي ولن تذلّي يا مصر أبداً " .

رابعاً : القواعد النحوية

رسمت نور شمساً مشرقة وعصفوراً على غصن الشجرة، الأطفال يلعبون، الديك يجرى فوق السور والعنزة تجرى خلف صاحبته.

(أ) اعرب ما تحته خط .

(ب) استخرج من الفقرة السابقة : - اسم . - فعل . - حرف . - ظرف مكان .

(ج) حول الجملة الفعلية إلى اسمية : " تغرد العصافير بين الأغصان " .

(د) أكمل بما هو مطلوب بين القوسين :

- ١- سائحة تحب مصر . (ضع اسم إشارة مناسب)
 ٢- تحب السباحة . (ضع ضمير غائب مناسب)
 ٣- مرشدون في قناة السويس . (ضع ضمير متكلم مناسب)
 ٤- مصري مخلص . (ضع ضمير مخاطب مناسب)
 ٥- ذهبت إلى المدرسة . (ضع ظرف زمان مناسب)

خامساً : الخط

اكتب ما يلي مرة بخط النسخ ومرة بخط الرقعة :

العلم نور يهديك ، وبفع قد أي ... الناس

الورقة الثانية

(من نص التيل هو الكوثر)

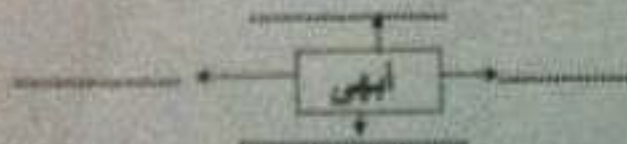
- ١- التيل العذب هو الكوثر
رويان الصلعة والمنظر
و الجنة شاعله الأخطسور
ما أبهى القلة و ما أنظر
(أ) اختر الإجابة الصحيحة مما بين القوسين

١- مضط (انظر) (أجمل - أحرى - ألحج)

٢- جمع (شاطر) (شط - شواطئ - شاسر)

(ب) بم وصف الشاعر نهر التيل ؟

(ج) ضع كلمة (أبهى) في خريطة المفردات



أربعاء التيل : " مصر وطن عظيم ، يحرص على أهلها ، فاصلوا من أجل رفعة وطنكم بين الأوطان "

(أ) استخرج من القطعة السابقة

جملة اسمية جملة فعلية حرفا حرفا

(ب) امل بما هو مطلوب بين القوسين

١- لفظة جديدة (اسم إشارة)

٢- تلاميذ مجتهدون (ضمير مخاطب)

٣- أذهب إلى المدرسة (ظرف زمان)

خامسا الخط : اكتب ما يأتي بخط النسخ

النظافة سبيل الصحة وعنوان الإيمان

سادسا الإملاء : اكتب ما يملأ عليك :

الرقم السري

اسم التلميذ :

رقم الجلوس

المادة : اللغة الإنجليزية

المدرسة :

الصف : الرابع الابتدائي

الرقم السري

امتحان الصف الرابع الابتدائي

مديرية التربية والتعليم بالقربية

نصف الفصل الدراسي الأول ١٤٢٥ - ١٤٢٦

إدارة شرق طنطا التعليمية

المادة : اللغة الإنجليزية - الزمن : ساعة ونصف

توجيه اللغة الإنجليزية

A) Listening (12 Marks)

1. Listen and circle the word with the short vowel :

[6 Marks]

1	2	3	4
gum blue	fish queen	dog door	July cup

2. Listen and complete with one word :

[6 Marks]

- What's
- I'm
- She in the afternoon.
- It's on the

B) Reading (12 Marks)

3. Read and circle the suitable word :

[4 Marks]

[1]	[2]	[3]	[4]
			
chips ketchup popcorn	family book boys	Tuesday Monday Friday	goat cat cow

4. Read and circle the odd one :

[4 Marks]

- | | | | |
|-----------|---------|--------|------|
| 1. nurse | teacher | doctor | tall |
| 2. school | house | tie | zoo |
| 3. fat | dog | thin | big |
| 4. boy | kite | key | tape |

5. Choose the correct answer from a, b or c :

[4 Marks]

[1] What's your telephone

a) number

b) name

c) address

[2] Iwalk. My leg hurts.

a) can

b) can't

c) Hasn't

[3] I go to schoolfoot.

a) at

b) in

c) on

[4] My birthday isSunday.

a) in

b) on

c) at

C - Writing (16 Marks)

6. Look and answer the questions :

[6 Marks]



1. Is he tall?



2. How many fingers can you see?



3. What's wrong?



4. How do you go to work?

7. Look and write THREE sentences :

[6 Marks]



8. Punctuate the following :

[4 Marks]

1. samy s birthday is on monday

المجموع	8	7	6	5	4	3	2	1	رقم السؤال
40	4	6	6	6	6	4	4	4	الدرجة

A) Listening (12 Marks)

1. Listen and circle the word with the short vowel :

[6 Marks]

1	2	3	4
luck flute	blue sit	can kite	tune up

2. Listen and complete with one word :





[6 Marks]

1. She is wearing a red
2. We a snack in the evening.
3. I don't Let's look.
4. What does he look

B) Reading (12 Marks)

3. Read and circle the suitable word :

[4 Marks]

[1]	[2]	[3]	[4]
			
vegetables cereal ketchup	duck gum cup	tie shirt skirt	turtle rabbit lizard

4. Read and circle the odd one :

[4 Marks]

- | | | | |
|----------|-------|----------|-------|
| 1. go | play | want | tall |
| 2. small | thin | jacket | short |
| 3. bed | three | tree | bee |
| 4. car | bus | exercise | bike |

5. Choose the correct answer from a, b or c :

[4 Marks]

[1] I don't a parrot.

a) wanted

b) want

c) wants

[2] The ball is to the chair.

a) in

b) under

c) next

[3] I do my homework the afternoon.

a) at

b) on

c) in

[4] He is the car.

a) washes

b) wash

c) washing

C - Writing (16 Marks)

6. Look and answer the questions :


[6 Marks]



1. What does she look like ?



2. What's this ?



3. Do you like pizza ?



4. What does he want ?


7. Look and write THREE sentences :

[6 Marks]

.....

.....

.....



8. Punctuate the following :

[4 Marks]

1. my name s ragab

Alexandria Governorate

2014/2015

Mid year exam

Junior four

time 1.30

A- Listening

[1] Listen and circle the word with the short vowel:

tune
up

box
coat

cat
cake

key
bed

[2] Listen and complete:

- (1) Excuse me, can you me?
(2) they to school by bus.
(3) I can't find my
(4) We don't pasta .

B- Reading

[3] choose the correct answer from a ,b or c :

1-you want the vegetables ?

a- What b- Do c- Does

2- He watches TV night .

a- at b- in c- on


3- How does he to work?

a- go b- goes c- going

4- glasses are theirs .

a- these b- that c- this

[4] Look and circle the suitable words:



train
ferry
taxi



puppy
lizard
duck



hand
foot
arm



fish
vegetables
meat

Name .
Seat No.

(5) Read and circle the odd one out :

- A - nurse - vet - teacher - farm
- B - meat - pasta - eggs - butter
- C - blue - green - orange - read
- D - Sunday - Summer - Saturday - Thursday

C - Writing

[6] Read and Write :



What is he doing ?

.....



Is this your jacket?

.....



What does she do ?

.....



How does she go to work ?

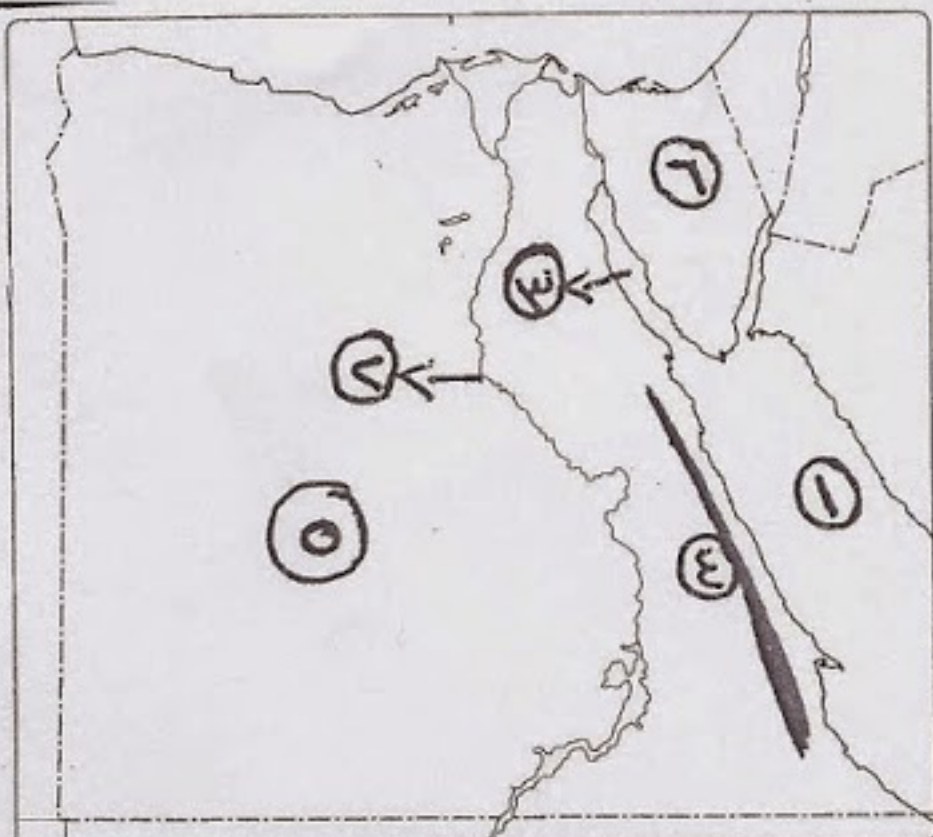
.....

[7] Read and Write three sentences:



[8] Punctuate the following:

lets go to the cinema on friday



السؤال الأول: أ) أمامك خريطة صماء لمصر .

اكتب مدلول الأرقام التي عليها :

- (١) البحر (٢) جبال
 (٣) نهر (٤) الصحراء
 (٥) خليج (٦) شبه جزيرة

ب) بم تفسر؟

(١) أهمية الدراسات الاجتماعية .

(٢) ارتفاع كثافة السكان في وادي النيل والدلتا .

السؤال الثاني :-

أ) اختر الإجابة الصحيحة مما بين الأقواس:

- (١) تقاس درجة الحرارة بجهاز (مقياس المطر - دواراة الرياح - الترمومتر)
 (٢) مساحة من الماء المالح أصفر من المحيط (البحر - النهر - الترعة)
 (٣) من محافظات مرتفعة الكثافة السكانية (شمال سيناء - جنوب سيناء - القاهرة)
 (٤) خرج الملك مينا من مدينة (بوتو - نخب - طيبة)
 (٥) صنع المصري القديم ملابسه (القطن - الكتان - الصوف)
 (٦) لون تاج مملكة الجنوب (أبيض - أحمر - أزرق)

ب) ما النتائج المترتبة علي.

(١) اعتقاد المصري القديم في البعث والخلود.

(٢) معرفة الإنسان ~~الكتابة~~ للزراعة .

اسم الطالب :

رقم الجلوس :

السؤال الثالث :-

(أ) ضع علامة (✓) أمام العبارة الصحيحة وعلامة (×) أمام العبارة الغير صحيحة.

- (١) تقع مصر في شمال شرق أفريقيا . ()
- (٢) الدراسات الاجتماعية فرع من فروع المعرفة . ()
- (٣) الجبل أرض مرتفعة تقل عن ١٠٠٠ متر . ()
- (٤) تميزت حياة المصري القديم بوادي النيل بالاستقرار . ()
- (٥) شعار مملكة الشمال زهرة اللوتس . ()
- (٦) يختلف توزيع السكان من محافظة إلي أخرى . ()

(ب) قارن بين :

(١) الهجرة الداخلية والخارجية .

(أ) الهجرة الداخلية :

(ب) الهجرة الخارجية :

(٢) الطقس والمناخ .

(أ) الطقس :

(ب) المناخ :

السؤال الرابع :-

(أ) اكتب المفهوم الذي تشير إليه العبارات الآتية:

- (١) النبات الذي ينمو دون تدخل الإنسان .
- (٢) فواصل طبيعية تفصل بين الدول مثل الجبال والبحار .
- (٣) النسبة بين المسافة علي الخريطة وما يقابلها علي الطبيعة .
- (٤) لون تاج مملكة الشمال .
- (٥) عملية حفظ الجسم سليماً بعد الموت .
- (٦) عصور تبدأ عندما توصل الإنسان للكتابة .

(ب) ماذا يحدث إذا ؟

(١) لم يكتشف الإنسان الكتابة .

(٢) لم يوجد سهم في الخريطة يشير إلي اتجاه الشمال .

الصف الرابع الابتدائي
المادة / اللغة العربية
الزمن ساعتان ونصف

محافظة الإسكندرية

امتحان نصف العام الدراسي ٢٠١٤/٢٠١٥

أولاً : التعبير

ذهبت إلى الريف فوجدت المناظر الطبيعية الجميلة صف ما شاهدت وما أعجبك

.....
.....
.....
.....
.....
.....
.....
.....

ثانياً القراءة : أجب عن الأسئلة الآتية

١- من موضوع " هنا القاهرة "

" بانوراما النصر بها نماذج من اسلحة قواتنا المسلحة التي شاركت في حرب أكتوبر "

(١) اختر الإجابة الصحيحة من بين الأقواس :

أ - مضاد (النصر) (الهزيمة - الفوز - السلام)

ب- جمع (حرب) (أحربه - حربات - حروب)

(٢) اكمل من الآثار الإسلامية و

(٣) ضع علامة (✓) امام الصحيح و (x) امام الخطأ

أ - من عجائب الدنيا السبع " أهرامات الجيزة . ()

ب - يقع المتحف المصري في ميدان التحرير . ()

ج - انتصار مصر في السادس من أكتوبر سنة ١٩٧٥ . ()

(٤) ماذا سمع بكار وهو علي بساط الريح ؟

.....

الاسم /

الصف /

رقم الجلوس /

رقم سرى /

٢- من موضوع القرية المنتجة

" إن العمل القائم علي التخطيط الجيد أساس النجاح في الحياه ، وواجب علي كل منكم أن يسعى في طلب العلم وأن يشتغل بالمشروعات الصغيرة التي تصبح بفضل الله كبيره يوماً ما "

(٤) اختر الصحيح مما بين القوسين :

- مرادف (يشتغل)
جمع (شاب)
(يعمل - يخطط - يبعد)
(شباب - شبوب - شبون)

٢- متى يكون العمل اساس النجاح في الحياة ؟

.....
.....

ثالثاً : المحفوظات أقرأ ثم أجب عن السؤالين الآتيين

(٥) من نص " النيل هو الكوثر "

النيل العذب هو الكوثر
ريان الصفحه والمنظر
والجنة شاطئه الأخضر
ما أبهى الخلد وما أنضر

أ - تخير الإجابة الصحيحة مما بين القوسين :

- ١- مضاد أبهى
٢- جمع المنظر
(أقبح - أكثر - أقوى)
(المناظرات - المنظور - المناظر)
ب- بم وصف الشاعر نهر النيل كما فهمت من الأبيات ؟

.....

٢- من نص (اسلمي يا مصر)

أبداً لن تستكيني أبداً
ومعى قلبي وعزمى للجهاد
إننى أرجو مع اليوم غداً
ولقلبي أنت بعد الدين دين
أ - هات معنى (لن تستكيني)
ب بماذا يدافع الشاعر كما يقول عن وطنه ؟

ج- دعا الشاعر لمصر بالسلامه - اذكر البيت الدال علي ذلك

د- ما الجمال في (ذي يدي) ؟

.....

رابعاً : القواعد النحوية

" رسمت نور الشمس المشرقة والأطفال يلعبون والديك يجري فوق السور والعصفور علي غصن الشجرة ، والعنزة تجري خلف صاحبته "

(٦) استخرج من القطعة السابقة

اسما - فعلا - حرف جر - ظرف مكان - جملة فعلية

.....

.....

٢- اكمل بما هو مطلوب

..... حيوانات ظريفة . ضع اسم إشارة مناسب

..... تلميذتان متفوقتان : ضع ضميراً مناسباً

(٧) اجعل الجملة الفعلية الآتية إلى جملة اسمية

تغرد العصافير بين الأغصان

.....
(٨) (أنت تلميذ ناجح) اجعل هذه الجملة للمثنى المذكر وجمع المذكر وغير ما يلزم
.....

خامساً : الخط العربي

اكتب بخط النسخ مرتين

" إن الله لا يضيع أجر من أحسن عملاً "

سادساً : الإملاء

اكتب ما يلي عليك

امتحان " دمج "

أولاً : القرآن الكريم من سورة " النبا "

قال تعالى " عم يتساءلون عن العظيم الذى هم فيه كلا سيعلمون ثم كلا ألم نجعل الأرض والجبال وخلقناكم "

أ - هات معنى " النبا "

ثانياً : الحديث الشريف

قال رسول الله صلى الله عليه وسلم " إن الله إذا عمل عملاً أن "

١ - اكتب الكلمات الفائتة من الحديث

٢ - يرشدنا الحديث الى (اتقان العمل - الاهمال - البحث عن العمل)

ثالثاً : بقية الفروع

اختر الصحيح مما بين الاقواس

- ١ - خطبة الجمعة (بعد الصلاة - قبل الصلاة)
- ٢ - صلاة العيد (قبل الشروق - بعد الشروق)
- ٣ - الأصنام التى عبدها قوم إبراهيم (النجوم - التماثيل - النار)
- ٤ - ولد سيدنا إبراهيم فى (بغداد - بابل - دمشق)
- ٥ - الأصنام لا تضر ولا ولا تسمع ولا
- ٦ - غزوة بدر كانت فى شهر (رمضان - شوال - شعبان)

الاسم /

الصف /

رقم الجلوس /

رقم سرى /

(١) اكمل ما يأتي

- (أ) قيمه الرقم ٨ في العدد ١٤٧٣٨٥ هي
- (ب) هو المضاعف المشترك لكل الاعداد
- (ج) العدد ٣ مليون ، ١٣٢ الف ، ٨١ بالارقام هو
- (د) ٥ ديسم = سم
- (هـ) اصغر عدد مكون من ٧ - ارقام هو

(٢) اوجد ناتج ما يأتي

$$(أ) = ٣٢٠٣٤٥٦ + ٥٠٣٤٥٦٧$$

$$(ب) = ٣٢١٦١ - ٩٣٦٤٢$$

$$(ج) = ١٥ \times ١٢٣$$

$$(د) = ٤٥ \div ٩١٨٠$$

(٣) اختر الاجابه الصحيحه

(أ) اصغر عدد اولي هو (١ ، ٠ ، ٢)

(ب) المثلث الذي اضلاعه ٣ سم ، ٧ سم ، ٥ سم يكون
(مختلف الاضلاع ، متساوي الاضلاع ، متساوي الساقين)

(ج) اكبر عدد مكون من الارقام ٤ ، ١ ، ٥ ، ٣ ، ٢ ، ٩ ، هو
(٤٥٣٢١ ، ١٢٣٥٤٩ ، ٩٥٤٣٢١)

(د) كل الاضلاع متساوية في الطول في
(المربع ، المستطيل ، متوازي الاضلاع)

(هـ) ٣٢٦٠٥١٠٨ ٢٣٥١١٩٩٨ (> ، < ، =)

(٤) أـ اوجد ع.م.أ للاعداد ٢٤ ، ٣٠

رقم الجلوس :

الاسم :

الرقم السري :

المدرسه :

بـ مستطيل بعداه ٩ سم ، ١٢ سم
أوجد : (١) مساحته
(٢) محيطه

(٥) أ - فندق يحتوى ١٩٢ غرفه موزعه بالتساوى على عدد من الطوابق ، كل طابق به ١٦
غرفه . كم عدد الطوابق ؟

بـ ارسم المثلث أب ج فيه أب = ٣ سم ، ب ج = ٤ سم ، ق (> ب) = ٩٠°
ثم أوجد (١) طول \overline{AP}
(٢) نوع المثلث بالنسبه لقياس زواياه

1) Complete each of the following

- a) the value of digit 8 in the number 147385 is
- b)..... is the common multiple for all numbers
- c) the number 3millions , 132 thousands , 18 in digits is
- d) 5 dm = cm
- e) the smallest 7-digit number is

2) Find the result

- a) $50\,345\,67 + 3\,203\,456 =$
- b) $9\,364\,2 - 3\,216\,1 =$
- c) $123 \times 15 =$
- d) $9180 \div 45 =$

3) Choose the correct answer

- a) The smallest prime number is (1 , 0 , 2)
- b) the triangle whose length of its sides are 3 cm , 7 cm and 5 cm is
(scalene triangle , equilateral triangle , isosceles triangle)
- c) the greatest number formed from digits 4 , 1 , 5 , 3 , 2 and 9 is
(45 321 , 123 459 , 954 321)
- d) all sides are equal in length in the
(square , rectangle , parallelogram)
- e) 32 605 108 23 511 998 (< , > , =)

Name

set number

School

secret number

4) A- Find H.C.F for 24, 30

B - Rectangle its dimension are 9 cm, 12 cm find

a) Its area

b) Its perimeter

5) A) A hotel contains 192 rooms divided equally by a number of floors, each floor contain 16 rooms, How many floors are there in this hotel?

.....

B) Draw triangle ABC in which $\overline{AB} = 3 \text{ cm}$, $\overline{BC} = 4 \text{ cm}$ and $m(\angle B) = 90^\circ$, then find

a) the length of \overline{AC} ?

b) the type of the triangle according to the measure of angle?

السؤال الاول : أ) اكمل

- 1- حالات المادة هي و و
- 2- عدد الكواكب
- 3- المد والجزر يستخدم في توليد
- 4- يعتبر انصهار الثلج تغير
- 5- اكبر الكواكب واصغرها

ب) علل لما يأتي

- 1- يعتبر الزجاج مادة
- 2- تتابع الليل والنهار

ج) اوجد حجم كتاب طوله 5 سم وعرضه 3 سم وارتفاعه 2 سم

السؤال الثاني : أ) ضع علامة (√) او (X)

- 1- نسبة الاكسجين في الهواء الجوي 0.03 % ()
- 2- يعتبر صدأ الحديد تغير كيميائي ()
- 3- المادة الصلبة لها حجم وشكل ثابت ()
- 4- يستخدم الشريط المدرج لقياس الحجم ()

ب) اذكر استخدام واحد لكل من

- 1- دوارة الرياح
- 2- الكربون
- 3- النيتروجين
- 4- الميزان المعتاد

الاسم :

الرقم الجلوس :

السؤال الثالث : أ) اكتب المصطلح العلمي

- 1- أبسط صورة من صور المادة ولا يمكن تحليلها الي ما هو أبسط منها ()
- 2- اجسام مضيئة في الفضاء تشع ضوء وحرارة ()
- 3- جهاز يستخدم لقياس درجة حرارة الجو ()
- 4- تحول المادة من الحالة الغازية الي الحالة السائلة بالتبريد ()

ب) قارن بين

وجه المقارنه	الطول	الحجم	الكتلة
ادوات القياس

وحدات القياس

السؤال الرابع : أ) اختر الاجابة الصحيحة مما بين الاقواس

- 1- تصنع اواني الطهي من
(أ) الكربون (ب) الالومنيوم (ج) الكبريت
- 2- الكوكب الاحمر هو
(أ) الارض (ب) المريخ (ج) الزهرة
- 3- يدور القمر حول الارض مرة كل
(أ) 24 ساعه (ب) 28 يوم (ج) 365.25 يوم
- 4- الحالة يمكن ضغطها
(أ) الصلبة (ب) الغازية (ج) السائلة

ب) ماذا يحدث في الحالات الاتيه

- 1- دوران الارض حول الشمس
.....
- 2- ترك ماء جير في الهواء لفترة
.....

~~XXXXXXXXXXXXXXXXXXXX~~
First term exam

Subject: science

junior four exam

1) A) Complete

- 1- The states of matter are,.....and
- 2- The number of planets is
- 3- Ebb & tide used in generating
- 4- Melting of ice is ... change
- 5- The biggest planet is While smallest planet is

B) Give reasons

- 1- Glass is matter

.....

- 2- Sequence of day and night

.....

- C) Find a volume of a book its length 5 cm, width 3 cm and height 2 cm

.....

2) A) put (✓) or(x)

- 1- Oxygen gas represents s 0.03 %
- 2- Iron rusting is chemical change
- 3- Solid matter has definite shape and volume
- 4- Graduated tap is used to measure the volume

B) Mention one use of

- 1- Wind vane.....
 - 2- Carbon.....
 - 3- Nitrogen.....
 - 4- Common balance.....
-

Seat number;

name;

3- A) write the suitable scientific term.

- 1- It is the simplest form of matter that can not be analyzed into two substances or more
- 2- Shinning object radiate heat and light
- 3- It is used to measure the temperature of atmosphere
- 4- The change of matter from gaseous state to liquid state

B) Compare

Point of comparison	length	Volume	Mass
units
tools

4- Choose the suitable word

- 1- Cooking pots are made up of
a- carbon b- aluminum c- sulphur
- 2- The red planet is
a- earth b- mars c- Venus
- 3- The moon revolve around the earth in
a- 24 hours b- 28 days c- 365.25days
- 4- state can be compressed
a- solid b- liquid c- gas

B) What happened when?

- 1- Earth revolve around the sun
.....
- 2- Lime water is exposed to air
.....

أولاً : القرآن الكريم :- (من سورة النبأ)

(أ) اكتب من قوله - تعالى - : (أَلَمْ نَجْعَلِ الْأَرْضَ مِهَادًا) إلى قوله - تعالى - :- (وَبَنَيْنَا فَوْقَكُمْ سَبْعًا شِدَادًا)

(ب) ما معنى : (سُبَاتًا) ، ما معنى : (ثَجَاجًا)

ثانياً : الحديث :-

(أ) دعا الرسول - صلى الله عليه وسلم - إلى إتقان العمل .

استشهد على ذلك بحديث شريف كما ورد بالموضوع .

(ب) لماذا يدعونا الإسلام إلى إتقان العمل ؟

ثالثاً : أكمل الفراغات الآتية بالكلمات المناسبة من عندك :-

(أ) عيد الفطر بعد شهر وعيد الأضحى في اليوم من شهر ذي

(ب) الكلمة الخبيثة تدعو إلى وتبعد عن الله

رابعاً :- ضع علامة (√) أمام العبارة الصحيحة وعلامة (×) أمام العبارة غير الصحيحة :-

(أ) خطبة العيد قبل الصلاة ()

(ب) وقت صلاة الجمعة هو وقت الظهر ()

(ج) استشار النبي - صلى الله عليه وسلم - أصحابه في غزوة بدر ()

(د) صاحب الرأي في غزوة بدر هو عمر بن الخطاب ()

c e /

A- Listening: (12M)

1- Listen and circle the word with the short vowel: (6M)

1-

nut
blue

2-

cat
cake

3-

bee
pet

4-

pin
night

2- listen and complete : (6M)

- 1- I can't my mum .
2- Excuse me you help me? .
3- Does she pasta?
4- What's ?

B- Reading : (12M)

3- choose the correct answer from a , b or c : (4M)

- 1- The rice is in two .
a) car b) bike c) aisle
2- He wants some food. He is
a) happy b) hungry c) thirsty
-

لا تكتب في هذا المكان

C- Writing : (16M)

6- look and answer the question: (6M)



1- What's this ?

.....

.....



2- what do you want ?

.....

.....



3- How do you go to school ?

.....



4-Where is the ball?

.....

7- Look and write three sentences :(6M)

.....

.....

.....

.....

.....



8- Punctuate the following : (4M)

did huda visit mona last week

.....

- 3- When do you ?
 a) exercises b) exercising c) exercise
- 4- How she go to work ?
 a) does b) do c) is

4- Read and circle the suitable word: (4M)



- | | | | |
|--------|--------------|-----------|----------|
| lizard | exercise | aeroplane | computer |
| fish | have a snack | ferry | bell |
| turtle | clean up | train | camera |

5- Read and circle the odd one: (4M)

- 1- blue – red – leg – green
- 2- ferry – camera – taxi – train
- 3- eye – ear – knee – pen
- 4- pasta – wash – cereal – eggs

السؤال الثاني: [1] ملأ لما يأتي:

١- يستخدم التحلل والأكسدة في صناعة البلاستيك القوي؟

٢- حدث طور القصر؟

٣- اكتب عن العمود (ب) ما يناسب كل رقم في العمود (أ):

العمود (ب)	العمود (أ)
(أ) أداة تستخدم في قياس الوزن الصغير	(١) المبرخ
(ب) يدخل في صناعة القبري	(٢) ميزان التحليل
(ج) الحالة الغازية	(٣) التبريد
(د) يسمى القوي الأخضر	(٤) التبريد
(هـ) يستخدم في صناعة التبريد	(٥) التبريد
(و) يستخدم لقياس الضغط الجوي	(٦) لها حجم وشكل غير ثابت

الاجابة

(١)

(٢)

(٣)

(٤)

(٥)

(٦)

اجب عن الأسئلة الآتية

السؤال الأول : إكمل مايلي :

- ١- يوجد حجم ثابت وشكل ثابت في المادة
- ٢- يعتبر انحراف الخشب تغير
- ٣- تكون جوامد وحدة قياس
- ٤- يتم تحديد اتجاه الرياح باستخدام
- ٥- اصغر الكواكب حجماً هو
- ٦- في فصل .. يكون النهار قصير من الليل .
- ٧- تتميز مجموعة بالبرق الممطرى
- ٨- في منتصف الشهر القمري يكون القمر على شكل

الاجابات

- ١- ٢- ٣- ٤-
- ٥- ٦- ٧- ٨-

(رتبة الأسئلة في الملحة المتبقية)

الكتب في هذا المكان

الصف : الرابع الابتدائي
المادة : قرآن كريم
الفترة الزمنية : ساعة ونصف

إدارة سوهاج التعليمية
مدارس الزهور الخاصة

امتحان نصف العام (٢٠١٤ / ٢٠١٥)

السؤال الأول : اكتب مكان النقاط من حفظك :

- ١- يا أيها المزمّل قم إلا قليلا .
- ٢- أو زد عليه ورتّل ترتيلا .
- ٣- إن ناشئة الليل هي وطنا و أقوم مثيلا .
- ٤- و اذكر اسم ربك و إلية تبتيلا .
- ٥- رب المشرق و لا إله إلا هو .
- ٦- يوم ترجف الأرض و و كانت الجبال كثيب مهيلا .
- ٧- فعصى الرسول .
- ٨- السماء منفطر به كان مفعولا .
- ٩- إن ربك يعلم أنك تقوم من ثلثي الليل .
- ١٠- و أقيموا الصلاة و آتوا الزكاة و الله فرض حسنا

السؤال الثاني : - اكتب مكان النقاط من حفظك :

- ١- قل أوحى إلى أنه استمع نفر من
- ٢- فقالوا إنا سمعنا عجبا .
- ٣- يهدى إلى فنامنا به .
- ٤- وأنه كان يقول على الله شططا .
- ٥- و أنا ظننا أن يقول و الجن على الله كذبا .
- ٦- و أنه كان رجال من الإنس برجال من الجن .
- ٧- و أنا لمسنا فوجدناها ملئت حرسا .
- ٨- و أنا كنا منها مقاعد للسمع .
- ٩- و أنا منا و من دون ذلك كنا طرائف قددا .
- ١٠- و أن لله فلا تدعوا مع الله أحدا .

الاسم :

الفصل :

التاريخ :

[٢٠] من نص : ما ألحق الجراء بقرية : اقرأ ثم أجب :

رسمت نور

نعمنا نضحك فوق النور

قللاً يهدى قللاً وردة

رسمت نور

(أ) اكمل ما يأتي :

جمع " وردة " مضارع " نضحك "

مفرد " النور "

(ب) بم وصفت مريم الطفل ؟

(ج) ما الجمال في قول الشاعر : نعمنا نضحك ؟

رابعا النحو : اقرأ ثم أجب :

يمسح يد الفجر والمضمار ، يأتي الصباح إلى مصر صيفاً رشاداً ، لمشاهدة
الآثار والتمتع بالبحر المعتدل ، والسباح تروية غالية ، يجب أن نحافظ عليهم ،
ونقدم لهم كل عون .

(أ) استخرج من القطعة السابقة :

١- اسماً .

٢- فعلاً .

٣- حرفاً .

٤ - حرفاً وبين نوعه . ٥ - جملة اسمية .

(ب) اكمل بما هو مطلوب بين القوسين :

١- ساجدان ماهران . (اكمل باسم إشارة مناسب)

٢- متفوق . (اكمل بضمير مناسب)

(ج) عين نوع الجملة فيما يأتي -

١ - نظم الشروطي المروور .

٢ - السماء صافية .

٣ - يأكل الفرد الموز .

خامساً الخط : اكتب الجملة الآتية بخط النسخ :

من جد وجد ، ومن زرع خضر .

سادساً الإملاء : اكتب ما يملأ عليك .

انتهت الإملاء مع تمنياتي لكم بالتوفيق

مدارس الظهور الخاصة المادة : لغة عربية

الصف : الرابع الزمن : ساعتان ونصف

استمعان الفصل الدراسي الأول لعام ٢٠١١ / ٢٠١٥ م

أولاً : التعبير : نهر النيل نهر عظيم ، وهو أساس الحياة وبدونه لا حياة ، وله التطور من الأضلال فلهذا لشرب وتلقي الحيوانات ،
اكتب في هذا الموضوع موضوعاً وابحث نهر النيل .

ثانياً : القراءة :

[١] من موضوع بساط الرياح ، اقرأ ثم أجب
مصر تجذب القوافل من السائحين من جميع دول العالم ، فهم
يأتون إلى مصر لأغراض متعددة .

(أ) افكر الإجابة الصحيحة مما بين الأقواس فيما يأتي :

١- مرادف "القوافل" : [نساء - جماعات - رجال]

٢- مفرد "أغراض" : [مقارن - غرض - غرض]

٣- مضاد "يأتون" : [يرحلون - يتجمعون - يحضرون]

(ب) ماذا أعجب بك؟ أن يكون؟

(ج) يأتي السائحون إلى مصر لأغراض متعددة افكر بعضاً من
هذه الأغراض .

[٢] من موضوع " قطرة ندى وورقة شجر " اقرأ ثم أجب :

استيقظت الدنيا مع نور الفجر الفضي ، وبدأ الجو تسيم زلج ،
وتمايلت أوراق الشجر ، فرحةً بمايك يوم جديد .

(أ) اكمل ما يأتي :

١- معنى "زلج" :

٢- مضاد "فرحة" :

٣- جمع "يوم" :

(ب) متى استيقظت الدنيا؟

(ج) لماذا تمايلت أوراق الشجر؟

ثالثاً : النصوص : [١] من نص "أسلمى يا مصر" : اقرأ ثم أجب :

أسلمى يا مصر إني القفا ذى يدى إن كنت الدنيا بنا

أبدأ أن استكفنى أبدأ إني أرى مع السوم لنا

(أ) اكمل ما يأتي

١ - معنى "القفا" : "جمع" : "يد" :

(ب) اشرح البيتين السابقين .

(ج) افكر بيتين بديلاً .

(د) ماذا يتبنى الشاعر مصر في الحاضر والمستقبل؟

A) Listening (12 Marks)

1. Listen and circle the word with the short vowel : [6 Marks]





1	2	3	4
luck flute	blue sit	can kite	tune up

2. Listen and complete with one word : [6 Marks]

1. She is wearing a red
2. We a snack in the evening.
3. I don't Let's look.
4. What does he look?

B) Reading (12 Marks)

3. Read and circle the suitable word : [4 Marks]

[1]	[2]	[3]	[4]
			
vegetables cereal ketchup	duck gum cup	tie shirt skirt	turtle rabbit lizard

4. Read and circle the odd one : [4 Marks]

- | | | | |
|----------|-------|----------|-------|
| 1. go | play | want | tall |
| 2. small | thin | jacket | short |
| 3. bed | three | tree | bee |
| 4. car | bus | exercise | bike |

منتديات المعلم القادرة التعليمية

