

المراجعة رقم 1

بنك أسئلة التميز علي الفصل الدراسي الأول

اختر الاجابة الصحيحة

السؤال الأول

١. يحد قارة افريقيا من جهة البحر الاحمر و المحيط الهندي .
 أ. الشمال ب. الجنوب ج. الشرق د. الغرب
٢. تأتي قارة افريقيا في ترتيب المساحة بعد قارة :.....
 أ. أوروبا ب. أستراليا ج. أمريكا الجنوبية د. اسيا
٣. في عهد محمد علي تم رسم خريطة للنيل حتي جنوب
 أ. السودان ب. الصومال ج. النيجر د. إثيوبيا
٤. دخلت الحضارة الاسلامية الي قارة افريقيا عبر
 أ. مضيق جبل طارق ب. خليج غينيا ج. شبه جزيرة سيناء د. مضيق موزمبيق
٥. قامت حضارة في تونس .
 أ. كوش ب. بلاد الرافدين ج. أكسوم د. قرطاج
٦. من الدول العربية دولة
 أ. جيبوتي ب. نيجيريا ج. موزمبيق د. تشاد
٧. يصل مضيق جبل طارق بين البحر المتوسط و
 أ. المحيط الاطلنطي ب. خليج عدن ج. المحيط الهادي د. البحر الاحمر
٨. يمر في قارة افريقيا دوائر عرض رئيسية .
 أ. اربع ب. خمس ج. ثلاث د. سبع
٩. يمتد الأخدود الإفريقي العظيم في إفريقيا .
 أ. شمال ب. غرب ج. جنوب د. شرق
١٠. من الجبال التي نشأت نتيجة الثورات البركانية
 أ. جبل كلمنجارو ب. جبل شايب البنات ج. جبل توبقال د. جبل الكاب
١١. تنحصر هضبة سلاسل جبال أطلس .
 أ. نجد ب. الحبشة ج. الشطوط د. جنوب إفريقيا
١٢. أكبر صحاري العالم توجد علي هضبة :.....
 أ. الحبشة ب. شمال إفريقيا ج. البحيرات الاستوائية د. جنوب إفريقيا
١٣. ترجع خصوبة سهول نهر النيل الي الطمي الذي نقلته مياه نهر النيل من
 أ. هضبة الحبشة ب. هضبة شمال افريقيا ج. الهضبة الجنوبية د. هضبة الشطوط



- ١٤ تمتد جبال شمال غرب قارة افريقيا .
 أطلس (ج) البحر الأحمر (ب) دراكنزبرج (أ) الكاب (د)
- ١٥ أي من الظواهر التضاريسية التالية تمتد في ثلاث دول عربية ؟
 هضبة البحيرات (ج) جبال البحر الاحمر (ب) جبل العوينات (أ) سهول وادي النيل (د)
- ١٦ أعلى قمة جبلية في جبال البحر الاحمر هو جبل :
 شايب البنات (ب) كينيا (ج) توبقال (أ) كلمنجارو (د)
- ١٧ شكلت دول حوض النيل عام 1983م تجمعا عرف باسم :
 الأنودجو (ج) الكوميسا (أ) التحالف الصحراء (د) الناتو (ب)
- ١٨ يعتبر نهر منبعاً موسمياً لنهر النيل .
 الزمبيزي (ج) كاجيرا (أ) عطبرة (ب) النيجر (د)
- ١٩ تسهم إثيوبيا في مياه النيل من خلال
 نهر النيل (ج) نهر الكونغو (ب) نهر الزمبيزي (أ) نهر النيجر (د)
- ٢٠ تتميز حضارة قرطاج عن الحضارة المصرية القديمة بـ
 تركيزها علي (ب) ارتباطها بنهر النيل (أ) نشأتها كمدينة تجارية (ج) تفوقها الثقافي (د)
- ٢١ تم انشاء سد أوين بدولة
 جمهورية الكونغو (ب) السودان (أ) تنزانيا (ج) أوغندا (د)
- ٢٢ من الجهود التي قامت بها مصر بدول حوض النيل حفر عشرات الابار في
 إريتريا (ب) رواندا (أ) بروندي (ج) كينيا (د)
- ٢٣ أقام الكوشيون علاقات تجارية من جهة الشرق مع
 قرطاج (ب) مصر (أ) أكسوم (ج) اليونان (د)
- ٢٤ العامل الذي يؤثر علي استدامة مياه نهر النيل بالنظر الي الاعتماد علي المنابع الاستوائية ...
 التغير المناخي وزيادة (ب) النشاط البشري (ج) التغير المناخي وانخفاض الأمطار (أ) العلاقات السياسية بين الدول (د)
- ٢٥ أقام الملك زوسر هرمه المدرج في
 منف (أ) بوتو (ب) نخب (ج) سقارة (د)
- ٢٦ اعتمد الملك سنفرو علي جلب خشب الارز من
 النوبة (أ) سيناء (ب) بون (ج) فينيقيا (د)
- ٢٧ أحد ملوك عصر الدولة القديمة وهو اول من كتب نصوص الاهرام
 خوفو (أ) خفرع (ب) سنفرو (ج) أوناس (د)
- ٢٨ انتهى عصر الاضمحلال الأول وتوحدت البلاد مرة اخري علي يد ملوك الاسرة
 السادسة (أ) السابعة (ب) العاشرة (ج) الحادية عشرة (د)



- ٣٩ أسس الملك مدينة منف (من-نفر) لتكون عاصمة مصر .
 ١ رمسيس الثاني (ب) زوسر (ج) نعرمر (مينا) (د) سنفرو
 قام الوزير بتشديد هرم للملك زوسر .
 ٣٠ ١ خفرع (ب) رع (ج) إيموحتب (د) أوسركاف
 من أشهر الرحلات التي أرسلتها الدولة القديمة لإفريقيا رحلات الرحالة :.....
 ٣١ ١ ابن بطوطة (ب) (حر-خوف) (ج) المسعودي (د) إيموحتب
 كانت مقبرة الملك نعرمر عبارة عن
 ٣٢ ١ هرم مدرج (ب) ست مصاطب (ج) هرم كامل (د) مصطبة واحدة
 يستدل من المسمي الذي أطلق علي عصر الدولة القديمة أن هذا العصر تميز ب.....
 ٣٣ ١ الازدهار المعماري (ب) النشاط العسكري (ج) التطور الديني (د) الازدهار التجاري
 سقطت مصر في يد الهكسوس نتيجة
 ٣٤ ١ الأزمة الاقتصادية (ب) الصراعات السياسية (ج) الثورة الدينية (د) الثورة الاجتماعية
 بعد وفاة أمنمحات الرابع ظهر تقدير المصري القديم لدور المرأة من خلال
 ٣٥ ١ توليها الحكم (ب) قيادتها للجيش (ج) فرضها للضرائب (د) حكمها للأقاليم
 أي من ملوك الدولة القديمة أطلق عليه لقب (المحسن المحبوب) ؟.....
 ٣٦ ١ زوسر (ب) سنفرو (ج) خوفو (د) خفرع
 الشعوب التي مثلت خطرا علي الحدود الغربية لمصر في عصر الأسرة الثانية عشرة هم
 ٣٧ ١ الليبيين (ب) الاسيويين (ج) النوبيين (د) الفينيقيين
 أكثر الاماكن المصرية الحالية مساهمة في تحقيق الأمن الغذائي لمصر أيام الملك أمنمحات الثالث
 ٣٨ ١ الفيوم (ب) الصحراء الشرقية (ج) الصحراء الغربية (د) شبه جزيرة سيناء
 أي من ملوك الدولة الوسطي ساهمت احدي أعماله في زيادة حركة التجارة بين مصر وجيرانها ؟.....
 ٣٩ ١ منتوحتب الثاني (ب) سنوسرت الثالث (ج) أمنمحات الثالث (د) أمنمحات الأول
 استكملت الملكة سبك نفرو بناء هرم والداها في منطقة
 ٤٠ ١ هواره (ب) دهشور (ج) سقارة (د) أبي صير
 أي من ملوك الدولة الوسطي يتشابه مع الملك مينا في اعادة توحيد البلاد ؟.....
 ٤١ ١ الملك منتوحتب الثاني (ب) الملكة سبك سنفرو (ج) الملك سنوسرت الثالث (د) الملك امنمحات الثالث
 اتخذ الهكسوس من مدينة عاصمة لهم .
 ٤٢ ١ (من -نفر) (ب) إثيت تاوي (ج) أواريس (د) طيبة
 العلاقات التجارية بين مصر في عهد الملكة حتشبسوت وبلاد بونت تم تخليدها علي جدران معبد
 ٤٣ ١ الكرنك (ب) أبو سمبل (ج) الدير البحري (د) أبيدوس
 اختار المهندس إنيني وادي الملوك ليدفن فيه الملك
 ٤٤ ١ تحتمس الاول (ب) توت عنخ امون (ج) رمسيس الثاني (د) رمسيس الثالث



- ٤٥ (أ) توت عنخ امون (ب) تحتمس الأول (ج) رمسيس الثالث (د) سيتي الأول
الملك الذي وضع حجر الأساس لمعبد أبيدوس
- ٤٦ (أ) تحقيق الانتصارات (ب) حماية حدود البلاد (ج) إرسال قواعد الحرب والسلام (د) الاهتمام ببناء المعابد
اختلف رمسيس الثاني عن سابقيه من ملوك الدولة الحديثة في
- ٤٧ (أ) العراق (ب) فينيقيا (ج) بونت (د) الشام
أرسلت الملكة حتشبسوت بعثة تجارية الي بلاد
- ٤٨ (أ) الكرنك (ب) الدير البحري (ج) فيلة (د) أبيدوس
بدأ الملك ستي الاول بناء معبد واكمله ابنه رمسيس الثاني .
- ٤٩ (أ) أحمس (ب) توت عنخ امون (ج) اخناتون (د) تحتمس الثالث
حدثت الثورة الدينية بمصر القديمة في عهد الملك :
- ٥٠ (أ) ازاله الغابات (ب) الرعي الجائر (ج) الاعاصير (د) الحروب الحديثة
من أسباب اختلال النظام البيئي الطبيعية :
- ٥١ (أ) النمر (ب) التماسيح (ج) الثعالب (د) القردة
من الحيوانات التي تعيش في غابات البحر المتوسط :
- ٥٢ (أ) المياه (ب) المعادن (ج) التربة (د) النباتات
يتكون النظام البيئي من مكونات حيه مثل
- ٥٣ (أ) الأبنوس (ب) الصنوبر (ج) الماهوجني (د) المطاط
تنمو العديد من الاشجار في نظام غابات البحر المتوسط مثل
- ٥٤ (أ) موريتانيا (ب) الكونغو الديمقراطية (ج) الجابون (د) نيجيريا
الدولة التي تخلو من وجود أشجار الغابات المدارية المطيرة بها
- ٥٥ (أ) أحمر (ب) أخضر (ج) أصفر (د) أبيض
التربة في الغابات المدارية المطيرة معظمها ذات لون:
- ٥٦ (أ) أكسيد الحديد (ب) المواد الجيرية (ج) المواد المتحللة (د) المواد العضوية
التربة البيضاء هي التي ترتفع بها نسبة
- ٥٧ (أ) نظام حشائش السافانا (ب) نظام حشائش الإستبس (ج) الغابات المدارية المطيرة (د) النظم البيئية للمياه العذبة
أي من النظم التالية ينتمي الي النظم البيئية المائية ؟
- ٥٨ (أ) المواد الكيميائية (ب) المواد العضوية (ج) التكوينات الصخرية (د) التكوينات البركانية
تتسم تربة كل من الاستبس والسافانا بغناها بـ
- ٥٩ (أ) الشمالية (ب) الجنوبية (ج) الشرقية (د) الغربية
يقع اقليم الفلد بقارة افريقيا بالجهة
- ٦٠ (أ) الصيد الجائر (ب) النشاط التعديني (ج) زيادة الأملاح في التربة (د) الرعي الجائر
من المخاطر الطبيعية التي يتعرض لها نظام الحشائش الحارة



٦١. تقل الحيوانات بوضوح في نظام.....
 أ. الحشائش البستانية ب. الحشائش الحارة ج. الصحاري الحارة د. الحشائش المعتدلة
٦٢. تنمو حشائش السافانا الغنية بالقرب من.....
 أ. غابات البحر المتوسط ب. الغابات النفضية ج. الغابات المدارية المطيرة د. الغابات الصنوبرية
٦٣. تشغل حشائش الإستبس مساحة صغيرة في اقليم الفلد بدولتي جنوب افريقيا و.....
 أ. ليسوتو ب. تنزانيا ج. أنجولا د. النيجر
٦٤. تتعرض الكثير من الحيوانات لخطر الانقراض في نظام الصحاري الحارة نتيجة.....
 أ. حدوث الجفاف ب. الصيد الجائر ج. ندرة النبات الطبيعي د. ندرة النبات الطبيعي والفيضان
٦٥. من النباتات التي تنمو في اقليم الصحاري الحارة :
 أ. القطن ب. نبات السيل ج. أشجار السنط د. الذرة
٦٦. يعيش في الصحراء الكبرى وهو معرض للانقراض .
 أ. صقر الجديان الافريقي ب. الفيل الافريقي ج. القردة د. طائر الحباري
٦٧. يعد من العادات التي حث عليها الاسلام في افريقيا .
 أ. لعب الميسر ب. التعصب الديني ج. الأخذ بالنأر د. التضامن الاجتماعي
٦٨. تقع واحة سيوة بمصر ضمن نظام :.....
 أ. الاستبس ب. الصحاري الحارة ج. السافانا د. الغابات المعتدلة
٦٩. من أمثلة المستنقعات المغطاة بالنباتات مستنقعات في شرق ووسط وجنوب افريقيا.
 أ. السد ب. نبات البردي ج. نبات الصبار د. المانجروف
٧٠. حرص حكام الحبشة علي الاستفادة من الخبرات الحربية المصرية بشكل واضح خلال
 أ. عهد النبي (ص) ب. عصر الخلفاء الراشدين ج. عصر الدولة الاموية د. عصر دولة المماليك
٧١. تم اعلان عدد من المدن الصديقة للبيئة مثل مدينة :
 أ. القاهرة ب. العلمين الجديدة ج. الاسكندرية د. الجيزة
٧٢. من نظم الاراضي الرطبة المالحة في وسط ساحل شمال سيناء بحيرة :.....
 أ. المنزلة ب. البردويل ج. البرلس د. إدكو
٧٣. من العوامل الطبيعية التي تؤثر بالسلب علي اشجار المانجروف
 أ. التغيرات المناخية ب. الرعي الجائر ج. التوسع العمراني د. التنمية السياحية
٧٤. وقعت بعض الدول الافريقية مبادرة لتوسيع الحصول علي الطاقة الخضراء مستغلة
 أ. الرياح ب. الشمس ج. الأنهار د. البحار
٧٥. تنمو السافانا البستانية في مناطق أقرب الي
 أ. دائرة الاستواء ب. مدار الجدي ج. مدار السرطان د. الدائرة القطبية



- ٧٦ أحد نظم المياه المالحة في افريقيا
 أ. نهر النيجر ب. الشعاب المرجانية ج. بحيرة تشاد د. المستنقعات المغطاة
- ٧٧ احدي النظم النهرية في قارة امريكا الجنوبية
 أ. نهر النيل ب. نهر النيجر ج. نهر الامازون د. نهر الدنوب
- ٧٨ محمية طبيعية في مصر تنتشر بها شجيرات المانجروف
 أ. البردويل ب. علبة ج. المنزلة د. العلمين
- ٧٩ عرفت افريقيا قديما الاسلام لأول مرة عن طريق بلاد
 أ. النوبة ب. الحبشة ج. بونت د. مصر
- ٨٠ بدأ الفتح الاسلامي لمصر في عهد
 أ. الدولة الأموية ب. الدولة العباسية ج. الخلفاء الراشدين د. الدولة الفاطمية
- ٨١ أول جيش اسلامي وصل الي مدينة برقة كان بقيادة
 أ. عمرو بن العاص ب. عبد الله بن أبي السرح ج. خالد بن الوليد د. عبد الملك بن مروان
- ٨٢ تم فتح مصر في عهد الخليفة :
 أ. عمر بن الخطاب ب. عثمان بن عفان ج. علي بن ابي طالب د. عمر بن عبد العزيز
- ٨٣ اصبحت اللغة العربية لغة رئيسية بجانب اللغة الاصلية لسكان بعض الدول الإفريقية مثل
 أ. تنزانيا ب. مالي ج. الصومال د. اليمن
- ٨٤ اصبحت اللغة العربية هي اللغة الرسمية في بعض الدول الافريقية مثل :
 أ. موريتانيا ب. اليمن ج. نيجيريا د. موزمبيق
- ٨٥ مهد فتح الطريق امام المسلمين لفتح بلاد المغرب علي يد قادة مسلمين مثل: عقبة بن نافع وموسي بن نصير.
 أ. مالي ب. نيجيريا ج. سببيلة د. الرباط
- ٨٦ كان افريقيا أولي المناطق التي مهدت الطريق لانتشار الاسلام في افريقيا بحكم الموقع الجغرافي القريب من شبه الجزيرة العربية
 أ. وسط ب. جنوب ج. غرب د. شرق
- ٨٧ استوردت مصر من افريقيا :
 أ. أدوات الزينة ب. مصنوعات الزجاج ج. المصنوعات الذهبية د. ريش النعام
- ٨٨ يعد الواردات المصرية من الدول الافريقية
 أ. الأواني النحاسية ب. المصنوعات الحديدية ج. الزجاج د. الصمغ
- ٨٩ ساهم في تطوير الجوانب الإدارية بالحبشة .
 أ. الأيوبيون ب. العباسيون ج. المماليك د. الفاطميون
- ٩٠ فضل ملوك وحكام الدول الافريقية المنتجات المصرية بسبب
 أ. رخصها ب. سهولة نقلها ج. جودتها د. ندرتها



- ٩١ أصبحت مدينة عاصمة الخلافة العباسية بعد سقوط الخلافة في بغداد .
 (أ) الاسكندرية (ب) القاهرة (ج) القدس (د) دمشق
- ٩٢ خصص رواق الجبرية للطلاب الوافدين من بلاد وسواحل البحر الاحمر .
 (أ) غانا (ب) تنزانيا (ج) الحبشة (د) السنغال

ضع علامة صح أو خطأ أمام العبارات التالية

السؤال الثاني

- () ١ تعد قارة افريقيا ثاني قارات العالم من حيث المساحة
- () ٢ تم انتخاب مصر لرئاسة الاتحاد الافريقي عام 2019
- () ٣ يعد الحفاظ علي أمن سيناء ضرورة للحفاظ علي الامن القومي المصري
- () ٤ يفصل المحيط الهادي قارة افريقيا عن الامريكيتين
- () ٥ جميع الدول التي تمر بها مدار السرطان بقارة افريقيا دول بحرية
- () ٦ وصل المصريون القدماء الي منطقة السودان والقرن الافريقي
- () ٧ يمر خط جرينتش غرب قارة افريقيا
- () ٨ تعمل مصر علي تدعيم علاقتها مع دول وشعوب القارة الافريقية
- () ٩ ارتفاع جبل كلمنجارو هو السبب الرئيسي في جعل قمته منخفضة الحرارة
- () ١٠ يقع جبل شايب البنات في قارة افريقيا ناحية الغرب
- () ١١ اتجاه حركة مياه النيل من الجنوب الي الشمال جعل سهول وادي النيل بمصر أرضا صالحة للزراعة .
- () ١٢ وصلت القوافل العربية في العصور الوسطي الي السودان وبلاد الحبشة وجزر القمر
- () ١٣ اصبحت هضبة الحبشة الاثيوبية صالحة للزراعة بسبب الطفوح البركانية
- () ١٤ تعد جبال اطلس السبب الرئيسي في سهول البحر المتوسط في بلاد المغرب العربي
- () ١٥ يعتبر الاقتصاد الازرق الداعم الرئيسي لتحقيق الاكتفاء الذاتي من الغذاء بإفريقيا
- () ١٦ تعد جبل الكاب أعلى قمة جبلية في سلسلة جبال أطلس .
- () ١٧ أقامت مصر سد أوين لصالح دولة اوغندا .
- () ١٨ يعد نهر السوبات من المنابع الدائمة لنهر النيل .
- () ١٩ تختلف سهول المحيط الهندي من مكان لآخر من حيث الاتساع .
- () ٢٠ تعتمد الزراعة في السهول الساحلية شمال افريقيا علي الامطار الصيفية
- () ٢١ أخذ الكوشيون من الحضارة المصرية القديمة بعض المعبودات مثل رع وامون رع.
- () ٢٢ قامت مصر بإنشاء مركز للبحوث المائية في تنزانيا تحقيقا لمفهوم الاقتصاد الاخضر.
- () ٢٣ هناك علاقة بين استقرار حياة المصري القديم ونهر النيل .



- () ٢٤ سيطرت حضارة اكسوم بحكم موقعها الجغرافي علي منابع النيل الموسمي.
- () ٢٥ ظهرت متون الاهرام للمرة الاولى في بداية الاسرة الرابعة.
- () ٢٦ برع المصري القديم في نحت الصخور الصلبة مثل صخور الديوريت .
- () ٢٧ ازدهرت التجارة الخارجية لمصر في عهد الملك خوفو .
- () ٢٨ استخدم الفنان المصري القديم الألوان لتصميم صور جدارية علي جدران المعابد .
- () ٢٩ كان الصقر شعارا لملوك مصر وكذلك ملوك أوغندا.
- () ٣٠ انتشرت الآلات موسيقية مصرية في غرب افريقيا.
- () ٣١ سادت الصداقة والتعاون والتبادل الثقافي بين مصر وإفريقيا في عصر الدولة القديمة .
- () ٣٢ ازدهرت مصر في عهد الملك سنفر و اجتماعيا وتجاريا وفنيا و عمرانيا
- () ٣٣ اتسعت رقعة الاراضي لمصر خلال عصر الملك أمنمحات الثالث شرق وادي النيل
- () ٣٤ عمل ملوك الاسرة السابعة عشرة علي تشجيع الشعور الوطني لمواجهة الهكسوس
- () ٣٥ أقام ملوك الدولة الوسطي الحصون من الجندل الاول حتي الجندل الثالث
- () ٣٦ عمل كامس علي تأمين الحدود الجنوبية لمصر
- () ٣٧ استكملت الملكة سبك نفرو هرم اخيها في منطقة هواره
- () ٣٨ يسمى عصر الاسرة الـ 17 الفرعونية بعصر الشهداء
- () ٣٩ كانت بلاد بونت ترسل الامدادات للهكسوس في مصر
- () ٤٠ للمرأة المصرية قديما دور عسكري مشرف مثل اياح حتب
- () ٤١ سمي عصر الدولة الحديثة بعصر الرخاء الاقتصادي
- () ٤٢ أقام الملك تحتمس الأول أول معاهدة سلام دولية مسجلة في التاريخ
- () ٤٣ أطلق علي فترة حكم الملك رمسيس الثاني عصر الامبراطورية الثانية
- () ٤٤ قام الملك إخناتون بالدعوة الي عبادة إله واحد هو أتون
- () ٤٥ سبب شهرة الملك توت عنخ امون هو اكتشاف مقبرته بالكامل عام 1922م
- () ٤٦ نجح ملوك الاسرة السادسة والعشرين في استعادة نفوذ مصر بإفريقيا
- () ٤٧ دعا الملك أمنحتب الرابع الي عبادة الاله امون
- () ٤٨ يعد الملك زوسر أول من استطاع تغيير الشكل الهندسي للمقابر الملكية.
- () ٤٩ يتفاوت حجم النظم البيئية في العالم .
- () ٥٠ تنتشر غابات البحر المتوسط في جزيرة مدغشقر .
- () ٥١ تنتج غابات حوض نهر الكونغو كميات قليلة من الأكسجين .
- () ٥٢ من النظم البيئية الأرضية الصحاري
- () ٥٣ قد تحدث حرائق الغابات بسبب التغير المناخي
- () ٥٤ يعد الغطاء النباتي أحد أمثلة النظم البيئية الارضية
- () ٥٥ القاء مخلفات المصانع في البحار أحد الاسباب الطبيعية لاختلال التوازن البيئي



- ٥٦ تتعرض أنواع كثيرة من حيوانات افريقيا لخطر الانقراض بسبب التوسع العمراني ()
- ٥٧ تعد حرفتي الزراعة والرعي حرف رئيسية لسكان بيئية حشائش الإستبس ()
- ٥٨ تقع الصحاري الكبرى جنوب قارة افريقيا ()
- ٥٩ تعتبر الابل من الحيوانات التي تتكيف مع الظروف المناخية القاسية في نظام الصحاري الحارة ()
- ٦٠ الصبار والتين الشوكي من النباتات التي توجد بالنظام الصحراوي الحار ()
- ٦١ اصبحت هضبة الحبشة الاثيوبية صالحة للزراعة بسبب الطفوح البركانية ()
- ٦٢ تتسم النظم الصحراوية في العالم بالجفاف وقلة الأمطار ()
- ٦٣ يتباين النبات الطبيعي الذي ينمو في نظام الحشائش المعتدلة باختلاف نسبة الأمطار ()
- ٦٤ ينذر المطر في نظام الصحاري الحارة وقد يسقط علي هيئة سيول تضر بالأنشطة البشرية ()
- ٦٥ تحتوي النظم البيئية المائية علي العديد من الأملاح والمعادن ()
- ٦٦ تم اعلان جميع مناطق المانجروف في مصر محميات طبيعية ()
- ٦٧ تمثل الاراضي الرطبة العذبة نحو 1% من مساحة القارة ()
- ٦٨ تعمل اشجار المانجروف علي حماية الشواطئ من التآكل والتعرية ()
- ٦٩ تتمتع محمية رأس محمد بتنوع بيئي متميز من شعاب مرجانية والمانجروف ()
- ٧٠ حدث انقراض جماعي للفقاريات في بحيرة فيكتوريا ()
- ٧١ صنفت منظمة الفاو منطقة حوض اركين كأحد مناطق التراث العالمي ()
- ٧٢ تقع مستنقعات نبات البردي في شرق ووسط وشمال قارة افريقيا ()
- ٧٣ اختلطت عرب شبه جزيرة سيناء العربية بإفريقيا قديما وتزوجوا منها ()
- ٧٤ كان الدعاة يحظون بنوع من التقدير والاحترام بين القبائل الاسلامية في افريقيا ()
- ٧٥ كان التجار المسلمون يرسلون السكان الأصليين في افريقيا لمصر لتلقي العلم ()
- ٧٦ رحب أهل برقة بالفتح الاسلامي كما رحب أهل مصر ()
- ٧٧ منح الاسلام في افريقيا للمرأة الحرية في اختيار الزوج وحدد عدد الزوجات ()
- ٧٨ وصي النبي (ص) اصحابه بالهجرة الاولى الي بلاد الحبشة ()
- ٧٩ قام الخليفة عبد الملك بن مروان بإرسال البنائين الي الساحل الغربي الافريقي ليساهموا في بناء المدن هناك . ()
- ٨٠ تم فتح مصر في عهد الخليفة عثمان بن عفان ()
- ٨١ خصص رواق الجبرية للطلاب الوافدين من الحبشة وسواحل البحر المتوسط ()
- ٨٢ اكتسب معظم المطارنة المصريين مكانة رفيعة تلي مكانة الوزير بالحبشة خلال العصور الوسطي . ()
- ٨٣ وجدت عملات تاريخية مصرية في مناطق من الساحل الغربي الافريقي تعود للعصور الوسطي ()



- ٨٤ () أثر الأزهر الشريف علي اساليب التدريس وتلقي العلم في المدارس والمساجد الافريقية
- ٨٥ () اتخذ سلاطين المماليك في مصر مدينة الاسكندرية مقرا لحكمهم
- ٨٦ () لم يحدث اتصال بين الكنيسة المصرية والكنيسة الحبشية
- ٨٧ () أصبحت دمشق عاصمة الخلافة العباسية بعد سقوط الخلافة في بغداد
- ٨٨ () تعد ادوات الزينة من السلع التي حملها التجار المصريون للدول الافريقية

اكمل العبارات التالية بالاجابة المناسبة مما بين القوسين

السؤال الثالث

- ١ امتدت المماليك الاسلامية في افريقيا حتي وصلت الي هضبة
- ٢ امتد التأثير الحضاري المصري في افريقيا الي اعالي منابع
- ٣ دارت معركة بين رمسيس الثاني والحيثيين .
- ٤ وصل حكم الي جنوب دائرة الاستواء.
- ٥ ارسل الملك الفرعوني بعثة للدوران حول افريقيا استمرت ثلاث سنوات .
- ٦ توجد السافانا الفقيرة بالقرب من
- ٧ من أمثلة تربة الصحاري الحارة التربة والتربة
- ٨ ينتشر نظام حشائش الاستبس في المناطق ذات المناخ
- ٩ يعمل معظم السكان في نظام حشائش الاستبس بالرعي و
- ١٠ تتسم تربة حشائش السافانا باللون
- ١١ يقطع نحو من مساحة القارة الافريقية في نصف الكرة الارضية الشمالي
- ١٢ يحد قارة افريقيا من جهة الغرب المحيط
- ١٣ بدأ البرتغاليون محاولاتهم لاكتشاف إفريقيا في القرن الـ ١٥ خلال عهد
- ١٤ يعتبر جبل بالمغرب أعلى قمة جبلية في سلسلة الجبال الالتوائية .
- ١٥ من الجبال البركانية في وسط افريقيا وكلمنجارو .
- ١٦ يعتبر جبل بمصر أعلى قمة جبلية في سلسلة الجبال الانكسارية .
- ١٧ يعني استثمار الموارد المائية بشكل مستدام لتحقيق التنمية المستدامة.
- ١٨ تمتد جبال اطلس بقارة افريقيا علي طول الساحل للقارة.
- ١٩ المضيق الذي يفصل جزيرة مدغشقر عن يابس القارة الافريقية
- ٢٠ تمتاز هضبة الحبشة بخصوبة تربتها بسبب



- ٢١ توجد جبال.....البركانية جنوب قارة افريقيا
- ٢٢ تم تأسيس مدينة قرطاج لتأمين رحلات الفينيقيين التجارية من فينيقيا الي
- ٢٣ تمركزت حضارة كوش في بدايتها في مدينة.....ثم انتقلت الي
- ٢٤ قامت مصر بدفع تكاليف انشاء خزان.....في السودان لتوليد الطاقة الكهربائية
- ٢٥ يعد أول بناء حجري ضخم قي التاريخ .
- ٢٦ كان من أشهر صادرات حضارة أكسوم معدن
- ٢٧ قامت مصر بإنشاء خزان.....علي النيل الازرق.
- ٢٨ شكلت دول حوض النيل عام 1983م تجمعا عرف بـ
- ٢٩ يلتقي نهر السوبات معويمده بالمياه فيسترد النيل قوته.
- ٣٠ كانت أبرز صادرات حضارة أكسوم وأعلها قيمة اقتصادية.....و
- ٣١ استطاع المصري القديم استخدام أصلب أنواع الحجر في نحت التماثيل مثل حجر
- ٣٢ يعد الملكمؤسس الأسرة الخامسة
- ٣٣ اهتم المصريون القدماء بنحت التماثيل مثل التماثيل.....وتماثيل
- ٣٤ اهتم المصريون القدماء ببناء المعابد مثل معابدو المعابد
- ٣٥ شيد الملك أوسركاف معابدفي أبي صير بالجيزة
- ٣٦ شيد الملك توت عنخ امون معابد في مصر و
- ٣٧ أمر الملك رمسيس الثاني بنحت معبدتين في منطقةأحدهما له الآخر لزوجته .
- ٣٨ بدأ عصر الدولة الحديثة بطردمن مصر .
- ٣٩ قام الملكبالدعوة الي عبادة له في مصر .
- ٤٠ سيطر تحتمس الثالث بأسطوله الحربي علي الكثير من جزر البحرو ساحل
- ٤١ انتشرت الفوضى في نهاية عصر الدولة القديمة خاصه في عهد الملك
- ٤٢ يبدأ عصر الاضمحلال الاول من الاسرةحتي الاسرة
- ٤٣ ارسل منتوحتب الثاني بعثة تجارية الي بلادعبر الصحراء
- ٤٤ قام الملك أمنمحات الاول بنقل العاصمة من طيبة الي مدينة
- ٤٥ قام الملك سنوسرت الثالث ببناء حصنيوعند الجندل الثاني .
- ٤٦ كان الملكأول من بدأ النضال الحقيقي لتحرير البلاد من الهكسوس
- ٤٧ تولت الملكة سبك نفرو حكم مصر عقب وفاة الملك



- ٤٨ استطاع الملكاصلاح النظام الاداري للدولة.
- ٤٩ أنشأ الملك سنوسرت الثالث حصونا في جنوب مصر عند
- ٥٠ أصبحت مدينةفي السودان ضمن حدود مصر في عهد تحتمس الأول .
- ٥١ من التهديدات البشرية التي تتعرض لها الشعاب المرجانية الصيد باستخدامو
- ٥٢ استطاعالسيطرة علي معظم ارض مصر و تكوين الاسرة الخامسة والعشرين .
- ٥٣ تتميز تربة الغابات المدارية المطيرة باللونفي معظمها.
- ٥٤ يتميز مناخ نظام البحر المتوسط بأنهصيفاشتاء.
- ٥٥ يعدمن أسباب تعرض كثير من الحيوانات في افريقيا للانقراض .
- ٥٦ يتسم المطر في الغابات المدارية المطيرة ، بأنه
- ٥٧ ترتفع الرطوبة النسبية في نظام الغابات المدارية المطيرة بسبب
- ٥٨ تنمو غابات البحر المتوسط بجنوب غرب قارة افريقيا في
- ٥٩ من الحيوانات اكلة العشب التي تعيش في نظام السافاناو
- ٦٠ يقتصر وجود التربة الخصبة في الصحراء الكبرى علي بعض الأراضي داخل
- ٦١ تنقسم النظم الصحراوية في العالم الي صحاري الحارة وو
- ٦٢ يتسم مناخ النظم الصحراوية في العالم بقلةو ارتفاع
- ٦٣ يطلق علي نظام الحشائش المعتدلة اسم
- ٦٤ تصلح تربة السافانا لزراعةو
- ٦٥ تعد قارة افريقيا من أكثر المناطق تضررا من الفيضانات وتأتي في المرتبة
- ٦٦ تعددت أساليب انتشار الاسلام في افريقيا ومنهاو
- ٦٧ تم فتح مدينة سبیطلة في عهد الخليفة
- ٦٨ انتشرت العديد من العلوم في قارة افريقيا بعد انتشار الاسلام بها مثلوو
- ٦٩ بعد استقرار الأمر لعمر بن العاص في مصر اتجه بجيشه نحو اقليمغربا
- ٧٠ نظم الاسلام الاسرة فمنح الام الحق في
- ٧١ حرص سكان افريقيا علي اقامة الشعائر الاسلامية فتعلموا اللغة
- ٧٢ من الممالك والسلطنات الاسلامية في قارة افريقيا مملكةو مملكة
- ٧٣ من القادة المسلمين الذين ساهموا في فتح شمال افريقيا
- ٧٤ ساعد دخول الاسلام في قارة افريقيا علي تحول الحياةالقائمة علي الحروب والعصبية الي نظام



- ٧٥ انتشر الاسلام في افريقيا بسبب ودعوته للعدل و المساواة .
- ٧٦ نجح الملك منتوحتب الثاني في الإنتصار علي ملوك في الشمال .
- ٧٧ من أهمية اشجار المانجروف انها تنقي الهواء من
- ٧٨ من أشهر المحميات الطبيعية في مصر والتي تضم اشجار المانجروف محمية ومحمية ومحمية
- ٧٩ تعد بعض نظم الاراضي الرطبة المالحة محميات الوطنية لحوض اركين في دولة
- ٨٠ يقع نهر الامازون في قارة
- ٨١ توجد نظم بيئية صغيرة المساحة مثل
- ٨٢ تعد قارة افريقيا القارات في انبعاثات الحرارة .
- ٨٣ تأثر ملوك بالممالك في وضع القوانين لحماية أموال الدولة .
- ٨٤ تولت مصر حماية و الاماكن المقدسة في ظل الخلافة العباسية
- ٨٥ ساهم الممالك في تطوير الجوانب الادارية بالحبشة حيث نظموا طرق
- ٨٦ عبدت بعض المعبودات المصرية في حضارة السودان مثل
- ٨٧ من أشهر الأورقة التي خصصت لطلاب الأزهر من شمال افريقيا رواق
- ٨٨ بعد دخول الاسلام الي افريقيا تحولت الحياة القبلية بها الي نظام
- ٨٩ يستخرج من النظام البيئي المائي في افريقيا العديد من الأملاح مثل
- ٩ تنقسم النظم المائية تبعا لنسبة

اكتب ما تشير اليه العبارات التالية

السؤال الرابع

- ١ دائرة عرض رئيسية تمر في وسط القارة الافريقية تقريبا . ()
- ٢ رواق خصص لطلاب شمال افريقيا و بلاد المغرب المغربي . ()
- ٣ طريق اكتشافه البرتغاليون للدوران حول افريقيا . ()
- ٤ خليفة تم في عهده فتح مصر . ()
- ٥ مجموع الانتاج الثقافي والانتاج المادي الذي يميز مجتمعا عن غيره . ()
- ٦ أهم المساجد بدولة مالي أقيمت فيها دروس جميع العلوم الاسلامية وتحول إلى جامعة ()
- ٧ تولت مسئولية حماية المحرمين الشريفيين و الاماكن المقدسة في ظل حكم الخلافة العباسية. ()
- ٨ أعلى قمة جبلية في جبال أطلس . ()



- ٩ مدينة بشمال افريقيا كانت محاطة بالاسوار وحاصرها المسلمون شهر لفتحها في شمال أفريقيا.
- ١٠ احدي مشروعات الري أقيم بالقرب من نقطة التقاء النيل الازرق بالنيل الابيض .
- ١١ نظام بيئي يتسم بالجفاف وقلة الامطار وارتفاع المدى الحراري اليومي والسنوي .
- ١٢ احدي الاتفاقيات التي نصت علي عدالة استخدام مياه نهر النيل .
- ١٣ أكبر النظم البيئية في العالم .
- ١٤ أصلب أنواع الحجر الذي استخدمه الفنان المصري القديم في نحت التماثيل
- ١٥ الفرق بين متوسط درجة الحرارة بالنسبة لأعلى شهور السنة وأدنى شهور السنة حرارة .
- ١٦ أول بناء حجري ضخيم في التاريخ .
- ١٧ معبد صورت الملكة حتشبسوت رحلتها الي بلاد بونت عليه .
- ١٨ دولة قامت بإمداد الهكسوس بالمؤن فترة احتلالهم لمصر .
- ١٩ اتخذها الملك احمس عاصمة للبلاد .
- ٢٠ أحد العصور الفرعونية الذي يطلق عليه الرخاء الاقتصادي .
- ٢١ قناة مائية تم حفرها في عهد الملك سنوسرت الثالث وساهمت في زيادة حركة التجارة بين مصر وجيرانها .
- ٢٢ دولة كبيرة تسيطر علي مناطق وشعوب مختلفة تحت قيادة مركزية قوية
- ٢٣ مجموعة نصوص دينية نقشت بالخط الهيروغليفي علي جدران الحجرات الداخلية للأهرام .
- ٢٤ معبد بدأ ببناءه الملك سيتي الأول و أتم ببناءه ابنه الملك رمسيس الثاني .
- ٢٥ أحد الفنون وصل الي قمته في عصر الملك خفرع .
- ٢٦ دعا الي عبادته الملك اخناتون و رمز له بقرص الشمس .
- ٢٧ ثاني أكبر بحيرة طبيعية عذبة في العالم .
- ٢٨ نسبة كمية البخار الماء الموجودة في الهواء بالنسبة الي كمية بخار الماء التي يستطيع الهواء ان يتحملها .
- ٢٩ حضارة إفريقية أثرت في تاريخ القارة و لكنها لم ترتبط بنهر النيل .
- ٣٠ أحد النظم البيئية وتتمثل في المناطق العمرانية و الاراضي الزراعية .
- ٣١ مدينة بدأت فيها حضارة كوش قبل الانتقال الي مروي .
- ٣٢ حشائش تتداخل معها أشجار متنوعة تزداد كثافتها بالقرب من الغابات المدارية المطيرة .
- ٣٣ جبال تكونت نتيجة الثورات البركانية .
- ٣٤ أشجار و شجيرات تنمو في المناطق الساحلية المدارية وشبه المدارية .
- ٣٥ كان لهم دور في اكتشاف منابع النيل في نهاية القرن الـ 18 م وخلال القرن الـ 19 م.



- ٣٦ () افرازات لكائنات بحرية دقيقة أهمها حيوان المرجان.
- ٣٧ () منطقة ذات اهمية استراتيجية تمثل حلقة اتصال بين اكبر قارتين في العالم من حيث المساحة .
- ٣٨ () محمية مصرية تعد تراثا عالميا وتشتمل علي تنوع بيئي متميز.
- ٣٩ () فترة زمنية في التاريخ المصري القديم سادت فيها البلاد حالة من ضعف سلطة الملك .
- ٤٠ () مدينة مصرية أصبحت مقر الخلافة العباسية بعد سقوطها في بغداد .
- ٤١ () عاصمة مصر فترة حكم الملك أمنمحات الاول .
- ٤٢ () قناة حفرها المسلمون بعد الفتح الاسلامي لمصر ساعدت علي انتشار الاسلام .
- ٤٣ () سد أقامه الملك امنمحات الثالث عند مدخل بحيرة مورييس (قارون حاليا) .
- ٤٤ () من أهم المؤسسات العلمية الدينية التي قامت بدور كبير في الحفاظ علي الهوية الاسلامية عبر التاريخ الاسلامي .
- ٤٥ () قام بها الملك اخناتون ودعا فيها الي عبادة اله واحد هو (اتون).
- ٤٦ () معركة خاضها الملك رمسيس الثاني ضد الحيثيين .
- ٤٧ () حالة من الاستقرار ات تحدث داخل المجتمع من الكائنات الحية بهدف الحفاظ علي أعدادها و أنواعها دون حدوث تغيرات جذرية و غير طبيعية فيه .
- ٤٨ () نظام الغابات الذي يرتفع بها نسبة الرطوبة .
- ٤٩ () إقليم في دولتي جنوب افريقيا وليسوتو يقع ضمن نظام حشائش الإستبس .
- ٥٠ () أكبر صحاري حارة في العالم .
- ٥١ () مسطحات ملحية تتركز فوق تكوينات من الصلصال والطين و غالبا ما تغطي بقشور ملحية يتحكم في منسوبها مستوي الماء الجوي .
- ٥٢ () الافراد الذين تلقوا قدرا من العلوم الدينية لنشر الاسلام و تعامله بالطرق السلمية
- ٥٣ () إحدى المدن النيجيرية التي تحولت من مركز تجاري الي مركز ثقافي لنشر الاسلام .
- ٥٤ () رواق خصص للطلاب الوافدين من بلاد الحبشة و سواحل البحر الاحمر .
- ٥٥ () حالة من الاستقرار تحدث داخل النظم البيئية عبر التفاعل بين مكوناتها الحية وغير الحية، مما يمنع حدوث تغيرات جذرية و غير طبيعية فيها.
- ٥٦ () مضيق يصل بين البحر المتوسط والمحيط الاطلنطي
- ٥٧ () دول حرصت علي تقسيم دول افريقيا لدول مختلفة في المساحة
- ٥٨ () استثمار الموارد المائية بشكل مستدام لتحقيق التنمية المستدامة والقضاء علي الفقر وتحقيق الاكتفاء الذاتي .
- ٥٩ () مجموعة من الانكسارات الطولية تمتد في شرق القارة بطول 5600 كم
- ٦٠ () دولة عربية تقع شمال غرب جزيرة مدغشقر
- ٦١ () هو اقتصاد صديق للبيئة يستهدف تحقيق نمو اقتصادي مستدام



- ٢٢ المساحة التي يجري فيها النهر و روافده ()
- ٢٣ شعار ملوك مصر في عصر الدولة القديمة و اقتبس ملوك أوغندا قديما ()
- ٢٤ معابد أمر الملك أوسركاف بتشييدها في أبي صير بالجيزة ()
- ٢٥ مدينة اتخذها الهكسوس عاصمة لهم في مصر ()
- ٢٦ الدول التي لاتصل علي مسطحات مائية ()
- ٢٧ هضبة عظيمة الاتساع وقليلة الارتفاع وتنحدر تدريجيا نحو الشمال حتي تلتقي بسواحل البحر المتوسط ()
- ٢٨ يعد أعلى قمة جبلية بقارة افريقيا ويتكون الجليد فوق قمته ()
- ٢٩ تجمع تم تشكيله عام 1983 م ويضم دول حوض النيل ()
- ٣٠ احدي دول حوض النيل وساهمت مصر في حفر عشرات الابار بأراضيها ()
- ٣١ الكتابة التي استخدمتها المصري القديم في تدوين متون الاهرام ()
- ٣٢ مدينة اقيمت في الاسرة الاولى واستولت عليها القبائل التي جاءت من وسط اسيا وأسقطت الاسرة الثانية عشرة ()
- ٣٣ حصنين أقامهما الملك سنوسرت الثالث عند الجندل الثاني ()
- ٣٤ معركة انتصر فيها الملك تحتمس الثالث علي امراء اسيا بقيادة امير قادش ()
- ٣٥ مساحة من الارض تزيد عن خمسة الاف متر مربع وتنمو فيها أشجار بأطوال لا تقل عن خمسة أمتار . ()
- ٣٦ غابات توجد في منطقة الكاب أقصى جنوب غرب القارة الافريقية ()
- ٣٧ نوع من حشائش السافانا يوجد بالقرب من نظام الصحاري الحارة ()
- ٣٨ محمية مصرية تتميز بتنوعها البيئي وتعد إحدى مناطق التراث العالمي ()
- ٣٩ بحيرة ساحلية في شبه جزيرة سيناء تعد من أنظم الاراضي الرطبة المالحة ()
- ٤٠ أراضي مشبعة بالمياه بصورة دائمة أو موسمية وتمثل نحو 1% من مساحة افريقيا . ()

صوب العبارات التالية

السؤال الخامس

- ١ قامت حضارة اكسوم في مصر والسودان . ()
- ٢ كان من الواردات المصرية القادمة من الدول الافريقية الزجاج . ()
- ٣ قامت علي ارض قارة افريقيا حضارة كوش في مصر . ()
- ٤ اصبحت مدينة الاسكندرية مركزا للخلافة العباسية في مصر بعد غزو المغول . ()
- ٥ كان هنري الملاح اول الامراء الانجليز المهتمون باكتشاف قارة افريقيا في القرن ال15 م . ()



- ٦ تنمو اشجار المانجروف في المناطق الساحلية الاستوائية .
- ٧ توجد هضبة الشطوط بدولة اثيوبيا.
- ٨ تعد مستنقعات السد من النظم المائية المالحة .
- ٩ البحيرات الاستوائية تعلوها القمم الجبلية الجليدية .
- ١٠ تمثل حرائق الغابات في افريقيا ثلث المساحات المحترقة في العالم .
- ١١ كانت مدينة قرطاج في البداية تابعه لكوش .
- ١٢ اشهر المعارك التي خاضها رمسيس الثاني معركة مجدو .
- ١٣ انتشرت بعض المعابدات المصرية القديمة في انحاء افريقيا مثل الصقر والذي يشير الي المعبود رع .
- ١٤ تعد الملكة اياح حتب اخر حكام الاسرة الثانية عشرة.
- ١٥ نجحت الاسرة العاشرة في اعادة توحيد مصر مرة اخري بعد فترة من الانقسام .
- ١٦ بدأ عصر الاضمحلال الاول من الاسرة السادسة حتي الاسرة العاشرة.
- ١٧ كانت مدينة اثيت تاوي عاصمة الدولة الوسطي في عصر الملك منتوحتب الثاني .
- ١٨ الاله رع من المعابدات مصرية الأصل تمت عبادتها في حضارة اكسوم
- ١٩ ارسل الملك منتوحتب الثاني بعثة تجارية لبلاد فينيقيا عبر الصحراء .
- ٢٠ من الجبال الالتوائية بقارة افريقيا جبال اطلس التي تمتد في سلسلتين متقاطعتين علي طول الساحل
- ٢١ تتميز تربة الغابات المدارية المطيرة باللون الاخضر .
- ٢٢ من الجبال البركانية بقارة افريقيا جبال اطلس .
- ٢٣ يتميز نظام غابات البحر المتوسط بأنه بارد جاف في فصل الشتاء .
- ٢٤ استطاع المسعودي ان يخترق الصحراء الكبرى من الشمال الي الجنوب حتي وصل الي مالي .
- ٢٥ تعمل الاشجار الصنوبرية علي حماية الشواطئ من التاكل والتعرية .
- ٢٦ تقترب قارة افريقيا من قارة اسيا عند مضيق موزمبيق .
- ٢٧ ينتشر نظام المانجروف في بعض جزر المحيط الهندي مثل جزيرة مالطا .
- ٢٨ امر الملك أوسركاف بتشيد الهرم الاوسط .
- ٢٩ يعد الصمغ احد صادرات مصر للدول الافريقية .
- ٣٠ يعد الملك سنوسرت الثالث مؤسس الاسرة الثانية عشرة .
- ٣١ اهتم ملوك الدولة الحديثة في مصر بالبعد الاوربي .
- ٣٢ يعتبر الملك توت عنخ امون ملك الحرب والسلام .



- () النظام البيئي منطقة متكاملة تتكون من كائنات حية منها التربة وعناصر المناخ. (٣٣)
- () شهدت بحيرة تانا اكبر انقراض جماعي للفقاريات في العصر الحديث . (٣٤)
- () رواق الشوام اشهر الاورقة التي خصصت لطلاب شمال افريقيا والمغرب العربي . (٣٥)
- () تتميز هضبة شمال افريقيا بالمنخفضات كمنخفض عين صالح بمصر . (٣٦)
- () اعلنت منظمة اليونسكو اهرامات الجيزة موقعا للتراث العالمي في 2011م. (٣٧)
- () يعد جبل توبقال اعلي قمة جبلية في جبال البحر الاحمر . (٣٨)
- () ظهرت متون الاهرام في عهد الملك خوفو . (٣٩)

أجب عن الأسئلة الآتية

السؤال السادس

- ١ بم تفسر : الاهمية الحضارية لشبه جزيرة سيناء ؟
-
- ٢ بم تفسر : قيام الاستعمار بتقسيم قارة افريقيا الي عدد كبير من الدول ؟
-
- ٣ بم تفسر : إرسال محمد علي رحلات لأفريقيا عام 1839م ؟
-
- ٤ بم تفسر : أسس البرتغاليون الموانئ والمراكز التجارية علي طريق رأس الرجاء الصالح ؟
-
- ٥ بم تفسر : تنوع النباتات الطبيعية و الحيوانات و المحاصيل الزراعية في قارة افريقيا ؟
-
- ٦ بم تفسر : مثلت شبه جزيرة سيناء أهمية استراتيجية لمصر ؟
-
- ٧ بم تفسر : تحكم قارة افريقيا في طرق التجارة العالمية ؟
-
- ٨ بم تفسر : تنقسم قارة افريقيا الي دول مختلفة في المساحة ؟
-
- ٩ ما النتائج المترتبة علي : انتخاب مصر لرئاسة الاتحاد الافريقي عام 2019م ؟
-
- ١٠ ما النتائج المترتبة علي : محاولات البرتغاليين لاكتشاف قارة افريقيا اواخر القرن ال15م ؟
-



١١ ما النتائج المترتبة علي: الموقع الجغرافي لقارة افريقيا ؟

.....

١٢ ما النتائج المترتبة علي : إشراف قارة افريقيا علي ممرات مائية هامة ؟

.....

١٣ ما النتائج المترتبة علي : نجاح احمس في طرد الهكسوس ؟

.....

١٤ بم تفسر : تتميز هضبة الحبشة (الهضبة الاثيوبية) بخصوبة تربتها؟

.....

١٥ بم تفسر : تعرف هضبة البحيرات الاستوائية بأنها المنبع الدائم لنهر النيل ؟

.....

١٦ بم تفسر : ضيق السهول الساحلية للبحر الاحمر؟

.....

١٧ بم تفسر : يختلف اتساع السهول الساحلية في القارة من منطقة لأخرى ؟

.....

١٨ بم تفسر : خصوبة تربة وادي النيل في مصر و السودان ؟

.....

١٩ بم تفسر : تكون الجليد علي جبل كلمنجارو رغم وقوعه بالمنطقة الاستوائية ؟

.....

٢٠ بم تفسر : أهمية جبال قارة افريقيا بالنسبة للنشاط السياحي ؟

.....

٢١ بم تفسر : التركز السكاني حول معظم سهول نهر النيجر ؟

.....

٢٢ ما النتائج المترتبة علي : خصوبة التربة في هضبة الحبشة (الهضبة الاثيوبية) ؟

.....

٢٣ ما النتائج المترتبة علي : سقوط الامطار الشتوية علي السهول الساحلية للبحر المتوسط ؟

.....

٢٤ ما النتائج المترتبة علي : الارتفاع الشاهق لجبل كلمنجارو؟

.....

٢٥ ما النتائج المترتبة علي : تأثر سطح قارة افريقيا بالحركات الانكسارية ؟

.....



٦ ما النتائج المترتبة علي : حدوث الثورانات البركانية في وسط قارة افريقيا ؟

.....

٧ بم تفسر : انشاء مصر لتجمع الاندوجو عام 1983 م ؟

.....

٨ بم تفسر : أهمية نهر عطبرة والنيل الازرق بالنسبة لجريان النيل ؟

.....

٩ بم تفسر : قلة مساهمة المنابع الدائمة في مياه نهر النيل بمصر ؟

.....

١٠ بم تفسر : ساهمت مصر في انشاء خزان جبل الاولياء في السودان ؟

.....

١١ بم تفسر : اهتمام مصر بالاقتصاد الاخضر ؟

.....

١٢ بم تفسر : عقد اتفاقية قانون تنظيم استخدام المجاري المائية في الأغراض غير الملاحية ؟

.....

١٣ بم تفسر : عقد كل من مصر واثيوبيا والسودان اتفاقية 2015 م ؟

.....

١٤ بم تفسر : تأسيس الفينيقيين مدينة قرطاج علي البحر المتوسط ؟

.....

١٥ ما النتائج المترتبة علي : ثنائية المنبع لنهر النيل ؟

.....

١٦ ما النتائج المترتبة علي : الموقع المتميز لمدينة قرطاج ؟

.....

١٧ ما النتائج المترتبة علي : الموقع الجغرافي لحضارة اكسوم ؟

.....

١٨ ما النتائج المترتبة علي : استقرار المصري القديم علي ضفاف نهر النيل ؟

.....

١٩ بم تفسر : ندرة وجود الحيوانات الضخمة اكلة العشب في الغابات المدارية المطيرة ؟

.....

٢٠ بم تفسر : يعد العصر العتيق عصر البناء والتأسيس لتاريخ مصر القديم ؟

.....



بم تفسر : تميز العصر العتيق بالاستقرار وتحقيق الأمن؟

٤١

بم تفسر : سمي عصر الدولة القديمة بعصر بناء الاهرام ؟

٤٢

بم تفسر : نحت المصريون خلال عصر الدولة القديمة التماثيل الملكية ؟

٤٣

بم تفسر : تسمية هرم سقارة بالهرم المدرج ؟

٤٤

بم تفسر :لقب الملك سنفرو بالملك المحسن المحبوب؟

٤٥

بم تفسر : إرسال الملك سنفرو أسطولاً بحرياً إلى فينيقيا ؟

٤٦

بم تفسر : سقوط الأسرة الرابعة في مصر القديمة ؟

٤٧

ما النتائج المترتبة علي : زيادة نفوذ كهنة الاله (رع) في أواخر عهد الأسرة الرابعة ؟

٤٨

ما النتائج المترتبة علي : زواج التجار المسلمين من النساء الافارقة ؟

٤٩

ما النتائج المترتبة علي : ظهور الأسرة الحادية عشرة في مصر القديمة ؟

٥٠

ما النتائج المترتبة علي : تقدم المصريين القدماء في فن العمارة والهندسة و الفلك ؟

٥١

ما النتائج المترتبة علي : تدهور أحوال مصر الاقتصادية و الاجتماعية في نهاية عصر الأسرة السادسة الفرعونية ؟

٥٢

بم تفسر : ترجيب المصريين واحل برقة بالفتج الاسلامي ؟

٥٣

بم تفسر : اهتمام ملوك عصر الدولة الوسطي ببناء الحصون ؟

٥٤

بم تفسر : نقل الملك امنمحات الأول عاصمة البلاد من طيبة الى اثيت تاوي ؟

٥٥



٥٦ بم تفسر : أقام الملك امنمحات الاول سلسلة من الحصون علي الحدود الغربية للدلتا ؟

.....

٥٧ بم تفسر : قيام الملك سنوسرت الثالث بحفر قناة سيزوستريس ؟

.....

٥٨ بم تفسر : اقام الملك امنمحات الثالث سد اللاهون ؟

.....

٥٩ بم تفسر اقام الملك امنمحات الثالث مقاييس للنيل ؟

.....

٦٠ بم تفسر : ضعف وسقوط الدولة الوسطي ؟

.....

٦١ بم تفسر : اقام المصريون القدماء خلال عصر الدولة الوسطي مراكز ومحطات تجارية علي طول نهر النيل جنوبا ؟

.....

٦٢ ما النتائج المترتبة علي : ضعف ملوك الدولة الوسطي بعد امنمحات الثالث ؟

.....

٦٣ بم تفسر : تسمية عصر الدولة الحديثة بعصر المجد الحربي و عصر بناء الامبراطورية ؟

.....

٦٤ بم تفسر : وجود جيش قوي في عصر الدولة الحديثة ؟

.....

٦٥ بم تفسر : اتجه الملك احمس الاول نحو الجنوب ؟

.....

٦٦ بم تفسر : شهرة الملك توت عنخ امون ؟

.....

٦٧ بم تفسر : سمي عصر الملك رمسيس الثاني بعصر الامبراطورية الثانية ؟

.....

٦٨ بم تفسر : قيام معركة قادش - خروج الملك رمسيس الثاني لمواجهة الحيثيين ؟

.....

٦٩ بم تفسر : يعتبر الملك رمسيس الثالث المؤسس الحقيقي للأسرة العشرين ؟

.....



٧٠ بم تفسر : ضعف و نهاية الدولة الحديثة - ضعف البلاد بعد انتهاء حكم الملك رمسيس الثالث ؟

.....

٧١ ما النتائج المترتبة علي : تحالف ملك الحيثيين مع امراء المدن السوريه ضد الملك رمسيس الثاني ؟

.....

٧٢ ما النتائج المترتبة علي : معاهدة السلام بين الملك رمسيس الثاني و ملك الحيثيين ؟

.....

٧٣ ما النتائج المترتبة علي :غزو الاسكندر الاكبر لمصر ؟

.....

٧٤ ما النتائج المترتبة علي :الصراع بين ملك كوش و المصريين اثناء عصر الاسرة ال24؟

.....

٧٥ ما النتائج المترتبة علي : اهتمام الملك سنوسرت الثالث بالحد الجنوبي المصري ؟

.....

٧٦ بم تفسر : اتجاه عمرو بن العاص الي طرابلس بعد فتح برقة ؟

.....

٧٧ بم تفسر : حدوث اختلال للنظام البيئي ؟

.....

٧٨ بم تفسر :نظام الغابات المدارية المطيرة من اكثر النظم البيئية تنوعا ؟

.....

٧٩ بم تفسر : انخفاض المدي الحراري السنوي بنظام الغابات المدارية المطيرة بإفريقيا ؟

.....

٨٠ بم تفسر : انخفاض الضغط الجوي في نظم الغابات المدارية المطيرة في افريقيا ؟

.....

٨١ بم تفسر : ارتفاع الرطوبة النسبية في نظام الغابات المدارية المطيرة في افريقيا ؟

.....

٨٢ بم تفسر : تميز تربة الغابات المطيرة بالتربة الحمراء ؟

.....

٨٣ بم تفسر : ارسال عبد الله بن ابي السرح الحملات الاستطلاعية لاطراف افريقية (تونس حاليا) ؟

.....

٨٤ بم تفسر :ارتفاع درجة حرارة حشائش السافانا في فصل الصيف ؟

.....



٨٥ بم تفسر : تدرج حشائش السافانا في الطول من مكان لآخر ؟

.....

٨٦ بم تفسر : ارتفاع المدي الحراري السنوي بنظام الحشائش الحارة ؟

.....

٨٧ بم تفسر : يطلق علي نظام حشائش السافانا حديقة حيوان طبيعية ؟

.....

٨٨ بم تفسر : لحشائش السافانا اهمية اقتصادية ؟

.....

٨٩ بم تفسر : تتعرض تربة حشائش السافانا للتجريق لاسباب طبيعية ؟ ؟

.....

٩٠ بم تفسر : اهمية حشائش الاستبس ؟

.....

٩١ بم تفسر : قيام النشاط الزراعي في منطقة نظام الحشائش المعتدلة ؟

.....

٩٢ ما النتائج المترتبة علي : تعرض مساحات واسعة من الاراضي الافريقية للتصحّر ؟

.....

٩٣ ما النتائج المترتبة علي : تفاوت كمية المطر من مكان الي اخر في نظام الحشائش المعتدلة ؟

.....

٩٤ ما النتائج المترتبة علي : زيادة حدة موجات الجفاف في مناطق الصحاري الحارة ؟

.....

٩٥ ما النتائج المترتبة علي : غني تربة الاستبس بالمواد العضوية ؟

.....

٩٦ بم تفسر : تعرض انواع عديدة من الاسماك في بحيرة فيكتوريا لخطر الانقراض ؟

.....

٩٧ بم تفسر : تعرف نظم الاراضي العذبة بالنظم البرمائية ؟

.....

٩٨ بم تفسر : تنتشر اشجار المانجروف بشكل كبير في السواحل الغربية لقارة افريقيا

.....

٩٩ بم تفسر : الاهمية البيئية لأشجار المانجروف ؟

.....



١٠٠ بم تفسر تعرض نبات المانجروف للتدهور ؟

.....

١٠١ بم تفسر : تنمو الشعاب المرجانية في معظم السواحل الشرقية لقارة افريقيا ؟

.....

١٠٢ بم تفسر : تأسيس الصندوق الافريقي لتغير المناخ عام 2014م ؟

.....

١٠٣ ما النتائج المترتبة علي : تعظم النظم البحرية العذبة بافريقيات للتدهور ؟

.....

١٠٤ ما النتائج المترتبة علي : تعرضي الاراضي الرطبة العذبة للتجفيف و انزلة النباتات و التوسع الزراعي ؟

.....

١٠٥ ما النتائج المترتبة علي : تعرض الشواطئ لعمليات الردم ؟

.....

١٠٦ ما النتائج المترتبة علي : نمو اعشاب بحرية في نظم الاراضي الرطبة المالحة ؟

.....

١٠٧ بم تفسر : ارتبط العرب بعلاقات تجارية مع افريقيا قديما قبل ظهور الاسلام ؟

.....

١٠٨ بم تفسر : اشار النبي (ص) علي اصحابه بقالهجرة الي بلاد الحبشة ؟

.....

١٠٩ بم تفسر : اهمية شبه جزيرة سيناء في نشر الاسام بإفريقيا ؟

.....

١١٠ بم تفسر : كان التجار المسلمين دورا بارزا في نشر الاسلام في قارة افريقيا ؟

.....

١١١ بم تفسر : ترحيب اهل برقة بالفتح الاسلامي ؟

.....

١١٢ بم تفسر : اهمية فتح طرابلس للمسلمين بعد فتح مصر ؟

.....

١١٣ بم تفسر : ارسال عبد الله بن ابي السرح لمجموعة من الحملات الاستطلاعية لافريقية (تونس حاليا)

.....

١١٤ ما النتائج المترتبة علي : وصول عرب شبه الجزيرة الي ساحل افريقيا عبر عدة معابر ؟

.....



ما النتائج المترتبة علي : زواج التجار المسلمين من النساء الافارقة ؟

١١٥

ما النتائج المترتبة علي : فرار بني امية وانصارهم الي داخل القارة الافريقية بعد سقوط دولتهم ؟

١١٦

ما النتائج المترتبة علي : فتح بلاد المغرب ؟

١١٧

بم تفسر : ارتبط العرب بعلاقات مع افريقيا قديما قبل ظهور الاسلام ؟

١١٨

بم تفسر : دخول الاسلام الي قارة افريقيا لأول مرة في عهد الرسول (ص) ؟

١١٩

بم تفسر : انتشار الاسلام في افريقيا بعد الفتح الاسلامي لمصر ؟

١٢٠

بم تفسر : ارسال التجار المسلمين الطلاب الافارقة المميزين للمعاهد العلمية في مصر ؟

١٢١

دال علي صحة العبارات الآتية

السؤال السابع

دال علي صحة العبارة : يعتبر البحر الاحمر معبرا هاما ساهم في انتشار الاسلام في شرق افريقيا ؟

١

دال علي صحة العبارة الآتية : لعب الدعاة وعلماء الدين دورا بارزا في نشر الاسلام في افريقيا ؟

٢

دال علي صحة العبارة : كان للاسلام دورا مهما في تشكيل الهوية الثقافية و الاجتماعية لشعوب افريقيا ؟

٣

دال علي صحة العبارة : كان للاسلام بعد انتشاره في قارة افريقيا دورا هاما في رفع شأن المرأة ؟

٤

دال علي صحة العبارة : تتسم النظم البحرية العذبة بقارة افريقيا بالتنوع البيولوجي ؟

٥

دال علي صحة العبارة : لأشجار المانجروف اهمية كبيرة ؟

٦

دال علي صحة العبارة : قيام مصر بتنفيذ العديد من المشروعات لمواجهة التغيرات المناخية ؟

٧



٨ دال علي صحة العبارة : تستطيع النباتات الصحراوية التكيف مع شدة الجفاف والحرارة ؟

٩ دال علي صحة العبارة : لنظام الصحاري الحارة بقارة افريقيا اهمية بالنسبة للنشاط التعديني ؟

١٠ دال علي صحة العبارة : يعد نظام الصحاري الحارة بإفريقيا مناطق جذب سياحي ؟

١١ دال علي صحة العبارة : يمتد نظام حشائش الاستبس في شمال وجنوب قارة أفريقيا ؟

١٢ دال علي صحة العبارة : يتسم مناخ نظام الصحاري الحارة بالتطرف الشديد في درجات الحرارة ؟

١٣ دال علي صحة العبارة : فتحت طرابلس دون صعوبة رغم قوة اسوارها وحصونها ؟

١٤ دال علي صحة العبارة : اثر التغير المناخي علي نظام الغابات المدارية المطيرة في قارة افريقيا ؟

١٥ دال علي صحة العبارة : الاهمية البيئية للغابات المدارية المطيرة ؟

١٦ دال علي صحة العبارة : اتبع الملك تحتمس الثالث سياسات سلمية مع امراء اسيا للحفاظ علي الامبراطورية المصرية بعد معركة مجدو ؟

١٧ دال علي صحة العبارة : شهد عصر الدولة الحديثة ثورة دينية ؟

١٨ دال علي صحة العبارة : اتسمت العلاقات المصرية الافريقية اثناء العصر المتأخر بالصراعات والحروب ؟

١٩ دال علي صحة العبارة : اهتم الملك تحتمس الثالث بالتوسع في افريقيا ؟

٢٠ دال علي صحة العبارة : ازدهار النشاط التجاري في عصر الدولة الوسطي ؟

٢١ دال علي صحة العبارة : نجح الملك سنوسرت الثالث ف تأمين حدود مصر ؟

٢٢ دال علي صحة العبارة : اهتم الملك امنمحات الثالث باستثمار موارد مصر ؟



دلل علي صحة العبارة : أساء الهكسوس للمصريين ؟

٣٣

دلل علي صحة العبارة :-وجود علاقات تجارية بين ملوك مصر في عصر الدولة الوسطي وحضارة كوش بإفريقيا ؟

٣٤

دلل علي صحة العبارة : تساهم المناطق الجبلية في افريقيا في النشاط الصناعي ؟

٣٥

دلل علي صحة العبارة : تضم قارة افريقيا العديد من الجزر ؟

٣٦

دلل علي صحة العبارة : تنوع مظاهر السطح في هضبة شمال افريقيا ؟

٣٧

دلل علي صحة العبارة : تختلف سهول المحيط الهندي من حيث الاتساع ؟

٣٨

دلل علي صحة العبارة :تضم قارة افريقيا مجموعة متنوعة من الجبال ؟

٣٩

دلل علي صحة العبارة : لم يكن للبرتغاليين السبق في الدوران حول افريقيا :

٣٠

دلل علي صحة العبارة : لشبه جزيرة سيناء أهمية حضارية لافريقيا :

٣١

دلل علي صحة العبارة : لمصر دور ريادي في قارة افريقيا ؟

٣٢

دلل علي صحة العبارة : تمتد قارة افريقيا بين نصفي الكرة الارضية الشمالي و الجنوبي؟

٣٣

دلل علي صحة العبارة : كان للبحر الاحمر دور مهم في انتشار الاسلام في شرق افريقيا ؟

٣٤

دلل علي صحة العبارة : اختلاف نشأة حضارة قرطاج عن حضارة مصر وأكسوم وكوش؟

٣٥

دلل علي صحة العبارة : اهتمت مصر بزيادة مائية بحيرة فيكتوريا وبحيرة كيوجا ؟

٣٦

دلل علي صحة العبارة : الاهمية الحضارية لموقع قارة افريقيا :

٣٧



دلل علي صحة العبارة : تأثر الكوشيين بمظاهر الحضارة المصرية القديمة ؟

٣٨

دلل علي صحة العبارة : براعة الفنان المصري خلال عصر الدولة القديمة في فن الرسم ؟

٣٩

دلل علي صحة العبارة : وصل فن النحت في عهد الملك خفرع الي قمته ؟

٤٠

دلل علي صحة العبارة : تنوعت الانجازات المعمارية في عهد الملك أوسركاف ؟

٤١

دلل علي صحة العبارة : اهتمام ملوك العصر العتيق بالأنشطة الاقتصادية ؟

٤٢

ماذا يحدث اذا

السؤال الثامن

١ كانت هضبة البحيرات الاستوائية تنحدر نحو الجنوب ؟

١

٢ لم يمتد الاخدود الافريقي العظيم في شرق افريقيا ؟

٢

٣ اقتصرت منابع نهر النيل علي هضبة البحيرات الاستوائية ؟

٣

٤ لم يتعرض نظام الصحاري الحارة في افريقيا لموجات الجفاف ؟

٤

٥ لم تقترب جبال اطلس من البحر المتوسط ؟

٥

٦ لم يتم نقل الطمي من هضبة الحبشة (الهضبة الاثيوبية) الي مصر والسودان ؟

٦

٧ تمكنت شعوب البحر المتوسط من هزيمة رمسيس الثالث ؟

٧

٨ لم يستطيع الملك احمس الاول القضاء علي خطر الهكسوس ؟

٨

٩ هزم الملك رمسيس الثاني امام الحيثيين ؟

٩



١٠ كان الملك بيبي الثاني من ملوك الاقوياء ؟

١١ تم ازالة غابات حوض نهر الكونغو بإفريقيا بالنسبة للتوازن البيئي ؟

١٢ لم تسقط الامطار الشتوية في مناطق غابات البحر المتوسط ؟

١٣ لم تسقط الامطار الشتوية في مناطق غابات البحر المتوسط ؟

١٤ لم تكن الغابات المدارية المطيرة كثيفة ومتشابكة ؟

ما العلاقة بين كلا من

السؤال التاسع

١ الدول الاستعمارية وتقسيم قارة افريقيا

٢ العرب والبرتغاليين في الكشف الجغرافية لقارة افريقيا

٣ الامن القومي لسيناء وامن القارة الافريقية

٤ الموقع الجغرافي لقارة افريقيا واهميتها الاقتصادية

٥ هضبة الحبشة ونهر النيل .

٦ هضبة شمال افريقيا وتنوع مظاهر السطح

٧ هضبة البحيرات الاستوائية والمياه العذبة

٨ التكوينات البركانية والنشاط الزراعي في شرق افريقيا

٩ الاقتصاد الازرق والموارد المائية في افريقيا ؟



١٠ تجمع الاندوجو ودول حوض النيل

١١ جهود مصر في كينيا والسودان ، وتحقيق التنمية المستدامة لحوض النيل

١٢ حضارة كوش والحضارة المصرية القديمة

١٣ الظروف المناخية في شرق ووسط افريقيا ومائية نهر النيل في مصر

١٤ الاقتصاد الازرق والموارد المائية في افريقيا ؟

١٥ الكشف الاثرية جنوب مصر وشهرة الملك توت عنخ امون

١٦ نقص الاخشاب بمصر في عهد الملك سنفرو والعلاقات بدول الجوار

١٧ الاسرة الخامسة ونصوص الاهرام

١٨ الملك مينا وعصر التأسيس

١٩ المقبرة وبناء الاهرامات

٢٠ الملك سنوسرت الثالث وازدهار التجارة الخارجية

٢١ الملك امنمحات الاول وحكام الاقاليم

٢٢ الملك سنوسرت الثالث وتأمين الحدود المصرية

٢٣ التعليم و الامن القومي المصري في عهد تحتمس الثالث



لاحظ الخريطة ثم أجب

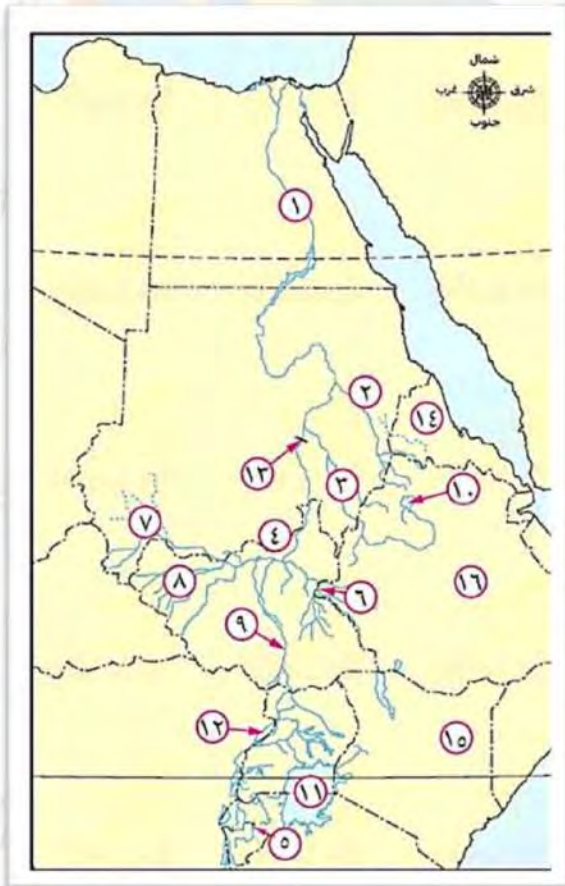
السؤال العاشر

١

- ١ حضارة قديمة.
- ٢ دولة وصل إليها ابن بطوطة
- ٣ سهول فيضية لنهر
- ٤ أحد المضائق الاستراتيجية
- ٥ جبال بركانية
- ٦ منطقة تعرضت لانكسارات أرضية
- ٧ خليج
- ٨ منطقة تأثيرات التوائية
- ٩ دولة حبيسة
- ١٠ جزيرة
- ١١ مضيق
- ١٢ هضبة

٢

- ١ أحد عوامل قيام الحضارة المصرية القديمة
- ٢ أحد الروافد الموسمية لنهر النيل
- ٣ النيل
- ٤ من روافد نهر النيل الذي وصل إليه محمد على
- ٥ يعد من روافد بحيرة فيكتوريا
- ٦ النهر الداعم لبحر الجبل
- ٧ بحر
- ٨ بحر
- ٩ بحر
- ١٠ بحيرة تقع ضمن الروافد الموسمية لنهر النيل
- ١١ ثاني أكبر بحيرة طبيعية عذبة في العالم
- ١٢ بحيرة
- ١٣ خزان أنشأته مصر
- ١٤ حضارة إفريقية قديمة
- ١٥ دولة تضيق عندها السهول الساحلية
- ١٦ دولة وقعت معها مصر اتفاقية عام 2015م

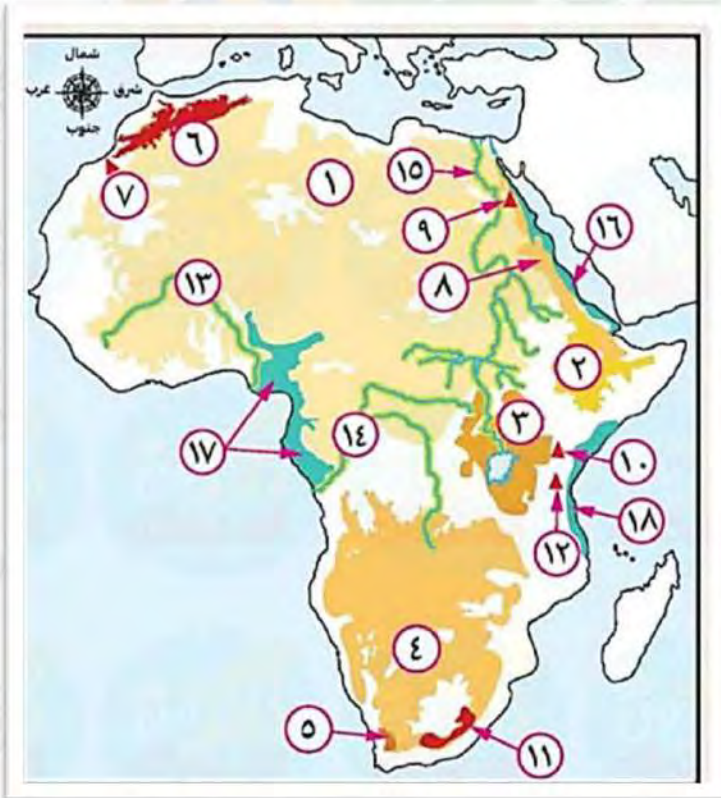


٣



- ١ نهر ينحدر من الغرب
- ٢ أحد السدود التي أنشأتها مصر
- ٣ حضارة
- ٤ بحيرة
- ٥ مدينة أنشأها الفينيقيون
- ٦ حضارة
- ٧ خزان
- ٨ حضارة
- ٩ دولة
- ١٠ المحيط
- ١١ المحيط
- ١٢ رأس

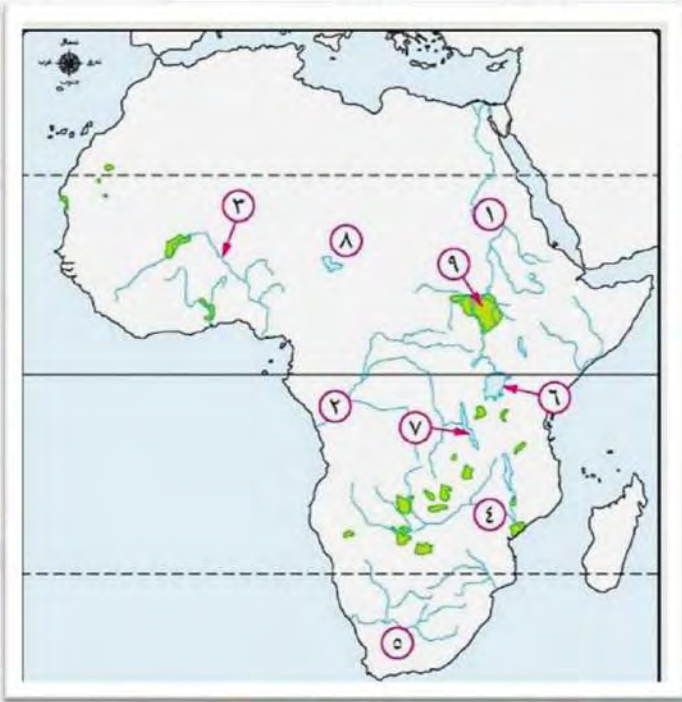
٤



- ١ أكبر هضاب القارة
- ٢ أعلى هضاب القارة
- ٣ بحيرة تنتشر بها قمم بركانية
- ٤ هضبة تنحدر نحو الشرق
- ٥ جبال التوائية
- ٦ جبال تقع في بلاد المغرب العربي
- ٧ أعلى قمة جبلية في سلسلة جبال أطلس
- ٨ جبال انكسارية
- ٩ أعلى قمة جبلية في سلسلة جبال البحر الأحمر
- ١٠ جبل بركاني
- ١١ جبل بركاني
- ١٢ أعلى قمة جبلية في إفريقيا

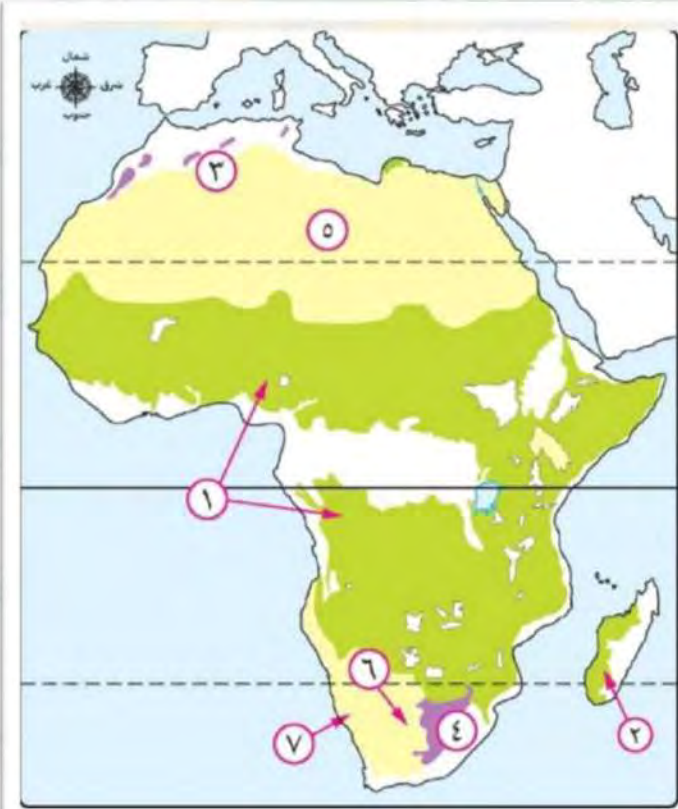


0



- ١ نهر
- ٢ أحد الأنهار الاستوائية
- ٣ نهر
- ٤ نهر
- ٥ نهر
- ٦ بحيرة تعد المنبع الدائم لنهر النيل
- ٧ بحيرة
- ٨ بحيرة
- ٩ مستنقعات مكشوفة

1



- ١ نظام حشائش
- ٢ نظام حشائش
- ٣ نظام حشائش معتدلة
- ٤ إقليم يجد به حشائش الاسبتس
- ٥ نظام صحراوي حار
- ٦ نظام صحراوي حار
- ٧ نظام صحراوي حار

انتهت الأسئلة مع اطيب الامنيات بالنجاح



El.Motamyez.School

بنك أسئلة التميز علي الفصل الدراسي الأول

اختر الاجابة الصحيحة

السؤال الأول

١. يحد قارة افريقيا من جهة البحر الاحمر و المحيط الهندي .
 ا. الشمال ب. الجنوب ج. الشرق د. الغرب
٢. تأتي قارة افريقيا في ترتيب المساحة بعد قارة :.....
 ا. أوروبا ب. أستراليا ج. أمريكا الجنوبية د. اسيا
٣. في عهد محمد علي تم رسم خريطة للنيل حتي جنوب
 ا. السودان ب. الصومال ج. النيجر د. إثيوبيا
٤. دخلت الحضارة الاسلامية الي قارة افريقيا عبر
 ا. مضيق جبل طارق ب. خليج غينيا ج. شبه جزيرة سيناء د. مضيق موزمبيق
٥. قامت حضارة في تونس .
 ا. كوش ب. بلاد الرافدين ج. أكسوم د. قرطاج
٦. من الدول العربية دولة
 ا. جيبوتي ب. نيجيريا ج. موزمبيق د. تشاد
٧. يصل مضيق جبل طارق بين البحر المتوسط و
 ا. المحيط الاطلنطي ب. خليج عدن ج. المحيط الهادي د. البحر الاحمر
٨. يمر في قارة افريقيا دوائر عرض رئيسية .
 ا. اربع ب. خمس ج. ثلاث د. سبع
٩. يمتد الأخدود الإفريقي العظيم في إفريقيا .
 ا. شمال ب. غرب ج. جنوب د. شرق
١٠. من الجبال التي نشأت نتيجة الثورات البركانية
 ا. جبل كلمنجارو ب. جبل شايب البنات ج. جبل توبقال د. جبل الكاب
١١. تنحصر هضبة سلاسل جبال أطلس .
 ا. نجد ب. الحبشة ج. الشطوط د. جنوب إفريقيا
١٢. أكبر صحاري العالم توجد علي هضبة :.....
 ا. الحبشة ب. شمال إفريقيا ج. البحيرات الاستوائية د. جنوب إفريقيا
١٣. ترجع خصوبة سهول نهر النيل الي الطمي الذي نقلته مياه نهر النيل من
 ا. هضبة الحبشة ب. هضبة شمال افريقيا ج. الهضبة الجنوبية د. هضبة الشطوط



- ١٤ تمند جبال شمال غرب قارة افريقيا .
 أ. دراكنزبرج ب. البحر الأحمر ج. أطلس د. الكاب
- ١٥ أي من الظواهر التضاريسية التالية تمتد في ثلاث دول عربية ؟
 أ. جبل العوينات ب. جبال البحر الاحمر ج. هضبة البحيرات الاستوائية د. سهول وادي النيل
- ١٦ أعلى قمة جبلية في جبال البحر الاحمر هو جبل :
 أ. توبقال ب. شايب البنات ج. كينيا د. كلمنجارو
- ١٧ شكلت دول حوض النيل عام 1983م تجمعا عرف باسم :
 أ. الكوميسا ب. الناتو ج. الأندوجو د. تحالف الصحراء
- ١٨ يعتبر نهر منبعا موسميا لنهر النيل .
 أ. كاجيرا ب. عطبرة ج. الزمبيزي د. النيجر
- ١٩ تسهم إثيوبيا في مياه النيل من خلال
 أ. نهر النيجر ب. نهر الكونغو ج. النيل الازرق د. نهر الزمبيزي
- ٢٠ تتميز حضارة قرطاج عن الحضارة المصرية القديمة ب.....
 أ. ارتباطها بنهر النيل ب. تركيزها علي الزراعة ج. نشأتها كمدينة تجارية د. تفوقها الثقافي
- ٢١ تم انشاء سد أوين بدولة
 أ. السودان ب. جمهورية الكونغو الديمقراطية ج. تنزانيا د. أوغندا
- ٢٢ من الجهود التي قامت بها مصر بدول حوض النيل حفر عشرات الابار في
 أ. رواندا ب. إريتريا ج. بروندي د. كينيا
- ٢٣ أقام الكوشيون علاقات تجارية من جهة الشرق مع
 أ. مصر ب. قرطاج ج. أكسوم د. اليونان
- ٢٤ العامل الذي يؤثر علي استدامة مياه نهر النيل بالنظر الي الاعتماد علي المنابع الاستوائية ...
 أ. القطرف المناخي وزيادة البخر ب. تغير المناخ وانخفاض الأمطار ج. النشاط البشري والعمراني د. العلاقات السياسية بين الدول
- ٢٥ أقام الملك زوسر هرمه المدرج في
 أ. منف ب. بوتو ج. نخب د. سقارة
- ٢٦ اعتمد الملك سنفرو علي جلب خشب الارز من
 أ. النوبة ب. سيناء ج. بون د. فينيقيا
- ٢٧ أحد ملوك عصر الدولة القديمة وهو اول من كتب نصوص الاهرام
 أ. خوفو ب. خفرع ج. سنفرو د. أوناس
- ٢٨ انتهى عصر الاضمحلال الأول وتوحدت البلاد مرة اخري علي يد ملوك الاسرة
 أ. السادسة ب. السابعة ج. العاشرة د. الحادية عشرة



- ٣٩ أسس الملك مدينة منف (من-نفر) لتكون عاصمة مصر .
 ١ رمسيس الثاني (ب) زوسر (ج) نعرمر (ميناء) (د) سنفرو
 قام الوزير بتشديد هرم للملك زوسر .
 ٣٠ ١ خفرع (ب) رع (ج) إيموحتب (د) أوسركاف
 من أشهر الرحلات التي أرسلتها الدولة القديمة لإفريقيا رحلات الرحالة :.....
 ٣١ ١ ابن بطوطة (ب) (حر-خوف) (ج) المسعودي (د) إيموحتب
 كانت مقبرة الملك نعرمر عبارة عن
 ٣٢ ١ هرم مدرج (ب) ست مصاطب (ج) هرم كامل (د) مصطبة واحدة
 يستدل من المسمي الذي أطلق علي عصر الدولة القديمة أن هذا العصر تميز ب.....
 ٣٣ ١ الازدهار المعماري (ب) النشاط العسكري (ج) التطور الديني (د) الازدهار التجاري
 سقطت مصر في يد الهكسوس نتيجة
 ٣٤ ١ الأزمة الاقتصادية (ب) الصراعات السياسية (ج) الثورة الدينية (د) الثورة الاجتماعية
 بعد وفاة أمنمحات الرابع ظهر تقدير المصري القديم لدور المرأة من خلال
 ٣٥ ١ توليها الحكم (ب) قيادتها للجيش (ج) فرضها للضرائب (د) حكمها للأقاليم
 أي من ملوك الدولة القديمة أطلق عليه لقب (المحسن المحبوب) ؟.....
 ٣٦ ١ زوسر (ب) سنفرو (ج) خوفو (د) خفرع
 الشعوب التي مثلت خطرا علي الحدود الغربية لمصر في عصر الأسرة الثانية عشرة هم
 ٣٧ ١ الليبيين (ب) الاسيويين (ج) النوبيين (د) الفينيقيين
 أكثر الاماكن المصرية الحالية مساهمة في تحقيق الأمن الغذائي لمصر أيام الملك أمنمحات الثالث
 ٣٨ ١ الفيوم (ب) الصحراء الشرقية (ج) الصحراء الغربية (د) شبه جزيرة سيناء
 أي من ملوك الدولة الوسطي ساهمت احدي أعماله في زيادة حركة التجارة بين مصر وجيرانها ؟.....
 ٣٩ ١ منتوحتب الثاني (ب) سنوسرت الثالث (ج) أمنمحات الثالث (د) أمنمحات الأول
 استكملت الملكة سبك نفرو بناء هرم والداها في منطقة
 ٤٠ ١ هواره (ب) دهشور (ج) سقارة (د) أبي صير
 أي من ملوك الدولة الوسطي يتشابه مع الملك مينا في اعادة توحيد البلاد ؟.....
 ٤١ ١ الملك منتوحتب الثاني (ب) الملكة سبك سنفرو (ج) الملك سنوسرت الثالث (د) الملك امنمحات الثالث
 اتخذ الهكسوس من مدينة عاصمة لهم .
 ٤٢ ١ (من -نفر) (ب) إثيت تاوي (ج) أواريس (د) طيبة
 العلاقات التجارية بين مصر في عهد الملكة حتشبسوت وبلاد بونت تم تخليدها علي جدران معبد
 ٤٣ ١ الكرنك (ب) أبو سمبل (ج) الدير البحري (د) أبيدوس
 اختار المهندس إنيني وادي الملوك ليدفن فيه الملك
 ٤٤ ١ تحتمس الاول (ب) توت عنخ امون (ج) رمسيس الثاني (د) رمسيس الثالث



- ٤٥ (أ) الملك الذي وضع حجر الأساس لمعبد أبيدوس (ب) توت عنخ امون (ج) رمسيس الثالث (د) سيتي الأول
- ٤٦ (أ) تختلف رمسيس الثاني عن سابقيه من ملوك الدولة الحديثة في (ب) تحقيق الانتصارات (ج) حماية حدود البلاد (د) إرسال قواعد الحرب والسلام
- ٤٧ (أ) أرسلت الملكة حتشبسوت بعثة تجارية الي بلاد (ب) العراق (ج) فينيقيا (د) بونت
- ٤٨ (أ) بدأ الملك ستي الاول بناء معبد (ب) واكملة ابنه رمسيس الثاني . (ج) الكرنك (د) الدير البحري
- ٤٩ (أ) حدثت الثورة الدينية بمصر القديمة في عهد الملك : (ب) أحمس (ج) توت عنخ امون (د) اخناتون
- ٥٠ (أ) من أسباب اختلال النظام البيئي الطبيعية : (ب) ازاله الغابات (ج) الرعي الجائر (د) الحروب الحديثة
- ٥١ (أ) من الحيوانات التي تعيش في غابات البحر المتوسط : (ب) النمر (ج) التماسيح (د) الثعالب
- ٥٢ (أ) يتكون النظام البيئي من مكونات حيه مثل (ب) المياه (ج) المعادن (د) التربة
- ٥٣ (أ) تنمو العديد من الاشجار في نظام غابات البحر المتوسط مثل (ب) الأبنوس (ج) الصنوبر (د) الماهوجني
- ٥٤ (أ) الدولة التي تخلو من وجود أشجار الغابات المدارية المطيرة بها (ب) موريثانيا (ج) الكونغو الديمقراطية (د) الجابون
- ٥٥ (أ) التربة في الغابات المدارية المطيرة معظمها ذات لون: (ب) أحمر (ج) أخضر (د) أصفر
- ٥٦ (أ) التربة البيضاء هي التي ترتفع بها نسبة (ب) أكسيد الحديد (ج) المواد الجيرية (د) المواد العضوية
- ٥٧ (أ) أي من النظم التالية ينتمي الي النظم البيئية المائية ؟ (ب) نظام حشائش السافانا (ج) نظام حشائش الإستبس (د) الغابات المدارية المطيرة
- ٥٨ (أ) تتسم تربة كل من الاستبس والسافانا بغناها بـ (ب) المواد الكيميائية (ج) المواد العضوية (د) التكوينات الصخرية
- ٥٩ (أ) يقع اقليم الفلد بقارة افريقيا بالجهة (ب) الشمالية (ج) الجنوبية (د) الشرقية
- ٦٠ (أ) من المخاطر الطبيعية التي يتعرض لها نظام الحشائش الحارة (ب) الصيد الجائر (ج) النشاط التعديني (د) زيادة الأملاح في التربة
- ٦١ (أ) الرعي الجائر (ب) الرعي الجائر (ج) الرعي الجائر (د) الرعي الجائر



٦١. تقل الحيوانات بوضوح في نظام.....
 أ. الحشائش البستانية ب. الحشائش الحارة ج. الصحاري الحارة د. الحشائش المعتدلة
٦٢. تنمو حشائش السافانا الغنية بالقرب من.....
 أ. غابات البحر المتوسط ب. الغابات النفضية ج. الغابات المدارية المطيرة د. الغابات الصنوبرية
٦٣. تشغل حشائش الإستبس مساحة صغيرة في اقليم الفلد بدولتي جنوب افريقيا و.....
 أ. ليسوتو ب. تنزانيا ج. أنجولا د. النيجر
٦٤. تتعرض الكثير من الحيوانات لخطر الانقراض في نظام الصحاري الحارة نتيجة.....
 أ. حدوث الجفاف ب. الصيد الجائر ج. ندرة النبات الطبيعي والجفاف د. ندرة النبات الطبيعي والفيضانات
٦٥. من النباتات التي تنمو في اقليم الصحاري الحارة :
 أ. القطن ب. نبات السيلال ج. أشجار السنط د. الذرة
٦٦. يعيش في الصحراء الكبرى وهو معرض للانقراض .
 أ. صقر الجديان الافريقي ب. الفيل الافريقي ج. القردة د. طائر الحباري
٦٧. يعد من العادات التي حث عليها الاسلام في افريقيا .
 أ. لعب الميسر ب. التعصب الديني ج. الأخذ بالنأر د. التضامن الاجتماعي
٦٨. تقع واحة سيوة بمصر ضمن نظام :.....
 أ. الاستبس ب. الصحاري الحارة ج. السافانا د. الغابات المعتدلة
٦٩. من أمثلة المستنقعات المغطاة بالنباتات مستنقعات في شرق ووسط وجنوب افريقيا.
 أ. السد ب. نبات البردي ج. نبات الصبار د. المانجروف
٧٠. حرص حكام الحبشة علي الاستفادة من الخبرات الحربية المصرية بشكل واضح خلال
 أ. عهد النبي (ص) ب. عصر الخلفاء الراشدين ج. عصر الدولة الاموية د. عصر دولة المماليك
٧١. تم اعلان عدد من المدن الصديقة للبيئة مثل مدينة :
 أ. القاهرة ب. العلمين الجديدة ج. الاسكندرية د. الجيزة
٧٢. من نظم الاراضي الرطبة المالحة في وسط ساحل شمال سيناء بحيرة :.....
 أ. المنزلة ب. البردويل ج. البرلس د. إدكو
٧٣. من العوامل الطبيعية التي تؤثر بالسلب علي اشجار المانجروف
 أ. التغيرات المناخية ب. الرعي الجائر ج. التوسع العمراني د. التنمية السياحية
٧٤. وقعت بعض الدول الافريقية مبادرة لتوسيع الحصول علي الطاقة الخضراء مستغلة
 أ. الرياح ب. الشمس ج. الأنهار د. البحار
٧٥. تنمو السافانا البستانية في مناطق أقرب الي
 أ. دائرة الاستواء ب. مدار الجدي ج. مدار السرطان د. الدائرة القطبية



- ٧٦ أحد نظم المياه المالحة في افريقيا
 أ. نهر النيجر ب. الشعاب المرجانية ج. بحيرة تشاد د. المستنقعات المغطاة
- ٧٧ احدي النظم النهرية في قارة امريكا الجنوبية
 أ. نهر النيل ب. نهر النيجر ج. نهر الامازون د. نهر الدنوب
- ٧٨ محمية طبيعية في مصر تنتشر بها شجيرات المانجروف
 أ. البردويل ب. علبة ج. المنزلة د. العلمين
- ٧٩ عرفت افريقيا قديما الاسلام لأول مرة عن طريق بلاد
 أ. النوبة ب. الحبشة ج. بونت د. مصر
- ٨٠ بدأ الفتح الاسلامي لمصر في عهد
 أ. الدولة الأموية ب. الدولة العباسية ج. الخلفاء الراشدين د. الدولة الفاطمية
- ٨١ أول جيش اسلامي وصل الي مدينة برقة كان بقيادة
 أ. عمرو بن العاص ب. عبد الله بن أبي السرح ج. خالد بن الوليد د. عبد الملك بن مروان
- ٨٢ تم فتح مصر في عهد الخليفة :
 أ. عمر بن الخطاب ب. عثمان بن عفان ج. علي بن ابي طالب د. عمر بن عبد العزيز
- ٨٣ اصبحت اللغة العربية لغة رئيسية بجانب اللغة الاصلية لسكان بعض الدول الإفريقية مثل
 أ. تنزانيا ب. مالي ج. الصومال د. اليمن
- ٨٤ اصبحت اللغة العربية هي اللغة الرسمية في بعض الدول الافريقية مثل :
 أ. موريتانيا ب. اليمن ج. نيجيريا د. موزمبيق
- ٨٥ مهد فتح الطريق امام المسلمين لفتح بلاد المغرب علي يد قادة مسلمين مثل: عقبة بن نافع وموسي بن نصير.
 أ. مالي ب. نيجيريا ج. سببيلة د. الرباط
- ٨٦ كان افريقيا أولي المناطق التي مهدت الطريق لانتشار الاسلام في افريقيا بحكم الموقع الجغرافي القريب من شبه الجزيرة العربية
 أ. وسط ب. جنوب ج. غرب د. شرق
- ٨٧ استوردت مصر من افريقيا :
 أ. أدوات الزينة ب. مصنوعات الزجاج ج. المصنوعات الذهبية د. ريش النعام
- ٨٨ يعد الواردات المصرية من الدول الافريقية
 أ. الأواني النحاسية ب. المصنوعات الحديدية ج. الزجاج د. الصمغ
- ٨٩ ساهم في تطوير الجوانب الإدارية بالحبشة .
 أ. الأيوبيون ب. العباسيون ج. المماليك د. الفاطميون
- ٩٠ فضل ملوك وحكام الدول الافريقية المنتجات المصرية بسبب
 أ. رخصها ب. سهولة نقلها ج. جودتها د. ندرتها



- ٩١ أصبحت مدينة عاصمة الخلافة العباسية بعد سقوط الخلافة في بغداد .
 أ الاسكندرية ب القاهرة ج القدس د دمشق
- ٩٢ خصص رواق الجبرية للطلاب الوافدين من بلاد وسواحل البحر الاحمر .
 أ غانا ب تنزانيا ج الحبشة د السنغال

ضع علامة صح أو خطأ أمام العبارات التالية

السؤال الثاني

- ١ تعد قارة افريقيا ثاني قارات العالم من حيث المساحة
- ٢ تم انتخاب مصر لرئاسة الاتحاد الافريقي عام 2019
- ٣ يعد الحفاظ علي أمن سيناء ضرورة للحفاظ علي الامن القومي المصري
- ٤ يفصل المحيط الهادي قارة افريقيا عن الامريكتين
- ٥ جميع الدول التي تمر بها مدار السرطان بقارة افريقيا دول بحرية
- ٦ وصل المصريون القدماء الي منطقة السودان والقرن الافريقي
- ٧ يمر خط جرينتش غرب قارة افريقيا
- ٨ تعمل مصر علي تدعيم علاقتها مع دول وشعوب القارة الافريقية
- ٩ ارتفاع جبل كلمنجارو هو السبب الرئيسي في جعل قمته منخفضة الحرارة
- ١٠ يقع جبل شايب البنات في قارة افريقيا ناحية الغرب
- ١١ اتجه حركة مياه النيل من الجنوب الي الشمال جعل سهول وادي النيل بمصر أرضا صالحة للزراعة .
- ١٢ وصلت القوافل العربية في العصور الوسطي الي السودان وبلاد الحبشة وجزر القمر
- ١٣ اصبحت هضبة الحبشة الاثيوبية صالحة للزراعة بسبب الطفوح البركانية
- ١٤ تعد جبال اطلس السبب الرئيسي في سهول البحر المتوسط في بلاد المغرب العربي
- ١٥ يعتبر الاقتصاد الازرق الداعم الرئيسي لتحقيق الاكتفاء الذاتي من الغذاء بإفريقيا
- ١٦ تعد جبل الكاب أعلي قمة جبلية في سلسلة جبال أطلس .
- ١٧ أقامت مصر سد أوين لصالح دولة اوغندا .
- ١٨ يعد نهر السوبات من المنابع الدائمة لنهر النيل .
- ١٩ تختلف سهول المحيط الهندي من مكان لآخر من حيث الاتساع .
- ٢٠ تعتمد الزراعة في السهول الساحلية شمال افريقيا علي الامطار الصيفية
- ٢١ أخذ الكوشيون من الحضارة المصرية القديمة بعض المعبودات مثل رع وامون رع.
- ٢٢ قامت مصر بإنشاء مركز للبحوث المائية في تنزانيا تحقيقا لمفهوم الاقتصاد الاخضر.





- ٣٥ هناك علاقة بين استقرار حياة المصري القديم ونهر النيل .
- ٣٤ سيطرت حضارة اكسوم بحكم موقعها الجغرافي علي منابع النيل الموسمي.
- ٣٥ ظهرت متون الاهرام للمرة الاولى في بداية الاسرة الرابعة.
- ٣٦ برع المصري القديم في نحت الصخور الصلبة مثل صخور الديوريت .
- ٣٧ ازدهرت التجارة الخارجية لمصر في عهد الملك خوفو .
- ٣٨ استخدم الفنان المصري القديم الألوان لتصميم صور جدارية علي جدران المعابد .
- ٣٩ كان الصقر شعارا لملوك مصر وكذلك ملوك أوغندا.
- ٣٨ انتشرت الآلات موسيقية مصرية في غرب افريقيا.
- ٣٦ سادت الصداقة والتعاون والتبادل الثقافي بين مصر وإفريقيا في عصر الدولة القديمة .
- ٣٣ ازدهرت مصر في عهد الملك سنفر و اجتماعيا وتجاريا وفنيا و عمرانيا
- ٣٣ اتسعت رقعة الاراضي لمصر خلال عصر الملك أمنمحات الثالث شرق وادي النيل
- ٣٤ عمل ملوك الاسرة السابعة عشرة علي تشجيع الشعور الوطني لمواجهة الهكسوس
- ٣٥ أقام ملوك الدولة الوسطي الحصون من الجندل الاول حتي الجندل الثالث
- ٣٦ عمل كامس علي تأمين الحدود الجنوبية لمصر
- ٣٧ استكملت الملكة سبك نفرو هرم اخيها في منطقة هواره
- ٣٨ يسمى عصر الاسرة الـ 17 الفرعونية بعصر الشهداء
- ٣٩ كانت بلاد بونت ترسل الامدادات للهكسوس في مصر
- ٤٠ للمرأة المصرية قديما دور عسكري مشرف مثل اياح حتب
- ٤١ سمي عصر الدولة الحديثة بعصر الرخاء الاقتصادي
- ٤٢ أقام الملك تحتمس الأول أول معاهدة سلام دولية مسجلة في التاريخ
- ٤٣ أطلق علي فترة حكم الملك رمسيس الثاني عصر الامبراطورية الثانية
- ٤٤ قام الملك إخناتون بالدعوة الي عبادة إله واحد هو أتون
- ٤٥ سبب شهرة الملك توت عنخ امون هو اكتشاف مقبرته بالكامل عام 1922م
- ٤٦ نجح ملوك الاسرة السادسة والعشرين في استعادة نفوذ مصر بإفريقيا
- ٤٧ دعا الملك أمنحتب الرابع الي عبادة الاله امون
- ٤٨ يعد الملك زوسر أول من استطاع تغيير الشكل الهندسي للمقابر الملكية.
- ٤٩ يتفاوت حجم النظم البيئية في العالم .
- ٥٠ تنتشر غابات البحر المتوسط في جزيرة مدغشقر .
- ٥١ تنتج غابات حوض نهر الكونغو كميات قليلة من الأكسجين .
- ٥٢ من النظم البيئية الأرضية الصحاري
- ٥٣ قد تحدث حرائق الغابات بسبب التغير المناخي



- ٥٤ يعد الغطاء النباتي أحد أمثلة النظم البيئية الارضية
- ٥٥ القاء مخلفات المصانع في البحار أحد الاسباب الطبيعية لاختلال التوازن البيئي
- ٥٦ تتعرض أنواع كثيرة من حيوانات افريقيا لخطر الانقراض بسبب التوسع العمراني
- ٥٧ تعد حرفتي الزراعة والرعي حرف رئيسية لسكان بيئة حشائش الإستبس
- ٥٨ تقع الصحاري الكبرى جنوب قارة افريقيا
- ٥٩ تعتبر الابل من الحيوانات التي تتكيف مع الظروف المناخية القاسية في نظام الصحاري الحارة
- ٦٠ الصبار والتين الشوكي من النباتات التي توجد بالنظام الصحراوي الحار
- ٦١ اصبحت هضبة الحبشة الاثيوبية صالحة للزراعة بسبب الطفوح البركانية
- ٦٢ تتسم النظم الصحراوية في العالم بالجفاف وقلة الأمطار
- ٦٣ يتباين النبات الطبيعي الذي ينمو في نظام الحشائش المعتدلة باختلاف نسبة الأمطار
- ٦٤ ينذر المطر في نظام الصحاري الحارة وقد يسقط علي هيئة سيول تضر بالأنشطة البشرية
- ٦٥ تحتوي النظم البيئية المائية علي العديد من الأملاح والمعادن
- ٦٦ تم اعلان جميع مناطق المانجروف في مصر محميات طبيعية
- ٦٧ تمثل الاراضي الرطبة العذبة نحو 1% من مساحة القارة
- ٦٨ تعمل اشجار المانجروف علي حماية الشواطئ من التآكل والتعرية
- ٦٩ تتمتع محمية رأس محمد بتنوع بيئي متميز من شعاب مرجانية والمانجروف
- ٧٠ حدث انقراض جماعي للفقاريات في بحيرة فيكتوريا
- ٧١ صنفت منظمة الفاو منطقة حوض اركين كأحد مناطق التراث العالمي
- ٧٢ تقع مستنقعات نبات البردي في شرق ووسط وشمال قارة افريقيا
- ٧٣ اختلطت عرب شبه جزيرة سيناء العربية بإفريقيا قديما وتزوجوا منها
- ٧٤ كان الدعاة يحظون بنوع من التقدير والاحترام بين القبائل الاسلامية في افريقيا
- ٧٥ كان التجار المسلمون يرسلون السكان الأصليين في افريقيا لمصر لتلقي العلم
- ٧٦ رحب أهل برقة بالفتح الاسلامي كما رحب أهل مصر
- ٧٧ منح الاسلام في افريقيا للمرأة الحرية في اختيار الزوج وحدد عدد الزوجات
- ٧٨ وصي النبي (ص) اصحابه بالهجرة الاولى الي بلاد الحبشة
- ٧٩ قام الخليفة عبد الملك بن مروان بإرسال البنائين الي الساحل الغربي الافريقي ليساهموا في بناء المدن هناك .
- ٨٠ تم فتح مصر في عهد الخليفة عثمان بن عفان
- ٨١ خصص رواق الجبرية للطلاب الوافدين من الحبشة وسواحل البحر المتوسط





- ٨٢ اكتسب معظم المطارنة المصريين مكانة رفيعة تلي مكانة الوزير بالحبشة خلال العصور الوسطي .
- ٨٣ وجدت عملات تاريخية مصرية في مناطق من الساحل الغربي الافريقي تعود للعصور الوسطي
- ٨٤ أثر الأزهر الشريف علي اساليب التدريس وتلقي العلم في المدارس والمساجد الافريقية
- ٨٥ اتخذ سلاطين المماليك في مصر مدينة الاسكندرية مقرا لحكمهم
- ٨٦ لم يحدث اتصال بين الكنيسة المصرية والكنيسة الحبشية
- ٨٧ أصبحت دمشق عاصمة الخلافة العباسية بعد سقوط الخلافة في بغداد
- ٨٨ تعد ادوات الزينة من السلع التي حملها التجار المصريون للدول الافريقية

اكمل العبارات التالية بالاجابة المناسبة مما بين القوسين

السؤال الثالث

- ١ امتدت المماليك الاسلامية في افريقيا حتي وصلت الي هضبة **البحيرات الاستوائية**
- ٢ امتد التأثير الحضاري المصري في افريقيا الي اعالي منابع **النيل الاستوائية** .
- ٣ دارت معركة **قادش** بين رمسيس الثاني والحيثيين .
- ٤ وصل حكم **الخدوي اسماعيل** الي جنوب دائرة الاستواء.
- ٥ ارسل الملك الفرعوني **نخاو الثاني** بعثة للدوران حول افريقيا استمرت ثلاث سنوات .
- ٦ توجد السافانا الفقيرة بالقرب من **النظام الصحراوي** .
- ٧ من أمثلة تربة الصحاري الحارة التربة **الحصوبة** والتربة **الرملية** .
- ٨ ينتشر نظام حشائش الاستبس في المناطق ذات المناخ **المعتدل** .
- ٩ يعمل معظم السكان في نظام حشائش الاستبس بالرعي و **الزراعة** .
- ١٠ تتسم تربة حشائش السافانا باللون **الاسود** .
- ١١ يقطع نحو **ثلثي** من مساحة القارة الافريقية في نصف الكرة الارضية الشمالي
- ١٢ يحد قارة افريقيا من جهة الغرب المحيط **الاطلنطي**.
- ١٣ بدأ البرتغاليون محاولاتهم لاكتشاف إفريقيا في القرن الـ ١٥ خلال عهد **الامير هنري الملاح**.
- ١٤ يعتبر جبل **توبقال** بالمغرب أعلي قمة جبلية في سلسلة الجبال الالتوائية .
- ١٥ من الجبال البركانية في وسط افريقيا **كينيا** وكلمنجارو .
- ١٦ يعتبر جبل **شايب البنات** بمصر أعلي قمة جبلية في سلسلة الجبال الانكسارية .
- ١٧ **الاقتصاد الأزرق** يعني استثمار الموارد المائية بشكل مستدام لتحقيق التنمية المستدامة.
- ١٨ تمتد جبال اطلس بقارة افريقيا علي طول الساحل **الشمالي الغربي** للقارة.



- ١٩ المضيق الذي يفصل جزيرة مدغشقر عن يابس القارة الافريقية **موزمبيق**
- ٢٠ تمتاز هضبة الحبشة بخصوبة تربتها بسبب **الطفوح البركانية** .
- ٢١ توجد جبال **دراكنزبرج** البركانية جنوب قارة افريقيا
- ٢٢ تم تأسيس مدينة قرطاج لتأمين رحلات الفينيقيين التجارية من فينيقيا الي **اسبانيا** .
- ٢٣ تمركزت حضارة كوش في بدايتها في مدينة **نبته** ثم انتقلت الي **مروي**.
- ٢٤ قامت مصر بدفع تكاليف انشاء خزان **جبل الاولياء** في السودان لتوليد الطاقة الكهربائية
- ٢٥ يعد **الهرم المدرج** أول بناء حجري ضخيم قى التاريخ .
- ٢٦ كان من أشهر صادرات حضارة أكسوم معدن **الذهب**.
- ٢٧ قامت مصر بإنشاء خزان **سنار** علي النيل الازرق.
- ٢٨ شكلت دول حوض النيل عام 1983م تجمعا عرف بـ **الاندوجو** .
- ٢٩ يلتقي نهر السوبات مع **بحر الجبل** ويمده بالمياه فيسترد النيل قوته.
- ٣٠ كانت أبرز صادرات حضارة أكسوم وأعلهاها قيمة اقتصادية **الذهب** و **العاج** .
- ٣١ استطاع المصري القديم استخدام أصلب أنواع الحجر في نحت التماثيل مثل حجر **الديوريت**
- ٣٢ يعد الملك **أوسركاف** مؤسس الأسرة الخامسة
- ٣٣ اهتم المصريون القدماء بنحت التماثيل مثل التماثيل **الملكية** وتماثيل **النبلاء**
- ٣٤ اهتم المصريون القدماء ببناء المعابد مثل معابد **الالهة** و المعابد **الجنائزية**
- ٣٥ شيد الملك أوسركاف معابد **الشمس** في أبي صير بالجيزة
- ٣٦ شيد الملك توت عنخ امون معابد في مصر و **شمال السودان** .
- ٣٧ أمر الملك رمسيس الثاني بنحت معبدتين في منطقة **ابوسمبل** أحدهما له الآخر لزوجته .
- ٣٨ بدأ عصر الدولة الحديثة بطرد **الهكسوس** من مصر .
- ٣٩ قام الملك **امنمحتب الرابع** (**اخناتون**) بالدعوة الي عبادة له في مصر .
- ٤٠ سيطر تحتمس الثالث بأسطوله الحربي علي الكثير من جزر **البحر المتوسط** و ساحل **فينيقيا** .
- ٤١ انتشرت الفوضى في نهاية عصر الدولة القديمة خاصة في عهد الملك **بيبي الثاني**
- ٤٢ يبدأ عصر الاضمحلال الاول من الاسرة **السابعة** حتي الاسرة **العاشرة**
- ٤٣ ارسل منتوحتب الثاني بعثة تجارية الي بلاد **بونت** عبر الصحراء
- ٤٤ قام الملك أمنمحات الاول بنقل العاصمة من طيبة الي مدينة **اثيث تاوي**
- ٤٥ قام الملك سنوسرت الثالث ببناء حصني **سمنة** و **قمنة** عند الجندل الثاني



- ٤٦ كان الملك **سقن رع** أول من بدأ النضال الحقيقي لتحرير البلاد من الهكسوس
- ٤٧ تولت الملكة سبك نفرو حكم مصر عقب وفاة الملك **امنمحات الرابع** .
- ٤٨ استطاع الملك **منتوحتب الثاني** اصلاح النظام الاداري للدولة.
- ٤٩ أنشأ الملك سنوسرت الثالث حصونا في جنوب مصر عند **الجنبد الثاني** .
- ٥٠ أصبحت مدينة **نبته** في السودان ضمن حدود مصر في عهد تحتمس الأول .
- ٥١ من التهديدات البشرية التي تتعرض لها الشعاب المرجانية الصيد باستخدام **المتفجرات** و **ردم الشواطئ** .
- ٥٢ استطاع **الكوشيون** السيطرة علي معظم ارض مصر و تكوين الاسرة الخامسة والعشرين .
- ٥٣ تتميز تربة الغابات المدارية المطيرة باللون **الاحمر** في معظمها.
- ٥٤ يتميز مناخ نظام البحر المتوسط بأنه **حار جاف** صيفا **دافئ ممطر** شتاء.
- ٥٥ يعد **التغير المناخي** من أسباب تعرض كثير من الحيوانات في افريقيا للانقراض .
- ٥٦ يتسم المطر في الغابات المدارية المطيرة ، بأنه **غزير طوال العام** .
- ٥٧ ترتفع الرطوبة النسبية في نظام الغابات المدارية المطيرة بسبب **كثرة التبخر** .
- ٥٨ تنمو غابات البحر المتوسط بجنوب غرب قارة افريقيا في **منطقة الكاب** .
- ٥٩ من الحيوانات اكلة العشب التي تعيش في نظام السافانا **الفيل الافريقي** و **الزرافات** .
- ٦٠ يقتصر وجود التربة الخصبة في الصحراء الكبرى علي بعض الأراضي داخل **الواحات** .
- ٦١ تنقسم النظم الصحراوية في العالم الي صحاري الحارة و **صحاري معتدلة** و **صحاري قطبية** .
- ٦٢ يتسم مناخ النظم الصحراوية في العالم بقلّة **الامطار** و ارتفاع **الحرارة** .
- ٦٣ يطلق علي نظام الحشائش المعتدلة اسم **الاستبس** .
- ٦٤ تصلح تربة السافانا لزراعة **القطن** و **الذرة** .
- ٦٥ تعد قارة افريقيا من أكثر المناطق تضررا من الفيضانات وتأتي في المرتبة **الثانية** .
- ٦٦ تعددت أساليب انتشار الاسلام في افريقيا ومنها **الدعاة** و **التجار المسلمون** .
- ٦٧ تم فتح مدينة سببيلة في عهد الخليفة **عثمان بن عفان** .
- ٦٨ انتشرت العديد من العلوم في قارة افريقيا بعد انتشار الاسلام بها مثل **علم الفقه** و **التفسير** و **المنطقة** .
- ٦٩ بعد استقرار الأمر لعمر بن العاص في مصر اتجه بجيشه نحو اقليم **برقه** غربا
- ٧٠ نظم الاسلام الاسرة فمنح الام الحق في **حضانة الاطفال** .
- ٧١ حرص سكان افريقيا علي اقامة الشعائر الاسلامية فتعلموا اللغة **العربية** .
- ٧٢ من الممالك والسلطنات الاسلامية في قارة افريقيا مملكة **غانا** و مملكة **مالي** .



- ٧٣ من القادة المسلمين الذين ساهموا في فتح شمال افريقيا **عقبة بن نافع** ، **موسي بن نصير** .
- ٧٤ ساعد دخول الاسلام في قارة افريقيا علي تحول الحياة **القبلية** القائمة علي الحروب والعصبية الي نظام **الدولة**
- ٧٥ انتشر الاسلام في افريقيا بسبب **سماحة الاسلام** و دعوته للعدل و المساواة .
- ٧٦ نجح الملك منتوحتب الثاني في الإنتصار علي ملوك **اهانسيا** في الشمال .
- ٧٧ من أهمية اشجار المانجروف انها تنقي الهواء من **الكربون**
- ٧٨ من أشهر المحميات الطبيعية في مصر والتي تضم اشجار المانجروف محمية **نبق** ومحمية **علبه** ومحمية **حماطة** .
- ٧٩ تعد بعض نظم الاراضي الرطبة المالحة محميات الوطنية لحوض اركين في دولة **موريتانيا** .
- ٨٠ يقع نهر الامازون في قارة **امريكا الجنوبية** .
- ٨١ توجد نظم بيئية صغيرة المساحة مثل **البرك** .
- ٨٢ تعد قارة افريقيا **أقل** القارات في انبعاثات الحرارة .
- ٨٣ تأثر ملوك **بلاد الحبشة** بالممالك في وضع القوانين لحماية أموال الدولة .
- ٨٤ تولت مصر حماية **الحرمين الشريفين** و الاماكن المقدسة في ظل الخلافة العباسية
- ٨٥ ساهم الممالك في تطوير الجوانب الادارية بالحبشة حيث نظموا طرق **جباية الاموال** .
- ٨٦ عادت بعض المعابد المصرية في حضارة السودان مثل **امون - ايزيس**
- ٨٧ من أشهر الأورقة التي خصصت لطلاب الأزهر من شمال افريقيا رواق **المغاربة** .
- ٨٨ بعد دخول الاسلام الي افريقيا تحولت الحياة القبلية بها الي نظام **الدولة** .
- ٨٩ يستخرج من النظام البيئي المائي في افريقيا العديد من الأملاح مثل **الماغنسيوم** .
- ٩٠ تنقسم النظم المائية تبعا لنسبة **الاملاح بالمياه** .

اكتب ما تشير اليه العبارات التالية

السؤال الرابع

- ١ دائرة عرض رئيسية تمر في وسط القارة الافريقية تقريبا .
 - ٢ رواق خصص لطلاب شمال افريقيا و بلاد المغرب المغربي .
 - ٣ طريق اكتشفه البرتغاليون للدوران حول افريقيا .
 - ٤ خليفة تم في عهده فتح مصر .
 - ٥ مجموع الانتاج الثقافي والانتاج المادي الذي يميز مجتمعا عن غيره .
 - ٦ أهم المساجد بدولة مالي أقيمت فيها دروس جميع العلوم الاسلامية وتحول إلى جامعة
 - ٧ تولت مسئولية حماية المحرمين الشريفين و الاماكن المقدسة في ظل حكم الخلافة العباسية.
- دائرة الاستواء
رواق المغاربة
رأس الرجاء الصالح
عمر بن الخطاب
حضارة
جامع سنكوري
مصر



- ٨ أعلى قمة جبلية في جبال أطلس .
- ٩ مدينة بشمال افريقيا كانت محاطة بالاسوار وحاصرها المسلمون شهر لفتحها في شمال أفريقيا.
- ١٠ احدي مشروعات الري أقيم بالقرب من نقطة التقاء النيل الازرق بالنيل الابيض .
- ١١ نظام بيئي يتسم بالجفاف وقلة الامطار وارتفاع المدي الحراري اليومي والسنوي .
- ١٢ احدي الاتفاقيات التي نصت علي عدالة استخدام مياه نهر النيل .
- ١٣ أكبر النظم البيئية في العالم .
- ١٤ أصلب أنواع الحجر الذي استخدمه الفنان المصري القديم في نحت التماثيل
- ١٥ الفرق بين متوسط درجة الحرارة بالنسبة لأعلى شهور السنة وأدنى شهور السنة حرارة .
- ١٦ أول بناء حجري ضخيم في التاريخ .
- ١٧ معبد صورت الملكة حتشبسوت رحلتها الي بلاد بونت عليه .
- ١٨ دولة قامت بإمداد الهكسوس بالمؤن فترة احتلالهم لمصر .
- ١٩ اتخذها الملك احمس عاصمة للبلاد .
- ٢٠ أحد العصور الفرعونية الذي يطلق عليه الرخاء الاقتصادي .
- ٢١ قناة مائية تم حفرها في عهد الملك سنوسرت الثالث وساهمت في زيادة حركة التجارة بين مصر وجيرانها .
- ٢٢ دولة كبيرة تسيطر علي مناطق وشعوب مختلفة تحت قيادة مركزية قوية
- ٢٣ مجموعة نصوص دينية نقشت بالخط الهيروغليفي علي جدران الحجرات الداخلية للأهرام .
- ٢٤ معبد بدأ ببناءه الملك سيتي الأول و أتم ببناءه ابنه الملك رمسيس الثاني .
- ٢٥ أحد الفنون وصل الي قمته في عصر الملك خفرع .
- ٢٦ دعا الي عبادته الملك اخناتون و رمز له بقرص الشمس .
- ٢٧ ثاني أكبر بحيرة طبيعية عذبة في العالم .
- ٢٨ نسبة كمية البخار الماء الموجودة في الهواء بالنسبة الي كمية بخار الماء التي يستطيع الهواء ان يتحملها .
- ٢٩ حضارة إفريقية أثرت في تاريخ القارة و لكنها لم ترتبط بنهر النيل .
- ٣٠ أحد النظم البيئية وتتمثل في المناطق العمرانية و الاراضي الزراعية .
- ٣١ مدينة بدأت فيها حضارة كوش قبل الانتقال الي مروي .
- ٣٢ حشائش تتداخل معها أشجار متنوعة تزداد كثافتها بالقرب من الغابات المدارية المطيرة .

جبل توبقال

طرابلس

خزان جبل الاولياء

الصحاري الحارة

اتفاقية 2015م

الغلاف الحيوي

الارض

حجر الديوريت

المدي الحراري

السنوي

هرم سقارة المدرج

معبد الدير البحري

كوش

مدينة طيبة

عصر الدولة

الوسطى

سيزوستريس

امبراطورية

نصوص الاهرام

معبد ابيدوس

فن النحت

اتون

بحيرة فيكتوريا

الرطوبة النسبية

حضارة قرطاج

النظم البشرية

نبته

حشائش السافانا



البحر الأحمر	٣٣
البحر المتوسط	٣٤
البحر الأحمر	٣٥
البحر الأحمر	٣٦
البحر الأحمر	٣٧
البحر الأحمر	٣٨
البحر الأحمر	٣٩
البحر الأحمر	٤٠
البحر الأحمر	٤١
البحر الأحمر	٤٢
البحر الأحمر	٤٣
البحر الأحمر	٤٤
البحر الأحمر	٤٥
البحر الأحمر	٤٦
البحر الأحمر	٤٧
البحر الأحمر	٤٨
البحر الأحمر	٤٩
البحر الأحمر	٥٠
البحر الأحمر	٥١
البحر الأحمر	٥٢
البحر الأحمر	٥٣
البحر الأحمر	٥٤
البحر الأحمر	٥٥
البحر الأحمر	٥٦
البحر الأحمر	٥٧



الاقتصاد الازرق

الاخودد الأفريقي

العظيم

جزر القمر

الاقتصاد الاخضر

حوض النهر

الصقر

معابد الشمس

المكشوفة

مدينة اواريس

دول حبيسة

هضبة شمال

افريقيا

كلمنجارو

تجمع الاندوجو

كينيا

الكتابة

الهيروغليفية

من -نفر

حصني سممه

وقمنة

معركة مجدو

الغابة

غابات البحر

المتوسط

السافانا الفقيرة

رأس محمد

بحيرة البردويل

الاراضي الرطبة

العذبة

استثمار الموارد المائية بشكل مستدام لتحقيق التنمية المستدامة والقضاء علي الفقر وتحقيق الاكتفاء الذاتي .

مجموعة من الانكسارات الطولية تمتد في شرق القارة بطول 5600 كم

دولة عربية تقع شمال غرب جزيرة مدغشقر

هو اقتصاد صديق للبيئة يستهدف تحقيق نمو اقتصادي مستدام

المساحة التي يجري فيها النهر و روافده

شعار ملوك مصر في عصر الدولة القديمة و اقتبسه ملوك أوغندا قديما

معابد أمر الملك أوسركاف بتشييدها في أبي صير بالجيزة

مدينة اتخذها الهكسوس عاصمة لهم في مصر

الدول التي لاتصل علي مسطحات مائية

هضبة عظيمة الاتساع وقليلة الارتفاع وتنحدر تدريجيا نحو الشمال حتي تلتقي بسواحل البحر المتوسط

يعد أعلى قمة جبلية بقارة افريقيا ويتكون الجليد فوق قمته

تجمع تم تشكيله عام 1983 م ويضم دول حوض النيل

احدي دول حوض النيل وساهمت مصر في حفر عشرات الابار بأراضيها

الكتابة التي استخدمتها المصري القديم في تدوين متون الاهرام

مدينة اقيمت في الاسرة الاولى واستولت عليها القبائل التي جاءت من وسط اسيا وأسقطت الاسرة الثانية عشرة

حصنين أقامهما الملك سنوسرت الثالث عند الجندل الثاني

معركة انتصر فيها الملك تحتمس الثالث علي امراء اسيا بقيادة امير قادش

مساحة من الارض تزيد عن خمسة الاف متر مربع وتنمو فيها أشجار بأطوال لا تقل عن خمسة أمتار .

غابات توجد في منطقة الكاب أقصى جنوب غرب القارة الافريقية

نوع من حشائش السافانا يوجد بالقرب من نظام الصحاري الحارة

محمية مصرية تتميز بتنوعها البيئي وتعد إحدى مناطق التراث العالمي

بحيرة ساحلية في شبه جزيرة سيناء تعد من أنظم الاراضي الرطبة المالحة

أراضي مشبعة بالمياه بصورة دائمة أو موسمية وتمثل نحو 1% من مساحة افريقيا .



صوب العبارات التالية

السؤال الخامس

- ١ قامت حضارة اكسوم في مصر والسودان .
- ٢ كان من الواردات المصرية القادمة من الدول الافريقية الزجاج .
- ٣ قامت علي ارض قارة افريقيا حضارة كوش في مصر .
- ٤ اصبحت مدينة الاسكندرية مركزا للخلافة العباسية في مصر بعد غزو المغول .
- ٥ كان هنري الملاح اول الامراء الانجليز المهتمون باكتشاف قارة افريقيا في القرن ال15 م .
- ٦ تنمو اشجار المانجروف في المناطق الساحلية الاستوائية .
- ٧ توجد هضبة الشطوط بدولة اثيوبيا .
- ٨ تعد مستنقعات السد من النظم المائية المالحة .
- ٩ البحيرات الاستوائية تعلوها القمم الجبلية الجليدية .
- ١٠ تمثل حرائق الغابات في افريقيا ثلث المساحات المحترقة في العالم .
- ١١ كانت مدينة قرطاج في البداية تابعه لكوش .
- ١٢ اشهر المعارك التي خاضها رمسيس الثاني معركة مجدو .
- ١٣ انتشرت بعض المعابدات المصرية القديمة في انحاء افريقيا مثل الصقر والذي يشير الي المعبود رع .
- ١٤ تعد الملكة اياح حتب اخر حكام الاسرة الثانية عشرة .
- ١٥ نجحت الاسرة العاشرة في اعادة توحيد مصر مرة اخري بعد فترة من الانقسام .
- ١٦ بدأ عصر الاضمحلال الاول من الاسرة السادسة حتي الاسرة العاشرة .
- ١٧ كانت مدينة اثيث تاوي عاصمة الدولة الوسطي في عصر الملك منتوحتب الثاني .
- ١٨ الاله رع من المعابدات مصرية الأصل تمت عبادتها في حضارة اكسوم .
- ١٩ ارسل الملك منتوحتب الثاني بعثة تجارية لبلاد فينيقيا عبر الصحراء .
- ٢٠ من الجبال الالتوائية بقارة افريقيا جبال اطلس التي تمتد في سلسلتين متقاطعتين علي طول الساحل
- ٢١ تتميز تربة الغابات المدارية المطيرة باللون الاخضر .
- ٢٢ من الجبال البركانية بقارة افريقيا جبال اطلس .
- ٢٣ يتميز نظام غابات البحر المتوسط بأنه بارد جاف في فصل الشتاء .
- ٢٤ استطاع المسعودي ان يخترق الصحراء الكبرى من الشمال الي الجنوب حتي وصل الي مالي .

اثيوبيا وإرتيريا

العاج - ريش النعام

المصرية القديمة

القاهرة

البرتغال

الساحلية المدارية

الجزائر

العذبة

البركانية

ثلثي

فينيقيا

قادش

حورس

سبك نفرو

الحادية عشرة

السابعة

طيبة

كوش

بونت

متوازيين

الاحمر

جبل كينيا

دافئ ممطر

ابن بطوطة



اشجار المانجروف

باب المندب

مدغشقر

خفرع

الاواني النحاسية

امنمحات الاول

الافريقي

رمسيس الثاني

النباتات والحيوانات

فيكتوريا

المغارية

القطارة

مروي

شايب البنات

اوناس

٣٥ تعمل الاشجار الصنوبرية علي حماية الشواطئ من التاكل والتعرية .

٣٦ تقترب قارة افريقيا من قارة اسيا عند مضيق موزمبيق .

٣٧ ينتشر نظام المانجروف في بعض جزر المحيط الهندي مثل جزيرة مالطا .

٣٨ امر الملك أوسركاف بتشيد الهرم الاوسط .

٣٩ يعد الصمغ احد صادرات مصر للدول الافريقية .

٤٠ يعد الملك سنوسرت الثالث مؤسس الاسرة الثانية عشرة .

٤١ اهتم ملوك الدولة الحديثة في مصر بالبعد الاوربي .

٤٢ يعتبر الملك توت عنخ امون ملك الحرب والسلام .

٤٣ النظام البيئي منطقة متكاملة تتكون من كائنات حية منها التربة وعناصر المناخ.

٤٤ شهدت بحيرة تانا اكبر انقراض جماعي للفقاريات في العصر الحديث .

٤٥ رواق الشوام اشهر الورقة التي خصصت لطلاب شمال افريقيا والمغرب العربي .

٤٦ تتميز هضبة شمال افريقيا بالمنخفضات كمنخفض عين صالح بمصر .

٤٧ اعلنت منظمة اليونسكو اهرامات الجيزة موقعا للتراث العالمي في 2011م.

٤٨ يعد جبل توبقال اعلي قمة جبلية في جبال البحر الاحمر .

٤٩ ظهرت متون الاهرام في عهد الملك خوفو .

أجب عن الأسئلة الآتية

السؤال السادس

١ بم تفسر : الاهمية الحضارية لشبه جزيرة سيناء ؟

انتقلت عن طريقها بعض الثقافات والحضارات الي افريقيا مثل الحضارة الاسلامية .

٢ بم تفسر : قيام الاستعمار بتقسيم قارة افريقيا الي عدد كبير من الدول ؟

لضمان السيطرة عليها واستغلال مواردها .

٣ بم تفسر : إرسال محمد علي رحلات لأفريقيا عام 1839م ؟

لاكتشاف منابع النيل .

٤ بم تفسر : أسس البرتغاليون الموانئ والمراكز التجارية علي طريق رأس الرجاء الصالح ؟

لتأمين الملاحة والتجارة .

٥ بم تفسر : تنوع النباتات الطبيعية و الحيوانات و المحاصيل الزراعية في قارة افريقيا ؟

بسبب تنوع المناخ و امتدادها بين اكثر من 70 دائرة عرضية .

٦ بم تفسر : مثلت شبه جزيرة سيناء أهمية استراتيجية لمصر ؟

لان من خلالها تعرضت مصر للعديد من الحملات العسكرية لذلك فان الحفاظ علي امنها ضرورة للحفاظ علي

الامن القومي المصري و الافريقي .



- ٧ **بم تفسر : تحكم قارة افريقيا في طرق التجارة العالمية ؟**
بسبب موقعها الجغرافي المتميز وتحكمها في الممرات المائية المهمة .
- ٨ **بم تفسر : تنقسم قارة افريقيا الي دول مختلفة في المساحة ؟**
بسبب تصارع الدول الاستعمارية عليها لنهب خيراتها و استغلال ثروتها فأقامت الدول مستعمرات لها في أنحاء افريقيا و عملت علي تقسيم القارة لدول متعددة لضمان سيطرتها عليها .
- ٩ **ما النتائج المترتبة علي : انتخاب مصر لرئاسة الاتحاد الافريقي عام 2019م ؟**
ادي إلى تعميق دور مصر الريادي في قارة افريقيا و تدعيم علاقتها مع دول وشعوب افريقيا .
- ١٠ **ما النتائج المترتبة علي : محاولات البرتغاليين لاكتشاف قارة افريقيا اواخر القرن ال15م ؟**
الوصول الي الهند عن طريق الدوران حول افريقيا .
- ١١ **ما النتائج المترتبة علي: الموقع الجغرافي لقارة افريقيا ؟**
ادي الي وقوع افريقيا وسط قارات العالم القديم و تحكمها في الممرات المائية المهمة ، مما جعلها تتحكم في طرق الملاحة العالمية.
- ١٢ **ما النتائج المترتبة علي : إشراف قارة افريقيا علي ممرات مائية هامة ؟**
جعل لها أهمية استراتيجية و تجارية .
- ١٣ **ما النتائج المترتبة علي : نجاح احمس في طرد الهكسوس ؟**
قام بالاهتمام بتنظيم البلاد وتأسيس الدولة الحديثة
- ١٤ **بم تفسر : تتميز هضبة الحبشة (الهضبة الاثيوبية) بخصوبة تربتها؟**
بسبب الطفوح البركانية
- ١٥ **بم تفسر : تعرف هضبة البحيرات الاستوائية بأنها المنبع الدائم لنهر النيل ؟**
بسبب سقوط الامطار عليها طوال العام
- ١٦ **بم تفسر : ضيق السهول الساحلية للبحر الاحمر؟**
بسبب اقتراب جبال البحر الاحمر من الساحل .
- ١٧ **بم تفسر : يختلف اتساع السهول الساحلية في القارة من منطقة لأخرى ؟**
بسبب اقتراب أو ابتعاد المرتفعات من السواحل
- ١٨ **بم تفسر : خصوبة تربة وادي النيل في مصر و السودان ؟**
لأنها تكونت من الطمي الذي نقلته مياه نهر النيل من هضبة الحبشة (اثيوبيا) البركانية .
- ١٩ **بم تفسر : تكون الجليد علي جبل كلمنجارو رغم وقوعه بالمنطقة الاستوائية ؟**
لشدة ارتفاعه.
- ٢٠ **بم تفسر : أهمية جبال قارة افريقيا بالنسبة للنشاط السياحي ؟**
لأنها تتميز بمناظر طبيعية خلابة تجذب السياح الذين يمارسون العديد من الأنشطة الترفيهية مثل :تسلق الجبال -سياحة السفاري .



- ٢١ **بم تفسر : التركيز السكاني حول معظم سهول نهر النيجر ؟**
لان سهول نهر النيجر تكونت من رواسب الأنهار و تمتاز بالتربة الخصبة الصالحة للزراعة .
- ٢٢ **ما النتائج المترتبة علي : خصوبة التربة في هضبة الحبشة (الهضبة الاثيوبية) ؟**
ادي ذلك الي : قيام حرفة الزراعة . - نشأة الحضارات القديمة في اثيوبيا .
- ٢٣ **ما النتائج المترتبة علي : سقوط الامطار الشتوية علي السهول الساحلية للبحر المتوسط ؟**
نمو النباتات الطبيعية والمحاصيل الزراعية التي تعتمد في زراعتها علي الامطار الشتوية
- ٢٤ **ما النتائج المترتبة علي : الارتفاع الشاهق لجبل كلمنجارو ؟**
تكون الجليد فوق قمته رغم وقوعه بالمنطقة الاستوائية الحارة .
- ٢٥ **ما النتائج المترتبة علي : تأثر سطح قارة افريقيا بالحركات الانكسارية ؟**
تكوين العديد من الجبال مثل جبال البحر الاحمر شرق القارة وتمتد في مصر و السودان و ارتيريا علي ساحل البحر الاحمر .
- ٢٦ **ما النتائج المترتبة علي : حدوث الثورات البركانية في وسط قارة افريقيا ؟**
ادي الي تكون الجبال البركانية في وسط قارة افريقيا مثل جبل كينيا وجبل كلمنجارو اعلي قمة جبلية في افريقيا .
- ٢٧ **بم تفسر : انشاء مصر لتجمع الاندوجو عام 1983 م ؟**
بهدف: التشاور والتنسيق ودعم التعاون بين دول حوض النيل .
الحفاظ علي المصالح المشتركة بين دول حوض النيل .
- ٢٨ **بم تفسر : أهمية نهر عطبرة والنيل الازرق بالنسبة لجريان النيل ؟**
لانهما يمدان نهر النيل (النيل الابيض) بالمياه مما يساعده علي الجريان نحو الشمال حتي المصب في البحر المتوسط .
- ٢٩ **بم تفسر : قلة مساهمة المنابع الدائمة في مياه نهر النيل بمصر ؟**
بسبب المستنقعات وزيادة البحر .
- ٣٠ **بم تفسر : ساهمت مصر في انشاء خزان جبل الاولياء في السودان ؟**
بهدف تحقيق التنمية المستدامة لدول حوض النيل من خلال توليد الطاقة الكهربائية لدولة السودان .
- ٣١ **بم تفسر : اهتمام مصر بالاقتصاد الاخضر ؟**
لتحقيق نمو اقتصادي مستدام مع الحفاظ علي البيئة وتحقيق العدالة الاجتماعية والحد من الفقر والبطالة .
- ٣٢ **بم تفسر : عقد اتفاقية قانون تنظيم استخدام المجاري المائية في الأغراض غير الملاحية ؟**
لتنظيم استخدام ميهه الأنهار وتنميتها وادارتها و حمايتها و العمل علي تحقيق الانتفاع الأمثل و المستدام بها للأجيال الحالية و المقبلة .
- ٣٣ **بم تفسر : عقد كل من مصر واثيوبيا والسودان اتفاقية 2015 م ؟**
لتنظيم وادارة وتنمية مياه نهر النيل و عدم التسبب في أي ضرر و الاستخدام المنصف و المناسب لمياه النهر .



٣٤ بم تفسر : تأسيس الفينيقيين مدينة قرطاج على البحر المتوسط ؟

لتأمين رحلاتهم التجارية من فينيقيا الى اسبانيا .

٣٥ ما النتائج المترتبة علي : ثنائية المنبع لنهر النيل ؟

ادي الي استدامته ووصوله الي مصر .

٣٦ ما النتائج المترتبة علي : الموقع المتميز لمدينة قرطاج ؟

كونت مملكة قوية حكمت معظم ساحل شمال افريقيا وبعض جزر البحر المتوسط .

٣٧ ما النتائج المترتبة علي : الموقع الجغرافي لحضارة اكسوم ؟

اصبحت مركز تجاري قوي - ملتقى للعديد من الطرق التجارية .

٣٨ ما النتائج المترتبة علي : استقرار المصري القديم علي ضفاف نهر النيل ؟

معرفة المصري القديم الزراعة و استطاع استئناس الحيوانات فنشأت القرى ثم ظهرت المدن ثم نشأت الأقاليم ثم توحيد البلاد و تكوين الأسرات الحاكمة .

٣٩ بم تفسر : ندرة وجود الحيوانات الضخمة اكلة العشب في الغابات المدارية المطيرة ؟

بسبب صعوبة الحركة بين اشجار الغابات الاستوائية التي تتميز بكثافة اشجارها وتشابك اغصانها .

٤٠ بم تفسر : يعد العصر العتيق عصر البناء والتأسيس لتاريخ مصر القديم ؟

لأن هذا العصر بدأ بتوحيد الملك نعرمر "مينا" لمملكتي الشمال و الجنوب ، وتأسيس عاصمة مصر الموحدة وهي مدينة " من - نفر "

٤١ بم تفسر : تميز العصر العتيق بالاستقرار وتحقيق الأمن؟

بسبب اهتمام ملوكها بتأمين حدود مصر وبناء الحصون.

٤٢ بم تفسر : سمي عصر الدولة القديمة بعصر بناء الاهرام ؟

بسبب اهتمام ملوكها ببناء مقاربهم علي شكل أهرامات .

٤٣ بم تفسر : نحت المصريون خلال عصر الدولة القديمة التماثيل الملكية ؟

بسبب اعتقادهم في قدسية الملك .

٤٤ بم تفسر : تسمية هرم سقارة بالهرم المدرج ؟

لأنه تكون من ست مصاطب مختلفة الحجم (مدرجة)

٤٥ بم تفسر : لقب الملك سنفرؤ بالملك المحسن المحبوب؟

لأنه كان ملكا عظيما عادلا في رعيته .

٤٦ بم تفسر : إرسال الملك سنفرؤ أسطولا بحريا الي فينيقيا ؟

بهدف إحضار خشب شجر الأرز

٤٧ بم تفسر : سقوط الأسرة الرابعة في مصر القديمة ؟

بسبب ازدياد نفوذ كهنة اله الشمس (رع) اواخر الأسرة الرابعة حتي استطاع كبيرهم "اوسركاف" الوصول الي الحكم .



٤٨ ما النتائج المترتبة علي : زيادة نفوذ كهنة الاله (رع) في أواخر عهد الأسرة الرابعة ؟
ترتب علي ذلك : سقوط الأسرة الرابعة - وصول أوسركاف (كبير كهنة اله الشمس "رع") الي حكم مصر و تأسيس الأسرة الخامسة .

٤٩ ما النتائج المترتبة علي : زواج التجار المسلمين من النساء الافارقة ؟
ادي الي الذوبان العرقي لكلا الطرفين مما انتج جيلا يحمل صفات الاب العربي والام الافريقية والعكس وهو جيل يعتز بأصله العربي و الافريقي .

٥٠ ما النتائج المترتبة علي : ظهور الأسرة الحادية عشرة في مصر القديمة ؟
عودة مصر لوحدها - بداية عصر جديد من النهضة و التقدم هو (عصر الدولة الوسطي) .

٥١ ما النتائج المترتبة علي : تقدم المصريين القدماء في فن العمارة والهندسة و الفلك ؟
ادي ذلك الي تطوير بناء المقابر الفرعونية - و تشييد الاهرامات الفرعونية .

٥٢ ما النتائج المترتبة علي : تدهور أحوال مصر الاقتصادية و الاجتماعية في نهاية عصر الأسرة السادسة الفرعونية ؟
ادي ذلك الي : تعرض البلاد لغارات خارجية و توقف المشروعات الاقتصادية و زيادة الأعباء و المظالم علي كاهل الفلاح المصري .

٥٣ بم تفسر : ترجيب المصريين واحل برقة بالفتج الاسلامي ؟
لانهم كانوا يعانون من حكم الروم

٥٤ بم تفسر : اهتمام ملوك عصر الدولة الوسطي ببناء الحصون ؟
بهدف تأمين حدود مصر الشرقية والجنوبية .

٥٥ بم تفسر : نقل الملك امنمحات الأول عاصمة البلاد من طيبة الي اثيث تاوي ؟
لتكون في موقع متوسط بين الوجهين البحري و القبلي حتي يسيطر علي كل انحاء البلاد .

٥٦ بم تفسر : أقام الملك امنمحات الاول سلسلة من الحصون علي الحدود الغربية للدلتا ؟
بهدف حماية مصر من الغارات الليبية .

٥٧ بم تفسر : قيام الملك سنوسرت الثالث بحفر قناة سيزوستريس ؟
لكي تربط بين البحر الاحمر والبحر المتوسط عن طريق نهر النيل و ذلك لزيادة حركة التجارة بين مصر و جيرانها.

٥٨ بم تفسر : اقام الملك امنمحات الثالث سد اللاهون ؟
بهدف :- تخزين مياه الفيضان حماية البلاد من المجاعة التي قد تصيبها نتيجة انخفاض منسوب مياه نهر النيل - التوسع في مساحة الاراضي الزراعية .

٥٩ بم تفسر اقام الملك امنمحات الثالث مقاييس للنيل ؟

بهدف مراقبة ارتفاع منسوب مياه النيل عند الجندل الثاني

٦٠ بم تفسر : ضعف وسقوط الدولة الوسطي ؟

بسبب ضعف الملوك الذين جاءوا بعد الملك امنمحات الثالث - زيادة الصراعات بين حكام الاقاليم علي السلطة .



٦١ بم تفسر : اقام المصريون القدماء خلال عصر الدولة الوسطي مراكز ومحطات تجارية علي طول نهر النيل جنوبا ؟

بهدف تخزين وتوزيع السلع المستوردة والمصدرة .

٦٢ ما النتائج المترتبة علي : ضعف ملوك الدولة الوسطي بعد امنمحات الثالث ؟

ترتب علي ذلك تعرض البلاد للاطماع الخارجية ووقوعها تحت سيطرة الهكسوس .

٦٣ بم تفسر : تسمية عصر الدولة الحديثة بعصر المجد الحربي و عصر بناء الامبراطورية ؟

لان ملوك الدولة الحديثة استطاعوا تكوين امبراطورية عظيمة امتدت بين قارتي اسيا وافريقيا من نهر الفرات في الشمال الشرقي الي الجندل الرابع جنوبا .

٦٤ بم تفسر : وجود جيش قوي في عصر الدولة الحديثة ؟

لكي : يحافظ علي النظام و الاستقرار الداخلي لمصر . -يحمي مصر من الاخطار و التهديدات الخارجية .

٦٥ بم تفسر : اتجه الملك احمس الاول نحو الجنوب ؟

بهدف : تأمين حدود مصر الجنوبية -القضاء علي حركات التمرد و اعادة الامن .

٦٦ بم تفسر : شهرة الملك توت عنخ امون ؟

بسبب اكتشاف مقبرته كاملة عام 1922م في وادي الملوك بالبر الغربي بالاقصر حيث احتوت علي كنوز اثرية لامثيل لها تعبر عن تقدم الفنون في مصر القديمة .

٦٧ بم تفسر : سمي عصر الملك رمسيس الثاني بعصر الامبراطورية الثانية ؟

لانه عمل علي استعادة مصر لسيادتها علي بلاد الشام وبعض جزر البحر المتوسط .

٦٨ بم تفسر : قيام معركة قادش - خروج الملك رمسيس الثاني لمواجهة الحيثيين ؟

بسبب تزايد نفوذ الحيثيين في بلاد الشام و تحالف ملك الحيثيين مع امراء المدن السورية ضد مصر .

٦٩ بم تفسر : يعتبر الملك رمسيس الثالث المؤسس الحقيقي للأسرة العشرين ؟

لانه : استطاع هزيمة شعوب البحر المتوسط -تصدي لليبيين الذين هاجموا حدود مصر الغربية .

٧٠ بم تفسر : ضعف و نهاية الدولة الحديثة - ضعف البلاد بعد انتهاء حكم الملك رمسيس الثالث ؟

بسبب : تولي الحكم ملوك ضعاف - تدخل كهنة الاله امون بطيبة في شئون الحكم

٧١ ما النتائج المترتبة علي : تحالف ملك الحيثيين مع امراء المدن السوريه ضد الملك رمسيس الثاني ؟

ادي ذلك الي : خروج الملك رمسيس الثاني لمواجهة فانتصر علي جيش الحيثيين مما اضطر ملكهم لطلب الصلح وعقد اول معاهدة سلام دولية مسجلة في التاريخ .

٧٢ ما النتائج المترتبة علي : معاهدة السلام بين الملك رمسيس الثاني و ملك الحيثيين ؟

ترتب علي ذلك : استعادة مصر سيادتها علي بلاد الشام و بعض جزر البحر المتوسط .

٧٣ ما النتائج المترتبة علي :غزو الاسكندر الاكبر لمصر ؟

ترتب علي ذلك :انتهاء العصر المتأخر في مصر و بدء مرحلة جديدة من تاريخ مصر .



٧٤ ما النتائج المترتبة علي : الصراع بين ملك كوش و المصريين اثناء عصر الاسرة الـ 24؟

ترتب علي ذلك : سيطرة الملك الكوشي علي معظم ارض مصر وتكوين الاسرة الـ 25

٧٥ ما النتائج المترتبة علي : اهتمام الملك سنوسرت الثالث بالحد الجنوبي المصري ؟

ادي الي بناء الحصون مثل حصني سمنة وقمنة عند الجندل الثاني .

٧٦ بم تفسر : اتجاه عمرو بن العاص الي طرابلس بعد فتح برقة ؟

بسبب اهميتها علي الشاطئ الافريقي و لاحكام السيطرة علي شمال افريقيا .

٧٧ بم تفسر : حدوث اختلال للنظام البيئي ؟

لاسباب طبيعية : مثل الزلازل و الثورات البركانية و الاعاصير والحرائق الطبيعية.

لاسباب بشرية : مثل قيام الانسان بازالة الغابات والرعي الجائر و التوسع المراني والحروب واستخدام المواد

الكيمياوية والمبيدات الحشرية والتلوث الحشرية والتلوث المائي و الهوائي .

٧٨ بم تفسر : نظام الغابات المدارية المطيرة من اكثر النظم البيئية تنوعا ؟

لانه يتميز بالتنوع الحيوي لاحتوائه علي الاف الانواع من النباتات والحيوانات .

٧٩ بم تفسر : انخفاض المدي الحراري السنوي بنظام الغابات المدارية المطيرة بإفريقيا ؟

بسبب ارتفاع درجة الحرارة طوال العام .

٨٠ بم تفسر : انخفاض الضغط الجوي في نظم الغابات المدارية المطيرة في افريقيا ؟

بسبب ارتفاع درجة الحرارة طوال العام بالاضافة لصعود الهواء الي اعلي وسكون حركة الرياح نسبيا .

٨١ بم تفسر : ارتفاع الرطوبة النسبية في نظام الغابات المدارية المطيرة في افريقيا ؟

بسبب كثرة التبخر

٨٢ بم تفسر : تميز تربة الغابات المطيرة بالتربة الحمراء ؟

بسبب غناها بأكسيد الحديد

٨٣ بم تفسر : ارسال عبد الله بن ابي السرح الحملات الاستطلاعية لاطراف افريقية (تونس حاليا) ؟

لمعرفة قدرة الروم علي صد هجمات المسلمين

٨٤ بم تفسر : ارتفاع درجة حرارة حشائش السافانا في فصل الصيف ؟

بسبب انخفاض كثافة النباتات في حشائش السافانا عن الغابات المدارية المطيرة

٨٥ بم تفسر : تدرج حشائش السافانا في الطول من مكان لآخر ؟

بسبب سقوط الامطار الصيفية التي تختلف كميتها وفترة سقوطها من مكان لآخر .

٨٦ بم تفسر : ارتفاع المدي الحراري السنوي بنظام الحشائش الحارة ؟

بسبب الفرق الواضح بين درجات الحرارة في الصيف و درجات الحرارة في الشتاء .

٨٧ بم تفسر : يطلق علي نظام حشائش السافانا حديقة حيوان طبيعية ؟

لان يعيش بها حيوانات اكلة الحشائش مثل الفيل الافريقي و الغزلان والزرافات ووحيد القرن و النعام

والجاموس البري و الحمار الوحشي و حيوانات اكلة اللحوم كالاسود والنمور والضباع .



٨٨ بم تفسر : لحشائش السافانا اهمية اقتصادية ؟

بسبب :-تربية الماشية فيها و التي تعد ثروة برية غنية .
استغلالها في انتاج بعض المحاصيل كالقطن والذرة والبن وقصب السكر .

٨٩ بم تفسر : تتعرض تربة حشائش السافانا للتجريق لاسباب طبيعية ؟ ؟

بسبب سقوط الامطار بغزارة في فصل الصيف.

٩٠ بم تفسر : اهمية حشائش الاستبس ؟

لانها : تعد مراعي طبيعية للحيوانات مثل الاغنام والماعز والخيول - تنتشر بها حرفة الصيد - تربة صالحة لزراعة بعض المحاصيل مثل الحبوب الغذائية .

٩١ بم تفسر : قيام النشاط الزراعي في منطقة نظام الحشائش المعتدلة ؟

لان تربة الحشائش المعتدلة طينية سوداء اللون وخصبة وغنية بالمواد العضوية والمعدنية.

٩٢ ما النتائج المترتبة علي : تعرض مساحات واسعة من الاراضي الافريقية للتصحّر ؟

ترتب علي ذلك : تدهور التربة وموت النباتات

٩٣ ما النتائج المترتبة علي : تفاوت كمية المطر من مكان الي اخر في نظام الحشائش المعتدلة ؟

ادي ذلك الي نمو الحشائش و الاعشاب في المناطق الاقل مطرا بينما تنمو الاشجار بالقرب من الانهار علي منحدرات الجبال الاكثر مطرا .

٩٤ ما النتائج المترتبة علي : زيادة حدة موجات الجفاف في مناطق الصحاري الحارة ؟

ادي ذلك الي : ندرة النبات الطبيعي بها او انعدامه و بالتالي قلة كميات الغذاء التي تحتاجها الكائنات الحية في هذا النظام وبالتالي تعرض العديد من الحيوانات لخطر الانقراض مثل الغزال المصري و طائر الحباري

٩٥ ما النتائج المترتبة علي : غني تربة الاستبس بالمواد العضوية ؟

اصبحت تربة صالحة لزراعة الحبوب الغذائية .

٩٦ بم تفسر : تعرض انواع عديدة من الاسماك في بحيرة فيكتوريا لخطر الانقراض ؟

بسبب ادخال انواع جديدة من الاسماك الي البحيرة .

٩٧ بم تفسر : تعرف نظم الاراضي العذبة بالنظم البرمائية ؟

لانها تقع بين الانظمة البرية و المائية 0

٩٨ بم تفسر : تنتشر اشجار المانجروف بشكل كبير في السواحل الغربية لقارة افريقيا

بسبب كثرة النظم النهرية وزيادة كمية الامطار .

٩٩ بم تفسر : الاهمية البيئية لاشجار المانجروف ؟

لانها :- تعمل علي حماية الشواطئ من التآكل و التعرية - تنقي الهواء من الكربون.

بم تفسر تعرض نبات المانجروف للتدهور ؟

بسبب عده عوامل :- عوامل طبيعية كالتغيرات المناخية مثل زيادة درجات الحرارة ونقص الامطار

وعوامل بشرية كالصيد الجائر وازالة مساحات منها لأغراض التنمية العمرانية والسياحية .



- ١١** بم تفسر : تنمو الشعاب المرجانية في معظم السواحل الشرقية لقارة افريقيا ؟
بسبب توافر الظروف الملائمة لنمو الكائنات البحرية عن تكوينها سواء من حيث المياه الدافئة ، وضوء الشمس الكافي ، و المياه النظيفة الصافية ، ودرجة الملوحة الثابتة ، و التيارات البحرية الهادئة .
- ١٢** بم تفسر : تأسيس الصندوق الافريقي لتغير المناخ عام 2014م ؟
بهدف مساعدة الدول الافريقية لمواجهة مشكلة التغيرات المناخية .
- ١٣** ما النتائج المترتبة علي : تعظم النظم البحرية العذبة بافريقيات للتدهور ؟
ادي ذلك الي انخفاض اعداد الحيوانات المرتبطة بها كما حدث في بحيرة فيكتوريا .
- ١٤** ما النتائج المترتبة علي : تعرضي الاراضي الرطبة العذبة للتجفيف و انزلة النباتات و التوسع الزراعي ؟
ادي ذلك الي : تدهور الحياة النباتية - تاكل لتربة
- ١٥** ما النتائج المترتبة علي : تعرض الشواطئ لعمليات الردم ؟
ترتب علي ذلك : تدمير الشعاب المرجانية .
- ١٦** ما النتائج المترتبة علي : نمو اعشاب بحرية في نظم الاراضي الرطبة المالحة ؟
ترتب علي ذلك : ان اصبحت بيئة مناسبة لوجود الاسماك وسرطان البحر وغيرها .
- ١٧** بم تفسر : ارتبط العرب بعلاقات تجارية مع افريقيا قديما قبل ظهور الاسلام ؟
بسبب القرب الجغرافي بين شبه الجزيرة العربية وشرق افريقيا .
- ١٨** بم تفسر : اشار النبي (ص) علي اصحابه بقالهجرة الي بلاد الحبشة ؟
بهدف الفرار من أذى قريش .
- ١٩** بم تفسر : اهمية شبه جزيرة سيناء في نشر الاسام بإفريقيا ؟
بسبب سماحة الدين الاسلامي و دعوته للعدل والمساواة للعدل والمساواة فجعل الافارقة يسارعون الي اعتناقه .
- ٢٠** بم تفسر : كان التجار المسلمين دورا بارزا في نشر الاسلام في قارة افريقيا ؟
بسبب مظهرهم و ملابسهم النظيفة المحتشمة ، وحسن اخلاقهم و اتسامهم بالصدق والامانة و رفض التعامل بالربا او الغش .
- ٢١** بم تفسر : ترحيب اهل برقة بالفتح الاسلامي ؟
لانهم كانوا يعانون من مساوئ حكم الروم
- ٢٢** بم تفسر : اهمية فتح طرابلس للمسلمين بعد فتح مصر ؟
بسبب اهميتها علي الشاطئ الافريقي وإحكام السيطرة علي شمال افريقيا
- ٢٣** بم تفسر : ارسال عبد الله بن ابي السرح لمجموعة من الحملات الاستطلاعية لافريقية (تونس حاليا)
بهدف معرفة قدرة الروم علي ضد هجمات المسلمين . .
- ٢٤** ما النتائج المترتبة علي : وصول عرب شبه الجزيرة الي ساحل افريقيا عبر عدة معابر ؟
ترتب علي ذلك : اختلاط العرب بأهل الساحل و تزوجوا منهم ، و أقاموا محطات تجارية هناك .
- ٢٥** ما النتائج المترتبة علي : زواج التجار المسلمين من النساء الافارقة ؟
ادي ذلك الي : تقوية العلاقات بين المسلمين و الافارقة - نقل العادات و التقاليد الاسلامية الي الشعوب الافريقية .



١١٦ ما النتائج المترتبة علي : فرار بني امية وانصارهم الي داخل القارة الافريقية بعد سقوط دولتهم ؟
أدى إلى نشر الاسلام واللغة العربية بين اهل تلك البلاد .

١١٧ ما النتائج المترتبة علي : فتح بلاد المغرب ؟
ترتب علي ذلك: احكام سيطرة المسلمين علي شمال افريقيا
دخول عدد كبير من سكان افريقيا في الاسلام .

١١٨ بم تفسر : ارتبط العرب بعلاقات مع افريقيا قديما قبل ظهور الاسلام ؟
بسبب القرن الجغرافي بين افريقيا وشبه الجزيرة العربية

١١٩ بم تفسر : دخول الاسلام الي قارة افريقيا لأول مرة في عهد الرسول (ص) ؟
بسبب هجرة المسلمين الاولي الي الحبشة

١٢٠ بم تفسر : انتشار الاسلام في افريقيا بعد الفتح الاسلامي لمصر ؟
بسبب حفر قناة امير المؤمنين التي زادت من الصلات بين المسلمين والافارقة مما ساعد علي نشر الاسلام

١٢١ بم تفسر : ارسال التجار المسلمين الطلاب الافارقة المميزين للمعاهد العلمية في مصر ؟
ليتلقوا مزيدا من العلوم فيعودوا قادة للفكر الاسلامي في بلادهم

دل علي صحة العبارات الآتية

السؤال السابع

١ دلل علي صحة العبارة : يعتبر البحر الاحمر معبرا هاما ساهم في انتشار الاسلام في شرق افريقيا ؟
حيث استخدمه المسلمون الاوائل في التنقل بين شبه الجزيرة العربية و افريقيا ، ثم انشأوا بعض المراكز الاسلامية علي طول الساحل الشرقي الافريقي والتي اصبحت مراكز لنشر الاسلام في قلب افريقيا .

٢ دلل علي صحة العبارة الآتية : لعب الدعاة وعلماء الدين دورا بارزا في نشر الاسلام في افريقيا ؟
حيث كان قادة القبائل الاسلامية بافريقيا يرسلون الدعاة لنشر الاسلام بين بقية القبائل الافريقية .

٣ دلل علي صحة العبارة : كان للاسلام دورا مهما في تشكيل الهوية الثقافية و الاجتماعية لشعوب افريقيا ؟
حيث :- قام الاسلام بالحفاظ علي كثير من عاداتهم الطيبة التي لاتتنافي مع الشريعة الاسلامية ، مثل اكرام الضيف ، ومساعدة المحتاج ، و التضامن الاجتماعي .، ساهم الاسلام في تغيير بعض عاداتهم السيئة ، مما ساهم في اصلاح شأن المجتمعات الافريقية .

٤ دلل علي صحة العبارة : كان للاسلام بعد انتشاره في قارة افريقيا دورا هاما في رفع شأن المرأة ؟
حيث :- منح المرأة حرية اختيار الزوج -منح الام الحق في حضانة الاطفال - أعطى المرأة حق الميراث ومنع التفرقة العنصرية

٥ دلل علي صحة العبارة: تتسم النظم البحرية العذبة بقارة افريقيا بالتنوع البيولوجي ؟
حيث يوجد فيها مجموعة من اللافقاريات و القشريات والرخويات والطحالب .



٦ دلل علي صحة العبارة : لاشجار المانجروف اهمية كبيرة ؟

حيث تمثل محطة من محطات التي تقف عندها الطيور المهاجرة - تنقي الهواء من الكربون - تعد واحدة من المناطق الجاذبة للنشاط السياحي .

٧ دلل علي صحة العبارة العبارة : قيام مصر بتنفيذ العديد من المشروعات لمواجهة التغيرات المناخية ؟

حيث قامت ب : التوسع في انتاج الطاقة النظيفة لتجنب انبعاثات ثاني اكسيد الكربون - تطوير وتطهير بحيرات الساحل الشمال و تعميقها - اعلان عدد من المدن الصديقة للبيئة مثل مدينة العلمين والجلالة الجديدة والعاصمة الادارية الجديدة.

٨ دلل علي صحة العبارة : تستطيع النباتات الصحراوية التكيف مع شدة الجفاف والحرارة ؟

حيث : تمتد جذور بعضها الي اعماق كبيرة ولمسافات واسعة تحت السطح لتصل الي المياه الجوفية - البعض الاخر صغير الاوراق حتي تقلل من النتح ، وتستطيع ان تحتزن كمية من المياه في سيقانها .

٩ دلل علي صحة العبارة : لنظام الصحاري الحارة بقارة افريقيا اهمية بالنسبة للنشاط التعديني ؟

حيث تحتوي علي كثير من الثروات المعدنية والنفط والغاز الطبيعي .

١٠ دلل علي صحة العبارة : يعد نظام الصحاري الحارة بإفريقيا مناطق جذب سياحي ؟

حيث يتميز بمناظر طبيعية فريدة ومعالم تاريخية واثرية

١١ دلل علي صحة العبارة : يمتد نظام حشائش الاستبس في شمال وجنوب قارة أفريقيا ؟

حيث يشغل: مساحة صغيرة في اقليم الفلد في دولتي جنوب افريقيا و ليسوتو - ويشغل مساحة اقل في شمال قارة افريقيا بين نظام غابات البحر المتوسط في الشمال ونظام الصحاري الحارة في الجنوب .

١٢ دلل علي صحة العبارة : يتسم مناخ نظام الصحاري الحارة بالتطرف الشديد في درجات الحرارة ؟

حيث : في فصل الصيف : ترتفع درجات الحرارة نهارا لتزيد علي 40 درجة مئوية وتسجل في بعض الايام اعلي من 50 درجة مئوية ، بينما تنخفض ليلا الي نحو 25 درجة مئوية .
في فصل الشتاء : يتسم النهار بالدفء والليل بالبرودة ، وتصل درجات الحرارة في بعض المناطق الداخلية في الشتاء الي الصفر المئوي .

١٣ دلل علي صحة العبارة : فتحت طرابلس دون صعوبة رغم قوة اسوارها وحصونها ؟

حيث انها كانت محاطة بالاسوار الا من جهة البحر و اقبل عمرو بن العاص بقواته من ناحية الشرق واستقر بجيشه في مرتفع يشرف علي المدينة ، و حاصرها لمدة شهر وانتظر انحسار المياه عن شواطئها و فاجأ الروم من جهة الساحل وسيطر علي المدينة .

١٤ دلل علي صحة العبارة : اثر التغير المناخي علي نظام الغابات المدارية المطيرة في قارة افريقيا ؟

حيث : سجلت افريقيا اعلي معدل خسارة في مساحات الغابات علي مستوي العالم.
بلغت جملة مساحات الغابات المحترقة في افريقيا في الفترة من 2001م : 2018م اكثر من ثلثي المساحات المحترقة في العالم .

١٥ دلل علي صحة العبارة : الاهمية البيئية للغابات المدارية المطيرة ؟

حيث انها : تحافظ علي التوازن البيئي . - تعمل علي تنقية البيئة من التلوث



دلل علي صحة العبارة :اتبع الملك تحتمس الثالث سياسات سلمية مع امراء اسيا للحفاظ علي الامبراطورية المصرية بعد معركة مجدو ؟

١٦

حيث قام ب : تقريب امراء اسيا منه وثبتهم في وظائفهم .
اخذ بعض ابنائهم معه الي مصر لتعليمهم العادات والتقاليد المصرية لغرس حب مصر في نفوسهم حتي اذا ما عادوا الي بلادهم وتولوا الحكم يصبحوا من اتباعه المخلصين .

دلل علي صحة العبارة : شهد عصر الدولة الحديثة ثورة دينية ؟

١٧

حيث دعي اخناتون (امنحتب الرابع) الي عبادة اله واحد هو (اتون) رمز له بقرص الشمس .

دلل علي صحة العبارة: اتسمت العلاقات المصرية الافريقية اثناء العصر المتأخر بالصراعات والحروب ؟

١٨

حيث في :-عصر الاسرة ال21 فقدت مصر السيطرة علي بعض المناطق الافريقية .
عصر الاسرة ال24 دار صراع بين المصريين و الكوشيين انتهى بسيطرة الملك الكوشي علي معظم مصر وتكوين الاسرة ال25 .

عصر الاسرة ال26 نجحوا في استعادة استقلال مصر ومد نفوذها بإفريقيا .

دلل علي صحة العبارة : اهتم الملك تحتمس الثالث بالتوسع في افريقيا ؟

١٩

حيث شن حملته ال17 علي بلاد كوش و انتصر عليها و بذلك اقام امبراطورية كبيرة امتدت الي ما وراء الجندل الرابع .

دلل علي صحة العبارة الاتية : ازدهار النشاط التجاري في عصر الدولة الوسطي ؟

٢٠

حيث زاد النشاط التجاري لمصر مع البلاد المجاورة مثل فينيقيا و بلاد بونت .

دلل علي صحة العبارة : نجح الملك سنوسرت الثالث ف تأمين حدود مصر ؟

٢١

حيث قام ب : تأمين حدود مصر الشمالية والجنوبية و الدفاع عنها .
الاهتمام بالحدود الجنوبية فقام ببناء الحصون مثل حصني سمنا وقمنا عند الجندل الثاني .

دلل علي صحة العبارة : اهتم الملك امنمحات الثالث باستثمار موارد مصر ؟

٢٢

حيث أرسل نحو أربع و عشرين بعثة لاستخراج المعادن وقطع الاحجار في شبه جزيرة سيناء ، كما اهتم بشئون الري و الزراعة فأقام سد اللاهون ومقاييس للنيل .

دلل علي صحة العبارة : أساء الهكسوس للمصريين ؟

٢٣

حيث قاموا ب :-سلب مملكتاتهم - فرض الضرائب عليهم - تدمير معابدهم .

دلل علي صحة العبارة :-وجود علاقات تجارية بين ملوك مصر في عصر الدولة الوسطي وحضارة كوش بإفريقيا ؟

٢٤

حيث تم تبادل الحلي و المجوهرات والمعادن والعاج والتوابل والعطور والزيوت مثل زيت الزيتون و زيت النخيل.

دلل علي صحة العبارة : تساهم المناطق الجبلية في افريقيا في النشاط الصناعي ؟

٢٥

حيث تتميز بغناها بالثروات المعدنية المتنوعة التي تدخل في صناعات عديدة مثل الحديد والذهب والفضة والنحاس والفوسفات

دلل علي صحة العبارة : تضم قارة افريقيا العديد من الجزر ؟

٢٦

حيث يوجد بقارة افريقيا العديد من الجزر مثل : جزيرة مدغشقر أكبر جزر القارة وجزر القمر التي تقع شمال جزيرة مدغشقر.



دلل علي صحة العبارة : تنوع مظاهر السطح في هضبة شمال افريقيا ؟

٢٧

حيث نجد بها الجبال مثل جبل العوينات علي الحدود بين مصر وليبيا والسودان، كما نجد المنخفضات كمنخفض القطارة والعديد من الواحات كواحة سيوة في مصر والجوف في ليبيا ، كما توجد بها الصحراء الكبرى التي تعد أكبر صحاري العالم .

دلل علي صحة العبارة : تختلف سهول المحيط الهندي من حيث الاتساع ؟

٢٨

حيث تتميز السهول في تنزانيا باتساعها أما في كينيا فهي عبارة عن شريط ضيق ينحصر بين الساحل وهضبة البحيرات الاستوائية .

دلل علي صحة العبارة :تضم قارة افريقيا مجموعة متنوعة من الجبال ؟

٢٩

حيث توجد بها : جبال التوائية مثل جبال اطلس .

جبال انكسارية مثل جبال البحر الأحمر.

جبال بركانية مثل جبل كينيا وكلمنجارو وجبال دراكنزبرج

دلل علي صحة العبارة : لم يكن للبرتغاليين السبق في الدوران حول افريقيا :

٣٠

حيث قام المصريين القدماء اثناء عهد الملك نخاو الثاني بإرسال بعثة للدوران حول افريقيا ابتداء من البحر الاحمر وعادت عبر مضيق جبل طارق و استمرت الرحلة ثلاث سنوات .

دلل علي صحة العبارة : لشبه جزيرة سيناء أهمية حضارية لافريقيا :

٣١

حيث انتقلت بعض الثقافات والحضارات من اسيا الي افريقيا من خلالها مثل الحضارة الاسلامية

دلل علي صحة العبارة : لمصر دور ريادي في قارة افريقيا ؟

٣٢

تولت مصر رئاسة الاتحاد الافريقي عام 2019 م .

دلل علي صحة العبارة : تمتد قارة افريقيا بين نصفي الكرة الارضية الشمالي و الجنوبي؟

٣٣

حيث تمتد بنحو ثلثي مساحتها في نصف الكرة الشمالي والثلث الاخر في نصف الكرة الجنوبي .

دلل علي صحة العبارة : كان للبحر الاحمر دور مهم في انتشار الاسلام في شرق افريقيا ؟

٣٤

حيث استخدمه المسلمون الاوائل في التنقل بين شبه الجزيرة العربية و افريقيا ، ثم انشئوا بعض المراكز الاسلامية علي طول الساحل الشرقي الافريقي . .

دلل علي صحة العبارة : اختلاف نشأة حضارة قرطاج عن حضارة مصر وأكسوم وكوش؟

٣٥

حيث لم ترتبط حضارة قرطاج بنهر النيل و انما قامت علي الساحل الشمالي للبحر المتوسط معتمدة علي التجارة .

دلل علي صحة العبارة : اهتمت مصر بزيادة مائية بحيرة فيكتوريا وبحيرة كيوجا ؟

٣٦

حيث قامت مصر بتطهير بحيرة فيكتوريا وكيوجا من الحشائش و النباتات .

دلل علي صحة العبارة : الاهمية الحضارية لموقع قارة افريقيا :

٣٧

حيث نشأت العديد من الحضارات علي أرضها والتي تعد من اقدم الحضارات في العالم ، مثل : الحضارة المصرية القديمة في مصر .

حضارة كوش في السودان - حضارة اكسوم في ارتيريا و اثيوبيا - حضارة قرطاج في تونس .



٣٨

دلل علي صحة العبارة : تأثر الكوشيين بمظاهر الحضارة المصرية القديمة ؟

حيث ظهر ذلك في : بناء الاهرامات والمعابد - نحت التماثيل .
-عبادة بعض المعبودات المصرية الاصل مثل رع و امون و أوزوريس و ايزيس .

٣٩

دلل علي صحة العبارة : براعة الفنان المصري خلال عصر الدولة القديمة في فن الرسم ؟

حيث استخدم الألوان لتصميم الصور الجدارية علي جدران المعابد .

٤٠

دلل علي صحة العبارة : وصل فن النحت في عهد الملك خفرع الي قمته ؟

حيث استطاع الفنان المصري القديم استخدام أصلب انواع الحجر في نحت التماثيل مثل حجر الديوريت .

٤١

دلل علي صحة العبارة : تنوعت الانجازات المعمارية في عهد الملك أوسركاف ؟

حيث :- شيد معابد الشمس المكشوفة في ابي صير بالجيزة. وأقام العديد من المسلات الضخمة.

٤٢

دلل علي صحة العبارة : اهتمام ملوك العصر العتيق بالأنشطة الاقتصادية ؟

حيث اهتم ملوك هذا العصر بـ :

الطرق الصحراوية لتأمين التجارة المارة بها - السيطرة علي المناطق الواقعة جنوب الجندل الأول من أجل التجارة واستغلال المناجم - استغلال محاجر سيناء .

ماذا يحدث اذا

السؤال الثامن

١

كانت هضبة البحيرات الاستوائية تنحدر نحو الجنوب ؟

لم تصبح المنبع الدائم لنهر النيل ولم يصبح نهر النيل دائم الجريان وثنائي المنبع .

٢

لم يمتد الاخدود الافريقي العظيم في شرق افريقيا ؟

لن تتكون بعض الظاهرات التضاريسية مثل البحر الاحمر وخليجي عدن والعقبة .

٣

اقتصرت منابع نهر النيل علي هضبة البحيرات الاستوائية ؟

سيؤدي ذلك الي : خسارته للمصدر الموسمي غزير المطر المتمثل في هضبة الحبشة ، ويصبح نهر النيل أحادي المنبع .

٤

لم يتعرض نظام الصحاري الحارة في افريقيا لموجات الجفاف ؟

لم تنخفض معدلات نمو النبات الطبيعي بالصحاري ، وبالتالي لم تتعرض أعداد كبيرة من الحيوانات و الطيور للانقراض .

٥

لم تقترب جبال اطلس من البحر المتوسط ؟

لم تكن السهول الساحلية علي البحر المتوسط في بلاد المغرب العربي ضيقة .

٦

لم يتم نقل الطمي من هضبة الحبشة (الهضبة الاثيوبية) الي مصر والسودان ؟

لم تتميز سهول وادي النيل الموجودة في مصر والسودان بخصوبة تربتها ونشاطها الزراعي .



- ٧ تمكنت شعوب البحر المتوسط من هزيمة رمسيس الثالث ؟
سيطرتهم علي مصر وهجوم الليبيين علي مصر من الناحية الغربية ، ولم تتم جميع الاصلاحات الداخلية التي تمت في عهد رمسيس الثالث .
- ٨ لم يستطيع الملك احمس الاول القضاء علي خطر الهكسوس ؟
استمرار الهكسوس في احتلال مصر ولم يتم القضاء علي خطرهم - لم يتم تأسيس الدولة الحديثة .
- ٩ هزم الملك رمسيس الثاني امام الحيثيين ؟
سيطرة الحيثيين علي مصر ، ولم يتم عقد اول معاهدة سلام التاريخ .
- ١٠ كان الملك بيبي الثاني من ملوك الاقوياء ؟
لم تعم الفوضى بالبلاد - لم تزد نفوذ السلطة المركزية - لم تحدث الثورة العارمة التي قامت في ذلك الفترة - لم ينته عصر الدولة القديمة - لم تدخل مصر عصر الاضمحلال الاول (الضعف الاول)
- ١١ تم ازالة غابات حوض نهر الكونغو بإفريقيا بالنسبة للتوازن البيئي ؟
سيؤدي ذلك الي : زيادة انبعاثات الكربون في قارة افريقيا وبالتالي اختلال التوازن البيئي وانقراض عدد كبير من الحيوانات .
- ١٢ لم تسقط الامطار الشتوية في مناطق غابات البحر المتوسط ؟
لن تنمو اشجار غابات البحر المتوسط مثل الارز والصنوبر والبلوط الفليني مما يؤثر بالسلب علي التنوع البيولوجي .
- ١٣ لم تسقط الامطار الشتوية في مناطق غابات البحر المتوسط ؟
لم تنم النباتات ولم تعدل درجات الحرارة شتاء
- ١٤ لم تكن الغابات المدارية المطيرة كثيفة ومتشابكة ؟
لم تكثر بها النباتات المتسلقة والطفيلية .

ما العلاقة بين كلامنا

السؤال التاسع

- ١ الدول الاستعمارية وتقسيم قارة افريقيا
عملت الدول الاستعمارية علي تقسيم لدول متعددة لضمان سيطرتها عليها
- ٢ العرب والبرتغاليين في الكشف الجغرافية لقارة افريقيا
حيث استفاد البرتغاليون مما كتبه العرب عن افريقيا في محاولاتهم لاكتشاف افريقيا في عهد الامير هنري الملاح .
- ٣ الامن القومي لسيناء وامن القارة الافريقية
من خلال سيناء تعرضت مصر والقارة للعديد من الحملات العسكرية، ولذلك فان الحفاظ علي امن سيناء القومي ضروري للحفاظ علي الامن القومي المصري والافريقي .
- ٤ الموقع الجغرافي لقارة افريقيا واهميتها الاقتصادية
حيث ادي الموقع الجغرافي لإفريقيا الي زيادة اهميتها الاقتصادية نتيجة تحكمها في طرق الملاحة العالمية



٥ هضبة الحبشة ونهر النيل .

هضبة الحبشة هي المنبع الدائم لنهر النيل بسبب أمطارها الصيفية ، مما يجعلها مصدرا مهما لتدفق مياه نهر النيل .

٦ هضبة شمال افريقيا وتنوع مظاهر السطح

تنوع بهضبة شمال افريقيا مظاهر السطح / حيث نجد الجبال مثل جبل العوينات علي الحدود بين مصر وليبيا والسودان كما نجد المنخفضات كمنخفض القطارة والعديد من الواحات مثل واحه سيوة في مصر والجوف في ليبيا وتظهر الصحراء الكبرى التي تعد اكبر صحاري العالم

٧ هضبة البحيرات الاستوائية والمياه العذبة

هضبة البحيرات الاستوائية تضم بحيرات عذبة كبيرة مثل بحيرة فيكتوريا وهي تمد نهر النيل بالمياه طوال العام مما يجعلها مصدرا رئيسيا للمياه العذبة

٨ التكوينات البركانية والنشاط الزراعي في شرق افريقيا

ادت التكوينات البركانية الي زيادة خصوبة التربة بشرق النيل مما جعلها مناسبة للزراعة .

٩ الاقتصاد الازرق والموارد المائية في افريقيا ؟

الاقتصاد الازرق يعتمد علي استثمار الموارد المائية بشكل مستدام لتحقيق التنمية الاقتصادية والقضاء علي الفقر

١٠ تجمع الاندوجو ودول حوض النيل

انشاء الاندوجو كان بهدف تعزيز التعاون والتنسيق بين دول حوض النيل للحفاظ علي المصالح المشتركة وتطوير الموارد المائية لنهر النيل .

١١ جهود مصر في كينيا والسودان ، وتحقيق التنمية المستدامة لحوض النيل

حيث قامت مصر بحفر الابار في كينيا وانشاء خزان سنار علي النيل الازرق ودفع تكاليف انشاء خزان جبل الاولياء لصالح السودان

١٢ حضارة كوش والحضارة المصرية القديمة

أقامت حضارة كوش علاقات تجارية وثقافية مع مصر مما أدى الي تبادل السلع والثقافة مثل بناء الاهرامات و التأثير بالمعتقدات الدينية المصرية ، كما ان الحضارتين قامتا علي ضفاف النيل

١٣ الظروف المناخية في شرق ووسط افريقيا ومائية نهر النيل في مصر

حيث تسقط الامطار طوال العام علي هضبة البحيرات الاستوائية وهي المنبع الدائم لنهر النيل كما تسقط الامطار صيفا علي هضبة الحبشة التي تعد المنبع الموسمي لنهر النيل

١٤ الاقتصاد الازرق والموارد المائية في افريقيا ؟

الاقتصاد الازرق يعتمد علي استثمار الموارد المائية بشكل مستدام لتحقيق التنمية الاقتصادية والقضاء علي الفقر .



١٥ الكشوف الأثرية جنوب مصر وشهرة الملك توت عنخ امون

ترجع شهرة الملك توت عنخ امون الي اكتشاف مقبرته في 1922م في وادي الملوك في البر الغربي حيث احتوت هذه المقبرة علي روائع فنية وكنوز أثرية لامثيل لها والتي تعبر عن تقدم الفنون المصرية القديمة .

١٦ نقص الاخشاب بمصر في عهد الملك سنفرو والعلاقات بدول الجوار

تتمثل العلاقة في انه نتيجة نقص الاخشاب بمصر أرسل الملك سنفرو اسطولاً الي فينيقيا لاجتثاث خشب الارز .

١٧ الاسرة الخامسة ونصوص الاهرام

تتمثل العلاقة في ان اخر ملوك الاسرة الخامسة الملك اوناس كان اول من كتب نصوص الاهرامات التي مدتنا بالكثير من المعلومات عن العقيدة الدينية لدي المصريين القدماء .

١٨ الملك مينا وعصر التأسيس

بدأ عصر التأسيس عندما قام الملك مينا بتوحيد مملكتي الشمال والجنوب و اتخذ مدينة (من - نفر) عاصمة للبلاد

١٩ المقبرة وبناء الاهرامات

تطور شكل المقبرة من حفرة صغيرة في باطن الأرض الي شكل الهرم الكامل .

٢٠ الملك سنوسرت الثالث وازدهار التجارة الخارجية

حيث ادي حفر الملك سنوسرت الثالث لقناة سيزوستريس الي ازدهار التجارة الخارجية

٢١ الملك امنمحات الاول وحكام الاقاليم

تتمثل العلاقة في قيام الملك امنمحات الاول بإخضاع حكام الاقاليم بمنحهم الالقاب الرفيعة و تقريبهم منه

٢٢ الملك سنوسرت الثالث وتأمين الحدود المصرية

حيث قام الملك سنوسرت الثالث من أجل تأمين حدود مصر بحملات عسكرية ناجحة لتأمين حدود مصر والدفاع عنها من جهة الشمال و الجنوب وقام ببناء الحصون

٢٣ التعليم و الامن القومي المصري في عهد تحتمس الثالث

بعد انتهاء الحرب بين الملك تحتمس الثالث مع امراء اسيا اخذ أبناءهم الي مصر ليتعلموا العادات و التقاليد المصرية ويغرس في نفوسهم حب مصر حتي اذا ما عادوا الي بلادهم تولوا الحكم و اصلحوا من اتابعه المخلصين مما ساعد علي الامن القومي المصري في تلك المنطقة .



لاحظ الخريطة ثم أجب

السؤال العاشر

١



١ حضارة قديمة..... **قرطاج**.....

٢ دولة وصل إليها ابن بطوطة **مالي**.....

٣ سهول فيضية لنهر **السنغال**.....

٤ أحد المضائق الاستراتيجية **باب المنذب**.....

٥ جبال بركانية **دراكنزبرج**.....

٦ منطقة تعرضت لانكسارات أرضية..... **البحر الأحمر**...

٧ خليج **غينيا**.....

٨ منطقة تأثيرات التوائية..... **جبال أطلس**.....

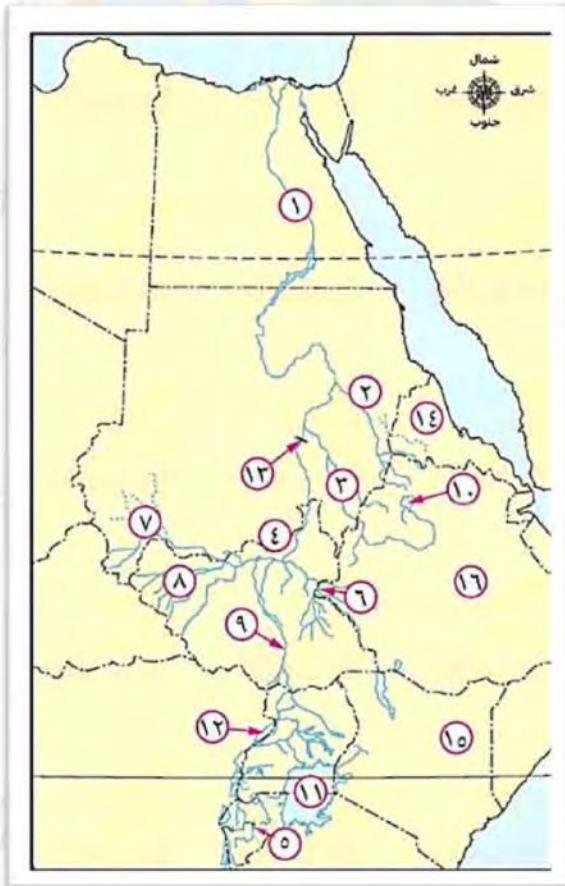
٩ دولة حبيسة..... **إثيوبيا**.....

١٠ جزيرة **مدغشقر**.....

١١ مضيق **موزمبيق**.....

١٢ هضبة **جنوب إفريقيا**.....

٢



١ أحد عوامل قيام الحضارة المصرية القديمة... **نهر النيل**...

٢ أحد الروافد الموسمية لنهر النيل ... **عطبرة**...

٣ النيل **الأزرق**...

٤ من روافد نهر النيل الذي وصل إليه محمد على **النيل الأبيض**...

٥ يعد من روافد بحيرة فيكتوريا **نهر كاجيرا**...

٦ النهر الداعم لبحر الجبل **السوبات**...

٧ بحر ... **العرب**...

٨ بحر **الغزال**...

٩ بحر ... **الجبل**...

١٠ بحيرة تقع ضمن الروافد الموسمية لنهر النيل **تانا**...

١١ ثاني أكبر بحيرة طبيعية عذبة في العالم **فيكتوريا**...

١٢ بحيرة ... **ألبرت**...

١٣ خزان أنشأته مصر **جبل الأولياء**...

١٤ حضارة إفريقية قديمة **أكسوم**...

١٥ دولة تضيق عندها السهول الساحلية ... **كينيا**...

١٦ دولة وقعت معها مصر اتفاقية عام 2015 م **إثيوبيا**...

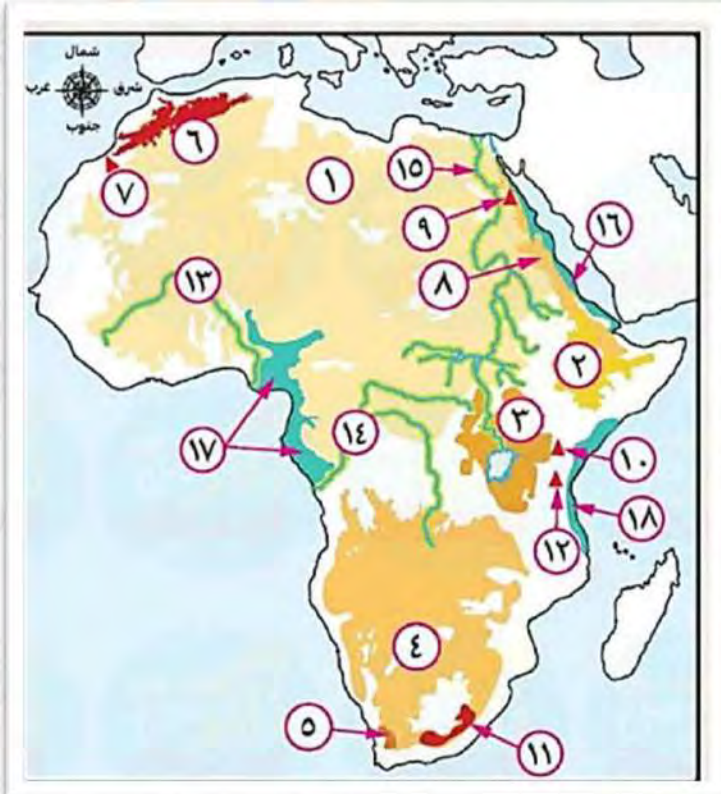


٣



- ١ نهر ينحدر من الغرب **كاجيرا**
- ٢ أحد السدود التي أنشأتها مصر **أوين**
- ٣ حضارة **أكسوم**
- ٤ بحيرة **تانا**
- ٥ مدينة أنشأها الفينيقيون **قرطاج**
- ٦ حضارة **كوش**
- ٧ خزان **جبل الأولياء**
- ٨ حضارة **مصر القديمة**
- ٩ دولة **كينيا**
- ١٠ المحيط **الأطلسي**
- ١١ المحيط **الهندي**
- ١٢ رأس **الرجاء الصالح**

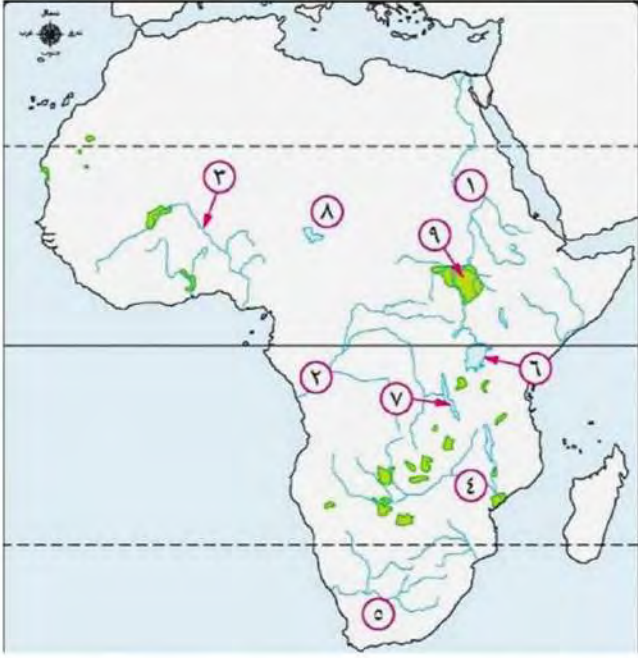
٤



- ١ أكبر هضاب القارة **شمال إفريقيا**
- ٢ أعلى هضاب القارة **الحبشة**
- ٣ بحيرة تنتشر بها قمم بركانية ... **البحيرات الاستوائية**
- ٤ هضبة تنحدر نحو الشرق ... **الجنوبية**
- ٥ جبال التوائية **الكاب**
- ٦ جبال تقع في بلاد المغرب العربي ... **أطلس**
- ٧ أعلى قمة جبلية في سلسلة جبال أطلس .. **توبقال**
- ٨ جبال انكسارية **البحر الأحمر**
- ٩ أعلى قمة جبلية في سلسلة جبال البحر الأحمر ... **شايب البنات**
- ١٠ جبل بركاني **كينيا**
- ١١ جبل بركاني **دراكنز برج**
- ١٢ أعلى قمة جبلية في إفريقيا **كلمنجارو**



0



- ١ نهر النيل
- ٢ أحد الأنهار الاستوائية الكونغو
- ٣ نهر ... النيجر
- ٤ نهر الزمبيزي
- ٥ نهر ... الأورانج
- ٦ بحيرة تعد المنبع الدائم لنهر النيل ... فيكتوريا
- ٧ بحيرة تنجانيقا
- ٨ بحيرة ... تشاد
- ٩ مستنقعات مكشوفة السد في جنوب السودان

1



- ١ نظام حشائش الحارة السافانا
- ٢ نظام حشائش الحارة السافانا
- ٣ نظام حشائش معتدلة الاستبس
- ٤ إقليم يجد به حشائش الاستبس الفلد
- ٥ نظام صحراوي حار الصحراء الكبرى
- ٦ نظام صحراوي حار صحراء كلهاري
- ٧ نظام صحراوي حار صحراء ناميبيا

انتهت الأسئلة مع اطيب الامنيات بالنجاح



El.Motamyez.School

المراجعة رقم 2

بنك أسئلة البروفيسور الشامل في مادة " الدراسات الاجتماعية "

على مقررات الفصل الدراسي الأول

السؤال الأول

ضع علامة (✓) أمام العبارة الصحيحة و علامة (×) أمام العبارة غير الصحيحة

- ١- تقع قارة إفريقيا في وسط قارات العالم . ()
- ٢- تتمتع قارة إفريقيا بأهمية استراتيجية كبيرة عبر العصور . ()
- ٣- يقع نحو ثلث مساحة القارة الإفريقية في النصف الشمالي . ()
- ٤- يعد الحفاظ على أمن سيناء ضرورة للحفاظ على الأمن القومي المصري . ()
- ٥- تعرضت مصر وقارة إفريقيا للعديد من الحملات الاستعمارية . ()
- ٦- تنقسم قارة إفريقيا إلى دول متساوية في المساحة . ()
- ٧- وصل المصريون القدماء إلى السودان والقرن الإفريقي . ()
- ٨- تعمل مصر على تدعيم علاقتها مع دول وشعوب القارة الإفريقية . ()
- ٩- بدأت رحلة الدوران حول قارة إفريقيا في العهد الفرعوني من البحر الأحمر وانتهت إلى مضيق باب المندب . ()
- ١٠- تتميز هضبة شمال إفريقيا بفقر في مظاهر سطحها . ()
- ١١- تقع أكبر صحارى العالم في الناحية الجنوبية لقارة إفريقيا . ()
- ١٢- أصبحت هضبة الحبشة الإثيوبية صالحة للزراعة بسبب الطفوح البركانية . ()
- ١٣- تعد جبال الكاب أعلى قمة جبلية في سلسلة جبال أطلس . ()
- ١٤- يقع جبل شايب البنات في قارة إفريقيا ناحية الغرب . ()
- ١٥- اتجه حركة المياه من الجنوب إلى الشمال جعل سهول وادي النيل بمصر أرضًا صالحة للزراعة. ()
- ١٦- يعتبر الاقتصاد الأزرق الداعم الأساسي لتحقيق الاكتفاء الذاتي من الغذاء بإفريقيا. ()
- ١٧- تعد جبال أطلس السبب الرئيسي في ضيق سهول البحر المتوسط في بلاد المغرب العربي . ()
- ١٨- ارتفاع جبل كلمنجارو هو السبب الرئيسي في جعل قمته منخفضة الحرارة . ()
- ١٩- تتسم المنابع الدائمة لنهر النيل بالفيضان وزيادة البخر بسبب موقعها الفلكي . ()
- ٢٠- ترجع فكرة إنشاء تجمع الأندوجو لدول حوض النيل إلى إحدى الدول الواقعة على البحر المتوسط جنوب قارة إفريقيا . ()



- ٢١ - تنحدر مياه نهر النيل من شمال إفريقيا إلى جنوبها حتى المصب في البحر المتوسط . ()
- ٢٢ - قامت مصر بإنشاء مركز للبحوث المائية في تنزانيا تحقيقا لمفهوم الاقتصاد الأخضر. ()
- ٢٣ - أخذ الكوشيون من الحضارة المصرية القديمة بعض المعبودات مثل رع وآمون رع . ()
- ٢٤ - تعد هضبة الحبشة المنبع الموسمي لنهر النيل . ()
- ٢٥ - أقام الفينيقيون مدينة قرطاج في إفريقيا من أجل تأمين تجارتهم إلى أوروبا . ()
- ٢٦ - هناك علاقة بين استقرار حياة المصري القديم ونهر النيل . ()
- ٢٧ - سيطرت حضارة أكسوم بحكم موقعها الجغرافي على منابع النيل الموسمية . ()
- ٢٨ - عقدت اتفاقية ٢٠١٥م بين مصر وإثيوبيا والسودان الإدارة وتنمية مياه نهر النيل والاستخدام المنصف لها . ()
- ٢٩ - يشمل العصر العتيق الأسرتين الثانية والثالثة . ()
- ٣٠ - اهتم ملوك العصر العتيق بالطرق الصحراوية لتأمين التجارة المارة بها . ()
- ٣١ - استخدم المصريون القدماء الألوان لتصميم صور جدارية على جدران المعابد . ()
- ٣٢ - تغير أسلوب العمارة للمقابر الملكية في عهد الدولة القديمة . ()
- ٣٣ - يعد الملك خوفو صاحب الهرم المدرج بسقارة . ()
- ٣٤ - ازدهرت مصر في عهد الملك سنفر و اجتماعيا وتجاريا وفنيا وعمرانيا . ()
- ٣٥ - أرسل الملك سنفر وأربعين سفينة إلى بلاد النوبة . ()
- ٣٦ - شيد الملك أوسر كاف هرما في سفارة . ()
- ٣٧ - سادت الصداقة والتعاون والتبادل الثقافي بين مصر وإفريقيا في عصر الدولة القديمة . ()
- ٣٨ - تولت الملكة سبك نفرو بعد وفاة أمنمحات الثالث . ()
- ٣٩ - استطاع الهكسوس أن يستولوا على الوجه البحري والقبلي لمصر . ()
- ٤٠ - عمل كامس على تأمين الحدود الجنوبية لمصر . ()
- ٤١ - استطاع أحمس أن يحرر مصر من الهكسوس . ()
- ٤٢ - أنشأ الملك منتوحتب الثاني عاصمة جديدة للبلاد سميت بـ «إثيت تاوى» . ()
- ٤٣ - استكملت الملكة سبك نفرو هرم أخيها في منطقة هواره . ()
- ٤٤ - يسمى عصر الأسرة الـ ١٧ الفرعونية عصر الشهداء . ()
- ٤٥ - كان بداية النضال الحقيقي ضد الهكسوس على يد سقنن رع الثاني . ()
- ٤٦ - كانت بلاد بونت ترسل الإمدادات للهكسوس في مصر . ()



- ٤٧ - للمرأة المصرية قديما دور عسكري مشرف مثل إياح حتب . ()
- ٤٨ - كان كفاح الملك أحسن ضد الهكسوس كفاحا مسلحا . ()
- ٤٩ - كانت عاصمة البلاد أثناء حكم الملك أحسن مدينة طيبة . ()
- ٥٠ - اقتصر اهتمام ملوك الدولة الحديثة على البعد الآسيوي فقط دون الاهتمام بإفريقيا. (×)
- ٥١ - تميزت مصر في عصر الدولة الحديثة بتقدم ملحوظ في كافة المجالات، مما جعلها قوة عظمى . ()
- ٥٢ - الملك أحسن الأول هو الذي بدأ الكفاح ضد الهكسوس ونجح في تحرير مصر من احتلالهم . ()
- ٥٣ - أرسلت الملكة حتشبسوت بعثتين تجاريتين إلى بلاد بونت . ()
- ٥٤ - قاد الملك تحتمس الثالث ١٦ حملة عسكرية في آسيا وكان له دور كبير في توسيع الإمبراطورية المصرية . ()
- ٥٥ - أعاد الملك توت عنخ آمون العاصمة إلى طيبة وأعاد لعبادة الإله آمون مكانتها . ()
- ٥٦ - قاد الملك رمسيس الثاني معركة قادش ضد الحيثيين، وانتهت بعقد أول معاهدة سلام في التاريخ . ()
- ٥٧ - تمكن مؤسس الأسرة الكوشية في السودان القديم من السيطرة على معظم مصر وبدأت به الأسرة الـ ٢٥ . ()
- ٥٨ - تتفاعل مكونات النظام البيئي مع بعضها وفق نظام دقيق . ()
- ٥٩ - يتفاوت حجم النظم البيئية في العالم . ()
- ٦٠ - توجد نظم بيئية كبيرة المساحة مثل الغابات الاستوائية . ()
- ٦١ - تتنوع النظم البيئية في قارة إفريقيا فمنها النظم الأرضية والنظم المائية . ()
- ٦٢ - تنتشر غابات البحر المتوسط في جزيرة مدغشقر . ()
- ٦٣ - تتميز الغابات المدارية المطيرة بأنها غابات قليلة الأشجار . ()
- ٦٤ - تنتج غابات حوض نهر الكونغو كميات قليلة من الأكسجين . ()
- ٦٥ - تعد غابات البحر المتوسط نوعا من الأنظمة البيئية الأرضية . ()
- ٦٦ - تزداد كمية الأمطار الساقطة على البحر المتوسط في قارة إفريقيا بصفة عامة . ()
- ٦٧ - تساعد غابات البحر المتوسط على احتجاز كميات كبيرة من الكربون وتحسين جودة الهواء . ()
- ٦٨ - تسجل قارة إفريقيا أعلى معدل خسارة في مساحة الغابات على مستوى العالم . ()
- ٦٩ - يقع نظام الحشائش الحارة في بيئة انتقالية . ()
- ٧٠ - يتميز نظام حشائش الإستبس بارتفاع درجة الحرارة . ()



- ٧١- تعتمد حشائش السافانا على سقوط الأمطار الشتوية . ()
- ٧٢- من الحيوانات التي تعيش بحشائش السافانا النمر والأسود . ()
- ٧٣- تتسم تربة حشائش السافانا بلونها الفاتح وغناها بالمواد العضوية . ()
- ٧٤- يعاني نظام حشائش السافانا من مخاطر بشرية تتمثل في تجريف التربة وزيادة الملوحة بها . ()
- ٧٥- تنمو أشجار السنط داخل حشائش السافانا الغنية . ()
- ٧٦- يتسم نظام الإستبس بسقوط الأمطار الغزيرة في فصل الشتاء . ()
- ٧٧- تعيش أعداد قليلة جدا من الأغنام داخل نطاق حشائش الإستبس . ()
- ٧٨- تعد الصحراء الكبرى أكبر الصحاري الحارة بإفريقيا . ()
- ٧٩- تعتبر الصحاري الحارة منطقة جيدة لرعى الإبل والماعز . ()
- ٨٠- تنقسم النظم المائية إلى نوعين رئيسيين . ()
- ٨١- توجد الشعاب المرجانية في سواحل البحر المتوسط في مصر . ()
- ٨٢- تعد بحيرة تشاد أحد النظم المائية المالحة في إفريقيا . ()
- ٨٣- حدث انقراض جماعي للفقاريات في بحيرة فيكتوريا . ()
- ٨٤- يعد نهر النيل أول أنهار العالم من حيث التنوع البيولوجي . ()
- ٨٥- تقع مستنقعات نبات البردي في شرق ووسط وشمال قارة إفريقيا . ()
- ٨٦- صنفت منظمة الفاو منطقة حوض أركين كأحد مناطق التراث العالمي . ()
- ٨٧- بدأ ارتباط العرب بعلاقات تجارية مع إفريقيا بعد ظهور الإسلام . ()
- ٨٨- اختلط عرب شبه الجزيرة العربية بإفريقيا قديما وتزوجوا منها . ()
- ٨٩- اعتمد انتشار الإسلام في إفريقيا على الأسلوب السلمي في الإقناع . ()
- ٩٠- كان الدعاة يحظون بنوع من التقدير والاحترام بين القبائل الإسلامية في إفريقيا . ()
- ٩١- لعب التجار المسلمون بشكل مباشر دورا بارزا في نشر الإسلام بإفريقيا من خلال صفاتهم الحميدة . ()
- ٩٢- كان التجار المسلمون يرسلون السكان الأصليين في إفريقيا لمصر لتلقى العلم . ()
- ٩٣- كانت الهجرات الإسلامية إلى قارة إفريقيا إحدى الوسائل المهمة لنشر الإسلام . ()
- ٩٤- رحب أهل برقة بالفتح الإسلامي لمصر كما رحب أهل مصر . ()
- ٩٥- أرسل عبد الله بن أبي السرح للخليفة عمر بن الخطاب يستأذنه في فتح إفريقية . ()
- ٩٦- منح الإسلام في إفريقيا للمرأة الحرية في اختيار الزوج وحدد عدد الزوجات . ()



- ٩٧- كانت كنيسة اليمن تابعة للكنيسة المصرية . ()
- ٩٨- حرص حكام الحبشة على الاستفادة من الخبرات السياسية والعسكرية لمصر . ()
- ٩٩- عرف نظام الدولة في إفريقيا قبل دخول الإسلام إليها . ()
- ١٠٠- من المعبودات المصرية التي عبدت في بلاد اليمن إيزيس وأوزوريس . ()
- ١٠١- تعد أدوات الزينة من السلع التي حملها التجار المصريون للدول الإفريقية . ()
- ١٠٢- عرف حكام الحبشة طرق جباية الأموال من بلاد النوبة . ()

السؤال الثاني

اختر الإجابة الصحيحة مما بين الأقواس

مراجعة + بنك أسئلة

- ١- يفصل قارة إفريقيا عن قارة أوروبا.....
(البحر الأحمر - البحر المتوسط - المحيط الهندي - المحيط الأطلنطي) .
- ٢- تقترب قارة إفريقيا من قارة أوروبا عند.....
(مضيق جبل طارق - مضيق باب المندب - مضيق هرمز - قناة السويس) .
- ٣- تمثل قارة أوروبا نحو..... مساحة قارات العالم .
(ربع - خمس - سدس - نصف) .
- ٤- يمر بقارة إفريقيا نحو..... دوائر عرض رئيسية .
(ثلاث - أربع - خمس - ست) .
- ٥- يحد قارة إفريقيا من جهة الغرب المحيط.....
(الهادي - الهندي - الأطلنطي - القطبي) .
- ٦- دولة إفريقية تقع في الركن الشمالي الشرقي هي.....
(مصر - ليبيا - الجزائر - تونس) .
- ٧- نشأت علي أرض إفريقيا حضارات قديمة مثل..... في تونس .
(كوش - أكسوم - قرطاج - فينيقيا) .
- ٨- انتقلت الحضارات من قارة آسيا إلي قارة إفريقيا عبر.....
(الصحراء الغربية - الصحراء الشرقية - شبه جزيرة سيناء - نهر النيل) .
- ٩- بدأت رحلة الدوران حول قارة إفريقيا عبر.....
(البحر الأحمر - البحر المتوسط - المحيط الهندي - المحيط الهادي) .



- ١٠ - انتهت رحلات محمد علي باشا الاستكشافية في إفريقيا باكتشاف.....
(النيل الأبيض - النيل الأزرق - البحر الميت - البحر الأسود) .
- ١١ - ساعدت الطفوح البركانية في هضبة الحبشة على قيام حرفة.....
(التجارة - الزراعة - الصناعة - الرعي) .
- ١٢ - من خلال دراستك لجبال البحر الأحمر الانكسارية أعلى قمة جبلية لتلك السلسلة هي.....
(جبل سانت كاترين - جبل شايب البنات - جبل المقطم - جبل علبة) .
- ١٣ - أى من الدول التالية لا تمتد فيها جبال البحر الأحمر؟.....
(مصر - السودان - إريتريا - ليبيا) .
- ١٤ - تتأثر خصوبة تربة وادى النيل بمصر بالطمي المنقول من ناحية.....
(الجنوب - الشمال - الشرق - الغرب) .
- ١٥ - أى من سهول إفريقيا الساحلية تتميز بحقولها الزراعية الغنية ؟ سهول.....
(البحر الأحمر - البحر العربي - وادى النيل - المحيط الأطلنطي) .
- ١٦ - تقع دولة..... شمال جزيرة مدغشقر .
(جزر القمر - جزر كنارى - جزر موريشيوس - جزر الرأس الأخضر) .
- ١٧ - تتميز سهول دولة..... المطلة على المحيط الهندي باتساعها .
(الصومال - مصر - إريتريا - تنزانيا) .
- ١٨ - من أمثلة الجبال البركانية التي توجد في جنوب القارة الإفريقية.....
(البحر الأحمر - شايب البنات - كلمنجارو - دراكنز برج) .
- ١٩ - تقع واحة..... في ليبيا .
(سيوة - القطارة - الجوف - عين صالح) .
- ٢٠ - يفصل مضيق..... جزيرة مدغشقر عن الساحل الشرقي للقارة .
(جبل طارق - موزمبيق - باب المندب - هرمز) .
- ٢١ - تقع منابع النيل الاستوائية في.....إفريقيا .
(شمال - جنوب - غرب - وسط) .
- ٢٢ - قامت حضارة..... في تونس حاليا .
(كوش - قرطاج - أكسوم - النوبة) .



- ٢٣ - الهدف الرئيسي من اتفاقية قانون تنظيم استخدام المجارى المائية فى الأغراض غير الملاحية.....
 (تنظيم الملاحة البحرية - حماية حقوق الصيد - الانتفاع الأمثل للمياه - تطوير السياحة النهرية) .
 ٢٤ - من المشروعات التي قامت مصر بإنشائها في أوغندا لتحقيق التنمية المستدامة إنشاء مشروع.....

(خزان سنار - خزان أسوان - سد جبل الأولياء - سد أوين) .

٢٥ - يعتبر نهر..... منبعاً موسمياً لنهر النيل .

(كاجيرا - عطبرة - الزمبيزي - النيجر) .

٢٦ - يشمل عصر الدولة القديمة الأسرات من الأسرة الثالثة حتى نهاية الأسرة.....
 (الرابعة - الخامسة - السادسة - السابعة) .

٢٧ - اهتم المصريون القدماء ببناء الأهرامات بداية من الأسرة.....
 (الثالثة - الرابعة - الخامسة - السادسة) .

٢٨ - أقام الملك زوسر هرمه المدرج في.....

(منف - بوتو - نخب - سقارة) .

٢٩ - اعتمد الملك سنفرو على جلب خشب الأرز من.....
 (النوبة - سيناء - بون - فينيقيا) .

٣٠ - قام الملك زوسر ببناء هرم مدرج يتكون من..... مصاطب .
 (خمس - ست - سبع - ثماني - تسع) .

٣١ - صاحب الهرم الأوسط ووصل فن النحت في عصره إلى قمته.....
 (سنفرو - خوفو - خفرع - أوسر كاف) .

٣٢ - ازداد نفوذ كهنة الإله..... في نهاية الأسرة الرابعة الفرعونية .
 (رع - آمون - أوزوريس - إيزيس) .

٣٣ - شيد الملك أوسركاف المعابد المكشوفة في.....
 (الجيزة - الفيوم - سوهاج - الأقصر) .

٣٤ - أحد ملوك عصر الدولة القديمة ، وهو أول من كتب نصوص الأهرام.....
 (خوفو - خفرع - سنفرو - أوناس) .

٣٥ - انتهى عصر الاضمحلال الأول وتوحدت البلاد مرة أخرى على يد ملوك الأسرة.....
 (السادسة - السابعة - العاشرة - الحادية عشرة) .



- ٣٦ - انتشرت الآت الموسيقية المصرية القديمة في..... إفريقيا .
(شرق - غرب - شمال - جنوب) .
- ٣٧ - وجه التشابه بين أعمال الملك مينا والملك منتوحتب الثاني هو.....
(توحيد البلاد - إنشاء عاصمة جديدة - مقاومة المحتل - تحصين البلاد) .
- ٣٨ - كانت أرض كوش تزود الهكسوس بالإمدادات حتى جاء..... فحرم الهكسوس منها .
(سقتن رع الأول - سقتن رع الثاني - كامس - أحمس) .
- ٣٩ - تشابهت أعمال الملك أمنمحات الأول مع الملك منتوحتب الثاني في.....
(إنشاء عاصمة جديدة - بناء الأهرامات - الحد من نفوذ حكام الأقاليم - مؤسس أسرة جديدة) .
- ٤٠ - يرمز اسم الإله (سبك) عند المصريين القدماء إلى.....
(الخصوبة - القوة - الموت - العدالة) .
- ٤١ - بدء الضعف في عصر الرخاء الاقتصادي بعد وفاة الملك.....
(أمنمحات الثالث - أمنمحات الرابع - سبك نفرو - سنوسرت الثالث) .
- ٤٢ - تكونت أول إمبراطورية مصرية في عصر.....
(الدولة القديمة - الدولة الوسطى - الدولة الحديثة - الازمحلل الأول) .
- ٤٣ - أرسلت الملكة..... بعثات تجارية إلى بلاد بونت .
(حتشبسوت - كليوباترا - نفرتاري - نفرتيتي) .
- ٤٤ - اتجه الملك تحتمس الأول بعد استقرار مصر إلى جهة.....
(الجنوب - الشمال - الغرب - الشرق) .
- ٤٥ - قام الملك..... بحملة على بلاد كوش .
(أحمس - تحتمس الثالث - رمسيس الثاني - توت عنخ آمون) .
- ٤٦ - أكثر اهتمامات الملك توت عنخ آمون كانت ممثلة في.....
(المعابد - الانتصارات - الحملات - الإصلاحات) .
- ٤٧ - بنى الملك رمسيس الثاني معبدا بأبو سمبل لزوجته الملكة.....
(حتشبسوت - كليوباترا - نفرتاري - نفرتيتي) .
- ٤٨ - أعاد..... لعبادة آمون مكانتها .
(أحمس - توت عنخ آمون - تحتمس الثالث - حتشبسوت) .



٤٩ - قامت معركة مجدو بهدف.....

(التوسع - التجارة - الحماية - التحالف) .

٥٠ - يتكون النظام البيئي من مكونات حية مثل.....

(المياه - المعادن - التربة - النباتات) .

٥١ - أحد الأسباب الطبيعية لحدوث اختلال في التوازن البيئي.....

(الثورانات البركانية - الرعي الجائر - التوسع العمراني - الحروب الحديثة) .

٥٢ - من أشجار الغابات المدارية المطيرة.....

(المطاط - الزيتون - الموالح - الغنبد) .

٥٣ - توجد الغابات المدارية المطيرة بساحل غرب القارة.....

(غانا - موريتانيا - مالي - الصومال) .

٥٤ - يمتد نظام غابات البحر المتوسط في العالم على الجانب..... للقارات .

(الشرقي - الغربي - الشمالي - الجنوبي) .

٥٥ - أي من الأنظمة التالية ينتمي إلى النظم البيئية المائية؟.....

(نظام حشائش السافانا - نظام حشائش الإستبس - الغابات المدارية المطيرة - النظم البيئية للمياه العذبة) .

٥٦ - تعد أشجار البحر المتوسط ذات أهمية اقتصادية وغذائية كبيرة مثل.....

(الماهوجني - الأبنوس - المطاط - الزيتون) .

٥٧ - تعد غابات البحر المتوسط مراعى طبيعية.....

(الأغنام - الطيور - التماسيح - النمر) .

٥٨ - تقل الحيوانات بوضوح في نظام.....

(الحشائش البستانية - الحشائش الحارة - الحشائش المعتدلة - الصحاري الحارة) .

٥٩ - أي من الحيوانات التالية تتحمل الظروف الصحراوية القاسية؟.....

(الأبقار - الإبل - الجاموس - العقارب) .

٦٠ - تمتد حشائش..... بين دائرتي عرض (١٠ - ١٨) شمال وجنوب دائرة الاستواء .

(السافانا - الإستبس - المعتدلة - التندرا) .

٦١ - تسقط الأمطار في نطاق حشائش السافانا في فصل.....

(الصيف - الشتاء - الربيع - الخريف) .

- ٦٢- تنمو حشائش السافانا الغنية بالقرب من.....
- (غابات البحر المتوسط- الغابات النفضية - الغابات المدارية المطيرة- الغابات الصنوبرية) .
- ٦٣- تشغل حشائش الإستبس مساحة صغيرة في إقليم الفلد بدولتي جنوب إفريقيا.....
- (تنزانيا - ليسوتو - أنجولا - النيجر) .
- ٦٤- تعادل درجات الحرارة صيفاً بحشائش.....
- (السافانا - الإستبس - التندرا - الصحاري) .
- ٦٥- تتسم تربة كل من الإستبس والسافانا بغناها.....
- (المواد الكيميائية - المواد العضوية - التكوينات الصخرية - التكوينات البركانية) .
- ٦٦- من العوامل الطبيعية التي تؤثر بالسلب على أشجار المانجروف.....
- (الرعي الجائر - التوسع العمراني - التنمية السياحية - التغيرات المناخية) .
- ٦٧- توجد الشعاب المرجانية في معظم السواحل..... لقارة إفريقيا.
- (الشمالية - الشرقية - الجنوبية - الغربية) .
- ٦٨- تشتهر مصر بوجود الشعاب المرجانية خاصة في مدينة.....
- (مطروح - الإسكندرية - الغردقة - السويس) .
- ٦٩- من العوامل البشرية التي تدمر الشعاب المرجانية.....
- (الفيضانات - التلوث - المناخ - السدود) .
- ٧٠- من البحيرات المالحة في إفريقيا بحيرة.....
- (فيكتوريا - البردويل - تنجانيقا - تشاد) .
- ٧١- محمية أركين تعتبر أشهر المحميات الطبيعية في دولة.....
- (مصر - الكونغو - كينيا - موريتانيا) .
- ٧٢- عرفت إفريقيا قديماً الإسلام لأول مرة عن طريق بلاد.....
- (النوبة - الحبشة - بونت - مصر) .
- ٧٣- من المعابر الأساسية التي استخدمها العرب مع شرق إفريقيا.....
- (المحيط الهادى - المحيط الهندى - المحيط الأطلنطي - البحر المتوسط) .
- ٧٤- أشهر الموانئ والمراكز التجارية التي نشرت الإسلام في إفريقيا كانت تقع فى دولة.....
- (مصر - الكونغو - تنزانيا - نيجيريا) .



- ٧٥- بدأ الفتح الإسلامي لمصر في عهد.....
- (الدولة الأموية - الدولة العباسية - الخلفاء الراشدين - الدولة الفاطمية) .
- ٧٦- أولى الدول الإفريقية التي فتحها المسلمون هي.....
- (مصر - المغرب - الصومال - أوغندا) .
- ٧٧- أول جيش إسلامي وصل إلى مدينة برقة كان بقيادة.....
- (عمرو بن العاص - عبد الله بن أبي السرح - خالد بن الوليد - عبد الملك بن مروان) .
- ٧٨- القاسم المشترك بين أهل برقة وأهل مصر هو المعاناة من حكم.....
- (الأمويين - العباسيين - الروم - المغول) .
- ٧٩- تم الفتح الإسلامي لمصر في عهد الخليفة.....
- (أبي بكر الصديق - عمر بن الخطاب - عثمان بن عفان - علي بن أبي طالب) .
- ٨٠- فتحت في عهد الخليفة عثمان بن عفان.....
- (مصر - برقة - طرابلس - إفريقيا) .
- ٨١- أصبحت اللغة العربية هي اللغة الرسمية في بعض الدول الإفريقية ومنها.....
- (تنزانيا - الصومال - أوغندا - اليمن) .
- ٨٢- ساهم..... في تطوير الجوانب الإدارية بالحبشة .
- (الأيوبيون - العباسيون - المماليك - الفاطميون) .
- ٨٣- تقع جامعة سنكوري في دولة.....
- (غينيا - إثيوبيا - مالي - السنغال) .
- ٨٤- تستورد مصر من الدول الإفريقية.....
- (الأواني النحاسية - المصنوعات الحديدية - الزجاج - الصمغ) .
- ٨٥- بداية ظهور التأثير الديني لمصر على الشعوب الإفريقية كان في.....
- (العصور القديمة - العصور الوسطى - العصر الحديث - التاريخ المعاصر) .
- ٨٦- فضل ملوك وحكام الدول الإفريقية المنتجات المصرية بسبب.....
- (جودتها - رخصها - سهولة نقلها - ندرتها) .
- ٨٧- وجدت أوان فخارية تشير إلى التبادل التجاري بين مصر والدول الإفريقية في مناطق الساحل.....
- (الشمالي الإفريقي - الشرقي الإفريقي - الجنوبي الإفريقي - الغربي الإفريقي) .



السؤال الثالث

اكتب ما تشير إليه العبارة

- ١ - الدول التي تطل على مسطحات مائية .
- ٢ - بحر يفصل قارة إفريقيا عن قارة أوروبا .
- ٣ - دول حرصت على تقسيم دول إفريقيا لدول مختلفة في المساحة .
- ٤ - دولة إفريقية تم انتخابها لرئاسة الاتحاد الإفريقي لعام ٢٠١٩ م .
- ٥ - طريق اكتشافه البرتغاليون للدوران حول إفريقيا .
- ٦ - كان لهم دور في اكتشاف منابع النيل في نهاية القرن الـ ١٨ م وخلال القرن الـ ١٩ م .
- ٧ - جبال تكونت نتيجة الثورات البركانية .
- ٨ - استثمار الموارد المائية بشكل مستدام لتحقيق التنمية المستدامة والقضاء على الفقر وتحقيق الاكتفاء الذاتي .
- ٩ - هضبة عظيمة الاتساع وقليلة الارتفاع وتنحدر تدريجيا نحو الشمال حتى تلتقى بسواحل البحر المتوسط .
- ١٠ - أحد منابع نهر النيل وتتسم بقلّة مياهها مقارنة بالمنابع الإثيوبية .
- ١١ - حضارة إفريقية أثرت في تاريخ القارة ولكنها لم ترتبط بنهر النيل .
- ١٢ - اتفاقية نصت على التزام حوض النيل بعدم القيام بأي مشروعات على نهر النيل بغير اتفاق مسبق مع مصر .
- ١٣ - تجمع إقليمي لدول حوض النيل ، أنشئ عام ١٩٨٣ م ويهدف إلى التشاور والتنسيق والتعاون بين دول الحوض .
- ١٤ - المساحة التي يجري فيها النهر وروافده .
- ١٥ - عصر البناء والتأسيس عند المصريين القدماء .
- ١٦ - مقبرة أحد الملوك في عصر الدولة القديمة أخذت شكل هرم مدرج .
- ١٧ - أول بناء حجري ضخم في التاريخ .
- ١٨ - أرسل إليها الملك سنفرو حملات لاستخراج النحاس والفيروز .
- ١٩ - دولة ازدهرت التجارة الخارجية لمصر معها في عهد الملك خوفو .
- ٢٠ - أحد الفنون وصل إلى قمته في عصر الملك خفرع .
- ٢١ - أصلب أنواع الحجر الذي استخدمه الفنان المصري القديم في تحت التماثيل .



- ٢٢ - شعار ملوك مصر فى عصر الدولة القديمة واقتبسه ملوك أوغندا قديما .
- ٢٣ - الكتابة التي استخدمها المصري القديم في تدوين متون الأهرام .
- ٢٤ - دولة قامت بإمداد الهكسوس بالموء فترة احتلالهم لمصر .
- ٢٥ - عاصمة مصر فترة حكم الملك أمنمحات الأول .
- ٢٦ - سد أنشئ عند مدخل بحيرة مورييس .
- ٢٧ - غابات تمتص نسبة كبيرة جدا من انبعاثات الكربون العالمية كل عام .
- ٢٨ - غابات توجد في منطقة الكاب أقصى جنوب غرب القارة الإفريقية .
- ٢٩ - أشجار متوسطة إلى قصيرة الطول ودائمة الخضرة طوال العام .
- ٣٠ - أشجار وشجيرات تنمو فى المناطق الساحلية المدارية وشبه المدارية .
- ٣١ - نهر يحتل المرتبة الأولى من حيث الكائنات الحية التي تعيش فيه .
- ٣٢ - محمية مصرية تتميز بتنوعها البيئي وتعد إحدى مناطق التراث العالمي .
- ٣٣ - بحيرة ساحلية في شبه جزيرة سيناء تعد من نظم الأراضي الرطبة المالحة .
- ٣٤ - مدينة مصرية جديدة تعد صديقة للبيئة .
- ٣٥ - المعبر البرى الوحيد الذي يربط شبه الجزيرة العربية بإفريقيا .
- ٣٦ - ساعدت على انتشار الإسلام في إفريقيا بعد الفتح الإسلامي لمصر .
- ٣٧ - الأفراد الذين تلقوا قدرًا من العلوم الدينية لنشر الإسلام وتعاليمه بالطرق السلمية .
- ٣٨ - أولى المحطات التي وصل إليها المسلمون خارج شبه الجزيرة العربية .
- ٣٩ - مدينة بشمال إفريقيا كانت محاطة بالأسوار وحاصرها المسلمون شهر لفتحها .
- ٤٠ - مدينة إفريقية فتحها المسلمون في عهد الدولة الأموية ومهد فتحها لفتح بلاد المغرب .
- ٤١ - أهم المساجد بدولة مالى أقيمت فيها دروس جميع العلوم الإسلامية .
- ٤٢ - مدينة مصرية أصبحت مقر الخلافة العباسية بعد سقوطها في بغداد .
- ٤٣ - أهم المؤسسات العلمية الدينية التي قدمت العلوم والمعرفة إلى الدول الإسلامية .
- ٤٤ - جامعة أقيمت بمدينة تمبكتو وقد حاولت أن تحتذى أساليب الأزهر فى التدريس .



السؤال الرابع

أكمل العبارات الآتية بما يناسبها من كلمات

- ١- تعد قارة إفريقيا ثاني قارات العالم من حيث المساحة بعد قارة.....
- ٢- تطل قارة إفريقيا على بحار هامة هي و
- ٣- يقع نحو من مساحة القارة الإفريقية في نصف الكرة الأرضية الشمالي .
- ٤- يفصل المحيط الأطلنطي قارة إفريقيا عن قارتي و
- ٥- يمر بقارة إفريقيا ثلاث دوائر عرض رئيسية هي دائرة الاستواء و و
- ٦- يفصل قارة إفريقيا عن قارة آسيا و
- ٧- تشرف قارة إفريقيا على ممرات مائية مهمة مثل مضيق و
مراجعة بنك أسئلة
- ٨- نشأت على أرض قارة إفريقيا أقدم الحضارات في العالم مثل : حضارة..... في السودان .
- ٩- امتد التأثير الحضاري المصري في إفريقيا إلى أعالي منابع.....
- ١٠- امتدت الممالك الإسلامية في إفريقيا حتى وصلت إلى هضبة
- ١١- يقع جبل..... على الحدود بين مصر وليبيا والسودان .
- ١٢- تقع هضبة الحبشة في الجانب..... من قارة إفريقيا .
- ١٣- نتيجة الثورات البركانية أصبحت أرض هضبة الحبشة صالحة لحرفة.....
- ١٤- تكثر البحيرات العذبة في هضبة البحيرات الاستوائية مثل بحيرة
- ١٥- يعتبر جبل بالمغرب أعلى قمة جبلية في سلسلة الجبال الالتوائية .
- ١٦- من الجبال البركانية في وسط إفريقيا و
- ١٧- يعتبر جبل بمصر أعلى قمة جبلية في سلسلة الجبال الانكسارية .
- ١٨- تساهم المنطقة الجبلية في قارة إفريقيا في العديد من الأنشطة الاقتصادية مثل و
- ١٩- تكونت السهول الفيضية في وادي النيل بمصر والسودان من الطمي المنقول من هضبة.....
- ٢٠- الاقتصاد الأزرق يعنى استثمار الموارد المائية بشكل مستدام لتحقيق.....
- ٢١- تتسم سهول البحر الأحمر بالضيق نتيجة اقتراب جبال..... من الساحل .
- ٢٢- تضم قارة إفريقيا عددًا من الجزر أكبرها جزيرة.....
- ٢٣- تنقسم منابع نهر النيل إلى منابع و منابع.....
- ٢٤- يعد نهر النيل نهرا
- ٢٥- يطلق على المساحة التي يجرى بها النهر وروافده



- ٢٦- يعد نهرالمنبع الحقيقي لنهر النيل .
- ٢٧- تقع المنابع الموسمية لنهر النيل في هضبة
- ٢٨- قامت حضارة كوش في
- ٢٩- كان من أشهر صادرات حضارة أكسوم معدن
- ٣٠- قامت مصر بإنشاء خزانعلى النيل الأزرق .
- ٣١- من الحضارات التي قامت في إفريقياو
- ٣٢- يعد العصرهو عصر التأسيس والبناء عند المصريين القدماء .
- ٣٣- أسس الملك نعرمر (مينا) عاصمة مصر الموحدة وهي مدينة
- ٣٤- بدأ عصر الدولة القديمة بحكم الأسرة الفرعونيةمراجعة + بنك أسئلة
- ٣٥- تطور شكل بناء الأهرامات في عصر الدولة القديمة من الهرمإلى
- ٣٦- اهتم المصريون القدماء ببناء المعابد مثل : معابدوالمعابد
- ٣٧- اهتم المصريون القدماء بنحت التماثيل مثلوتماثيل
- ٣٨- قام الملك خوفو بتشييد الهرم الأكبر على هضبة
- ٣٩- يظهر تمثال « أبو الهول » رأسه على شكلوجسمه على شكل
- ٤٠- شيد الملك أوسر كاف معابدفي أبي صير بالجيزة .
- ٤١- انتشرت الفوضى في نهاية عصر الدولة القديمة خاصة في عهد الملك
- ٤٢- يبدأ عصر الاضمحلال الأول من الأسرةحتى الأسرة
- ٤٣- سمي عصر الدولة الوسطى بعصر
- ٤٤- استطاع الملكأن يسيطر على الوجه البحري والقبلي بعد عصر الدولة الوسطى .
- ٤٥- يعتبر الملك أمنمحات الأول مؤسس الأسرة
- ٤٦- من مظاهر اهتمام الملك أمنمحات الثالث بالزراعة إقامة سد
- ٤٧- أنشأ الملك سنوسرت الثالث حصوناً في جنوب مصر عند
- ٤٨- كانت مدينةعاصمة مصر في فترة حكم الملك منتوحتب الثاني .
- ٤٩- استطاع الهكسوس احتلال مصر في عصر
- ٥٠- استطاع الملكإصلاح النظام الإداري للدولة .
- ٥١- تم طرد الهكسوس من مصر على يد
- ٥٢- اهتم ملوك الدولة الحديثة بالبعد الإفريقي ووجهوا حملاتورحلاتنحو إفريقيا .



- ٥٣- قامت أول ثورة دينية في مصر القديمة على يد
- ٥٤- مؤسس الدولة الحديثة في مصر القديمة الملك
- ٥٥- تمكن الملك أحس الأول من طرد وتطهير أرض مصر .
- ٥٦- بعد طرد الهكسوس ، توجه أحس نحو الجنوب بحملة إلى بلاد
- ٥٧- أطلق على الموظف الذي يحكم الوحدة الممتدة من نبتة إلى شمال إدفو لقب
- ٥٨- من أشهر المعارك التي خاضها الملك تحتمس الثالث معركة
- ٥٩- أعاد الملك توت عنخ آمون عاصمة مصر إلى مدينة
- ٦٠- استكمل الملك رمسيس الثاني ما بدأه والده الملك من مبان .
- ٦١- من أشهر المعارك التي خاضها الملك رمسيس الثاني معركة أسئلة
- ٦٢- المؤسس الحقيقي للأسرة العشرين هو الملك
- ٦٣- تم تصوير رحلة حتشبسوت إلى بلاد بونت على جدران معبد
- ٦٤- يتكون النظام البيئي من مكونات ومكونات
- ٦٥- تنقسم النظم البيئية إلى نظم أرضية ونظم ونظم
- ٦٦- توجد نظم بيئية صغيرة المساحة مثل
- ٦٧- تتمثل النظم المائية في الأراضي الرطبة ، ،
- ٦٨- ينتشر في ساحل غانا غرب القارة الغابات المدارية
- ٦٩- من الأشجار التي تنتشر في الغابات المدارية المطيرة و و
- ٧٠- من الحيوانات المنتشرة بالغابات المدارية المطيرة و و
- ٧١- تعرف تربة الغابات المدارية المطيرة بالتربة
- ٧٢- تدخل أشجار الغابات المدارية المطيرة في عدة صناعات مثل و و
- ٧٣- يتميز نظام غابات البحر المتوسط بأنه في فصل الصيف .
- ٧٤- من أشجار غابات البحر المتوسط و و
- ٧٥- تتدرج حشائش السافانا في الطول حسب
- ٧٦- تتميز السافانا المكشوفة بقلة
- ٧٧- توجد السافانا البستانية بالقرب من الغابات
- ٧٨- تصلح تربة السافانا لزراعة و
- ٧٩- تعد قارة إفريقيا من أكثر المناطق تضرراً من الفيضانات وتأتي في المرتبة



- ٨٠- يطلق على نظام الحشائش المعتدلة اسم
- ٨١- ينتشر نظام حشائش الإستبس في المناطق ذات المناخ
- ٨٢- تنمو بالقرب من الأنهار ومنحدرات الجبال في نطاق حشائش الإستبس .
- ٨٣- يعمل معظم السكان في نظام حشائش الإستبس بالرعى و
- ٨٤- يتسم مناخ النظم الصحراوية في العالم بقلّة
- ٨٥- يتعرض طائر الحباري الخطر الانقراض بالصحراء الكبرى .
- ٨٦- من أمثلة تربة الصحارى الحارة التربة والتربة
- ٨٧- يستخرج من النظام البيئي المائي في إفريقيا العديد من الأملاح مثل
- ٨٨- من أنواع مصادر الطاقة الحفرية المستخرجة من النظم البيئية المائية و
- ٨٩- تنقسم النظم المائية تبعا لنسبة
- ٩٠- يقع نهر الأمازون في قارة
- ٩١- من أشهر البحيرات العذبة في قارة إفريقيا بحيرة وبحيرة وبحيرة
- ٩٢- تقع مستنقعات الغابات في إفريقيا داخل نظام الغابات
- ٩٣- الشعاب المرجانية أحد مظاهر النظم البيئية للمياه
- ٩٤- أكبر انتشار لأشجار المانجروف في قارة
- ٩٥- من أشهر المحميات الطبيعية في مصر والتي تضم أشجار المانجروف محمية ومحمية
- ٩٦- من أهمية أشجار المانجروف أنها تنقى الهواء من
- ٩٧- هاجر الصحابة الأوائل إلى قارة إفريقيا لأول مرة في عهد
- ٩٨- وصل عرب شبه الجزيرة العربية للساحل الشرقي لإفريقيا بغرض
- ٩٩- انتشر الإسلام عبر المحيط الهندي في دول إفريقية مثل تنزانيا و و
- ١٠٠- أهم الموانئ والمراكز التجارية التي نشرت الإسلام بإفريقيا مدينة في مالي .
- ١٠١- قام التجار المسلمون في إفريقيا بتشييد و
- ١٠٢- بعد استقرار الأمر لعمر بن العاص في مصر اتجه بجيشه نحو إقليم
- ١٠٣- اتجه عمرو بن العاص بعد فتح برقة نحو
- ١٠٤- من القادة المسلمين الذين ساهموا في فتح شمال إفريقيا و
- ١٠٥- حرص سكان إفريقيا على إقامة الشعائر الإسلامية فتعلموا
- ١٠٦- من الممالك والسلطنات الإسلامية في قارة إفريقيا مملكة ومملكة



- ١٠٧ - نظم الإسلام الأسرة فمنح الأم الحق في
- ١٠٨ - يعد دخول الإسلام إلى إفريقيا تحولت الحياة القبلية بها إلى نظام
- ١٠٩ - كان حجاج الدول الإفريقية يمرون عبر لبلاد الحرمين .
- ١١٠ - من أشهر الأروقة التي خصصت لطلاب الأزهر من شمال إفريقيا رواق
- ١١١ - كانت مصر الوسيط الوحيد في استيراد إفريقيا لسلع
- ١١٢ - خصص للطلاب الوافدين من بلاد الحبشة وسواحل البحر
- ١١٣ - أصبحت مسئولية حماية الحرمين الشريفين بعد سقوط الخلافة العباسية على عاتق

السؤال الخامس

صوب ما تحته خط

مراجعة بنك أسئلة

- ١ - تعد مصر جزءا من قارة **أوربا** .
- ٢ - تعد إفريقيا **ثالث** قارات العالم من حيث المساحة .
- ٣ - يقع نحو **ربع** مساحة قارة إفريقيا في النصف الشمالي للكرة الأرضية .
- ٤ - أكبر دول قارة إفريقيا من حيث المساحة هي **السودان** .
- ٥ - قام الرحالة « حر خوف » بأربع رحلات نحو **غرب** إفريقيا .
- ٦ - تقترب قارة إفريقيا من قارة آسيا عند مضيق **موزمبيق** .
- ٧ - قامت على أرض قارة إفريقيا حضارة **كوش** في مصر .
- ٨ - امتد التأثير الحضاري المصري إلى دول **جنوب** إفريقيا .
- ٩ - استمرت رحلة الدوران حول إفريقيا حوالي **أربع** سنوات .
- ١٠ - تعددت الممالك الإسلامية على السواحل **الغربية** لقارة إفريقيا .
- ١١ - استفاد البرتغاليون من **الفينيقيين** في محاولاتهم لاكتشاف قارة إفريقيا .
- ١٢ - تتميز هضبة شمال إفريقيا بالمنخفضات كمنخفض **عين صالح** بمصر .
- ١٣ - تعتبر هضبة الحبشة المنبع **الدائم** لنهر النيل .
- ١٤ - تعد الهضبة الاستوائية هي المنبع **الموسمي** لنهر النيل .
- ١٥ - الطفوح البركانية في هضبة الحبشة سبب قيام الحضارات القديمة في **تونس** .
- ١٦ - البحيرات الاستوائية تعلوها القمم الجبلية **الجليدية** .
- ١٧ - من الجبال الالتوائية بقارة إفريقيا جبال أطلس التي تمتد في سلسلتين **متقاطعتين** على طول الساحل .
- ١٨ - هناك أهمية اقتصادية لجبال قارة إفريقيا لتوفيرها **مصادر الطاقة** اللازمة للصناعة .



- ١٩ - تمتد سهول كينيا بين الساحل الشرقي لإفريقيا وهضبة شمال إفريقيا .
- ٢٠ - أقام الملك أمنمحات الثالث مقياسا للنيل عند الجندل الأول .
- ٢١ - استطاع الملك أمنمحات الأول بناء حصن قمنة وسمنة .
- ٢٢ - اتخذ الهكسوس مدينة طيبة عاصمة لهم .
- ٢٣ - ساندت سبك نفرو زوجها في الكفاح ضد الهكسوس .
- ٢٤ - بعد سقوط مدينة أواريس فر الهكسوس إلى العراق .
- ٢٥ - كان يستخرج المصريون القدماء المعادن من الفيوم .
- ٢٦ - نجح الملك منتوحتب الثاني في الانتصار على ملوك منف في الشمال .
- ٢٧ - اهتم ملوك الدولة الحديثة في مصر بالبعد الأوربي .
- ٢٨ - بدأت الأسرة (٢٥) في مصر بالملوك الكوشيين وظل احتلالهم لمصر قرابة قرنين من الزمان .
- ٢٩ - يعتبر الملك توت عنخ آمون ملك الحرب والسلام .
- ٣٠ - أشهر المعارك التي خاضها رمسيس الثاني معركة مجدو . قادش
- ٣١ - النظام البيئي منطقة متكاملة تتكون من كائنات حية منها التربة وعناصر المناخ .
- ٣٢ - تقع نظم غابات البحر المتوسط بين دائرتي عرض ١٠ - ١٠ شمال وجنوب دائرة الاستواء .
- ٣٣ - تتميز تربة الغابات المدارية المطيرة باللون الأخضر .
- ٣٤ - تسقط الأمطار طوال العام في مناطق نظام غابات البحر المتوسط .
- ٣٥ - يتميز نظام غابات البحر المتوسط بأنه بارد جاف في فصل الشتاء .
- ٣٦ - يوجد نظام غابات البحر المتوسط على طول الساحل الشمالي الشرق القارة إفريقيا .
- ٣٧ - تعد قارة إفريقيا أكثر القارات في الانبعاثات الحرارية .
- ٣٨ - تمثل حرائق الغابات في إفريقيا ثلث المساحات المحترقة في العالم .
- ٣٩ - يسود بالأطراف الشمالية المصرية النظام الصحراوي الحار .
- ٤٠ - يتسم المناخ الصحراوي بالاعتدال في درجات الحرارة .
- ٤١ - تعد الطباء من أهم أنواع الحيوانات التي تعيش بالحشائش الحارة .
- ٤٢ - تشغل الحشائش الحارة مساحة صغيرة بإقليم الفلد في دولتي جنوب إفريقيا وليسوتو .
- ٤٣ - تعتدل درجات الحرارة في فصل الشتاء بحشائش الإستبس .
- ٤٤ - من المخاطر الطبيعية التي تواجه حشائش السافانا الصيد الجائر .
- ٤٥ - من الحيوانات آكلة العشب التي تعيش في السافانا الضباع .

مراجعة + بنك أسئلة



- ٤٦ - تنقسم حشائش السافانا إلى **أربعة** أقسام .
- ٤٧ - تمتد حشائش السافانا بين **غابات البحر المتوسط** والصحاري الحارة .
- ٤٨ - تزداد كثافة **النباتات الصحراوية** كلما اقتربنا من الغابات المدارية المطيرة .
- ٤٩ - تقع الصحاري الحارة الإفريقية في **شرق** القارة مثل الصحراء الكبرى .
- ٥٠ - يستخرج من النظام البيئي المائي في إفريقيا العديد من المعادن مثل **اليوكسيت** .
- ٥١ - تعد مستنقعات السد من النظم المائية **المالحة** .
- ٥٢ - يحتل نهر الكونغو المرتبة **الثالثة** من حيث وجود الكائنات الحية .
- ٥٣ - شهدت بحيرة تانا **أكبر** انقراض جماعي للفقاريات في العصر الحديث .
- ٥٤ - تعد مستنقعات السد من أشهر المستنقعات المكشوفة في **جنوب مصر** .
- ٥٥ - تنتشر أشجار المانجروف بشكل أكثر وضوحاً على سواحل إفريقيا **الشمالية والجنوبية** .
- ٥٦ - ينتشر نظام المانجروف في بعض جزر المحيط الهندي مثل جزيرة **مالطا** .
- ٥٧ - تعمل **الأشجار الصنوبرية** على حماية الشواطئ من التآكل والتعرية .
- ٥٨ - تنمو أشجار المانجروف في المناطق **الساحلية الاستوائية** .
- ٥٩ - سقطت الخلافة العباسية بسقوط عاصمتها **دمشق** على يد المغول .
- ٦٠ - أصبحت مدينة **الإسكندرية** مركزاً للخلافة العباسية في مصر بعد غزو المغول .
- ٦١ - كانت المؤثرات **الاجتماعية** من أبرز النواحي الثقافية التي ربطت الدول الإفريقية بمصر .
- ٦٢ - رواق **الشوام** أشهر الأروقة التي خصصت لطلاب شمال إفريقيا والمغرب العربي .
- ٦٣ - يعد **الصمغ** أحد صادرات مصر للدول الإفريقية .

لمن تنسب الأعمال الآتية

السؤال السادس

- ١ - ملك مصري قديم أرسل رحلة للدوران حول قارة إفريقيا .
- ٢ - حاكم مصري في العصر الحديث كان له دور في اكتشاف منابع النيل عام ١٨٣٩م .
- ٣ - رحلة عربي قام برحلات مهمة في شمال وغرب إفريقيا حتى وصل إلى مالي .
- ٤ - أوائل الرحالة العرب الذين زاروا إفريقيا وكتبوا عنها .
- ٥ - حاكم مصري وصل حكمه إلى جنوب دائرة الاستواء .
- ٦ - رحلة مصري قام بأربع رحلات نحو الجنوب في عصر الدولة المصرية القديمة .
- ٧ - قام بتوحيد مملكتي الشمال والجنوب وتميز عصره بالاستقرار والأمن .



- ٨- أسس الأسرة الثالثة الفرعونية وصاحب الهرم المدرج بسقارة .
- ٩- أشرف على تشييد هرم الملك زوسر بسقارة .
- ١٠- أسس الأسرة الفرعونية الرابعة .
- ١١- أمر بنحت تمثال أبو الهول .
- ١٢- أسس الأسرة الفرعونية الخامسة .
- ١٣- قام بتشييد المسلات الضخمة والمعابد في عصر الدول القديمة .
- ١٤- قام بتشييد معابد الشمس المكشوف في أبي صير .
- ١٥- رحالة مصرى قديم قام بعدة كشوف جغرافية لإفريقيا في عصر الدولة القديمة .
- ١٦- قام بطرد القبائل الآسيوية التي دخلت مصر عن طريق الشام .
- ١٧- أنشأ سلسلة من الحصون على الحدود الغربية للدلتا .
- ١٨- أقام سد اللاهون .
- ١٩- حفر قناة تربط بين البحر الأحمر والبحر المتوسط عن طريق نهر النيل .
- ٢٠- قام بإنشاء حصون قمنة وسمنة عند الجندل الثاني .
- ٢١- أحد ملوك الدولة الوسطى وقام بالتوسع جنوبا وإرسال بعثة إلى بلاد بونت عبر الصحراء .
- ٢٢- تولت الحكم عقب وفاة أمنمحات الرابع .
- ٢٣- بناء معبدتين في أبو سمبل ، أحدهما له والآخر لزوجته .
- ٢٤- توسيع السيطرة على المناطق الجنوبية وضم مدينة نبتة إلى حدود مصر .
- ٢٥- قيادة الحملات العسكرية إلى آسيا وتحقيق انتصارات كبيرة، وإقامة إمبراطورية كبيرة امتدت إلى ما وراء الجندل الرابع .
- ٢٦- إعادة بناء المعابد وتجديد عبادة الإله آمون بعد فترة من التغيير الديني .
- ٢٧- قاد الحملات العسكرية ضد الليبيين وأصلح الإدارة الداخلية لمصر .
- ٢٨- أقامت مسلتين شاهقتين في معبد الكرنك .
- ٢٩- قاد الحملات العسكرية الكبرى إلى بلاد كوش .
- ٣٠- هزم شعوب البحر المتوسط في عصر الدولة الحديثة .
- ٣١- أوصى أصحابه بالهجرة إلى الحبشة .
- ٣٢- ملك بقارة إفريقيا لعب دورا هاما في هجرة المسلمين قديما للحبشة .
- ٣٣- خليفة أموي أرسل البنائين للساحل الشرقي الإفريقي للمساهمة في بناء المدن الإفريقية .



٣٤ - قائد مسلم قام بفتح مصر .

٣٥ - انتصر على الروم وفتح مدينة سببلة .

ب : إلى أى أسرة فرعونية ينتمى كل عمل مما يلي :

١ - بناء هرم سقارة المدرج .

٢ - أرسل أسطولا بحريا لفينيا .

٣ - نحت تمثال أبو الهول .

٤ - تشييد معابد الشمس المكشوفة في أبي صير .

٥ - تدوين نصوص الأهرام في المقابر الملكية .

٦ - إعادة توحيد البلاد والقضاء على الضعف والفوضى .

مراجعة + بنك أسئلة

بم تفسر

السؤال السابع

١ - الأهمية الاستراتيجية لموقع قارة إفريقيا .

٢ - الأهمية الحضارية لقارة إفريقيا .

٣ - تنقسم قارة إفريقيا إلى دول مختلفة في المساحة .

٤ - تحكم قارة إفريقيا في طرق التجارة العالمية .

٥ - أسس البرتغاليون الموانئ والمراكز التجارية على طريق رأس الرجاء الصالح .

٦ - تنوع النباتات الطبيعية والحيوانات والمحاصيل الزراعية في قارة إفريقيا .

٧ - تتميز هضبة الحبشة بخصوبة تربتها .



٨- تعد هضبة الحبشة المنبع الموسمي لنهر النيل .

٩- تعتبر هضبة البحيرات الاستوائية المنبع الدائم لنهر النيل .

١٠- تكون الجليد فوق قمة جبل كلمنجارو .

١١- تتميز سهول وادي النيل بخصوبة تربتها .

مراجعة + بنك أسئلة

١٢- تضيق سهول البحر المتوسط في بلاد المغرب العربي .

١٣- تكون الأخدود الإفريقي العظيم .

١٤- يعد نهر النيل نهراً دولياً .

١٥- قلة مياه المنابع الاستوائية لنهر النيل طوال العام .

أ/ أحمد المراكبي

١٦- عقد اتفاقية قانون تنظيم استخدام المجارى المائية في الأغراض غير الملاحية .

١٧- تأسيس الفينيقيين مدينة قرطاج على البحر المتوسط .

١٨- عقد كل من مصر وإثيوبيا والسودان اتفاقية ٢٠١٥ م .

١٩- سمي عصر الدولة القديمة بعصر بناء الأهرام .



٢٠ - اهتمام المصريين فى عصر الدولة القديمة بنحت التماثيل الملكية .

٢١ - يعد هرما خوفو وخفرع دليلا على تقدم المصريين القدماء .

٢٢ - إرسال الملك سنfro أسطولاً بحرياً إلى فينيقيا .

٢٣ - إرسال الملك سنfro حملة إلى بلاد النوبة .

مراجعة + بنك أسئلة

٢٤ - أهمية نصوص الأهرام .

٢٥ - قيام المصريين بثورة عارمة نهاية عصر الدولة القديمة .

٢٦ - تعد فترة حكم الملك منتوحتب الثاني بداية لمجد الأسرة الحادية عشرة .

٢٧ - إنشاء مدينة إيثت تاوى فى عصر الدولة الوسطى .

٢٨ - منح الملك أمنمحات الأول الألقاب الرفيعة لحكام الأقاليم والتقرب منهم .

٢٩ - إنشاء الملك أمنمحات الثالث سد اللاهون .

٣٠ - قيام الأمير كامس بشن حملة مفاجئة على أرض كوش .

٣١ - إنشاء الملك أمنمحات الثالث مقياس النيل عند الجندل الثاني .



٣٢ - إنشاء الملك أمنمحات الأول حصوناً على الحدود الغربية للدلتا .

٣٣ - أهمية وجود جيش قوى لمصر فى عصر الدولة الحديثة .

٣٤ - قيام الملك تحتمس الأول بوضع المنطقة من نبتة إلى شمال إدفو تحت حكم وحدة واحدة .

٣٥ - يعد تحتمس الثالث صاحب عقلية عسكرية متميزة .

٣٦ - شهرة الملك توت عنخ آمون .

٣٧ - أخذ الملك تحتمس الثالث إلى مصر بعض أبناء الأمراء الذين حاربوه .

٣٨ - ضعف مصر بعد حكم رمسيس الثالث .

٣٩ - حدوث اختلال في النظام البيئي .

٤٠ - يتسم نظام الغابات المدارية المطيرة بانخفاض الضغط الجوي وارتفاع الرطوبة .

٤١ - كثرة النباتات المتسلقة والطفيلية فى الغابات الاستوائية .

٤٢ - تندر الحيوانات الضخمة فى الغابات المدارية المطيرة .



٤٣ - تعرف تربة الغابات المدارية المطيرة بالتربة الحمراء .

٤٤ - أهمية أشجار الغابات المدارية المطيرة الاقتصادية .

٤٥ - تتسم أشجار غابات البحر المتوسط بأنها أشجار دائمة الخضرة طوال العام .

٤٦ - قطع الأشجار بقارة إفريقيا .

٤٧ - تعد قارة إفريقيا أكثر قارات العالم خسارة للغابات من الحرائق .

٤٨ - تعرض غابات البحر المتوسط في إفريقيا للجفاف .

٤٩ - تغطي طبقة من الشمع أوراق الأشجار في نظام غابات البحر المتوسط .

٥٠ - تعرض أنواع كثيرة من الحيوانات بغابات إفريقيا للانقراض .

٥١ - تعتبر حشائش السافانا حديقة حيوان طبيعية .

٥٢ - لحشائش السافانا أهمية كبيرة .

٥٣ - تنتشر حرفة الصيد بنطاق الحشائش المعتدلة .

مراجعة + بنك أسئلة



٥٤ - أهمية حشائش الإستبس .

٥٥ - يتسم نظام حشائش السافانا بارتفاع درجات الحرارة صيفا بشكل ملحوظ .

٥٦ - ندرة النباتات الطبيعية في نظام الصحاري الحارة .

٥٧ - تعد الصحاري الإفريقية بيئة مثالية لتوليد الطاقة الشمسية . مراجعة + بنك أسئلة

٥٨ - تعرض التربة في نطاق السافانا للتجريف طبيعياً .

٥٩ - تعرض النظم البحرية العذبة في إفريقيا للتدهور .

٦٠ - شهرة البحيرات العذبة لقارة إفريقيا .

٦١ - أهمية الأراضي الرطبة العذبة .

٦٢ - انتشار أشجار المانجروف على السواحل الغربية والشرقية لقارة إفريقيا .

٦٣ - للعوامل الطبيعية تأثير سلبي على أشجار المانجروف .

٦٤ - توسع مصر في إنتاج الطاقة النظيفة .



٦٥- للعوامل البشرية تأثير سلبي على أشجار المانجروف .

٦٦- ارتبط العرب بعلاقات مع إفريقيا قديما قبل ظهور الإسلام .

٦٧- انتشار الإسلام في إفريقيا بعد الفتح الإسلامي .

٦٨- إرسال التجار المسلمين الطلاب الأفارقة المميزين للمعاهد العلمية في مصر .

مراجعة + بنك أسئلة

٦٩- انتقال العادات والتقاليد الإسلامية لشعوب إفريقيا .

٧٠- قام عمرو بن العاص الله يفتح كل من برقة وطرابلس .

٧١- ترحيب المصريين بالفتح الإسلامي .

٧٢- اتجاه عمرو بن العاص مع الله إلى طرابلس بعد فتح برقة .

٧٣- إرسال عبد الله بن أبي السرح من الله الحملات الاستطلاعية الأطراف إفريقية (تونس حاليا) .

٧٤- ارتبطت مصر مع الدول والممالك الإفريقية خلال العصور الوسطى بعلاقات سياسية وثقافية واقتصادية قوية .

٧٥- توفير الأزهر الشريف لطلابه الأفارقة الإقامة والرواتب .

٧٦- سعى العديد من حكام الدول الإسلامية بإفريقيا إلى الحصول على تأييد مصر السياسي .

٧٧- لجوء ملوك الحبشة للمطارنة المصريين .



٧٨- تعيين مطران مصرى فى كنيسة الحبشة .

السؤال الثامن

ما النتائج المترتبة علي

١- الموقع الجغرافي لقارة إفريقيا .

٢- إرسال محمد على باشا رحلات لاكتشاف منابع النيل عام ١٨٣٩م .

مراجعة + بنك أسئلة

٣- انتخاب مصر لرئاسة الاتحاد الإفريقي عام ٢٠١٩م .

٤- تنوع المناخ في قارة إفريقيا .

٥- حدوث طفوح بركانية بهضبة الحبشة .

٦- امتداد العديد من الأنهار بقارة إفريقيا .

٧- اقتراب جبال أطلس من ساحل البحر المتوسط .

٨- حدوث الثورانات البركانية في وسط قارة إفريقيا .

٩- تمتع جبال القارة الإفريقية بالمناظر الطبيعية الخلابة .

١٠- ارتفاع معدلات البحر في البحيرات الاستوائية .

١١- إنشاء مصر خزان جبل الأولياء في السودان .



١٢ - الموقع الاستراتيجي لقرطاج بين مدن شرق وغرب البحر المتوسط .

١٣ - ثنائية المنبع لنهر النيل .

١٤ - توحيد الملك نعرمر (مينا) للبلاد .

١٥ - تقدم المصريين القدماء في فن العمارة والهندسة والفلك .

مراجعة + بنك أسئلة

١٦ - قيام الملك أوناس بكتابة نصوص الأهرام .

١٧ - تدهور أحوال مصر الاقتصادية والاجتماعية في نهاية عصر الأسرة السادسة الفرعونية .

١٨ - ضعف ملوك الدولة الوسطى بعد عصر الملك أمنمحات الثالث .

١٩ - نجاح أحسن من طرد الهكسوس .

٢٠ - إنشاء سد اللاهون .

٢١ - حفر قناة سيزوستريس .

٢٢ - اهتمام الملك سنوسرت الثالث بالحد الجنوبي المصري .

٢٣ - وجود جيش قوى في عصر الدولة الحديثة .

٢٤ - توجه الملك أحسن إلى الجنوب بعد طرد الهكسوس .



٢٥ - معركة قادش في عهد رمسيس الثاني .

٢٦ - يتسم نظام الغابات المدارية المطيرة بالمطر الغزير وارتفاع الحرارة .

٢٧ - ارتفاع معدلات التبخر في الغابات الاستوائية .

٢٨ - تعد قارة إفريقيا الأكثر تعرضا لتأثير التغير المناخي في العالم .

٢٩ - تعرض أنواع كثيرة من الحيوانات بغابات إفريقيا للانقراض . مراجعة + بنك أسئلة

٣٠ - كثافة الأشجار في الغابات المدارية المطيرة .

٣١ - تعرض نظام حشائش السافانا لمخاطر بشرية .

٣٢ - غنى تربة الإستبس بالمواد العضوية .

٣٣ - زيادة حدة موجات الجفاف بنظام الصحاري الحارة في إفريقيا .

٣٤ - تمتع الصحاري الإفريقية بمناظر طبيعية فريدة ومعالم تاريخية وأثرية .

٣٥ - تحويل مساحات كبيرة من حشائش الإستبس إلى أراض زراعية .

٣٦ - تعرض النظم البحرية العذبة في إفريقيا للتدهور .



٣٧- إدخال أنواع جديدة من الأسماك إلى بحيرة فيكتوريا .

٣٨- تعرض الأراضي الرطبة العذبة للتجفيف .

٣٩- وجود السهول الطينية في نظم الأراضي الرطبة المالحة .

٤٠- حفر قناة أمير المؤمنين بالنسبة للإسلام في إفريقيا .

٤١- زواج التجار المسلمين من النساء الأفارقة .

٤٢- توافد هجرة المسلمين إلى شرق إفريقيا .

٤٣- فرار الكثير من بني أمية وأنصارهم إلى داخل إفريقيا بعد سقوط الدولة الأموية .

٤٤- تكون الممالك الإسلامية في مناطق مختلفة بالقارة الإفريقية .

٤٥- قيام الإسلام بتنظيم الزواج لسكان إفريقيا .

٤٦- اهتمام الإسلام بتنظيم الحياة الاجتماعية والأسرية في القارة الإفريقية .

٤٧- دخول الإسلام إلى إفريقيا بالنسبة للنظم السياسية بها .

٤٨- تركز السلطة الدينية والسياسية للعالم الإسلامي بمصر .



٤٩ - اهتمام الممالك ببناء المدارس التي قصدها كثير من طلاب العلم في مختلف أنحاء إفريقيا .

.....

.....

٥٠ - مرور حجاج الدول الإفريقية عبر مصر البلاد الحرمين .

.....

السؤال التاسع

دلل علي صحة العبارات الآتية

١ - تتمتع قارة إفريقيا بموقع متميز له أهمية كبيرة .

مراجعة + بنك أسئلة

.....

٢ - تمتد قارة إفريقيا بين نصفى الكرة الأرضية الشمالي والجنوبي .

.....

٣ - كان لمصر دور بارز في الكشف الجغرافية لقارة إفريقيا منذ القدم .

.....

٤ - لعب محمد علي باشا دورًا في اكتشاف منابع النيل .

.....

٥ - تنوع مظاهر السطح في هضبة شمال إفريقيا .

.....

٦ - تضم قارة إفريقيا مجموعة متنوعة من الجبال .

.....

٧ - للمناطق الجبلية بإفريقيا دور مهم في دعم السياحة .

.....

٨ - تساهم المناطق الجبلية بإفريقيا في النشاط الصناعي .

.....

٩ - تختلف سهول المحيط الهندي من حيث الاتساع .

.....

.....



١٠- تضم قارة إفريقيا العديد من الجزر.

١١- لمصر دور في تحقيق التنمية المستدامة المائية حوض النيل .

١٢- تأثرت حضارة كوش بالحضارة المصرية القديمة من الناحية الفنية والمعمارية .

١٣- حضارة أكسوم حضارة تجارية من الدرجة الأولى .

١٤- تأثرت حضارة كوش بالحضارة المصرية القديمة من الناحية الدينية .

١٥- اختلفت حضارة قرطاج عن حضارات وادي النيل .

١٦- أسهم الموقع الجغرافي لحضارة كوش في تميزها بالعالمية من خلال نشاطها التجاري .

١٧- تطور شكل مقابر الملوك في عصر الملك نعرمر (مينا) .

١٨- تطور شكل المقابر في عصر الدولة القديمة .

١٩- تقدم المصريين القدماء في فن العمارة والهندسة .

٢٠- برع المصريون في عصر الدولة القديمة في فن النحت .



٢١- اهتم ملوك عصر الدولة القديمة باكتشاف القارة الإفريقية .

٢٢- كان لمصر في عصر الدولة القديمة تأثير ثقافي كبير على القارة الإفريقية .

٢٣- يرجع الفضل للملك أمنمحات الأول في نهضة البلاد .

٢٤- أصبحت مصر تمتلك طريق تجارة دوليا في عهد الملك سنوسرت الثالث .

٢٥- امتاز عهد الملك أمنمحات الثالث بالتنمية الاقتصادية .

٢٦- أنهت الملكة سبك نفرو ما بدأه الملك أمنمحات الثالث .

٢٧- استطاع الأمير كامس فرض حصار اقتصادي على الهكسوس بمصر .

٢٨- كان لإياح حتب دور هام في تحرير البلاد من الهكسوس .

٢٩- كان للمرأة المصرية مكانة متميزة في الحضارة المصرية .



٣٠- يعتبر الملك رمسيس الثاني ملك الحرب والسلام .

٣١- اكتشاف مقبرة توت عنخ آمون نقطة تحول في معرفتنا للحضارة المصرية القديمة .

٣٢- تعددت أنواع الحيوانات التي تعيش في الغابات المدارية المطيرة .

٣٣- تعد أشجار الغابات المدارية المطيرة ذات أهمية سياحية .

٣٤- للغابات المدارية المطيرة أهمية بيئية كبيرة .

٣٥- تتعدد أشكال الحيوانات التي تعيش في غابات البحر المتوسط .

٣٦- يواجه نظام حشائش السافانا عدة مخاطر طبيعية .

٣٧- تتنوع الحيوانات في نظام الإستبس تنوعا واضحا .

٣٨- يعاني نظام الصحارى الحارة في إفريقيا من مخاطر كثيرة .

٣٩- للطالب أهمية كبيرة .



٤٠ - تتعدد النظم البيئية للمياه العذبة في قارة إفريقيا .

٤١ - تعتبر نظم الأراضي الرطبة العذبة سدا طبيعيا .

٤٢ - اهتمام مصر بالحفاظ على أشجار المانجروف .

٤٣ - تعد الشعاب المرجانية واحدة من مناطق التنوع البيولوجي .

٤٤ - لنظام المانجروف أهمية بيئية كبيرة .

٤٥ - ساهم سكان شرق القارة الإفريقية في نشر الإسلام في القارة .

٤٦ - يعد المحيط الهندي ومضيق باب المندب معبرين أساسيين لعبور الإسلام لإفريقيا .

٤٧ - كان للبحر الأحمر دور مهم في انتشار الإسلام في شرق إفريقيا .

٤٨ - لعب الدعاة وعلماء الدين دورا بارزا في نشر الإسلام في إفريقيا .

٤٩ - تعددت أساليب انتشار الإسلام في إفريقيا .

٥٠ - تعدد أشكال هجرات المسلمين إلى القارة الإفريقية .



٥١- لعب التجار المسلمون بشكل مباشر دورا بارزا في نشر الإسلام في إفريقيا .

٥٢- فتحت طرابلس دون صعوبة رغم قوة أسوارها وحصونها .

٥٣- تعددت ملامح تأثير الإسلام في إفريقيا .

٥٤- لعب الإسلام دورا مهما في تشكيل الهوية الثقافية والاجتماعية لشعوب إفريقيا .

٥٥- ساهم الإسلام في تغيير بعض العادات السلبية في إفريقيا .

٥٦- اهتم الإسلام بتنظيم الحياة الاجتماعية والأسرية في القارة الإفريقية .

٥٧- استفاد حكام الحبشة من الخبرات السياسية والإدارية لمصر .

٥٨- يرجع ظهور التأثير الديني المصري على إفريقيا منذ القدم .

٥٩- احتفظت مصر بمكانتها الثقافية والدينية بعد انتشار المسيحية .



السؤال العاشر

أجب عما يأتي

١ - ما المقصود بكل من :

- ١- الهكسوس :
- ٢- قناة سيزوستريس :
- ٣- الغابة :
- ٤- المدى الحرارى السنوى :
- ٥- الرطوبة النسبية :
- ٦- حشائش السافانا :
- ٧- المدى الحرارى السنوى :
- ٨- النظام البيئي المائي :
- ٩- الشعاب المرجانية :
- ١٠- الدعاة :
- ١١- الممالك الإسلامية في إفريقيا :
- ١٢- العصور الوسطى :
- ١٣- أروقة الأزهر الشريف :

مراجعة + بنك أسئلة



٢ : صنف أمام كل اسم حاكم من حكام مصر التاليين الأسرة المنتمى إليها :

١ - كامس :

٢ - سبك نفرو :

٣ - منتوحتب الثاني :

٤ : قارن بين :

١ - الملك تحتمس الثالث والملك رمسيس الثاني من حيث أهم الأعمال .

مراجعة + بنك أسئلة

٢ - الملك رمسيس الثالث وأحمس الأول من حيث العدو الذي واجهوه .

٥ : ماذا كان يحدث إذا :

١ - هزم الملك رمسيس الثاني أمام الحيثيين .

٢ - تمكنت شعوب البحر المتوسط من هزيمة رمسيس الثاني .

٦ - حدد المختلف مع ذكر السبب :

١ - النباتات - الصخور - الحيوانات - الفطريات .

٢ - المحيطات - الأنهار - البحيرات - الحشائش .

٣ - الزيتون - الموالح - العنب - الماهوجني .

٤ - القردة - الزواحف - النمل الأبيض - الماعز .

٥ - الموز - المانجو - العنب - الكاكاو .

٧ : حدد المختلف مع ذكر السبب :

١ - الغزلان - الظباء - الأرانب - الإبل .

٢ - الأسود - النمور - الزرافات - الضباع .

٣ - الصبار - القمح - الأكاسيا - التين الشوكي .



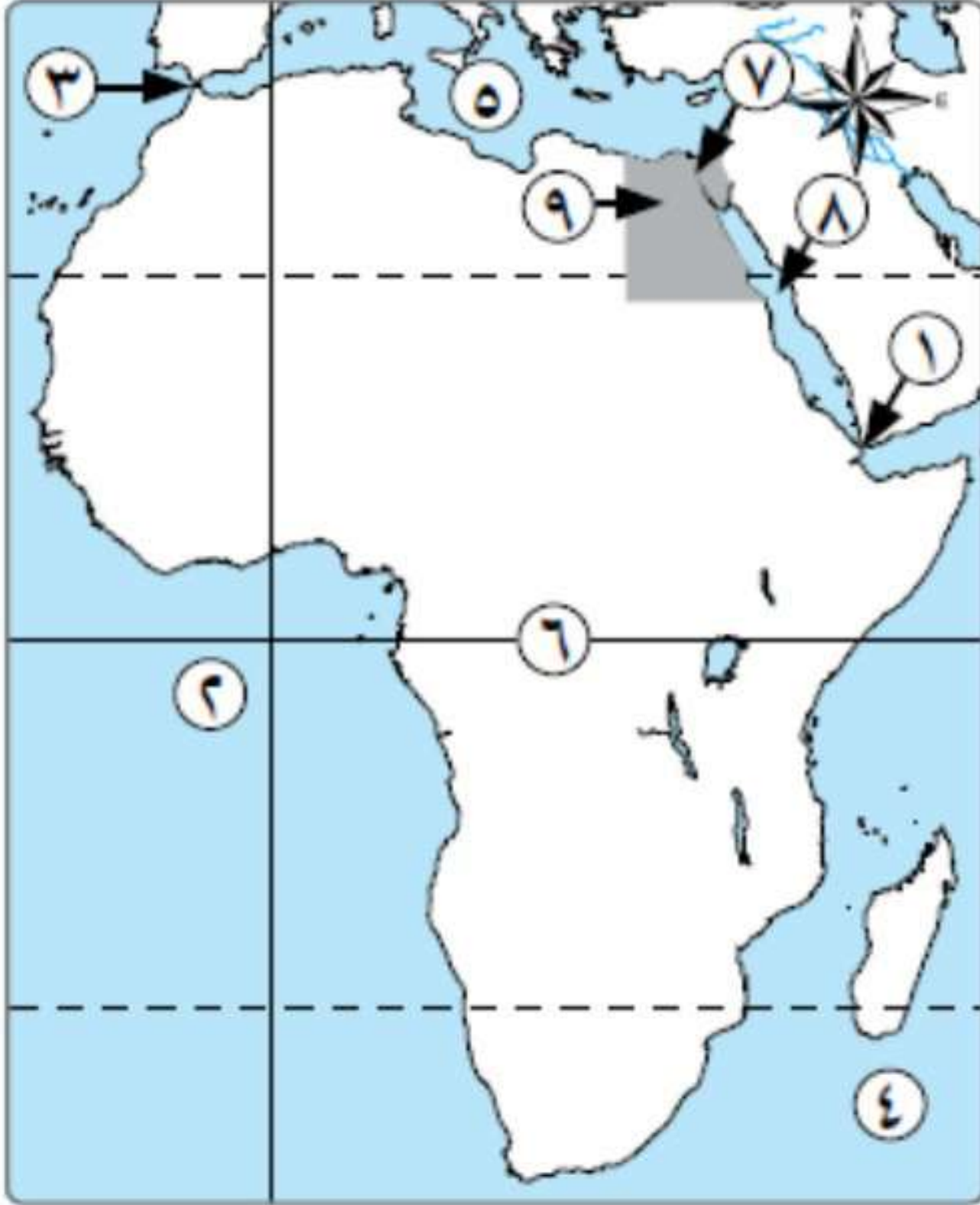
السؤال الحادي عشر

الخرائط

1

أمامك خريطة صماء لإفريقيا ما تشير إليه الأرقام :

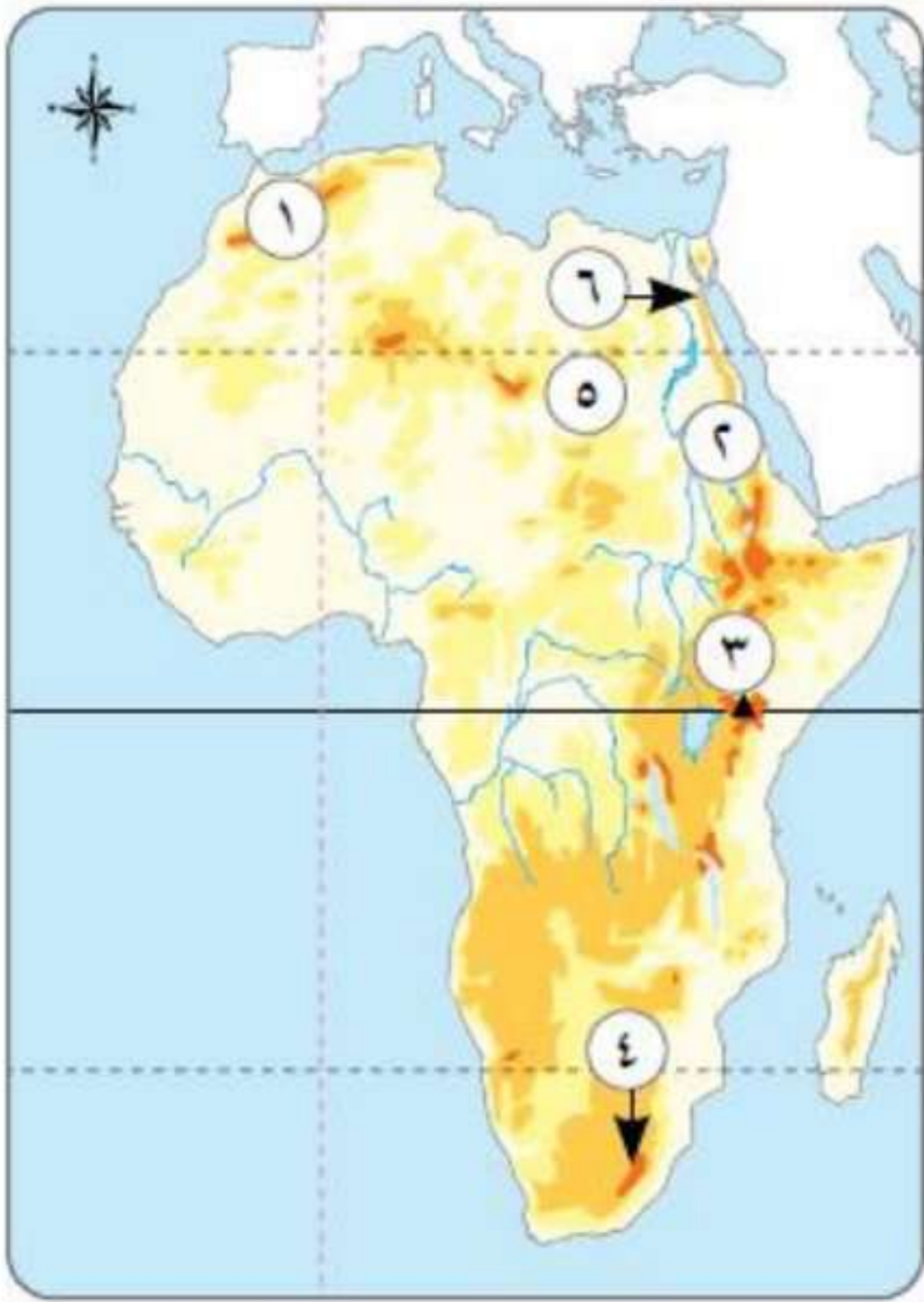
- | | |
|-----------------|------------------|
| ١ - مضيق | ٢ - المحيط |
| ٣ - مضيق | ٤ - المحيط |
| ٥ - البحر | ٦ - دائرة |
| ٧ - قناة | ٨ - البحر |
| ٩ - دولة | |



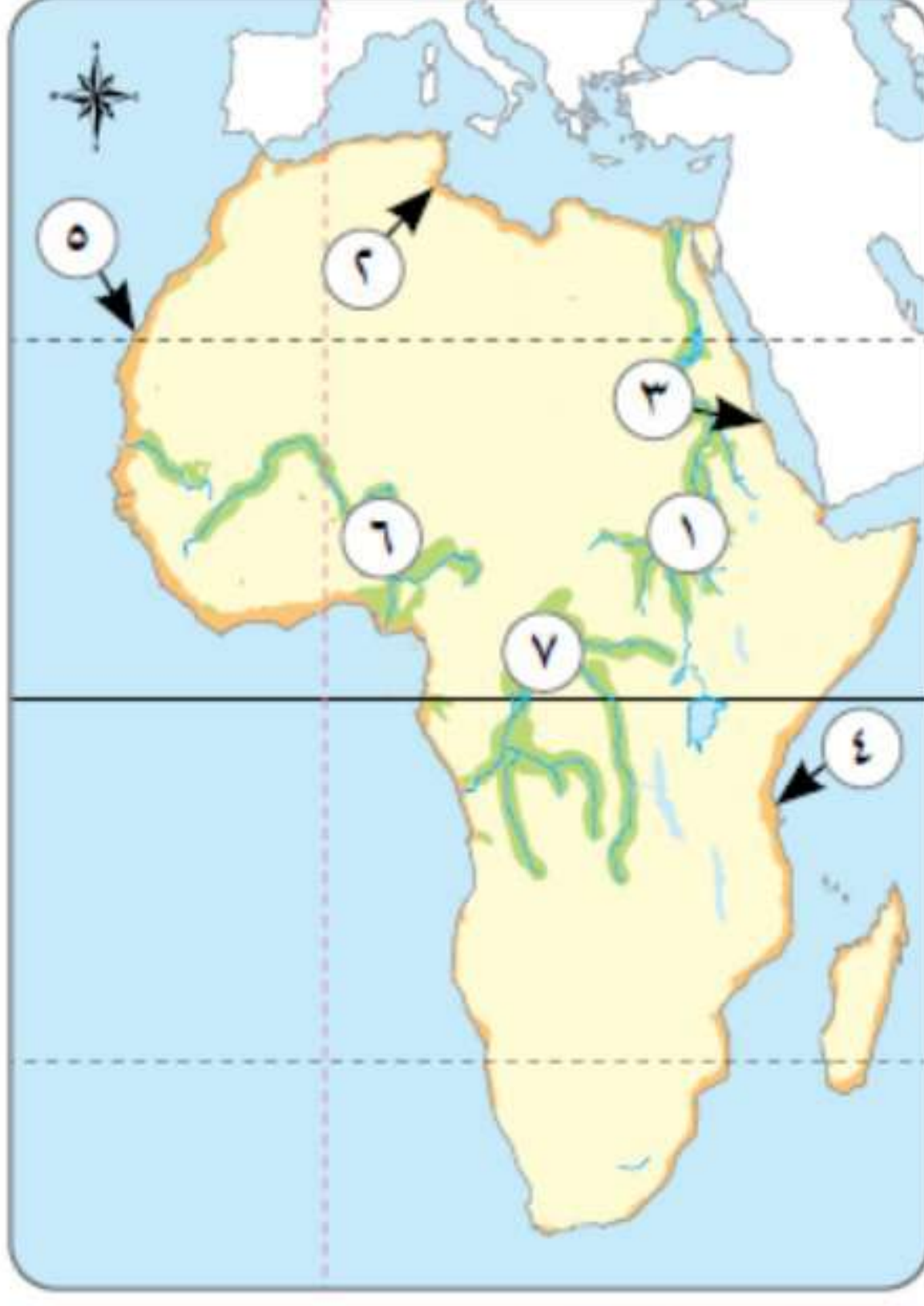
2

أمامك خريطة صماء لمظاهر سطح قارة إفريقيا اكتب مدلول الأرقام :

- | |
|----------------|
| ١ - جبال |
| ٢ - جبال |
| ٣ - جبال |
| ٤ - جبال |
| ٥ - جبل |
| ٦ - جبل |



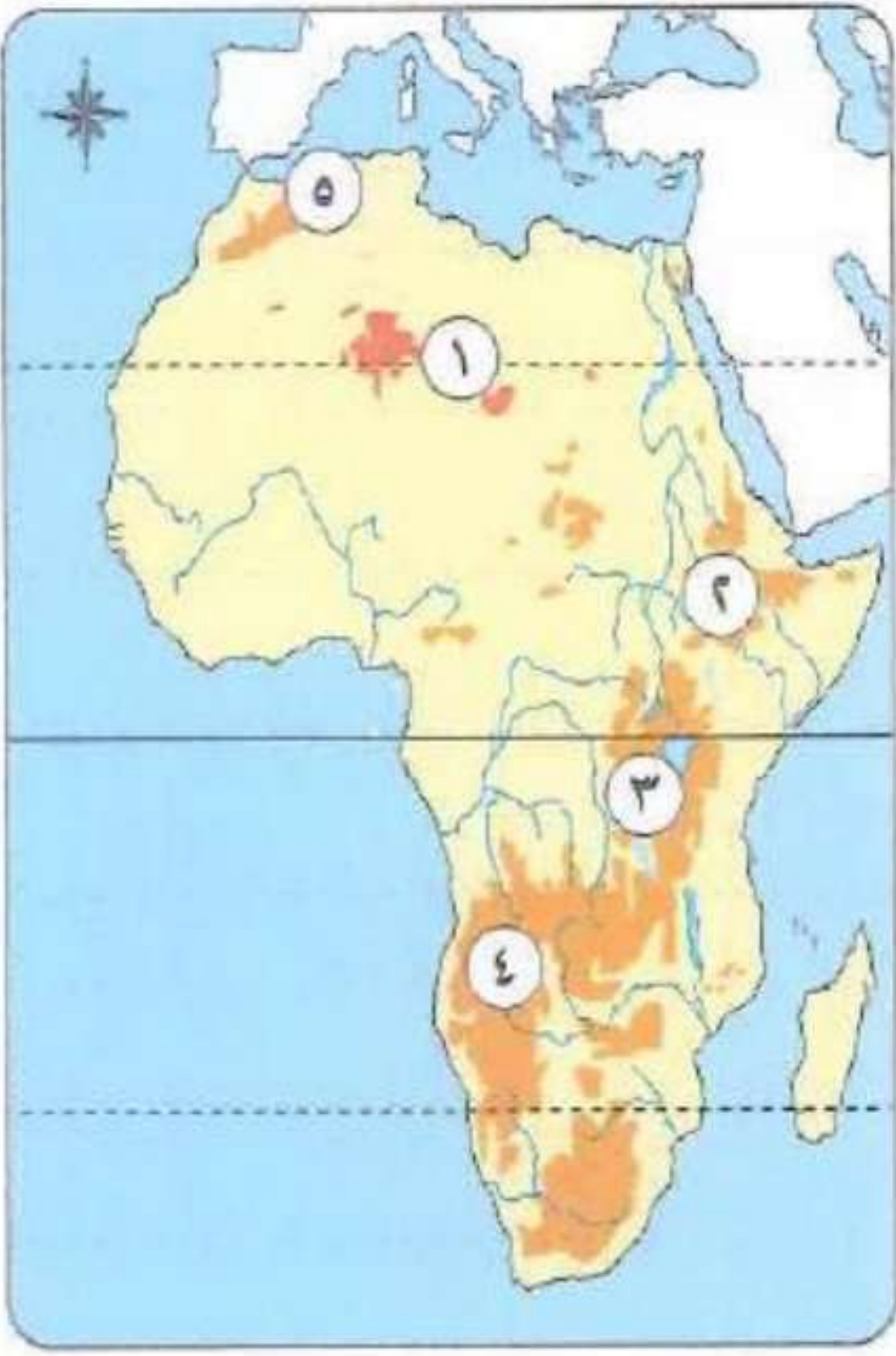
3



أجب عن الخريطة الآتية :

- ١- سهول
- ٢- سهول
- ٣- سهول
- ٤- سهول
- ٥- سهول
- ٦- سهول
- ٧- سهول

4



أجب عن الخريطة الآتية :

- ١- هضبة
- ٢- هضبة
- ٣- هضبة
- ٤- هضبة
- ٥- هضبة

5



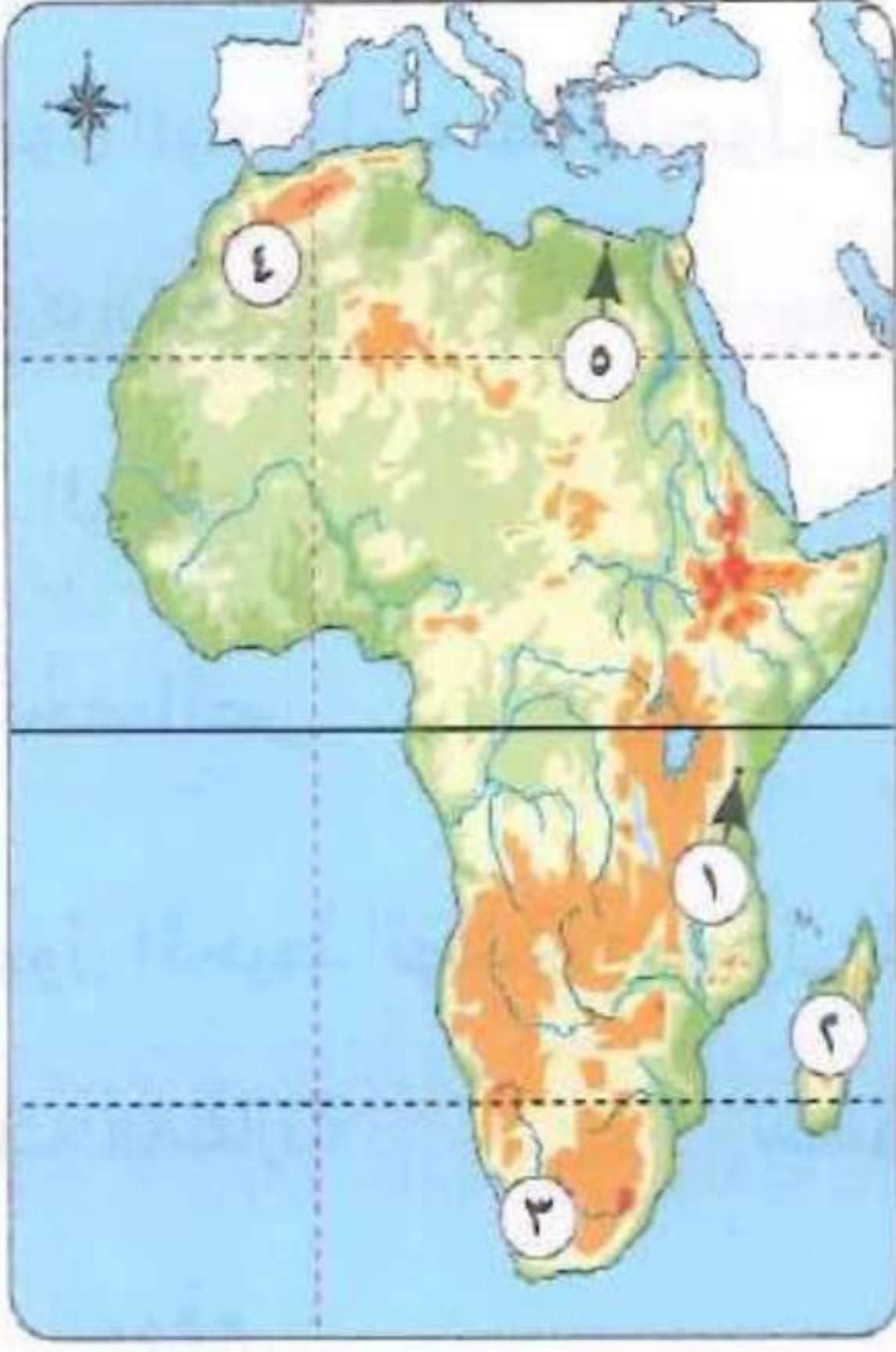
أمامك خريطة صماء لإفريقيا ، اكتب مدلول الأرقام :

- ١- غابات
- ٢- مدار
- ٣- دائرة
- ٤- غابات
- ٥- المحيط
- ٦- مسطح مائي



6

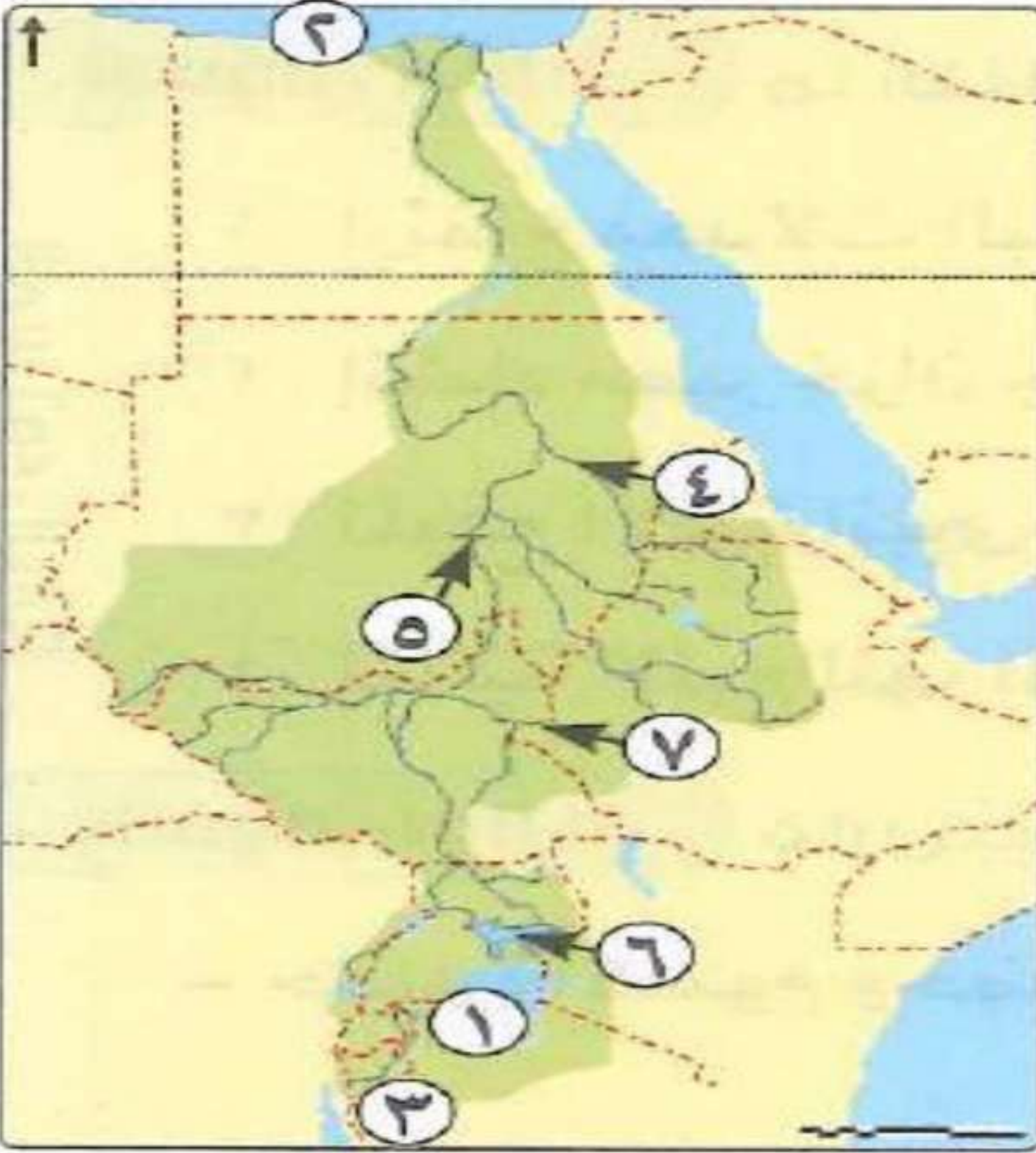
أجب عن الخريطة الآتية :



- ١- يمثل الرقم () منخفض القطارة .
- ٢- يمثل الرقم () جبل توبقال .
- ٣- يمثل الرقم () جبل كلمنجاروا .
- ٤- يمثل الرقم () جبل الكاب .
- ٥- يمثل الرقم () جزيرة مدغشقر .

7

أمامك خريطة لدول حوض نهر النيل اكتب مدلول الأرقام :



- ١- بحيرة
- ٢- البحر
- ٣- نهر / أ / أحمد المراكبي
- ٤- نهر
- ٥- خزان
- ٦- بحيرة
- ٧- نهر



8

أمامك خريطة لدول حوض نهر النيل اكتب مدلول الأرقام :

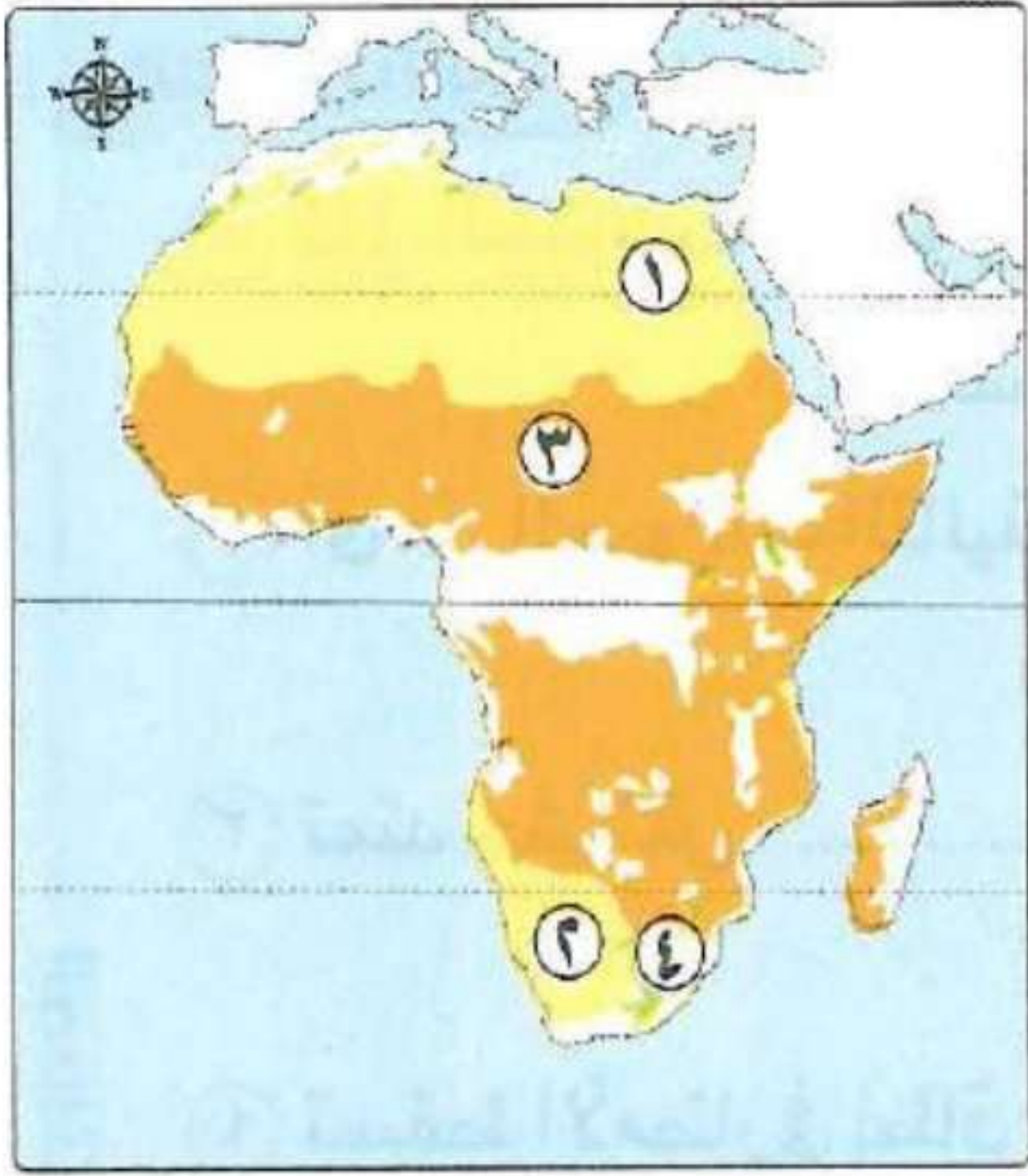
- ١ - يشير رقمإلى المنبع الذي يبدأ منه نهر النيل .
- ٢ - يشير رقمإلى آخر نقطة ينتهي عندها نهر النيل .
- ٣ - يشير رقمإلى الرافد الذي يلتقي ببحر الجبل ويمد النيل بقوته .
- ٤ - يشير رقمإلى آخر روافد لنهر النيل



9

أمامك خريطة صماء لقارة إفريقيا ، اكتب مدلول الأرقام :

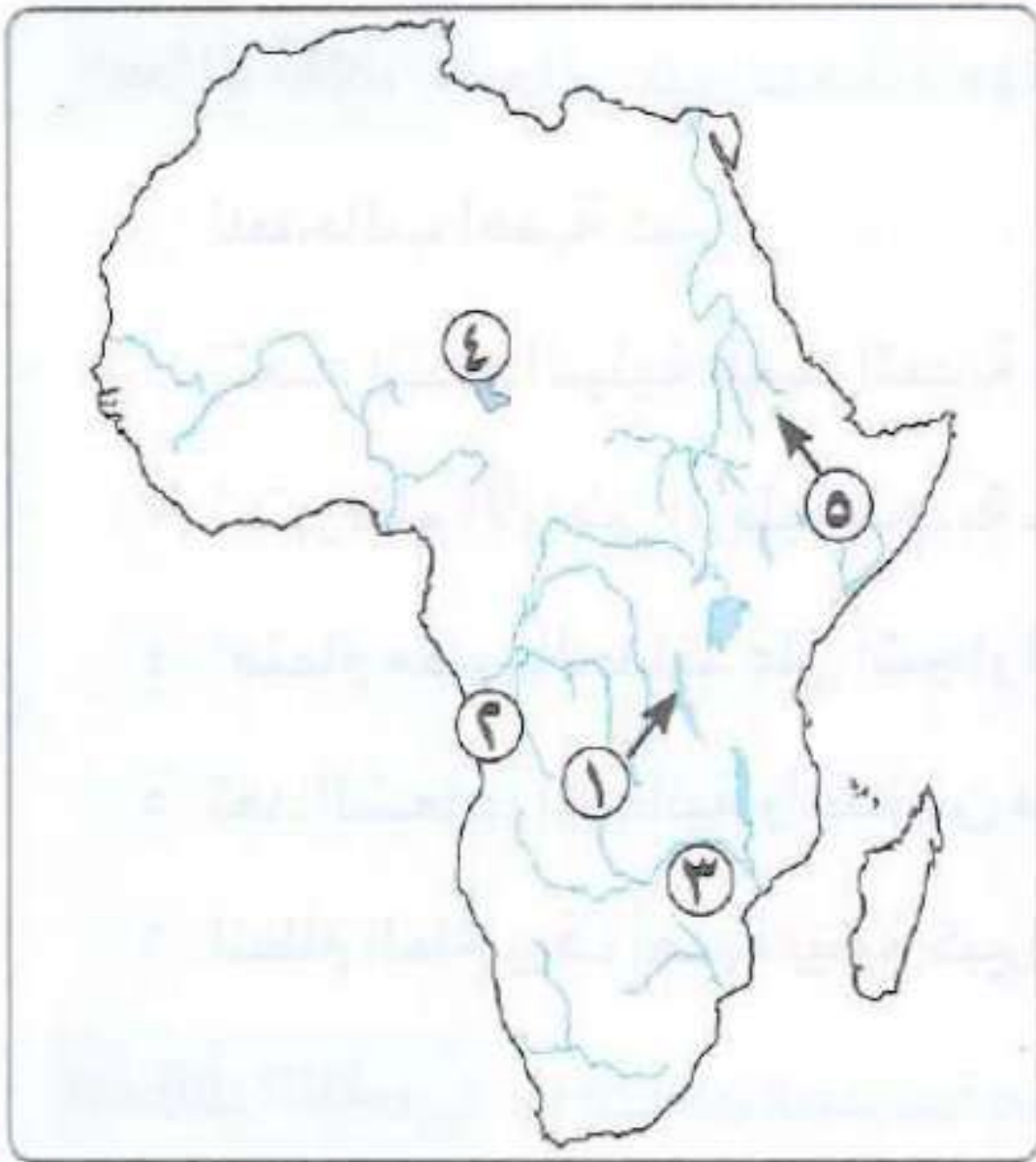
- ١ - يمثل الرقم () إقليم الفلد .
- ٢ - يمثل الرقم () حشائش السافانا .
- ٣ - يمثل الرقم () الصحراء الكبرى .
- ٤ - يمثل الرقم () صحراء كلهارى .



10

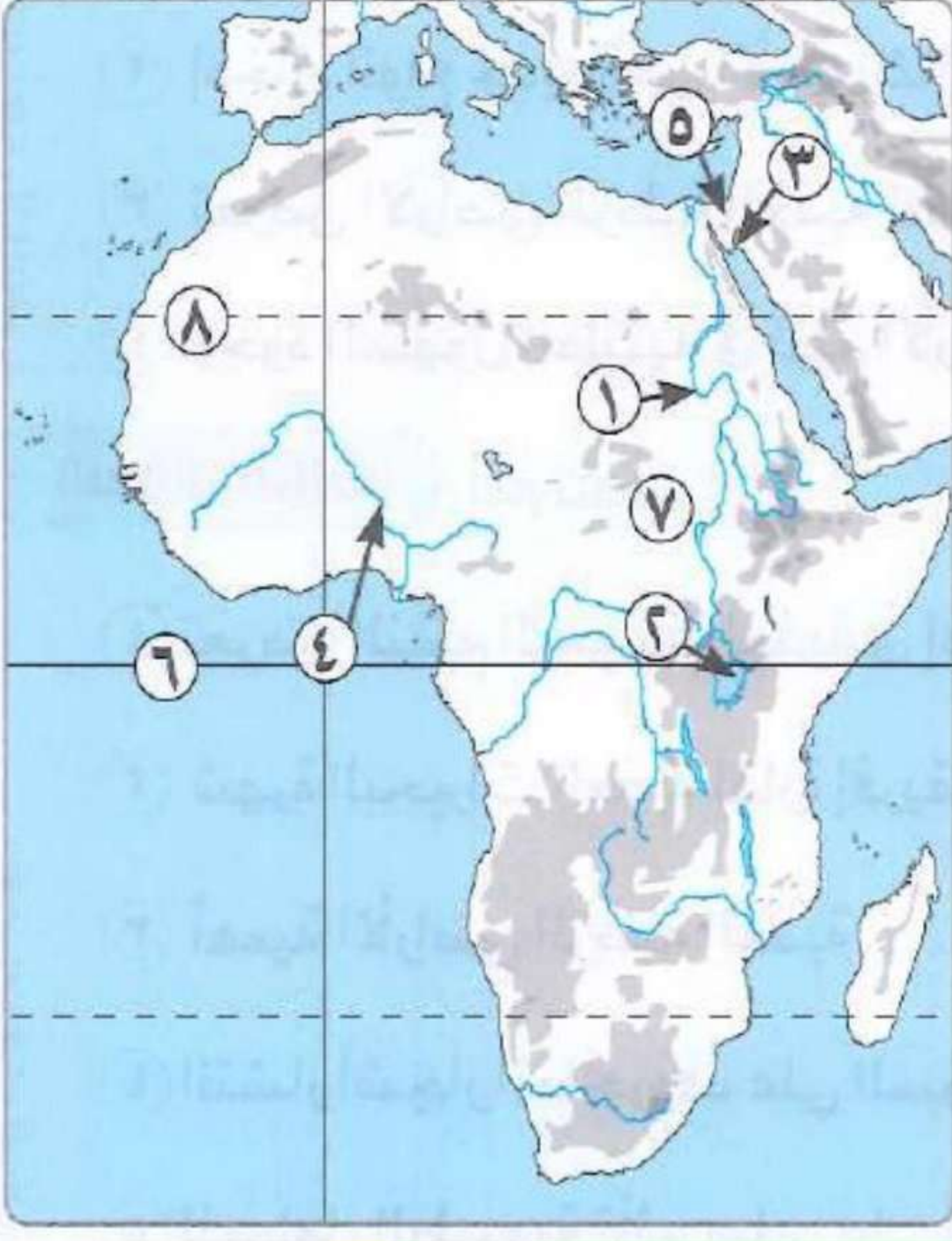
أمامك خريطة صماء لقارة إفريقيا ، اكتب مدلول الأرقام :

- ١ - بحيرة
- ٢ - نهر
- ٣ - نهر
- ٤ - بحيرة
- ٥ - بحيرة



1 1

أمامك خريطة صماء لقارة إفريقيا ، اكتب مدلول الأرقام :



- ١- نهر
- ٢- بحيرة
- ٣- خليج
- ٤- نهر
- ٥- شبه جزيرة
- ٦- دائرة
- ٧- مستنقعات
- ٨- مدار

البروفيسور

أ / أحمد المراكبي



بنك أسئلة البروفيسور الشامل في مادة " الدراسات الاجتماعية "

على مقررات الفصل الدراسي الأول

السؤال الأول

ضع علامة (✓) أمام العبارة الصحيحة و علامة (×) أمام العبارة غير الصحيحة

- ١- تقع قارة إفريقيا في وسط قارات العالم . (✓)
- ٢- تتمتع قارة إفريقيا بأهمية استراتيجية كبيرة عبر العصور . (✓)
- ٣- يقع نحو ثلث مساحة القارة الإفريقية في النصف الشمالي . (×)
- ٤- يعد الحفاظ على أمن سيناء ضرورة للحفاظ على الأمن القومي المصري . (✓)
- ٥- تعرضت مصر وقارة إفريقيا للعديد من الحملات الاستعمارية . (✓)
- ٦- تنقسم قارة إفريقيا إلى دول متساوية في المساحة . (×)
- ٧- وصل المصريون القدماء إلى السودان والقرن الإفريقي . (✓)
- ٨- تعمل مصر على تدعيم علاقتها مع دول وشعوب القارة الإفريقية . (✓)
- ٩- بدأت رحلة الدوران حول قارة إفريقيا في العهد الفرعوني من البحر الأحمر وانتهت إلى مضيق باب المندب . (×)
- ١٠- تتميز هضبة شمال إفريقيا **بفقر** في مظاهر سطحها . **بتنوع** (×)
- ١١- تقع أكبر صحارى العالم في الناحية **الجنوبية** لقارة إفريقيا . **الشمال** (×)
- ١٢- أصبحت هضبة الحبشة الإثيوبية صالحة للزراعة بسبب الطفوح البركانية . (✓)
- ١٣- تعد جبال **الكاب** أعلى قمة جبلية في سلسلة جبال أطلس . **توبقال** (×)
- ١٤- يقع جبل شايب البنات في قارة إفريقيا ناحية **الغرب** . **الشرق** (×)
- ١٥- اتجاه حركة المياه من الجنوب إلى الشمال جعل سهول وادي النيل بمصر أرضاً صالحة للزراعة . (✓)
- ١٦- يعتبر الاقتصاد الأزرق الداعم الأساسي لتحقيق الاكتفاء الذاتي من الغذاء بإفريقيا . (✓)
- ١٧- تعد جبال أطلس السبب الرئيسي في ضيق سهول البحر المتوسط في بلاد المغرب العربي . (✓)
- ١٨- ارتفاع جبل كلمنجارو هو السبب الرئيسي في جعل قمته منخفضة الحرارة . (✓)
- ١٩- تتسم المنابع الدائمة لنهر النيل بالفيضان وزيادة البخر بسبب موقعها الفلكي . (✓)
- ٢٠- ترجع فكرة إنشاء تجمع الأندوجو لدول حوض النيل إلى إحدى الدول الواقعة على البحر المتوسط **جنوب** قارة إفريقيا . **شمال شرق** (×)

- ٢١ - تنحدر مياه نهر النيل من **شمال** إفريقيا إلى **جنوبها** حتى المصب في البحر المتوسط . **العكس** (×) .
- ٢٢ - قامت مصر بإنشاء مركز للبحوث المائية في تنزانيا تحقيقا لمفهوم الاقتصاد الأخضر . (✓) .
- ٢٣ - أخذ الكوشيون من الحضارة المصرية القديمة بعض المعبودات مثل رع وآمون رع . (✓) .
- ٢٤ - تعد هضبة الحبشة المنبع الموسمي لنهر النيل . (✓) .
- ٢٥ - أقام الفينيقيون مدينة قرطاج في إفريقيا من أجل تأمين تجارتهم إلى أوروبا . (✓) .
- ٢٦ - هناك علاقة بين استقرار حياة المصري القديم ونهر النيل . (✓) .
- ٢٧ - سيطرت حضارة أكسوم بحكم موقعها الجغرافي على منابع النيل الموسمية . (✓) .
- ٢٨ - عقدت اتفاقية ٢٠١٥م بين مصر وإثيوبيا والسودان الإدارة وتنمية مياه نهر النيل والاستخدام المنصف لها . (✓) .
- ٢٩ - يشمل العصر العتيق الأسرتين الثانية والثالثة . (×) .
- ٣٠ - اهتم ملوك العصر العتيق بالطرق الصحراوية لتأمين التجارة المارة بها . (✓) .
- ٣١ - استخدم المصريون القدماء الألوان لتصميم صور جدارية على جدران المعابد . (✓) .
- ٣٢ - تغير أسلوب العمارة للمقابر الملكية في عهد الدولة القديمة . (✓) .
- ٣٣ - يعد الملك خوفو صاحب الهرم المدرج بسقارة . (×) .
- ٣٤ - ازدهرت مصر في عهد الملك سنفر و اجتماعيا وتجاريا وفنيا وعمرانيا . (✓) .
- ٣٥ - أرسل الملك سنفر وأربعين سفينة إلى بلاد النوبة . (×) .
- ٣٦ - شيد الملك أوسر كاف هرما في سفارة . (✓) .
- ٣٧ - سادت الصداقة والتعاون والتبادل الثقافي بين مصر وإفريقيا في عصر الدولة القديمة . (✓) .
- ٣٨ - تولت الملكة سبك نفرو بعد وفاة أمنمحات الثالث . (×) .
- ٣٩ - استطاع الهكسوس أن يستولوا على الوجه البحري والقبلي لمصر . (×) .
- ٤٠ - عمل كامس على تأمين الحدود الجنوبية لمصر . (✓) .
- ٤١ - استطاع أحمس أن يحرر مصر من الهكسوس . (✓) .
- ٤٢ - أنشأ الملك منتوحتب الثاني عاصمة جديدة للبلاد سميت بـ «إثيت تاوي» . (×) .
- ٤٣ - استكملت الملكة سبك نفرو هرم أخيها في منطقة هواره . (×) .
- ٤٤ - يسمى عصر الأسرة الـ ١٧ الفرعونية عصر الشهداء . (✓) .
- ٤٥ - كان بداية النضال الحقيقي ضد الهكسوس على يد سقنن رع الثاني . (✓) .
- ٤٦ - كانت بلاد بونت ترسل الإمدادات للهكسوس في مصر . (×) .



- ٤٧ - للمرأة المصرية قديما دور عسكري مشرف مثل إياح حتب . (✓)
- ٤٨ - كان كفاح الملك أحبس ضد الهكسوس كفاحا مسلحا . (✓)
- ٤٩ - كانت عاصمة البلاد أثناء حكم الملك أحبس مدينة طيبة . (✓)
- ٥٠ - اقتصر اهتمام ملوك الدولة الحديثة على البعد الآسيوي فقط دون الاهتمام بإفريقيا . (×)
- ٥١ - تميزت مصر في عصر الدولة الحديثة بتقديم ملحوظ في كافة المجالات، مما جعلها قوة عظمى . (✓)
- ٥٢ - الملك أحبس الأول هو الذى بدأ الكفاح ضد الهكسوس ونجح فى تحرير مصر من احتلالهم . (✓)
- ٥٣ - أرسلت الملكة حتشبسوت بعثتين تجاريتين إلى بلاد بونت . (×)
- ٥٤ - قاد الملك تحتمس الثالث ١٦ حملة عسكرية في آسيا وكان له دور كبير في توسيع الإمبراطورية المصرية . (✓)
- ٥٥ - أعاد الملك توت عنخ آمون العاصمة إلى طيبة وأعاد لعبادة الإله آمون مكانتها . (✓)
- ٥٦ - قاد الملك رمسيس الثاني معركة قادش ضد الحيثيين، وانتهت بعقد أول معاهدة سلام في التاريخ . (✓)
- ٥٧ - تمكن مؤسس الأسرة الكوشية في السودان القديم من السيطرة على معظم مصر وبدأت به الأسرة الـ ٢٥ . (✓)
- ٥٨ - تتفاعل مكونات النظام البيئي مع بعضها وفق نظام دقيق . (✓)
- ٥٩ - يتفاوت حجم النظم البيئية في العالم . (✓)
- ٦٠ - توجد نظم بيئية كبيرة المساحة مثل الغابات الاستوائية . (✓)
- ٦١ - تتنوع النظم البيئية فى قارة إفريقيا فمنها النظم الأرضية والنظم المائية . (✓)
- ٦٢ - تنتشر غابات البحر المتوسط في جزيرة مدغشقر . (×)
- ٦٣ - تتميز الغابات المدارية المطيرة بأنها غابات قليلة الأشجار . (×)
- ٦٤ - تنتج غابات حوض نهر الكونغو كميات قليلة من الأكسجين . (×)
- ٦٥ - تعد غابات البحر المتوسط نوعا من الأنظمة البيئية الأرضية . (✓)
- ٦٦ - تزداد كمية الأمطار الساقطة على البحر المتوسط في قارة إفريقيا بصفة عامة . (×)
- ٦٧ - تساعد غابات البحر المتوسط على احتجاز كميات كبيرة من الكربون وتحسين جودة الهواء . (✓)
- ٦٨ - تسجل قارة إفريقيا أعلى معدل خسارة في مساحة الغابات على مستوى العالم . (✓)
- ٦٩ - يقع نظام الحشائش الحارة في بيئة انتقالية . (✓)
- ٧٠ - يتميز نظام حشائش الإستبس بارتفاع درجة الحرارة . (×)



- ٧١- تعتمد حشائش السافانا على سقوط الأمطار الشتوية . (×)
- ٧٢- من الحيوانات التي تعيش بحشائش السافانا النمر والأسود . (✓)
- ٧٣- تتسم تربة حشائش السافانا بلونها الفاتح وغناها بالمواد العضوية . (×)
- ٧٤- يعاني نظام حشائش السافانا من مخاطر بشرية تتمثل في تجريف التربة وزيادة الملوحة بها . (×)
- ٧٥- تنمو أشجار السنط داخل حشائش السافانا الغنية . (✓)
- ٧٦- يتسم نظام الإستبس بسقوط الأمطار الغزيرة في فصل الشتاء . (×)
- ٧٧- تعيش أعداد قليلة جدا من الأغنام داخل نطاق حشائش الإستبس . (×)
- ٧٨- تعد الصحراء الكبرى أكبر الصحاري الحارة بإفريقيا . (✓)
- ٧٩- تعتبر الصحاري الحارة منطقة جيدة لرعى الإبل والماعز . (✓)
- ٨٠- تنقسم النظم المائية إلى نوعين رئيسيين . (✓)
- ٨١- توجد الشعاب المرجانية في سواحل البحر المتوسط في مصر . الأحمر (×)
- ٨٢- تعد بحيرة تشاد أحد النظم المائية المالحة في إفريقيا . العذبة (×)
- ٨٣- حدث انقراض جماعي للفقاريات في بحيرة فيكتوريا . (✓)
- ٨٤- يعد نهر النيل أول أنهار العالم من حيث التنوع البيولوجي . الأمازون (×)
- ٨٥- تقع مستنقعات نبات البردي في شرق ووسط وشمال قارة إفريقيا . جنوب (×)
- ٨٦- صنفت منظمة الفاو منطقة حوض أركين كأحد مناطق التراث العالمي . اليونسكو (×)
- ٨٧- بدأ ارتباط العرب بعلاقات تجارية مع إفريقيا بعد ظهور الإسلام . قبل (×)
- ٨٨- اختلط عرب شبه الجزيرة العربية بإفريقيا قديما وتزوجوا منها . (✓)
- ٨٩- اعتمد انتشار الإسلام في إفريقيا على الأسلوب السلمي في الإقناع . (✓)
- ٩٠- كان الدعاة يحظون بنوع من التقدير والاحترام بين القبائل الإسلامية في إفريقيا . (✓)
- ٩١- لعب التجار المسلمون بشكل مباشر دورا بارزا في نشر الإسلام بإفريقيا من خلال صفاتهم الحميدة . غير مباشر (×)
- ٩٢- كان التجار المسلمون يرسلون السكان الأصليين في إفريقيا لمصر لتلقى العلم . (✓)
- ٩٣- كانت الهجرات الإسلامية إلى قارة إفريقيا إحدى الوسائل المهمة لنشر الإسلام . (✓)
- ٩٤- رحب أهل برقة بالفتح الإسلامي لمصر كما رحب أهل مصر . (✓)
- ٩٥- أرسل عبد الله بن أبي السرح للخليفة عمر بن الخطاب يستأذنه في فتح إفريقية . (×)
- عثمان بن عفان (×)

- ٩٦- منح الإسلام في إفريقيا للمرأة الحرية في اختيار الزوج وحدد عدد الزوجات . (✓) .
- ٩٧- كانت كنيسة **اليمن** تابعة للكنيسة المصرية . **الحبشة** (×) .
- ٩٨- حرص حكام الحبشة على الاستفادة من الخبرات السياسية والعسكرية لمصر . (✓) .
- ٩٩- عرف نظام الدولة في إفريقيا **قبل** دخول الإسلام إليها . **بعد** (×) .
- ١٠٠- من المعابدات المصرية التي عبدت في بلاد **اليمن** إيزيس وأوزوريس . **السودان** (×) .
- ١٠١- تعد أدوات الزينة من السلع التي حملها التجار المصريون للدول الإفريقية . (✓) .
- ١٠٢- عرف حكام الحبشة طرق جباية الأموال من بلاد **النوبة** . **مصر** (×) .

اختر الإجابة الصحيحة مما بين الأقواس

السؤال الثاني

- ١- يفصل قارة إفريقيا عن قارة أوروبا.....
(البحر الأحمر - **البحر المتوسط** - المحيط الهندي - المحيط الأطلنطي) .
- ٢- تقترب قارة إفريقيا من قارة أوروبا عند.....
(**مضيق جبل طارق** - مضيق باب المندب - مضيق هرمز - قناة السويس) .
- ٣- تمثل قارة أوروبا نحو..... مساحة قارات العالم .
(ربع - **خمس** - سدس - نصف) .
- ٤- يمر بقارة إفريقيا نحو..... دوائر عرض رئيسية .
(**ثلاث** - أربع - خمس - ست) .
- ٥- يحد قارة إفريقيا من جهة الغرب المحيط.....
(الهادي - الهندي - **الأطلنطي** - القطبي) .
- ٦- دولة إفريقية تقع في الركن الشمالي الشرقي هي.....
(**مصر** - ليبيا - الجزائر - تونس) .
- ٧- نشأت علي أرض إفريقيا حضارات قديمة مثل..... في تونس .
(كوش - أكسوم - **قرطاج** - فينيقيا) .
- ٨- انتقلت الحضارات من قارة آسيا إلي قارة إفريقيا عبر.....
(الصحراء الغربية - الصحراء الشرقية - **شبه جزيرة سيناء** - نهر النيل) .
- ٩- بدأت رحلة الدوران حول قارة إفريقيا عبر.....
(**البحر الأحمر** - البحر المتوسط - المحيط الهندي - المحيط الهادي) .



- ١٠ - انتهت رحلات محمد علي باشا الاستكشافية في إفريقيا باكتشاف.....
(**النيل الأبيض** - النيل الأزرق - البحر الميت - البحر الأسود) .
- ١١ - ساعدت الطفوح البركانية في هضبة الحبشة على قيام حرفة.....
(التجارة - **الزراعة** - الصناعة - الرعي) .
- ١٢ - من خلال دراستك لجبال البحر الأحمر الانكسارية أعلى قمة جبلية لتلك السلسلة هي.....
(جبل سانت كاترين - **جبل شايب البنات** - جبل المقطم - جبل علبة) .
- ١٣ - أى من الدول التالية لا تمتد فيها جبال البحر الأحمر؟.....
(مصر - السودان - إريتريا - **ليبيا**) .
- ١٤ - تتأثر خصوبة تربة وادى النيل بمصر بالطمي المنقول من ناحية.....
(**الجنوب** - الشمال - الشرق - الغرب) .
- ١٥ - أى من سهول إفريقيا الساحلية تتميز بحقولها الزراعية الغنية ؟ سهول.....
(البحر الأحمر - البحر العربي - وادى النيل - **المحيط الأطلنطي**) .
- ١٦ - تقع دولة..... شمال جزيرة مدغشقر .
(**جزر القمر** - جزر كنارى - جزر موريشيوس - جزر الرأس الأخضر) .
- ١٧ - تتميز سهول دولة..... المطلة على المحيط الهندي باتساعها .
(الصومال - مصر - إريتريا - **تنزانيا**) .
- ١٨ - من أمثلة الجبال البركانية التي توجد في جنوب القارة الإفريقية.....
(البحر الأحمر - شايب البنات - كلمنجارو - **دراكنز بيرج**) .
- ١٩ - تقع واحة..... في ليبيا .
(سيوة - القطارة - **الجوف** - عين صالح) .
- ٢٠ - يفصل مضيق..... جزيرة مدغشقر عن الساحل الشرقي للقارة .
(جبل طارق - **موزمبيق** - باب المندب - هرمز) .
- ٢١ - تقع منابع النيل الاستوائية في.....إفريقيا .
(شمال - جنوب - غرب - **وسط**) .
- ٢٢ - قامت حضارة..... في تونس حاليا .
(كوش - **قرطاج** - أكسوم - النوبة) .



- ٢٣ - الهدف الرئيسي من اتفاقية قانون تنظيم استخدام المجارى المائية فى الأغراض غير الملاحية.....
 (تنظيم الملاحة البحرية - حماية حقوق الصيد - الانتفاع الأمثل للمياه - تطوير السياحة النهرية) .
 ٢٤ - من المشروعات التي قامت مصر بإنشائها في أوغندا لتحقيق التنمية المستدامة إنشاء مشروع.....

(خزان سنار - خزان أسوان - سد جبل الأولياء - سد أوين) .

٢٥ - يعتبر نهر..... منبعاً موسمياً لنهر النيل .

(كاجيرا - عطيرة - الزمبيزي - النيجر) .

٢٦ - يشمل عصر الدولة القديمة الأسرات من الأسرة الثالثة حتى نهاية الأسرة.....
 (الرابعة - الخامسة - السادسة - السابعة) .

٢٧ - اهتم المصريون القدماء ببناء الأهرامات بداية من الأسرة.....
 (الثالثة - الرابعة - الخامسة - السادسة) .

٢٨ - أقام الملك زوسر هرمه المدرج في.....

(منف - بوتو - نخب - سقارة) .

٢٩ - اعتمد الملك سنfro على جلب خشب الأرز من.....
 (النوبة - سيناء - بون - فينيقيا) .

٣٠ - قام الملك زوسر ببناء هرم مدرج يتكون من..... مصاطب .
 (خمس - ست - سبع - ثماني - تسع) .

٣١ - صاحب الهرم الأوسط ووصل فن النحت في عصره إلى قمته.....
 (سنfro - خوفو - خفرع - أوسر كاف) .

٣٢ - ازداد نفوذ كهنة الإله..... في نهاية الأسرة الرابعة الفرعونية .
 (رع - آمون - أوزوريس - إيزيس) .

٣٣ - شيد الملك أوسركاف المعابد المكشوفة في.....
 (الحيزة - الفيوم - سوهاج - الأقصر) .

٣٤ - أحد ملوك عصر الدولة القديمة ، وهو أول من كتب نصوص الأهرام.....
 (خوفو - خفرع - سنfro - أوناس) .

٣٥ - انتهى عصر الاضمحلال الأول وتوحدت البلاد مرة أخرى على يد ملوك الأسرة.....
 (السادسة - السابعة - العاشرة - الحادية عشرة) .



- ٣٦ - انتشرت الآت الموسيقية المصرية القديمة في..... إفريقيا .
(شرق - غرب - شمال - جنوب) .
- ٣٧ - وجه التشابه بين أعمال الملك مينا والملك منتوحتب الثاني هو.....
(توحيد البلاد - إنشاء عاصمة جديدة - مقاومة المحتل - تحصين البلاد) .
- ٣٨ - كانت أرض كوش تزود الهكسوس بالإمدادات حتى جاء..... فحرم الهكسوس منها .
(سقنن رع الأول - سقنن رع الثاني - كامس - أحمس) .
- ٣٩ - تشابهت أعمال الملك أمنمحات الأول مع الملك منتوحتب الثاني في.....
(إنشاء عاصمة جديدة - بناء الأهرامات - الحد من نفوذ حكام الأقاليم - مؤسس أسرة جديدة) .
- ٤٠ - يرمز اسم الإله (سبك) عند المصريين القدماء إلى.....
(الخصوبة - القوة - الموت - العدالة) .
- ٤١ - بدء الضعف في عصر الرخاء الاقتصادي بعد وفاة الملك.....
(أمنمحات الثالث - أمنمحات الرابع - سبك نفرو - سنوسرت الثالث) .
- ٤٢ - تكونت أول إمبراطورية مصرية في عصر.....
(الدولة القديمة - الدولة الوسطى - الدولة الحديثة - الازمحلل الأول) .
- ٤٣ - أرسلت الملكة..... بعثات تجارية إلى بلاد بونت .
(حتشبسوت - كليوباترا - نفرتاري - نفرتيتي) .
- ٤٤ - اتجه الملك تحتمس الأول بعد استقرار مصر إلى جهة.....
(الجنوب - الشمال - الغرب - الشرق) .
- ٤٥ - قام الملك..... بحملة على بلاد كوش .
(أحمس - تحتمس الثالث - رمسيس الثاني - توت عنخ آمون) .
- ٤٦ - أكثر اهتمامات الملك توت عنخ آمون كانت ممثلة في.....
(المعابد - الانتصارات - الحملات - الإصلاحات) .
- ٤٧ - بنى الملك رمسيس الثاني معبدا بأبو سمبل لزوجته الملكة.....
(حتشبسوت - كليوباترا - نفرتاري - نفرتيتي) .
- ٤٨ - أعاد..... لعبادة آمون مكانتها .
(أحمس - توت عنخ آمون - تحتمس الثالث - حتشبسوت) .



٤٩ - قامت معركة مجدو بهدف.....

(التوسع - التجارة - الحماية - التحالف) .

٥٠ - يتكون النظام البيئي من مكونات حية مثل.....

(المياه - المعادن - التربة - النباتات) .

٥١ - أحد الأسباب الطبيعية لحدوث اختلال في التوازن البيئي.....

(الثورات البركانية - الرعي الجائر - التوسع العمراني - الحروب الحديثة) .

٥٢ - من أشجار الغابات المدارية المطيرة.....

(المطاط - الزيتون - الموالح - الغناب) .

٥٣ - توجد الغابات المدارية المطيرة بساحل غرب القارة.....

(غانا - موريتانيا - مالي - الصومال) .

٥٤ - يمتد نظام غابات البحر المتوسط في العالم على الجانب..... للقارات .

(الشرقي - الغربي - الشمالي - الجنوبي) .

٥٥ - أي من الأنظمة التالية ينتمي إلى النظم البيئية المائية؟.....

(نظام حشائش السافانا - نظام حشائش الإستبس - الغابات المدارية المطيرة - النظم البيئية للمياه العذبة) .

٥٦ - تعد أشجار البحر المتوسط ذات أهمية اقتصادية وغذائية كبيرة مثل.....

(الماهوجني - الأبنوس - المطاط - الزيتون) .

٥٧ - تعد غابات البحر المتوسط مراعى طبيعية.....

(الأغنام - الطيور - التماسيح - النمر) .

٥٨ - تقل الحيوانات بوضوح في نظام.....

(الحشائش البستانية - الحشائش الحارة - الحشائش المعتدلة - الصحاري الحارة) .

٥٩ - أي من الحيوانات التالية تتحمل الظروف الصحراوية القاسية؟.....

(الأبقار - الإبل - الجاموس - العقارب) .

٦٠ - تمتد حشائش..... بين دائرتي عرض (١٠ - ١٨) شمال وجنوب دائرة الاستواء .

(السافانا - الإستبس - المعتدلة - التندرا) .

٦١ - تسقط الأمطار في نطاق حشائش السافانا في فصل.....

(الصيف - الشتاء - الربيع - الخريف) .



- ٦٢- تنمو حشائش السافانا الغنية بالقرب من.....
- (غابات البحر المتوسط- الغابات النفضية - الغابات المدارية المطيرة - الغابات الصنوبرية) .
- ٦٣- تشغل حشائش الإستبس مساحة صغيرة في إقليم الفلد بدولتي جنوب إفريقيا.....
- (تنزانيا - ليسوتو - أنجولا - النيجر) .
- ٦٤- تعدل درجات الحرارة صيفاً بحشائش.....
- (السافانا - الإستبس - التندرا - الصحاري) .
- ٦٥- تتسم تربة كل من الإستبس والسافانا بغناها.....
- (المواد الكيميائية - المواد العضوية - التكوينات الصخرية - التكوينات البركانية) .
- ٦٦- من العوامل الطبيعية التي تؤثر بالسلب على أشجار المانجروف.....
- (الرعي الجائر - التوسع العمراني - التنمية السياحية - التغيرات المناخية) .
- ٦٧- توجد الشعاب المرجانية في معظم السواحل..... لقارة إفريقيا.
- (الشمالية - الشرقية - الجنوبية - الغربية) .
- ٦٨- تشتهر مصر بوجود الشعاب المرجانية خاصة في مدينة.....
- (مطروح - الإسكندرية - الغردقة - السويس) .
- ٦٩- من العوامل البشرية التي تدمر الشعاب المرجانية.....
- (الفيضانات - التلوث - المناخ - السدود) .
- ٧٠- من البحيرات المالحة في إفريقيا بحيرة.....
- (فيكتوريا - البرديول - تنجانيقا - تشاد) .
- ٧١- محمية أركين تعتبر أشهر المحميات الطبيعية في دولة.....
- (مصر - الكونغو - كينيا - موريتانيا) .
- ٧٢- عرفت إفريقيا قديماً الإسلام لأول مرة عن طريق بلاد.....
- (النوبة - الحبشة - بونت - مصر) .
- ٧٣- من المعابر الأساسية التي استخدمها العرب مع شرق إفريقيا.....
- (المحيط الهادى - المحيط الهندي - المحيط الأطلنطي - البحر المتوسط) .
- ٧٤- أشهر الموانئ والمراكز التجارية التي نشرت الإسلام في إفريقيا كانت تقع فى دولة.....
- (مصر - الكونغو - تنزانيا - نيجيريا) .



- ٧٥- بدأ الفتح الإسلامي لمصر في عهد.....
- (الدولة الأموية - الدولة العباسية - الخلفاء الراشدين - الدولة الفاطمية) .
- ٧٦- أولى الدول الإفريقية التي فتحها المسلمون هي.....
- (مصر - المغرب - الصومال - أوغندا) .
- ٧٧- أول جيش إسلامي وصل إلى مدينة برقة كان بقيادة.....
- (عمرو بن العاص - عبد الله بن أبي السرح - خالد بن الوليد - عبد الملك بن مروان) .
- ٧٨- القاسم المشترك بين أهل برقة وأهل مصر هو المعاناة من حكم.....
- (الأمويين - العباسيين - الروم - المغول) .
- ٧٩- تم الفتح الإسلامي لمصر في عهد الخليفة.....
- (أبي بكر الصديق - عمر بن الخطاب - عثمان بن عفان - علي بن أبي طالب) .
- ٨٠- فتحت في عهد الخليفة عثمان بن عفان.....
- (مصر - برقة - طرابلس - إفريقية) .
- ٨١- أصبحت اللغة العربية هي اللغة الرسمية في بعض الدول الإفريقية ومنها.....
- (تنزانيا - الصومال - أوغندا - اليمن) .
- ٨٢- ساهم..... في تطوير الجوانب الإدارية بالحبشة .
- (الأيوبيون - العباسيون - المماليك - الفاطميون) .
- ٨٣- تقع جامعة سنكوري في دولة.....
- (غينيا - إثيوبيا - مالي - السنغال) .
- ٨٤- تستورد مصر من الدول الإفريقية.....
- (الأواني النحاسية - المصنوعات الحديدية - الزجاج - الصمغ) .
- ٨٥- بداية ظهور التأثير الديني لمصر على الشعوب الإفريقية كان في.....
- (العصور القديمة - العصور الوسطى - العصر الحديث - التاريخ المعاصر) .
- ٨٦- فضل ملوك وحكام الدول الإفريقية المنتجات المصرية بسبب.....
- (جودتها - رخصها - سهولة نقلها - ندرتها) .
- ٨٧- وجدت أوان فخارية تشير إلى التبادل التجاري بين مصر والدول الإفريقية في مناطق الساحل.....
- (الشمالي الإفريقي - الشرقي الإفريقي - الجنوبي الإفريقي - الغربي الإفريقي) .



السؤال الثالث

اكتب ما تشير إليه العبارة

- ١- الدول التي تطل على مسطحات مائية . **الدول الساحلية**
- ٢- بحر يفصل قارة إفريقيا عن قارة أوروبا . **البحر المتوسط**
- ٣- دول حرصت على تقسيم دول إفريقيا لدول مختلفة في المساحة . **الدول الاستعمارية**
- ٤- دولة إفريقية تم انتخابها لرئاسة الاتحاد الإفريقي لعام ٢٠١٩ م . **مصر**
- ٥- طريق اكتشفه البرتغاليون للدوران حول إفريقيا . **رأس الرجاء الصالح**
- ٦- كان لهم دور في اكتشاف منابع النيل في نهاية القرن الـ ١٨ م وخلال القرن الـ ١٩ م . **الأوروبيون**
- ٧- جبال تكونت نتيجة الثورات البركانية . **الجبال البركانية**
- ٨- استثمار الموارد المائية بشكل مستدام لتحقيق التنمية المستدامة والقضاء على الفقر وتحقيق الاكتفاء الذاتي . **الاقتصاد الأزرق**
- ٩- هضبة عظيمة الاتساع وقليلة الارتفاع وتنحدر تدريجيا نحو الشمال حتى تلتقى بسواحل البحر المتوسط . **شمال إفريقيا**
- ١٠- أحد منابع نهر النيل وتتسم بقلّة مياهها مقارنة بالمنابع الإثيوبية . **المنابع الاستوائية**
- ١١- حضارة إفريقية أثرت في تاريخ القارة ولكنها لم ترتبط بنهر النيل . **حضارة قرطاج**
- ١٢- اتفاقية نصت على التزام حوض النيل بعدم القيام بأي مشروعات على نهر النيل بغير اتفاق مسبق مع مصر . **اتفاقية ١٩٢٩ م**
- ١٣- تجمع إقليمي لدول حوض النيل ، أنشئ عام ١٩٨٣ م ويهدف إلى التشاور والتنسيق والتعاون بين دول الحوض . **الأندوجو**
- ١٤- المساحة التي يجرى فيها النهر وروافده . **حوض النهر**
- ١٥- عصر البناء والتأسيس عند المصريين القدماء . **العصر العتيق**
- ١٦- مقبرة أحد الملوك في عصر الدولة القديمة أخذت شكل هرم مدرج . **هرم سقارة المدرج**
- ١٧- أول بناء حجري ضخم في التاريخ . **هرم سقارة المدرج**
- ١٨- أرسل إليها الملك سنfro حملات لاستخراج النحاس والفيروز . **شبه جزيرة سيناء**
- ١٩- دولة ازدهرت التجارة الخارجية لمصر معها في عهد الملك خوفو . **فينيقيا**
- ٢٠- أحد الفنون وصل إلى قمته في عصر الملك خفرع . **فن النحت**
- ٢١- أصلب أنواع الحجر الذي استخدمه الفنان المصري القديم في تحت التماثيل . **حجر الديورايت**

- ٢٢ - شعار ملوك مصر فى عصر الدولة القديمة واقتبسه ملوك أوغندا قديما . **الصقر**
- ٢٣ - الكتابة التي استخدمها المصري القديم في تدوين متون الأهرام . **الهيروغليفية**
- ٢٤ - دولة قامت بإمداد الهكسوس بالموءن فترة احتلالهم لمصر . **كوش**
- ٢٥ - عاصمة مصر فترة حكم الملك أمنمحات الأول . **أثيث تاوى**
- ٢٦ - سد أنشئ عند مدخل بحيرة مورييس . **سد اللاهون**
- ٢٧ - غابات تمتص نسبة كبيرة جدا من انبعاثات الكربون العالمية كل عام . **الغابات المدارية المطيرة**
- ٢٨ - غابات توجد في منطقة الكاب أقصى جنوب غرب القارة الإفريقية . **غابات البحر المتوسط**
- ٢٩ - أشجار متوسطة إلى قصيرة الطول ودائمة الخضرة طوال العام . **البحر المتوسط**
- ٣٠ - أشجار وشجيرات تنمو فى المناطق الساحلية المدارية وشبه المدارية . **المانجروف**
- ٣١ - نهر يحتل المرتبة الأولى من حيث الكائنات الحية التي تعيش فيه . **نهر الأمازون**
- ٣٢ - محمية مصرية تتميز بتنوعها البيئي وتعد إحدى مناطق التراث العالمي . **رأس محمد**
- ٣٣ - بحيرة ساحلية في شبه جزيرة سيناء تعد من نظم الأراضي الرطبة المالحة . **البردويل**
- ٣٤ - مدينة مصرية جديدة تعد صديقة للبيئة . **العاصمة الإدارية الجديدة ، العلمين**
- ٣٥ - المعبر البرى الوحيد الذي يربط شبه الجزيرة العربية بإفريقيا . **شبه جزيرة سيناء**
- ٣٦ - ساعدت على انتشار الإسلام في إفريقيا بعد الفتح الإسلامي لمصر . **الهجرات والأنشطة الدعوية**
- ٣٧ - الأفراد الذين تلقوا قدرًا من العلوم الدينية لنشر الإسلام وتعاليمه بالطرق السلمية . **الدعاة**
- ٣٨ - أولى المحطات التي وصل إليها المسلمون خارج شبه الجزيرة العربية . **الحبشة**
- ٣٩ - مدينة بشمال إفريقيا كانت محاطة بالأسوار وحاصرها المسلمون شهر لفتحها . **طرابلس**
- ٤٠ - مدينة إفريقية فتحها المسلمون في عهد الدولة الأموية ومهد فتحها لفتح بلاد المغرب .

سببيلة

- ٤١ - أهم المساجد بدولة مالى أقيمت فيها دروس جميع العلوم الإسلامية . **جامع سنكوري**
- ٤٢ - مدينة مصرية أصبحت مقر الخلافة العباسية بعد سقوطها في بغداد . **القاهرة**
- ٤٣ - أهم المؤسسات العلمية الدينية التي قدمت العلوم والمعرفة إلى الدول الإسلامية . **الأزهر الشريف**
- ٤٤ - جامعة أقيمت بمدينة تمبكتو وقد حاولت أن تحتذى أساليب الأزهر فى التدريس . **سنكوري**



السؤال الرابع

أكمل العبارات الآتية بما يناسبها من كلمات

- ١- تعد قارة إفريقيا ثاني قارات العالم من حيث المساحة بعد قارة **آسيا** .
- ٢- تطل قارة إفريقيا على بحار هامة هي **البحر المتوسط** و **البحر الأحمر** .
- ٣- يقع نحو **ثلاثي** من مساحة القارة الإفريقية في نصف الكرة الأرضية الشمالي .
- ٤- يفصل المحيط الأطلنطي قارة إفريقيا عن قارتي **أمريكا الشمالية** و **أمريكا الجنوبية** .
- ٥- يمر بقارة إفريقيا ثلاث دوائر عرض رئيسية هي دائرة الاستواء و **مدار السرطان** و **مدار الجدي** .
- ٦- يفصل قارة إفريقيا عن قارة آسيا **البحر الأحمر** و **المحيط الهندي** .
- ٧- تشرف قارة إفريقيا على ممرات مائية مهمة مثل مضيق **باب المندب** و **مضيق جبل طارق** .
- ٨- نشأت على أرض قارة إفريقيا أقدم الحضارات في العالم مثل : حضارة **كوش** في السودان .
- ٩- امتد التأثير الحضاري المصري في إفريقيا إلى أعالي منابع **النيل الاستوائية** .
- ١٠- امتدت الممالك الإسلامية في إفريقيا حتى وصلت إلى هضبة **البحيرات الاستوائية** .
- ١١- يقع جبل **العوينات** على الحدود بين مصر وليبيا والسودان .
- ١٢- تقع هضبة الحبشة في الجانب **الشرقي** من قارة إفريقيا .
- ١٣- نتيجة الثورات البركانية أصبحت أرض هضبة الحبشة صالحة لحرفة **الزراعة** .
- ١٤- تكثر البحيرات العذبة في هضبة البحيرات الاستوائية مثل بحيرة **فيكتوريا** .
- ١٥- يعتبر جبل **توبقال** بالمغرب أعلى قمة جبلية في سلسلة الجبال الالتوائية .
- ١٦- من الجبال البركانية في وسط إفريقيا **كينيا** و **كلمنجارو** .
- ١٧- يعتبر جبل **شايب البنات** بمصر أعلى قمة جبلية في سلسلة الجبال الانكسارية .
- ١٨- تساهم المنطقة الجبلية في قارة إفريقيا في العديد من الأنشطة الاقتصادية مثل **السياحة** و **التعدين والصناعة** .
- ١٩- تكونت السهول الفيضية في وادي النيل بمصر والسودان من الطمي المنقول من هضبة **الحبشة** .
- ٢٠- الاقتصاد الأزرق يعنى استثمار الموارد المائية بشكل مستدام لتحقيق **التنمية المستدامة** .
- ٢١- تتسم سهول البحر الأحمر بالضيق نتيجة اقتراب جبال **البحر الأحمر** من الساحل .
- ٢٢- تضم قارة إفريقيا عددًا من الجزر أكبرها جزيرة **مدغشقر** .
- ٢٣- تنقسم منابع نهر النيل إلى منابع **استوائية دائمة** و منابع **إثيوبية موسمية** .
- ٢٤- يعد نهر النيل نهرا **دوليا** .



- ٢٥- يطلق على المساحة التي يجرى بها النهر وروافده **حوض النهر** .
- ٢٦- يعد نهر **كاجيرا** المنبع الحقيقي لنهر النيل .
- ٢٧- تقع المنابع الموسمية لنهر النيل في هضبة **إثيوبيا** .
- ٢٨- قامت حضارة كوش في **السودان** .
- ٢٩- كان من أشهر صادرات حضارة أكسوم معدن **الذهب** .
- ٣٠- قامت مصر بإنشاء خزان **سنار** على النيل الأزرق .
- ٣١- من الحضارات التي قامت في إفريقيا **المصرية القديمة** و **كوش** .
- ٣٢- يعد العصر **العتيق** هو عصر التأسيس والبناء عند المصريين القدماء .
- ٣٣- أسس الملك نعرمر (مينا) عاصمة مصر الموحدة وهي مدينة **من نفر** .
- ٣٤- بدأ عصر الدولة القديمة بحكم الأسرة الفرعونية **الثالثة** .
- ٣٥- تطور شكل بناء الأهرامات في عصر الدولة القديمة من الهرم **المدج** إلى **الهرم الكامل** .
- ٣٦- اهتم المصريون القدماء ببناء المعابد مثل : معابد **الآلهة** والمعابد **الجنائزية** .
- ٣٧- اهتم المصريون القدماء بنحت التماثيل مثل **التماثيل الملكية** وتماثيل **النبلاء** .
- ٣٨- قام الملك خوفو بتشييد الهرم الأكبر على هضبة **الجيزة** .
- ٣٩- يظهر تمثال « أبو الهول » رأسه على شكل **إنسان** وجسمه على شكل **أسد** .
- ٤٠- شيد الملك أوسر كاف معابد **الشمس** في أبي صير بالجيزة .
- ٤١- انتشرت الفوضى في نهاية عصر الدولة القديمة خاصة في عهد الملك **بيبي الثاني** .
- ٤٢- يبدأ عصر **الاضمحلال الأول** من الأسرة **السابعة** حتى الأسرة **العاشرة** .
- ٤٣- سمي عصر الدولة الوسطى بعصر **الرخاء الاقتصادي** .
- ٤٤- استطاع الملك **منتوحتب الثاني** أن يسيطر على الوجه البحري والقبلي بعد عصر الدولة الوسطى .
- ٤٥- يعتبر الملك أمنمحات الأول مؤسس الأسرة **الثانية عشر** .
- ٤٦- من مظاهر اهتمام الملك أمنمحات الثالث بالزراعة إقامة سد **اللاهون** .
- ٤٧- أنشأ الملك سنوسرت الثالث حصوناً في جنوب مصر عند **الجنبل الثاني** .
- ٤٨- كانت مدينة **طيبة** عاصمة مصر في فترة حكم الملك منتوحتب الثاني .
- ٤٩- استطاع الهكسوس احتلال مصر في عصر **الاضمحلال الثاني** .
- ٥٠- استطاع الملك **منتوحتب الثاني** إصلاح النظام الإداري للدولة .
- ٥١- تم طرد الهكسوس من مصر على يد **أحمس** .

- ٥٢- اهتم ملوك الدولة الحديثة بالبعد الإفريقي ووجهوا حملات **عسكرية** ورحلات **تجارية** نحو إفريقيا .
- ٥٣- قامت أول ثورة دينية في مصر القديمة على يد **أمنحتب الرابع** .
- ٥٤- مؤسس الدولة الحديثة في مصر القديمة الملك **أحمس الأول** .
- ٥٥- تمكن الملك **أحمس الأول** من طرد **الهكسوس** وتطهير أرض مصر .
- ٥٦- بعد طرد **الهكسوس** ، توجه **أحمس** نحو الجنوب بحملة إلى بلاد **النوبة** .
- ٥٧- أطلق على الموظف الذي يحكم الوحدة الممتدة من نبتة إلى شمال إدفو لقب **الأبن الملكي لكوش**
- ٥٨- من أشهر المعارك التي خاضها الملك **تحتمس الثالث** معركة **مجدو** .
- ٥٩- أعاد الملك **توت عنخ آمون** عاصمة مصر إلى مدينة **طيبة** .
- ٦٠- استكمل الملك **رمسيس الثاني** ما بدأه والده الملك **سيتي الأول** من مبان .
- ٦١- من أشهر المعارك التي خاضها الملك **رمسيس الثاني** معركة **قادش** .
- ٦٢- المؤسس الحقيقي للأسرة العشرين هو الملك **رمسيس الثالث** .
- ٦٣- تم تصوير رحلة **حتشبسوت** إلى بلاد **بونت** على جدران معبد **الدير البحري** .
- ٦٤- يتكون النظام البيئي من مكونات **حية** ومكونات **غير حية** .
- ٦٥- تنقسم النظم البيئية إلى نظم أرضية ونظم **مائية عذبة** ونظم **مائية مالحة** .
- ٦٦- توجد نظم بيئية صغيرة المساحة مثل **البرك** .
- ٦٧- تتمثل النظم المائية في الأراضي الرطبة **المستنقعات** ، **الأنهار** ، **البحيرات** .
- ٦٨- ينتشر في ساحل غانا غرب القارة الغابات المدارية **المطيرة (الاستوائية)** .
- ٦٩- من الأشجار التي تنتشر في الغابات المدارية **المطيرة المطاط** و **المانجو** و **الموز** .
- ٧٠- من الحيوانات المنتشرة بالغابات المدارية **المطيرة النمر** و **القردة** و **التماسيح** .
- ٧١- تعرف تربة الغابات المدارية **المطيرة بالتربة الحمراء** .
- ٧٢- تدخل أشجار الغابات المدارية **المطيرة** في عدة صناعات مثل **الخشب** و **المطاط** و **الأدوية** .
- ٧٣- يتميز نظام غابات البحر المتوسط بأنه **حار وجاف** في فصل الصيف .
- ٧٤- من أشجار غابات البحر المتوسط **البلوط الفليني** و **الأرز** و **الصنوبر** .
- ٧٥- تتدرج حشائش السافانا في الطول حسب **كمية المطر** .
- ٧٦- تتميز السافانا المكشوفة بقلة **الأشجار** .
- ٧٧- توجد السافانا البستانية بالقرب من الغابات المدارية **المطيرة** .
- ٧٨- تصلح تربة السافانا لزراعة **القطن** و **الذرة** و **البن** و **قصب السكر** .



- ٧٩- تعد قارة إفريقيا من أكثر المناطق تضرراً من الفيضانات وتأتي في المرتبة **الثانية** .
- ٨٠- يطلق على نظام الحشائش المعتدلة اسم **الإستبس** .
- ٨١- ينتشر نظام حشائش الإستبس في المناطق ذات المناخ **المعتدل** .
- ٨٢- **الأشجار** تنمو بالقرب من الأنهار ومنحدرات الجبال في نطاق حشائش الإستبس .
- ٨٣- يعمل معظم السكان في نظام حشائش الإستبس بالرعى و **الزراعة** .
- ٨٤- يتسم مناخ النظم الصحراوية في العالم بقلّة **الأمطار** وارتفاع **الحرارة** .
- ٨٥- يتعرض طائر الحباري **الأفريقي** الخطر الانقراض بالصحراء الكبرى .
- ٨٦- من أمثلة تربة الصحارى الحارة التربة **الحصوية** والتربة **الرملية** .
- ٨٧- يستخرج من النظام البيئي المائي في إفريقيا العديد من الأملاح مثل **الماغنسيوم** .
- ٨٨- من أنواع مصادر الطاقة الحفرية المستخرجة من النظم البيئية المائية **البترو** و **الغاز الطبيعي**
- ٨٩- تنقسم النظم المائية تبعا لنسبة **الأملاح بالمياه** .
- ٩٠- يقع نهر الأمازون في قارة **أمريكا الجنوبية** .
- ٩١- من أشهر البحيرات العذبة في قارة إفريقيا بحيرة **فيكتوريا** وبحيرة **تنجانيقا** وبحيرة **تشاد** .
- ٩٢- تقع مستنقعات الغابات في إفريقيا داخل نظام الغابات **المدارية المطيرة** .
- ٩٣- الشعاب المرجانية أحد مظاهر النظم البيئية للمياه **المالحة** .
- ٩٤- أكبر انتشار لأشجار المانجروف في قارة **آسيا** .
- ٩٥- من أشهر المحميات الطبيعية في مصر والتي تضم أشجار المانجروف محمية **نبق** ومحمية **علبة وحماطة**
- ٩٦- من أهمية أشجار المانجروف أنها تنقى الهواء من **الكربون** .
- ٩٧- هاجر الصحابة الأوائل إلى قارة إفريقيا لأول مرة في عهد **الرسول ص** .
- ٩٨- وصل عرب شبه الجزيرة العربية للساحل الشرقي لإفريقيا بغرض **التجارة** .
- ٩٩- انتشر الإسلام عبر المحيط الهندي في دول إفريقية مثل تنزانيا و **كينيا** و **الكونغو** .
- ١٠٠- أهم الموانئ والمراكز التجارية التي نشرت الإسلام بإفريقيا مدينة **تمبكتو** في مالي .
- ١٠١- قام التجار المسلمون في إفريقيا بتشييد **المدارس** و **المساجد** .
- ١٠٢- بعد استقرار الأمر لعمر بن العاص في مصر اتجه بجيشه نحو إقليم **برقة** .
- ١٠٣- اتجه عمرو بن العاص بعد فتح برقة نحو **طرابلس** .
- ١٠٤- من القادة المسلمين الذين ساهموا في فتح شمال إفريقيا **عقبة بن نافع** و **موسي بن نصير** .
- ١٠٥- حرص سكان إفريقيا على إقامة الشعائر الإسلامية فتعلموا **اللغة العربية** .



- ١٠٦- من الممالك والسلطنات الإسلامية في قارة إفريقيا مملكة **غانا** ومملكة **مالي** .
- ١٠٧- نظم الإسلام الأسرة فمنح الأم الحق في **حضانة الأطفال** .
- ١٠٨- يعد دخول الإسلام إلى إفريقيا تحولت الحياة القبلية بها إلى نظام **الدولة** .
- ١٠٩- كان حجاج الدول الإفريقية يمرون عبر **مصر** لبلاد الحرمين .
- ١١٠- من أشهر الأروقة التي خصصت لطلاب الأزهر من شمال إفريقيا رواق **المغاربة** .
- ١١١- كانت مصر الوسيط الوحيد في استيراد إفريقيا لسلع **الشرق** .
- ١١٢- خصص للطلاب الوافدين من بلاد الحبشة وسواحل البحر **الأحمر** .
- ١١٣- أصبحت مسئولية حماية الحرمين الشريفين بعد سقوط الخلافة العباسية على عاتق **مصر** .

مراجعة + بنك أسئلة

صوب ما تحته خط

السؤال الخامس

- ١- تعد مصر جزءا من قارة **أوربا** . **إفريقيا**
- ٢- تعد إفريقيا **ثالث** قارات العالم من حيث المساحة . **ثاني**
- ٣- يقع نحو **ربع** مساحة قارة إفريقيا في النصف الشمالي للكرة الأرضية . **ثلاثي**
- ٤- أكبر دول قارة إفريقيا من حيث المساحة هي **السودان** . **الجزائر**
- ٥- قام الرحالة «حر خوف» بأربع رحلات نحو **غرب** إفريقيا . **جنوب**
- ٦- تقترب قارة إفريقيا من قارة آسيا عند مضيق **موزمبيق** . **باب المندب**
- ٧- قامت على أرض قارة إفريقيا حضارة **كوش** في مصر . **المصرية القديمة**
- ٨- امتد التأثير الحضاري المصري إلى دول **جنوب** إفريقيا . **غرب**
- ٩- استمرت رحلة الدوران حول إفريقيا حوالي **أربع** سنوات . **ثلاث**
- ١٠- تعددت الممالك الإسلامية على السواحل **الغربية** لقارة إفريقيا . **الشرقية**
- ١١- استفاد البرتغاليون من **الفينيقيين** في محاولاتهم لاكتشاف قارة إفريقيا . **العرب**
- ١٢- تتميز هضبة شمال إفريقيا بالمنخفضات كمنخفض **عين صالح** بمصر . **القطارة**
- ١٣- تعتبر هضبة الحبشة المنبع **الدائم** لنهر النيل . **الموسمي**
- ١٤- تعد الهضبة الاستوائية هي المنبع **الموسمي** لنهر النيل . **الدائم**
- ١٥- الطفوح البركانية في هضبة الحبشة سبب قيام الحضارات القديمة في **تونس** . **إثيوبيا**
- ١٦- البحيرات الاستوائية تعلوها القمم الجبلية **الجليدية** . **البركانية**
- ١٧- من الجبال الالتوائية بقارة إفريقيا جبال أطلس التي تمتد في سلسلتين **متقاطعتين** على



طول الساحل . متوازيتين

١٨ - هناك أهمية اقتصادية لجبال قارة إفريقيا لتوفيرها مصادر الطاقة اللازمة للصناعة . الثروات المعدنية

١٩ - تمتد سهول كينيا بين الساحل الشرقي لإفريقيا وهضبة شمال إفريقيا . البحيرات الاستوائية

٢٠ - أقام الملك أمنمحات الثالث مقياسا للنيل عند الجدل الأول . الجدل الثاني

٢١ - استطاع الملك أمنمحات الأول بناء حصن قمنة وسمنة . سنوسرت الثالث

٢٢ - اتخذ الهكسوس مدينة طيبة عاصمة لهم . أواريس

٢٣ - ساندت سبك نفرو زوجها في الكفاح ضد الهكسوس . إياح حتب

٢٤ - بعد سقوط مدينة أواريس فر الهكسوس إلى العراق . فلسطين

٢٥ - كان يستخرج المصريون القدماء المعادن من الفيوم . شبه جزيرة سيناء بنك أسئلة

٢٦ - نجح الملك منتوحتب الثاني في الانتصار على ملوك منف في الشمال . إهناسيا

٢٧ - اهتم ملوك الدولة الحديثة في مصر بالبعد الأوربي . الأفريقي ، الآسيوي

٢٨ - بدأت الأسرة (٢٥) في مصر بالملوك الكوشيين وظل احتلالهم لمصر قرابة قرنين من الزمان . قرن

٢٩ - يعتبر الملك توت عنخ آمون ملك الحرب والسلام . رمسيس الثاني

٣٠ - أشهر المعارك التي خاضها رمسيس الثاني معركة مجدو . قادش

٣١ - النظام البيئي منطقة متكاملة تتكون من كائنات حية منها التربة وعناصر المناخ . النباتات والحيوانات

٣٢ - تقع نظم غابات البحر المتوسط بين دائرتي عرض ١٠ - ١٠ شمال وجنوب دائرة الاستواء .

المدارية المطيرة

٣٣ - تتميز تربة الغابات المدارية المطيرة باللون الأخضر . الأحمر

٣٤ - تسقط الأمطار طوال العام في مناطق نظام غابات البحر المتوسط . المدارية المطيرة

٣٥ - يتميز نظام غابات البحر المتوسط بأنه بارد جاف في فصل الشتاء . دافئ ممطر

٣٦ - يوجد نظام غابات البحر المتوسط على طول الساحل الشمالي الشرق القارة إفريقيا . الشمالي الغربي

٣٧ - تعد قارة إفريقيا أكثر القارات في الانبعاثات الحرارية . أقل

٣٨ - تمثل حرائق الغابات في إفريقيا ثلث المساحات المحترقة في العالم . ثلثي

٣٩ - يسود بالأطراف الشمالية المصرية النظام الصحراوي الحار . الحشائش المعتدلة

٤٠ - يتسم المناخ الصحراوي بالاعتدال في درجات الحرارة . التطرف

٤١ - تعد الطباء من أهم أنواع الحيوانات التي تعيش بالحشائش الحارة . المعتدلة

٤٢ - تشغل الحشائش الحارة مساحة صغيرة بإقليم الفلد في دولتي جنوب إفريقيا وليسوتو . المعتدلة



- ٤٣ - **تعتدل** درجات الحرارة في فصل الشتاء بحشائش الإستبس . **تنخفض**
- ٤٤ - من المخاطر الطبيعية التي تواجه حشائش السافانا **الصيد الجائر** . **تجريف التربة**
- ٤٥ - من الحيوانات آكلة العشب التي تعيش في السافانا **الضباع** . **الفيل ، الغزلان**
- ٤٦ - تنقسم حشائش السافانا إلى **أربعة** أقسام . **ثلاث**
- ٤٧ - تمتد حشائش السافانا بين **غابات البحر المتوسط** والصحاري الحارة . **المدارية المطيرة**
- ٤٨ - تزداد كثافة **النباتات الصحراوية** كلما اقتربنا من الغابات المدارية المطيرة . **السافانا**
- ٤٩ - تقع الصحاري الحارة الإفريقية في **شرق** القارة مثل الصحراء الكبرى . **شمال**
- ٥٠ - يستخرج من النظام البيئي المائي في إفريقيا العديد من المعادن مثل **البوكسيت** . **الذهب ، النحاس**
- ٥١ - تعد مستنقعات السد من النظم المائية **المالحة** . **العذبة**
- ٥٢ - يحتل نهر الكونغو المرتبة **الثالثة** من حيث وجود الكائنات الحية . **الثانية**
- ٥٣ - شهدت بحيرة تانا **أكبر** انقراض جماعي للفقاريات في العصر الحديث . **فيكتوريا**
- ٥٤ - تعد مستنقعات السد من أشهر المستنقعات المكشوفة في **جنوب مصر** . **جنوب السودان**
- ٥٥ - تنتشر أشجار المانجروف بشكل أكثر وضوحًا على سواحل إفريقيا **الشمالية والجنوبية** . **الشرقية والغربية**
- ٥٦ - ينتشر نظام المانجروف في بعض جزر المحيط الهندي مثل جزيرة **مالطا** . **مدغشقر**
- ٥٧ - تعمل **الأشجار الصنوبرية** على حماية الشواطئ من التآكل والتعرية . **أشجار المانجروف**
- ٥٨ - تنمو أشجار المانجروف في المناطق **الساحلية الاستوائية** . **الساحلية المدارية**
- ٥٩ - سقطت الخلافة العباسية بسقوط عاصمتها **دمشق** على يد المغول . **بغداد**
- ٦٠ - أصبحت مدينة **الإسكندرية** مركزا للخلافة العباسية في مصر بعد غزو المغول . **القاهرة**
- ٦١ - كانت المؤثرات **الاجتماعية** من أبرز النواحي الثقافية التي ربطت الدول الإفريقية بمصر . **الدينية**
- ٦٢ - رواق **الشوام** أشهر الأروقة التي خصصت لطلاب شمال إفريقيا والمغرب العربي . **المغاربة**
- ٦٣ - يعد **الصمغ** أحد صادرات مصر للدول الإفريقية . **الأواني النحاسية**

لمن تنسب الأعمال الآتية

السؤال السادس

- ١ - ملك مصري قديم أرسل رحلة للدوران حول قارة إفريقيا . **نخاو الثاني**
- ٢ - حاكم مصري في العصر الحديث كان له دور في اكتشاف منابع النيل عام ١٨٣٩م . **محمد علي باشا**
- ٣ - رحلة عربي قام برحلات مهمة في شمال وغرب إفريقيا حتى وصل إلى مالي . **ابن بطوطة**
- ٤ - أوائل الرحالة العرب الذين زاروا إفريقيا وكتبوا عنها . **المسعودي**

- ٥- حاكم مصري وصل حكمه إلى جنوب دائرة الاستواء . **الخديو إسماعيل**
- ٦- رحلة مصري قام بأربع رحلات نحو الجنوب في عصر الدولة المصرية القديمة . **حر خوف**
- ٧- قام بتوحيد مملكتي الشمال والجنوب وتميز عصره بالاستقرار والأمن . **الملك مينا نعرمر**
- ٨- أسس الأسرة الثالثة الفرعونية وصاحب الهرم المدرج بسقارة . **الملك زوسر**
- ٩- أشرف على تشييد هرم الملك زوسر بسقارة . **الوزير إيموحتب**
- ١٠- أسس الأسرة الفرعونية الرابعة . **الملك سنفرو**
- ١١- أمر بنحت تمثال أبو الهول . **الملك خفرع**
- ١٢- أسس الأسرة الفرعونية الخامسة . **أوسر كاف**
- ١٣- قام بتشييد المسلات الضخمة والمعابد في عصر الدول القديمة . **أوسر كاف**
- ١٤- قام بتشييد معابد الشمس المكشوف في أبي صير . **أوسر كاف**
- ١٥- رحلة مصري قديم قام بعدة كشوف جغرافية لإفريقيا في عصر الدولة القديمة . **حر - خوف**
- ١٦- قام بطرد القبائل الآسيوية التي دخلت مصر عن طريق الشام . **أمنمحات الأول**
- ١٧- أنشأ سلسلة من الحصون على الحدود الغربية للدلتا . **أمنمحات الأول**
- ١٨- أقام سد اللاهون . **أمنمحات الثالث**
- ١٩- حفر قناة تربط بين البحر الأحمر والبحر المتوسط عن طريق نهر النيل . **سنوسرت الثالث**
- ٢٠- قام بإنشاء حصون قمنة وسمنة عند الجندل الثاني . **سنوسرت الثالث**
- ٢١- أحد ملوك الدولة الوسطى وقام بالتوسع جنوبا وإرسال بعثة إلى بلاد بونت عبر الصحراء .
منتوحتب الثاني
- ٢٢- تولت الحكم عقب وفاة أمنمحات الرابع . **سبك نفرو**
- ٢٣- بناء معبد في أبو سمبل ، أحدهما له والآخر لزوجته . **رمسيس الثاني**
- ٢٤- توسيع السيطرة على المناطق الجنوبية وضم مدينة نبتة إلى حدود مصر . **تحتمس الأول**
- ٢٥- قيادة الحملات العسكرية إلى آسيا وتحقيق انتصارات كبيرة، وإقامة إمبراطورية كبيرة امتدت إلى ما وراء الجندل الرابع . **تحتمس الثالث**
- ٢٦- إعادة بناء المعابد وتجديد عبادة الإله آمون بعد فترة من التغيير الديني . **توت عنخ آمون**
- ٢٧- قاد الحملات العسكرية ضد الليبيين وأصلح الإدارة الداخلية لمصر . **رمسيس الثالث**
- ٢٨- أقامت مسلتين شاهقتين في معبد الكرنك . **حتشبسوت**
- ٢٩- قاد الحملات العسكرية الكبرى إلى بلاد كوش . **تحتمس الثالث**



٣٠ - هزم شعوب البحر المتوسط في عصر الدولة الحديثة . **رمسيس الثالث**

٣١ - أوصى أصحابه بالهجرة إلى الحبشة . **الرسول ص**

٣٢ - ملك بقارة إفريقيا لعب دورا هاما في هجرة المسلمين قديما للحبشة . **النجاشي**

٣٣ - خليفة أموي أرسل البنائين للساحل الشرقي الإفريقي للمساهمة في بناء المدن الإفريقية .

عبد الملك بن مروان

٣٤ - قائد مسلم قام بفتح مصر . **عمرو بن العاص**

٣٥ - انتصر على الروم وفتح مدينة سببيلة . **عبد الله بن أبي السرح**

ب : إلى أى أسرة فرعونية ينتمى كل عمل مما يلي :

مراجعة + بنك أسئلة

١ - بناء هرم سقارة المدرج . **الأسرة الثالثة**

٢ - أرسل أسطولا بحريا لفينيا . **الأسرة الرابعة**

٣ - نحت تمثال أبو الهول . **الأسرة الرابعة**

٤ - تشييد معابد الشمس المكشوفة في أبي صير . **الأسرة الخامسة**

٥ - تدوين نصوص الأهرام في المقابر الملكية . **الأسرة الخامسة**

٦ - إعادة توحيد البلاد والقضاء على الضعف والفوضى . **الأسرة الحادية عشرة**

بم تفسر

السؤال السابع

١ - الأهمية الاستراتيجية لموقع قارة إفريقيا .

لأنها تقع وسط قارات العالم وتشرف علي ممرات مهمة مثل : جبل طارق وباب المندب وهرمز .

٢ - الأهمية الحضارية لقارة إفريقيا .

لأن نشأ بها أقدم الحضارات مثل : المصرية القديمة وأكسوم في اريتريا وكوش في السودان .

٣ - تنقسم قارة إفريقيا إلى دول مختلفة في المساحة .

بسبب تصارع الدول الاستعمارية علي نهب خيراتها واستغلال ثرواتها وتقسيمها .

٤ - تحكم قارة إفريقيا في طرق التجارة العالمية .

بسبب موقعها الجغرافي المتميز وتحكمها في الممرات المائية المهمة .

٥ - أسس البرتغاليون الموانئ والمراكز التجارية على طريق رأس الرجاء الصالح .

لتأمين الملاحة التجارية .



- ٦- تنوع النباتات الطبيعية والحيوانات والمحاصيل الزراعية في قارة إفريقيا .
بسبب تنوع المناخ وامتدادها بين أكثر من ٧٠ دائرة عرضية .
٧- تتميز هضبة الحبشة بخصوبة تربتها .

بسبب الطفوح البركانية بها .

- ٨- تعد هضبة الحبشة المنبع الموسمي لنهر النيل .
بسبب أمطارها الصيفية .

- ٩- تعتبر هضبة البحيرات الاستوائية المنبع الدائم لنهر النيل .
بسبب سقوط الأمطار عليها طوال العام .

- ١٠- تكون الجليد فوق قمة جبل كلمنجارو .
بسبب الارتفاع الشاهق .

- ١١- تتميز سهول وادي النيل بخصوبة تربتها .

بسبب الطمي الذي ينتقل من هضبة الحبشة بفعل حركة المياه .

- ١٢- تضيق سهول البحر المتوسط في بلاد المغرب العربي .

بسبب اقتراب جبال أطلس من ساحل البحر المتوسط .

- ١٣- تكون الأخدود الإفريقي العظيم .

بسبب حدوث مجموعة انكسارات طولية .

- ١٤- يعد نهر النيل نهراً دولياً .

بسبب امتداد مجراه وروافده داخل أراضي إحدى عشرة دولة .

- ١٥- قلة مياه المنابع الاستوائية لنهر النيل طوال العام .

لمرور دائرة الاستواء بمنطقة هذه المنابع ومن ثم زيادة البخر في منابع نهر النيل الاستوائية مما أدى إلى قلة مياهها .

- ١٦- عقد اتفاقية قانون تنظيم استخدام المجارى المائية في الأغراض غير الملاحية .

لتنظيم وإدارة وتنمية مياه نهر النيل وعدم التسبب في أي ضرر والاستخدام المنصف والمناسب لمياه النهر .

- ١٧- تأسيس الفينيقيين مدينة قرطاج على البحر المتوسط .

لتأمين رحلاتهم التجارية من فينيقيا إلى إسبانيا .

مراجعة + بنك أسئلة



- ١٨ - عقد كل من مصر وإثيوبيا والسودان اتفاقية ٢٠١٥ م .
- لتنظيم وإدارة وتنمية مياه نهر النيل وعدم التسبب في أي ضرر والاستخدام المنصف والمناسب لمياه النهر .
- ١٩ - سمي عصر الدولة القديمة بعصر بناء الأهرام .
- لاهتمام ملوكه ببناء مقابرهم علي شكل أهرامات .
- ٢٠ - اهتمام المصريين في عصر الدولة القديمة بنحت التماثيل الملكية .
- بسبب الاعتقاد في قدسية الملك .
- ٢١ - يعد هرما خوفو وخفرع دليلا على تقدم المصريين القدماء .
- بسبب تطور بناء المقابر من حفرة إلى مصطبة ثم الهرم المدرج ثم الأهرامات الكاملة .
- ٢٢ - إرسال الملك سنfro أسطولاً بحرياً إلى فينيقيا .
- لإحضار أخشاب شجر الأرز .
- ٢٣ - إرسال الملك سنfro حملة إلى بلاد النوبة .
- ليعيد الأمن إلى حدود مصر .
- ٢٤ - أهمية نصوص الأهرام .
- لأنها تمدنا بكثير من المعلومات المهمة عن المعتقدات الدينية للمصريين القدماء .
- ٢٥ - قيام المصريين بثورة عارمة نهاية عصر الدولة القديمة .
- بسبب تدهور أحوال مصر الاقتصادية والاجتماعية في نهاية حكم الأسرة السادسة .
- ٢٦ - تعد فترة حكم الملك منتوحتب الثاني بداية لمجد الأسرة الحادية عشرة .
- لأنه استطاع أن يسيطر علي الوجه البحري والقبلي بعد أن نجح في الانتصار علي ملوك إهناسيا في الشمال .
- ٢٧ - إنشاء مدينة إثيت تاوى في عصر الدولة الوسطى .
- لكي يسيطر الملك أمنمحات الأول علي كل أنحاء البلاد .
- ٢٨ - منح الملك أمنمحات الأول الألقاب الرفيعة لحكام الأقاليم والتقرب منهم .
- للسيطرة عليهم وإخضاعهم .
- ٢٩ - إنشاء الملك أمنمحات الثالث سد اللاهون .
- لتنظيم دخول المياه إلي بحيرة مورييس وخروجها منها وتخزين المياه .

مراجعة + بنك أسئلة



- ٣٠ - قيام الأمير كامس بشن حملة مفاجئة على أرض كوش .
- لإجبار أميرها علي قطع الإمدادات التي كانت تصل إلي الهكسوس عن طريق نهر النيل ولتأمين الحدود الجنوبية .
- ٣١ - إنشاء الملك أمنمحات الثالث مقياس النيل عند الجندل الثاني .
- لمراقبة ارتفاع منسوب مياه نهر النيل .
- ٣٢ - إنشاء الملك أمنمحات الأول حصوناً على الحدود الغربية للدلتا .
- لحماية مصر من الغارات الليبية .
- ٣٣ - أهمية وجود جيش قوى لمصر فى عصر الدولة الحديثة .
- يعمل علي الحفاظ علي النظام والاستقرار الداخلي وحماية مصر من الأخطار الخارجية .
- ٣٤ - قيام الملك تحتمس الأول بوضع المنطقة من نبتة إلى شمال إدفو تحت حكم وحدة واحدة .
- لكي ينظم أمور هذه المنطقة .
- ٣٥ - يعد تحتمس الثالث صاحب عقلية عسكرية متميزة .
- لأنه قاد ١٦ حملة عسكرية في آسيا ، وبني أسطولا قويا استطاع أن يبسط سيطرته علي كثير من جزر البحر المتوسط .
- ٣٦ - شهرة الملك توت عنخ آمون .
- لاكتشاف مقبرته عام ١٩٢٢م ، واحتوت علي روائع فنية تعبر عن تقدم الفنون المصرية .
- ٣٧ - أخذ الملك تحتمس الثالث إلى مصر بعض أبناء الأمراء الذين حاربوه .
- ليتعلموا العادات والتقاليد المصرية ويغرس في نفوسهم حب مصر حتي إذا ما عادوا وحكموا بلادهم وتولوا الحكم أصبحوا من أتباعه المخلصين .
- ٣٨ - ضعف مصر بعد حكم رمسيس الثالث .
- لضعف الملوك وتدخل كهنة آمون بطيبة في شئون الحكم .
- ٣٩ - حدوث اختلال في النظام البيئي .
- بسبب الزلازل و الثورانات البركانية و الأعاصير وإزالة الغابات والرعي الجائر والحروب .
- ٤٠ - يتسم نظام الغابات المدارية المطيرة بانخفاض الضغط الجوي وارتفاع الرطوبة .
- ينخفض الضغط الجوي بسبب صعود الهواء إلي أعلي وسكون حركة الرياح نسبيا ، إما ارتفاع الرطوبة النسبية فيحدث نتيجة ارتفاع معدلات البخر .



- ٤١ - كثرة النباتات المتسلقة والطفيلية في الغابات الاستوائية .
- تكثر نتيجة عدم وصول الضوء إلى أرض الغابة بسبب كثافة أشجار هذه الغابات ، وتشابك أغصانها .
- ٤٢ - تندر الحيوانات الضخمة في الغابات المدارية المطيرة .
- بسبب صعوبة تحركها بين أشجار الغابة .
- ٤٣ - تعرف تربة الغابات المدارية المطيرة بالتربة الحمراء .
- بسبب الأمطار الغزيرة التي تسبب تجريف التربة وإذابة الأملاح والمواد النافعة منها ، بينما تترك المواد غير قابلة للذوبان في التربة مثل أكاسيد الحديد مما يكسب التربة اللون الأحمر .
- ٤٤ - أهمية أشجار الغابات المدارية المطيرة الاقتصادية .
- مصدر مهم للغذاء والوقود لعدد كبير من سكان العالم ، تحافظ على التوازن البيئي .
- ٤٥ - تتسم أشجار غابات البحر المتوسط بأنها أشجار دائمة الخضرة طوال العام .
- لأنها تتكيف مع الظروف المناخية من خلال جذورها العميقة وأوراقها صغيرة الحجم المغطاة بطبقة شمعية لتقليل الفاقد بالنتح .
- ٤٦ - قطع الأشجار بقارة إفريقيا .
- لبيع أخشابها واستخدامها كوقود ، تحويل أرض الغابات إلى أرض زراعية .
- ٤٧ - تعد قارة إفريقيا أكثر قارات العالم خسارة للغابات من الحرائق .
- حيث بلغت الغابات المحترقة بها أكثر من ثلثي الغابات المحترقة في العالم .
- ٤٨ - تعرض غابات البحر المتوسط في إفريقيا للجفاف .
- بسبب قلة سقوط الأمطار في بعض السنوات مما يؤدي إلى زيادة موت الأشجار وتدهور التربة .
- ٤٩ - تغطي طبقة من الشمع أوراق الأشجار في نظام غابات البحر المتوسط .
- لتقليل الفاقد بالنتح .
- ٥٠ - تعرض أنواع كثيرة من الحيوانات بغابات إفريقيا للانقراض .
- بسبب التغير المناخي ، الصيد الجائر ، التوسع الزراعي والعمراني .
- ٥١ - تعتبر حشائش السافانا حديقة حيوان طبيعية .
- لأنها تضم مجموعة من الحيوانات آكلة العشب والحشائش مثل الفيل الإفريقي والغزلان والزرافات ووحيد القرن والنعام والجاموس البري والحمار الوحشي، كما تعيش بها الحيوانات آكلة اللحوم كالأسود والنمور والضباع .



٥٢ - لحشائش السافانا أهمية كبيرة .

لأنها تمثل مصدرا رئيسيا لغذاء الإنسان حيث تربي فيها الماشية والتي تعد ثروة حيوانية برية غنية ، كما يستغل نظام السافانا لإنتاج بعض المحاصيل كالقطن والذرة والبن وقصب السكر .

٥٣ - تنتشر حرفة الصيد بنطاق الحشائش المعتدلة .

بسبب كثرة عدد الحيوانات التي تعيش فيها .

٥٤ - أهمية حشائش الإستبس .

لأنها تعد مراعى طبيعية لحيوانات الأغنام والخيول، كما تنتشر بها حرفة الصيد بسبب كثرة عدد الحيوانات التي تعيش فيها، بالإضافة إلى صلاحية تربتها الزراعة الحبوب الغذائية .

٥٥ - يتسم نظام حشائش السافانا بارتفاع درجات الحرارة صيفا بشكل ملحوظ .

بسبب طول النهار صيفا وانخفاض كثافة النباتات في حشائش السافانا عن الغابات المدارية المطيرة .

٥٦ - ندرة النباتات الطبيعية في نظام الصحاري الحارة .

بسبب ندرة المياه وفقر التربة وارتفاع درجات الحرارة .

٥٧ - تعد الصحارى الإفريقية بيئة مثالية لتوليد الطاقة الشمسية .

لأنها تتلقى كميات كبيرة من أشعة الشمس على مدار السنة .

٥٨ - تعرض التربة في نطاق السافانا للتجريف طبيعياً .

بسبب سقوط الأمطار بغزارة في فصل الصيف .

٥٩ - تعرض النظم البحرية العذبة في إفريقيا للتدهور .

بسبب إدخال أنواع جديدة من الأسماك إلى البحيرة .

٦٠ - شهرة البحيرات العذبة لقارة إفريقيا .

بسبب تنوع الأسماك بها وتعيش بها مجموعة من اللافقاريات والقشريات الرخوية والطحالب .

٦١ - أهمية الأراضي الرطبة العذبة .

ترجع أهميتها إلى أن النبات بها يمتص كميات كبيرة من ثاني أكسيد الكربون مما يبطئ من ظاهرة الاحتباس الحراري، كما تعمل على تنقية المياه وتقليل كمية الرواسب المتجهة إلى البحيرات، وتعد حاجزاً ضد تأثيرات الفيضانات والجفاف .

٦٢ - انتشار أشجار المانجروف على السواحل الغربية والشرقية لقارة إفريقيا .

بسبب كثرة النظم النهرية وزيادة كمية الأمطار .



٦٣ - للعوامل الطبيعية تأثير سلبي على أشجار المانجروف .
بسبب التغيرات المناخية مثل زيادة درجات الحرارة ونقص الأمطار التي تؤدي إلى تدهور أشجار المانجروف .

٦٤ - توسع مصر في إنتاج الطاقة النظيفة .
لتجنب انبعاثات ثاني أكسيد الكربون .

٦٥ - للعوامل البشرية تأثير سلبي على أشجار المانجروف .
بسبب الصيد الجائر وإزالة مساحات منها لأغراض التنمية العمرانية والسياحة .

٦٦ - ارتبط العرب بعلاقات مع إفريقيا قديما قبل ظهور الإسلام .
بسبب القرب الجغرافي بين إفريقيا وشبه الجزيرة العربية .

٦٧ - انتشار الإسلام في إفريقيا بعد الفتح الإسلامي .

بسبب حفر قناة أمير المؤمنين التي زادت الصلة بين المسلمين والأفارقة مما ساعد علي نشره .

٦٨ - إرسال التجار المسلمين الطلاب الأفارقة المميزين للمعاهد العلمية في مصر .

ليتلقوا مزيدا من العلوم فيعودوا قادة للفكر الإسلامي في بلادهم .

٦٩ - انتقال العادات والتقاليد الإسلامية لشعوب إفريقيا .

بسبب زواج المسلمين من النساء الأفارقة مما ساعد علي تقوية العلاقة بين الطرفين ونقلها .

٧٠ - قام عمرو بن العاص الله يفتح كل من برقة وطرابلس .

لتأمين الحدود الغربية ونشر الإسلام .

٧١ - ترحيب المصريين بالفتح الإسلامي .

لأنهم كانوا يعانون من حكم الروم .

٧٢ - اتجه عمرو بن العاص مع الله إلى طرابلس بعد فتح برقة .

بسبب أهميتها علي الشاطئ الأفريقي وإحكام السيطرة علي شمال إفريقيا .

٧٣ - إرسال عبد الله بن أبي السرح من الله الحملات الاستطلاعية الأطراف إفريقية (تونس حاليا) .

لمعرفة قدرة الروم علي صد هجمات المسلمين .

٧٤ - ارتبطت مصر مع الدول والممالك الإفريقية خلال العصور الوسطى بعلاقات سياسية

وثقافية واقتصادية قوية .

بسبب موقعها الجغرافي المتميز وتأثيرها الفكري والثقافي والاقتصادي .

٧٥ - توفير الأزهر الشريف لطلابه الأفارقة الإقامة والرواتب .



حرصا علي تكريم وراحة الطلاب الأفارقة وتفرغهم لطلب العلم .

٧٦- سعى العديد من حكام الدول الإسلامية بإفريقيا إلى الحصول على تأييد مصر السياسي .

للاعترا ف بشرعيتهم في حكم البلاد التي تولوا إدارة شئونهم .

٧٧- لجوء ملوك الحبشة للمطارنة المصريين .

لاستشارتهم في شئونهم الدينية والسياسية .

٧٨- تعيين مطران مصرى فى كنيسة الحبشة .

لأن الكنيسة الحبشية كانت تابعة للكنيسة المصرية .

السؤال الثامن

ما النتائج المترتبة علي

١- الموقع الجغرافي لقارة إفريقيا .

أدي إلى وقوع إفريقيا وسط قارات العالم وتحكمها في الممرات المائية المهمة .

٢- إرسال محمد على باشا رحلات لاكتشاف منابع النيل عام ١٨٣٩م .

أدي إلى اكتشاف النيل الأبيض ورسم خريطة للنيل حتي جنوب السودان .

٣- انتخاب مصر لرئاسة الاتحاد الإفريقي عام ٢٠١٩م .

أدي إلى تعميق دور مصر الريادي في القارة وتدعيم علاقاتها مع الشعوب .

٤- تنوع المناخ في قارة إفريقيا .

أدي إلى تنوع النباتات الطبيعية والحيوانات والمحاصيل الزراعية .

٥- حدوث طفوح بركانية بهضبة الحبشة .

أدي إلى تميز تربتها بالخصوبة مما ساعد علي قيام الزراعة ونشأة الحضارات القديمة في إثيوبيا

٦- امتداد العديد من الأنهار بقارة إفريقيا .

أدي إلى تكوين السهول الفيضية الخصبة الصالحة للزراعة .

٧- اقتراب جبال أطلس من ساحل البحر المتوسط .

أدي إلى ضيق سهول البحر المتوسط في بلاد المغرب العربي .

٨- حدوث الثورانات البركانية في وسط قارة إفريقيا .

إدي لتكوين الجبال البركانية في وسط إفريقيا مثل جبل كينيا و كلمنجارو أعلى قمة جبلية بالقارة

٩- تمتع جبال القارة الإفريقية بالمناظر الطبيعية الخلابة .

أدي إلى جذب السياح وممارسة العديد من الأنشطة بالمناطق الجبلية .



١٠ - ارتفاع معدلات البخر في البحيرات الاستوائية .

أدي إلي قلة مياهها .

١١ - إنشاء مصر خزان جبل الأولياء في السودان .

أدي إلي توليد الطاقة الكهربائية .

١٢ - الموقع الاستراتيجي لقرطاج بين مدن شرق وغرب البحر المتوسط .

كونت مملكة مستقلة حكمت معظم ساحل شمال إفريقيا .

١٣ - ثنائية المنبع لنهر النيل .

أدي إلي استدامة وصوله إلي مصر .

١٤ - توحيد الملك نعرمر (مينا) للبلاد .

مراجعة + بنك أسئلة

أدي إلي تحقيق الأمن والاستقرار ، تأسيس عاصمة موحدة للبلاد وهي مدينة (من - نفر) .

١٥ - تقدم المصريين القدماء في فن العمارة والهندسة والفلك .

إدي إلي : تطوير بناء المقابر الفرعونية ، تشييد الأهرامات مثل الهرم الأكبر .

١٦ - قيام الملك أوناس بكتابة نصوص الأهرام .

أدي إلي أمدادنا بالكثير من المعلومات المهمة عن المعتقدات الدينية للمصريين القدماء .

١٧ - تدهور أحوال مصر الاقتصادية والاجتماعية في نهاية عصر الأسرة السادسة الفرعونية .

أدي إلي تعرض البلاد لغارات خارجية وتوقف المشروعات الاقتصادية وزيادة الأعباء .

١٨ - ضعف ملوك الدولة الوسطى بعد عصر الملك أمنمحات الثالث .

أدي إلي تعرض البلاد للأطماع الخارجية ووقوعها تحت سيطرة الهكسوس .

١٩ - نجاح أحمس من طرد الهكسوس .

أدي إلي الاهتمام بتنظيم البلاد تمهيدا لإقامة إمبراطورية عظيمة والبناء والتعمير .

٢٠ - إنشاء سد اللاهون .

حماية البلاد من المجاعة التي قد تصيبها نتيجة انخفاض منسوب مياه نهر النيل .

٢١ - حفر قناة سيزوستريس .

إدي إلي الربط بين البحر الأحمر والبحر المتوسط عن طريق نهر النيل وزيادة التجارة بين مصر

وجيرانها .

٢٢ - اهتمام الملك سنوسرت الثالث بالحد الجنوبي المصري .

أدي إلي بناء الحصون مثل حصني سمنا وقمنة عند الجندل الثاني .



٢٣ - وجود جيش قوى في عصر الدولة الحديثة .

إدي إلى الحفاظ علي البلاد وتحقيق الاستقرار الداخلي .

٢٤ - توجه الملك أحمس إلى الجنوب بعد طرد الهكسوس .

القضاء علي حركات التمرد وإعادة الأمن .

٢٥ - معركة قادش في عهد رمسيس الثاني .

انتصار الجيش المصري وعقد أول معاهدة سلام في التاريخ .

٢٦ - يتسم نظام الغابات المدارية المطيرة بالمطر الغزير وارتفاع الحرارة .

أدي إلى نمو الغابات كثيفة الأشجار ، ومتشابكة الأغصان .

٢٧ - ارتفاع معدلات التبخر في الغابات الاستوائية .

أدي إلى ارتفاع الرطوبة النسبية .

٢٨ - تعد قارة إفريقيا الأكثر تعرضا لتأثير التغير المناخي في العالم .

أدي ل تهديد التنمية المستدامة في القارة ، نقص كبير في كميات الأمطار .

٢٩ - تعرض أنواع كثيرة من الحيوانات بغابات إفريقيا للانقراض .

أدي إلى اختلال التوازن البيئي .

٣٠ - كثافة الأشجار في الغابات المدارية المطيرة .

أدي إلى منع الضوء من الوصول إلى أرض الغابة ومن ثم نمو النباتات المتسلقة .

٣١ - تعرض نظام حشائش السافانا لمخاطر بشرية .

أدي إلى التأثير سلبا على التوازن البيئي .

٣٢ - غنى تربة الإستبس بالمواد العضوية .

أصبحت تربة صالحة لزراعة الحبوب الغذائية .

٣٣ - زيادة حدة موجات الجفاف بنظام الصحاري الحارة في إفريقيا .

أدي ذلك إلى ندرة النبات الطبيعي بها وانعدامه في بعض المناطق .

٣٤ - تمتع الصحاري الإفريقية بمناظر طبيعية فريدة ومعالم تاريخية وأثرية .

أدي ذلك إلى جعلها مناطق جذب سياحي .

٣٥ - تحويل مساحات كبيرة من حشائش الإستبس إلى أراض زراعية .

أدي ذلك إلى تغيرات في التنوع الحيوي لهذا النظام وانقراض العديد من الأنواع الحيوانية وأيضا

تدهور التربة .

مراجعة + بنك أسئلة



- ٣٦- تعرض النظم البحرية العذبة في إفريقيا للتدهور .
- أدى ذلك إلى انخفاض أعداد الكائنات المرتبطة بها كما حدث في بحيرة فيكتوريا التي شهدت أكبر انقراض جماعي للفقاريات .
- ٣٧- إدخال أنواع جديدة من الأسماك إلى بحيرة فيكتوريا .
- أدى إلى انقراض جماعي للفقاريات في البحيرة .
- ٣٨- تعرض الأراضي الرطبة العذبة للتجفيف .
- أدى إلى تدهور الحياة النباتية وتآكل التربة بالإضافة إلى تعرض العديد من الحيوانات والطيور بها لخطر الانقراض .
- ٣٩- وجود السهول الطينية في نظم الأراضي الرطبة المالحة .
- تساعد على نمو أعشاب بحرية .
- ٤٠- حفر قناة أمير المؤمنين بالنسبة للإسلام في إفريقيا .
- ساعد على زيادة الاتصال بين العرب والشعوب الإفريقية مما ساعد على انتشار الإسلام .
- ٤١- زواج التجار المسلمين من النساء الأفارقة .
- أدى إلى الذوبان العرقي وإنتاج جيل يحمل صفات الأب العربي والأم الإفريقية .
- ٤٢- توافد هجرة المسلمين إلى شرق إفريقيا .
- أدى إلى نشر الإسلام ونشأة الممالك الإفريقية .
- ٤٣- فرار الكثير من بني أمية وأنصارهم إلى داخل إفريقيا بعد سقوط الدولة الأموية .
- أدى إلى نشر الإسلام واللغة العربية بين أهل تلك البلاد .
- ٤٤- تكون الممالك الإسلامية في مناطق مختلفة بالقارة الإفريقية .
- أدى ذلك إلى المساهمة في نشر الإسلام .
- ٤٥- قيام الإسلام بتنظيم الزواج لسكان إفريقيا .
- أدى ذلك إلى توضيح الحقوق والواجبات بين الزوجين وتنظيم العلاقات بينهم .
- ٤٦- اهتمام الإسلام بتنظيم الحياة الاجتماعية والأسرية في القارة الإفريقية .
- أدى إلى دعم الروابط بين الآباء والأبناء ومنح الأم حق حضانة الطفل وحق الميراث .
- ٤٧- دخول الإسلام إلى إفريقيا بالنسبة للنظم السياسية بها .
- تحول الحياة القبلية القائمة على الحروب والعصبية إلى نظام الدولة ، وتطورت الحياة لتصبح أكثر تحضرا .

مراجعة + بنك أسئلة



- ٤٨ - تركز السلطة الدينية والسياسية للعالم الإسلامي بمصر .
- أدي ذلك إلي تولي مصر مسئولية حماية الحرمين الشريفين والأماكن المقدسة ، وحرص كثير من الحكام بإفريقيا للحصول علي تأييد مصر السياسي .
- ٤٩ - اهتمام الممالك ببناء المدارس التي قصدها كثير من طلاب العلم في مختلف أنحاء إفريقيا . ترتب علي ذلك وفود العديد من الطلاب والعلماء الأفارقة إلي هذه المدارس وبعد عودتهم إلي بلادهم يقوموا بنشر الإسلام في باقي إفريقيا .
- ٥٠ - مرور حجاج الدول الإفريقية عبر مصر البلاد الحرمين .
- تعرف حجاج الدول الإفريقية علي أهل مصر ونقل العلوم الدينية عنهم .

مراجعة + بنك أسئلة

دلل علي صحة العبارات الآتية

السؤال التاسع

- ١ - تتمتع قارة إفريقيا بموقع متميز له أهمية كبيرة .
- حيث تتمتع بأهمية استراتيجية وأهمية اقتصادية وحضارية .
- ٢ - تمتد قارة إفريقيا بين نصفى الكرة الأرضية الشمالي والجنوبي .
- حيث تمتد بنصف الكرة الشمالي ثلثي المساحة ، نصف الكرة الجنوبي الثلث الآخر .
- ٣ - كان لمصر دور بارز في الكشف الجغرافية لقارة إفريقيا منذ القدم .
- قام الرحالة (حر - خوف) بأربع رحلات نحو الجنوب ، ومن أوائل الذين اكتشفوا القارة .
- ٤ - لعب محمد علي باشا دوراً في اكتشاف منابع النيل .
- حيث أرسل رحلات لاكتشاف منابع النيل وانتهت باكتشاف النيل الأبيض .
- ٥ - تنوع مظاهر السطح في هضبة شمال إفريقيا .
- حيث نجد الجبال مثل جبل العوينات ، والمنخفضات مثل القطارة ، والواحات مثل واحة سيوة .
- ٦ - تضم قارة إفريقيا مجموعة متنوعة من الجبال .
- جبال التوائية : جبال أطلس ، جبال انكسارية : البحر الأحمر ، جبال بركانية : كلمنجارو
- ٧ - للمناطق الجبلية بإفريقيا دور مهم في دعم السياحة .
- تتميز بمناظر طبيعية خلابة تجذب السياح الذين يمارسون العديد من الأنشطة بالمناطق الجبلية
- ٨ - تساهم المناطق الجبلية بإفريقيا في النشاط الصناعي .
- لغناها بالثروات المعدنية كالحديد والذهب والفضة والنحاس والفوسفات التي تدخل في الصناعات



- ٩- تختلف سهول المحيط الهندي من حيث الاتساع .
- حيث تتميز في تنزانيا باتساعها أما في كينيا عبارة عن شريط ضيق ينحصر بين الساحل وهضبة البحيرات الاستوائية .
- ١٠- تضم قارة إفريقيا العديد من الجزر .
- حيث يوجد جزيرة مدغشقر أكبر الجزر ، وجزر القمر تقع شمال جزيرة مدغشقر .
- ١١- لمصر دور في تحقيق التنمية المستدامة المائية حوض النيل .
- حيث قامت بإنشاء خزان سنار علي النيل الأزرق ، ودفع تكاليف إنشاء خزان جبل الأولياء في السودان ، وإنشاء سد أوين بأوغندا .
- ١٢- تأثرت حضارة كوش بالحضارة المصرية القديمة من الناحية الفنية والمعمارية .
- حيث ظهر ذلك في بناء الأهرامات مثل أهرامات مروي وبناء المعابد ونحت التماثيل .
- ١٣- حضارة أكسوم حضارة تجارية من الدرجة الأولى .
- حيث أنها ملتقي العديد من الطرق التجارية .
- ١٤- تأثرت حضارة كوش بالحضارة المصرية القديمة من الناحية الدينية .
- حيث كانت لهم معبودات بعضها مصري الأصل مثل رع وآمون وأوزوريس وإيزيس .
- ١٥- اختلفت حضارة قرطاج عن حضارات وادي النيل .
- حيث أنها لم تقم بجوار نهر النيل مثل باقي الحضارات في إفريقيا .
- ١٦- أسهم الموقع الجغرافي لحضارة كوش في تميزها بالعالمية من خلال نشاطها التجاري .
- حيث كانت مملكة كوش مركزا للتجارة وأقامت علاقات تجارية مع مصر شمالا ومملكة أكسوم شرقا واشتهرت بتجارة العاج والبخور والحديد والذهب .
- ١٧- تطور شكل مقابر الملوك في عصر الملك نعرمر (مينا) .
- حيث إن بناء المقابر تحول من مجرد حفرة في الأرض إلي حجرة دفن من الحجر الجيري يعلوها جزء من الطوب اللبن الذي يشبه المصطبة .
- ١٨- تطور شكل المقابر في عصر الدولة القديمة .
- حيث بدأ علي شكل مصطبة ثم تطور إلي عدة مصاطب أخذت شكل هرم مدرج مثل هرم زوسر ، ثم وصلت إلي شكل الهرم الكامل .
- ١٩- تقدم المصريين القدماء في فن العمارة والهندسة .
- حيث برعوا في تطوير وبناء المقابر وبناء الأهرامات بشكل هندسي .



- ٢٠- برع المصريون في عصر الدولة القديمة في فن النحت .
 ظهرت في نحت التماثيل للنبلاء مثل النبيل (كاعبر) ويعرف حاليا بتمثال شيخ البلد ، ونحت
 تماثيل في وضعية جديدة مثل الكاتب المصري .
- ٢١- اهتم ملوك عصر الدولة القديمة باكتشاف القارة الإفريقية .
 حيث أرسل ملوك الأسرتين الخامسة والسادسة الرحلات التجارية والاستكشافية إلى إفريقيا مثل
 رحلات الرحالة (حر - خوف) نحو الجنوب في إفريقيا .
- ٢٢- كان لمصر في عصر الدولة القديمة تأثير ثقافي كبير على القارة الإفريقية .
 انتشرت بعض المعبودات المصرية في إفريقيا مثل : الصقر الذي كان يمثل المعبود حورس وكان
 شعارا لملوك مصر ، ونجده عند ملوك أوغندا .
- ٢٣- يرجع الفضل للملك أمنمحات الأول في نهضة البلاد .
 أصبحت مصر في عهده دولة قوية تميزت بالاستقرار وتقدمت في المجالات الاقتصادية والفنية .
- ٢٤- أصبحت مصر تمتلك طريق تجارة دوليا في عهد الملك سنوسرت الثالث .
 حيث قام الملك سنوسرت الثالث بحفر قناة تربط بين البحر الأحمر والبحر المتوسط عن طريق
 نهر النيل عرفت بقناة سيزوستريس وساعدت علي ازدهار التجارة .
- ٢٥- امتاز عهد الملك أمنمحات الثالث بالتنمية الاقتصادية .
 اهتم باستثمار موارد مصر فأرسل أربعاً وعشرين بعثة لاستخراج المعادن وقطع الأحجار في
 سيناء كما اهتم بالزراعة فأقام سد اللاهون .
- ٢٦- أنهت الملكة سبك نفرو ما بدأه الملك أمنمحات الثالث .
 حيث استكملت بناء هرم والدها في منطقة هواره .
- ٢٧- استطاع الأمير كامس فرض حصار اقتصادي على الهكسوس بمصر .
 حيث قام بحملة مفاجئة علي أرض كوش وأجبر أميرها علي قطع الإمدادات التي كانت تصل إلي
 الهكسوس عن طريق نهر النيل .
- ٢٨- كان لإياح حتب دور هام في تحرير البلاد من الهكسوس .
 حيث شجعت ابنيها كامس وأحمس علي الاستمرار في الكفاح بعد مقتل أبيهما سقن رع الثاني
 كما تولت نيابة عنهم شئون الحكم إلي حين عودتهم منتصرين .

مراجعة + بنك أسئلة



- ٢٩ - كان للمرأة المصرية مكانة متميزة في الحضارة المصرية .
- حيث تولت المرأة المصرية حكم مصر مثل الملكة سبك نفرو وحتشبسوت ، وكان لهم دور عسكري في مقاومة المحتل مثل إياح حتب .
- ٣٠ - يعتبر الملك رمسيس الثاني ملك الحرب والسلام .
- ملك الحرب : لأنه انتصر علي الحيثيين في بلاد الشام وهزمهم في معركة قادش .
- ملك السلام : لأنه عقد أول معاهدة سلام في التاريخ مع الحيثيين .
- ٣١ - اكتشاف مقبرة توت عنخ أمون نقطة تحول في معرفتنا للحضارة المصرية القديمة .
- حيث احتوت هذه المقبرة علي روائع فنية وكنوز أثرية لا مثيل لها ، وتعتبر عن تقدم الفن .
- ٣٢ - تعددت أنواع الحيوانات التي تعيش في الغابات المدارية المطيرة .
- الحيوانات التي تعيش علي اشجارها مثل القردة والطيور ، والتي تعيش في الانهار مثل التماسيح والتي تعيش علي الأرض مثل النمر .
- ٣٣ - تعد أشجار الغابات المدارية المطيرة ذات أهمية سياحية .
- حيث أنها مقصد لعدد كبير من السائحين في العالم .
- ٣٤ - للغابات المدارية المطيرة أهمية بيئية كبيرة .
- تعمل علي تنقية البيئة من التلوث حيث إن غابات حوض نهر الكونغو تمتص كميات كثيرة من الانبعاثات السنوية الصادرة عن القارة الإفريقية .
- ٣٥ - تتعدد أشكال الحيوانات التي تعيش في غابات البحر المتوسط .
- البحر المتوسط : الأغنام والماعز والثعالب والذئاب وتكثر الطيور مثل النورس .
- ٣٦ - يواجه نظام حشائش السافانا عدة مخاطر طبيعية .
- مخاطر طبيعية مثل زيادة الأملاح في التربة وتجريفها نتيجة سقوط الأمطار بغزارة في فصل الصيف كما يتعرض أيضاً لموجات من التصحر والفيضان .
- مخاطر بشرية مثل التوسع الزراعي والعمراني والرعي والصيد الجائر وأنشطة التعدين وغيرها .
- ٣٧ - تتنوع الحيوانات في نظام الإستبس تنوعاً واضحاً .
- حيث يوجد بها العديد من الحيوانات مثل الغزلان والظباء والأرانب والعديد من الطيور منها صقر الجديان الإفريقي بالإضافة إلى وجود أعداد كبيرة من الأغنام والخيول .



- ٣٨ - يعاني نظام الصحارى الحارة في إفريقيا من مخاطر كثيرة .
- زيادة حدة موجات الجفاف التي تؤدي لندرة النبات الطبيعي و تقل كميات الغذاء التي تحتاجها الكائنات الحية أو تنعدم في بعض الأماكن بالإضافة إلى مخاطر أخرى مثل الصيد الجائر .
- ٣٩ - للطالب أهمية كبيرة .
- حيث تدخل في صناعة الأدوية ومواد التجميل والأقمشة وغيرها من الصناعات .
- ٤٠ - تتعدد النظم البيئية للمياه العذبة في قارة إفريقيا .
- حيث تتنوع من نظم نهريّة ونظم بحيرية عذبة ونظم أراض رطبة عذبة .
- ٤١ - تعتبر نظم الأراضي الرطبة العذبة سدا طبيعيا .
- حيث تعد حاجزاً ضد تأثيرات الفيضانات والجفاف
- ٤٢ - اهتمام مصر بالحفاظ على أشجار المانجروف .
- حيث أعلنت مصر جميع مناطقها التي تنمو بها أشجار المانجروف محميات طبيعية مثل محميات نبق وعلبة وحماطة .
- ٤٣ - تعد الشعاب المرجانية واحدة من مناطق التنوع البيولوجي .
- حيث توفر المأوى والغذاء للعديد من الكائنات البحرية .
- ٤٤ - لنظام المانجروف أهمية بيئية كبيرة .
- حيث تعد موطناً للعديد من الكائنات البحرية مثل الأسماك والقشريات والرخويات كما يعيش بها الطيور والزواحف والحشرات ، وتمثل أشجار المانجروف محطة من المحطات التي تقف عندها الطيور المهاجرة .
- ٤٥ - ساهم سكان شرق القارة الإفريقية في نشر الإسلام في القارة .
- حيث تميز شرق القارة بالسبق إلى الإسلام بحكم موقعه الجغرافي .
- ٤٦ - يعد المحيط الهندي ومضيق باب المندب معبرين أساسيين لعبور الإسلام لإفريقيا .
- حيث استخدمهما المسلمون الأوائل في الهجرة إلى الحبشة كما انتشر عن طريقهما الإسلام .
- ٤٧ - كان للبحر الأحمر دور مهم في انتشار الإسلام في شرق إفريقيا .
- حيث استخدمه المسلمون الأوائل في التنقل بين شبه الجزيرة العربية وإفريقيا .
- ٤٨ - لعب الدعاة وعلماء الدين دورا بارزا في نشر الإسلام في إفريقيا .
- حيث كان قادة القبائل العربية بإفريقيا يرسلون الدعاة لنشر الإسلام بين بقية القبائل .
- ٤٩ - تعددت أساليب انتشار الإسلام في إفريقيا .
- حيث اعتمد علي أسلوب سلمي : الدعاة - التجار المسلمون - الزواج والمصاهرة - الهجرات .

مراجعة + بنك أسئلة



٥٠- تعدد أشكال هجرات المسلمين إلى القارة الإفريقية .

الهجرة الأولى في حياة الرسول إلى الحبشة ، هجرات المسلمين المتلاحقة إلى إفريقيا ، هجرات بني أمية وأنصارهم إلى داخل قارة إفريقيا .

٥١- لعب التجار المسلمون بشكل مباشر دورا بارزا في نشر الإسلام في إفريقيا .

حيث كان ذلك من خلال مظهرهم وملابسهم النظيفة والمحتشمة وحسن أخلاقهم المتمثلة في الصدق والأمانة ورفض التعامل بالغش أو الربا .

٥٢- فتحت طرابلس دون صعوبة رغم قوة أسوارها وحصونها .

حيث كانت محاطة بالأسوار إلا من جهة البحر وأقبل عمرو بن العاص بقواته من ناحية الشرق واستقر بجيشه في موقع مرتفع يشرف على المدينة وحاصرها لمدة اشهر وانتظر انحسار المياه .

٥٣- تعددت ملامح تأثير الإسلام في إفريقيا .

ظهور الممالك الإسلامية في إفريقيا ونشر اللغة العربية وازدهار الحركة العلمية والذوبان العرقي .

٥٤- لعب الإسلام دورا مهما في تشكيل الهوية الثقافية والاجتماعية لشعوب إفريقيا .

حافظ علي كثير من عاداتهم الطيبة التي لا تتنافي مع الشريعة الإسلامية مثل : إكرام الضيف ومساعدة المحتاج والتضامن الاجتماعي ، وساهم في تغيير بعض عاداتهم السلبية .

٥٥- ساهم الإسلام في تغيير بعض العادات السلبية في إفريقيا .

حيث كانت عادات وتقاليذ الزواج عند الوثنية غير مقبولة فقام الإسلام بتوضيح حقوق الزوجين وواجباتهم وتنظيم العلاقة بينهم ، منح المرأة حق حرية اختيار الزوج .

٥٦- اهتم الإسلام بتنظيم الحياة الاجتماعية والأسرية في القارة الإفريقية .

حيث اهتم بالعلاقات الأسرية ودعم الروابط بين الآباء والأبناء ومنح الأم حق حضانة الأطفال وحق الميراث ومنع التفرقة العنصرية وحرم شرب الخمر ودعا إلى العمل الخيري .

٥٧- استفاد حكام الحبشة من الخبرات السياسية والإدارية لمصر .

حيث استعانوا ببعض المماليك لتعليمهم فنون الحرب وعمل الأسلحة والرمي بالسهام والضرب بالسيف ، والإدارية نظموا طرق جباية الأموال وأنشئوا ديوان خاص بذلك .

٥٨- يرجع ظهور التأثير الديني المصري على إفريقيا منذ القدم .

حيث انتقلت عبادة بعض المعبودات المصرية إلى النوبة ، مثل إيزيس وأوزوريس .



٥٩ - احتفظت مصر بمكانتها الثقافية والدينية بعد انتشار المسيحية .

كانت الكنيسة الحبشية تابعة للكنيسة المصرية فكان يتم تعيين مطران مصري من قبل بطريرك الإسكندرية ليكون مسئولاً عن الكنيسة الحبشية .

السؤال العاشر

أجب عما يأتي

١ - ما المقصود بكل من :

- ١ - الهكسوس : مجموعة من القبائل جاءت من آسيا واستولت بالقوة علي مدينة من نفر واحتلوا مصر .
- ٢ - قناة سيزوستريس : قناة مائية تربط بين البحر الأحمر والبحر المتوسط عن طريق نهر النيل .
- ٣ - الغابة : مساحة من الأرض تزيد علي خمسة آلاف متر مربع ، وتنمو فيها أشجار بأطوال لا تقل عن خمسة أمتار .
- ٤ - المدى الحرارى السنوى : الفرق بين متوسط درجة الحرارة بالنسبة لأعلى شهور السنة وأدنى شهور السنة .
- ٥ - الرطوبة النسبية : نسبة كمية بخار الماء الموجودة في الهواء بالنسبة إلي كمية بخار الماء التي يستطيع الهواء أن يحملها .
- ٦ - حشائش السافانا : هي غطاء نباتي كثيف من الحشائش تتداخل معها أشجار متنوعة تزداد كثافتها كلما اقتربنا من الغابات المدارية المطيرة .
- ٧ - المدى الحرارى السنوى : الفرق بين متوسط درجة الحرارة بالنسبة لأعلى شهور السنة وأدنى شهور السنة حرارة .
- ٨ - النظام البيئي المائي : يوجد في المسطحات المائية أو علي هوامشها ويوجد به مكونات حية وغير حية تتفاعل مع بعضها لاستدامة الحياة في النظام .
- ٩ - الشعاب المرجانية : عبارة عن إفرازات لكائنات بحرية دقيقة أهمها حيوان المرجان .
- ١٠ - الدعاة : الأفراد الذين تلقوا قدرا من العلوم الدينية التي تؤهلهم لنشر الإسلام وتعاليمه بالطرق السلمية .
- ١١ - الممالك الإسلامية في إفريقيا : هي الممالك التي كونتها مجموعات إسلامية من العرب والقبائل الإفريقية التي اعتنقت الإسلام .



١٢- العصور الوسطى : الفترة الزمنية من القرن الخامس الميلادي حتي القرن الخامس عشر الميلادي .

١٣- أروقة الأزهر الشريف : أماكن الدراسة والإعاشة الكاملة بالمجان (طعام وكسوة) تخصص للطلاب الدارسين بالأزهر تكريما وراحة لهم وتتقسم حسب مناطق الطلاب الوافدين .

٢ : صنف أمام كل اسم حاكم من حكام مصر التالين الأسرة المنتمى إليها :

١- كامس : الأسرة السابعة عشر .

٢- سبك نفرو : الأسرة الثانية عشر .

٣- منتوحتب الثاني : الأسرة الحادية عشر .

مراجعة + بنك أسئلة

٤ : قارن بين :

١- الملك تحتمس الثالث والملك رمسيس الثاني من حيث أهم الأعمال .

تحتمس الثالث : قاد ١٦ حملة عسكرية في آسيا ، بني أسطولا حربيا قويا .

رمسيس الثاني : عقد أول معاهدة سلام ، أقام العديد من المسلات .

٢- الملك رمسيس الثالث وأحمس الأول من حيث العدو الذي واجهوه .

رمسيس الثالث : هزم شعوب البحر المتوسط ، نظم البعثات التجارية إلى بلاد بونت .

أحمس الأول : قام بتأمين حدود مصر الجنوبية ، أسس الدولة الحديثة .

٥ : ماذا كان يحدث إذا :

١- هزم الملك رمسيس الثاني أمام الحيثيين .

لم يتم عقد أول معاهدة سلام في التاريخ ولم تستعيد مصر سيطرتها علي البحر المتوسط .

٢- تمكنت شعوب البحر المتوسط من هزيمة رمسيس الثاني .

سيطرتهم علي مصر ولم تتم الإصلاحات الداخلية في عهده .

٦- حدد المختلف مع ذكر السبب :

١- النباتات - الصخور - الحيوانات - الفطريات . لأن الباقي عناصر مكون حي

٢- المحيطات - الأنهار - البحيرات - الحشائش . الباقي من النظم المائية

٣- الزيتون - الموالح - العنب - الماهوجني . الباقي من أشجار البحر المتوسط

٤- القردة - الزواحف - النمل الأبيض - الماعز . الباقي يعيشوا بالغابات المدارية

٥- الموز - المانجو - العنب - الكاكاو . الباقي من أشجار الغابات المدارية المطيرة



٧ : حدد المختلف مع ذكر السبب :

- ١ - الغزلان - الظباء - الأرناب - الإبل . لأن جميع الحيوانات الباقية تنتمي لنظام حشائش الإستبس
- ٢ - الأسود - النمور - الزرافات - الضباع . لأن الحيوانات الباقية آكلة اللحوم
- ٣ - الصبار - القمح - الأكاسيا - التين الشوكي . باقي العناصر نظام صحراوي حار

الخرائط

السؤال الحادي عشر

1

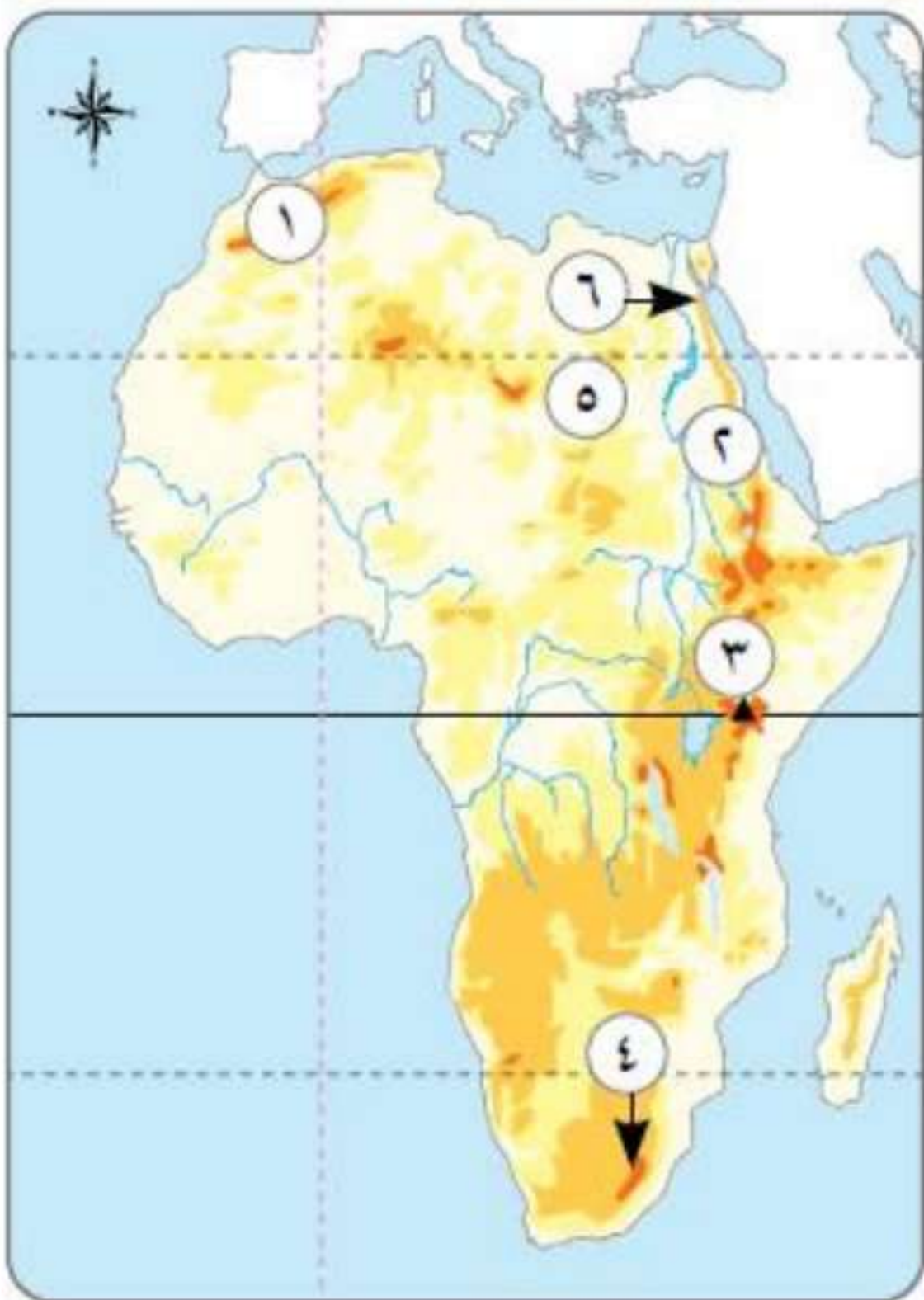
أمامك خريطة صماء لإفريقيا اكتب ما تشير إليه الأرقام :



- ١ - مضيق باب المندب
- ٢ - المحيط الأطلسي
- ٣ - مضيق جبل طارق
- ٤ - المحيط الهندي
- ٥ - البحر المتوسط
- ٦ - دائرة الاستواء
- ٧ - قناة السويس
- ٨ - البحر الأحمر
- ٩ - دولة مصر

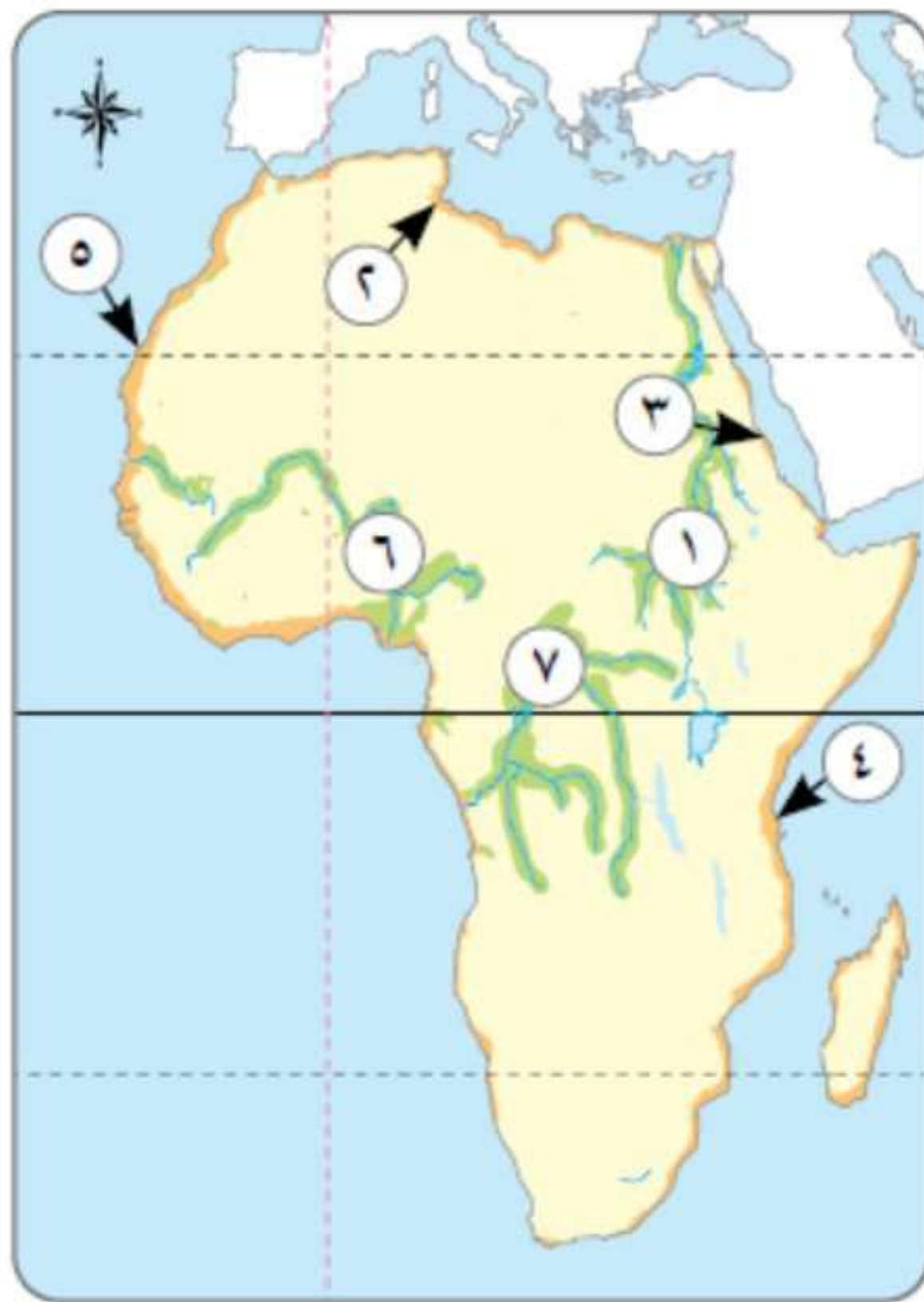
2

أمامك خريطة صماء لمظاهر سطح قارة إفريقيا اكتب مدلول الأرقام :



- ١ - جبال أطلس
- ٢ - جبال البحر الأحمر
- ٣ - جبال كينيا
- ٤ - جبال داركنزبرج
- ٥ - جبل العوينات
- ٦ - جبل شايب البنات

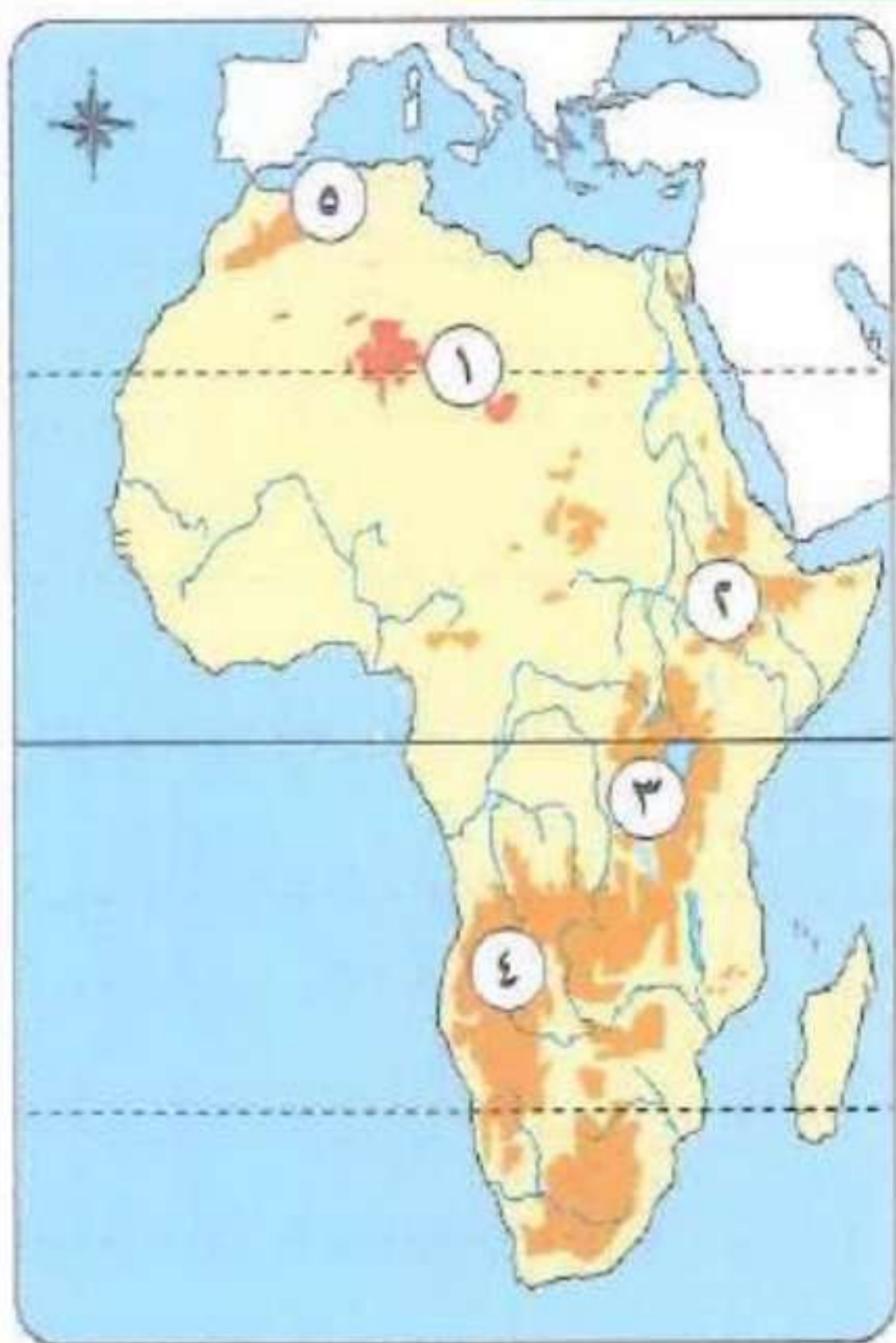
3



أجب عن الخريطة الآتية :

- ١- سهول وادي النيل
- ٢- سهول البحر المتوسط
- ٣- سهول البحر الأحمر
- ٤- سهول المحيط الهندي
- ٥- سهول المحيط الأطلنطي
- ٦- سهول نهر النيجر
- ٧- سهول نهر الكونغو

4



أجب عن الخريطة الآتية :

- ١- هضبة شمال إفريقيا
- ٢- هضبة الحبشة إثيوبيا
- ٣- هضبة البحيرات الاستوائية
- ٤- هضبة الجنوبية
- ٥- هضبة الشطوط

5

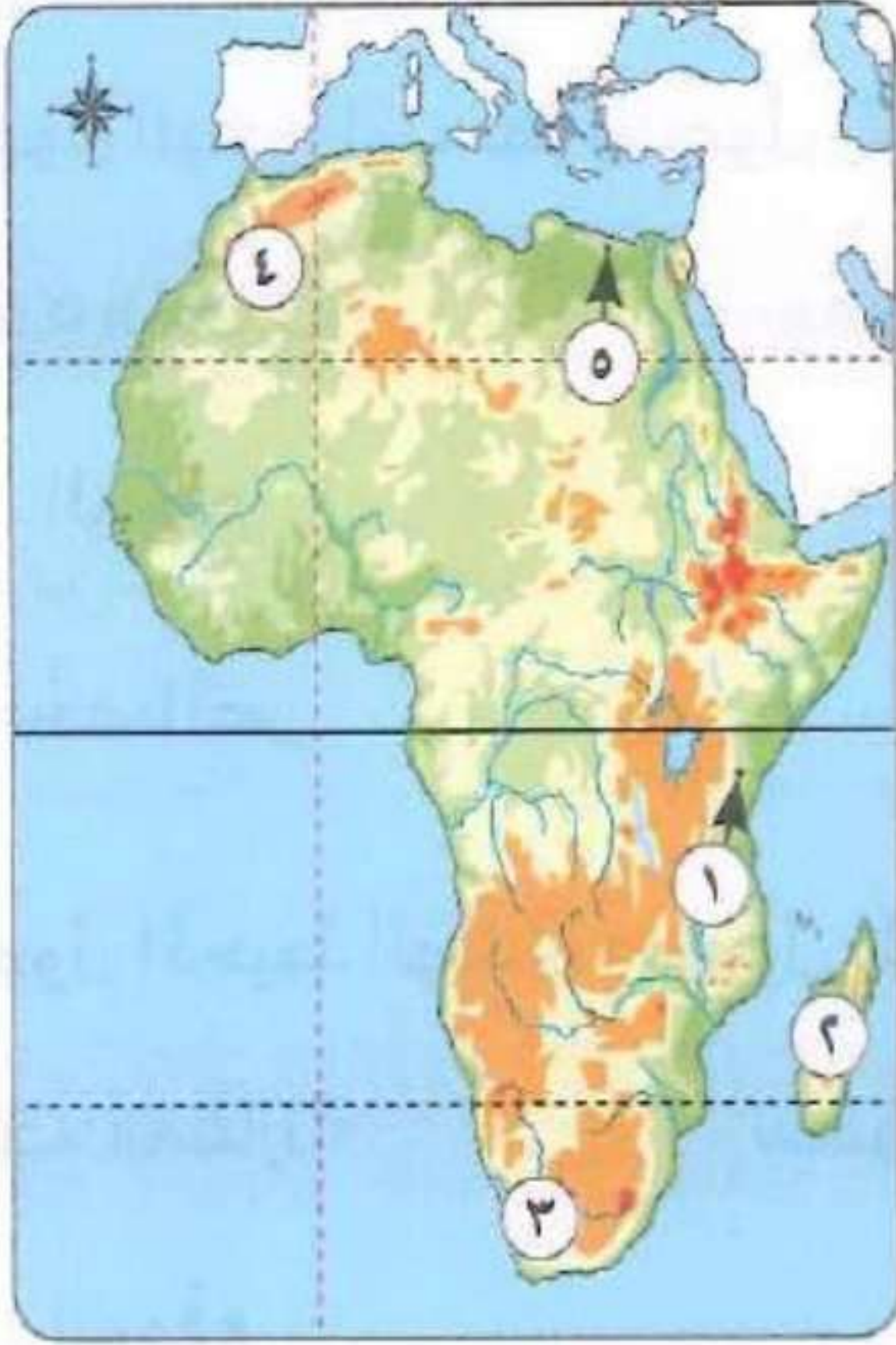


أمامك خريطة صماء لإفريقيا ، اكتب مدلول الأرقام :

- ١- غابات مدارية مطيرة .
- ٢- مدار السرطان .
- ٣- دائرة الاستواء .
- ٤- غابات البحر المتوسط .
- ٥- المحيط الأطلنطي .
- ٦- سطح مائي المحيط الهندي .

6

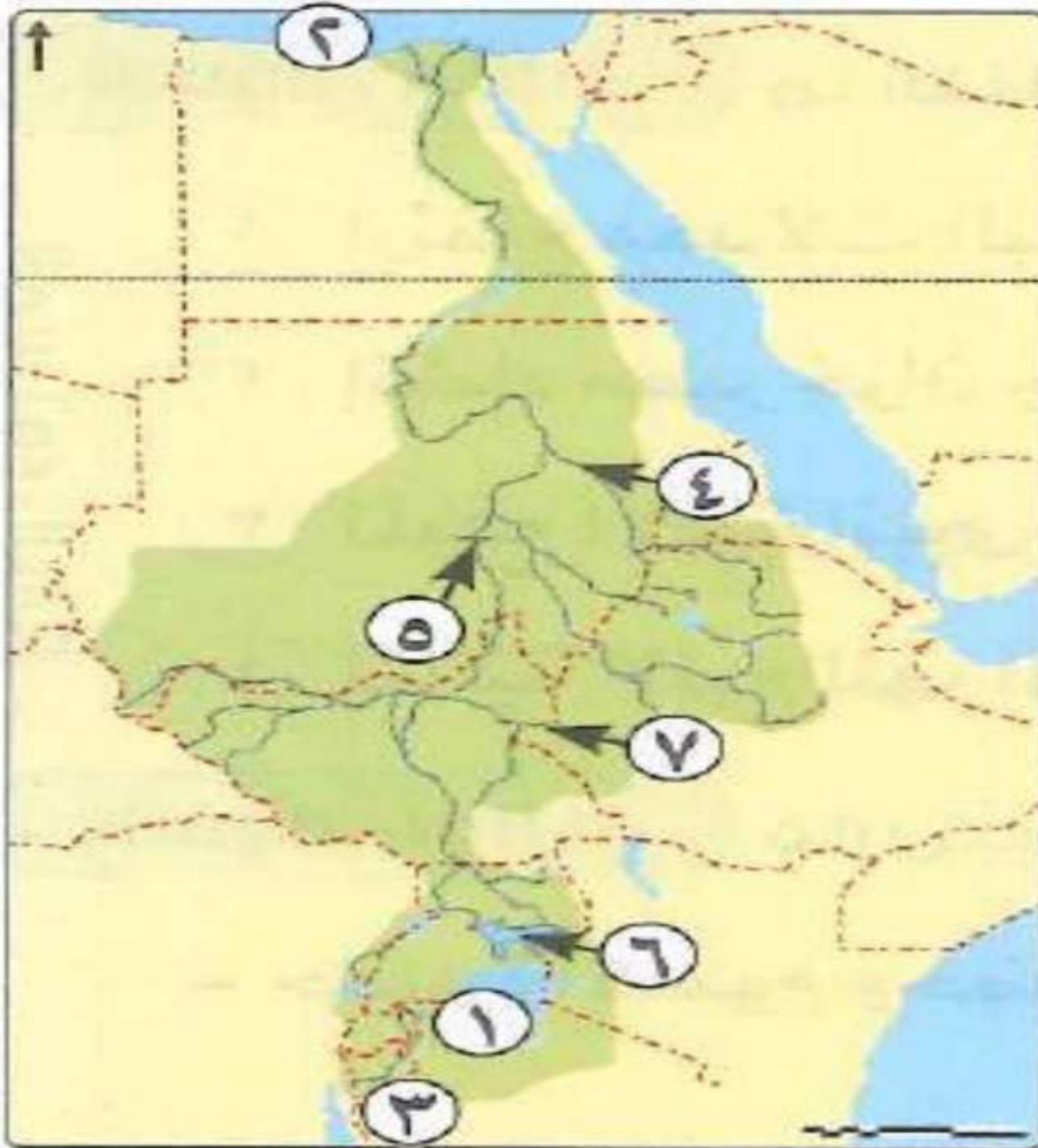
أجب عن الخريطة الآتية :



- ١- يمثل الرقم (٥) منخفض القطارة .
- ٢- يمثل الرقم (٤) جبل توبقال .
- ٣- يمثل الرقم (١) جبل كلمنجاروا .
- ٤- يمثل الرقم (٣) جبل الكاب .
- ٥- يمثل الرقم (٢) جزيرة مدغشقر .

7

أمامك خريطة لدول حوض نهر النيل اكتب مدلول الأرقام :



- ١- بحيرة فيكتوريا
- ٢- البحر المتوسط
- ٣- نهر كاجيرا
- ٤- نهر عطبرة
- ٥- خزان جبل الأولياء
- ٦- بحيرة كيوجا
- ٧- نهر السوبات

8

أمامك خريطة لدول حوض نهر النيل اكتب مدلول الأرقام :

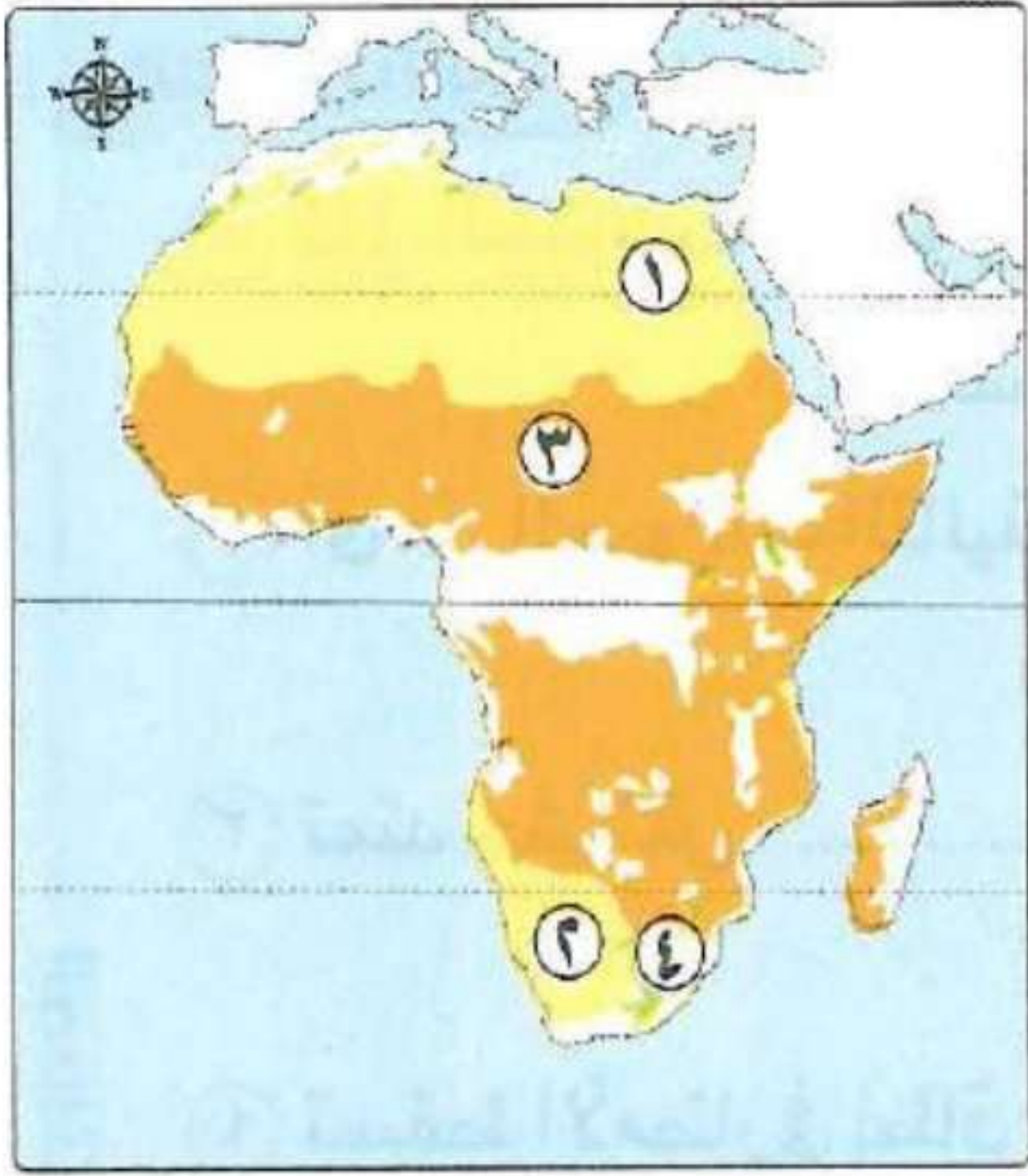
- ١ - يشير رقم ٣ إلى المنبع الذي يبدأ منه نهر النيل .
- ٢ - يشير رقم ١ إلى آخر نقطة ينتهي عندها نهر النيل .
- ٣ - يشير رقم ٢ إلى الرافد الذي يلتقي ببحر الجبل ويمد النيل بقوته .
- ٤ - يشير رقم ٤ إلى آخر روافد لنهر النيل



9

أمامك خريطة صماء لقارة إفريقيا ، اكتب مدلول الأرقام :

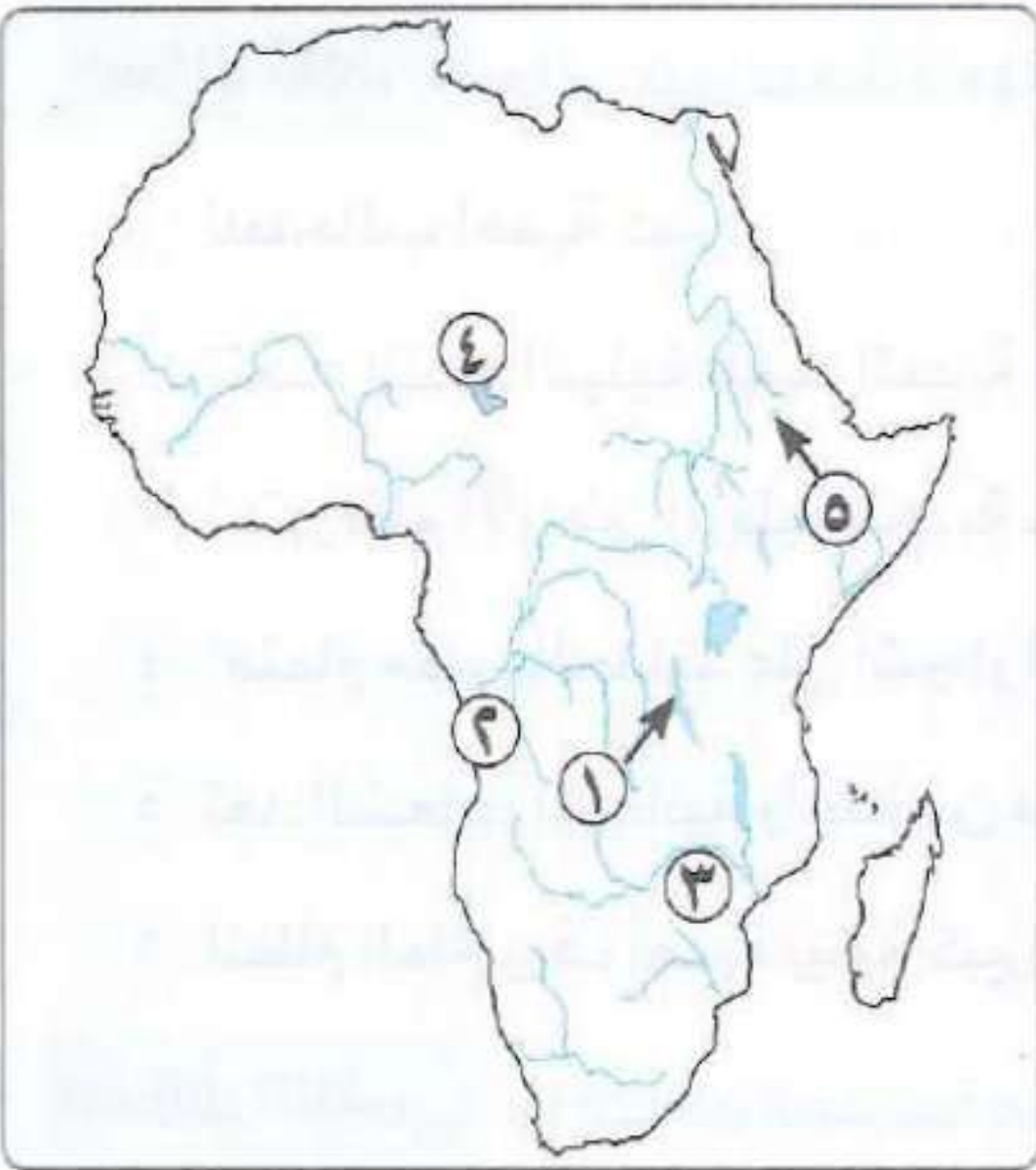
- ١ - يمثل الرقم (٤) إقليم الفلد .
- ٢ - يمثل الرقم (٣) حشائش السافانا .
- ٣ - يمثل الرقم (١) الصحراء الكبرى .
- ٤ - يمثل الرقم (٢) صحراء كلهارى .



10

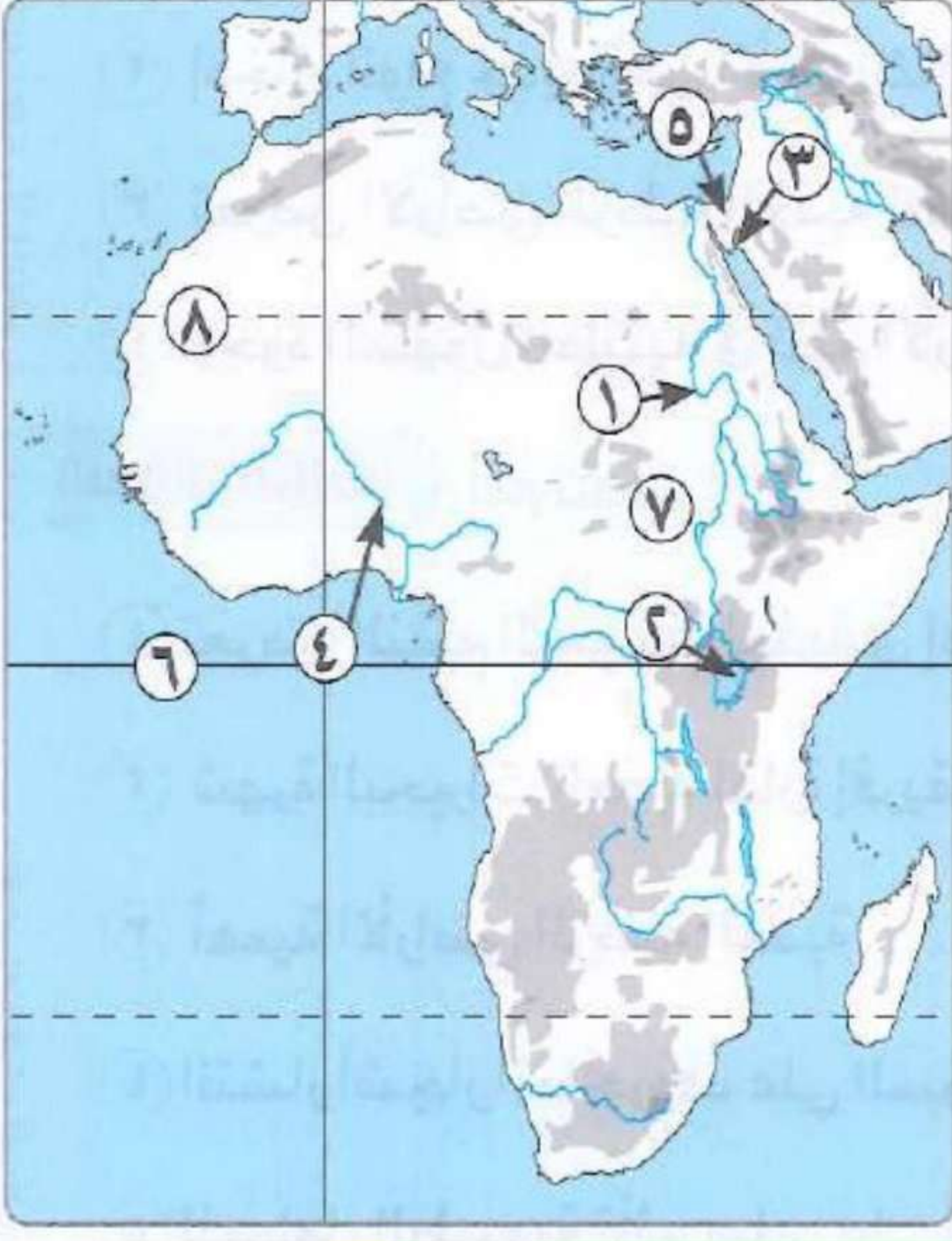
أمامك خريطة صماء لقارة إفريقيا ، اكتب مدلول الأرقام :

- ١ - بحيرة تنجانيقا
- ٢ - نهر الكونغو
- ٣ - نهر الزمبيزي
- ٤ - بحيرة تشاد
- ٥ - بحيرة تانا



1 1

أمامك خريطة صماء لقارة إفريقيا ، اكتب مدلول الأرقام :



- ١- نهر النيل .
- ٢- بحيرة فيكتوريا .
- ٣- خليج العقبة .
- ٤- نهر النيجر .
- ٥- شبه جزيرة سيناء .
- ٦- دائرة الاستواء .
- ٧- مستنقعات السد .
- ٨- مدار السرطان .

البروفيسور

أ / أحمد المراكبي



المراجعة رقم 3



مراجعته شامله للصف الأول الاعدادي

أسئلة القمة

السؤال الأول اختر الإجابة الصحيحة

- ١ يشير تخصيص بعض أروقة الأزهر الشريف للطلاب الأفارقة والمغاربة إلى
 أ.العنصرية . ب.المحابة . ج.التقدير . د.الازدراء .
- ٢ مرور الأفارقة بمصر لأدائهم فريضة الحج يدل على أهمية مصر
 أ.الجغرافية . ب.السياسية . ج.الاجتماعية . د.الاقتصادية .
- ٣ استعان حكام الحبشة بالمماليك لتنظيم جباية الأموال ووضع القوانين التي تساعد على حماية أموال الدولة (تشير العبارة السابقة إلى قيام المماليك بعمل إصلاحات في بلاد الحبشة على المستوى
 أ.الثقافي . ب.العسكري . ج.السياسي . د.الإداري .
- ٤ يخرج عن صور التأثير الثقافي المصري في إفريقيا
 أ.انتشار عبادة إيزيس وأوزوريس في النوبة . ب.تبعية الكنيسة الحبشية للكنيسة المصرية .
 ج.إقامة جامع وجامعة سنكوري في مالي . د.تطوير النظم الدفاعية لمملكة الحبشة .
- ٥ بدراسة العبارة المقابلة ، نستنتج أن مصر قامت بنفس دور الخلافة العثمانية عقب سقوط
 أ.الدولة العباسية . ب.دولة المماليك .
 ج.الدولة الأموية . د.الدولة الطولونية .
 في العصر الحديث انتقلت خلافة العالم الإسلامي الدينية والسياسية إلى الدولة العثمانية، حيث أعلن السلطان سليم الأول نفسه الحامي الوحيد للحرمين الشريفين والجميع رعاياه في العالم الإسلامي.
- ٦ تشابه كل من الملك مينا والملك أمنمحات الأول في
 أ.تحقيق نهضة اقتصادية . ب.اتخاذ عاصمة جديدة . ج.إعادة توحيد البلاد . د.إقامة مشروعات زراعية .
- ٧ الحاكم المصري الذي استطاع إخضاع الإدارة المحلية لسلطانه هو
 أ.أمنمحات الأول . ب.بيبي الثاني . ج.أمنمحات الثالث . د.سفن رع .
- ٨ من عوامل اختيار العاصمة أن يتوسط موقعها الدولة « حدد أى من ملوك مصر الفرعونية تنطبق عليها العبارة السابقة ؟
 أ.أحمس . ب.منتوحتب الثاني . ج.أمنمحات الأول . د.سنوسرت الثالث .
- ٩ تقع عاصمة الهكسوس بالنسبة الموقع الدلتا في الجهة
 أ.الجنوبية . ب.الشمالية . ج.الغربية . د.الشرقية .
- ١٠ سقطت مصر يد الهكسوس نتيجة
 أ.الأزمة الاقتصادية . ب.الصراعات السياسية . ج.الثورة الدينية . د.الثورة الاجتماعية .
- ١١ يرجع سبب ارتفاع منسوب مياه نهر النيل بمصر في فصل الصيف إلى سقوط الأمطار على هضبة
 أ.شمال إفريقيا . ب.البحيرات الاستوائية . ج.الحبشة . د.الشطوط .
- ١٢ أي من هضاب إفريقيا يشغل أغلب مساحة جناح الوطن العربي الإفريقي
 أ.هضبة شمال إفريقيا . ب.هضبة الحبشة . ج.هضبة البحيرات الاستوائية . د.الهضبة الجنوبية .



- ١٣ تأثرت هضبة البحيرات الاستوائية بموقعها الفلكي، وظهر هذا التأثير في
أ. تطرف المناخ ب. المناخ الجاف ج. الأمطار الغزيرة د. البرودة الشديدة .
- ١٤ تتشابه هضبة الحبشة وهضبة البحيرات الاستوائية في التأثير ب
أ. التكوينات البركانية . ب. التكوينات الجليدية . ج. الأمطار الدائمة . د. الأمطار الموسمية .
- ١٥ إذا انحدرت هضبتا البحيرات الاستوائية والحبشة إلى الشرق فسيكون مصب نهر النيل في
أ. البحر المتوسط ب. المحيط الأطلنطي . ج. البحر الأحمر . د. المحيط الهندي .
- ١٦ إذا كنت تبحث عن جبال بركانية، فألى أين تكون وجهتك في قارة إفريقيا ؟
أ. الشمال . ب. الغرب . ج. الوسط . د. شمال غرب .
- ١٧ أي من الظواهر التضاريسية الآتية يقطعها مدار الجدى في قارة إفريقيا
أ. الهضبة الوسطى ب. الهضبة الجنوبية . ج. جبال در اكنزبرج . د. جبال كينيا .
- ١٨ إذا أردت أن تقيم مصنعا للصناعات التعدينية في قارة إفريقيا فأى الأماكن التالية ستختار
أ. شرق القارة . ب. وسط القارة . ج. شمال القارة . د. غرب القارة .
- ١٩ إذا كنت تبحث عن الجبال التي تشكلت من خلال انكسارات أرضية بقارة إفريقيا، فستجدها في
أ. الغرب ب. الشرق . ج. الجنوب . د. الشمال .
- ٢٠ ما هو الأثر المتوقع للاقتصاد الأزرق على التنمية المستدامة في إفريقيا ؟
أ. زيادة الواردات الغذائية ب. تقليل الواردات الغذائية . ج. تدمير النظام البيئي . د. تقليل الموارد الطبيعية .
- ٢١ يختلف عصر أمانحتب الرابع عن باقي ملوك الدولة الحديثة في اهتمامه
أ. أمور الدين ب. العلاقات التجارية الغذائية . ج. التوسعات الحربية البيئي . د. المنشآت الزراعية الطبيعية .
- ٢٢ حدد أكثر الجهات التي توسعت فيها الإمبراطورية المصرية القديمة
أ. الشمالية الشرقية ب. الشمالية الغربية . ج. الجنوبية الغربية . د. الجنوبية الشرقية .
- ٢٣ قامت الإمبراطورية المصرية القديمة في
أ. قارة واحدة ب. قارتين . ج. ثلاث قارات . د. أربع قارات .
- ٢٤ استفادت الملكة حتشبسوت في نشاطها التجاري من أعمال الملك
أ. سنوسرت الثالث ب. أمانحتب الثالث ج. أمانحتب الأول د. تحتمس الثالث
- ٢٥ سعى ملوك الدولة الحديثة إلى تحقيق الأمن القومي لمصر من خلال
أ. التنمية الاقتصادية ب. القوة العسكرية . ج. التشريعات والقوانين د. الوحدة السياسية
- ٢٦ أي مما يلي بعد قاسما مشتركا بين الملك تحتمس الثالث ورمسيس الثاني
أ. القضاء على الثورات الدينية ب. الاهتمام بالعدالة الاجتماعية ج. الاهتمام بالمعارك البحرية د. الحفاظ على الممتلكات المصرية
- ٢٧ يطلق على الرئيس الراحل محمد أنور السادات رجل الحرب والسلام»، فأى من ملوك مصر القديمة تنطبق هذه العبارة عليه ؟ الملك
أ. تحتمس الثالث ب. رمسيس الثاني ج. رمسيس الثالث د. أمانحتب الرابع
- ٢٨ تعد نظم غابات البحر المتوسط صالحة لحرفة
أ. الصناعة ب. الزراعة ج. التجارة د. التعدين
- ٢٩ يوجد نظام الغابات المدارية المطيرة في شمال
أ. نهر الكونغو ب. نهر النيجر ج. نهر الزمبيزي د. نهر النيل



٣٠. لنظم الغابات المدارية المطيرة أهمية في حرفتي

أ.الرعى والصناعة ب.الزراعة والتعدين ج.الصناعة والسياحة د.السياحة والرعى

٣١ وصل عرب شبه الجزيرة العربية إلى الساحل الشرقي لإفريقيا في البداية بغرض

أ.دينى ب.اقتصادى ج.اجتماعى د.ثقافى

٣٢ المعبر البرى للجيش الإسلامى عند فتح شمال إفريقيا كان عن طريق دولة

أ.مصر ب.أريتريا ج.المغرب د.الجزائر

٣٣ تلقى الدعاة المسلمون المرسلون لإفريقيا قدراً كافياً من العلوم

أ.العقلية ب.الدينية ج.التجريبية د.التطبيقية

٣٤ اختار المسلمون الطلاب المتميزين من سكان إفريقيا وإرسالهم إلى المعاهد العلمية بمصر مما يدل على

استخدام المسلمين لمفهوم

أ.البعثات العلمية ب.التعلم الذاتى ج.التعليم المحلى د.التعليم الداخلى

٣٥ فى ضوء دراستك وصل فن العمارة الإسلامية فى بناء المدن الإفريقية فى

أ.العهد النبوى ب.عهد الدولة الأموية ج.عهد الخلفاء الراشدين د.عهد الدولة العباسية

٣٦ طبق المسلمون مفهوم «الاندماج العرقى فى إفريقيا من خلال

أ.المعاهدات الدولية ب.الحروب العسكرية ج.الأساليب السياسية د.الارتباطات العائلية

٣٧ يرجع عدم وجود الشعاب المرجانية على سواحل البحر المتوسط إلى

أ.عدم ملائمة المناخ ب.ارتفاع درجة الحرارة ج.تلوث المسطح المائى د.ضخالة المسطح المائى

٣٨ أكبر خلل بينى حدث فى العصر الحديث فى إفريقيا كان فى بحيرة

أ.ناصر ب.فيكتوريا ج.المنزلة د.تشاد

٣٩ تحولت العديد من الموانئ والمراكز التجارية إلى مراكز ثقافية لنشر الإسلام فى نيجيريا مثل

أ.تمبكتو ب.كانو ج.أبوجا د.لاجوس

٤٠ إضافة أنواع جديدة من الأسماك فى بحيرة ما بدون دراسة ينتج

أ.زيادة الثروة السمكية ب.الإخلال بالنظام البيئى ج.تعرض البحيرة للتجفيف د.نمو الشعاب المرجانية

٤١ يجرى نهر السوايط فى دولتي

أ.إثيوبيا وجنوب السودان ب.السودان وأوغندا ج.السودان وجنوب السودان د.أوغندا وإثيوبيا

٤٢ تسهم إثيوبيا فى مياه نهر النيل من خلال

أ.نهر النيجر ب.نهر الكونغو ج.النيل الأزرق د.نهر الزامبيزي

٤٣ أحد أهداف الاقتصاد الأخضر الذى تسعى مصر لتحقيقه

أ.الحد من الجرائم ب.تعزير التجارة الدولية ج.تحقيق العدالة الاجتماعية د.دعم الصناعة الثقيلة

٤٤ العامل الذى يؤثر على استدامة مياه نهر النيل بالنظر إلى الاعتماد على المناخ الاستوائية

أ.التطرف المناخى وزيادة البخر ب.النشاط البشرى والعمراى ج.تغير المناخ وانخفاض الأمطار د.العلاقات السياسية بين الدول

٤٥ بالنظر إلى دور مصر فى تأسيس تجمع الأندوجور ما هو الأثر المحتمل لذلك على سياستها المائية ؟

أ.تعزير استقلالها فى الموارد المائية ب.تعزير التنسيق مع بقية الدول ج.تقليل تأثيرها الكبير على سياستها د.تقليل الاعتماد على المياه من دول أخرى

٤٦ ما هو العنصر الذى لم يكن جزءاً من تأثير الحضارة المصرية على حضارة كوش ؟

أ.الكتابة ب.التجارة ج.العمارة د.الدين

٤٧ تتميز حضارة قرطاج عن الحضارة المصرية القديمة بـ

أ.ارتباطها بنهر النيل ب.نشأتها كمدينة تجارية ج.تركيزها على الزراعة د.تفوقها الثقافى



- ٤٨ أى من المدن التالية اتخذتها الدولة العباسية مركزا للخلافة الإسلامية بعد سقوط بغداد ؟
 أ. تمبكتو ب. القاهرة ج. سببيلة د. الإسكندرية
- ٤٩ حرص حكام الحبشة على الاستفادة من الخبرات الحربية المصرية بشكل واضح خلال
 أ. عهد النبي ب. عصر الخلفاء الراشدين ج. عصر الدولة الأموية د. عصر دولة المماليك
- ٥٠ تم تخصيص أروقة بالأزهر للوافدين من الخارج مثل رواق الجبرية للطلاب الوافدين من
 أ. بلاد المغرب ب. بلاد الحبشة ج. سواحل البحر المتوسط د. سواحل المحيط الأطلنطي
- ٥١ من المنتجات المصرية التي اشتهرت بالجودة والدقة في العصور الوسطى وكان ملوك وحكام الدول الإفريقية
 أ. الصمغ ب. الأقمشة ج. العاج د. البناوي
- ٥٢ تم حفر قناة أمير المؤمنين بعد فتح المسلمين
 أ. مصر ب. برقة ج. طرابلس د. إفريقية
- ٥٣ بدأ الفتح الإسلامي القارة إفريقيا منذ
 أ. عهد الرسول ﷺ ب. عصر الخلفاء الراشدين ج. عصر الدولة الأموية د. عصر الدولة العباسية
- ٥٤ أول دولة إفريقية تم فتحها على يد المسلمين هي
 أ. الصومال ب. مصر ج. تونس د. المغرب
- ٥٥ بعد الفتح الإسلامي لإقليم برقة اتجه القائد عمرو بن العاص لفتح
 أ. طرابلس ب. إفريقية ج. مصر د. المغرب
- ٥٦ في عهد الخليفة عثمان بن عفان قام القائد عبد الله بن أبي السرح بقتال الروم في
 أ. مصر ب. برقة ج. طرابلس د. سببيلة
- ٥٧ من أشهر قادة المسلمين الذين ساهموا في فتح بلاد المغرب خلال عصر الدولة الأموية
 أ. عبد الملك بن مروان ب. عمرو بن العاص ج. عبد الله بن أبي السرح د. موسى بن نصير
- ٥٨ أي من الدول الإفريقية التالية اتخذت اللغة العربية لغة رسمية لها بعد انتشار الإسلام بها
 أ. غانا والصومال ب. الصومال وموريتانيا ج. موريتانيا ومالي د. مالي وغانا

أسئلة التميز

اختر الإجابة الصحيحة

- (١) تقع دولة شمال جزيرة مدغشقر. (جزر القمر - جزر كنارى - جزر مورشيوس - جزر الرأس الأخضر)
- (٢) تتميز سهول دولة المطلة على المحيط الهندي باتساعها. (الصومال - مصر - إريتريا - تنزانيا)
- (٣) من أمثلة الجبال البركانية التي توجد في جنوب القارة الإفريقية
- (البحر الأحمر - شايب البنات - كلمنجارو - دراكنز برج)
- (٤) تقع واحة في ليبيا. (سيوة - القطارة - الجوف - عين صالح)
- (٥) يفصل مضيق جزيرة مدغشقر عن الساحل الشرقي للقارة. (جبل طارق - موزمبيق - باب المندب - هرمز)



- ٦) نشأت حضارة قرطاج في(حاليا)
- ٧) يمثل أعلى قمة جبلية في سلسلة جبال أطلس جبل (العوينات - شايب البنات - تويقال - كينيا)
- ٨) يعد من أهم مصادر مياه بحيرة فيكتوريا نهر..... (كاجيرا - السوياط - عطبرة - بحر الجبل)
- ٩) يطلق على دول حوض النيل اسم الأندوجو ويعنى (المحبة - الصدق - الإخاء - العهد)
- ١٠) انتقلت الحضارات من قارة آسيا إلى قارة إفريقيا عبر (الصحراء الغربية - شبه جزيرة سيناء - مضيق جبل طارق - نهر النيل)
- ١١) قامت مصر بإنشاء سد أوين في دولة..... (أوغندا - كينيا - تنزانيا - السودان)
- ١٢) كان شمال السودان ملجأ لبعد سقوط دولتهم. (الأمويين - العباسيين - الفاطميين - المرابطين)
- ١٣) تسقط الأمطار بنظام غابات البحر المتوسط في فصل (الشتاء - الصيف - الربيع - الخريف)
- ١٤) بدأ الفتح الإسلامي لمصر في عهد (الدولة الأموية - الدولة العباسية - الخلفاء الراشدين - الدولة الفاطمية)
- ١٥) أول جيش إسلامي وصل إلى مدينة برقة كان بقيادة . (عمرو بن العاص - عبد الله بن أبي السرح - خالد بن الوليد - عبد الملك بن مروان)
- ١٦) القاسم المشترك بين أهل برقه وأهل مصر هو المعاناة من حكم (الأمويين - العباسيين - الروم - المغول)
- ١٧) من العوامل الطبيعية التي تؤثر بالسلب على أشجار المانجروف (الرعي الجائر - التوسع العمراني - التنمية السياحية - التغيرات المناخية)
- ١٨) تشتهر مصر بوجود الشعاب المرجانية خاصة في مدينة (مطروح - الإسكندرية - الغردقة - السويس)
- ١٩) من العوامل البشرية التي تدمر الشعاب المرجانية . (الفيضانات - التلوث - المناخ - السدود)
- ٢٠) من البحيرات المالحة في إفريقيا بحيرة (فيكتوريا - البردويل - تنجانيقا - تشاد)
- ٢١) محمية أركين تعتبر أشهر المحميات الطبيعية في دولة (مصر - الكونغو - كينيا - موريتانيا)
- ٢٢) تعد قارة أعلى معدل خسارة في مساحة الغابات على مستوى العالم (إفريقيا - آسيا - أوروبا - أستراليا)
- ٢٣) تنقسم حشائش السافانا إلى.....أنواع. (ثلاثة - أربعة - خمسة - ستة)
- ٢٤) إحدى النظم النهرية في قارة أمريكا الجنوبية..... (نهر الأمازون - نهر نيل - نهر النيجر - نهر الدانوب)
- ٢٥) محمية طبيعية في مصر تنتشر بها شجيرات المانجروف..... (علبة - المنزلة - البردويل - العلمين)
- ٢٦) أي من الحيوانات التالية تتحمل الظروف الصحراوية القاسية (الأبقار - الإبل - الجاموس - العقارب)
- ٢٧) تمتد حشائش..... بين دائرتي عرض (١٠ - ١٨) شمال و جنوب دائرة الاستواء (السافانا - الإستبس - المعتدلة - التندرا)
- ٢٨) تسقط الأمطار في نطاق حشائش السافانا في فصل (الصيف - الشتاء - الربيع - الخريف)
- ٢٩) من أشجار الغابات المدارية المطيرة (المطاط - الزيتون - الموالح - العنب)
- ٣٠) توجد الغابات المدارية المطيرة بساحل غرب القارة (غانا - موريتانيا - مالي - الصومال)
- ٣١) يمتد نظام غابات البحر المتوسط في العالم على الجانبللقارات. (الشرقي - الغربي - الشمالي - الجنوبي)
- ٣٢) أي من الأنظمة التالية ينتمى إلى النظم البيئية المائية ؟ (نظام حشائش السافانا - نظام حشائش الإستبس - الغابات المدارية المطيرة - النظم البيئية للمياه العذبة)
- ٣٣) قام الملك بحملة على بلاد كوش (أحمس - تحتمس الثالث - رمسيس الثاني - توت عنخ آمون)
- ٣٤) بني الملك رمسيس الثاني معبدا بأبو سمبل لزوجته الملكة (حتشبسوت - كليوباترا - نفرتاري - نفرتيتي)
- ٣٥) أعاد..... لعبادة آمون مكانتها. (أحمس - توت عنخ آمون - تحتمس الثالث - حتشبسوت)



- (٣٦) اعتمد الملك سنfro على جلب خشب الأرز من
 (٣٧) صاحب الهرم الأوسط ووصل فن النحت في عصره إلى قمته..... (سنfro - خوفو - خفرع - أوسركاف)
 (٣٨) ازداد نفوذ كهنة الإله في نهاية الأسرة الرابعة الفرعونية (رع - أمون - اوزوريس - إيزيس)
 (٣٩) شيد الملك أوسركاف المعابد المكشوفة في (الجيزة - الفيوم - سوهاج - الأقصر)
 (٤٠) أحد ملوك عصر الدولة القديمة، وهو أول من كتب نصوص الأهرام (خوفو - خفرع - سنfro - أوناس)
 (٤١) انتهى عصر الاضمحلال الأول وتوحدت البلاد مرة أخرى على يد ملوك الأسرة
 (السادسة - السابعة - العاشرة - الحادية عشرة)
 (٤٢) يرمز اسم الإله (سبك) عند المصريين القدماء إلى (الخصوبة - القوة - الموت - العدالة)
 (٤٣) بدء الضعف في عصر الرخاء الاقتصادي بعد وفاة الملك
 (أمنمحات الثالث - أمنمحات الرابع - سبك نفرو - سنوسرت الثالث)
 (٤٤) المشروع الموجود بالخريطة المقابلة يخدم أى المجالات الآتية ؟
 (السياسية - العسكرية - الاقتصادية - الدينية)
 (٤٥) استطاع الملك طرد الهكسوس من مصر. (أحمس - كامس - سقن رع - منتوحتب الثاني)
 (٤٦) نقل الملك أمنمحات الأول عاصمة مصر من
 (الشمال للجنوب - الجنوب للشمال - الوسط للشمال - الجنوب للوسط)
 (٤٧) بعد وفاة أمنمحات الرابع ظهر تقدير المصرى القديم لدور المرأة من خلال
 (توليها الحكم - قيادتها للجيش - فرضها للضرائب - حكمها للأقاليم)
 (٤٨) إحدى السلع التي استوردتها مصر من إفريقيا
 (ريش النعام - الأواني النحاسية - أدوات الزينة - المصنوعات الزجاجية)
 (٤٩) كان إفريقيا أولى المناطق التي انتشر الإسلام بها بحكم موقعها الجغرافي. (شمال - جنوب - شرق - غرب)
 (٥٠) يأتي نهر الكونغو في المرتبة الثانية من حيث التنوع البيولوجي عالميا بعد نهر
 (الأمزون - النيل - النيجر - الأورانج)



السؤال الثاني لمن تنسب الاعمال الآتية

- () (١) بدأ البرتغاليون في عهده كشوفهم الجغرافية لقارة إفريقيا .
 () (٢) تعرضت مصر في عهده الثورة اجتماعية قضت على الأسرة السادسة.
 () (٣) أرسل للخليفة عثمان بن عفان انه يستأذنه في فتح إفريقية.
 () (٤) أقام معبدا للملكة نفرتارى في أبو سمبل .
 () (٥) وزير مصرى غير نمط عمارة المقابر الملكية في مصر القديمة.
 () (٦) أقام مقاييس لنهر النيل عند الجندل الثاني.
 () (٧) شن حملات على أرض كوش لإجبارها على قطع الإمدادات التي كانت تصل إلى الهكسوس في مصر.
 () (٨) ملك مصرى ترجع شهرته لاكتشاف مقبرته كاملة.
 () (٩) أشهر ملكات مصر في عصر الدولة الحديثة
 () (١٠) دعا لعبادة الإله أتون و رمز له بقرص الشمس
 () (١١) الخليفة الأموى الذى أرسل بنائين للساحل الشرقى الإفريقى ليساهموا في بناء المدن.
 () (١٢) الحاكم المصرى الذى تم في عهده اكتشاف النيل الأبيض.



- () ١٣ من أوائل الرحالة العرب الذين زاروا إفريقيا وكتبوا عنها.
- () ١٤ وصلت في عهده الدولة المصرية لأقصى اتساع لها جهة الجنوب.
- () ١٥ تولت قيادة الدولة المصرية في بعض فترات عصر الاضمحلال الثاني .
- () ١٦ من قادة الجيوش الإسلامية الذين كان لهم دور مهم في فتح بلاد المغرب العربي.
- () ١٧ من أوائل الرحالة العرب الذين زاروا إفريقيا وكتبوا عنها.
- () ١٨ أسس الأسرة الرابعة
- () ١٩ أقام علاقات تجارية مع فينيقيا في عصر الدولة القديمة
- () ٢٠ أحد كهنة رع استطاع الوصول للحكم وأسس الأسرة الخامسة (أو سر كاف)
- () ٢١ الخليفة الذي تم في عهده فتح إفريقية تونس حاليا
- () ٢٢ أحد الرحالة المسلمين الذي وصل من خلال رحلاتها لاستكشافية إلى مالى
- () ٢٣ مؤسس الأسرة الخامسة و شيد العديد من المسلات الضخمة.
- () ٢٤ آخر ملوك الأسرة الخامسة.
- () ٢٥ نجح في الانتصار على ملوك أهناسيا في الشمال و أصلح النظام الإدارى في الدولة.
- () ٢٦ مؤسس الأسرة الثانية عشرة و صلت حدود مصر الجنوبية في عهده إلى الجندل
- () ٢٧ أمر بحفر قناة مائية للربط بين البحر الأحمر والبحر المتوسط عن طريق نهر النيل.
- () ٢٨ آخر حكام الأسرة الثانية عشرة و استكمل بناء هرم والده في منطقة هواره.
- () ٢٩ استطاع تحرير أجزاء كبيرة من مصر الوسطى من نفوذ الهكسوس
- () ٣٠ تولت شئون الحكم إلى حين عودة أبنائها منتصرين من حرب التحرير
- () ٣١ جعل المنطقة من نبتة إلى شمال إدفو وحدة واحدة يحكمها موظف أطلق الابن الملكي لكوش.
- () ٣٢ استعادت مصر في عهده سيادتها على بلاد الشام و بعض جزر البحر المتوسط.
- () ٣٣ وصلت حدود مصر في عهده سمنة عند الجندل الثاني
- () ٣٤ سمت نفسها على اسم الإله سبك
- () ٣٥ أقام سد عند مدخل بحيرة مورييس
- () ٣٦ قام بطرد الهكسوس من مصر
- () ٣٧ عقد أول معاهدة سلام في التاريخ
- () ٣٨ أحد ملوك الدولة الوسطى ارسل ٢٤ بعثة لاستخراج المعادن و قطع الأشجار من سيناء
- () ٣٩ توسع في الجنوب و أرسل بعثة تجارية لبلاد يونت عبر الصحراء
- () ٤٠ أقام سد اللاهون و مقياس على النيل
- () ٤١ أنشأ سلسلة من الحصون على الحدود الغربية لدلتا
- () ٤٢ قام بإنشاء حصني قمنة و سمنة عند الجندل الثاني
- () ٤٣ انتصر على شعوب البحر المتوسط و صد خطر الليبيين
- () ٤٤ مؤسس الأسرة الثالثة
- () ٤٥ أمر بنحت تمثال ابوالهول
- () ٤٦ شيد معابد المكشوفة في أبيصير
- () ٤٧ ثاني ملوك الأسرة الرابعة و شيد الهرم الأكبر.
- () ٤٨ أسس مدينة أثيث تاوى و جعلها عاصمة لمصر.
- () ٤٩ استطاع هزيمة شعوب البحر المتوسط.



السؤال الثالث ضع علامة ✓ أمام العبارة الصحيحة وعلامة ✗ أمام العبارة الخاطئة

١. اتخذ سلاطين المماليك في مصر مدينة الإسكندرية مقرا لحكمهم.
٢. تولت مصر مسئولية حماية الحرمين الشريفين والأماكن المقدسة في ظل حكم الخلافة الأموية.
٣. ساهم المماليك في تطوير الجوانب الإدارية بالحبشة.
٤. أثر الأزهر الشريف على أساليب التدريس وتلقى العلم في المدارس والمساجد الإفريقية فريقية.
٥. توطدت العلاقات الاقتصادية في العصور الوسطى بين مصر ودول شمال وغرب إفريقيا.
٦. كانت مصر الوسيط الوحيد في استيراد سلع الشرق خلال العصور الوسطى ونقلها إفريقيا.
٧. كانت المصنوعات الذهبية وأدوات الزينة إحدى واردات مصر من الدول الإفريقية.
٨. وجدت عملات تاريخية مصرية في مناطق من الساحل الغربي الإفريقي تعود للعصور الوسطى.
٩. كان البحر الأحمر معبرا هاما ساهم في انتشار الإسلام في إفريقيا.
١٠. اعتمدت أساليب انتشار الإسلام في إفريقيا على الأسلوب السلمي في الإقناع.
١١. بدأت الهجرات الإسلامية إلى قارة إفريقيا منذ عصر الخلفاء الراشدين .
١٢. تشابه موقف أهل مصر وأهل برقة من الفتح الإسلامي.
١٣. أول المحطات التي وصل إليها الإسلام خارج. شبه الجزيرة العربية هي مصر
١٤. فر العديد من بني أمية إلى السودان ومناطق أخرى داخل إفريقيا بعد قيام الدولة العباسية.
١٥. ساهم الإسلام في منع التفرقة العنصرية بإفريقيا.
١٦. كانت مصر تستورد من إفريقيا خلال العصور الوسطى مصنوعات الزجاج
١٧. تم اتخاذ القاهرة مركزا للخلافة الأموية بعد سقوط مدينة بغداد.
١٨. استفاد حكام الحبشة من المماليك اقتصاديا وعسكريا.
١٩. كانت مصر بمثابة معبر انتقل منه الأدب العربي والتراث الثقافي الإسلامي إلى القارة الإفريقية.
٢٠. بدأ التأثير الديني لمصر على الشعوب الإفريقية بعد انتشار الإسلام.
٢١. كان حاكم مصر يسند لمبعوثين الكنيسة المصرية ببلاد الحبشة مهمة الإشراف على مصالح المسلمين الدينية هناك.
٢٢. تقاسمت بلاد المغرب العربي مع مصر مهمة استيراد سلع الشرق إلى إفريقيا.
٢٣. تنقسم النظم البيئية المائية إلى نوعين رئيسيين تبعا لنسبة الأملاح في المياه.
٢٤. تنمو أشجار المانجروف في المناطق الساحلية المعتدلة.
٢٥. تنتشر أشجار المانجروف في السواحل الشرقية بإفريقيا بصورة أكبر عن السواحل الغربية.
٢٦. تبلغ مساحة المانجروف في مصر نحوه كم .
٢٧. توجد الشعاب المرجانية على سواحل البحر المتوسط في مصر.
٢٨. تتمتع محمية رأس محمد بتنوع بيئي متميز من شعاب مرجانية والمانجروف.
٢٩. تمثل نظم الأراضي الرطبة المالحة مأوى للعديد من الطيور المستوطنة والمهاجرة.
٣٠. قامت مصر بالتوسع في إنتاج الطاقة النظيفة لتجنب انبعاثات ثاني أكسيد الكربون
٣١. قامت مصر بتنفيذ مشروع تطهير وتطوير بحيرات الساحل الشمالي.
٣٢. أخذ الكوشيون من الحضارة المصرية القديمة بعض المعبودات مثل رع وآمون رع .
٣٣. تعد هضبة الحبشة المنبع الموسمي لنهر النيل .
٣٤. أقام الفينيقيون مدينة قرطاج في إفريقيا من أجل تأمين تجارتهم إلى أوروبا .
٣٥. هناك علاقة بين استقرار حياة المصري القديم ونهر النيل .



٣٦. سيطرت حضارة أكسوم بحكم موقعها الجغرافي على منابع النيل الموسمية .
٣٧. عقدت اتفاقية ٢٠١٥ م بين مصر وإثيوبيا والسودان الإدارة وتنمية مياه نهر النيل والاستخدام المنصف لها
٣٨. يشمل العصر العتيق الأسرتين الثانية والثالثة .
٣٩. اهتم ملوك العصر العتيق بالطرق الصحراوية لتأمين التجارة المارة بها .
٤٠. استخدم المصريون القدماء الألوان لتصميم صور جدارية على جدران المعابد .
٤١. تغير أسلوب العمارة للمقابر الملكية في عهد الدولة القديمة .
٤٢. تنقسم قارة إفريقيا إلى دول متساوية في المساحة .
٤٣. وصل المصريون القدماء إلى السودان والقرن الإفريقي .
٤٤. تعمل مصر على تدعيم علاقتها مع دول وشعوب القارة الإفريقية
٤٥. بدأت رحلة الدوران حول قارة إفريقيا في العهد الفرعوني من البحر الأحمر وانتهت إلى مضيق باب المندب .
٤٦. تتميز هضبة شمال إفريقيا بفقر في مظاهر سطحها .
٤٧. تقع أكبر صحاري العالم في الناحية الجنوبية لقارة إفريقيا .
٤٨. أصبحت هضبة الحبشة الإثيوبية صالحة للزراعة بسبب الطفوح البركانية .
٤٩. تعد جبال الكاب أعلى قمة جبلية في سلسلة جبال أطلس .
٥٠. يقع جبل شايب البنات في قارة إفريقيا ناحية الغرب .
٥١. اتجه حركة المياه من الجنوب إلى الشمال جعل سهول وادي النيل بمصر أرضا صالحة للزراعة .
٥٢. يعتبر الاقتصاد الأزرق الداعم الأساسي لتحقيق الاكتفاء الذاتي من الغذاء بإفريقيا.
٥٣. تعد جبال أطلس السبب الرئيسي في ضيق سهول البحر المتوسط في بلاد المغرب العربي .
٥٤. ارتفاع جبل كلمنجارو هو السبب الرئيسي في جعل قمته منخفضة الحرارة .
٥٥. تتسم المناخ الدائمة لنهر النيل بالفيضان وزيادة البحر بسبب موقعها الفلكي .
٥٦. ترجع فكرة إنشاء تجمع الأندوجو لدول حوض النيل إلى إحدى الدول الواقعة على البحر المتوسط جنوب قارة إفريقيا .
٥٧. تنحدر مياه نهر النيل من شمال إفريقيا إلى جنوبها حتى المصب في البحر المتوسط .
٥٨. قامت مصر بإنشاء مركز للبحوث المائية في تنزانيا تحقيقا لمفهوم الاقتصاد الأخضر .
٥٩. المسطح المائي الذي تصل إليه سفينة بعد عبورها قناة السويس متجهة نحو الجنوب هو الخليج العربي
٦٠. المسطح المائي الذي تصل إليه سفينه بعد عبورها قناة السويس متجهة للشمال هو البحر الأحمر
٦١. نشأت العديد من الحضارات على أرض إفريقيا منها حضارة أكسوم
٦٢. يمر خط جرينتش شرق قارة إفريقيا
٦٣. يمر دائرة الاستواء بوسط إفريقيا
٦٤. تقع مصر في الركن الشمالي الشرقي لقارة إفريقيا
٦٥. نشأت العديد من الحضارات على أرض قارة إفريقيا منها حضارة كوش في السودان
٦٦. تشترك كل الدول العربية التي توجد بقارة إفريقيا بالموقع شمال دائرة الاستواء
٦٧. تعرضت شعوب قارة إفريقيا للاستعمار من قبل دول قارة أوروبا
٦٨. تم الدوران حول إفريقيا لأول مرة خلال العصر الفرعوني



٦٩. المسعودي من أوائل الرحالة العرب الذين زاروا قارة إفريقيا ()
٧٠. بدأت محاولات الانجليز لاكتشاف إفريقيا في القرن ١٥ م خلال عهد الأمير هنري الملاح ()
٧١. وصل النفوذ المصري في عهد الخديو إسماعيل إلى جنوب دائرة الاستواء ()
٧٢. تعد الجزائر أكبر الدول الأفريقية من حيث المساحة ()
٧٣. اهتم المصريون القدماء بالتعليم وإقامة المشروعات الاقتصادية ()
٧٤. بعد البخور والعاج من أبرز صادرات حضارة أكسوم وأعلاها قيمة اقتصادية ()
٧٥. تعد بحيرة فيكتوريا من أهم بحيرات المناخ الموسمية لنهر النيل ()
٧٦. تنحدر هضبة البحيرات الاستوائية من الشمال إلى الجنوب ()
٧٧. يمتد الأخدود الإفريقي في غرب قارة إفريقيا ()
٧٨. تكونت جبال كينيا وجبل كلمنجارو نتيجة الثورات البركانية ()
٧٩. بعد البحر المتوسط وخليج السويس أجزاء من الأخدود الإفريقي العظيم ()
٨٠. تعد الصحراء الكبرى بهضبة شمال إفريقيا أكبر صحاري العالم ()
٨١. تقع هضبة البحيرات الاستوائية في غرب إفريقيا ()

السؤال الرابع بم تفسر

١. ارتفاع درجة حرارة نظام حشائش السافانا في فصل الصيف.
٢. تدرج حشائش السافانا في الطول من مكان لآخر.
٣. ارتفاع المدى الحراري السنوي بنظام الحشائش الحارة.
٤. يُطلق على نظام حشائش السافانا حديقة حيوان طبيعية.
٥. لحشائش السافانا أهمية اقتصادية.
٦. تتعرض تربة حشائش السافانا للتجريف لأسباب طبيعية.
٧. أهمية حشائش الإستبس.
٨. قيام النشاط الزراعي في منطقة نظام الحشائش المعتدلة.
٩. تميز تربة حشائش الإستبس باللون الأسود.
١٠. عقد كل من مصر و إثيوبيا والسودان اتفاقية ٢٠١٥ ؟
١١. تندر النباتات الطبيعية في نظام الصحاري الحارة
١٢. تنقسم قارة إفريقيا لدول مختلفة المساحة ؟



١٣. تميز حقول وادي النيل بخصوبة ترتيبها ؟

١٤. إنشاء تجمع الاندوجو ١٩٨٣ ؟

١٥. تحكم قارة إفريقيا في طرق التجارة العالمية ؟

١٦. عقد اتفاقية تنظيم استخدام المجاري المائية في الأغراض غير الملاحية ؟

١٧. وجود علاقات قديمة بين حضارات قارة إفريقيا ؟

١٨. أهمية السهول الساحلية للبحر المتوسط شمال إفريقيا ؟

١٩. ارتفاع الحرارة بشكل ملحوظ في نظام حشائش السافانا خاصة في فصل الصيف ؟

٢٠. قيام المصريين القدماء بنحت تماثيل للملوك خلال عصر الدولة القديمة

٢١. نحت المصريين القدماء تماثيل الكاتب المصري الجالس

٢٢. أهمية هرم سقارة المدرج.

٢٣. لقب الملك سنfro بالملك المحسن المحبوب .

٢٤. ارسال الملك سنfro حملة عسكرية إلى بلاد النوبة

٢٥. ارسال الملك سنfro اسطولاً بحرياً لبلاد فينيقيا .

٢٦. سقوط الأسرة الرابعة.

٢٧. كتابة الملك أوناس نصوص الأهرام على جدران حجرة الدفن

٢٨. أهمية نصوص الأهرام.

٢٩. يعتبر طرد الهكسوس حداً فاصلاً بين عهدين تاريخيين في مصر الفرعونية

٣٠. تسمية عصر الدولة الحديثة بعصر المجد الحربي .

٣١. أهمية وجود جيش قوي في عصر الدولة الحديثة .

٣٢. أرسل الملك أحمس الأول حملة للجنوب .



٣٣. أرسل الملك أحمر الأول حملة للسواحل الشرقية للبحر المتوسط .

٣٤. عمل الملك تحتمس الأول على تطوير معبد الكرنك

٣٥. اتباع الملك تحتمس الثالث سياسات سلمية مع أمراء آسيا .

٣٦. الأهمية الاستراتيجية لقارة إفريقيا ؟

٣٧. الأهمية الاقتصادية للمناطق الجبلية في إفريقيا؟

٣٨. إطلاق الأمم المتحدة البرنامج الإنمائي لمبادرة الشبكات الشمسية الحملة الصغيرة بقارة إفريقيا؟

٣٩. تعتبر هضبة البحيرات الاستوائية المنبع الدائم النهر النيل ،

٤٠. تكون الأخدود الأفريقي العظيم ؟

٤١. ضيق سهول البحر المتوسط في بلاد المغرب العربي ؟

٤٢. تأسيس الفينيقيين مدينة قرطاج المدينة قرطاج على البحر المتوسط ؟

٤٣. تنوع المناخ في قارة إفريقيا ؟

٤٤. أهمية السهول الساحلية للبحر المتوسط شمال إفريقيا ؟

٤٥. ارتفاع الحرارة بشكل ملحوظ في نظام حشائش السافانا خاصة في فصل الصيف

٤٦. تعد هضبة الحبشة المنبع الموسمي لنهر النيل ؟

٤٧. الأهمية الاقتصادية لسهول المحيط الأطلسي غرب إفريقيا ؟

٤٨. استدامة جريان نهر النيل ووصوله إلى مصر ؟

٤٩. ازدياد النشاط التجاري بين مصر و إفريقيا خلال عصر الدولة الحديثة

٥٠. يعتبر الملك رمسيس الثالث المؤسس الحقيقي للأسرة العشرين .

٥١. اهتمام ملوك العصر العتيق بالطرق الصحراوية

٥٢. وجود تأثير متبادل بين مصر والحضارات الآخري عصر الدولة الحديثة



٥٣. يرجع الفضل في نهضة البلاد أثناء عصر الدولة الوسطى إلى أمنمحات الأول .

٥٤. سقوط الأسرة الرابعة والعشرين .

٥٥. يعد العصر العتيق عصر البناء والتأسيس

٥٦. امتداد قارة افريقيا في نصفي الكرة الأرضية الشمالي والجنوبي ؟

٥٧. يعد نهر النيل نهرا دوليا ؟

٥٨. اهتمام مصر بالاقتصاد الأخضر؟

٥٩. وضع دور الاقتصاد الأزرق في حل بعض مشكلات افريقيا ؟

٦٠. قيام العديد من الحضارات القديمة في قارة إفريقيا؟

٦١. تنتشر أشجار المانجروف بشكل كبير في السواحل الغربية لقارة إفريقيا.

٦٢. وفود الطلاب الأفارقة المصّر؟

٦٣. تأسيس البرتغاليون الموانئ والمراكز التجارية على طريق رأس الرجاء الصالح

٦٤. الأهمية الاقتصادية لجبل كلمنجارو ؟

٦٥. سيطرة مدينة قرطاج على معظم ساحل شمال إفريقيا ؟

٦٦. أهمية النظم البيئية المائية

٦٧. أهمية النيل الأزرق لمصر ؟

٦٨. يتعرض نظام المانجروف للتدهور ؟

٦٩. ارتبطت مصر مع الدول والممالك الأفريقية خلال العصور الوسطى بعلاقات سياسية وثقافية وعلمية واقتصاد قوية ؟

٧٠. يتم تعيين مطران مصري من قبل بطريرك الاسكندرية ببلاد الحبشة ؟

٧١. سعى العديد من حكام الدول الإسلامية بإفريقيا على الحصول على تأييد مصر السياسي.

٧٢. لجوء ملوك الحبشة المطارنة المصريين ؟



٧٣. توطدت العلاقات الإدارية بين مصر والدول الافريقية خلال عصر المماليك ؟

٧٤. تحول إفريقيا من النظام القبلي النظام الدولة ؟

٧٥. قيام معركة مجدو

٧٦. احضار الملك تحتمس الثالث لابناء الأقاليم الأسيوية لمصر .

٧٧. شهرة الملك توت عنخ آمون .

٧٨. نهاية الدولة الحديثة

٧٩. تسمية عهد الملك رمسيس الثاني بعصر الامبراطورية الثانية

٨٠. يعد الملك رمسيس الثاني رجل الحرب والسلام .

٨١. قيام معركة قادش

٨٢. شهرة الأسرة ٢٦ بالعصر المتأخر بمصر القديمة

٨٣. حدد الغرض من مبادرة إفريقيا لاستعادة المناظر الطبيعية للغابات.

٨٤. تتميز هضبة الحبشة بخصوبة تربيتها؟

٨٥. قلة مياه المناخ الإستوائية لنهر النيل طوال العام ؟

٨٦. الأهمية الاقتصادية للسهول الساحلية غرب البحر الأحمر ؟

٨٧. ارتفاع درجات الحرارة في نظم حشائش السافانا في فصل الصيف؟

٨٨. اهتمام الأوروبيين بالكشوف الجغرافية لقارة افريقيا ؟

٨٩. الأهمية البيئية الآثار المانجروف.

٩٠. الأهمية البيئية لنظم الأراضي الرطبة العذبة

٩١. أهمية الصحاري الافريقية كأحد مصادر الطاقة المتجددة وغير المتجددة ؟

٩٢. الأهمية الاقتصادية لشبه جزيرة سيناء أثناء عصر الدولة الوسطى .



٩٣. أقام الملك أمنمحات الثالث سد اللاهون .

٩٤. أقام الملك أمنمحات الثالث مقاييس للنيل

٩٥. نجاح الهكسوس في غزو مصر .

٩٦. كراهية المصريين القدماء للهكسوس.

٩٧. عصر الأسرة السابعة عشر بعد عصر الانتفاضة ضد الهكسوس .

٩٨. قيام كامس بحملة مفاجئة على أرض كوش .

٩٩. أقام المصريون القدماء مراكز ومحطات تجارية على طول نهر النيل جنوبا خلال عصر الدولة الوسطى

١٠٠. نقل الملك أمنمحات الأول عاصمة مصر من طيبة إلى أثيت تاوي .

١٠١. أقام الملك أمنمحات الأول سلسلة من الحصون على الحدود الغربية للدلتا

١٠٢. تشييد قلعتي سمنة وقمنة .

ما النتائج المترتبة علي

السؤال الخامس

١. ارتباط الدين الإسلامي باللغة العربية.

٢. أهمية الموقع الجغرافي لحضارة أكسوم ؟

٣. خصوبة التربة بهضبة الحبشة ؟

٤. تعرض النظم البيئية العذبة في إفريقيا للتدهور؟

٥. ثنائية المنبع النهر النيل ؟

٦. امتداد الاخدود الافريقي في شرق القارة المسافة ٥٦٠ م تقريبا ؟

٧. الموقع المتميز الحضارة قرطاج ؟

٨. زيادة موجات الجفاف في نظام الصحاري الحارة في أفريقيا؟

٩. دخول الإسلام إلى إفريقيا بالنسبة للنظم السياسية بها؟



١٠. اهتمام عبد الملك بن مروان بالناحية المعمارية في افريقيا؟

١١. الموقع الفلكي لقارة إفريقيا ؟

١٢. تعرض الشواطئ العمليات الروم ؟

١٣. تركز السلطة الدينية والسياسية للعالم الإسلامي مصر ؟

١٤. تعرض الأراضي الرطبة العذبة للتجفيف وإزالة النباتات والتوسع الزراعي؟

١٥. الاستعمار الأوروبي القارة افريقيا ؟

١٦. مرور حجاج الدول الأفريقية عبر مصر؟

١٧. اهتمام الإسلام بتنظيم الحياة الاجتماعية والأسرية في القارة الأفريقية؟

١٨. ارتفاع الحرارة وسقوط الأمطار الدائمة في حوض الكونجو ؟

١٩. انتشار السهول الطينية في نظم الأراضي الرطبة ؟ أو - نمو أعشاب بحرية في الأراضي الرطبة؟

٢٠. قيام الإسلام بتنظيم الزواج لسكان افريقيا؟

٢١. دراسة طلاب الدول الافريقية في الأزهر الشريف وفي المدارس المصرية ؟

٢٢. اتخاذ عبد الله بن أبي السرح الطريق الساحلي للوصول إلى سببطة ؟

٢٣. امتداد العديد من الأنهار بقارة افريقيا ؟

٢٤. مرور دائرة الاستواء بالمناخ الدائمة ؟

٢٥. إنشاء مصر خزان جبل الأولياء في السودان ؟

٢٦. موجات التصحر التي تصيب مساحة واسعة من الأراضي الافريقية ؟

٢٧. غزو الاسكندر الأكبر لمصر؟

٢٨. ازدهار مصر الحضاري في عصر الدولة الحديثة؟

٢٩. تعرض مصر لعصر الاضمحلال الاول؟



٣٠. ظهور الاسره الحاديه عشر خلال عصر الاضمحلال الاول؟

٣١. حفر قناه سيزوستريس؟

٣٢. اهتمام الملك امنمحات الثالث بتخزين مياه الفيضان؟

٣٣. زياده الصراعات بين حكام الاقاليم بعد عهد الملك امنمحات الثالث؟

٣٤. معركه مجدو؟

٣٥. تحالف ملك الحيثيين مع امراء المدن السوريه ضد رمسيس الثاني؟

٣٦. الصراع بين ملك كوش والمصريين اثناء الاسره ال ٢٤؟

السؤال السادس: دال

١. حرص حكام الحبشة على الاستفادة من الخبرات السياسية والعسكرية المصريين؟

٢. تنوع مظاهر السطح فوق هضبة شمال افريقيا ؟

٣. اهتمام مصر بالحفاظ على أشجار المانجروف؟

٤. لعب الاسلام دوراً مهماً في تشكيل الهوية الثقافية والاجتماعية لشعوب إفريقيا ؟

٥. كان لمصر دوراً معاً في تنمية مائية حوض النيل ؟

٦. تعتبر نظم الأراضي العذبة سداً طبيعياً؟

٧. ساهم المماليك في تطوير الجوانب الإدارية ببلاد الحبشة؟

٨. كانت الكنيسة المصرية تحرص على مصالح المسلمين في الحبشة ؟

٩. لموقع هضبة البحيرات الاستوائية جانب إيجابي وآخر سلبي لمائية نهر النيل ؟

١٠. كان النهر النيل دوراً رئيسياً في نشأة الحضارة المصرية القديمة ؟

١١. تتميز النظم البحرية العذبة بقارة افريقيا بالتنوع البيولوجي؟

١٢. لحشائش السافانا أهمية اقتصادية للعديد من الصناعات ؟



١٣. تتعدد الأخطار التي تواجهها حشائش السافانا بإفريقيا؟

١٤. يمتد نظام حشائش الإستبس في مناطق المناخ المعتدل؟

١٥. يتسم مناخ نظام الصحارى الحارة بالتطرف الشديد؟

١٦. تستطيع النباتات الصحراوية التكيف مع شدة الجفاف والحرارة؟

١٧. لم يقتصر عمل الملك تحتمس الثالث على المجال العسكري فقط؟

١٨. عهد الملك احمس الأول لم يكن كفاحا مسلحا فقط بل كانت تتخلله فترات سلم وهدوء؟

١٩. كان طرد الهكسوس من مصر حداً فاصلاً بين عصرين تاريخيين في مصر الفرعونية؟

٢٠. تغيرت العلاقات المصرية الإفريقية خلال العصر المتأخر؟

السؤال السابع ما العلاقة

١. النظم البيئية المائية وفرص العمل؟

٢. سقوط الخلافة العباسية في بغداد والعلاقات السياسية المصرية الأفريقية؟

٣. العرب واكتشاف البرتغاليين طريق رأس الرجاء الصالح؟

٤. الاقتصاد الأزرق والموارد المائية ؟

٥. حضارة كوش والحضارة المصرية القديمة ؟

٦. نهر النيل وقيام الحضارات في قارة افريقيا ؟

٧. سياسة محمد على وتأمين منابع النيل ؟

٨. الأراضي الرطبة العذبة والاحتباس الحراري ؟

٩. التكنولوجيا الحديثة والحفاظ على النظم البيئة ؟

١٠. الأراضي الرطبة العذبة وتقليل ظاهرة الاحتباس الحرارية؟



السؤال الثامن قارن بين كلاً من

١. التربة السوداء و التربة الحمراء و التربة البنية و التربة البيضاء

التربة الحمراء	التربة السوداء
التربة البيضاء	التربة البنية

٢. المناخ الدائمة و المناخ الموسمية لنهر النيل من حيث أهم الروافد

المناخ الموسمية	المناخ الدائمة

٣. نظام المانجروف نظم الشعاب المرجانية

الشعاب المرجانية	نظام المانجروف

السؤال التاسع : رتب الأحداث التاريخية التالية من الأقدم للأحدث

- (١)
- كفاح كامس ضد الهكسوس.
- سيطرة الكوشيين على معظم مصر.
- ثورة المصريين في أواخر عهد الملك بيبي الثاني.
- هزيمة شعوب البحر المتوسط على يد رمسيس الثالث.
- بناء سد اللاهون.
- تأسيس مدينة (من - نفر) عاصمة لمصر.
- (٢) * فتح مصر. * فتح إفريقية. * هجرة المسلمين إلى الحبشة. * فتح طرابلس.
- (٣) * حفر قناة سيزوستريس * بناء سد اللاهون. * اكتشاف مقبرة توت عنخ آمون. * معركة مجدو
- (٤) * هزيمة أمير قادش. * إنشاء حصن قمنة وسمنة. * غزو الهكسوس لمصر. * بناء معبد أبيدوس
- (٥) * دعوة إخناتون الدينية. * بناء هرم زوسر المدرج. * نقل العاصمة إلى إيثيت تاوي. * معركة قادش
- (٦) * بناء الهرم الأوسط. * إرسال رحلة بحرية لبلاد بونت. * عقد معاهدة سلام مع الحيثيين



- (٧) * بناء الهرم الأكبر. * تأسيس الأسرة الثانية عشر. * الدعوة لعبادة إله واحد. * نحت تمثال أبو الهول
- (٨) * نحت تمثال أبو الهول. * توحيد مملكتي الشمال والجنوب. * وصول حدود مصر للجندل الثاني
- (٩) * اندلاع معركة مجدو. * اكتشاف منابع النيل الأبيض. * نشأة منظمة الأندوجو
- (١٠) * إنشاء جامع سنكوري. * غزو الإسكندر المصري. * رحلة نخاو للدوران حول إفريقيا. * اكتشاف النيل الأبيض. * تأسيس الأسرة الثانية عشرة. * اكتشاف مقبرة توت عنخ آمون
- (١١) * فتح سببلة. * بناء مدينة من نفر. * دخول الإسكندر الأكبر مصر. * بناء الهرم المدرج
- (١٢) * تأسيس الكوشيين للأسرة الـ ٢٥ * بناء مدينة (من - نفر) * معركة قادش * تدوين نصوص الأهرام
- (١٣) * طرد الهكسوس من مصر. * نحت تمثال أبو الهول
- (١٤) * توحيد مملكتي الشمال والجنوب * حفر قناة سيزوستريس * إبرام أول معاهدة سلان في التاريخ
- (١٥) * تولى سبك نفرو الحكم * إنشاء حصن قمنة وسمنة * تأسيس مدينة (من - نفر)
- (١٦) * طرد الهكسوس من مصر * حفر قناة سيزوستريس * عقد أول معاهدة سلام مع الحيثيين
- (١٧) * تشييد هرم زوسر المدرج * تشييد الهرم الأكبر * الدعوة لعبادة الإله أتون * بناء معبد أبيدوس * بناء حصن سمنة وقمنة

السؤال العاشر ماذا يحدث إذا

١. كانت هضبة البحيرات الاستوائية تنحدر نحو الجنوب؟

٢. لم يمتد الأخدود الإفريقي العظيم في شرق إفريقيا؟

٣. اختفى نظام حشائش السافانا والاستبس من القارة الإفريقية؟

٤. لم تبادر مصر ببناء سدود وخزانات في دول حوض النيل؟

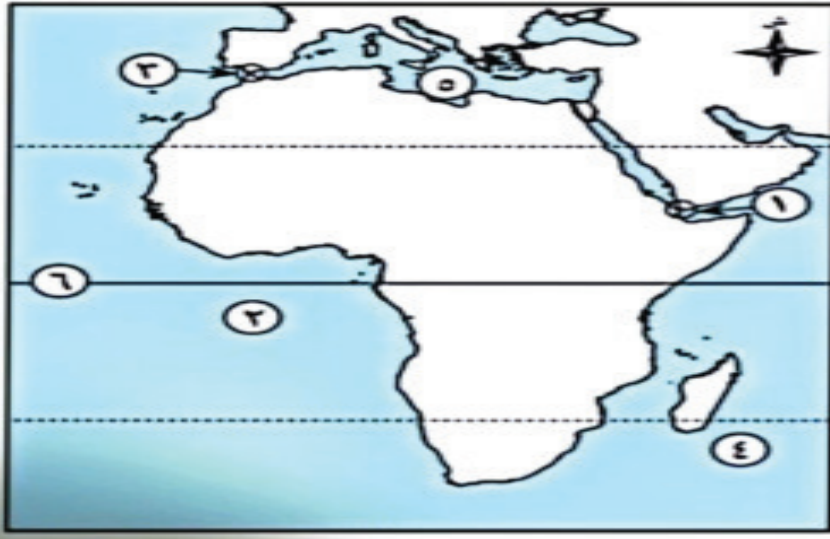
٥. حدثت نزاعات بين أعضاء تجمع الأندوجو؟

٦. نجح سكان إفريقيا في استثمار مواردها الطبيعية؟



السؤال الحادي عشر الخرائط

١ - لاحظ خريطة أفريقيا ثم أكتب مدلول الأرقام عليها



١. مضيق.....
٢. المحيط.....
٣. مضيق.....
٤. المحيط.....
٥. البحر.....
٦. دائرة.....

٢ - لاحظ خريطة أفريقيا ثم أكتب مدلول الأرقام عليها



١. حشائش.....
 ٢. أحد الأنظمة البيئية.....
 ٣. المحيط.....
 ٤. نظام حشائش.....
 ٥. البحر.....
- حدد أحد الأخطار التي يتعرض لها نظام حشائش السافانا ونظام الإستبس ثم اقترح بعض الحلول لمواجهتها؟

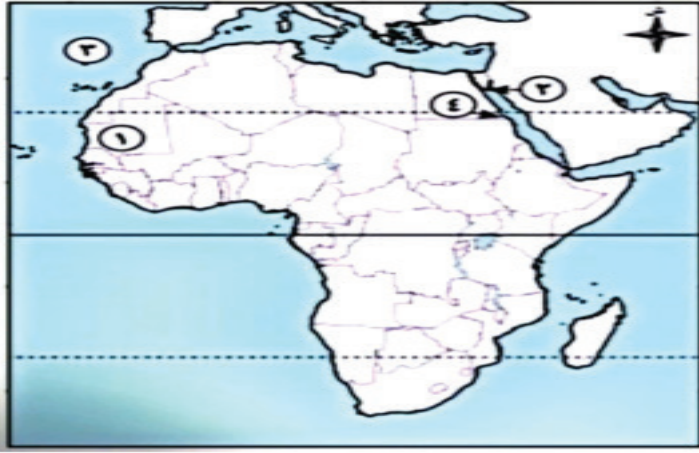
٣ - لاحظ الخريطة ثم أكتب مدلول الأرقام عليها



١. غابات.....
 ٢. مدار.....
 ٣. دائرة.....
 ٤. غابات.....
 ٥. المحيط.....
 ٦. جزيرة.....
- ما مقترحاتك للاستفادة من نظام الغابات المدارية المطيرة لتحقيق رفاهية قارتنا الإفريقية؟



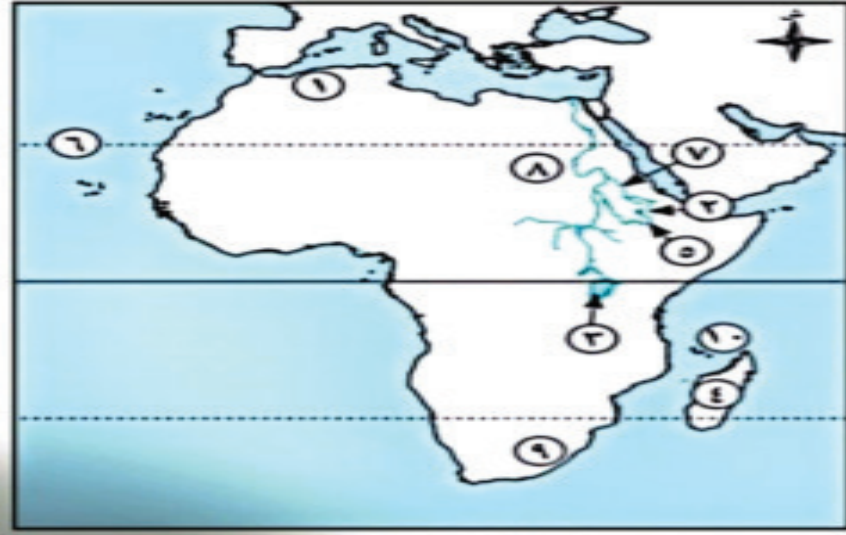
٤- لاحظ خريطة أفريقيا ثم أكتب مدلول الأرقام عليها



١. محمية تراث عالمي.....
٢. محمية تنتشر بها الشعاب المرجانية.....
٣. المحيط.....
٤. محمية تتميز بوجود أشجار المانجروف.....

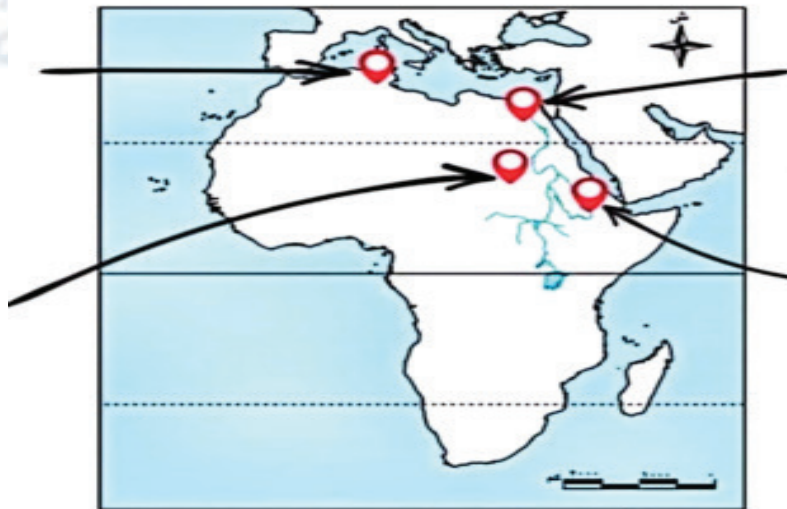
• حدد أحد الأخطار التي تواجه النظم البيئية للمياه العذبة في إفريقيا. ثم اقترح بعض الحلول لمواجهتها؟

٥ - أكتب ما يشير اليه مدلول الأرقام الموقعة علي الخريطة



١. جبال.....
٢. هضبة.....
٣. بحيرة.....
٤. جزيرة.....
٥. النيل.....
٦. مدار.....
٧. نهر.....
٨. حضارة.....
٩. جبال.....
١٠. جزر.....

٦- حدد أسماء وأماكن بعض الحضارات التي قامت في أفريقيا



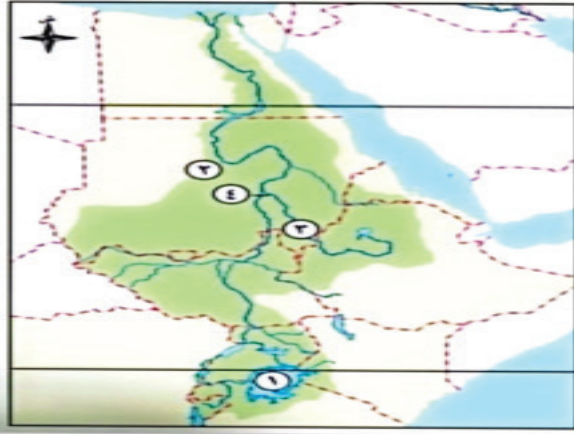


٧- لاحظ خريطة أفريقيا ثم أكتب مدلول الأرقام عليها



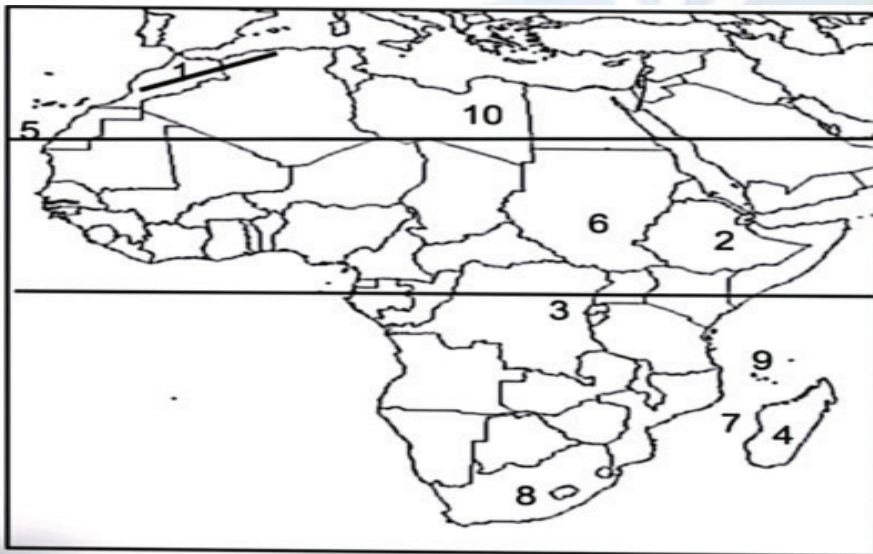
١. بحيرة.....
٢. مضيق.....
٣. مضيق.....
٤. جبل.....
٥. نظام غابات.....
٦. نظام حشائش.....
٧. نظام الغابات.....
٨. صحراء.....

٨- لاحظ خريطة حوض نهر النيل ثم أكتب مدلول الأرقام



١. بحيرة.....
٢. دولة قامت فيها حضارة كوش هي.....
٣. النيل.....
٤. خزان.....

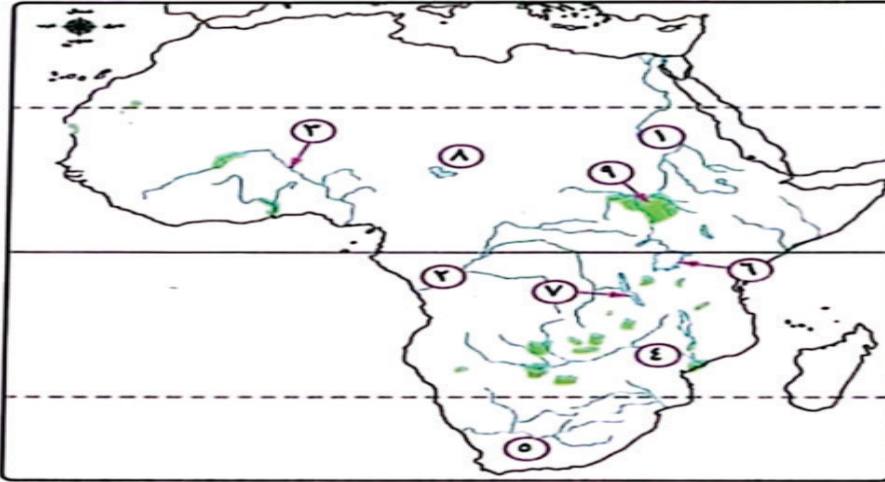
٩ - أكتب ما يشير اليه مدلول الأرقام الموقعة علي الخريطة



١. جبال.....
٢. هضبة.....
٣. بحيرة.....
٤. جزيرة.....
٥. مدار.....
٦. حضارة.....
٧. مضيق.....
٨. جبال.....
٩. جزر.....
١٠. واحة.....

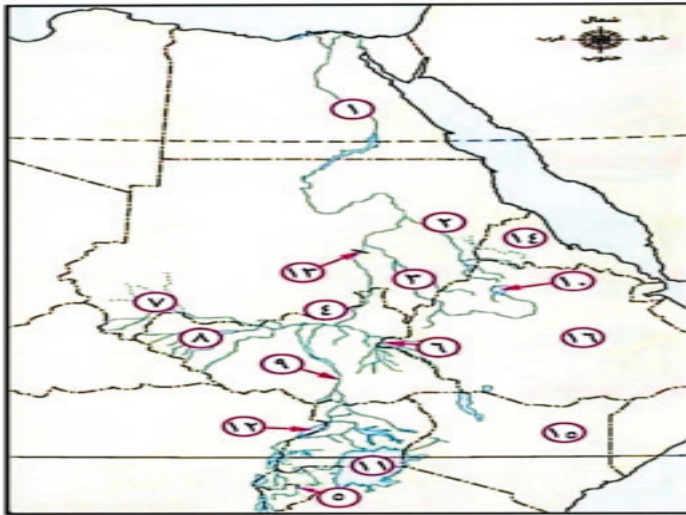


١٠ - أكتب ما يشير اليه مدلول الأرقام الموقعة علي الخريطة



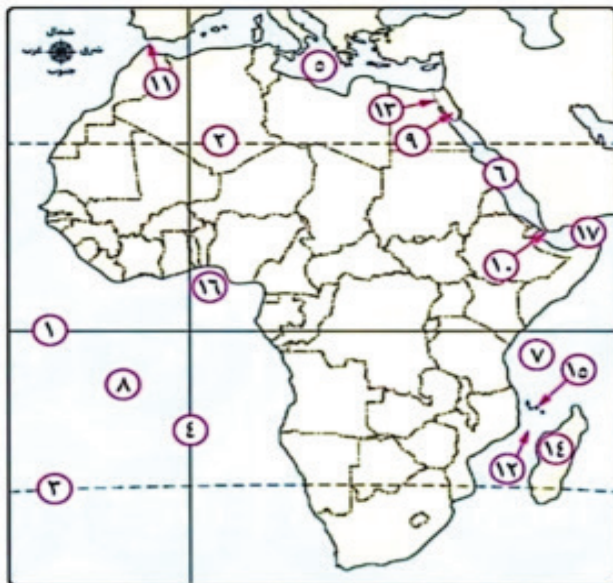
١. نهر
٢. نهر
٣. نهر
٤. نهر
٥. نهر
٦. بحيرة
٧. بحيرة
٨. بحيرة
٩. مستنقعات

١١ - أكتب ما يشير اليه مدلول الأرقام الموقعة علي الخريطة



١. نهر
٢. نهر
٣. النيل
٤. النيل
٥. نهر
٦. نهر
٧. بحر
٨. بحر
٩. بحر
١٠. بحيرة
١١. بحيرة
١٢. بحيرة
١٣. خزان
١٤. دولة
١٥. دولة
١٦. دولة

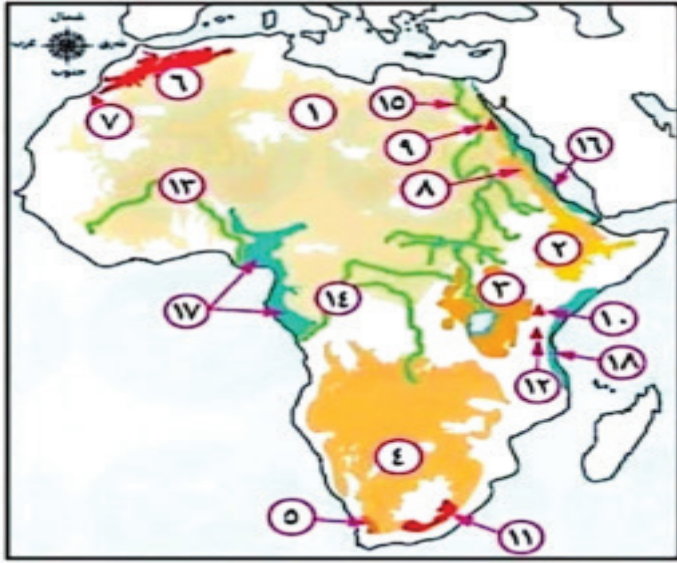
١٢ - أكتب ما يشير اليه مدلول الأرقام الموقعة علي الخريطة



١. دائرة
٢. مدار
٣. مدار
٤. خط
٥. البحر
٦. البحر
٧. المحيط
٨. المحيط
٩. شبه جزيرة
١٠. مضيق
١١. مضيق
١٢. مضيق
١٣. قناة
١٤. جزيرة
١٥. جزر
١٦. خليج
١٧. خليج



١٣ - أكتب ما يشير اليه مدلول الأرقام الموقعة علي الخريطة

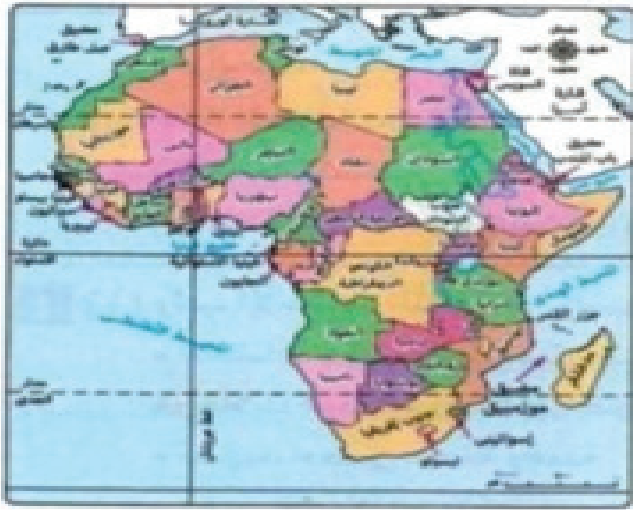


١. هضبة ١٠. جبل.....
٢. هضبة..... ١١. جبال.....
٣. هضبة..... ١٢. جبل.....
٤. هضبة..... ١٣. سهول.....
٥. جبال..... ١٤. سهول.....
٦. جبال..... ١٥. سهول.....
٧. جبال..... ١٦. سهول.....
٨. جبال..... ١٧. سهول.....
٩. جبل..... ١٨. سهول.....

الإختبار الأول

السؤال الأول:

أ. بالاستعانة بالخريطة المقابلة، اختر الإجابة الصحيحة مما بين القوسين :



- (١) يتقاطع مدار السرطان مع خط الطول الرئيسي في دولة.
(الجزائر - نيجيريا - تشاد - كينيا)
- (٢) تقترب قارة إفريقيا من قارة أوروبا عند
(مضيق موزمبيق - قناة السويس مضيق باب المندب - مضيق جبل طارق)
- (٣) دولة داخلية في قارة إفريقيا عضو في تجمع الأندوجو.....
(أوغندا - إريتريا - تنزانيا - بتسوانا)
- (٤) إحدى دول منابع النيل ونشأت فيها حضارة إفريقية قديمة
(مصر - إثيوبيا - تونس - رواندا)

ب) بم تفسر ...؟

- (١) أهمية النيل الأزرق بالنسبة لمصر.
- (٢) يُعد الحفاظ على غابات حوض الكونغو ضرورة للتوازن البيئي.

السؤال الثاني :

أ) اختر الإجابة الصحيحة مما بين القوسين :

- (١) أحد ملوك مصر القديمة وأرسل بعثة للدوران حول إفريقيا
(رمسيس الثالث - نخاو الثاني - أحمس الأول - سنfro)

- (٢) توجد جامعة سنكوري في دولة

(نيجيريا - الجزائر - إثيوبيا - مالي)

- (٢) المسطح المائي الذي يخلو من مصبات الأنهار بقارة إفريقيا.....

(البحر الأحمر - البحر المتوسط - المحيط الهندي - المحيط الأطلنطي)

- (٤) أكثر النظم البيئية اقترابا من المناطق التي تسقط عليها الأمطار طوال العام

(حشائش الإستبس - السافانا المكشوفة - السافانا البستانية - الصحاري الحارة)



(ب) ماذا كان يحدث إذا لم ... ؟

- (١) تدخل أنواع جديدة من الأسماك إلى بحيرة فيكتوريا
- (٢) يتكون الأخدود الإفريقي العظيم في شرق إفريقيا

السؤال الثالث :

- (١) اكتب ما تشير إليه كل عبارة من العبارات الآتية :
 - (١) الأفراد الذين تلقوا قدرا من العلوم الدينية التي تؤهلهم لنشر الإسلام
 - (٢) مدينة معناها القابضة على الأرضين واتخذها الملك أمانمحات الأول عاصمة المصري الدولة الوسطى.
 - (٣) نهر يعد من أهم مصادر مياه بحيرة فيكتوريا ويصب في غربها،
 - (٤) منطقة جغرافية متكاملة تتكون من مكونات حية و غير حية تتفاعل مع بعضها البعض وفق نظام دقيق للحفاظ على التوازن البيئي واستدامة الحياة .

(ب) ما العلاقة بين ... ؟

- (١) تطور بناء المقابر، والأسرة الفرعونية الرابعة.
- (٢) هضبة الحبشة، والزراعة في مصر.

السؤال الرابع :

- (١) رتب الأحداث التالية من القديم إلى الحديث.
 - * اكتشاف مقبرة الملك توت عنخ آمون.
 - * رحلات «حر - خوف» إلى جنوب مصر.
 - * تشييد حصن سمنة وقمنة.
 - * دخول الإسكندر الأكبر مصر.

(ب) ما النتائج المترتبة على :

- (١) وصول عرب شبه الجزيرة العربية إلى ساحل أفريقيا الشرقي عبر عدة معابر
- (٢) إرسال الدعاة وعلماء الدين للقبائل الإفريقية؟

تذكر

الموقع الفلكي	موقع المكان بالنسبة لخطوط الطول ودوائر العرض.
الموقع الجغرافي	موقع المكان بالنسبة للأماكن الأخرى من بحار ومحيطات وقارات أو دول مجاورة.
حضارة	مجموع الإنتاج الثقافي مثل العادات والتقاليد والعلوم والفنون والقيم، والإنتاج المادي مثل القلاع والمباني والقصور، وهو ما يميز مجتمعا عن غيره
الاقتصاد الأزرق	استثمار الموارد المائية بشكل مستدام و القضاء على الفقر وتحقيق الاكتفاء الذاتي من الغذاء مع المحافظة على النظام البيئي.
الأخدود الإفريقي	مجموعة انكسارات طولية اتجاهاها العام من الجنوب إلى الشمال (تمتد شرق القارة المسافة ٥٦٠٠ كم تقريبا) ويُعد البحر الأحمر وخليجي عدن و العقبة جزءا منه
حوض النهر	جميع الأراضي التي تضم مجرى النهر وجميع روافده ومناابعه
النهر الدولي	النهر الذي يمتد مجراه وروافده في أكثر من دولة.
الأندوجو	تجمع إقليمي للدول المطلة على نهر النيل ولها مصالح مشتركة في مياهه



الاقتصاد الأخضر	الاقتصاد الصديق للبيئة الذي يستهدف تحقيق نمو اقتصادي مستدام مع الحفاظ على البيئة، وتحقيق العدالة الاجتماعية والحد من الفقر والبطالة.
نصوص الأهرام (متون الأهرام)	مجموعة نصوص دينية نقشت بالخط الهيروغليفي على جدران الحجرات الداخلية للأهرام.
عصر الاضمحلال	فترات زمنية في التاريخ المصري القديم سادت فيها البلاد حالة من ضعف سلطة الملك والحكومة المركزية، وانتشرت فيها الاضطرابات السياسية والاقتصادية
الهكسوس	مجموعة من القبائل التي جاءت من وسط آسيا.
إمبراطورية	دولة كبيرة تسيطر على مناطق وشعوب مختلفة تحت قيادة مركزية قوية، وتتشكل هذه الدولة عبر الفتوحات أو التحالفات وتضم ثقافات متعددة.
النظام البيئي	منطقة جغرافية متكاملة تتكون من مكونات حية وغير حية وهذه المكونات تتفاعل مع بعضها البعض وفق نظام دقيق للحفاظ على التوازن البيئي واستدامة الحياة فيه
التوازن البيئي	حالة من الاستقرار تحدث داخل النظم البيئية عبر التفاعل بين مكوناتها الحية وغير الحية مما يمنع حدوث تغييرات جذرية وغير طبيعية فيها.
الغابة	مساحة من الأرض تزيد عن خمسة آلاف متر مربع، وتنمو فيها أشجار بأطوال لا تقل عن خمسة أمتار
المدى الحراري السنوي	الفرق بين متوسط درجة الحرارة بالنسبة لأعلى شهور السنة وأدنى شهور السنة حرارة.
الرطوبة النسبية	نسبة كمية بخار الماء الموجودة في الهواء بالنسبة إلى كمية بخار الماء التي يستطيع الهواء أن يحملها
السافانا	عبارة عن غطاء نباتي كثيف من الحشائش تتداخل معها أشجار متنوعة تزداد كثافتها كلما اقتربنا من الغابات المدارية المطيرة.
الصحراء	منطقة تتسم بنقص أو ندرة في الأمطار والنبات الطبيعي والحيوان وفقر التربة.
النظام البيئي المالي	أي نظام يوجد في المسطحات المائية أو على هوامشها ويوجد به مكونات حية ومكونات غير حية تتفاعل مع بعضها البعض الاستدامة الحياة في النظام
الشعاب المرجانية	إفرازات لكائنات بحرية دقيقة أهمها حيوان المرجان
السبخات	مسطحات ملحية تتركز فوق تكوينات من الصلصال والطين وغالبا ما تغطي بقشور ملحية يتحكم في منسوبها مستوى الماء الجوي.
العصور الوسطى	الفترة الزمنية التي امتدت من القرن الخامس حتى القرن الخامس عشر الميلادي.
الدعاة	هم الأفراد الذين تلة وا قدراً من العلوم الدينية التي تؤهلهم لنشر الإسلام وتعاليمه بالطرق السلمية.
أروقة الأزهر الشريف	أماكن للدراسة والإعاشة الكاملة بالمجان (طعام وإقامة وكسوة ومرتبات وخدمات كثيرة) تخصص للطلاب الدارسين بالأزهر تكريما وراحة لهم وتقسم حسب مناطق الطلاب الوافدين.



السؤال الأول : اختر الإجابة الصحيحة

- | | | |
|---------------------------------|----------------------------------|---------------------------------------|
| ٣٩. كانوا | ٢٠. تقليل الواردات الغذائية | ١. التقدير |
| ٤٠. الاخلال بالنظام البيئي | ٢١. امور الدين | ٢. الجغرافيه |
| ٤١. اثيوبيا وجنوب السودان | ٢٢. الشماليه الشرقيه | ٣. الاداري |
| ٤٢. النيل الازرق | ٢٣. قارتين | ٤. تطوير النظم الدفاعيه لمملكه الحبشه |
| ٤٣. تحقيق العداله الاجتماعيه | ٢٤. سنوسرت الثالث | ٥. الدوله العباسيه |
| ٤٤. التطرف المناخي وزياده البخر | ٢٥. القوه العسكريه | ٦. اتخاذ عاصمه جديده |
| ٤٥. تعزيز التنسيق مع بقية الدول | ٢٦. الحفاظ على الممتلكات المصريه | ٧. امنمحات الاول |
| ٤٦. الكتابه | ٢٧. رمسيس الثاني | ٨. امنمحات الاول |
| ٤٧. نشاتها كمدينه تجاريه | ٢٨. الزراعه | ٩. الشرقيه |
| ٤٨. القاهره | ٢٩. نهر الكونغو | ١٠. الصراعات السياسيه |
| ٤٩. عصر دوله المماليك | ٣٠. الصناعه والسياحه | ١١. الحبشه |
| ٥٠. بلاد الحبشه | ٣١. اقتصادي | ١٢. هضبه شمال افريقيا |
| ٥١. الأقمشة | ٣٢. مصر | ١٣. الامطار الغزيره |
| ٥٢. مصر | ٣٣. الدينيه | ١٤. التكوينات البركانيه |
| ٥٣. عصر الخلفاء الراشدين | ٣٤. البعثات العلميه | ١٥. المحيط الهندي |
| ٥٤. مصر | ٣٥. عهد الدوله الامويه | ١٦. الوسط |
| ٥٥. طرابلس | ٣٦. الارتباطات العائليه | ١٧. الهضبه الجنوبيه |
| ٥٦. سببطله | ٣٧. عدم ملائمه المناخ | ١٨. شرق القاره |
| ٥٧. موسي بن نصير | ٣٨. فيكتوريا | ١٩. الشرق |
| ٥٨. الصومال وموريتانيا | | |

أسئلة التميز

اختر الإجابة الصحيحة

- | | | | |
|---------------------|-----------------------------------|-------------------------|-----------------------|
| (٤٣) أمنمحات الثالث | (٢٩) المطاط. | (١٥) عمرو بن العاص. | (١) جزر القمر. |
| (٤٤) الإقتصادية. | (٣٠) غانا. | (١٦) الروم | (٢) تنزانيا |
| (٤٥) أحمس. | (٣١) الغربي | (١٧) التغيرات المناخية. | (٣) دراكنزبرج |
| (٤٦) الجنوب للشمال | (٣٢) النظم البيئية للمياه العذبة. | (١٨) الغردقة | (٤) الجوف. |
| (٤٧) توليها الحكم. | (٣٣) تحتمس الثالث | (١٩) التلوث. | (٥) موزمبيق. |
| (٤٨). ريش النعام | (٣٤) نفرتاري. | (٢٠) البردويل. | (٦) تونس |
| (٤٩) شرق. | (٣٥) توت عنخ آمون | (٢١) موريتانيا | (٧) توبقال. |
| (٥٠) الأمزون | (٣٦) فينيقيا. | (٢٢) إفريقيا. | (٨) كاجيرا. |
| | (٣٧) خفرع. | (٢٣) ثلاثة. | (٩) الإخاء |
| | (٣٨) رع | (٢٤) نهر الأمزون | (١٠) شبه جزيرة سيناء. |
| | (٣٩) الجيزة. | (٢٥) علبة | (١١) أوغندا |
| | (٤٠) أوناس. | (٢٦) الإبل. | (١٢) الأمويين. |
| | (٤١) الحادية عشر | (٢٧) السافانا. | (١٣) الشتاء. |
| | (٤٢) القوة. | (٢٨) الصيف | (١٤) الخلفاء الراشدين |



السؤال الثاني : لمن تنسب الاعمال الاتية

١. الأمير هنري الملاح	١٣. السعدي.	٢٥. منتوحت الثاني	٣٧. رمسيس الثاني
٢. الملك ببي الثاني	١٤. الخديو اسماعيل	٢٦. امنمحات الأول	٣٨. امنمحات الثالث
٣. عبد الله بن أبي السد	١٥. إياح حتب	٢٧. سنوسرت الثالث	٣٩. منتوحتب الثاني
٤. الملك رمسيس الثاني	١٦. عمرو بن العاص	٢٨. سبك نفرو	٤٠. امنمحات الثالث
٥. امحوتب	١٧. عقبة بن نافع وموسي بن نصير	٢٩. كامس	٤١. امنمحات الأول
٦. امنمحات الثالث	١٨. الملك سنفرو	٣٠. إياح حتب	٤٢. سنوسرت الثالث
٧. كامس	١٩. سنفرو / خوفو	٣١. تحتمس الأول	٤٣. رمسيس الثالث
٨. الملك توت عنخ آمون	٢٠. أوسركاف	٣٢. رمسيس الثاني	٤٤. زوسر
٩. حتشبسوت	٢١. عثمان بن عفان	٣٣. سنوسرت الثالث	٤٥. خفرع
١٠. امنحتب الرابع (اخناتون)	٢٢. ابن بطوطة	٣٤. سبك نفرو	٤٦. أوسركاف
١١. عبد الملك بن مروان	٢٣. أوسركاف	٣٥. امنمحات الثالث	٤٧. الملك خوفو
١٢. محمد علي	٢٤. أوناس	٣٦. أحمس الأول	٤٨. امنمحات الأول
			٤٩. رمسيس الثالث

السؤال الثالث : ضع علامة ✓ أمام العبارة الصحيحة وعلامة ✗ أمام العبارة الخاطئة

١. (✗)	١٥. (✓)	٢٩. (✓)	٥٦. (✗)	٦٩. (✓)
٢. (✗)	١٦. (✗)	٣٠. (✓)	٥٧. (✗)	٧٠. (✗)
٣. (✓)	١٧. (✗)	٣١. (✓)	٥٨. (✓)	٧١. (✓)
٤. (✓)	١٨. (✓)	٣٢. (✓)	٥٩. (✗)	٧٢. (✓)
٥. (✓)	١٩. (✓)	٣٣. (✓)	٦٠. (✗)	٧٣. (✓)
٦. (✓)	٢٠. (✗)	٣٤. (✓)	٦١. (✓)	٧٤. (✗)
٧. (✗)	٢١. (✓)	٣٥. (✓)	٦٢. (✗)	٧٥. (✗)
٨. (✓)	٢٢. (✗)	٣٦. (✓)	٦٣. (✓)	٧٦. (✗)
٩. (✓)	٢٣. (✓)	٣٧. (✓)	٦٤. (✓)	٧٧. (✗)
١٠. (✓)	٢٤. (✓)	٣٨. (✓)	٦٥. (✓)	٧٨. (✓)
١١. (✗)	٢٥. (✗)	٣٩. (✓)	٦٦. (✗)	٧٩. (✗)
١٢. (✓)	٢٦. (✓)	٤٠. (✓)	٦٧. (✓)	٨٠. (✓)
١٣. (✗)	٢٧. (✗)	٤١. (✓)	٦٨. (✓)	٨١. (✗)
١٤. (✓)	٢٨. (✓)	٤٢. (✗)		



السؤال الرابع : بم تفسر

١. بسبب انخفاض كثافة النباتات في حشائش السافانا عن الغابات المدارية المطيرة..
٢. بسبب سقوط الأمطار الصيفية التي تختلف كميتها وفترة سقوطها من مكان لآخر.
٣. بسبب الفرق الواضح بين درجات الحرارة في الصيف ودرجات الحرارة في الشتاء..
٤. لأن يعيش بها حيوانات آكلة الحشائش مثل الفيل الإفريقي والغزلان والزرافات ووحيد القرن والنعام والجاموس البري والحمار الوحشي وحيوانات آكلة اللحوم كالأسود والنمور والضباع.
٥. بسبب : - تربية الماشية فيها والتي تعد ثروة برية غنية.. - استغلالها في إنتاج بعض المحاصيل كالقطن والذرة والبن وقصب السكر..
٦. بسبب سقوط الأمطار بغزارة في فصل الصيف.
٧. لأنها : - تعد مراعى طبيعية للحيوانات مثل الأغنام والماعز والخيل. تنتشر بها حرفة الصيد. - تربة صالحة لزراعة بعض المحاصيل مثل الحبوب الغذائية.
٨. لأن تربة الحشائش المعتدلة طينية سوداء اللون وخصبة وغنية بالمواد العضوية والمعدنية..
٩. بسبب غناها بالمواد العضوية والمعدنية..
١٠. لتنظيم وإدارة وتنمية مياه نهر النيل وعدم التسبب في ضرر والاستخدام المنصف والمناسب المياه النهر.
١١. بسبب ارتفاع الحرارة وندرة المياه وفقير التربة
١٢. بسبب تصارع الدول الاستعمارية عليها لنهب خيراتها و استغلال ثروتها فقاموا بتقسيم القارة لضمان السيطرة عليها
١٣. بسبب الطمي الذي نقلته المياه من هضبة الحبشة البركانية.
١٤. للتشاور والتعاون والتنسيق بين دول حوض النيل. والحفاظ على المصالح المشتركة بينهم
١٥. بسبب موقعها الجغرافي المتميز وتحكمها في الممرات المائية المهمة .
١٦. لتنظيم استخدام مياه الأنهار وتنميتها وحمايتها وتحقيق الانتفاع الأمثل والمستدام بها للأجيال الحالية والمقبلة.
١٧. بسبب ارتباط معظم الحضارات بأفريقيا بنهر النيل الذي ساعد في استقرار السكان على ضفافه والتواصل بين تلك الحضارات
١٨. غنية بالنباتات الطبيعية التي تربى عليها الأغنام والماعز وقيام الزراعة بها اعتمادا علي مياه الأمطار الشتوية
١٩. بسبب انخفاض كثافة النباتات في حشائش السافانا عن الغابات المدارية المطيرة.
٢٠. لاعتقادهم في قدسية الملك
٢١. تقديراً لمكانة الكاتب في المجتمع .
٢٢. لأنه يعد أول بناء حجري ضخيم في التاريخ .
٢٣. لأنه كان ملكا عظيماً عادلاً في رعيته ازدهرت مصر في عهده اجتماعياً وتجارياً وفنياً وعمرانياً .
٢٤. لتأمين الحدود الجنوبية لمصر .
٢٥. لاحتضار أخشاب الأرز
٢٦. بسبب ازدياد نفوذ كهنة الإله رع حتى استطاع كبرهم (أو سر كاف) الوصول للحكم .
٢٧. لحماية الملك في الحياة الآخرة .
٢٨. أمدتنا بالكثير من المعلومات عن المعتقدات الدينية للمصريين القدماء .
٢٩. لأن طرد الملك أحمس للهكسوس يعد نهاية عصر الإضمحلال الثاني وبداية لعصر الدولة الحديثة .
٣٠. لأن ملوكها كونوا أمباطورية عظيمة امتدت بين قارتين آسيا وأفريقيا من نهر الفرات شمال شرق الى الجندل الرابع جنوبا.



٣١. للحفاظ على النظام والاستقرار.
٣٢. لتأمين الحدود الجنوبية - حماية مصر من الأخطار
٣٣. لبسط نفوذه على فينيقيا - التمهيد لتكوين إمبراطورية مصرية .
٣٤. ليكون المعبد الرئيسي لمدينة طيبة .
٣٥. ليكونوا من اتباعه المخلصين والحفاظ على إمبراطوريته في تلك المناطق .
٣٦. لإشرافها على ممرات مانية مهمه مثل مضيق جبل طارق ومضيق باب المندب وقناة السويس.
٣٧. لانهاغنية بالثروات المعدنية التي تدخل في صناعات عديدة مثل ذهب فضه نحاس - جديد - فوسفات كما أنها تجذب السياح بمناظرها الطبيعية الخلابة ولممارسة الأنشطة السياحية
٣٨. لتوسيع الحصول على الطاقة الخضراء في عام ٢٠٣٠ للحفاظ على البيئة والتنوع البيولوجي
٣٩. السبب سقوط الأمطار عليها طوال العام.
٤٠. بسبب حدوث مجموعة انكسارات طولية
٤١. بسبب اقتراب جبال أطلس من ساحل البحر المتوسط .
٤٢. لتأمين رحلاتهم التجارية. من فينيقيا لإسبانيا
٤٣. بسبب موقعها الفلكي وامتدادها لأكثر من ٧٠ دائرة عرض
٤٤. غنية بالنباتات الطبيعية التي تربي عليها الأغنام والماعز وقيام الزراعة بها اعتماداً على الأمطار
٤٥. بسبب انخفاض كثافة النباتات في حشائش السافانا
٤٦. بسبب أمطارها الموسمية الصيفية.
٤٧. غنية يحقول الزراعية
٤٨. لانه ثنائي المنبع دائم وهو هضبة البحرات الاستوائية والمنبع الموسمي وهو هضبة الحبشة.
٤٩. بسبب اتساع الإمبراطورية المصرية وتطور جميع المجالات
٥٠. لانه هزم شعوب البحر المتوسط وتصدي لليبيين واصلح الإدارة واهتم بالتجارة والعمارة وأعاد تنظيم الجيش
٥١. لتأمين التجارة
٥٢. بسبب الازدهار الحضاري لمصر وتطورها في جميع المجالات وأصبحت مركز حضاري متقدم .
٥٣. لأن مصر في عهده أصبحت دولة قوية مستقرة متقدمة في جميع المجالات الإقتصادية والفنية والأدبية .
٥٤. بسبب سيطرة الملك الكوشي على معظم أراضي مصر وتكوين الأسرة ال ٢٥ .
٥٥. يعد العصر العتيق عصر البناء والتأسيس لأنه بدأ بتوحيد الملك مينا لمملكتي الشمال والجنوب وأسس عاصمة لمصر من نفر
٥٦. بسبب موقعها الملكي حيث تقع ثلثا مساحته في النصف الشمال والثلث الآخر في النصف الجنوبي
٥٧. بسبب امتداد مجراه وروافده داخل ١١ دولة
٥٨. لان اقتصاد صديق للبيئة يهدف لتحقيق نمو اقتصادي مستدام والحفاظ على البيئة وتحقيق العدالة الاجتماعية والحد من الفقر والبطالة .
٥٩. لان الاقتصاد الأزرق يعنى استثمار الموارد المائية (البحار المحيطات). بشكل مستدام لتحقيق التنمية المستدامة مما ساعد في القضاء على الفقر و البطالة والجوع وتحقيق الاكتفاء الذاتي من الغذاء مع الحفاظ على البيئة
٦٠. بسبب عوامل طبيعية مثل الموقع المتميز والثروات الطبيعية المتعددة مثل المياه العذبة والنباتات الطبيعية والثروة الحيوانية والمعادن. ومصادر الطاقة و عوامل بشرية مثل سكان افريقيا الذي استطاعوا استثمار تلك الدوات لإنشاء حضارات عريقة منذ الاف السنين خاصة على نهر النيل
٦١. بسبب كثرة النظم النهرية وزيادة الأمطار.
٦٢. للدراسة الدينية والعلمية



٦٣. التامين التجارة والملاحة البحرية.
٦٤. بعد مصدر جذب سياحي لكون الجليد فوق قمته وممارسة السياح العديد من الأنشطة.
٦٥. بسبب موقعها الإستراتيجي في منتصف طريق التجارة بين شرق وغرب البحر المتوسط.
٦٦. الحفاظ على التوازن البيئي والتنوع البيولوجي - مصدر رئيسي لغذاء الانسان - تستخرج منها الطحالب التي تدخل في صناعة الأدوية و مواد التجميل والأقمشة - تحتوي على مصادر الطاقة الحفرية والطاقة الكهرومائية - تحتوي على الاملاح والمعادن توفر فرص عمل في النقل المائي وصيد الأسماك والسياحة
٦٧. يمد النيل بمياهه ويساعده على الجريان تجاه الشمال حتى مصبه في مصر
٦٨. بسبب عوامل طبيعية مثل التغيرات المناخية. وعوامل بشرية مثل الصيد الجائر وإزالة مساحات منها للتوسع العمراني والسياحي
٦٩. بسبب موقعها الجغرافي المميز وتأثيرها الفكري والثقافي والاقتصادي وتركز السلطة السياسية والدينية للعالم الإسلامي فيها خلال تلك الفترة لان مع أصبحت مسئولة عن حماية الأماكن المقدسة والحرمين الشريفين خلال حكم العباسيين.
٧٠. ليكون مسئولا عن الكنيسة الحبشية لانها كانت تابعة للكنيسة المصرية
٧١. للاعتراف بشرعيتهم في حكم البلاد التي تولوا إدارة شئونها.
٧٢. لاستشارتهم في شئونهم الدينية والسياسية.
٧٣. بسبب استعانة الحبشة بالمماليك في تطوير الجوانب الإدارية حيث نظموا جباية الأموال (جمع الضرائب) وأنشاء ديوان خاص بذلك ووضعوا القوانين لحماية أحوال الدولة
٧٤. بسبب دخول الاسلام
٧٥. بسبب خروج أمراء اسيا بقيادة امير قادش على الحكم المصري
٧٦. ليعلمهم العادات والتقاليد المصرية ليشبوا على حبها والولاء لها وإن عادوا وحكموا بلادهم يصبحوا من اتباعه المخلصين .
٧٧. لاكتشاف مقبرته كاملة عام ١٩٢٢ في وادي الملوك في البر الغربي بالاقصر - احتوت على كنوز اثرية لا مثيل لها تعبر عن تقدم الفنون بمصر القديمة .
٧٨. بسبب ضعف الملوك بعد الملك رمسيس الثالث وتدخل كهنة الاله آمون بشئون الحكم
٧٩. وصلت مصر في عهده لقمة مجدها وعمل على استعادة مصر لسيادتها على بلاد الشام وبعض جزر البحر المتوسط
٨٠. رجل حرب لأنه هزم الحيثيين في معركة قادش - رجل السلام لأنه أبرم أول معاهدة سلام في التاريخ .
٨١. بسبب تزايد نفوذ الحيثيين في بلاد الشام وتحالف ملكهم مع أمراء المدن السورية ضد مصر
٨٢. لأن ملوكها نجحوا في استعادة استقلال مصر ومد نفوذها بإفريقيا
٨٣. استعادة الغابات المتدهورة . إعادة تأهيل ٢٦٠ مليون فدان بحلول ٢٠٣٠
٨٤. بسبب الطفوح البركانية
٨٥. لمرور دائرة الاستواء بمنطقة هذه المناخ مما أدى لزيادة البحر بالإضافة لكثرة المستنقعات
٨٦. غنية بالثروات المعدنية ومصادر الطاقة
٨٧. حيث تمتد بين دائرتي عرض ١٠ و ١٨ شمال وجنوب دائرة الإستواء. وترتفع الحرارة ارتفاعا ملحوظا وتكون أعلى الغابات من نظام الغابات المدارية بسبب انخفاض كثافة النباتات
٨٨. للوصول للهند بالدوران حول افريقيا ونهب خيرات افريقيا واستغلال ثرواتها
٨٩. تعمل على حماية الشواطئ من التآكل والتعرية. تنقي الهواء من الكربون. مناطق جذب سياحي



٩٠. تنقية الهواء من الكربون وتقليل الاحتباس الحراري تنقية المياه وتقليل كمية الرواسب المتجهة إلى البحيرات.. تعد سداً طبيعياً ضد تأثيرات الفيضانات والجفاف.
٩١. لأنها تحتوي على النفط و الغاز الطبيعي وتعد بيئة مثالية لإنتاج الطاقة الشمسية لتلقيها كميات كبيرة من أشعة الشمس طوال العام.
٩٢. حيث قام الملك أمنمحات الثالث بإرسال ٢٤ بعثة لشبه جزيرة سيناء لاستخراج المعادن وقطع الأحجار .
٩٣. لتخزين مياه الفيضانات واستخدامها وقت الجفاف وحماية البلاد من المجاعة .- التوسع في الزراعة .
٩٤. لمراقبة ارتفاع منسوب مياه النيل عند الجندل الثاني
٩٥. بسبب ضعف الملوك وخاصة بعد الملك أمنمحات الثالث. - وزيادة الصراعات بين حكام الاقاليم على السلطة .
٩٦. لأن الهكسوس استولوا بالقوة على البلاد ودمروا المعابد و فرضوا عليهم الكثير من الضرائب.
٩٧. لأن ملوكها نظموا أمور مملكتهم في طيبة وبثوا الشعور الوطني وروح المقاومة لدى المصريين لمواجهة الهكسوس .
٩٨. لإجبار أميرها على قطع الامدادات التي كانت تصل للهكسوس عن طريق نهر النيل .
٩٩. لتخزين وتوزيع السلع المستوردة والمصدرة .
١٠٠. لتكون في موقع متوسط بين الوجهين ويسيطر على كل انحاء البلاد .
١٠١. لحماية مصر من الغارات الليبية.
١٠٢. لتأمين حدود مصر الجنوبية.

السؤال الخامس : ما النتائج المترتبة علي

١. اقبال الأفارقة على تعلم اللغة العربية. لإقامة الشعائر الإسلامية.
٢. تكوين مركز تجاري قوي في شرق افريقيا وحلقة وصل بين أوروبا والشرق وملتقى العديد من الطرق التجارية.
٣. قيام الزراعة ونشأة الحضارات القديمة باثيوبيا.
٤. انخفاض اعداد الكائنات المرتبطة بها كما حدث في بحيرة فيكتوريا التي شهدت أكبر انقراض جماعي للفقاريات
٥. أدى إلى استدامة ووصوله لمصر.
٦. أدى إلى حدوث انكسارات حولية تتجه بشكل عام من الجنوب للشمال وتكون البحر الأحمر وخليجي عدن والعقبة
٧. أصبحت مدينة قوية واستقلت عن فينيقيا وكونت مملكة مستقلة وحكمت معظم ساحل شمال افريقيا وبعض جزر البحر المتوسط
٨. ندرة النبات الطبيعي بها وانعدامه في بعض المناطق
٩. تحول الحياة القبلية القائمة على الحروب والعصبية إلى نظام دولة وتطور الحياة المستويات حضارية
١٠. ارسل البنائين للساحل الشرقي لافريقيا لبناء المدن هناك.
١١. تنوع المناخ وتنوع النباتات الطبيعية والحيوانات والمحاصيل الزراعية
١٢. تدمير الشعاب المرجانية
١٣. تولت مع مسئولية حماية الاماكن المقدسة والحرمين الشريفين خلال حكم العباسيين وجرح حكام الدول الإسلامية على الحصول على تأييد مصر السياسي للاعتراف بشرعيتهم في حكم البلاد التي قطوا إدارة شئونها .
١٤. تدهور الحياة النباتية - تأكل التربة - تعرض العديد من الحيوانات والطيور لخطر الانقراض
١٥. تقسيم افريقيا لنهب خيراتها واستغلال ثرواتها وجعلها تعاني من الفقر رغم امتلاكها لثروات متعددة
١٦. تعرف الحجاج الأفارقة على أهل مصر ونقل العلوم الدينية عنهم
١٧. دعم الروابط بين الآباء والأبناء ومنح الأم حقد حضانة الأطفال وأعطى المرأة حق الميراث ومنع التفرقة العنصرية وحرم شرب الخمر ودعا للعمل الخيري التعاوني مما أدى لبناء اسر متماسكة ومجتمعات قوية
١٨. صنفت كم منبع دائم لنهر النيل.



١٩. أصبحت بيئة مناسبة لوجود الأسماك و سرطان البحر وغيرها
٢٠. وضح حقوق الزوجين وواجباتها وتنظيم العلاقات بينهما ومنح المرأة حق اختيار الزوج وحدد عدد الزوجات
٢١. ظهور نهضة ثقافية في البلاد الافريقية وانتشار الاسلام بها
٢٢. نشوب الحرب بينه وبين حاكم الروم وانتهت بانتصار المسلمين وفتح سببيلة ومهد الطريق أمام المسلمين لفتح مدن وحصون أخرى شمال إفريقيا في عصر الدولة الأموية تحت قيادة عقبة بن نافع وموسي بن نصير
٢٣. تكوين السهول الفيضية الخفية الصالحة للزراعة.
٢٤. زيادة فيضانات نهر النيل الاستوائية وارتفاع حرارتها مما أدى الزيادة التبخر مما أدى لقلة مياهها
٢٥. توليد الطاقة الكهرومائية وتحقيق التنمية المستدامة لمياه النهر
٢٦. ندرة النبات الطبيعي أو انعدامه وبالتالي يقل الغناء الذي تحتاجه الكائنات الحية بهذا النظام وتهديد العديد منه بخطر الانقراض مثل طائر الخباري والغزالي المصري
٢٧. انتهاء العصر المتأخر وبداية مرحلة جديدة من تاريخ مصر .
٢٨. أصبحت مركزاً حضارياً فأصبح هناك تأثير متبادل بينها وبين الحضارات .
٢٩. تعرضت للانقسام والغارات الخارجية - توقف عجله البناء والتطور الحضاري
٣٠. أعادت للبلاد وحدتها .. بداية عصر الدولة الوسطى
٣١. زيادة حركة التجاره بين مصر وجيرانها
٣٢. حمايه البلاد من المجاعة - التوسع في الزراعة
٣٣. تعرض البلاد للاطماع الخارجية - وقوعها تحت سيطره الهكسوس انتهاء عصر الدولة الوسطى
٣٤. استسلام امراء اسيا للملك تحتمس الثالث
٣٥. خروج الملك رمسيس الثاني لمواجهةهم في قادش وانتصر عليه على جيش الحيثيين كما اضطر ملكهم لطلب الصلح وتم عقد اول معاهدة سلام بالتاريخ
٣٦. سيطره الملك الكوشي على معظم ارض مصر وكون الاسره ال ٢٥

السؤال السادس : دلل

١. استعانوا ببعض المماليك لتعليمهم فنون الحرب وتصنيع الأسلحة والرمي بالسلام والرمح والضرب بالسيف .
٢. حيث يوجد بها جبال مثل جبل العوينات ومنخفضات مثل منخفض القطارة بمصر و واحات مثل واحة الجوف بليبيا وصحراء مثل الصحراء الكبرى أكبر صحراء بالعالم.
٣. حيث أعلنت مصر جميع مناطق المانجروف محميات طبيعية مثل محمية نيق وعلبة وحماطة
٤. حافظ الإسلام على العادات الطيبة بافريقيا والتي لا تتنافى مع الاسلام مثل إكرام الضيف ومساعدة المحتاج وغير العادات. السلبية مما ساهم في إصلاح المجتمعات الافريقية .
٥. قامت مصر بالعديد من المشروعات التي كان الهدف منها تحقيق التنمية المستدامة لدول حوض النيل مثل انشاء خزان سنار على النيل الأزرق لصالح السودان وانشاء سد أوين في اوغندا ودفع تكاليف إنشاء خزان جبل الأولياء بالسودان لتوليد الكافة الكهربائية وتطهير بحيرة فيكتوريا وكيوجا وحفر عشرات الآبار بكينيا وانشاء مركز للبحوث المائية في تنزانيا
٦. لأنها تعد حاجزا ضد تأثيرات الفيضانات والجفاف
٧. حيث نظم المماليك طرق جبابه الأموال وأنشاء ديوان خاص بذلك ووضعوا القوانين التي تساعد على حماية أموال الدولة .
٨. كان حاكم مصر يكلف مبعوثي الكنيسة المصرية ببلاد الحبشة مهمة الإشراف على مصالح المسلمين الدينية هناك.
٩. الجانب الايجابي انها بسبب الامطار الدائمة انها اصبحت المنبع الدائم لنهر النيل الجانب السلبي انه مرور دائرة الاستواء بها ارتفعت الحرارة وزاد البخار والمستنقعات فقلت المياه التي تصل لمصر منها



١٠. لأنه أمد مصر بالتربة الخصبة والمياه العذبة فعرف المصري الزراعة والاستقرار وتربية الحيوانات ونشأت القرى ثم المدن ثم الأقاليم ثم توحدت البلاد وتكوين الاسرات الحاكمة
١١. حيث يأتي حوض نهر الكونغو بالمرتبة الثانية عالميا بعد الامازون من حيث الكائنات الحية التي تعيش فيه
١٢. حيث تربي فيها الماشية والتي تعد ثروة حيوانية برية ويتم بها انتاج المحاصيل مثل الذرة والبن وقصب السكر والقطن وبذلك أصبحت توفر العديد من المواد الخام الحيوانية والزراعية اللازمة للصناعة.
١٣. حيث تتمثل في : - أخطار طبيعية ، مثل : زيادة الأملاح في التربة وتجريفها. التعرض لموجات تصحر. - أخطار بشرية، مثل : الرعى والصيد الجائر. تجريف التربة. سوء إدارة أنشطة التعدين. التعرض لموجات جفاف. حدوث الفيضانات.
١٤. حيث يشغل : - مساحة صغيرة في إقليم الفلد في دولتي جنوب إفريقيا وليسوتو. - مساحة أقل في شمال قارة إفريقيا بين نظام غابات البحر المتوسط في الشمال ونظام الصحاري الحارة في الجنوب.
١٥. حيث : في فصل الصيف : ترتفع درجات الحرارة نهارًا لتزيد على ٤٠ مئوية وتسجل في بعض الأيام أعلى من ٥٠ مئوية، بينما تنخفض ليلا إلى نحو ٢٥ مئوية. في فصل الشتاء : يتسم النهار بالدفء والليل بالبرودة، وتصل درجات الحرارة في بعض المناطق الداخلية في الشتاء إلى الصفر المئوي.
١٦. حيث : - تمتد جذور بعضها إلى أعماق كبيرة ولمسافات واسعة تحت السطح لتصل إلى المياه الجوفية. - البعض الآخر صغير الأوراق حتى تقلل من النتح ، وتستطيع أن تخزن كمية من المياه في سيقانها.
١٧. لأنه اهتم بالاحوال الداخلية للبلاد اقام المعابد والمسلات اتبع سياسة سليمة مع امراء آسيا
١٨. بالبناء والتعمير واصلاح ما تم هدمه من معابد خلال فتره الهكسوس
١٩. لأنه يعد طرد الملك أحمس للهكسوس نهاية عصر الإضمحلال الثاني وبداية عصر الدولة الحديثة .
٢٠. اتسمت بالصراعات والحروب ففي الاسرة ال ٢٤ سيطر الكوشين على مصر واسسوا الاسرة ٢٥ والاسرة ال ٢٦ نجح ملوكها في استعادة استقلال مصر

السؤال السابع : ما العلاقة

١. توفر التنظيم البيئية المائية فرص عمل في مجالات النقل المائي وصيد الأسماك واستخراج مصادر الطاقة والسياحة
٢. حيث كان لاتخاذ القاهرة مركز الخلافة العباسية بعد سقوطها في بغداد وكون القاهرة مقر لحكم المماليك كان له أثراً كبيراً في توطيد العلاقات السياسية بن مصر والدولة الإسلامية
٣. استفاد البرتغاليون مما كتبه العرب عن افريقيا في محاولاتهم لاكتشاف إفريقيا في عهد الأمير هنري الملاح
٤. الاقتصاد الأزرق يعتمد على استثمار الموارد المائية بشكل مستدام لتحقيق التنمية الاقتصادية والقضاء على الفقر.
٥. أقامت حضارة كوش علاقات تجارية وثقافية مع مصر مما أدى لتبادل السلع والثقافة مثل بهاء الاهرامات والتأثر بالمعتقدات الدينية المصرية ، كما أن الحضارتين قامتتا على ضفاف نهر النيل
٦. كان نهر النيل أحد عوامل : قيام بعض الحضارات القديمة على صفامة لأنه أمدهم . بالتربة الخصبة والمياه العذبة. مثل الحضارة المصرية القديمة وحضارة كوشي وحضارة أكسوم
٧. ارسل محمد على رحلات لاكتشاف منابع النيل فاكتشفوا النيل الأبيض ورسم خريطة للنيل في جنوب السودان
٨. النباتات الموجودة بها تمتص الكربون وتبطئ من الاحتباس الحراري
٩. تستخدم التكنولوجيا الحديثة في رسم الخرائط ورصد التغير بالنظم البيئية واعادة تدوير النفايات وانتاج الطاقة النظيفة وبناء المدن الذكية.
١٠. تعمل النباتات الموجودة في الأراضي الرطبة العذبة علي امتصاص كميات كبيرة من ثاني أكسيد الكربون وانتاج الاكسجين مما يقلل من الاحتباس الحراري



السؤال الثامن : قارن بين كلاً من

التربة الحمراء	التربة السوداء
غنية بأكسيد الحديد	تربة خصبة لارتفاع نسبة المواد العضوية
التربة البيضاء	التربة البنية
ترتفع بها نسبة السيليكا و المواد الجيرية	ترتفع بها نسبة المواد العضوية غير مكتملة التحلل
المنايع الموسمية	المنايع الدائمة
نهر السوبات و النيل الأزرق و نهر عطيرة	نهر كاجيرا
الشعاب المرجانية	نظام المانجروف
*توجد في معظم السواحل الشرقية لقارة أفريقيا تنمو في : • سواحل جزيرة مدغشقر • سواحل جزير القمر • سواحل البحر الأحمر في مصر خاصة منطقة الغردقة و محمية رأس محمد و منطقة دهب	تنتشر في أفريقيا في السواحل الغربية عن السواحل الشرقية تنمو في : • سواحل البحر الأحمر • سواحل جزيرة مدغشقر • مساحات صغيرة على سواحل خليج العقبة

السؤال التاسع : رتب

- (١) (١) تأسيس مدينة من - نفر، عاصمة لمصر.
- (٢) ثورة المصريين في أواخر عهد الملك بيبي الثاني.
- (٣) بناء سد اللاهون
- (٤) كفاح حكام مصر ضد الهكسوس.
- (٥) هزيمة شعوب البحر المتوسط على يد رمسيس الثالث. (٦) سيطرة الكوشيين على معظم مصر.
- (٢) (١) هجرة المسلمين إلى الحبشة. (٢) فتح مصر.
- (٣) (٣) فتح طرابلس. (٤) فتح إفريقية
- (٣) (١) حفر قناة سيزوستريس. (٢) بناء سد اللاهون
- (٣) معركة مجدو (٤) اكتشاف مقبرة توت عنخ آمون
- (٤) (١) إنشاء حصني سمنا وقمنة (٢) غزو الهكسوس مصر.
- (٣) هزيمة أمير قادش (٤) بناء معبد أبيدوس.
- (٥) (١) بناء هرم زوسر المدرج (٢) نقل العاصمة إلى إيثيت تاوى.
- (٣) دعوة إخناتون الدينية (٤) معركة قادش.



(٦)(١) الوحدة التاريخية لمصر (٢) بناء الهرم الأوسط.
(٣) إرسال رحلة بحرية لبلاد بونت (٤) عقد معاهدة سلام مع الحيثيين

(٧)(١) بناء الهرم الأكبر (٢) نحت تمثال أبو الهول.
(٣) تأسيس الأسرة الثانية عشرة (٤) الدعوة لعبادة إله واحد

(٨)(١) توحيد مملكتي الشمال و الجنوب (٢) نحت تمثال أبو الهول
(٣) وصول حدود مصر للجندل الثاني (٤) اندلاع معركة مجدو

(٩)(١) رحلة نخاو للدوران حول إفريقيا (٢) إنشاء جامع سنكورة
(٣) اكتشاف منابع النيل الأبيض (٤) نشأة منظمة الأندوجو

(١٠)(١) تأسيس الأسرة الثانية عشرة (٢) غزو الإسكندر المصري
(٣) فتح سببيلة (٤) اكتشاف النيل الأبيض

(١١)(١) بناء مدينة «من - نفر» (٢) بناء الهرم المدرج
(٣) دخول الإسكندر الأكبر مصر (٤) اكتشاف مقبرة توت عنخ آمون

(١٢)(١) بناء مدينة (من - نفر) (٢) تدوين نصوص الأهرام
(٣) معركة قادش (٤) تأسيس الكوشيين للأسرة الـ ٢٥

(١٣)(١) توحيد مملكتي الشمال والجنوب (٢) نحت تمثال أبو الهول
(٣) حفر قناة سيزو ستريس (٤) طرد الهكسوس من مصر (٥) إبرام أول معاهدة سلام في التاريخ

(١٤)(١) تأسيس مدينة (من - نفر) (٢) تولى كهنة إله الشمس (رع) حكم مصر
(٣) إنشاء حسنى قمنة وسمنة (٤) تولى سبك نفرو الخكم

(١٥) (١) بناء الهرم الأكبر (٢) حفر قناة سيزو ستريس
(٣) طرد الهكسوس من مصر (٤) عقد أول معاهدة سلام مع الحيثيين

(١٦)(١) تشييد هرم زوسر المدرج (٢) تشييد الهرم الأكبر (٣) بناء معابد الشمس في أبو صير
(٤) تولى الملكة سبك نفرو حكم مصر (٥) الدعوة لعبادة الإله أتون

(١٧) (١) تأسيس مدينة من نفر (٢) بناء معابدا لشمس في أبو صير
(٣) بناء حصن سمنا وقمنا (٤) بناء معبد أبيدوس

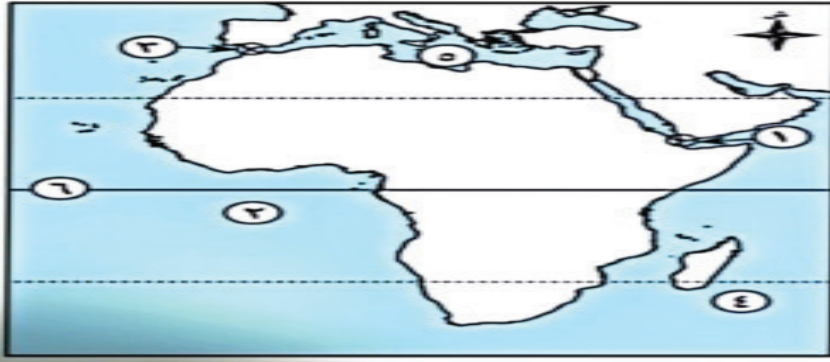


السؤال العاشر : ماذا يحدث اذا

١. لم تصبح المنبع الدائم لنهر النيل ولم يصبح نهر النيل دائم الجريان وثنائي المنبع.
٢. لن تتكون بعض الظواهرات التضاريسية مثل البحر الأحمر وخليجي عدن والعقبة.
٣. سيؤدي إلى حدوث خسائر اقتصادية كبيرة مثل تدهور الإنتاج الزراعي والحيواني بالقارة
٤. قد تواجه الدول الواقعة على ضفاف النيل صعوبات في إدارة مواردها المائية مما يؤثر على توفير المياه الصالحة للشرب والري والكهرباء وإعاقة التنمية الاقتصادية.
٥. سيؤدي للصراع بينهم على مياه النيل وسعى كل دولة لتحقيق مصالحها دون النظر لمصالح الدول الأعضاء
٦. أصبحت قارة غنية لا تعاني من الفقر أو البطالة

السؤال الحادي عشر : الخرائط

١ - لاحظ خريطة أفريقيا ثم أكتب مدلول الأرقام عليها



١. مضيق.....باب المندب
٢. المحيط.....الأطلسي
٣. مضيق.....جبل طارق
٤. المحيط.....الهندي
٥. البحر.....المتوسط
٦. دائرة.....الإستواء

٢- لاحظ خريطة أفريقيا ثم أكتب مدلول الأرقام عليها



١. حشائش.....الإستبس
 ٢. أحد الأنظمة البيئية.....نظام الصحاري الحارة
 ٣. المحيط.....الهندي
 ٤. نظام حشائش.....السافانا
 ٥. البحر.....المتوسط
- حدد أحد الأخطار التي يتعرض لها نظام حشائش السافانا ونظام الإستبس ثم اقترح بعض الحلول لمواجهتها؟

الخطر هو تدهور التربة والحل سن القوانين للحد من الأنشطة البشرية مثل الرعي والزراعة والتي تؤدي إلى تدهور التربة



٣- لاحظ الخريطة ثم أكتب مدلول الأرقام عليها



١. غاباتمدراية مطيرة

٢. مدار.....السيرطان

٣. دائرة.....الإستواء

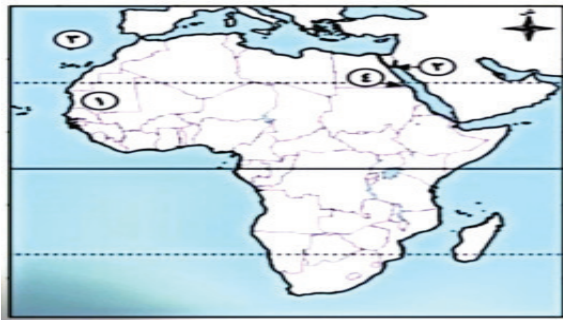
٤. غابات.....البحر المتوسط

٥. المحيط.....الأطلسي

٦. جزيرة.....مدغشقر

- ما مقترحاتك للاستفادة من نظام الغابات المدارية المطيرة لتحقيق رفاهية قارتنا الإفريقية؟
باب المنذب

٤- لاحظ خريطة أفريقيا ثم أكتب مدلول الأرقام عليها



١. محمية تراث عالمي.....المحمية الوطنية لحوض أركين

٢. محمية تنتشر بها الشعاب المرجانية.....رأس محمد

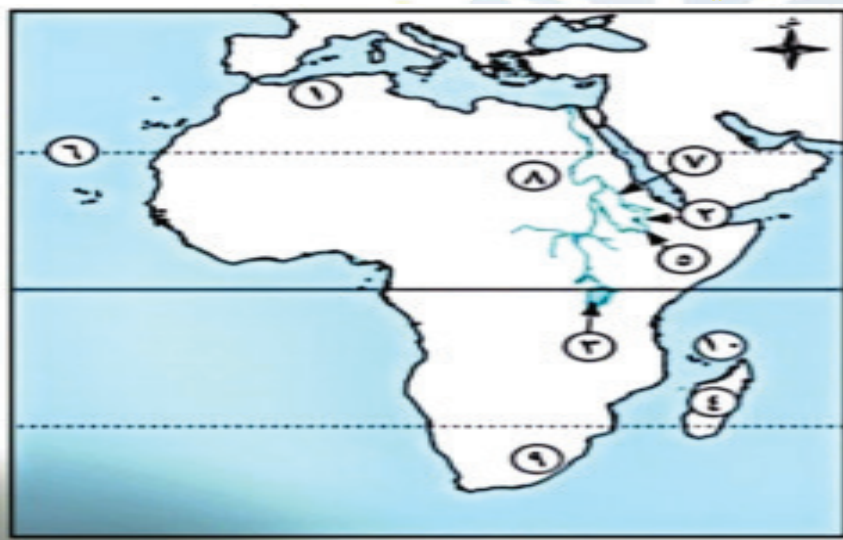
٣. المحيط.....الأطلسي

٤. محمية تتميز بوجود أشجار المانجروف.....جبل غلبه

- حدد أحد الأخطار التي تواجه النظم البيئية للمياه العذبة في إفريقيا . ثم اقترح بعض الحلول لمواجهتها؟

التغيرات المناخية حلها التوسع في استخدام الطاقة النظيفة والصيد الجائر والتلوث والحل سن القوانين للحد من هذه الأنشطة

٥ - أكتب ما يشير اليه مدلول الأرقام الموقعة علي الخريطة



١. جبال.....جبال أطلس

٢. هضبة.....الحيشة

٣. بحيرة.....فيكتوريا

٤. جزيرة.....مدغشقر

٥. النيل.....الأزرق

٦. مدار.....السيرطان

٧. نهر.....عطية

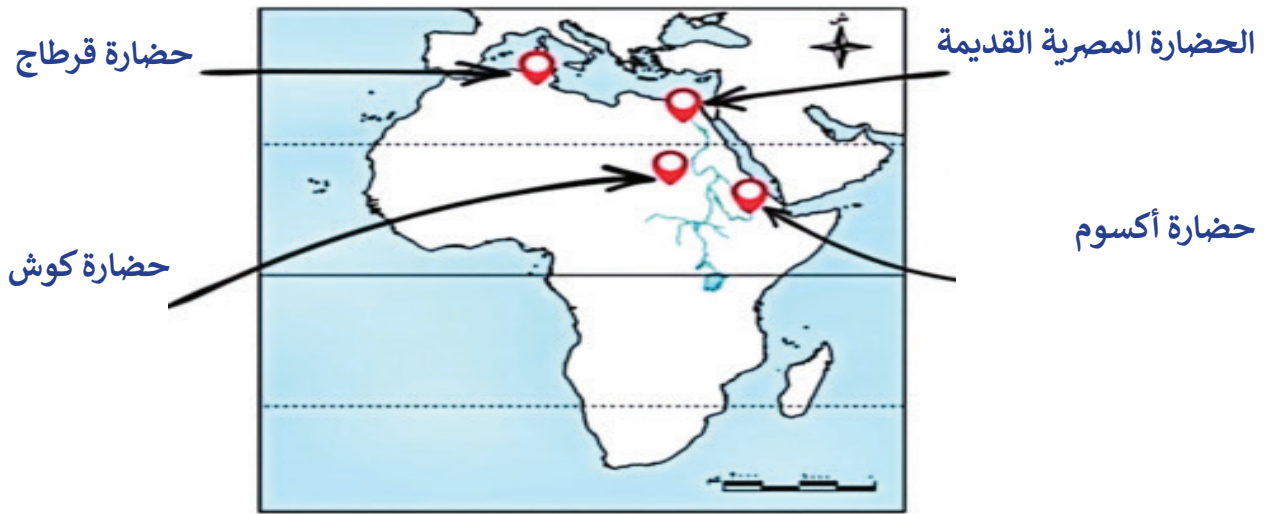
٨. حضارة.....كوش

٩. جبال.....دراكنزبرج

١٠. جزر.....القمر



٦- حدد أسماء وأماكن بعض الحضارات التي قامت في أفريقيا

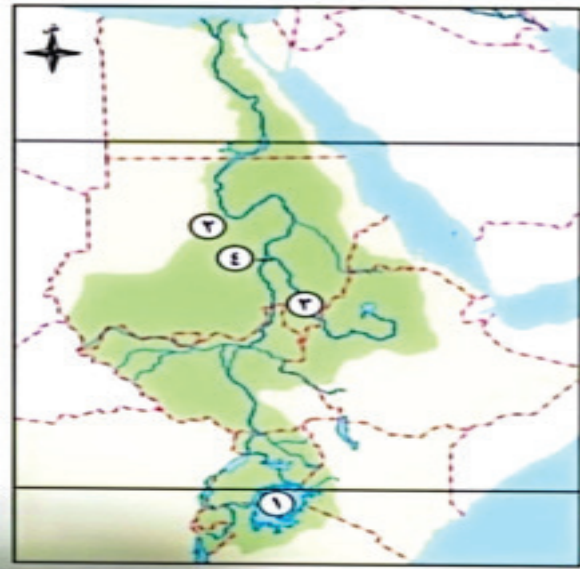


٧- لاحظ خريطة أفريقيا ثم أكتب مدلول الأرقام عليها



١. بحيرة فيكتوريا
٢. مضيق موزمبيق
٣. مضيق جبل طارق
٤. جبل كلمنجارو
٥. نظام غابات البحر المتوسط
٦. نظام حشائش السافانا
٧. نظام الغابات المدارية المطيرة
٨. صحراء كلهاري

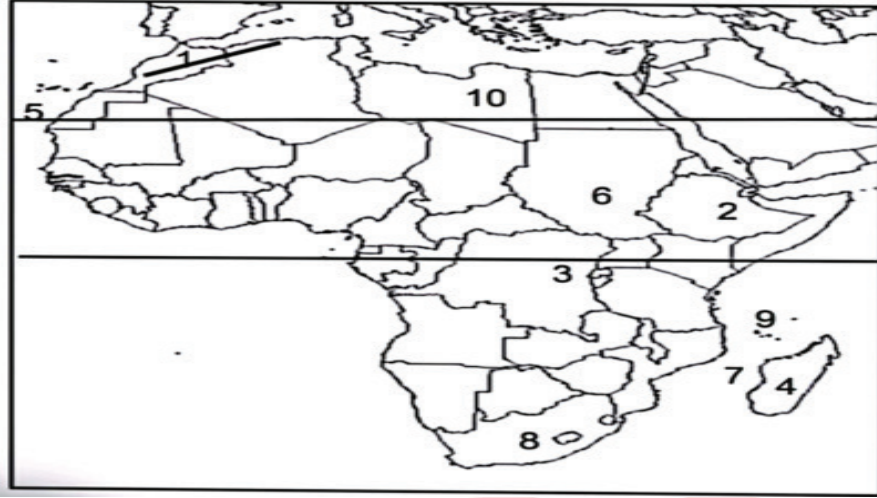
٨- لاحظ خريطة حوض نهر النيل ثم أكتب مدلول الأرقام



١. بحيرة فيكتوريا
٢. دولة قامت فيها حضارة كوش هي السودان
٣. النيل الأزرق
٤. خزان جبل الأولياء

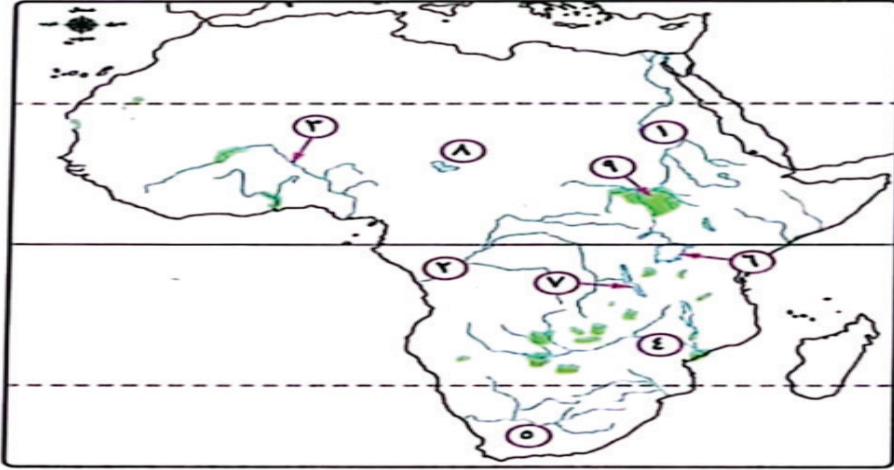


٩ - أكتب ما يشير اليه مدلول الأرقام الموقعة علي الخريطة



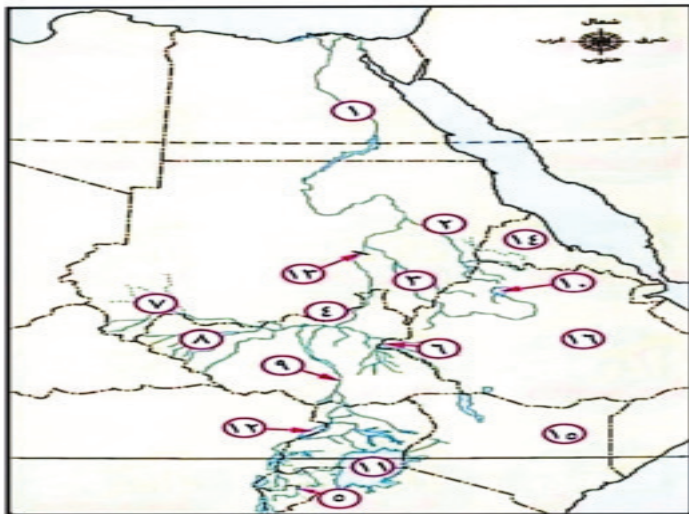
١. جبال الأطلس
٢. هضبة الحبشة
٣. بحيرة فيكتوريا
٤. جزيرة مدغشقر
٥. مدار السرطان
٦. حضارة كوش
٧. مضيق موزمبيق
٨. جبال دراكنزبرج
٩. جزر القمر
١٠. واحة الكفرة

١٠ - أكتب ما يشير اليه مدلول الأرقام الموقعة علي الخريطة



١. نهر النيل
٢. نهر الكونغو
٣. نهر النيجر
٤. نهر الزمبيري
٥. نهر الأورانج
٦. بحيرة فيكتوريا
٧. بحيرة تنجانيقا
٨. بحيرة تشاد
٩. مستنقعات السد في جنوب السودان

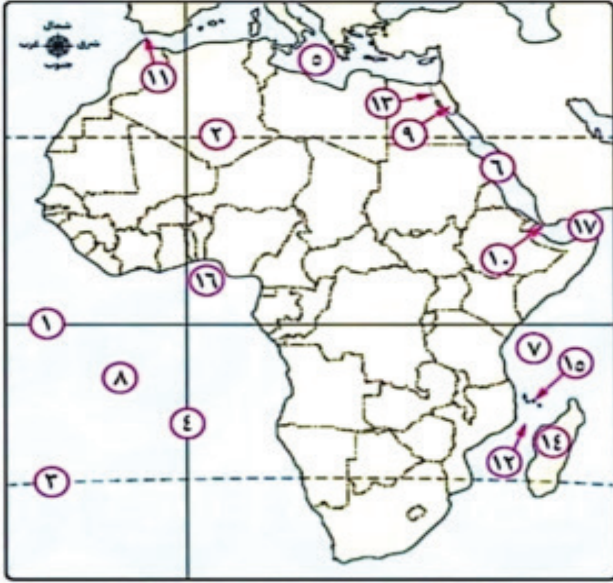
١١ - أكتب ما يشير اليه مدلول الأرقام الموقعة علي الخريطة



١. نهر النيل
٢. نهر عطبرة
٣. النيل الأزرق
٤. النيل الأبيض
٥. نهر كاجيرا
٦. نهر السوينا
٧. بحر العرب
٨. بحر الغزال
٩. بحر الجبل
١٠. بحيرة تانا
١١. بحيرة فيكتوريا
١٢. بحيرة ألبرت
١٣. خزان جبل الأولياء
١٤. دولة إرتريا
١٥. دولة كينيا
١٦. دولة إثيوبيا

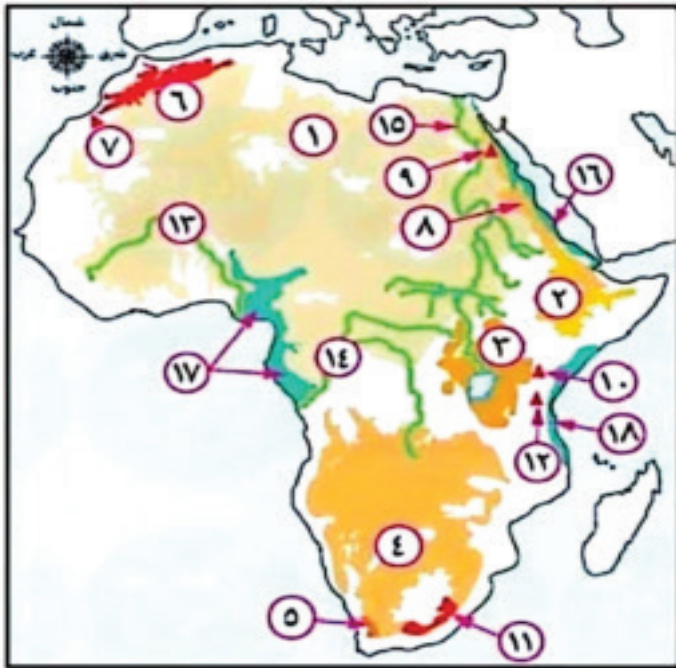


١٢ - أكتب ما يشير اليه مدلول الأرقام الموقعة علي الخريطة



- | | |
|----------------------------|-------------------------------|
| ١. شبه جزيرة...سیناء..... | ١. دائرة...الإستواء..... |
| ١٠. مضيق...باب المندب..... | ٢. مدار...السرطان..... |
| ١١. مضيق...جبل طارق..... | ٣. مدار...الجدي..... |
| ١٢. مضيق...موزمبيق..... | ٤. خط...جرينتش..... |
| ١٣. قناة...السويس..... | ٥. البحر...البحر المتوسط..... |
| ١٤. جزيرة...مدغشقر..... | ٦. البحر...الأحمر..... |
| ١٥. جزر...القمر..... | ٧. المحيط...الهندي..... |
| ١٦. خليج...غينيا..... | ٨. المحيط...الأطلسي..... |
| ١٧. خليج...عدن..... | |

١٣ - أكتب ما يشير اليه مدلول الأرقام الموقعة علي الخريطة



- | | |
|--------------------------------|------------------------------------|
| ١٠. جبل...كينيا..... | ١. هضبة...شمال أفريقيا..... |
| ١١. جبال...دراكنزبرج..... | ٢. هضبة...الحبشة الأثيوبية..... |
| ١٢. جبل...كلمنجارو..... | ٣. هضبة...البحيرات الإستوائية..... |
| ١٣. سهول...نهر النيجر..... | ٤. هضبة...الجنوبية..... |
| ١٤. سهول...نهر الكونغو..... | ٥. جبال...الكاب..... |
| ١٥. سهول...نهر النيل..... | ٦. جبال...أطلس..... |
| ١٦. سهول...البحر الأحمر..... | ٧. جبال...توبقال..... |
| ١٧. سهول...المحيط الأطلسي..... | ٨. جبال...البحر الأحمر..... |
| ١٨. سهول...المحيط الهندي..... | ٩. جبل...شايب البنات..... |

إجابة الإختبار الاول

إجابة السؤال الأول.

- أ. ١- الجزائر. ٢- مضيق جبل طارق ٣- أوغندا. ٤- إثيوبيا
- ب- ١- يمد نهر النيل بمياهه ويساعده على الجريان نحو الشمال حتى مصبه بالبحر المتوسط
- ٢- لأنها تنقى الهواء من الكربون وتعمل على تحسين جودة الهواء

إجابة السؤال الثاني.

- أ- ١- نخا والثاني ٢- مالي
- ٣- البحر الأحمر ٤- السافانا البستانية
- ب- ١- الظلت بحيرة فيكتوريا غنية بأنواع عديدة من الفقاريات وغنية بالتنوع البيولوجي
- ٢- لم تحدث انكسارات شرق أفريقيا ولم تكون بعض الظواهر مثل البحر الأحمر و خليج عدن والعقبة



إجابة السؤال الثالث.

أ- ١- الدعاة ٢- إثيت تاوى

٣- نهر كا جيرا ٤- النظام البيئي

ب- ١- لأن المقابر تطورت من حجرة يعلوها مصطبة لهرم مدرج ثم الهرم كامل في عهد الملك خوفو

٢- لأن سهول وادي النيل بمصر تتميز بحضوبة تربتها بسبب الطمي الذي نقلته مياه نهر النيل علم من هضبة الجشة البركانية

إجابة السؤال الرابع.

أ- (١) رحلات (حر - خوف) إلى جنوب مصر

(٢) تشييد حصن سمنا وقمنة

(٣) دخول الإسكندر الأكبر لمصر

(٤) اكتشاف مقبرة الملك توت عنخ آمون

ب- ١- إختلط العرب بأهل الساحل وتزوجوا منهم و أقاموا محطات تجارية هناك

٢- حظيوا بالتقدير والاحترام بين القبائل الإفريقية ونشروا الإسلام



المراجعة رقم 4

أقوى مراجعة

على الوحدة الاولى

مستّر: محمد عبد الصبور

السؤال الأول : اكمل العبارات الاتية بكلمات مناسبة

- ١- تعتبر قارة أفريقيا من قارات العالم
- ٢- يقع جبل على الحدود بين مصر وليبيا والسودان .
- ٣- تنقسم منابع نهر النيل إلى منابع و منابع
- ٤- يحد قارة أفريقيا من الشمال البحر
- ٥- تقع هضبة الحبشة فى الجانب من قارة إفريقيا .
- ٦- يطلق على المساحة التى يجرى بها النهر وروافده
- ٧- تعد افريقيا هي ثانى قارات العالم مساحه بعد قارة
- ٨- نتيجة الثورات البركانية أصبحت أرض هضبة الحبشة صالحة لحرفة
- ٩- يعد نهر المنبع الحقيقى لنهر النيل .
- ١٠- يحد قارة أفريقيا من الشرق يفصلها عن قارة
- ١١- تكثر البحيرات العذبة فى هضبة البحيرات الاستوائية مثل بحيرة
- ١٢- تقع المنابع الموسمية لنهر النيل فى هضبة
- ١٣- يحد قارة أفريقيا من الغرب الذي يفصلها عن قارتي
- ١٤- يعتبر جبل بالمغرب أعلى قمة جبلية فى سلسلة الجبال الالتوائية .
- ١٥- قامت حضارة كوش فى
- ١٦- تقترب قارة أفريقيا من قارة أوروبا عند مضيق ومن أسيا عند مضيق
- ١٧- من الجبال البركانية فى وسط إفريقيا و
- ١٨- كان من أشهر صادرات حضارة أكسوم معدن
- ١٩- دخلت بعض الحضارات مصر عن طريق شبه جزيرة سيناء مثل الحضارة
- ٢٠- يعتبر جبل بمصر أعلى قمة جبلية فى سلسلة الجبال الانكسارية .
- ٢١- قامت مصر بإنشاء خزان على النيل الأزرق .
- ٢٢- دخول الحملات العسكرية لمصر وأفريقيا عن طريق سيناء من الأهمية مستّر: محمد عبد الصبور
- ٢٣- تساهم المنطقة الجبلية فى قارة إفريقيا فى العديد من الأنشطة الاقتصادية مثل
- ٢٤- من الحضارات التي قامت في إفريقيا و
- ٢٥- يمر بأفريقيا خط طول رئيسي وهو خط
- ٢٦- تكونت السهول الفيضية فى وادى النيل بمصر والسودان من الطمي المنقول من هضبة
- ٢٧- يمر بأفريقيا ٣ دوائر عرض رئيسية هم و و
- ٢٨- الاقتصاد الأزرق يعنى استثمار الموارد المائية بشكل مستدام لتحقيق

٢٩- توجد في هضبة البحيرات الاستوائية مجموعة من البحيرات اهمها بحيرة

٣٠- من الرحالة المصريين في عصر الدولة القديمة الرحالة

٣١- أرسل الملك رحلة لبلاد افريقيا استمرت **مستر: محمد عبد الصبور**

٣٢- تتسم سهول البحر الأحمر بالضيق نتيجة اقتراب من الساحل .

٣٣- وصل حكم الخديوى اسماعيل إلى

٣٤- تضم قارة إفريقيا عددًا من الجزر أكبرها جزيرة

٣٥- قام ابن بطوطه برحلات في حتى وصل إلى دولة

السؤال الثاني : اكتب كلمة " صواب " او " خطأ " امام العبارات التالية

١- المسطح المائى الذى تصل اليه سفينة بعد عبورها قناة السويس متجهة الى الشمال هو

البحر الأحمر

()

٢- تتميز هضبة شمال إفريقيا بفقر فى مظاهر سطحها .

()

٣- تقع جبال دراكنزبرج في شمال قارة افريقيا .

()

٤- نشأت العديد من الحضارات على ارض قارة افريقيا مثل حضارة اكسوم .

()

٥- تقع أكبر صحارى العالم في الناحية الجنوبية لقارة إفريقيا .

()

٦- ترجع فكرة إنشاء تجمع الأندوجو لدول حوض النيل إلى إحدى الدول الواقعة على البحر المتوسط

()

جنوب قارة إفريقيا .

٧- يحد أفريقيا من الشمال البحر المتوسط الذى يفصلها عن قارة أوروبا .

()

٨- وصل النفوذ المصري في عهد الخديوي إسماعيل إلى جنوب دائرة الاستواء .

()

٩- تنحدر مياه نهر النيل من شمال إفريقيا إلى جنوبها حتى المصب في البحر المتوسط .

()

١٠- تقترب أفريقيا من آسيا عند مضيق باب المندب .

()

١١- تعد جبال الكاب أعلى قمة جبلية فى سلسلة جبال أطلس .

()

١٢- قامت مصر بإنشاء مركز للبحوث المائية فى تنزانيا تحقيقاً لمفهوم الاقتصاد الأخضر .

()

١٣- يمر خط طول جرينتش شرق قارة افريقيا .

()

١٤- يقع جبل شايب البنات فى قارة إفريقيا ناحية الغرب .

()

١٥- أخذ الكوشيون من الحضارة المصرية القديمة بعض المعبودات مثل رع وآمون رع .

()

١٦- يقع ثلثى مساحه أفريقيا في نصف الكرة الأرضية الجنوبي .

()

١٧- يعتبر الاقتصاد الأزرق الداعم الأساسى لتحقيق الاكتفاء الذاتى من الغذاء بإفريقيا .

()

١٨- تُعد هضبة الحبشة المنبع الموسمى لنهر النيل .

()

١٩- بدأت محاولات الانجليز لاكتشاف افريقيا في القرن الـ ١٥ م خلال عهد الأمير هنري .

()

٢٠- تعد جبال أطلس السبب الرئيسى فى ضيق سهول البحر المتوسط في بلاد المغرب العربي)

()

٢١- أقام الفينيقيون مدينة قرطاج في إفريقيا من أجل تأمين تجارتهم إلى أوربا .

()

٢٢- من أهم الرحالة في العصر الحديث هو الرحالة حر خوف .

()

٢٣- ارتفاع جبل كلمنجارو هو السبب الرئيسى فى جعل قمته منخفضة الحرارة.

()

- ٢٤- سيطرت حضارة أكسوم بحكم موقعها الجغرافي على منابع النيل الموسمية . ()
- ٢٥- تعرضت شعوب قارة افريقيا للاستعمار من قبل دول اوربا . ()
- ٢٦- المسعودي من أوائل الرحالة العرب الذين زاروا قارة افريقيا . **مستّر : محمد عبد الصبور** ()
- ٢٧- إشراف إفريقيا على قناة السويس زاد من أهميتها الحضارية . ()
- ٢٨- أصبحت هضبة الحبشة الإثيوبية صالحة للزراعة بسبب الطفوح البركانية . ()
- ٢٩- تعد الجزائر اكبر الدول الافريقية من حيث المساحة . ()
- ٣٠- تتسم المناخ الدائمة لنهر النيل بالفيضان وزيادة التبخر بسبب موقعها الفلكي . ()

السؤال الثالث : صوب ما تحته خط في العبارات التالية

- ١- يحد قارة إفريقيا من الشمال البحر الأحمر .
- ٢- امتدت الممالك الإسلامية إلى السواحل الجنوبية لقارة إفريقيا .
- ٣- حاول الأوروبيون الوصول للصين لذا قاموا بحركة الكشف الجغرافية .
- ٤- اهتم الخديوي توفيق باكتشاف منابع النيل .
- ٥- إخترق ابن بطوطة الصحراء من الجنوب إلى الشمال .
- ٦- أدى الموقع الفلكي لأفريقيا إلى تحكمها في أهم طرق الملاحة العالمية . **مستّر : محمد عبد الصبور**
- ٧- تقع قارة أفريقيا وسط قارات العالم الجديد .
- ٨- الموقع الجغرافي هو الموقع بالنسبة لخطوط الطول ودوائر العرض .
- ٩- أكبر دول قارة أفريقيا هي الكونغو .
- ١٠- تتصل إفريقيا بقارة أوربا عن طريق شبه جزيرة سيناء .
- ١١- تتميز هضبة شمال إفريقيا بالمنخفضات كمنخفض عين صالح بمصر .
- ١٢- تعتبر هضبة الحبشة المنبع الدائم لنهر النيل .
- ١٣- تعد الهضبة الاستوائية هي المنبع الموسمي لنهر النيل .
- ١٤- الطفوح البركانية في هضبة الحبشة سبب قيام الحضارات القديمة في تونس .
- ١٥- البحيرات الاستوائية تغلّوها القمم الجبلية الجليدية .
- ١٦- هناك أهمية اقتصادية لجبال قارة إفريقيا لتوفيرها مصادر الطاقة اللازمة للصناعة .
- ١٧- تمتد سهول كينيا بين الساحل الشرقي لإفريقيا وهضبة شمال إفريقيا .
- ١٨- النهر المحلى هو النهر الذى يمتد روافده في أكثر من دولة .
- ١٩- تمت اتفاقية ١٩٢٩ بين ثلاث دول وهم مصر واثيوبيا والسودان . **مستّر : محمد عبد الصبور**
- ٢٠- تأثرت حضارة قرطاج من الحضارة المصرية في نحت التماثيل والمعابد .

السؤال الرابع : اختر الإجابة الصحيحة مما بين الأقواس

- ١- ساعدت الطفوح البركانية في هضبة الحبشة على قيام حرفة (التجارة - الزراعة - الصناعة - الرعي)
- ٢- من خلال دراستك لجبال البحر الأحمر الانكسارية أعلى قمة جبلية لتلك السلسلة هي (جبل سانت كاترين - جبل شايب البنات - جبل المقطم - جبل علبة)

- ٣- أى من الدول التالية لا تمتد فيها جبال البحر الأحمر؟ (مصر - السودان - إريتريا - ليبيا)
- ٤- تتأثر خصوبة تربة وادى النيل بمصر بالطمي المنقول من ناحية
(الجنوب - الشمال - الشرق - الغرب)
- ٥- أي من سهول إفريقيا الساحلية تتميز بحقولها الزراعية الغنية ؟ سهول
(البحر الأحمر - البحر العربى - وادى النيل - المحيط الأطلنطي)
- ٦- تقع دولة شمال جزيرة مدغشقر .
- (جزر القمر - جزر كنارى - جزر مورشيوس - جزر الرأس الأخضر)
- ٧- تتميز سهول دولة المطلة على المحيط الهندى باتساعها .
(الصومال - مصر - إريتريا - تنزانيا)
- ٨- من أمثلة الجبال البركانية التى توجد فى جنوب القارة الإفريقية
(البحر الأحمر - شايب البنات - كلمنجارو - دراكنزبرج)
- ٩- تقع واحة فى ليبيا .
(سيوة - القطارة - الجوف - عين صالح)
- ١٠- يفصل مضيق جزيرة مدغشقر عن الساحل الشرقى للقارة
(جبل طارق - موزمبيق - باب المندب - هرمز)
- ١١- يصب نهر كاجيرا فى بحيرة فيكتوريا من جهة (الشرق - الشمال - الجنوب - الغرب)
- ١٢- قامت مصر بإنشاء خزان سنار على النيل الأزرق لصالح دولة
(تنزانيا - السودان - أوغندا - كينيا)
- ١٣- تم إنشاء سد أوين بدولة (السودان - جمهورية الكونغو الديمقراطية - تنزانيا - أوغندا)
- ١٤- من الجهود التى قامت بها مصر بدول حوض النيل حفر عشرات الآبار فى
(رواندا - إريتريا - بروندي - كينيا)
- ١٥- ظهرت حضارة أكسوم بالمنطقة التى توجد بها حاليا دولتي إثيوبيا و
(أوغندا - إريتريا - تونس - كينيا)
- ١٦- تشابهت الحضارة المصرية القديمة وحضارة قرطاج فى موقعهما على
(البحر المتوسط - نهر النيل - البحر الأحمر - المحيط الهندى)
- ١٧- الحضارة الإفريقية التى سيطرت على بعض جزر البحر المتوسط نتيجة موقعها الاستراتيجي هي
(الحضارة المصرية القديمة - حضارة قرطاج - حضارة كوش - حضارة أكسوم)
- ١٨- أقام الكوشيون علاقات تجارية من جهة الشرق مع (مصر - قرطاج - أكسوم - اليونان)
- ١٩- تقع منابع النيل الاستوائية فى إفريقيا . (شمال - جنوب - وسط - غرب)
- ٢٠- قامت حضارة فى تونس حالياً . (كوش - قرطاج - أكسوم - النوبة)

السؤال الخامس : اكتب ما تشير إليه كل عبارة

- ١- أحد منابع نهر النيل وتتسلم بقلته مياهها مقارنة بالمانع الإثيوبية .
- ٢- حضارة إفريقية أثرت فى تاريخ القارة ولكنها لم ترتبط بنهر النيل .
- ٣- اتفاقية نصت على التزام حوض النيل بعدم القيام بأى مشروعات على نهر النيل بغير اتفاق مسبق مع مصر .

٤- تجمع إقليمي لدول حوض النيل أنشئ يهدف إلى التشاور والتنسيق والتعاون بين دول الحوض .

مستّر: محمد عبد الصبور

٥- المساحة التي يجرى فيها النهر وروافده .

٦- جبال تكونت نتيجة الثورات البركانية.

٧- استثمار الموارد المائية بشكل مستدام لتحقيق التنمية المستدامة والقضاء على الفقر وتحقيق الاكتفاء الذاتي.

٨- هضبة عظيمة الاتساع وقليلة الارتفاع وتنحدر تدريجيا نحو الشمال حتى تلتقى بسواحل البحر المتوسط .

السؤال السادس : أجب عن الاسئلة التالية

أولا بـ تفسر :-

١- لقارة أفريقيا أهمية إستراتيجية كبيرة .

٢- لقارة أفريقيا أهمية إقتصادية كبيرة .

مستّر: محمد عبد الصبور

٣- الأهمية الحضارية لقارة أفريقيا .

٤- بدأ الأوروبيين محاولاتهم لاكتشاف أفريقيا .

٥- تحكم قارة افريقيا في اهم طرق الملاحة العالمية .

٦- تقسيم قارة أفريقيا إلى دول مختلفة المساحة .

٧- ضرورة الحفاظ على أمن شبه جزيرة سيناء .

٨- تتميز هضبة الحبشة بخصوبة تربتها .

مستّر: محمد عبد الصبور

٩- تعد هضبة الحبشة المنبع الموسمي لنهر النيل .

١٠- تعتبر هضبة البحيرات الاستوائية المنبع الدائم لنهر النيل .

مستّر: محمد عبد الصبور

١١- تكون الجليد فوق قمة جبل كلمنجارو .

١٢- تتميز سهول وادي النيل بخصوبة تربتها .

مستّر: محمد عبد الصبور

١٣- تضيق سهول البحر المتوسط في بلاد المغرب العربي .

١٤- تكون الأخدود الإفريقي العظيم .

١٥- يعد نهر النيل نهراً دولياً .

١٦- قلة مياه المنابع الاستوائية لنهر النيل طوال العام .

١٧- تأسس الفينيقيين مدينة قرطاج على البحر المتوسط .

١٨- عقد كل من مصر واثيوبيا والسودان اتفاقية عام ٢٠١٥ م .

مستّر: محمد عبد الصبور

١٩- انشاء تجمع الاندوجو عام ١٩٨٣ م .

ثانياً ما النتائج المترتبة على :-

١- الموقع الفلكي لقارة أفريقيا .

٢- إشراف قارة أفريقيا على أهم الممرات المائية .

٣- قيام المصريين القدماء بالعديد من الرحلات لأفريقيا .

٤- إرسال محمد علي رحلات لإكتشاف منابع النيل .

٥- الكشف الجغرافية التي قام بها البرتغاليين .

مستّر: محمد عبد الصبور

٦- تصارع الدول الأوروبية على قارة أفريقيا ونهب خيراتها .

٧- انتخاب مصر رئيسة للاتحاد الإفريقي عام ٢٠١٩ م .

مستّر: محمد عبد الصبور

٨- حدوث طفوح بركانية بهضبة الحبشة .

٩- امتداد العديد من الأنهار بقارة إفريقيا .

مستّر: محمد عبد الصبور

١٠- اقتراب جبال أطلس من ساحل البحر المتوسط .

١١- حدوث الثورات البركانية في وسط قارة إفريقيا .

١٢- تمتع جبال القارة الإفريقية بالمناظر الطبيعية الخلابة .

١٣- الموقع الجغرافي لحضارة أكسوم .

مستّر: محمد عبد الصبور

١٤- الموقع المتميز لحضارة قرطاج .

١٥- ارتفاع معدلات البحر في البحيرات الاستوائية .

مستّر: محمد عبد الصبور

ثالثًا دّل على صحة العبارة :-

١- الأهمية الحضارية لشبه جزيرة سيناء .

٢- مثلت شبه جزيرة سيناء أهمية استراتيجية لمصر .

٣- كان للعرب دور في الكشف الجغرافية لقارة إفريقيا .

مستّر: محمد عبد الصبور

٤- نشأت العديد من أقدم الحضارات على أرض إفريقيا .

مستّر: محمد عبد الصبور

٥- تقترب قارة إفريقيا من أوروبا جغرافيا .

٦- تنوع مظاهر السطح في هضبة شمال إفريقيا .

مستّر: محمد عبد الصبور

٧- تضم قارة إفريقيا مجموعة متنوعة من الجبال .

مستّر: محمد عبد الصبور

٨- للمناطق الجبلية بإفريقيا دور مهم في دعم السياحة .

٩- تختلف سهول المحيط الهندي من حيث الاتساع .

١٠- تضم قارة إفريقيا العديد من الجزر .

١١- حضارة أكسوم حضارة تجارية من الدرجة الاولى .

١٢- اختلفت حضارة قرطاج عن حضارات وادي النيل .

السؤال السابع : أجب عن الاسئلة المتنوعة

مستّر: محمد عبد الصبور

(١) ما المقصود بالحضارة ؟

(٢) ما المقصود بالاهمية الاستراتيجية ؟

(٣) **قارن بين :** نصف قارة افريقيا الشمالى ونصف قارة افريقيا الجنوبى من حيث :-
- الاتساع - دائرة عرض رئيسية تمر بكل منهما .

مستّر: محمد عبد الصبور

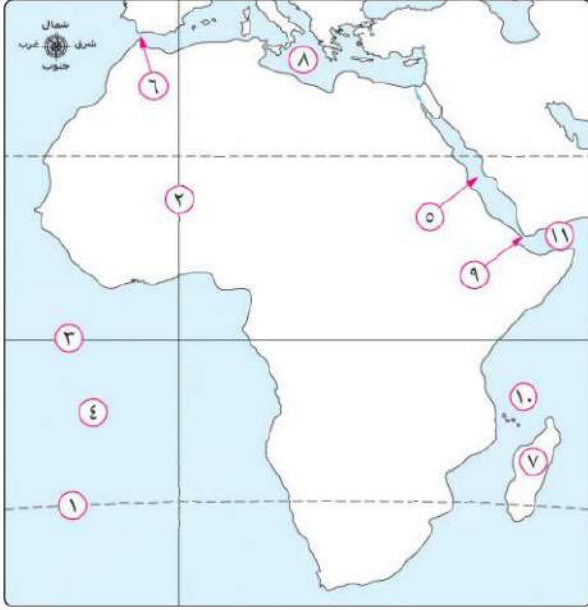
(٤) ما المقصود بالدول الساحلية ؟ مع ذكر مثال .

(٥) ما المقصود بالدول الحبيسة ؟ مع ذكر مثال .

مستّر: محمد عبد الصبور

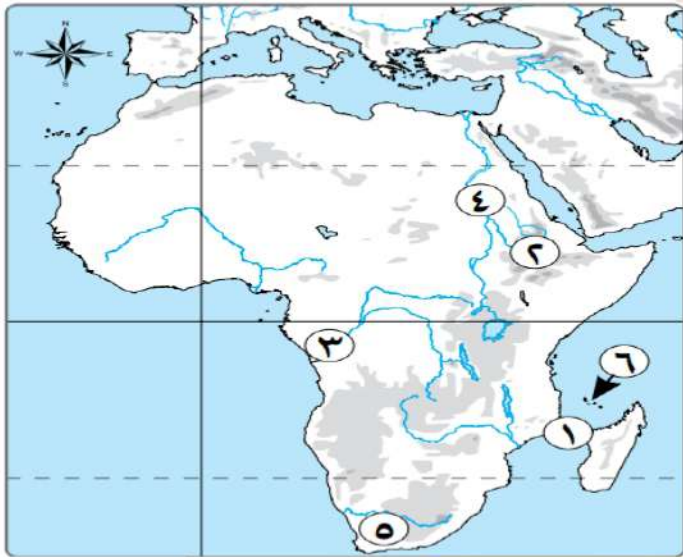
مستّر: محمد عبد الصبور

السؤال السابع : امامك خريطة لقارة افريقيا اكتب مدلول الارقام عليها



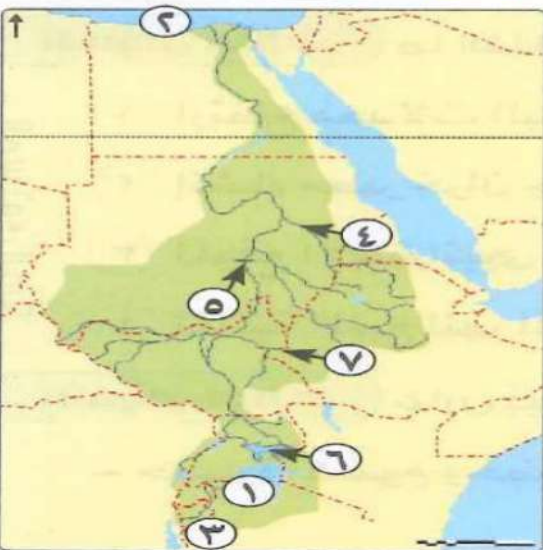
- ١- مدار
- ٢- خط طول
- ٣- دائرة
- ٤- المحيط
- ٥- البحر
- ٦- مضيق
- ٧- جزيرة
- ٨- البحر
- ٩- مضيق
- ١٠- جزر
- ١١- خليج

السؤال السابع : امامك خريطة لقارة افريقيا اكتب مدلول الارقام عليها



- ١- مضيق
- ٢- هضبة
- ٣- نهر
- ٤- نهر
- ٥- جبال التوائية
- ٦- من اهم جزر افريقيا

السؤال السابع : امامك خريطة لدول حوض النيل اكتب مدلول الارقام عليها



- ١- بحيرة
- ٢- البحر
- ٣- نهر
- ٤- نهر
- ٥- خزان
- ٦- بحيرة
- ٧- نهر

أقوى مراجعة

على الوحدة الاولى

مستر : محمد عبد الصبور

السؤال الأول : اكمل العبارات الآتية بكلمات مناسبة

- ١- تعتبر قارة أفريقيا من قارات العالم القديم .
- ٢- يقع جبل العوينات على الحدود بين مصر وليبيا والسودان .
- ٣- تنقسم منابع نهر النيل إلى منابع موسمية ومنابع دائمة .
- ٤- يحد قارة أفريقيا من الشمال البحر المتوسط .
- ٥- تقع هضبة الحبشة في الجانب الشرقي من قارة إفريقيا .
- ٦- يطلق على المساحة التي يجرى بها النهر وروافده حوض النهر .
- ٧- تعد إفريقيا هي ثاني قارات العالم مساحه بعد قارة اسيا .
- ٨- نتيجة الثورات البركانية أصبحت أرض هضبة الحبشة صالحة لحرفة الزراعة .
- ٩- يعد نهر كاجيرا المنبع الحقيقي لنهر النيل .
- ١٠- يحد قارة أفريقيا من الشرق البحر الاحمر يفصلها عن قارة اسيا .
- ١١- تكثر البحيرات العذبة في هضبة البحيرات الاستوائية مثل بحيرة فيكتوريا .
- ١٢- تقع المنابع الموسمية لنهر النيل في هضبة الحبشة .
- ١٣- يحد قارة أفريقيا من الغرب المحيط الاطلسي الذي يفصلها عن قارتي أمريكا الشمالية والجنوبية .
- ١٤- يعتبر جبل توبقال بالمغرب أعلى قمة جبلية في سلسلة الجبال الالتيوانية .
- ١٥- قامت حضارة كوش في السودان .
- ١٦- تقترب قارة أفريقيا من قارة أوروبا عند مضيق جبل طارق ومن أسيا عند مضيق باب المندب .
- ١٧- من الجبال البركانية في وسط إفريقيا كينيا ودراكنزبرج .
- ١٨- كان من أشهر صادرات حضارة أكسوم معدن الذهب والعاج .
- ١٩- دخلت بعض الحضارات مصر عن طريق شبه جزيرة سيناء مثل الحضارة الإسلامية .
- ٢٠- يعتبر جبل شايب البنات بمصر أعلى قمة جبلية في سلسلة الجبال الانكسارية .
- ٢١- قامت مصر بإنشاء خزان سنار على النيل الأزرق .
- ٢٢- دخول الحملات العسكرية لمصر وأفريقيا عن طريق سيناء من الأهمية الاستراتيجية .
- ٢٣- تساهم المنطقة الجبلية في قارة إفريقيا في العديد من الأنشطة الاقتصادية مثل السياحة والتعدين .
- ٢٤- من الحضارات التي قامت في إفريقيا حضارة كوش وحضارة قرطاج .
- ٢٥- يمر بأفريقيا خط طول رئيسي وهو خط جرينتش .
- ٢٦- تكونت السهول الفيضية في وادي النيل بمصر والسودان من الطمي المنقول من هضبة الحبشة .
- ٢٧- يمر بإفريقيا ٣ دوائر عرض رئيسية هم مدار السرطان والاستواء ومدار الجدي .
- ٢٨- الاقتصاد الأزرق يعنى استثمار الموارد المائية بشكل مستدام لتحقيق التنمية المستدامة .

- ٢٩- توجد في هضبة البحيرات الاستوائية مجموعة من البحيرات اهمها بحيرة **فيكتوريا** .
- ٣٠- من الرحالة المصريين في عصر الدولة القديمة الرحالة **حر خوف** .
- ٣١- أرسل الملك **نخاو الثاني** رحلة لبلاد افريقيا استمرت **ثلاث سنوات** **مستر : محمد عبد الصبور**
- ٣٢- تتسم سهول البحر الأحمر بالضيق نتيجة اقتراب **جبال البحر الاحمر** من الساحل .
- ٣٣- وصل حكم الخديوى اسماعيل إلى **جنوب دائرة الاستواء** .
- ٣٤- تضم قارة إفريقيا عددًا من الجزر أكبرها جزيرة **مدغشقر** .
- ٣٥- قام ابن بطوطه برحلات في **شمال افريقيا** حتى وصل إلى دولة **مالى** .

السؤال الثاني : اكتب كلمة " صواب " او " خطأ " امام العبارات التالية

- ١- المسطح المائى الذى تصل اليه سفينة بعد عبورها قناة السويس متجهة الى الشمال هو البحر الأحمر (**خطأ**)
- ٢- تتميز هضبة شمال إفريقيا بفقر فى مظاهر سطحها . (**خطأ**)
- ٣- تقع جبال دراكنزبرج في شمال قارة افريقيا . (**خطأ**)
- ٤- نشأت العديد من الحضارات على ارض قارة افريقيا مثل حضارة اكسوم . (**صواب**)
- ٥- تقع أكبر صحارى العالم في الناحية الجنوبية لقارة إفريقيا . (**خطأ**) **مستر : محمد عبد الصبور**
- ٦- ترجع فكرة إنشاء تجمع الأندوجو لدول حوض النيل إلى إحدى الدول الواقعة على البحر المتوسط جنوب قارة إفريقيا . (**خطأ**)
- ٧- يحد أفريقيا من الشمال البحر المتوسط الذى يفصلها عن قارة أوروبا . (**صواب**)
- ٨- وصل النفوذ المصري في عهد الخديوي إسماعيل الى جنوب دائرة الاستواء . (**صواب**)
- ٩- تتحدر مياه نهر النيل من شمال إفريقيا إلى جنوبها حتى المصب في البحر المتوسط . (**خطأ**)
- ١٠- تقترب أفريقيا من آسيا عند مضيق باب المندب . (**صواب**)
- ١١- تعد جبال الكاب أعلى قمة جبلية في سلسلة جبال أطلس . (**خطأ**)
- ١٢- قامت مصر بإنشاء مركز للبحوث المائية فى تنزانيا تحقيقاً لمفهوم الاقتصاد الأخضر . (**صواب**)
- ١٣- يمر خط طول جرينتش شرق قارة افريقيا . (**خطأ**)
- ١٤- يقع جبل شايب البنات فى قارة إفريقيا ناحية الغرب . (**خطأ**)
- ١٥- أخذ الكوشيون من الحضارة المصرية القديمة بعض المعبودات مثل رع وآمون رع . (**صواب**)
- ١٦- يقع ثلثى مساحه أفريقيا في نصف الكرة الأرضية الجنوبي . (**خطأ**)
- ١٧- يعتبر الاقتصاد الأزرق الداعم الأساسى لتحقيق الاكتفاء الذاتى من الغذاء بإفريقيا . (**صواب**) **عبد**
- ١٨- تُعد هضبة الحبشة المنبع الموسمى لنهر النيل . (**صواب**)
- ١٩- بدأت محاولات الانجليز لاكتشاف افريقيا في القرن الـ ١٥ م خلال عهد الأمير هنري . (**خطأ**)
- ٢٠- تعد جبال أطلس السبب الرئيسى فى ضيق سهول البحر المتوسط في بلاد المغرب العربي (**صواب**)
- ٢١- أقام الفينيقيون مدينة قرطاج في إفريقيا من أجل تأمين تجارتهم إلى أوربا . (**صواب**)
- ٢٢- من أهم الرحالة في العصر الحديث هو الرحالة حر خوف . (**خطأ**)
- ٢٣- ارتفاع جبل كلمنجارو هو السبب الرئيسى فى جعل قمته منخفضة الحرارة . (**صواب**)

- ٢٤- سيطرت حضارة أكسوم بحكم موقعها الجغرافي على منابع النيل الموسمية . (صواب)
- ٢٥- تعرضت شعوب قارة افريقيا للاستعمار من قبل دول اوربا . (صواب)
- ٢٦- المسعودي من أوائل الرحالة العرب الذين زاروا قارة افريقيا . (صواب)
- ٢٧- إشراف إفريقيا على قناة السويس زاد من أهميتها الحضارية . (خطأ)
- ٢٨- أصبحت هضبة الحبشة الإثيوبية صالحة للزراعة بسبب الطفوح البركانية . (صواب)
- ٢٩- تعد الجزائر اكبر الدول الافريقية من حيث المساحة . (صواب)
- ٣٠- تتسم المنابع الدائمة لنهر النيل بالفيضان وزيادة التبخر بسبب موقعها الفلكي . (صواب)

السؤال الثالث : صوب ما تحته خط في العبارات التالية

- ١- يحد قارة إفريقيا من الشمال البحر الأحمر . البحر المتوسط
- ٢- امتدت الممالك الإسلامية إلى السواحل الجنوبية لقارة إفريقيا . الشرقية
- ٣- حاول الأوروبيون الوصول للصين لذا قاموا بحركة الكشف الجغرافية . الهند
- ٤- اهتم الخديوي توفيق باكتشاف منابع النيل . الخديوي إسماعيل
- ٥- إخترق ابن بطوطة الصحراء من الجنوب إلى الشمال . الشمال إلى الجنوب
- ٦- أدى الموقع الفلكي لأفريقيا إلى تحكمها في أهم طرق الملاحة العالمية . الموقع الجغرافي
- ٧- تقع قارة أفريقيا وسط قارات العالم الجديد . القديم
- ٨- الموقع الجغرافي هو الموقع بالنسبة لخطوط الطول ودوائر العرض . الفلكي
- ٩- أكبر دول قارة أفريقيا هي الكونغو . الجزائر
- ١٠- تتصل إفريقيا بقارة أوربا عن طريق شبه جزيرة سيناء . آسيا
- ١١- تتميز هضبة شمال إفريقيا بالمنخفضات كمنخفض عين صالح بمصر . القطارة
- ١٢- تعتبر هضبة الحبشة المنبع الدائم لنهر النيل . الموسمي
- ١٣- تعد الهضبة الاستوائية هي المنبع الموسمي لنهر النيل . الدائم
- ١٤- الطفوح البركانية في هضبة الحبشة سبب قيام الحضارات القديمة في تونس إثيوبيا . إثيوبيا
- ١٥- البحيرات الاستوائية تغلوا القمم الجبلية الجديدة . البركانية
- ١٦- هناك أهمية اقتصادية لجبال قارة إفريقيا لتوفيرها مصادر الطاقة اللازمة للصناعة . المعادن
- ١٧- تمتد سهول كينيا بين الساحل الشرقي لإفريقيا وهضبة شمال إفريقيا . البحيرات الاستوائية
- ١٨- النهر المحلى هو النهر الذى يمتد روافده في أكثر من دولة . الدولي
- ١٩- تمت اتفاقية ١٩٢٩ بين ثلاث دول وهم مصر وإثيوبيا والسودان . اتفاقية ٢٠١٥
- ٢٠- تأثرت حضارة قرطاج من الحضارة المصرية في نحت التماثيل والمعابد . كوش

السؤال الرابع : اختر الإجابة الصحيحة مما بين الأقواس

- ١- ساعدت الطفوح البركانية في هضبة الحبشة على قيام حرفة (التجارة - الزراعة - الصناعة - الرعي)
- ٢- من خلال دراستك لجبال البحر الأحمر الانكسارية أعلى قمة جبلية لتلك السلسلة هي (جبل سانت كاترين - جبل شايب البنات - جبل المقطم - جبل علبة)

- ٣- أى من الدول التالية لا تمتد فيها جبال البحر الأحمر؟ (مصر - السودان - إريتريا - ليبيا)
- ٤- تتأثر خصوبة تربة وادى النيل بمصر بالطمي المنقول من ناحية
(الجنوب - الشمال - الشرق - الغرب)
- ٥- أي من سهول إفريقيا الساحلية تتميز بحقولها الزراعية الغنية ؟ سهول
(البحر الأحمر - البحر العربى - وادى النيل - المحيط الأطلنطي)
- ٦- تقع دولة شمال جزيرة مدغشقر .
- (جزر القمر - جزر كنارى - جزر مورشيوس - جزر الرأس الأخضر)
- ٧- تتميز سهول دولة المطلة على المحيط الهندى باتساعها .
- (الصومال - مصر - إريتريا - تنزانيا)
- ٨- من أمثلة الجبال البركانية التى توجد فى جنوب القارة الإفريقية
(البحر الأحمر - شايب البنات - كلمنجارو - دراكنزبرج)
- ٩- تقع واحة فى ليبيا .
- (سيوة - القطارة - الجوف - عين صالح)
- ١٠- يفصل مضيق جزيرة مدغشقر عن الساحل الشرقى للقارة
(جبل طارق - موزمبيق - باب المندب - هرمز)
- ١١- يصب نهر كاجيرا فى بحيرة فيكتوريا من جهة (الشرق - الشمال - الجنوب - الغرب)
- ١٢- قامت مصر بإنشاء خزان سنار على النيل الأزرق لصالح دولة
(تنزانيا - السودان - أوغندا - كينيا)
- ١٣- تم إنشاء سد أوين بدولة (السودان - جمهورية الكونغو الديمقراطية - تنزانيا - أوغندا)
- ١٤- من الجهود التى قامت بها مصر بدول حوض النيل حفر عشرات الآبار فى
(رواندا - إريتريا - بروندي - كينيا)
- ١٥- ظهرت حضارة أكسوم بالمنطقة التى توجد بها حاليا دولتي إثيوبيا و
(أوغندا - إريتريا - تونس - كينيا)
- ١٦- تشابهت الحضارة المصرية القديمة وحضارة قرطاج فى موقعهما على
(البحر المتوسط - نهر النيل - البحر الأحمر - المحيط الهندى)
- ١٧- الحضارة الإفريقية التى سيطرت على بعض جزر البحر المتوسط نتيجة موقعها الاستراتيجي هي
(الحضارة المصرية القديمة - حضارة قرطاج - حضارة كوش - حضارة أكسوم)
- ١٨- أقام الكوشيون علاقات تجارية من جهة الشرق مع (مصر - قرطاج - أكسوم - اليونان)
- ١٩- تقع منابع النيل الاستوائية فى إفريقيا . (شمال - جنوب - وسط - غرب)
- ٢٠- قامت حضارة فى تونس حالياً . (كوش - قرطاج - أكسوم - النوبة)

السؤال الخامس : اكتب ما تشير إليه كل عبارة

- ١- أحد منابع نهر النيل وتتسلم بقلته مياهها مقارنة بالمانبع الإثيوبية .
المنابع الاستوائية
- ٢- حضارة إفريقية أثرت فى تاريخ القارة ولكنها لم ترتبط بنهر النيل .
حضارة قرطاج
- ٣- اتفاقية نصت على التزام حوض النيل بعدم القيام بأى مشروعات على نهر النيل بغير اتفاق مسبق مع مصر .
اتفاقية ١٩٢٩

٤- تجمع إقليمي لدول حوض النيل أنشئ يهدف إلى التشاور والتنسيق والتعاون بين دول الحوض .

تجمع الأندوجو

مستر: حوض النهر د الصبور

جبال بركانية

٥- المساحة التي يجرى فيها النهر وروافده .

٦- جبال تكونت نتيجة الثورات البركانية.

٧- استثمار الموارد المائية بشكل مستدام لتحقيق التنمية المستدامة والقضاء على الفقر وتحقيق الاكتفاء الذاتي.

الاقتصاد الأزرق

٨- هضبة عظيمة الاتساع وقليلة الارتفاع وتنحدر تدريجيا نحو الشمال حتى تلتقى بسواحل البحر المتوسط .

هضبة شمال افريقيا

السؤال السادس : أجب عن الاسئلة التالية

ولا بـم تفسر :-

١- لقارة أفريقيا أهمية إستراتيجية كبيرة .

لأنها تشرف على ممرات مائية مهمة مثل مضيق باب المندب - جبل طارق - قناة السويس .

٢- لقارة أفريقيا أهمية إقتصادية كبيرة . بسبب

الموقع الجغرافي أدى الى تحكمها في طرق الملاحة العالمية .

الموقع الفلكي أدى الى تنوع المناخ وتنوع النباتات الطبيعية والحيوانات وتنوع المحاصيل الزراعية

٣- الأهمية الحضارية لقارة أفريقيا .

بسبب نشأت الحضارات على أرضه وهي أقدم حضارات العالم مثل

* الحضارة المصرية القديمة في مصر .

* حضارة اكسوم في اثيوبيا واريتريا .

٤- بدأ الأوروبيين محاولاتهم لاكتشاف أفريقيا .

لأنهم حاولوا الوصول الى الهند عن طريق الدوران حول افريقيا .

٥- تحكم قارة افريقيا في اهم طرق الملاحة العالمية .

بسبب موقعها الجغرافي المتميز بين قارات العالم .

٦- تقسيم قارة أفريقيا إلى دول مختلفة المساحة .

بسبب تصارع الدول الاستعمارية على افريقيا لنهب خيراتها واستغلال ثرواتها .

٧- ضرورة الحفاظ على أمن شبه جزيرة سيناء .

لضرورة الحفاظ على الأمن القومي المصري والافريقي .

مستر: محمد عبد الصبور

٨- تتميز هضبة الحبشة بخصوبة تربتها . بسبب الطفوح البركانية .

٩- تعد هضبة الحبشة المنبع الموسمي لنهر النيل . بسبب سقوط الامطار الصيفية عليها .

١٠- تعتبر هضبة البحيرات الاستوائية المنبع الدائم لنهر النيل .

بسبب سقوط الامطار طوال العام عليها .

١١- تكون الجليد فوق قمة جبل كلمنجارو .

بسبب شدة الارتفاع حيث انها اعلى قمة جبلية في افريقيا .

١٢- تتميز سهول وادي النيل بخصوبة تربتها .

لأنها تكونت من الطمي المنقول من هضبة الحبشة .

١٣- تضيق سهول البحر المتوسط في بلاد المغرب العربي . بسبب اقتراب جبال اطلس من الساحل .

١٤- تكون الأخدود الإفريقي العظيم .

بسبب الانكسارات الطولية التي تمتد شرق قارة افريقيا وتتجه بشكل عام من الجنوب الى الشمال .

١٥- يعد نهر النيل نهراً دولياً . لامتداد مجره وروافده داخل اراضى اكثر من دولة " ١١ دولة " .

١٦- قلة مياه المنابع الاستوائية لنهر النيل طوال العام .

بسبب المستنقعات وزيادة التبخر .

١٧- تأسيس الفينيقيين مدينة قرطاج على البحر المتوسط .

لتأمين رحلاتهم التجارية من فينيقيا الى اسبانيا .

١٨- عقد كل من مصر واثيوبيا والسودان اتفاقية عام ٢٠١٥ م .

للاتفاق على عدة مبادئ منها : التعاون والتنمية وعدم التسبب في أي ضرر والاستخدام المنصف والمناسب لمياه نهر النيل .

١٩- انشاء تجمع الاندوجو عام ١٩٨٣ م .

مستّر: محمد عبد الصبور

بهدف : ١- التشاور والتنسيق ودعم التعاون بين دول الحوض .

٢- الحفاظ على المصالح المشتركة بينهما .

ثانياً ما النتائج المترتبة على :-

١- الموقع الفلكي لقارة أفريقيا .

أدى الى تحكمه في طرق الملاحة العالمية .

٢- إشراف قارة أفريقيا على أهم الممرات المائية .

أصبح لقارة افريقيا أهمية استراتيجية كبيرة .

٣- قيام المصريين القدماء بالعديد من الرحلات لأفريقيا .

أدى الى اكتشاف أجزاء من قارة افريقيا حيث وصلوا الى جيبوتي - الصومال - اريتريا - اثيوبيا .

٤- إرسال محمد على رحلات لاكتشاف منابع النيل .

أدى الى اكتشاف النيل الأبيض ورسم خريطة للنيل حتى جنوب السودان .

٥- الكشف الجغرافية التي قام بها البرتغاليين .

أدى ذلك الى ان أسس البرتغاليون الموانئ والمراكز التجارية على طول طريق رأس الرجاء الصالح لتأمين الملاحة والتجارة .

مستّر: محمد عبد الصبور

٦- تصارع الدول الأوروبية على قارة أفريقيا ونهب خيراتها .

مما أدى الى جعل افريقيا تعاني من الفقر رغم ما تمكنه من ثروات طبيعية متعددة .

٧- انتخاب مصر رئيسة للاتحاد الإفريقي عام ٢٠١٩ م .

حيث كان لمصر دور فرصة لتعميق ودعم دورها الريادي وعلاقتها بدول وشعوب القارة .

٨- حدوث طفوح بركانية بهضبة الحبشة .

أدى الى خصوبة تربة هضبة الحبشة وترتب عليه قيام الزراعة ونشأة الحضارات القديمة في اثيوبيا .

٩- امتداد العديد من الأنهار بقارة إفريقيا .

أدى الى تكوين السهول الفيضية الخصبة الصالحة للزراعة .

مستّر: محمد عبد الصبور

١٠- اقتراب جبال أطلس من ساحل البحر المتوسط .

أدى ذلك الى ضيق السهول الساحلية في بلاد المغرب العربي .

١١- حدوث الثورانات البركانية في وسط قارة إفريقيا . أدى الى وجود القمم الجبلية البركانية بها .

١٢- تمتع جبال القارة الإفريقية بالمناظر الطبيعية الخلابة .

أدى الى جذب السياح الذين يمارسون العديد من الأنشطة بالمناطق الجبلية .

١٣- الموقع الجغرافي لحضارة أكسوم .

حيث كانت بمثابة مركز تجارى قوى ومتلقى العديد من الطرق التجارية .

١٤- الموقع المتميز لحضارة قرطاج .

أدى الى استقلالها عن فينيقيا وكنت مملكة مستقلة قوية حكمت معظم ساحل شمال افريقيا .

١٥- ارتفاع معدلات البحر في البحيرات الاستوائية .

أدى الى وصول كميات قليلة من المياه الى مصر بالرغم من تدفقها طوال العام .

مستّر: محمد عبد الصبور

ثالثاً دلل على صحة العبارة :-

١- الاهمية الحضارية لشبه جزيرة سيناء .

حيث دخل عن طريقها لمصر وافريقيا بعض الثقافات والحضارات مثل الحضارة الإسلامية .

٢- مثلت شبه جزيرة سيناء أهمية استراتيجية لمصر .

حيث دخل عن طريقها لمصر وافريقيا الحملات العسكرية وبالتالي حفظ أمن سيناء

والحفاظ على الأمن القومى لمصر وافريقيا .

٣- كان للعرب دور فى الكشف الجغرافية لقارة افريقيا .

حيث كان للجغرافيون العرب والرحالة دور ومنهم :-

- ابن بطوطة : قام برحلات في شمال افريقيا واخترق الصحراء من الشمال للجنوب حتى وصل الى مالي

- المسعودى : هو من اوئل الرحالة العرب الذين زاروا افريقيا وكتبوا عنها .

٤- نشأت العديد من أقدم الحضارات على أرض افريقيا .

حيث قامت العديد من الحضارات مثل كوش في السودان - اكسوم في اريتريا واثيوبيا -

قرطاج في تونس - الحضارة المصرية في مصر .

٥- تقترب قارة افريقيا من اوربا جغرافيا .

مستّر: محمد عبد الصبور

حيث تقترب افريقيا من اوربا عن طريق مضيق باب المندب .

٦- تنوع مظاهر السطح فى هضبة شمال إفريقيا .

حيث ضمت صحارى مثل الصحراء الكبرى التي تعد اكبر صحارى العالم ، وجبال مثل جبل العوينات

على الحدود بين مصر والسودان وليبيا ، ومنخفضات مثل منخفض القطارة في مصر ، والعديد من

الواحات مثل واحة سيوة في مصر وواحة الجوف في ليبيا .

٧- تضم قارة إفريقيا مجموعة متنوعة من الجبال .

حيث نشأت بإفريقيا جبال التوائية مثل الكاب واطلس وجبال انكسارية مثل جبال البحر الأحمر وجبال بركانية مثل جبل كينيا و كلمنجارو و دراكنزبرج .

مستّر: محمد عبد الصبور

٨- للمناطق الجبلية بإفريقيا دور مهم في دعم السياحة .

حيث انها تتميز بمناظر طبيعية خلابة تجذب السياح الذين يمارسون العديد من الأنشطة بالمناطق الجبلية .

٩- تختلف سهول المحيط الهندي من حيث الاتساع .

حيث تتميز السهول الساحلية باتساعها في دولة تنزانيا .

١٠- تضم قارة إفريقيا العديد من الجزر .

يوجد بها جزيرة مدغشقر اكبر جزر القارة بالمحيط الهندي - جزر القمر وتقع شمال غرب مدغشقر

١١- حضارة أكسوم حضارة تجارية من الدرجة الاولى .

حيث كانت بمثابة مركز تجارى قوى وملتقى العديد من الطرق التجارية في شرق افريقيا .

١٢- اختلفت حضارة قرطاج عن حضارات وادي النيل .

لأنها لم ترتبط بنهر النيل واما قامت على التجارة .

مستّر: محمد عبد الصبور

السؤال السابع : أجب عن الاسئلة المتنوعة

(١) ما المقصود بالحضارة ؟

مجموع الإنتاج الثقافي مثل العادات والتقاليد والعلوم والفنون والقيم والإنتاج المادي مثل القلاع والمباني والقصور وهي ما يميز مجتمعا عن غيره .

(٢) ما المقصود بالاهمية الاستراتيجية ؟

هي الأهمية وقت الحروب والأزمات والسلم .

(٣) قارن بين : نصف قارة افريقيا الشمالى ونصف قارة افريقيا الجنوبى من حيث :-

- الاتساع

- دائرة عرض رئيسية تمر بكل منهما .

نصف قارة افريقيا الشمالى يمثل ثلثي مساحة القارة - يمر بها مدار السرطان .

نصف قارة افريقيا الجنوبى يمثل ثلث مساحة القارة - يمر بها مدار الجدي .

(٤) ما المقصود بالدول الساحلية ؟ مع ذكر مثال .

هي الدول تطل على بحار ومحيطات مثل دولة مصر والجزائر .

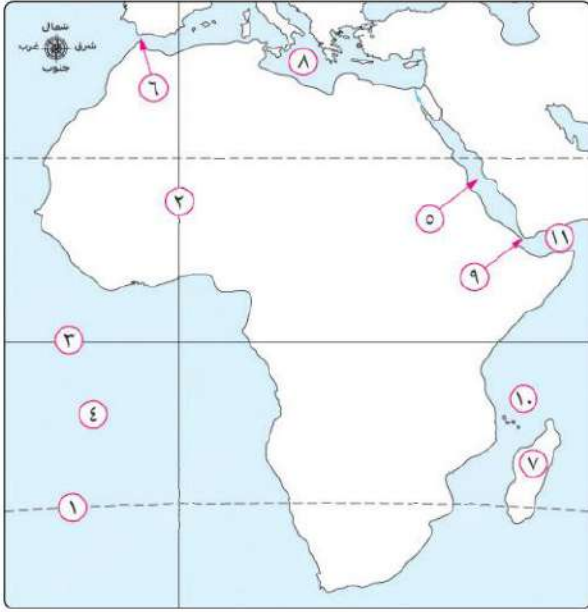
(٥) ما المقصود بالدول الحبيسة ؟ مع ذكر مثال .

هي الدول التي لا تطل على مسطحات مائية كالبهار والمحيطات مثل اثيوبيا وتشاد

مستّر: محمد عبد الصبور

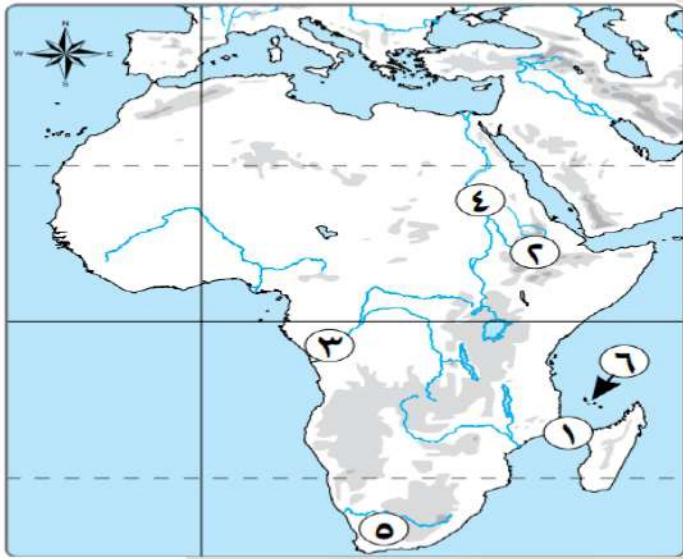
مستّر: محمد عبد الصبور

السؤال السابع : امامك خريطة لقارة افريقيا اكتب مدلول الارقام عليها



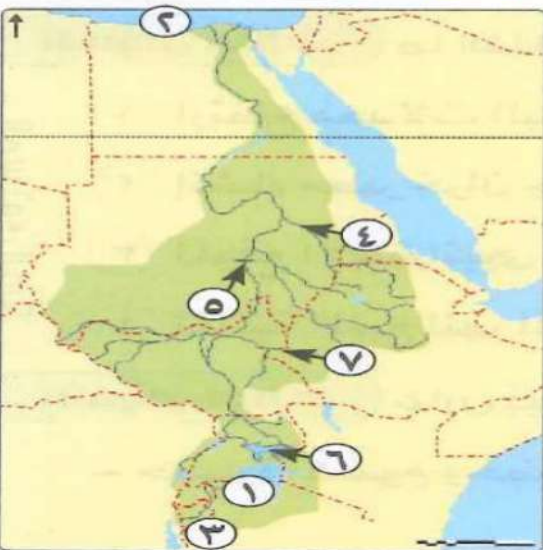
- ١- مدار الجدى .
- ٢- خط طول جرينتش .
- ٣- دائرة الاستواء .
- ٤- المحيط الاطلنطي .
- ٥- البحر الأحمر .
- ٦- مضيق جبل طارق .
- ٧- جزيرة مدغشقر .
- ٨- البحر المتوسط .
- ٩- مضيق باب المندب .
- ١٠- جزر القمر .
- ١١- خليج عدن .

السؤال السابع : امامك خريطة لقارة افريقيا اكتب مدلول الارقام عليها



- ١- مضيق موزمبيق .
- ٢- هضبة الحبشة .
- ٣- نهر الكونغو .
- ٤- نهر النيل .
- ٥- جبال التوائية الكاب .
- ٦- من اهم جزر افريقيا جزر القمر .

السؤال السابع : امامك خريطة لدول حوض النيل اكتب مدلول الارقام عليها



- ١- بحيرة فيكتوريا .
- ٢- البحر المتوسط .
- ٣- نهر كاجيرا .
- ٤- نهر عطبرة .
- ٥- خزان جبل الاولياء .
- ٦- بحيرة كيوجا .
- ٧- نهر السوبات .

اقوى مراجعة على الوحدة الثانية

مستّر: محمد عبد الصبور

السؤال الاول : أكمل العبارات الاتية بكلمات مناسبة

- ١- يعد العصر هو عصر التأسيس والبناء عند المصريين القدماء.
- ٢- أسس الملك نعرمر (مينا) عاصمة مصر الموحدة وهي مدينة
- ٣- بدأ عصر الدولة القديمة بحكم الأسرة الفرعونية
- ٤- تطور شكل بناء الأهرامات في عصر الدولة القديمة من إلى الهرم
- ٥- أهتم المصريون القدماء ببناء المعابد مثل: معابد
- ٦- اهتم المصريون القدماء بنحت التماثيل مثل التماثيل وتماثيل
- ٧- قام الملك خوفو بتشييد الهرم الأكبر على هضبة
- ٨- يظهر تمثال أبو الهول رأسه على شكل وجسمه على شكل
- ٩- شيد الملك أوسر كاف معابد في أبي صير بالجيزة .
- ١٠- انتشرت الفوضى في نهاية عصر الدولة القديمة خاصة في عهد الملك
- ١١- سمي عصر الدولة الوسطى بعصر مستّر: محمد عبد الصبور
- ١٢- استطاع الملك أن يسيطر على الوجه البحرى والقبلى بعد عصر الدولة القديمة .
- ١٣- يعتبر الملك أمنمحات الأول مؤسس الأسرة
- ١٤- من مظاهر اهتمام الملك أمنمحات الثالث بالزراعة إقامة سد
- ١٥- أنشأ الملك سنوسرت الثالث حصوناً فى جنوب مصر عند
- ١٦- كانت مدينة عاصمة مصر فى فترة حكم الملك منتوحتب الثاني .
- ١٧- استطاع الهكسوس احتلال مصر فى عصر
- ١٨- استطاع الملك إصلاح النظام الإدارى للدولة .
- ١٩- تم طرد الهكسوس من مصر على يد مستّر: محمد عبد الصبور
- ٢٠- بدأ الكفاح ضد الهكسوس من مدينة
- ٢١- اهتم ملوك الدولة الحديثة بالبعد الإفرقى ووجهوا حملات ورحلات نحو إفريقيا
- ٢٢- قامت أول ثورة دينية في مصر القديمة على يد
- ٢٣- مؤسس الدولة الحديثة في مصر القديمة الملك
- ٢٤- تمكن الملك أحمس الأول من طرد وتطهير أرض مصر .
- ٢٥- بعد طرد الهكسوس توجه أحمس نحو الجنوب بحملة إلى بلاد مستّر: محمد عبد الصبور
- ٢٦- أطلق على الموظف الذى يحكم الوحدة الممتدة من نبتة إلى شمال إفريقيا لقب
- ٢٧- من أشهر المعارك التى خاضها الملك تحتمس الثالث معركة
- ٢٨- أعاد الملك توت عنخ آمون عاصمة مصر إلى مدينة
- ٢٩- استكمل الملك رمسيس الثاني ما بدأه والده الملك من مبان .
- ٣٠- من أشهر المعارك التى خاضها الملك رمسيس الثاني معركة

السؤال الثاني : اكتب كلمة صواب امام العبارة الصحيحة وكلمة خطأ امام العبارة غير الصحيحة

- ١- يشمل العصر العتيق الأسرتين الثانية والثالثة . ()
- ٢- اهتم ملوك العصر العتيق بالطرق الصحراوية لتأمين التجارة المارة بها : **مستّر : محمد عبد الصبور** ()
- ٣- استخدم المصريون القدماء الألوان لتصميم صور جدارية على جدران المعابد . ()
- ٤- تغير أسلوب العمارة للمقابر الملكية في عهد الدولة القديمة . ()
- ٥- بعد الملك خوفو صاحب الهرم المدرج بسقارة . ()
- ٦- ازدهرت مصر في عهد الملك سنfro اجتماعيا وتجاريا وفنيا وعمرانيا . ()
- ٧- أرسل الملك سنfro أربعين سفينة إلى بلاد النوبة . ()
- ٨- شيد الملك أوسر كاف هرما في سقارة . ()
- ٩- سادت الصداقة والتعاون والتبادل الثقافي بين مصر وإفريقيا في عصر الدولة القديمة . ()
- ١٠- أمر الملك خفرع بنحت تمثال ابو الهول . ()
- ١١- تولت الملكة سبك نفرو بعد وفاة أمنمحات الثالث . ()
- ١٢- استطاع الهكسوس أن يستولوا على الوجه البحرى والقبلى لمصر . ()
- ١٣- عمل كامس على تأمين الحدود الجنوبية لمصر . **مستّر : محمد عبد الصبور** ()
- ١٤- استطاع أحمس أن يحرر مصر من الهكسوس . ()
- ١٥- أنشأ الملك منتوحتب الثانى عاصمة جديدة للبلاد سميت بـ «إثيت تاوى» . ()
- ١٦- استكملت الملكة سبك نفرو هرم أخيها في منطقة هواره . ()
- ١٧- يسمى عصر الأسرة الـ ١٧ الفرعونية عصر الشهداء . ()
- ١٨- كان بداية النضال الحقيقى ضد الهكسوس على يد سقنن رع الثانى . ()
- ١٩- كانت بلاد بونت ترسل الإمدادات للهكسوس في مصر . ()
- ٢٠- للمرأة المصرية قديما دور عسكرى مشرف مثل إياح حتب . ()
- ٢١- كان كفاح الملك أحمس ضد الهكسوس كفاحا مسلحا . **مستّر : محمد عبد الصبور** ()
- ٢٢- كانت عاصمة البلاد أثناء حكم الملك أحمس مدينة طيبة . ()
- ٢٣- اقتصر اهتمام ملوك الدولة الحديثة على البعد الآسيوى فقط دون الاهتمام بإفريقيا . ()
- ٢٤- تميزت مصر فى عصر الدولة الحديثة بتقديم ملحوظ فى كافة المجالات مما جعلها قوة عظمى ()
- ٢٥- الملك أحمس الأول هو الذى بدأ الكفاح ضد الهكسوس ونجح فى تحرير مصر من احتلالهم ()
- ٢٦- أرسلت الملكة حتشبسوت بعثات تجارية إلى بلاد بونت . ()
- ٢٧- قاد الملك تحتمس الثالث ١٦ حملة عسكرية فى آسيا وكان له دور كبير فى توسيع الإمبراطورية المصرية . **مستّر : محمد عبد الصبور** ()
- ٢٨- أعاد الملك توت عنخ آمون العاصمة إلى طيبة وأعاد لعبادة الإله آمون مكانتها . ()
- ٢٩- قاد الملك رمسيس الثانى معركة قادش ضد الحيثيين، وانتهت بعقد أول معاهدة سلام فى التاريخ ()
- ٣٠- تمكن مؤسس الأسرة الكوشية فى السودان القديم من السيطرة على معظم مصر وبدأت به الأسرة الـ ٢٥ . ()

السؤال الثالث : اكتب ما تشير اليه العبارات الآتية

- ١- عصر البناء والتأسيس عند المصريين القدماء .
- ٢- مقبرة أحد الملوك فى عصر الدولة القديمة أخذت شكل هرم مدرج . **مستر : محمد عبد الصبور**
- ٣- أول بناء حجرى ضخـم فى التاريخ .
- ٤- أرسل إليها الملك سنـفرو حملات عسكرية ليعيد الامن الى جنوب مصر .
- ٥- دولة ازدهرت التجارة الخارجية لمصر معها فى عهد الملك خوفو .
- ٦- أحد الفنون وصل إلى قمته فى عصر الملك خفرع .
- ٧- أصـلب أنواع الحجر الذى استخدمه الفنان المصرى القديم فى نحت التماثيل
- ٨- شعار ملوك مصر فى عصر الدولة القديمة واقتبسه ملوك أوغندا قديماً .
- ٩- الكتابة التى استخدمها المصرى القديم فى تدوين متون الأهرام .
- ١٠- دولة قامت بإمداد الهكسوس بالمؤن فترة احتلالهم لمصر .
- ١١- عاصمة مصر فترة حكم الملك أمنمحات الأول .
- ١٢- سد انشئ عند مدخل بحيرة موريـس .
- ١٣- المدينة التى أحكم بها ملوك الدولة الوسطى على الوجهين القبلى والبحري
- ١٤- قناة مائية ربطت بين البحر الاحمر والبحر المتوسط عن طريق النيل . **مستر : محمد عبد الصبور**
- ١٥- مدينة اقيمت فى الاسرة الاولى واستولت عليها القبائل التى جاءت من وسط اسيا واسقطت الاسرة الثانية عشرة .

السؤال الرابع : اختر الإجابة الصحيحة مما بين الأقواس

- ١- يشمل عصر الدولة القديمة الأسرات من الأسرة الثالثة حتى نهاية الأسرة
(الرابعة - الخامسة - السادسة - السابعة)
- ٢- اهتم المصريون القدماء ببناء الأهرامات بداية من الأسرة
(الثالثة - الرابعة - الخامسة - السادسة) **مستر : محمد عبد الصبور**
- ٣- أقام الملك زوسر هرمه المدرج فى
(منف - بوتو - نخب - سقارة)
- ٤- قام الملك زوسر ببناء هرم مدرج يتكون من مصاطب .
(خمس - ست - سبع - ثمانى - تسع)
- ٥- اعتمد الملك سنـفرو على جلب خشب الأرز من
(النوبة - سيناء - بون - فينيقيا) **مستر : محمد عبد الصبور**
- ٦- صاحب الهرم الأوسط ووصل فن النحت فى عصره إلى قمته
(سنـفرو - خوفو - خفرع - اوسر كاف)
- ٧- ازداد نفوذ كهنة الإله فى نهاية الأسرة الرابعة الفرعونية .
(رع - آمون - اوزوريس - إيزيس) **مستر : محمد عبد الصبور**
- ٨- شيد الملك أوسركاف المعابد المكشوفة فى
(الجيزة - الفيوم - سوهاج - الأقصر)

- ٩- أحد ملوك عصر الدولة القديمة، وهو أول من كتب نصوص الأهرام
(خوفو - خفرع - سنفر - أوناس)
- ١٠- انتهى عصر الاضمحلال الأول وتوحدت البلاد مرة أخرى على يد ملوك الأسرة
(السادسة - السابعة - العاشرة - الحادية عشرة)
- ١١- وجه التشابه بين أعمال الملك مينا والملك منتوحتب الثاني هو
(توحيد البلاد - إنشاء عاصمة جديدة - مقاومة المحتل - تحصين البلاد)
- ١٢- كانت أرض كوش تزود الهكسوس بالإمدادات حتى جاء
(سقن رع الأول - سقن رع الثاني - كامس - أحمس)
- ١٣- تشابهت أعمال الملك أمنمحات الأول مع الملك منتوحتب الثاني في
(إنشاء عاصمة جديدة - بناء الأهرامات - الحد من نفوذ حكام الأقاليم - مؤسس أسرة جديدة)
- ١٤- يرمز اسم الإله سبك عند المصريين القدماء إلى
(الخصوبة - القوة - الموت - العدالة)
- ١٥- بدأ الضعف في عصر الرخاء الاقتصادي بعد وفاة الملك
(أمنمحات الثالث - أمنمحات الرابع - سبك تفرو - سنوسرت الثالث)
- ١٦- تأسس عصر الدولة الوسطي على يد حكام مدينة
(طيبة - اواريس - اثيت تاوي - من نفر)
- ١٧- اتسعت رقعة الدولة المصرية في عهد الملك منتوحتب الثاني جهة
(الشمال - الجنوب - الشرق - الغرب)
- ١٨- الشعوب التي مثلت خطراً على الحدود الغربية لمصر في عصر الأسرة الثانية عشر هي
(الليبين - الاسيويين - النوبيين - الفينيقيين)
- ١٩- اتخذ الهكسوس من مدينة
(طيبة - اواريس - اثيت تاوي - من نفر) عاصمة لهم .
- ٢٠- تم تحرير جزء كبير من مصر الوسطي من يد الهكسوس على يد
(أمنمحات الرابع - سقن رع - كامس - أحمس)
- ٢١- تكونت أول إمبراطورية مصرية في عصر
(الدولة القديمة - الدولة الوسطى - الدولة الحديثة - الاضمحلال الأول)
- ٢٢- أرسلت الملكة
(حتشبسوت - كليوباترا - نفرتاري - نفرتيتي) بعثات تجارية إلى بلاد بونت .
- ٢٣- اتجه الملك تحتمس الأول بعد استقرار مصر إلى جهة
(الجنوب - الشمال - الغرب - الشرق)
- ٢٤- قام الملك
(أحمس - تحتمس الثالث - رمسيس الثاني - توت عنخ آمون) بحملته الـ ١٧ على بلاد كوش .
- ٢٥- أكثر اهتمامات الملك توت عنخ آمون كانت ممثلة في
(المعارك - الانتصارات - الحملات - الإصلاحات)

٢٦- بنى الملك رمسيس الثانى معبدا بأبوسمبل لزوجته الملكة

(حتشبسوت - كليوباترا - نفرتارى - نفرتيتي)

مستر : محمد عبد الصبور

٢٧- أعاد لعبادة آمون مكانتها .

(أحمس - توت عنخ آمون - تحتمس الثالث - حتشبسوت)

٢٨- قامت معركة مجدو بسبب خروج امراء على الحكم المصري . (اسيا - افريقيا - اوربا)

٢٩- تم اكتشاف مقبرة توت عنخ آمون عام ١٩٢٢ م في وادي الملوك بالبر الغربي لمدينة

(الأقصر - اللشت - دهشور - نبتة)

٣٠- أمر الملك رمسيس الثانى بنحت معبدين في منطقة (أبوسمبل - الاقصر - نبتة - منف)

السؤال الخامس : لمن تنسب الاعمال الآتية

١- قام بطرد القبائل الآسيوية التي دخلت مصر عن طريق الشام .

٢- انشا سلسلة من الحصون على الحدود الغربية للدلتا .

٣- أقام سد اللاهون عند مدخل بحيرة مورييس .

٤- حفر قناة تربط بين البحر الأحمر والبحر المتوسط عن طريق نهر النيل .

٥- قام بإنشاء حصون قمنة وسمنة عند الجندل الثاني .

٦- أحد ملوك الدولة الوسطى وقام بالتوسع جنوباً وإرسال بعثة إلى بلاد بونت عبر الصحراء.

٧- تولت الحكم عقب وفاة امنمحات الرابع .

٨- نقل عاصمة البلاد من طيبة الى اثيث تاوى .

٩- أجبر أمير كوش على قطع الامدادات التى كانت تصل للهكسوس عن طريق النيل

١٠- بناء معبدين فى أبو سمبل أحدهما له والآخر لزوجته .

١١- توسيع السيطرة على المناطق الجنوبية وضم مدينة نبتة إلى حدود مصر.

١٢- قيادة الحملات العسكرية إلى آسيا وتحقيق انتصارات كبيرة وإقامة إمبراطورية كبيرة

امتدت إلى ما وراء الجندل الرابع .

١٣- إعادة بناء المعابد وتجديد عبادة الإله آمون بعد فترة من التغيير الديني

١٤- قاد الحملات العسكرية ضد الليبيين وأصلح الإدارة الداخلية لمصر .

١٥- أقامت مسلتين شاهقتين في معبد الكرنك .

١٦- قاد الحملات العسكرية الكبرى إلى بلاد كوش .

١٧- هزم شعوب البحر المتوسط فى عصر الدولة الحديثة .

١٨- بدأ فى بناء معبد أبيدوس فى عصر الدولة الحديثة .

١٩- أبرم اول معاهدة سلام دولية مسجلة فى التاريخ .

٢٠- قاد حملة عسكرية فى اسيا وبني اسطول حربي قوي .

السؤال السادس : صوب ما تحته خط

١- أقام الملك أمنمحات الثالث مقياساً للنيل عند الجندل الأول .

- ٢- استطاع الملك أمنمحات الأول بناء حصن قمنه وسمنة .
- ٣- اتخذ الهكسوس مدينة طيبة عاصمة لهم .
- ٤- ساندت سبك نفرو زوجها في الكفاح ضد الهكسوس .
- ٥- بعد سقوط مدينة أواريس فر الهكسوس إلى العراق .
- ٦- كان يستورد المصريون القدماء الحلي والمجوهرات والعطور من ليبيا .
- ٧- نجح الملك منتوحتب الثاني في الانتصار على ملوك منف في الشمال .
- ٨- من أشهر ملكات مصر وقامت بانجازات سياسية وثقافية وعمرانية نفرتيتي .
- ٩- يعتبر الملك توت عنخ آمون ملك الحرب والسلام .
- ١٠- أشهر المعارك التي خاضها رمسيس الثاني معركة مجدو .
- ١١- بدأت الأسرة (٢٥) في مصر بالملوك الكوشيين وظل احتلالهم لمصر قرابة قرنين من الزمان .

السؤال الثامن : أجب عن الاسئلة التالية

(١) بم تفسر :-

مستر : محمد عبد الصبور

- ١- سمي عصر الدولة القديمة بعصر بناء الأهرام .
- ٢- اهتمام المصريين في عصر الدولة القديمة بنحت التماثيل الملكية .
- ٣- أهمية نصوص الأهرام على جدران المقابر .
- ٤- إرسال الملك سنfro أسطولاً بحرياً إلى فينيقيا .
- ٥- إرسال الملك سنfro حملة إلى بلاد النوبة .
- ٦- قيام المصريين بثورة عارمة نهاية عصر الدولة القديمة .
- ٧- تعد فترة حكم الملك منتوحتب الثاني بداية لمجد الأسرة الحادية عشرة .

مستر : محمد عبد الصبور

- ٨- إنشاء مدينة إثيت تاوى في عصر الدولة الوسطى .
- ٩- اقام امنمحات الثالث مقاييس على النيل .
- ١٠- قيام الأمير كامس بشن حملة مفاجئة على أرض كوش .

- ١١- إنشاء الملك أمنمحات الأول خصوصاً على الحدود الغربية للدلتا .
١٢- إنشاء الملك أمنمحات الثالث سد اللاهون .

مستّر: محمد عبد الصبور

- ١٣- أهمية وجود جيش قوى لمصر فى عصر الدولة الحديثة .
١٤- قيام الملك تحتمس الأول بوضع المنطقة من نبتة إلى شمال إدفو تحت حكم وحدة واحدة .

- ١٤- يعد تحتمس الثالث صاحب عقلية عسكرية متميزة .

مستّر: محمد عبد الصبور

- ١٥- شهرة الملك توت عنخ آمون .

- ١٦- أخذ الملك تحتمس الثالث إلى مصر بعض أبناء الأمراء الذين حاربوه .

مستّر: محمد عبد الصبور

- ١٧- ضعف مصر بعد حكم رمسيس الثالث .

(٢) ما النتائج المترتبة على :-

- ١- كان الملك سنفرى ملكاً عظيماً عادلاً فى رعيته .
٢- ظهور الاسرة الحادية عشر .
٣- قيام الملك أوناس بكتابة نصوص الأهرام .
٤- تدهور أحوال مصر الاقتصادية والاجتماعية فى نهاية عصر الاسرة السادسة الفرعونية .
٥- صعدت ملوك الدولة الوسطى بعد عصر الملك أمنمحات الثالث .
٦- دار صراع بين المصريين والكوشيين فى عصر الاسرة ٢٤ .

مستّر: محمد عبد الصبور

مستّر: محمد عبد الصبور

- ٧- حفر قناة سيزوستريس .
٨- اهتمام الملك سنوسرت الثالث بالحد الجنوبي المصرى .

٩- انشاء سد اللاهون .

مستّر: محمد عبد الصبور

١٠- وجود جيش قوى فى عصر الدولة الحديثة .

١١- توجه الملك أحمس إلى الجنوب بعد طرد الهكسوس .

١٢- معركة قادش فى عهد رمسيس الثانى .

(٢) دّل على صحة العبارة :-

١- تطور شكل المقابر فى عصر الدولة القديمة .

مستّر: محمد عبد الصبور

٢- برع المصريون فى عصر الدولة القديمة فى فن النحت .

٣- يرجع الفضل للملك أمنمحات الأول فى نهضة البلاد .

٤- أصبحت مصر تمتلك طريق تجارة دوليا فى عهد الملك سنوسرت الثالث .

٥- امتاز عهد الملك أمنمحات الثالث بالتنمية الاقتصادية .

مستّر: محمد عبد الصبور

٦- أنهت الملكة سبك نفرو ما بدأه الملك أمنمحات الثالث .

مستّر: محمد عبد الصبور

٧- كان الإياح حتب دور هام فى تحرير البلاد من الهكسوس .

٨- يعتبر الملك رمسيس الثانى ملك الحرب والسلام .

مستّر: محمد عبد الصبور

٩- اكتشاف مقبرة توت عنخ آمون نقطة تحول فى معرفتنا للحضارة المصرية القديمة .

اقوى مراجعة على الوحدة الثانية

مستّر: محمد عبد الصبور

السؤال الاول : أكمل العبارات الاتية بكلمات مناسبة

- ١- يعد العصر العتيق هو عصر التأسيس والبناء عند المصريين القدماء.
- ٢- أسس الملك نعرمر (مينا) عاصمة مصر الموحدة وهي مدينة من نفر.
- ٣- بدا عصر الدولة القديمة بحكم الأسرة الفرعونية الثالثة.
- ٤- تطور شكل بناء الأهرامات في عصر الدولة القديمة من مقبرة ذات مصطبة إلى الهرم الكامل.
- ٥- أهتم المصريون القدماء ببناء المعابد مثل: معابد الالهة.
- ٦- اهتم المصريون القدماء بنحت التماثيل مثل التماثيل الملكية وتماثيل النبلاء.
- ٧- قام الملك خوفو بتشييد الهرم الأكبر على هضبة الجيزة.
- ٨- يظهر تمثال أبو الهول رأسه على شكل انسان وجسمه على شكل أسد.
- ٩- شيد الملك أوسر كاف معابد الشمس في أبي صير بالجيزة.
- ١٠- انتشرت الفوضى في نهاية عصر الدولة القديمة خاصة في عهد الملك بيبى الثاني.
- ١١- سمي عصر الدولة الوسطى بعصر الرخاء الاقتصادي.
- ١٢- استطاع الملك منتوحتب الثاني أن يسيطر على الوجه البحرى والقبلى بعد عصر الدولة القديمة.
- ١٣- يعتبر الملك أمنمحات الأول مؤسس الأسرة الثانية عشر.
- ١٤- من مظاهر اهتمام الملك أمنمحات الثالث بالزراعة إقامة سد اللاهون.
- ١٥- أنشأ الملك سنوسرت الثالث حصوناً فى جنوب مصر عند الجندل الثاني.
- ١٦- كانت مدينة طيبة عاصمة مصر فى فترة حكم الملك منتوحتب الثاني.
- ١٧- استطاع الهكسوس احتلال مصر فى عصر الاضمحلال الثاني.
- ١٨- استطاع الملك منتوحتب الثاني إصلاح النظام الإدارى للدولة.
- ١٩- تم طرد الهكسوس من مصر على يد أحمس الأول.
- ٢٠- بدأ الكفاح ضد الهكسوس من مدينة طيبة.
- ٢١- اهتم ملوك الدولة الحديثة بالبعد الإفريقى ووجهوا حملات عسكرية ورحلات تجارية نحو إفريقيا.
- ٢٢- قامت أول ثورة دينية فى مصر القديمة على يد اخناتون.
- ٢٣- مؤسس الدولة الحديثة فى مصر القديمة الملك أحمس الأول.
- ٢٤- تمكن الملك أحمس الأول من طرد الهكسوس وتطهير أرض مصر.
- ٢٥- بعد طرد الهكسوس توجه أحمس نحو الجنوب بحملة إلى بلاد النوبة.
- ٢٦- أطلق على الموظف الذى يحكم الوحدة الممتدة من نبتة إلى شمال إدفو لقب الابن الملكى لكوش.
- ٢٧- من أشهر المعارك التى خاضها الملك تحتمس الثالث معركة مجدو.
- ٢٨- أعاد الملك توت عنخ آمون عاصمة مصر إلى مدينة طيبة.
- ٢٩- استكمل الملك رمسيس الثاني ما بدأه والده الملك سيتي الاول من مبان.
- ٣٠- من أشهر المعارك التى خاضها الملك رمسيس الثاني معركة قادش.

مستّر: محمد عبد الصبور

السؤال الثاني : اكتب كلمة صواب امام العبارة الصحيحة وكلمة خطأ امام العبارة غير الصحيحة

- ١- يشمل العصر العتيق الأسرتين الثانية والثالثة . (خطأ)
- ٢- اهتم ملوك العصر العتيق بالطرق الصحراوية لتأمين التجارة المارة بها . (صواب)
- ٣- استخدم المصريون القدماء الألوان لتصميم صور جدارية على جدران المعابد . (صواب)
- ٤- تغير أسلوب العمارة للمقابر الملكية في عهد الدولة القديمة . (صواب)
- ٥- بعد الملك خوفو صاحب الهرم المدرج بسقارة . (خطأ)
- ٦- ازدهرت مصر في عهد الملك سنفر و اجتماعيا وتجاريا وفنيا وعمرانيا . (صواب)
- ٧- أرسل الملك سنفر أربعين سفينة إلى بلاد النوبة . (خطأ)
- ٨- شيد الملك أوسر كاف هرما في سقارة . (خطأ)
- ٩- سادت الصداقة والتعاون والتبادل الثقافي بين مصر وإفريقيا في عصر الدولة القديمة . (صواب)
- ١٠- أمر الملك خفرع بنحت تمثال ابو الهول . (صواب)
- ١١- تولت الملكة سبك نفرو بعد وفاة أمنمحات الثالث . (خطأ)
- ١٢- استطاع الهكسوس أن يستولوا على الوجه البحرى والقبلى لمصر . (خطأ)
- ١٣- عمل كامس على تأمين الحدود الجنوبية لمصر . (صواب)
- ١٤- استطاع أحمس أن يحرر مصر من الهكسوس . (صواب)
- ١٥- أنشأ الملك منتوحتب الثانى عاصمة جديدة للبلاد سميت بـ إثيث تاوى . (خطأ)
- ١٦- استكملت الملكة سبك نفرو هرم أخيها في منطقة هواره . (خطأ)
- ١٧- يسمى عصر الأسرة الـ ١٧ الفرعونية عصر الشهداء . (خطأ)
- ١٨- كان بداية النضال الحقيقى ضد الهكسوس على يد سقن رع الثانى . (صواب)
- ١٩- كانت بلاد بونت ترسل الإمدادات للهكسوس في مصر . (خطأ)
- ٢٠- للمرأة المصرية قديما دور عسكرى مشرف مثل إياح حتب . (صواب)
- ٢١- كان كفاح الملك أحمس ضد الهكسوس كفاحا مسلحا . (خطأ)
- ٢٢- كانت عاصمة البلاد أثناء حكم الملك أحمس مدينة طيبة . (صواب)
- ٢٣- اقتصر اهتمام ملوك الدولة الحديثة على البعد الآسيوى فقط دون الاهتمام بإفريقيا . (خطأ)
- ٢٤- تميز عصر الدولة الحديثة بتقديم ملحوظ في كافة المجالات مما جعلها قوة عظمى . (صواب)
- ٢٥- الملك أحمس الأول هو الذى بدأ الكفاح ضد الهكسوس ونجح فى تحرير مصر من احتلالهم . (خطأ)
- ٢٦- أرسلت الملكة حتشبسوت بعثات تجارية إلى بلاد بونت . (صواب)
- ٢٧- قاد الملك تحتمس الثالث ١٦ حملة عسكرية في آسيا وكان له دور كبير في توسيع الإمبراطورية المصرية . (صواب)
- ٢٨- أعاد الملك توت عنخ آمون العاصمة إلى طيبة وأعاد لعبادة الإله آمون مكانتها . (صواب)
- ٢٩- قاد رمسيس الثانى معركة قادش ضد الحيثيين وانتهت بعقد أول معاهدة سلام في التاريخ . (صواب)
- ٣٠- تمكن مؤسس الأسرة الكوشية فى السودان القديم من السيطرة على معظم مصر وبدأت به الأسرة الـ ٢٥ . (صواب)

السؤال الثالث : اكتب ما تشير اليه العبارات الآتية

- ١- عصر البناء والتأسيس عند المصريين القدماء .
- ٢- مقبرة أحد الملوك في عصر الدولة القديمة أخذت شكل هرم مدرج .
- ٣- أول بناء حجري ضخيم في التاريخ .
- ٤- أرسل إليها الملك سنfro حملات عسكرية ليعيد الامن الى جنوب مصر .
- ٥- دولة ازدهرت التجارة الخارجية لمصر معها في عهد الملك خوفو .
- ٦- أحد الفنون وصل إلى قمته في عصر الملك خفرع .
- ٧- أصلب أنواع الحجر الذي استخدمه الفنان المصري القديم في نحت التماثيل
- ٨- شعار ملوك مصر في عصر الدولة القديمة واقتبسه ملوك أوغندا قديمًا .
- ٩- الكتابة التي استخدمها المصري القديم في تدوين متون الأهرام .
- ١٠- بلاد قامت بإمداد الهكسوس بالموث فترة احتلالهم لمصر .
- ١١- عاصمة مصر فترة حكم الملك أمنمحات الأول .
- ١٢- سد انشئ عند مدخل بحيرة موريث .
- ١٣- المدينة التي أحكم بها ملوك الدولة الوسطى على الوجهين القبلي والبحري
- ١٤- قناة مائية ربطت بين البحر الأحمر والبحر المتوسط عن طريق النيل .
- ١٥- مدينة اقيمت في الاسرة الاولى واستولت عليها القبائل التي جاءت من وسط اسيا واسقطت الاسرة الثانية عشرة .

السؤال الرابع : اختر الإجابة الصحيحة مما بين الأقواس

- ١- يشمل عصر الدولة القديمة الأسرات من الأسرة الثالثة حتى نهاية الأسرة
- (الرابعة - الخامسة - السادسة - السابعة)
- ٢- اهتم المصريون القدماء ببناء الأهرامات بداية من الأسرة
- (الثالثة - الرابعة - الخامسة - السادسة)
- ٣- أقام الملك زوسر هرمه المدرج في
- (منف - بوتو - نخب - سقارة)
- ٤- قام الملك زوسر ببناء هرم مدرج يتكون من مصاطب .
- (خمس - ست - سبع - ثمانى - تسع)
- ٥- اعتمد الملك سنfro على جلب خشب الأرز من
- (النوبة - سيناء - بون - فينيقيا)
- ٦- صاحب الهرم الأوسط ووصل فن النحت في عصره إلى قمته
- (سنfro - خوفو - خفرع - اوسر كاف)
- ٧- ازداد نفوذ كهنة الإله في نهاية الأسرة الرابعة الفرعونية .
- (رع - آمون - اوزوريس - إيزيس)
- ٨- شيد الملك أوسركاف المعابد المكشوفة في
- (الجيزة - الفيوم - سوهاج - الأقصر)
- ٩- أحد ملوك عصر الدولة القديمة، وهو أول من كتب نصوص الأهرام
- (خوفو - خفرع - سنfro - أوناس)

- ١٠- انتهى عصر الاضمحلال الأول وتوحدت البلاد مرة أخرى على يد ملوك الأسرة
(السادسة - السابعة - العاشرة - الحادية عشرة)
- ١١- وجه التشابه بين أعمال الملك مينا والملك منتوحتب الثاني هو
(توحيد البلاد - إنشاء عاصمة جديدة - مقاومة المحتل - تحصين البلاد)
- ١٢- كانت أرض كوش تزود الهكسوس بالإمدادات حتى جاء
(سقتن رع الأول - سقتن رع الثاني - كامس - أحمس)
- ١٣- تشابهت أعمال الملك أمنمحات الأول مع الملك منتوحتب الثاني في
(إنشاء عاصمة جديدة - بناء الأهرامات - الحد من نفوذ حكام الأقاليم - مؤسس أسرة جديدة)
- ١٤- يرمز اسم الإله سبك عند المصريين القدماء إلى
(الخصوبة - القوة - الموت - العدالة)
- ١٥- بدأ الضعف في عصر الرخاء الاقتصادي بعد وفاة الملك
(أمنمحات الثالث - أمنمحات الرابع - سبك تفرو - سنوسرت الثالث)
- ١٦- تأسس عصر الدولة الوسطي على يد حكام مدينة
(طيبة - اواريس - اثيت تاوي - من نفر)
- ١٧- اتسعت رقعة الدولة المصرية في عهد الملك منتوحتب الثاني جهة
(الشمال - الجنوب - الشرق - الغرب)
- ١٨- الشعوب التي مثلت خطراً على الحدود الغربية لمصر في عصر الاسرة الثانية عشر هي
(الليبين - الاسيويين - النوبيين - الفينيقيين)
- ١٩- اتخذ الهكسوس من مدينة عاصمة لهم .
(طيبة - اواريس - اثيت تاوي - من نفر)
- ٢٠- تم تحرير جزء كبير من مصر الوسطي من يد الهكسوس على يد
(أمنمحات الرابع - سقتن رع - كامس - أحمس)
- ٢١- تكونت أول إمبراطورية مصرية في عصر
(الدولة القديمة - الدولة الوسطى - الدولة الحديثة - الاضمحلال الأول)
- ٢٢- أرسلت الملكة بعثات تجارية إلى بلاد بونت .
(حتشبسوت - كليوباترا - نفرتاري - نفرتيتي)
- ٢٣- اتجه الملك تحتمس الأول بعد استقرار مصر إلى جهة
(الجنوب - الشمال - الغرب - الشرق)
- ٢٤- قام الملك بحملته الـ ١٧ على بلاد كوش .
(أحمس - تحتمس الثالث - رمسيس الثاني - توت عنخ آمون)
- ٢٥- أكثر اهتمامات الملك توت عنخ آمون كانت ممثلة في
(المعارك - الانتصارات - الحملات - الإصلاحات)
- ٢٦- بنى الملك رمسيس الثاني معبداً بأبوسمبل لزوجته الملكة
(حتشبسوت - كليوباترا - نفرتاري - نفرتيتي)

٢٧- أعاد لعبادة آمون مكانتها .

(أحمس - توت عنخ آمون - تحتمس الثالث - حتشبسوت)

٢٨- قامت معركة مجدو بسبب خروج امراء على الحكم المصري . (اسيا - افريقيا - اوربا)

٢٩- تم اكتشاف مقبرة توت عنخ آمون عام ١٩٢٢ م في وادي الملوك بالبر الغربي لمدينة

(الأقصر - اللشت - دهشور - نبتة)

٣٠- أمر الملك رمسيس الثاني بنحت معبدتين في منطقة (أبوسمبل - الاقصر - نبتة - منف)

السؤال الخامس : لمن تنسب الاعمال الاتية

الملك احمس

امنحات الاول

امنحات الثالث

سنوسرت الثالث

سنوسرت الثالث

١- قام بطرد القبائل الآسيوية التي دخلت مصر عن طريق الشام .

٢- انشا سلسلة من الحصون على الحدود الغربية للدلتا .

٣- أقام سد اللاهون عند مدخل بحيرة مورييس .

٤- حفر قناة تربط بين البحر الأحمر والبحر المتوسط عن طريق نهر النيل .

٥- قام بإنشاء حصون قمنة وسمنة عند الجندل الثاني .

٦- أحد ملوك الدولة الوسطى وقام بالتوسع جنوبًا وإرسال بعثة إلى بلاد بونت عبر الصحراء .

مستّر : منتوحتب الثاني

سبك نفرو

امنحات الاول

كامس

رمسيس الثاني

تحتمس الثالث

تحتمس الثالث

تحتمس الثالث

٧- تولت الحكم عقب وفاة امنحات الرابع .

٨- نقل عاصمة البلاد من طيبة الى اثيت تاوى .

٩- أجبر أمير كوش على قطع الامدادات التي كانت تصل للهكسوس عن طريق النيل كامس

١٠- بناء معبدتين في أبو سمبل أحدهما له والآخر لزوجته .

١١- توسيع السيطرة على المناطق الجنوبية وضم مدينة نبتة إلى حدود مصر تحتمس الثالث

١٢- قيادة الحملات العسكرية إلى آسيا وتحقيق انتصارات كبيرة وإقامة إمبراطورية كبيرة

امتدت إلى ما وراء الجندل الرابع .

١٣- إعادة بناء المعابد وتجديد عبادة الإله آمون بعد فترة من التغيير الديني . توت عنخ آمون

١٤- قاد الحملات العسكرية ضد الليبيين وأصلح الإدارة الداخلية لمصر . رمسيس الثالث

١٥- أقامت مسلتين شاهقتين في معبد الكرنك . رمسيس الثاني

١٦- قاد الحملات العسكرية الكبرى إلى بلاد كوش . تحتمس الثالث

١٧- هزم شعوب البحر المتوسط في عصر الدولة الحديثة . رمسيس الثالث

١٨- بدأ في بناء معبد أبيدوس في عصر الدولة الحديثة . سيتي الاول

١٩- أبرم اول معاهدة سلام دولية مسجلة في التاريخ . رمسيس الثاني

٢٠- قاد ١٦ حملة عسكرية في اسيا وبني اسطول حربي قوي . تحتمس الثالث

السؤال السادس : صوب ما تحته خط

الجندل الثاني

سنوسرت الثالث

اواريس

١- أقام الملك أمنحات الثالث مقياسًا للنيل عند الجندل الأول .

٢- استطاع الملك أمنحات الأول بناء حصن قمنة وسمنة .

٣- اتخذ الهكسوس مدينة طيبة عاصمة لهم .

- ٤- ساندت سبك نفرو زوجها في الكفاح ضد الهكسوس .
- ٥- بعد سقوط مدينة أواريس فر الهكسوس إلى العراق .
- ٦- كان يستورد المصريون القدماء الحلي والمجوهرات والعطور من ليبيا : كوش : عبد الصبور
- ٧- نجح الملك منتوحتب الثاني في الانتصار على ملوك منف في الشمال .
- ٨- من أشهر ملكات مصر وقامت بانجازات سياسية وثقافية وعمرانية نفرتيتي .
- ٩- يعتبر الملك توت عنخ آمون ملك الحرب والسلام .
- ١٠- أشهر المعارك التي خاضها رمسيس الثاني معركة مجدو .
- ١١- بدأت الأسرة (٢٥) في مصر بالملوك الكوشيين وظل احتلالهم لمصر قرابة قرنين من الزمان .

السؤال الثامن : أجب عن الاسئلة التالية

(١) بم تفسر :-

- ١- سمي عصر الدولة القديمة بعصر بناء الأهرام .
- لاهتمام ملوكه ببناء مقابرهم على شكل اهرامات .
- ٢- اهتمام المصريين في عصر الدولة القديمة بنحت التماثيل الملكية .
- بسبب اعتقادهم في قدسية الملك .
- ٣- أهمية نصوص الأهرام على جدران المقابر .
- لأنها أمدتنا بالكثير من المعلومات المهمة عن المعتقدات الدينية للمصريين القدماء .
- ٤- إرسال الملك سنfro أسطولاً بحرياً إلى فينيقيا .
- لاحضار اخشاب شجر الأرز .
- ٥- إرسال الملك سنfro حملة إلى بلاد النوبة .
- ليعيد الأمن الى حدود مصر الجنوبية .
- ٦- قيام المصريين بثورة عارمة نهاية عصر الدولة القديمة .
- بسبب زيادة الأعباء والمظالم على كاهل الفلاح المصري .
- ٧- تعد فترة حكم الملك منتوحتب الثاني بداية لمجد الأسرة الحادية عشرة .
- لأنه قام بعد اعمال :-
- * نجح في الانتصار على ملوك اهناسيا في الشمال .
- * حاول إعادة السلطة المركزية القوية .
- * اهتم بتجميل طيبة وانشاء المعابد فيها .
- * توسع جنوباً وارسل بعثة تجارية الى بلاد بونت
- ٨- إنشاء مدينة إيثت تاوى في عصر الدولة الوسطى .
- لتكون في مكان وسط بين الوجهين البحري والقبلي لكي يسيطر على كل انحاء البلاد .
- ٩- اقام امنمحات الثالث مقاييس على النيل .
- لمراقبة ارتفاع منسوب مياه النيل عند الجندل الثاني .
- ١٠- قيام الأمير كامس بشن حملة مفاجئة على أرض كوش .
- لاجبار اميرها على قطع الامدادات التي تصل الى الهكسوس عن طريق النيل .
- ١١- إنشاء الملك أمنمحات الأول حصوناً على الحدود الغربية للدلتا .
- لحماية مصر من الغارات الليبية .
- ١٢- إنشاء الملك أمنمحات الثالث سد اللاهون .
- * لتخزين مياه الفيضان .
- * التوسع في مساحات الاراضى الزراعية .
- * حماية البلاد من المجاعة التي قد تسببها نتيجة انخفاض منسوب مياه نهر النيل .

١٣- أهمية وجود جيش قوى لمصر فى عصر الدولة الحديثة .

لأنه يحافظ على النظام والاستقرار الداخلى لمصر وحماها من الاخطار والتهديدات الخارجية .

١٤- قيام الملك تحتمس الأول بوضع المنطقة من نبتة إلى شمال إدفو تحت حكم وحدة واحدة .
ليعيد تنظيم أمور الجنوب .

١٥- يعد تحتمس الثالث صاحب عقلية عسكرية متميزة .

لأنه بعدما انتصر على امراء اسيا اتبع معهم سياسات سلمية وثبتهم فى وظائفهم .

١٦- شهرة الملك توت عنخ آمون .

لاكتشاف مقبرته كاملة ١٩٢٢ م فى وادي الملوك فى البر الغربى بالاقصر والتي احتوت على روائع

فنية وكنوز اثرية لا مثيل لها والتي تدل على تقدم الفنون المصرية .

١٧- أخذ الملك تحتمس الثالث إلى مصر بعض أبناء الأمراء الذين حاربوه .

ليتعلموا العادات والتقاليد المصرية ويغرس فى نفوسهم حب مصر حتى اذا ما عادوا لبلادهم وتولوا الحكم اصبحوا من اتباعه المخلصين .

١٨- ضعف مصر بعد حكم رمسيس الثالث .

بسبب ضعف الملوك وتدخل كهنة آمون بطيبة فى شئون الحكم .

مستّر: محمد عبد الصبور

(٢) ما النتائج المترتبة على :-

١- كان الملك سنفرى ملكاً عظيماً عادلاً فى رعيته . أدى الى لقبه المصريون بالملك المحسن المحبوب .

٢- ظهور الاسرة الحادية عشر .

أدى ذلك الى عودة مصر لوحدها وبذلك بدأ عصر جديد من النهضة والتقدم .

٣- قيام الملك أوناس بكتابة نصوص الأهرام .

أدى الى حماية الملك فى الحياة الآخرة وامتدنا بالكثير من المعلومات عن معتقدات المصريين القدماء .

٤- تدهور أحوال مصر الاقتصادية والاجتماعية فى نهاية عصر الأسرة السادسة الفرعونية .

مما دفع المصريين للقيام بثورة عارمة . مستّر: محمد عبد الصبور

٥- ضعف ملوك الدولة الوسطى بعد عصر الملك أمنمحات الثالث .

أدى ذلك الى تعرض البلاد للاطماع الخارجية حتى سقطت فريسة على يد الهكسوس .

٦- دار صراع بين المصريين والكوشيين فى عصر الاسرة ٢٤ . انتهى هذا الصراع بـ :-

* سيطرة الملك الكوشي على معظم مصر .

* أسس الكوشيون الاسرة ٢٥ واستمر احتلالهم لمصر قرابة قرن من الزمان .

* نجح ملوك الاسرة ٢٦ فى استعادة استقلال مصر ومد نفوذها فى افريقيا . مستّر: محمد عبد الصبور

٧- حفر قناة سيزوستريس . أدى ذلك الى زيادة حركة التجارة بين مصر وجيرانها .

٨- اهتمام الملك سنوسرت الثالث بالحد الجنوبي المصرى .

حيث قام ببناء الحصون مثل حصن سمنا وقمنا عند الجندل الثانى . مستّر: محمد عبد الصبور

٩- انشاء سد اللاهون .

أدى الى تخزين مياه الفيضان وحماية البلاد من المجاعة والتوسع فى مساحات الأرض الزراعية .

١٠- وجود جيش قوى فى عصر الدولة الحديثة .

مما حافظ على النظام والاستقرار الداخلى لمصر وحماها من الاخطار والتهديدات الخارجية .

مستّر: محمد عبد الصبور

١١- توجه الملك أحمس إلى الجنوب بعد طرد الهكسوس .

مما أدى إلى القضاء على حركات التمرد وإعادة الأمن في بلاد النوبة .

١٢- معركة قادش فى عهد رمسيس الثانى .

هزيمة الحيثيين مما اضطر ملكهم الى طلب الصلح - قبول رمسيس الثانى الصلح - تم عمل اول

معاهدة سلام فى التاريخ بين المصريين والحيثيين - استعادة مصر سيادتها على بلاد الشام .

(٢) دال على صحة العبارة :-

١- تطور شكل المقابر فى عصر الدولة القديمة .

حيث كانت مقابر ذات مصطبة واحدة ثم أصبحت عدة مصاطب " الهرم المدرج " ثم أصبحت فى النهاية الهرم الكامل .

٢- برع المصريون فى عصر الدولة القديمة فى فن النحت .

حيث استخدموا المواد المختلفة الحجر والعاج والخشب وغيرها - كما اهتموا بنحت التماثيل الملكية وتماثيل النبلاء .

مستّر: محمد عبد الصبور

٣- يرجع الفضل للملك أمنمحات الأول فى نهضة البلاد . حيث أصبحت مصر فى عهده دولة قوية

تميزت بالاستقرار وقدمت فى المجالات الاقتصادية والقنية والأدبية

٤- أصبحت مصر تمتلك طريق تجارة دوليا فى عهد الملك سنوسرت الثالث .

أدى الى زيادة حركة التجارة بين مصر وجيرانها .

٥- امتاز عهد الملك أمنمحات الثالث بالتنمية الاقتصادية .

حيث اهتم باستثمار موارد مصر وظهر ذلك من خلال :-

* ارسل ٢٤ بعثة لاستخراج المعادن وقطع الأشجار فى شبه جزيرة سيناء .

* اهتم بالزراعة وشنون الري . مستّر: محمد عبد الصبور

٦- أنهت الملكة سبك نفرو ما بدأه الملك أمنمحات الثالث .

حيث انها استكملت بناء هرم والدها أمنمحات الثالث فى منطقة هواره .

٧- كان لإياح حتب دور هام فى تحرير البلاد من الهكسوس .

حيث شجعت ابنيها كامس واحمس على الاستمرار فى الكفاح بعد مقتل ابيهما سقتن رع الثانى

كما تولت نيابة عنهم شئون الحكم الى حين عودتهم منتصرين .

مستّر: محمد عبد الصبور

٨- يعتبر الملك رمسيس الثانى ملك الحرب والسلام .

حيث انتصر على الحيثيين فى معركة قادش ثم قبل رمسيس الثانى الصلح مع ملك الحيثيين .

٩- اكتشاف مقبرة توت عنخ آمون نقطة تحول فى معرفتنا للحضارة المصرية القديمة .

حيث احتوت هذه المقبرة على روائع فنية وكنوز اثرية لا مثيل لها والتي تعبر عن تقدم الفنون المصرية

اقوى مراجعة على الوحدة الثالثة

مستّر : محمد عبد الصبور

السؤال الاول : أكمل العبارات الاتية بكلمات مناسبة

- ١- يتكون النظام البيئي من مكونات و مكونات
- ٢- تنقسم النظم البيئية إلى نظم أرضية ونظم ونظم
- ٣- توجد نظم بيئية صغيرة المساحة مثل
- ٤- تتمثل النظم المائية في الأراضي الرطبة و و
- ٥- ينتشر في ساحل غانا غرب القارة الغابات
- ٦- من الأشجار التي تنتشر في الغابات المدارية المطيرة
- ٧- من الحيوانات المنتشرة بالغابات المدارية المطيرة
- ٨- تعرف تربة الغابات المدارية المطيرة بالتربة
- ٩- تدخل أشجار الغابات المدارية المطيرة في عدة صناعات مثل
- ١٠- يتميز نظام غابات البحر المتوسط بأنه في فصل الصيف .
- ١١- تتدرج حشائش السافانا في الطول حسب مستّر : محمد عبد الصبور
- ١٢- تتميز السافانا المكشوفة بقلّة
- ١٣- توجد السافانا البستانية بالقرب من الغابات
- ١٤- تصلح تربة السافانا لزراعة
- ١٥- تعد قارة إفريقيا من أكثر المناطق تضرراً من الفيضانات وتأتي في المرتبة
- ١٦- يطلق على نظام الحشائش المعتدلة اسم
- ١٧- ينتشر نظام حشائش الإستبس في المناطق ذات المناخ
- ١٨- تنمو بالقرب من الأنهار ومنحدرات الجبال في نطاق حشائش الإستبس .
- ١٩- يعمل معظم السكان في نظام حشائش الإستبس بالرعي و مستّر : محمد عبد الصبور
- ٢٠- يتسم مناخ النظم الصحراوية في العالم بقلّة وارتفاع
- ٢١- يستخرج من النظام البيئي المائي في إفريقيا العديد من الأملاح مثل
- ٢٢- من أنواع مصادر الطاقة الحفرية المستخرجة من النظم البيئية المائية
- ٢٣- تنقسم النظم المائية تبعاً لنسبة
- ٢٤- يقع نهر الأمازون في قارة
- ٢٥- من أشهر البحيرات العذبة في قارة إفريقيا بحيرة وبخيرة
- ٢٦- تقع مستنقعات الغابات في إفريقيا داخل نظام الغابات
- ٢٧- الشعاب المرجانية أحد مظاهر النظم البيئية للمياه
- ٢٨- أكبر انتشار لأشجار المانجروف في قارة
- ٢٩- من أشهر المحميات الطبيعية في مصر والتي تضم أشجار المانجروف محمية
- ٣٠- من أهمية أشجار المانجروف أنها تنقى الهواء من

السؤال الثاني : اكتب كلمة صواب امام العبارة الصحيحة وكلمة خطأ امام العبارة غير الصحيحة

- ١- تتفاعل مكونات النظام البيئي مع بعضها وفق نظام دقيق . ()
- ٢- من المكونات الحية مثل المياه وعناصر المناخ كالحرارة والرطوبة . **مستّر : محمد عبد الصبور** ()
- ٣- توجد نظم بيئية كبيرة المساحة مثل الغابات الاستوائية . ()
- ٤- تتنوع النظم البيئية في قارة إفريقيا فمنها النظم الأرضية والنظم المائية . ()
- ٥- تنتشر غابات البحر المتوسط في جزيرة مدغشقر . ()
- ٦- تتميز الغابات المدارية المطيرة بأنها غابات قليلة الأشجار . ()
- ٧- تنتج غابات حوض نهر الكونغو كميات قليلة من الأكسجين . ()
- ٨- تعد غابات البحر المتوسط نوعاً من الأنظمة البيئية الأرضية . ()
- ٩- تزداد كمية الأمطار الساقطة على البحر المتوسط في قارة إفريقيا بصفة عامة . ()
- ١٠- لغابات البحر المتوسط أهمية سياحية كبيرة بسبب مناطق الاستجمام . ()
- ١١- يقع نظام الحشائش الحارة في بيئة انتقالية . ()
- ١٢- يتميز نظام حشائش الإستبس بارتفاع درجة الحرارة . ()
- ١٣- تعتمد حشائش السافانا على سقوط الأمطار الشتوية . **مستّر : محمد عبد الصبور** ()
- ١٤- من الحيوانات التي تعيش بحشائش السافانا النمر والأسود . ()
- ١٥- تتسم تربة حشائش السافانا بلونها الأبيض وغناها بالمواد العضوية . ()
- ١٦- يعاني نظام حشائش السافانا من مخاطر بشرية تتمثل في تجريف التربة وزيادة الملوحة بها ()
- ١٧- تنمو أشجار السنط داخل حشائش السافانا الغنية . ()
- ١٨- يتسم نظام الإستبس بسقوط الأمطار الغزيرة في فصل الشتاء . ()
- ١٩- تعيش أعداد قليلة جداً من الأغنام داخل نطاق حشائش الإستبس . ()
- ٢٠- تعد الصحراء الكبرى أكبر الصحاري الحارة بإفريقيا . ()
- ٢١- تنقسم النظم المائية إلى نوعين رئيسيين **محمد عبد الصبور** ()
- ٢٢- توجد الشعاب المرجانية في سواحل البحر المتوسط في مصر . ()
- ٢٣- تعد بحيرة تشاد أحد النظم المائية المالحة في إفريقيا . ()
- ٢٤- حدث انقراض جماعي للفقاريات في بحيرة فيكتوريا . ()
- ٢٥- يعد نهر النيل أول أنهار العالم من حيث التنوع البيولوجي . ()
- ٢٦- تقع مستنقعات نبات البردي في شرق ووسط وشمال قارة إفريقيا . **مستّر : محمد عبد الصبور** ()
- ٢٧- صنفت منظمة الفاو منطقة حوض أركين كأحد مناطق التراث العالمي . ()
- ٢٨- تنمو أشجار المانجروف في المناطق الساحلية المدارية وشبه المدارية . ()
- ٢٩- قامت مصر بتنفيذ مشروع تطهير وتطوير بحيرات الساحل الشمالي . ()
- ٣٠- تتمتع محمية رأس محمد بتنوع بيئي متميز من شعاب مرجانية والمانجروف . **مستّر : محمد عبد الصبور** ()

السؤال الثالث : اكتب ما تشير اليه العبارات الآتية

- ١- غايات تمتص نسبة كبيرة جداً من انبعاثات الكربون العالمية كل عام .

- ٢- غابات توجد في منطقة الكاب أقصى جنوب غرب القارة الإفريقية .
- ٣- أشجار متوسطة إلى قصيرة الطول ودائمة الخضرة طوال العام .
- ٤- نظام الغابات الذي يرتفع بها نسبة الرطوبة .
- ٥- الفرق بين متوسط درجة الحرارة بالنسبة لأعلى شهور السنة وأدنى شهور السنة حرارة .

مستّر: محمد عبد الصبور

- ٦- أشجار وشجيرات تنمو في المناطق الساحلية المدارية وشبه المدارية
- ٧- نهر يحتل المرتبة الأولى من حيث الكائنات الحية التي تعيش فيه
- ٨- محمية مصرية تتميز بتنوعها البيئي وتعد إحدى مناطق التراث العالمي
- ٩- بحيرة ساحلية في شبه جزيرة سيناء تعد من نظم الأراضي الرطبة المالحة
- ١٠- مدينة مصرية جديدة تعد صديقة للبيئة

السؤال الرابع : اختر الإجابة الصحيحة مما بين الأقواس

- ١- يتكون النظام البيئي من مكونات حية مثل (المياه - المعادن - التربة - النباتات)
- ٢- أحد الأسباب الطبيعية لحدوث اختلال في التوازن البيئي (الثورانات البركانية - الرعي الجائر - التوسع العمراني - الحروب الحديثة)
- ٣- من أشجار الغابات المدارية المطيرة (المطاط - الزيتون - الموالح - الغنب)
- ٤- توجد الغابات المدارية المطيرة بساحل غرب القارة مثل ساحل (غانا - موريتانيا - مالي - الصومال)
- ٥- يمتد نظام غابات البحر المتوسط في القارات على الجانب للقارات . (الشرقى - الغربى - الشمالى - الجنوبى)
- ٦- أي من الأنظمة التالية ينتمى إلى النظم البيئية المائية ؟ (نظام حشائش السافانا - نظام حشائش الإستبس - الغابات المدارية المطيرة - النظم البيئية للمياه العذبة)
- ٧- تعد أشجار البحر المتوسط ذات أهمية اقتصادية وغذائية كبيرة مثل (الماهوجني - الأبنوس - المطاط - الزيتون)
- ٨- تعد غابات البحر المتوسط مراعى طبيعية لـ (الأغنام - الطيور - التماسيح - النمور)
- ٩- تقل الحيوانات بوضوح في نظام (الحشائش البستانية - الحشائش الحارة - الحشائش المعتدلة - الصحاري الحارة)
- ١٠- أي من الحيوانات التالية تتحمل الظروف الصحراوية القاسية ؟ (الأبقار - الإبل - الجاموس - العقارب)
- ١١- تمتد حشائش بين دائرتي عرض (١٠ - ١٨) شمال وجنوب دائرة الاستواء . (السافانا - الإستبس - المعتدلة - التندرا)
- ١٢- تسقط الأمطار في نطاق حشائش السافانا في فصل (الصيف - الشتاء - الربيع - الخريف)

- ١٣- تنمو حشائش السافانا الغنية بالقرب من
(غابات البحر المتوسط - الغابات النفضية - الغابات المدارية المطيرة - الغابات الصنوبرية)
- ١٤- تشغل حشائش الإستبس مساحة صغيرة في إقليم الفلد بدولتي جنوب إفريقيا
(تنزانيا - ليسوتو - أنجولا - النيجر)
- ١٥- تعتدل درجات الحرارة صيفاً بحشائش (السافانا - الإستبس - التندرا - الصحاري)
- ١٦- تتسم تربة كل من الإستبس والسافانا بغناها
(المواد الكيميائية - المواد العضوية - التكوينات الصخرية - التكوينات البركانية)
- ١٧- من العوامل الطبيعية التي تؤثر بالسلب على أشجار المانجروف
(الرعي الجائر - التوسع العمراني - التنمية السياحية - التغيرات المناخية)
- ١٨- توجد الشعاب المرجانية في معظم السواحل. القارة إفريقيا
(الشمالية - الشرقية - الجنوبية - الغربية)
- ١٩- تشتهر مصر بوجود الشعاب المرجانية خاصة في مدينة
(مطروح - الإسكندرية - الغردقة - السويس)
- ٢٠- من العوامل البشرية التي تدمر الشعاب المرجانية
(الفيضانات - التلوث - المناخ - السدود)
- ٢١- من البحيرات المالحة في إفريقيا بحيرة
(فيكتوريا - البردويل - تنجانيقا - تشاد)
- ٢٢- محمية أركين تعتبر أشهر المحميات الطبيعية في دولة
(مصر - الكونغو - كينيا - موريتانيا)
- ٢٣- حوض النهر الذي يأتي في المرتبة الاولى عالمياً في التنوع البيولوجي يوجد بقارة
(أمريكا الشمالية - أمريكا الجنوبية - إفريقيا - آسيا)
- ٢٤- توجد الشعاب المرجانية في معظم السواحل الأفريقية
(الشرقية - الغربية - الشمالية - الجنوبية)

السؤال السادس : صوب ما تحته خط

- ١- النظام البيئي منطقة متكاملة تتكون من كائنات حية منها التربة وعناصر المناخ
٢- تتميز تربة الغابات المدارية المطيرة باللون الأخضر .
٣- تسقط الأمطار طوال العام في مناطق نظام غابات البحر المتوسط .
٤- يتميز نظام غابات البحر المتوسط بأنه بارد جاف في فصل الشتاء .
٥- تعد قارة إفريقيا أكثر القارات في الانبعاثات الحرارية .
٦- تمثل حرائق الغابات في إفريقيا ثلث المساحات المحترقة في العالم .
٧- يوجد نظام غابات البحر المتوسط على طول الساحل الشمالي الشرقي لقارة إفريقيا
٨- تقع نظم غابات البحر المتوسط بين دائرتي عرض ١٠ - ١٠ شمال وجنوب دائرة الاستواء

- ٩- تتسم تربة غابات البحر المتوسط بتعدد ألوانها مثل الأحمر والبني والالأخضر .
- ١٠- يسود بالأطراف الشمالية المصرية نظام الحشائش الحارة .
- ١١- يتسم مناخ الصحراوي بالاعتدال في درجات الحرارة .
- ١٢- تعد الظباء من أهم أنواع الحيوانات التي تعيش بالحشائش الحارة .
- ١٣- تعتدل درجات الحرارة في فصل الشتاء بحشائش الإستبس .
- ١٤- من المخاطر الطبيعية التي تواجه حشائش السافانا الصيد الجائر .
- ١٥- من الحيوانات آكلة العشب التي تعيش في السافانا الضباع .
- ١٦- تنقسم حشائش السافانا إلى أربعة أقسام .
- ١٧- تمتد حشائش السافانا بين غابات البحر المتوسط والصحاري الحارة .
- ١٨- تزداد كثافة النباتات الصحراوية كلما اقتربنا من الغابات المدارية المطيرة .
- ١٩- تقع الصحاري الحارة الإفريقية في شرق القارة مثل الصحراء الكبرى .
- ٢٠- يستخرج من النظام البيئي المائي في إفريقيا العديد من المعادن مثل البوكسيت .
- ٢١- تُعد مستنقعات السد من النظم المائية المالحة .
- ٢٢- يحتل نهر الكونغو المرتبة الثالثة من حيث وجود الكائنات الحية .
- ٢٣- شهدت بحيرة تانا أكبر انقراض جماعي للفقاريات في العصر الحديث .
- ٢٤- تعد مستنقعات السد من أشهر المستنقعات المكشوفة في جنوب مصر .
- ٢٥- ينتشر نظام المانجروف في بعض جزر المحيط الهندي مثل جزيرة مالطا .
- ٢٦- تعمل الأشجار الصنوبرية على حماية الشواطئ من التآكل والتعرية .
- ٢٧- تنتشر أشجار المانجروف بشكل أكثر وضوحاً على سواحل إفريقيا الشمالية والجنوبية .

السؤال السابع : حدد المختلف فيما يلي مع ذكر السبب

- ١- النباتات - الصخور - الحيوانات - الفطريات .
- ٢- الزيتون - الموالح - العنب - الماهوجني .
- ٣- الماعز - القردة - الزواحف - النمل الأبيض .
- ٤- المحيطات - الأنهار - البحيرات - الحشائش .
- ٥- الموز - المانجو - العنب - الكاكاو .
- ٦- الغزلان - الظباء - الأرانب - الإبل .
- ٧- الأسود - النمر - الزرافات - الضباع .
- ٨- الصبار - القمح - الأكاسيا - التين الشوكي .

السؤال الثامن : أجب عن الاسئلة التالية

(١) بم تفسر :- مد عبد الصبور

- ١- حدوث اختلال في النظام البيئي .

٢- يتسم نظام الغابات المدارية المطيرة بانخفاض الضغط الجوى وارتفاع الرطوبة .

مستّر: محمد عبد الصبور

٣- كثرة النباتات المتسلقة والطفيلية فى الغابات الاستوائية .

٤- قطع الأشجار بقارة إفريقيا .

٥- ارتفاع معدلات التبخر فى الغابات الاستوائية .

٦- تعرض أنواع كثيرة من الحيوانات بغابات إفريقيا للانقراض .

مستّر: محمد عبد الصبور

٧- تتعرض غابات البحر المتوسط في إفريقيا للعديد من حالات الجفاف .

٨- أهمية أشجار الغابات المدارية المطيرة الاقتصادية .

مستّر: محمد عبد الصبور

٩- تعتبر حشائش السافانا حديقة حيوان طبيعية .

١٠- تنتشر حرفة الصيد بنطاق الحشائش المعتدلة .

١١- ندرة النباتات الطبيعية فى نظام الصحارى الحارة .

١٢- تعرض التربة فى نطاق السافانا للتجريف طبيعيًا .

١٣- أهمية حشائش الإستبس . مستّر: محمد عبد الصبور

١٤- تعد الصحارى الإفريقية بيئة مثالية لتوليد الطاقة الشمسية .

١٥- تعرض أنواع عديدة من الأسماك لخطر الانقراض .

مستّر: محمد عبد الصبور

١٦- شهرة البحيرات العذبة لقارة إفريقيا .

١٧- أهمية الأراضي الرطبة العذبة .

مستّر: محمد عبد الصبور

١٨- انتشار أشجار المانجروف على السواحل الغربية عن السواحل الشرقية لقارة إفريقيا .

١٩- للعوامل الطبيعية تأثير سلبي على أشجار المانجروف .

مستّر: محمد عبد الصبور

٢٠- توسع مصر في إنتاج الطاقة النظيفة .

٢١- للعوامل البشرية تأثير سلبي على أشجار المانجروف .

(٢) ما النتائج المترتبة على :-

١- كثافة الأشجار فى الغابات المدارية المطيرة .

٢- يتسم نظام الغابات المدارية المطيرة بالمطر الغزير وارتفاع الحرارة .

مستّر: محمد عبد الصبور

٣- تعرض غابات البحر المتوسط للعديد من حالات الجفاف .

٤- التنوع الحيوي لغابات البحر المتوسط .

مستّر: محمد عبد الصبور

٥- تتعرض أنواع كثيرة من الحيوانات بغابات افريقيا لخطر الانقراض .

٦- تعرض نظام حشائش السافانا لمخاطر بشرية .

٧- غنى تربة الإستبس بالمواد العضوية .

مستّر: محمد عبد الصبور

٨- زيادة حدة موجات الجفاف بنظام الصحارى الحارة فى إفريقيا .

٩- تمتع الصحارى الإفريقية بمناظر طبيعية فريدة ومعالم تاريخية وأثرية .

مستّر: محمد عبد الصبور

١٠- تعرض النظم البحرية العذبة فى إفريقيا للتدهور .

١١- إدخال أنواع جديدة من الأسماك إلى بحيرة فيكتوريا .

مستّر: محمد عبد الصبور

١٢- تعرض الأراضي الرطبة العذبة للتجفيف .

١٣- وجود السهول الطينية في نظم الأراضي الرطبة المالحة .

مستّر: محمد عبد الصبور

(٢) دّل على صحة العبارة :-

١- تعددت أنواع الحيوانات التي تعيش في الغابات المدارية المطيرة .

٢- تعد أشجار الغابات المدارية المطيرة ذات أهمية سياحية .

٣- للغابات المدارية المطيرة أهمية بيئية كبيرة .

٤- يؤثر التغير المناخي على نظم الغابات المدارية المطيرة في قارة إفريقيا .

مستّر: محمد عبد الصبور

٥- يواجه نظام حشائش السافانا عدة مخاطر طبيعية .

مستّر: محمد عبد الصبور

٦- تتنوع الحيوانات في نظم الإستبس تنوعًا واضحًا .

٧- يعاني نظام الصحارى الحارة في إفريقيا من مخاطر كثيرة .

٨- للطحالب أهمية كبيرة .

مستّر: محمد عبد الصبور

٩- تتعدد النظم البيئية للمياه العذبة في قارة إفريقيا .

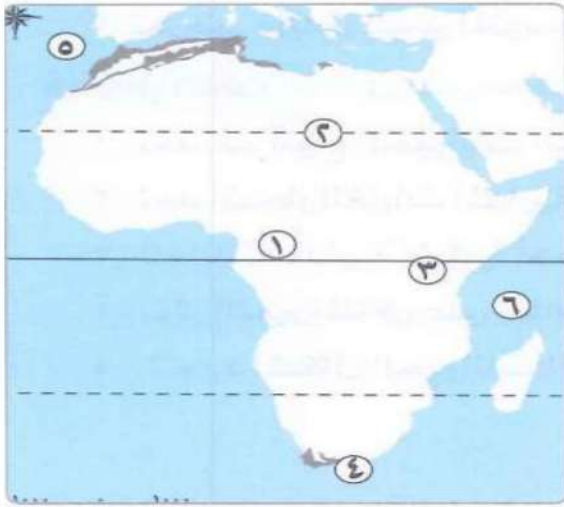
١٠- اهتمام مصر بالحفاظ على أشجار المانجروف .

مستّر: محمد عبد الصبور

١١- تعد الشعاب المرجانية واحدة من مناطق التنوع البيولوجي .

مستّر: محمد عبد الصبور

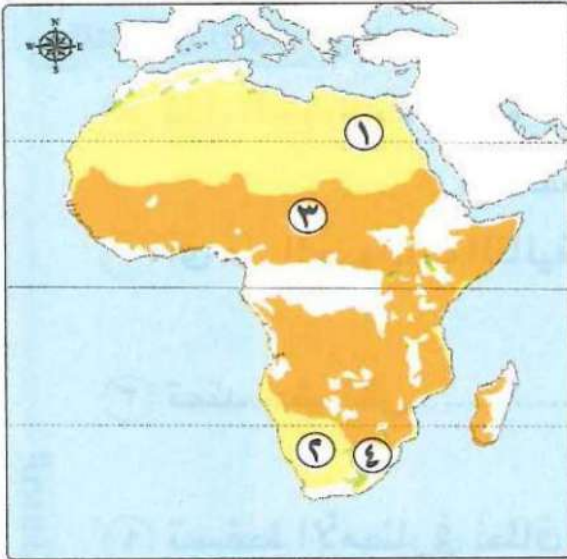
السؤال التاسع : امامك خريطة لقارة افريقيا اكتب مدلول الارقام عليها



- ١- غابات
- ٢- مدار
- ٣- دائرة
- ٤- غابات
- ٥- المحيط
- ٦- سطح مائي

مستّر : محمد عبد الصبور

السؤال التاسع : امامك خريطة لقارة افريقيا اكتب مدلول الارقام عليها



- ١- يمثل الرقم إقليم الفلد .

- ٢- يمثل الرقم حشائش السافانا .

- ١- يمثل الرقم الصحراء الكبرى .

- ٢- يمثل الرقم صحراء كلهاري .

السؤال السابع : امامك خريطة لقارة افريقيا اكتب مدلول الارقام عليها



- ١- نهر

- ٢- بحيرة

- ٣- خليج

- ٤- نهر

- ٥- شبه جزيرة

- ٦- دائرة

- ٧- مستنقعات

- ٨- مدار

مستّر : محمد عبد الصبور

اقوى مراجعة على الوحدة الثالثة

مستّر: محمد عبد الصبور

السؤال الاول : أكمل العبارات الاتية بكلمات مناسبة

- ١- يتكون النظام البيئي من مكونات **حية** و مكونات **غير حية** .
- ٢- تنقسم النظم البيئية إلى نظم أرضية ونظم **مائية** ونظم **بشرية** .
- ٣- توجد نظم بيئية صغيرة المساحة مثل **بركة المياه** .
- ٤- تتمثل النظم المائية في الأراضي الرطبة **الغابات** و **الحشائش** و **الصحارى** .
- ٥- ينتشر في ساحل غانا غرب القارة الغابات **المدارية المطيرة** .
- ٦- من الأشجار التي تنتشر في الغابات **المدارية المطيرة الماهوجنى - الابنوس - المطاط - الكاكو** .
- ٧- من الحيوانات المنتشرة بالغابات **المدارية المطيرة القردة والتماسيح والنمور والافاعي** .
- ٨- تعرف تربة الغابات **المدارية المطيرة** بالتربة **حمراء اللون** .
- ٩- من أشجار غابات البحر المتوسط **الأرز والصنوبر والبلوط الفليني والزيتون** .
- ١٠- يتميز نظام غابات البحر المتوسط بأنه **حار جاف** في فصل الصيف .
- ١١- تتدرج حشائش السافانا في الطول حسب **سقوط الامطار** .
- ١٢- تتميز السافانا المكشوفة بقلّة **الأشجار** .
- ١٣- توجد السافانا البستانية بالقرب من الغابات **المدارية المطيرة** .
- ١٤- تصلح تربة السافانا لزراعة **الحبوب** .
- ١٥- تعد قارة إفريقيا من أكثر المناطق تضرراً من الفيضانات وتأتى في المرتبة **الثانية** .
- ١٦- يطلق على نظام الحشائش المعتدلة اسم **الاستبس** .
- ١٧- ينتشر نظام حشائش الإستبس في المناطق ذات المناخ **المعتدل** .
- ١٨- تنمو **الأشجار** بالقرب من الأنهار ومنحدرات الجبال في نطاق حشائش الإستبس .
- ١٩- يعمل معظم السكان في نظام حشائش الإستبس بالرعى و **الصيد** .
- ٢٠- يتسم مناخ النظم الصحراوية في العالم بقلّة **الامطار** وارتفاع **المدى الحراري اليومي والسنوي** .
- ٢١- يستخرج من النظام البيئي المائى في إفريقيا العديد من الأملاح مثل **الماغنسيوم** .
- ٢٢- من أنواع مصادر الطاقة الحفرية المستخرجة من النظم البيئية المائية **البترول والغاز الطبيعي** .
- ٢٣- تنقسم النظم المائية تبعاً لنسبة **الاملاح في المياه** .
- ٢٤- يقع نهر الأمازون في قارة **أمريكا الجنوبية** .
- ٢٥- من أشهر البحيرات العذبة في قارة إفريقيا بحيرة **فيكتوريا** وبحيرة **تشاد** .
- ٢٦- تقع مستنقعات الغابات في إفريقيا داخل نظام الغابات **المدارية المطيرة** .
- ٢٧- الشعاب المرجانية أحد مظاهر النظم البيئية للمياه **المالحة** .
- ٢٨- أكبر انتشار لأشجار **المانجروف** في قارة **آسيا** .
- ٢٩- من أشهر المحميات الطبيعية في مصر والتي تضم أشجار **المانجروف** محمية **نبق وعلبة وحماطة** .
- ٣٠- من أهمية أشجار **المانجروف** أنها تنقى الهواء من **الكربون** .

مستّر: محمد عبد الصبور

السؤال الثاني : اكتب كلمة صواب امام العبارة الصحيحة وكلمة خطأ امام العبارة غير الصحيحة

- ١- تتفاعل مكونات النظام البيئي مع بعضها وفق نظام دقيق . (صواب)
- ٢- من المكونات الحية مثل المياه وعناصر المناخ كالحرارة والرطوبة **مد غير الحية** (خطأ)
- ٣- توجد نظم بيئية كبيرة المساحة مثل الغابات الاستوائية . (صواب)
- ٤- تتنوع النظم البيئية في قارة إفريقيا فمنها النظم الأرضية والنظم المائية . (صواب)
- ٥- تنتشر غابات البحر المتوسط في جزيرة مدغشقر . (خطأ)
- ٦- تتميز الغابات المدارية المطيرة بأنها غابات قليلة الأشجار . (خطأ)
- ٧- تتسم أشجار غابات البحر المتوسط بانها دائمة الخضرة طوال العام . (صواب)
- ٨- تعد غابات البحر المتوسط نوعاً من الأنظمة البيئية الأرضية . (صواب)
- ٩- **تزداد** كمية الأمطار الساقطة على البحر المتوسط في قارة إفريقيا بصفة عامة . (خطأ)
- ١٠- لغابات البحر المتوسط أهمية سياحية كبيرة بسبب مناطق الاستجمام . (صواب)
- ١١- يقع نظام الحشائش الحارة في بيئة انتقالية . (صواب)
- ١٢- يتميز نظام حشائش الإستبس بارتفاع درجة الحرارة . (خطأ)
- ١٣- تعتمد حشائش السافانا على سقوط الأمطار الشتوية . (خطأ)
- ١٤- من الحيوانات التي تعيش بحشائش السافانا النمور والأسود . (صواب)
- ١٥- تتسم تربة حشائش السافانا بلونها الأبيض وغناها بالمواد العضوية . (خطأ)
- ١٦- يعاني نظام حشائش السافانا من مخاطر بشرية تتمثل في تجريف التربة وزيادة الملوحة بها (صواب)
- ١٧- تنمو أشجار السنط داخل حشائش السافانا الغنية . (صواب)
- ١٨- يتسم نظام الإستبس بسقوط الأمطار الغزيرة في فصل الشتاء . (صواب)
- ١٩- تعيش أعداد قليلة جداً من الأغنام داخل نطاق حشائش الإستبس . (خطأ)
- ٢٠- تعد الصحراء الكبرى أكبر الصحاري الحارة بإفريقيا . (صواب)
- ٢١- تنقسم النظم المائية إلى نوعين رئيسيين . (صواب)
- ٢٢- توجد الشعاب المرجانية في سواحل البحر المتوسط في مصر . (خطأ)
- ٢٣- تعد بحيرة تشاد أحد النظم المائية المالحة في إفريقيا . (خطأ)
- ٢٤- حدث انقراض جماعي للفقاريات في بحيرة فيكتوريا . (صواب)
- ٢٥- يعد نهر النيل أول أنهار العالم من حيث التنوع البيولوجي . (خطأ)
- ٢٦- تقع مستنقعات نبات البردي في شرق ووسط وشمال قارة إفريقيا . (خطأ)
- ٢٧- صنفت منظمة الفاو منطقة حوض أركين كأحد مناطق التراث العالمي . (خطأ)
- ٢٨- تنمو اشجار المانجروف في المناطق الساحلية المدارية وشبه المدارية . (صواب)
- ٢٩- قامت مصر بتنفيذ مشروع تطهير وتطوير بحيرات الساحل الشمالي . (صواب)
- ٣٠- تتمتع محمية رأس محمد بتنوع بيئي متميز من شعاب مرجانية والمانجروف . (صواب)

السؤال الثالث : اكتب ما تشير اليه العبارات الآتية

- ١- غايات تمتص نسبة كبيرة جداً من انبعاثات الكربون العالمية كل عام . غابات حوض الكونغو

- ٢- غابات توجد في منطقة الكاب أقصى جنوب غرب القارة الإفريقية .
- ٣- أشجار متوسطة إلى قصيرة الطول ودائمة الخضرة طوال العام .
- ٤- نظام الغابات الذي يرتفع بها نسبة الرطوبة .
- ٤- الفرق بين متوسط درجة الحرارة بالنسبة لأعلى شهور السنة وأدنى شهور السنة حرارة .
- ٥- أشجار وشجيرات تنمو في المناطق الساحلية المدارية وشبه المدارية
- ٦- نهر يحتل المرتبة الأولى من حيث الكائنات الحية التي تعيش فيه
- ٧- محمية مصرية تتميز بتنوعها البيئي وتعد إحدى مناطق التراث العالمي
- ٨- بحيرة ساحلية في شبه جزيرة سيناء تعد من نظم الأراضي الرطبة المالحة
- ٩- مدينة مصرية جديدة تعد صديقة للبيئة

السؤال الرابع : اختر الإجابة الصحيحة مما بين الأقواس

- ١- يتكون النظام البيئي من مكونات حية مثل (المياه - المعادن - التربة - النباتات)
- ٢- أحد الأسباب الطبيعية لحدوث اختلال في التوازن البيئي (الثورات البركانية - الرعي الجائر - التوسع العمراني - الحروب الحديثة)
- ٣- من أشجار الغابات المدارية المطيرة (المطاط - الزيتون - الموالح - الغنب)
- ٤- توجد الغابات المدارية المطيرة بساحل غرب القارة مثل ساحل (غانا - موريتانيا - مالي - الصومال)
- ٥- يمتد نظام غابات البحر المتوسط في القارات على الجانب للقارات . (الشرقى - الغربى - الشمالى - الجنوبى)
- ٦- أي من الأنظمة التالية ينتمى إلى النظم البيئية المائية ؟ (نظام حشائش السافانا - نظام حشائش الإستبس - الغابات المدارية المطيرة - النظم البيئية للمياه العذبة)
- ٧- تعد أشجار البحر المتوسط ذات أهمية اقتصادية وغذائية كبيرة مثل (الماهوجني - الأبنوس - المطاط - الزيتون)
- ٨- تعد غابات البحر المتوسط مراعى طبيعية لـ (الأغنام - الطيور - التماسيح - النمور)
- ٩- تقل الحيوانات بوضوح في نظام (الحشائش البستانية - الحشائش الحارة - الحشائش المعتدلة - الصحاري الحارة)
- ١٠- أي من الحيوانات التالية تتحمل الظروف الصحراوية القاسية ؟ (الأبقار - الإبل - الجاموس - العقارب)
- ١١- تمتد حشائش بين دائرتي عرض (١٠ - ١٨) شمال وجنوب دائرة الاستواء . (السافانا - الإستبس - المعتدلة - التندرا)
- ١٢- تسقط الأمطار في نطاق حشائش السافانا في فصل (الصيف - الشتاء - الربيع - الخريف)

- ١٣- تنمو حشائش السافانا الغنية بالقرب من
(غابات البحر المتوسط - الغابات النفضية - الغابات المدارية المطيرة - الغابات الصنوبرية)
- ١٤- تشغل حشائش الإستبس مساحة صغيرة في إقليم الفلد بدولتي جنوب إفريقيا
(تنزانيا - ليسوتو - أنجولا - النيجر)
- ١٥- تعتدل درجات الحرارة صيفاً بحشائش (السافانا - الإستبس - التندرا - الصحاري)
- ١٦- تتسم تربة كل من الإستبس والسافانا بغناها
(المواد الكيميائية - المواد العضوية - التكوينات الصخرية - التكوينات البركانية)
- ١٧- من العوامل الطبيعية التي تؤثر بالسلب على أشجار المانجروف
(الرعي الجائر - التوسع العمراني - التنمية السياحية - التغيرات المناخية)
- ١٨- توجد الشعاب المرجانية في معظم السواحل. القارة إفريقيا
(الشمالية - الشرقية - الجنوبية - الغربية)
- ١٩- تشتهر مصر بوجود الشعاب المرجانية خاصة في مدينة
(مطروح - الإسكندرية - الغردقة - السويس)
- ٢٠- من العوامل البشرية التي تدمر الشعاب المرجانية
(الفيضانات - التلوث - المناخ - السدود)
- ٢١- من البحيرات المالحة في إفريقيا بحيرة
(فيكتوريا - البردويل - تنجانيقا - تشاد)
- ٢٢- محمية أركين تعتبر أشهر المحميات الطبيعية في دولة
(مصر - الكونغو - كينيا - موريتانيا)
- ٢٣- حوض النهر الذي يأتي في المرتبة الاولى عالمياً في التنوع البيولوجي يوجد بقارة
(أمريكا الشمالية - أمريكا الجنوبية - إفريقيا - آسيا)
- ٢٤- توجد الشعاب المرجانية في معظم السواحل الأفريقية
(الشرقية - الغربية - الشمالية - الجنوبية)

السؤال السادس : صوب ما تحته خط

- ١- النظام البيئي منطقة متكاملة تتكون من كائنات حية منها التربة والمياه
- ٢- تتميز تربة الغابات المدارية المطيرة باللون الأخضر .
- ٣- تسقط الأمطار طوال العام في مناطق نظام غابات البحر المتوسط .
- ٤- يتميز نظام غابات البحر المتوسط بأنه بارد جاف في فصل الشتاء .
- ٥- تعد قارة إفريقيا أكثر القارات في الانبعاثات الحرارية .
- ٦- تمثل حرائق الغابات في إفريقيا ثلث المساحات المحترقة في العالم .
- ٧- يوجد نظام غابات البحر المتوسط على طول الساحل الشمالي الشرقي لقارة إفريقيا الغربي
- ٨- تقع نظم غابات البحر المتوسط بين دائرتي عرض ١٠ - ١٠ شمال وجنوب دائرة الاستواء
- ٩- تتسم تربة غابات البحر المتوسط بتعدد ألوانها مثل الأحمر والبني والأخضر .
- ١٠- يسود بالأطراف الشمالية المصرية نظام الحشائش الحارة .

- ١١- يتسم مناخ الصحراوي بالاعتدال في درجات الحرارة .
- ١٢- تعد الظباء من أهم أنواع الحيوانات التي تعيش بالحشائش الحارة .
- ١٣- تعتدل درجات الحرارة في فصل الشتاء بحشائش الإستبس .
- ١٤- من المخاطر الطبيعية التي تواجه حشائش السافانا الصيد الجائر .
- ١٥- من الحيوانات آكلة العشب التي تعيش في السافانا الضباع .
- ١٦- تنقسم حشائش السافانا إلى أربعة أقسام .
- ١٧- تمتد حشائش السافانا بين غابات البحر المتوسط والصحاري الحارة .
- ١٨- تزداد كثافة النباتات الصحراوية كلما اقتربنا من الغابات المدارية المطيرة
- ١٩- تقع الصحاري الحارة الإفريقية في شرق القارة مثل الصحراء الكبرى .
- ٢٠- يستخرج من النظام البيئي المائي في إفريقيا العديد من المعادن مثل البوكسيت
- ٢١- تُعد مستنقعات السد من النظم المائية المالحة .
- ٢٢- يحتل نهر الكونغو المرتبة الثالثة من حيث وجود الكائنات الحية .
- ٢٣- شهدت بحيرة تانا أكبر انقراض جماعي للفقاريات في العصر الحديث .
- ٢٤- تعد مستنقعات السد من أشهر المستنقعات المكشوفة في جنوب مصر .
- ٢٥- ينتشر نظام المانجروف في بعض جزر المحيط الهندي مثل جزيرة مالطا
- ٢٦- تعمل الأشجار الصنوبرية على حماية الشواطئ من التآكل والتعرية .
- ٢٧- تنتشر أشجار المانجروف بشكل أكثر وضوحاً على سواحل إفريقيا الشمالية والجنوبية الغربية

السؤال السابع : حدد المختلف فيما يلي مع ذكر السبب

- ١- النباتات - الصخور - الحيوانات - الفطريات .
 - ٢- الزيتون - الموالح - العنب - الماهو جني .
 - ٣- الماعز - القردة - الزواحف - النمل الأبيض .
 - ٤- المحيطات - الأنهار - البحيرات - الحشائش .
 - ٥- الموز - المانجو - العنب - الكاكاو .
 - ٦- الغزلان - الظباء - الأرانب - الإبل .
 - ٧- الأسود - النمر - الزرافات - الضباع .
 - ٨- الصبار - القمح - الأكاسيا - التين الشوكي .
- الصحور " الباقي مكونات حية "
 الماهو جني " الباقي نباتات البحر المتوسط "
 النمل الأبيض " لانه حشرات الغابات المدارية "
 الحشائش " الباقي عبارة عن مياه "
 العنب " الباقي نباتات الغابات المدارية "
 الإبل - لان الباقي حيوانات توجد بحشائش الاستبس
 الزرافات - لان الباقي حيوانات توجد بالسافانا
 القمح - لان الباقي نباتات صحراوية

السؤال الثامن : أجب عن الاسئلة التالية

(١) بم تفسر :-

- ١- حدوث اختلال في النظام البيئي .
- الاسباب الطبيعية : الزلازل والثورات البركانية والاعاصير والحرائق الطبيعية .
- والاسباب بشرية : إزالة الغابات والرعي الجائر والتوسع العمراني والحروب .
- ٢- يتسم نظام الغابات المدارية المطيرة بانخفاض الضغط الجوي وارتفاع الرطوبة .
- بسبب صعود الهواء الى اعلى وسكون حركة الرياح نسبياً وارتفاع الرطوبة النسبية بسبب كثرة التبخر .
- ٣- كثرة النباتات المتسلقة والطفيلية في الغابات الاستوائية .
- بسبب ان الغابات كثيفة الأشجار ومتشابكة الاغصان وبالتالي منع الضوء من الوصول الى ارض الغابة .

٤- قطع الأشجار بقارة إفريقيا .

لبيع أخشابها واستخدامها كوقود - تحويل ارض الغابات الى ارض زراعية .

مستتر : محمد عبد الصبور

٥- ارتفاع معدلات التبخر في الغابات الاستوائية .

بسبب صعود الهواء الى اعلى وسكون حركة الرياح نسبياً وارتفاع الرطوبة .

٦- تعرض أنواع كثيرة من الحيوانات بغابات إفريقيا للانقراض .

بسبب التغير المناخي والصيد الجائر والتوسع الزراعي والعمراني .

٧- تتعرض غابات البحر المتوسط في إفريقيا للعديد من حالات الجفاف .

بسبب قلة سقوط الامطار في بعض السنوات مما يؤدي الى زيادة موت الأشجار وتدهور التربة .

٨- أهمية أشجار الغابات المدارية المطيرة الاقتصادية . * لها أهمية سياحية كبيرة ويقصدها السياح .

* تعد مصدراً للعديد من المواد الخام . * مصدر مهم للغذاء والوقود لعدد كبير من سكان العالم .

٩- تعتبر حشائش السافانا حديقة حيوان طبيعية . حيث يعيش بها مجموعة من الحيوانات :-

- آكلة الحشائش : مثل الفيل الإفريقي - الغزلان - الزرافات - ووحيد القرن - القرن - النعام .

- آكلة اللحوم : مثل الأسود والنمور والضباع .

١٠- تنتشر حرفة الصيد بنطاق الحشائش المعتدلة . بسبب كثرة عدد الحيوانات التي تعيش فيها .

مستتر : محمد عبد الصبور

١١- ندرة النباتات الطبيعية في نظام الصحارى الحارة .

بسبب ندرة المياه وفقر التربة وارتفاع درجات الحرارة .

١٢- تعرض التربة في نطاق السافانا للتجريف طبيعياً . بسبب سقوط الامطار بغزارة في فصل الصيف .

١٣- أهمية حشائش الإستبس .

حيث تعد :-

- مراعي طبيعية لحيوانات الأغنام والماعز والخيول .

- تنتشر بها حرفة الصيد بسبب كثرة عدد الحيوانات التي تعيش فيها .

١٤- تعد الصحارى الإفريقية بيئة مثالية لتوليد الطاقة الشمسية .

حيث تتلقى كميات كبيرة من اشعة الشمس على مدار السنة .

١٥- تعرض أنواع عديدة من الأسماك لخطر الانقراض . نتيجة ادخال أنواع جديدة من الأسماك للبحيرة

١٦- شهرة البحيرات العذبة لقارة إفريقيا .

بسبب تعرض بحيرة فيكتوريا اكبر انقراض جماعي للفقاريات في العصر الحديث .

١٧- أهمية الأراضي الرطبة العذبة . لان النبات يساهم بها في :-

- امتصاص كميات كبيرة من ثاني أكسيد الكربون . - الابطاء من ظاهرة الاحتباس الحراري .

- تنقية المياه وتقليل كمية الرواسب المتجهة للبحيرات . - حاجزاً ضد تأثيرات الفيضانات والجفاف .

١٨- انتشار أشجار المانجروف على السواحل الغربية عن السواحل الشرقية لقارة إفريقيا .

بسبب كثرة النظم النهرية وازيادة كمية الامطار .

١٩- للعوامل الطبيعية تأثير سلبي على أشجار المانجروف .

حيث تعرضها للتدهور مثل التغيرات المناخية ونها زيادة درجات الحرارة ونقص الامطار .

٢٠- توسع مصر في إنتاج الطاقة النظيفة . لتجنب انبعاثات ثاني أكسيد الكربون .

٢١- للعوامل البشرية تأثير سلبي على أشجار المانجروف .

حيث تعرضها للتدهور مثل الصيد الجائر وإزالة مساحات منها لأغراض التنمية العمرانية والسياحية .
مستّر : محمد عبد الصبور

(٢) ما النتائج المترتبة على :-

١- كثافة الأشجار في الغابات المدارية المطيرة .

أدى الى منع الضوء من الوصول الى ارض الغابة لذلك تكثر بها النباتات المستلقة والطفيلية .

٢- يتسم نظام الغابات المدارية المطيرة بالمطر الغزير وارتفاع الحرارة .

ترتب على ذلك انخفاض المدي الحرارى السنوي .

٣- تعرض غابات البحر المتوسط للعديد من حالات الجفاف .

أدى الى قلة سقوط الامطار بها وترتب عليه موت الأشجار وتدهور التربة .

٤- تعتبر قارة افريقيا الأكثر عرضة للتغير المناخى فى العالم . أدى الى :-

(١) تهديد التنمية المستدامة . (٢) نقص كبير في كمية الامطار .

(٣) ارتفاعات واضحة في درجات الحرارة . (٤) زيادة معدلات الجفاف والتصحر .

٥- تتعرض أنواع كثيرة من الحيوانات بغابات افريقيا لخطر الانقراض .

أدى ذلك الى اختلال النظام البيئى .
مستّر : محمد عبد الصبور

٦- تعرض نظام حشائش السافانا لمخاطر بشرية .

يؤدى الى تعرض حشائش السافانا للتدهور وتؤثر سلباً على التوازن البيئى ومنها تجريف التربة

والرعي الجائر وسوء إدارة أنشطة التعدين .

٧- غنى تربة الإستبس بالمواد العضوية .

تعد صالحة للزراعة بعض المحاصيل مثل الحبوب الغذائية .

٨- زيادة حدة موجات الجفاف بنظام الصحارى الحارة فى إفريقيا .

تؤدى الى ندرة النبات الطبيعى او انعدامه في كثير من الصحارى الافريقية وبالتالي تقل كميات الغذاء .

٩- تمتع الصحارى الإفريقية بمناظر طبيعية فريدة ومعالم تاريخية وأثرية .

أصبحت مناطق جذب سياحي .

١٠- تعرض النظم البحرية العذبة فى إفريقيا للتدهور .

مما أدى الى انخفاض اعداد الحيوانات المرتبطة بها .

١١- إدخال أنواع جديدة من الأسماك الى بحيرة فيكتوريا .

تعرض أنواع عديدة من الأسماك لخطر الانقراض .

مستّر : محمد عبد الصبور

١٢- تعرض الأراضي الرطبة العذبة للتجفيف .

مما أدى الى تدهور الحياة النباتية بها وتآكل التربة بالإضافة الى تعرض العديد من الحيوانات والطيور

بها لخطر الانقراض .

١٣- وجود السهول الطينية فى نظم الأراضي الرطبة المالحة .

أصبحت بيئة مناسبة لوجود الأسماك وسرطان البحر وغيرها .

(٢) دلت على صحة العبارة :-

- ١- تعددت أنواع الحيوانات التي تعيش في الغابات المدارية المطيرة .
حيث يعيش بها العديد من الحيوانات مثل : القردة والتماسيح والنمور والافاعي والحشرات كالنمل الابيض
- ٢- تعد أشجار الغابات المدارية المطيرة ذات أهمية سياحية . لانها مقصد لعدد كبير من السائحين .
- ٣- للغابات المدارية المطيرة أهمية بيئية كبيرة .
لانها تحافظ على التوازن البيئي - تعمل على تنقية البيئة من التلوث .
- ٤- تتسم أشجار غابات البحر المتوسط ببعض الخصائص النباتية .
حيث انها متوسطة الى قصيرة الطول (٥ : ٢٠ متر) ودائمة الخضرة طوال العام واوراقها صغيرة الحجم
- ٥- يواجه نظام حشائش السافانا عدة مخاطر طبيعية . مثل :-
- زيادة الاملاح في التربة .
- تعرض مساحات واسعة من الاراضي الافريقية لموجات التصحر .
- حدوث الفيضانات في بعض المناطق وتأتي في المرتبة الثانية في المناطق الأكثر تضرراً .
- ٦- تتنوع الحيوانات في نظام الإستبس تنوعاً واضحاً . حيث :-
- يوجد بها العديد من الحيوانات مثل الغزلان والظباء والارانب .
- يوجد العديد من الطيور منها صقور الجديان الافريقي .
- بالإضافة الى اعداد كبيرة من الأغنام والخيول .
- ٧- يعاني نظام الصحارى الحارة في إفريقيا من مخاطر كثيرة .
- زيادة حدة موجات الجفاف تؤدي لندرة النبات الطبيعي او انعدامه في كثير من الصحاري الافريقية .
- الصيد الجائر .
- ٨- للطحالب أهمية كبيرة .
تستخدم في صناعة بعض الادوية ومواد التجميل والاقمشة وغيرها .
- ٩- تتعدد النظم البيئية للمياه العذبة في قارة إفريقيا .
حيث تضم الأنهار والبحيرات العذبة والبرك والمستنقعات المائية العذبة . وتضم :-
١- النظم النهرية . ٢- النظم البحرية العذبة . ٣- نظم الأراضي الرطبة العذبة .
- ١٠- أهمية أشجار المانجروف . حيث تعد :-
١- موطناً للعديد من الكائنات البحرية مثل الأسماك والقشريات والرخويات .
٢- محطة من المحطات التي تقف عندها الطيور المهاجرة .
٣- حماية الشواطئ من التآكل والتعرية .
- ١١- تعد الشعاب المرجانية واحدة من مناطق التنوع البيولوجي .
حيث توفر المأوى والغذاء المهمة للعديد من الكائنات البحرية .

مستّر : محمد عبد الصبور

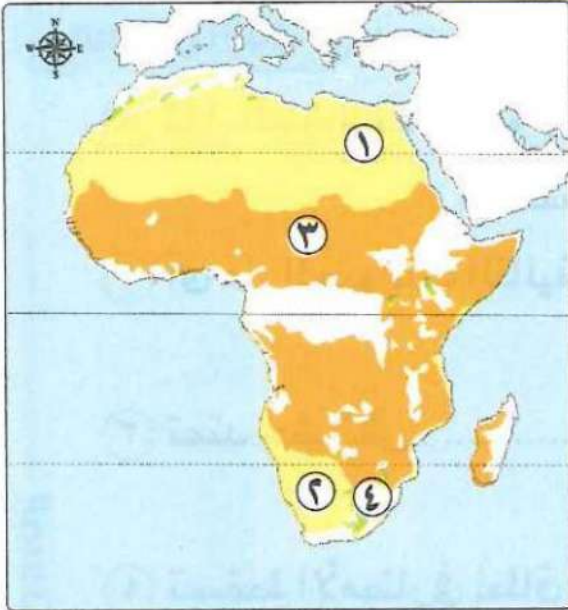
السؤال التاسع : امامك خريطة لقارة افريقيا اكتب مدلول الارقام عليها



- ١- غابات مدارية مطيرة .
- ٢- مدار السرطان .
- ٣- دائرة الاستواء .
- ٤- غابات البحر المتوسط " الكاب " .
- ٥- المحيط الاطلنطي .
- ٦- مسطح مائى المحيط الهندي .

مستّر : محمد عبد الصبور

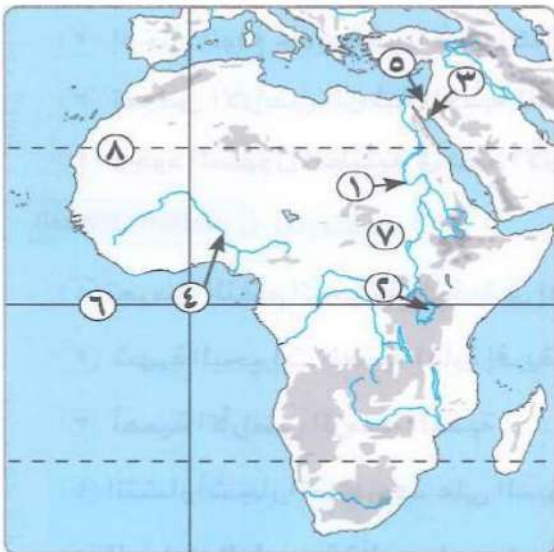
السؤال التاسع : امامك خريطة لقارة افريقيا اكتب مدلول الارقام عليها



- ١- يمثل الرقم (٤) إقليم الفلد .
- ٢- يمثل الرقم (٣) حشائش السافانا .
- ١- يمثل الرقم (١) الصحراء الكبرى .
- ٢- يمثل الرقم (٢) صحراء كلهاري .

مستّر : محمد عبد الصبور

السؤال السابع : امامك خريطة لقارة افريقيا اكتب مدلول الارقام عليها



- ١- نهر النيل .
- ٢- بحيرة فيكتوريا .
- ٣- خليج العقبة .
- ٤- نهر النيجر .
- ٥- شبه جزيرة سيناء .
- ٦- دائرة الاستواء .
- ٧- مستنقعات السد .
- ٨- مدار السرطان .

مستّر : محمد عبد الصبور

اقوى مراجعة على الوحدة الرابعة

مستّر : محمد عبد الصبور

السؤال الاول : أكمل العبارات الآتية بكلمات مناسبة

- ١- هاجر الصحابة الأوائل إلى قارة إفريقيا لأول مرة في عهد
- ٢- وصل عرب شبه الجزيرة العربية للساحل الشرقي الإفريقيا بغرض
- ٣- انتشر الإسلام عبر المحيط الهندي ومضيق إلى قارة إفريقيا .
- ٤- أهم الموانئ والمراكز التجارية التي نشرت الإسلام بإفريقيا مدينة في مالي .
- ٥- قام التجار المسلمون في إفريقيا بتشييد و
- ٦- اتجه عمرو بن العاص بعد فتح برقة نحو
- ٧- من القادة المسلمين الذين ساهموا في فتح شمال إفريقيا و
- ٨- من الممالك والسلطنات الإسلامية في قارة إفريقيا مملكة ومملكة
- ٩- نظم الإسلام الأسرة فمنح الأم الحق في
- ١٠- بعد استقرار الأمر لعمرو بن العاص في مصر اتجه بجيشه نحو اقليم غرباً .
- ١١- بعد دخول الإسلام إلى إفريقيا تحولت الحياة القبلية بها إلى نظام مستّر : محمد عبد الصبور
- ١٢- كان حجاج الدول الإفريقية يمرون عبر دولة لبلاد الحرمين .
- ١٣- من أشهر الأروقة التي خصصت لطلاب الأزهر من شمال إفريقيا رواق
- ١٤- كانت مصر الوسيط الوحيد في استيراد إفريقيا لسلع ونقلها إلى إفريقيا .
- ١٥- خصص للطلاب الوافدين من بلاد الحبشة وسواحل البحر رواق
- ١٦- أصبحت مسئولية حماية الحرمين الشريفين بعد سقوط الخلافة العباسية على عاتق

السؤال الثاني : اكتب كلمة صواب امام العبارة الصحيحة وكلمة خطأ امام العبارة غير الصحيحة

- ١- بدأ ارتباط العرب بعلاقات تجارية مع إفريقيا بعد ظهور الإسلام . ()
- ٢- اختلطت عرب شبه الجزيرة العربية بإفريقيا قديماً وتزوجوا منها . ()
- ٣- اعتمد انتشار الإسلام في إفريقيا على الأسلوب السلمي في الإقناع . ()
- ٤- كان الدعاة يحظون بنوع من التقدير والاحترام بين القبائل الإسلامية في إفريقيا . ()
- ٥- كان التجار المسلمون يرسلون الطلاب المتميزون في إفريقيا للسودان لتلقي العلم . ()
- ٦- رحب أهل برقة بالفتح الإسلامي لمصر كما رحب أهل مصر . ()
- ٧- أرسل عبد الله بن أبي السرح للخليفة عمر بن الخطاب يستأذنه في فتح إفريقيا . ()
- ٨- منح الإسلام في إفريقيا للمرأة الحرية في اختيار الزوج وحدد عدد الزوجات . ()
- ٩- كانت الهجرات الإسلامية إلى قارة إفريقيا إحدى الوسائل المهمة لنشر الإسلام . ()
- ١٠- تم فتح مصر في عهد الخليفة عثمان بن عفان . ()
- ١١- كانت كنيسة اليمن تابعة للكنيسة المصرية . ()
- ١٢- حرص حكام الحبشة على الاستفادة من الخبرات السياسية والعسكرية لمصر . ()
- ١٣- عرف نظام الدولة في إفريقيا قبل دخول الإسلام إليها . ()

- ١٤- من المعبودات المصرية التي عبدت في بلاد اليمن إيزيس وأوزوريس . ()
 ١٥- تعد أدوات الزينة من السلع التي حملها التجار المصريون للدول الإفريقية . ()
 ١٦- وفر الأزهر الشرف لطلابه الإقامة المستقرة واعطي لهم الرواتب . **مستر : محمد عبد الصبور**

السؤال الثالث : اكتب ما تشير اليه العبارات الآتية

- ١- المعبر البرى الوحيد الذي يربط شبه الجزيرة العربية بإفريقيا .
 ٢- كانوا يختارون الطلاب المتميزين لارسالهم الى المعاهد العلمية في مصر
 ٣- الأفراد الذين تلقوا قدرًا من العلوم الدينية لنشر الإسلام وتعاليمه بالطرق السلمية
 ٤- قناة حفرت بعد الفتح الاسلامي لمصر وساعدت على نشر الاسلام .
 ٥- أهم المساجد بدولة مالي أقيمت فيها دروس جميع العلوم الإسلامية .
 ٦- مدينة بشمال إفريقيا كانت محاطة بالأسوار وحاصرها المسلمون شهر لفتحها
 ٧- مدينة إفريقية فتحها المسلمون في عهد الدولة الأموية ومهد فتحها لفتح بلاد المغرب
 ٨- مدينة مصرية أصبحت مقر الخلافة العباسية بعد سقوطها في بغداد .
 ٩- أهم المؤسسات العلمية الدينية التي قدمت العلوم والمعرفة إلى الدول الإسلامية
 ١٠- جامعة أقيمت بمدينة تمبكتو وقد حاولت أن تحتذى أساليب الأزهر في التدريس . **مستر : محمد عبد الصبور**

السؤال الرابع : اختر الإجابة الصحيحة مما بين الأقواس

- ١- عرفت إفريقيا قديمًا الإسلام لأول مرة عن طريق بلاد
 (النوبة - الحبشة - بونت - مصر)
 ٢- من المعابر الأساسية التي استخدمها العرب مع شرق إفريقيا
 (المحيط الهادي - المحيط الهندي - المحيط الأطلنطي - البحر المتوسط)
 ٣- أشهر الموانئ والمراكز التجارية التي نشرت الإسلام في إفريقيا كانت تقع في دولة
 (مصر - الكونغو - تنزانيا - نيجيريا)
 ٤- أرسل الخليفة الأموي البنائين الى الساحل الشرقي الافريقي ليساهموا في بناء المدن .
 (عمرو بن العاص - عبد الله بن أبي السرح - خالد بن الوليد - عبد الملك بن مروان)
 ٥- أولى الدول الإفريقية التي فتحها المسلمون
 (مصر - المغرب - الصومال - أوغندا)
 ٦- أول جيش إسلامي وصل إلى مدينة برقة كان بقيادة
 (عمرو بن العاص - عبد الله بن أبي السرح - خالد بن الوليد - عبد الملك بن مروان)
 ٧- القاسم المشترك بين أهل برقة وأهل مصر هو المعاناة من حكم
 (الأمويين - العباسيين - الروم - المغول)
 ٨- تم الفتح الإسلامي لمصر في عهد الخليفة
 (أبي بكر الصديق - عمر بن الخطاب - عثمان بن عفان - علي بن أبي طالب)
 ٩- فتحت في عهد الخليفة عثمان بن عفان
 (مصر - برقة - طرابلس - إفريقية)

- ١٠- أصبحت اللغة العربية هي اللغة الرسمية في بعض الدول الإفريقية ومنها
(تنزانيا - الصومال - أوغندا - اليمن)
- ١١- ساهم في تطوير الجوانب الإدارية بالحبشة : **مستّر : محمد عبد الصبور**
(الأيوبيون - العباسيون - المماليك - الفاطميون)
- ١٢- تقع جامعة سنكوري في دولة
(غينيا - إثيوبيا - مالي - السنغال)
- ١٣- تستورد مصر من الدول الإفريقية
(الأواني النحاسية - المصنوعات الحديدية - الزجاج - الصمغ)
- ١٤- بداية ظهور التأثير الديني لمصر على الشعوب الإفريقية كان في
(العصور القديمة - العصور الوسطى - العصر الحديث - التاريخ المعاصر)
- ١٥- فضل ملوك وحكام الدول الإفريقية المنتجات المصرية بسبب
(جودتها - رخصها - سهولة نقلها - ندرتها)
- ١٦- وجدت أوان فخارية تشير إلى التبادل التجاري بين مصر والدول الإفريقية في مناطق الساحل
(الشمالي الإفريقي - الشرق الإفريقي - الجنوبي الإفريقي - الغربي الإفريقي)

السؤال الخامس : لمن تنسب الأعمال الآتية

- ١- أوصى أصحابه بالهجرة إلى الحبشة .
٢- خليفة المسلمين الذي فتح مصر في عهده .
٣- خليفة أموي أرسل البنائين للساحل الشرقي الإفريقي للمساهمة في بناء المدن الإفريقية .
٤- قائد مسلم قام بفتح مصر .
٥- انتصر على الروم وفتح مدينة سببلة .

السؤال الخامس : صوب ما تحته خط

مستّر : محمد عبد الصبور

- ١- سقطت الخلافة العباسية بسقوط عاصمتها دمشق على يد المغول .
٢- أصبحت مدينة الإسكندرية مركزا للخلافة العباسية في مصر بعد غزو المغول .
٣- كانت المؤثرات الاجتماعية من أبرز النواحي الثقافية التي ربطت الدول الإفريقية بمصر .
٤- رواق الشوام أشهر الأروقة التي خصصت لطلاب شمال إفريقيا والمغرب العربي .
٥- يعد الصمغ أحد صادرات مصر للدول الإفريقية .

مستّر : محمد عبد الصبور

السؤال الثامن : أجب عن الاسئلة التالية

(١) بم تفسر :-

- ١- ارتبط العرب بعلاقات مع إفريقيا قديما قبل ظهور الإسلام .

مستّر : محمد عبد الصبور

- ٢- إرسال التجار المسلمين الطلاب الأفارقة المميزين للمعاهد العلمية في مصر .

٣- اوصي الرسول "ص" أصحابه بالهجرة الى الحبشة في السنة الخامسة من البعثة النبوية .

٤- سار عمرو بن العاص في مصر بجشيه نحو اقليم برقة غرباً . **مستّر: محمد عبد الصبور**

٥- ترحيب المصريين بالفتح الإسلامي .

٦- انتقال العادات والتقاليد الإسلامية لشعوب إفريقيا .

٧- ارتبطت مصر مع الدول والممالك الإفريقية خلال السياسية وثقافية واقتصادية قوية .

٨- توفير الأزهر الشريف لطلابه الأفارقة الإقامة والرواتب . **مستّر: محمد عبد الصبور**

٩- سعى العديد من حكام الدول الإسلامية بإفريقيا إلى الحصول على تأييد مصر السياسي .

١٠- لجوء ملوك الحبشة للمطارنة المصريين . **مستّر: محمد عبد الصبور**

١١- تعيين مطران مصرى فى كنيسة الحبشة .

(٢) ما النتائج المترتبة على :-

١- حفر قناة أمير المؤمنين بالنسبة للإسلام في إفريقيا .

٢- زواج التجار المسلمين من النساء الأفارقة . **مستّر: محمد عبد الصبور**

٣- اهتمام الإسلام بتنظيم الحياة الاجتماعية والأسرية في القارة الإفريقية .

٤- فرار الكثير من بني أمية وأنصارهم إلى داخل إفريقيا بعد سقوط الدولة الأموية .

٥- دخول الإسلام إلى إفريقيا بالنسبة للنظم السياسية بها . **مستّر: محمد عبد الصبور**

٦- كانت الكنيسة الحبشية تابعة لكنيسة المصرية . **مستّر: محمد عبد الصبور**

(٢) دُلِّلْ عَلَى صِحَّةِ الْعِبَارَةِ :-

١- ساهم سكان شرق القارة الإفريقية في نشر الإسلام في القارة .

مستَر : محمد عبد الصبور

٢- كان للبحر الأحمر دور مهم في انتشار الإسلام في شرق إفريقيا .

٣- تعددت أساليب انتشار الإسلام في إفريقيا .

٤- لعب الدعاة وعلماء الدين دورًا بارزًا في نشر الإسلام في إفريقيا .

٥- استفاد حكام الحبشة من الخبرات السياسية والإدارية لمصر .

٦- قيام الأزهر الشريف بدور مهم عبر التاريخ في الحفاظ على الهوية الإسلامية .

٧- احتفظت مصر بمكانتها الثقافية والدينية بعد انتشار المسيحية .

مستَر : محمد عبد الصبور

٨- ساهم المماليك في تطوير الجوانب الإدارية بالحبشة .

ما المقصود بكل من :-

١- الدعاة .

٢- العصور الوسطى .

مستَر : محمد عبد الصبور

٣- أروقة الأزهر الشريف .

مستَر : محمد عبد الصبور

مستَر : محمد عبد الصبور

اقوى مراجعة على الوحدة الرابعة

مستّر : محمد عبد الصبور

السؤال الاول : أكمل العبارات الآتية بكلمات مناسبة

- ١- هاجر الصحابة الأوائل إلى قارة إفريقيا لأول مرة في عهد النبي محمد "ص".
- ٢- وصل عرب شبه الجزيرة العربية للساحل الشرقي الإفريقيا بغرض التجارة.
- ٣- انتشر الإسلام عبر المحيط الهندي ومضيق باب المنذب الى قارة افريقيا .
- ٤- أهم الموانئ والمراكز التجارية التي نشرت الإسلام بإفريقيا مدينة تمبكتو في مالي .
- ٥- قام التجار المسلمون في إفريقيا بتشييد المدارس و المساجد .
- ٦- اتجه عمرو بن العاص بعد فتح برقة نحو طرابلس .
- ٧- من القادة المسلمين الذين ساهموا في فتح شمال إفريقيا عقبة بن نافع و موسى بن نصير .
- ٨- من الممالك والسلطنات الإسلامية في قارة إفريقيا مملكة غانا ومملكة مالي .
- ٩- نظم الإسلام الأسرة فمنح الأم الحق في حضانة الأطفال .
- ١٠- بعد استقرار الامر لعمر بن العاص في مصر اتجه بجيشه نحو اقليم برقة غرباً .
- ١١- بعد دخول الإسلام إلى إفريقيا تحولت الحياة القبلية بها إلى نظام الدولة .
- ١٢- كان حجاج الدول الإفريقية يمرون عبر دولة مصر لبلاد الحرمين .
- ١٣- من أشهر الأروقة التي خصصت لطلاب الأزهر من شمال إفريقيا رواق المغاربة .
- ١٤- كانت مصر الوسيط الوحيد في استيراد إفريقيا لسلع الشرق ونقلها الى افريقيا .
- ١٥- خصص للطلاب الوافدين من بلاد الحبشة وسواحل البحر رواق الجبرتية .
- ١٦- أصبحت مسئولية حماية الحرمين الشريفين بعد سقوط الخلافة العباسية على عاتق مصر .

السؤال الثاني : اكتب كلمة صواب امام العبارة الصحيحة وكلمة خطأ امام العبارة غير الصحيحة

- ١- بدأ ارتباط العرب بعلاقات تجارية مع إفريقيا بعد ظهور الإسلام . (خطأ)
- ٢- اختلط عرب شبه الجزيرة العربية بإفريقيا قديماً وتزوجوا منها . (صواب)
- ٣- اعتمد انتشار الإسلام في إفريقيا على الأسلوب السلمي في الإقناع . (صواب)
- ٤- كان الدعاة يحظون بنوع من التقدير والاحترام بين القبائل الإسلامية في إفريقيا . (صواب)
- ٥- كان التجار المسلمون يرسلون الطلاب المتميزون في إفريقيا للسودان لتلقي العلم . (خطأ)
- ٦- رحب أهل برقة بالفتح الإسلامي لمصر كما رحب أهل مصر . (صواب)
- ٧- أرسل عبد الله بن أبي السرح للخليفة عمر بن الخطاب يستأذنه في فتح إفريقية . (خطأ)
- ٨- منح الإسلام في إفريقيا للمرأة الحرية في اختيار الزوج وحدد عدد الزوجات . (صواب)
- ٩- كانت الهجرات الإسلامية إلى قارة إفريقيا إحدى الوسائل المهمة لنشر الإسلام . (صواب)
- ١٠- تم فتح مصر في عهد الخليفة عثمان بن عفان . (خطأ)
- ١١- كانت كنيسة اليمن تابعة للكنيسة المصرية . (خطأ)
- ١٢- حرص حكام الحبشة على الاستفادة من الخبرات السياسية والعسكرية لمصر . (صواب)
- ١٣- عرف نظام الدولة في إفريقيا قبل دخول الإسلام إليها . (خطأ)

- ١٤- من المعبودات المصرية التي عبدت في بلاد اليمن إيزيس وأوزوريس . (خطأ)
 ١٥- تعد أدوات الزينة من السلع التي حملها التجار المصريون للدول الإفريقية . (صواب)
 ١٦- وفر الأزهر الشرف لطلابه الإقامة المستقرة واعطي لهم الرواتب . مستر : محمد عبد (صواب)

السؤال الثالث : اكتب ما تشير اليه العبارات الآتية

- ١- المعبر البري الوحيد الذي يربط شبه الجزيرة العربية بإفريقيا . شبه جزيرة سيناء
 ٢- كانوا يختارون الطلاب المتميزين لارسالهم الى المعاهد العلمية في مصر . التجار المسلمين
 ٣- الأفراد الذين تلقوا قدرًا من العلوم الدينية لنشر الإسلام وتعاليمه بالطرق السلمية الدعاء
 ٤- قناة حفرت بعد الفتح الاسلامي لمصر وساعدت على نشر الاسلام . خليج امير المؤمنين
 ٥- أهم المساجد بدولة مالي أقيمت فيها دروس جميع العلوم الإسلامية . جامع سكنوري
 ٦- مدينة بشمال إفريقيا كانت محاطة بالأسوار وحاصرها المسلمون شهر لفتحها طرابلس
 ٧- مدينة إفريقية فتحها المسلمون في عهد الدولة الأموية ومهد فتحها لفتح بلاد المغرب مدينة سببيلة
 ٨- مدينة مصرية أصبحت مقر الخلافة العباسية بعد سقوطها في بغداد . القاهرة
 ٩- أهم المؤسسات العلمية الدينية التي قدمت العلوم والمعرفة إلى الدول الإسلامية الأزهر الشريف
 ١٠- جامعة أقيمت بمدينة تمبكتو وقد حاولت أن تحتذى أساليب الأزهر في التدريس جامعة سكنوري

السؤال الرابع : اختر الإجابة الصحيحة مما بين الأقواس

- ١- عرفت إفريقيا قديمًا الإسلام لأول مرة عن طريق بلاد
 (النوبة - الحبشة - بونت - مصر)
 ٢- من المعابر الأساسية التي استخدمها العرب مع شرق إفريقيا
 (المحيط الهادي - المحيط الهندي - المحيط الأطلنطي - البحر المتوسط)
 ٣- أشهر الموانئ والمراكز التجارية التي نشرت الإسلام في إفريقيا كانت تقع في دولة
 (مصر - الكونغو - تنزانيا - نيجيريا)
 ٤- أرسل الخليفة الأموي البنائين الى الساحل الشرقي الافريقي ليساهموا في بناء المدن .
 (عمرو بن العاص - عبد الله بن أبي السرح - خالد بن الوليد - عبد الملك بن مروان)
 ٥- أولى الدول الإفريقية التي فتحها المسلمون
 (مصر - المغرب - الصومال - أوغندا)
 ٦- أول جيش إسلامي وصل إلى مدينة برقة كان بقيادة
 (عمرو بن العاص - عبد الله بن أبي السرح - خالد بن الوليد - عبد الملك بن مروان)
 ٧- القاسم المشترك بين أهل برقة وأهل مصر هو المعاناة من حكم
 (الأمويين - العباسيين - الروم - المغول)
 ٨- تم الفتح الإسلامي لمصر في عهد الخليفة
 (أبي بكر الصديق - عمر بن الخطاب - عثمان بن عفان - علي بن أبي طالب)
 ٩- فتحت في عهد الخليفة عثمان بن عفان
 (مصر - برقة - طرابلس - إفريقية)

- ١٠- أصبحت اللغة العربية هي اللغة الرسمية في بعض الدول الإفريقية ومنها
(تنزانيا - الصومال - أوغندا - اليمن)
- ١١- ساهم في تطوير الجوانب الإدارية بالحبشة : **محمّد عبد الصبور**
(الأيوبيون - العباسيون - المماليك - الفاطميون)
- ١٢- تقع جامعة سنكوري في دولة
- ١٣- تستورد مصر من الدول الإفريقية
- (الأواني النحاسية - المصنوعات الحديدية - الزجاج - الصمغ)
- ١٤- بداية ظهور التأثير الديني لمصر على الشعوب الإفريقية كان في
(العصور القديمة - العصور الوسطى - العصر الحديث - التاريخ المعاصر)
- ١٥- فضل ملوك وحكام الدول الإفريقية المنتجات المصرية بسبب
(جودتها - رخصها - سهولة نقلها - ندرتها)
- ١٦- وجدت أوان فخارية تشير إلى التبادل التجاري بين مصر والدول الإفريقية في مناطق الساحل
(الشمالي الإفريقي - الشرق الإفريقي - الجنوبي الإفريقي - الغربي الإفريقي)

السؤال الخامس : لمن تنسب الأعمال الآتية

مستّر : محمد عبد الصبور

الرسول "ص"

عمر بن الخطاب

١- أوصى أصحابه بالهجرة إلى الحبشة .

٢- خليفة المسلمين الذي فتح مصر في عهده .

٣- خليفة أموي أرسل البنائين للساحل الشرقي الإفريقي للمساهمة في بناء المدن الإفريقية .

عبد الملك بن مروان

عمرو بن العاص

٤- قائد مسلم قام بفتح مصر .

عبد الله بن سعد بن أبي السرح

٥- انتصر على الروم وفتح مدينة سببلة .

السؤال الخامس : صوب ما تحته خط

مستّر : محمد عبد الصبور

يفقد

القاهرة

١- سقطت الخلافة العباسية بسقوط عاصمتها دمشق على يد المغول .

٢- أصبحت مدينة الإسكندرية مركزا للخلافة العباسية في مصر بعد غزو المغول

٣- كانت المؤثرات الاجتماعية من أبرز النواحي الثقافية التي ربطت الدول الإفريقية بمصر الدينية

المغربية

٤- رواق الشوام أشهر الأروقة التي خصصت لطلاب شمال إفريقيا والمغرب العربي

الأواني النحاسية

٥- يعد الصمغ أحد صادرات مصر للدول الإفريقية .

مستّر : محمد عبد الصبور

السؤال الثامن : أجب عن الاسئلة التالية

(١) بم تفسر :-

- ١- ارتبط العرب بعلاقات مع إفريقيا قديما قبل ظهور الإسلام .
- سبب القرب الجغرافي بين شبه الجزيرة العربية وشرق إفريقيا .
- ٢- إرسال التجار المسلمين الطلاب الأفارقة المميزين للمعاهد العلمية في مصر .
- لنتلقى مزيد من العلم فيعودوا قادة للفكر الإسلامي في بلادهم .

٣- اوصى الرسول "ص" أصحابه بالهجرة الى الحبشة في السنة الخامسة من البعثة النبوية .
فراراً من أذى قريش ولأن بها ملكاً عادلاً لا يظلم عنده احداً ولقب بالنجاشي .

مستّر : محمد عبد الصبور

٤- سار عمرو بن العاص في مصر بجشيه نحو اقليم برقة غرباً .
لتأمين الحدود المصرية من الغرب ونشر الإسلام هناك .

٥- ترحيب المصريين بالفتح الإسلامي .

لأنهم يعانون من حكم الروم وجاء عمرو بن العاص وخلصهم منهم .

٦- انتقال العادات والتقاليد الإسلامية لشعوب إفريقيا .

لأنها عادات طيبة لا تتنافى مع الشريعة الإسلامية مثل :-

(١) اكرام الضيف (٢) مساعدة المحتاج (٣) التضامن الاجتماعي .

٧- ارتبطت مصر مع الدول والممالك الإفريقية خلال السياسية وثقافية واقتصادية قوية . بسبب :-

(١) موقعها الجغرافي المتميز وتأثيرها الفكري والثقافي والاقتصادي .

(٢) تركيز السلطة السياسية والدينية للعالم الإسلامي فيها خلال هذه الفترة .

(٣) تولي مصر مسئولية حماية الحرمين الشريفين والاماكن المقدسة في ظل حكم الخلافة العباسية .

٨- توفير الأزهر الشريف لطلابه الأفارقة الإقامة والرواتب . ليتفرغوا لطلب العلم .

مستّر : محمد عبد الصبور

٩- سعى العديد من حكام الدول الإسلامية بإفريقيا إلى الحصول على تأييد مصر السياسي .

للاعتراف بشرعيتهم في حكم البلاد التي تولوا إدارة شئونها .

١٠- لجوء ملوك الحبشة للمطارنة المصريين . لاستشارتهم في شئونهم الدينية والسياسية .

١١- تعيين مطران مصري في كنيسة الحبشة . ليكون مسئول عن الكنيسة الحبشية .

(٢) ما النتائج المترتبة على :-

١- حفر قناة أمير المؤمنين بالنسبة للإسلام في إفريقيا . ساعدت على انتشار الإسلام في إفريقيا .

٢- زواج التجار المسلمين من النساء الأفارقة .

ساعد ذلك على تقوية العلاقات بين الطرفين ونقل العادات والتقاليد الإسلامية الى الشعوب الإفريقية .

٣- اهتمام الإسلام بتنظيم الحياة الاجتماعية والأسرية في القارة الإفريقية .

أدى ذلك الى بناء اسر متماسكة ومجتمعات قوية .

٤- فرار الكثير من بني أمية وأنصارهم إلى داخل إفريقيا بعد سقوط الدولة الأموية .

ترتب على ذلك أنهم أصبحوا عاملاً مهماً في نشر الإسلام واللغة العربية بين اهل تلك البلاد .

٥- دخول الإسلام إلى إفريقيا بالنسبة للنظم السياسية بها .

مستّر : محمد عبد الصبور

ساعد على تحول الحياة القبلية القائمة على الحروب والعصبية الى نظام الدولة .

٦- كانت الكنيسة الحبشية تابعة لكنيسة المصرية .

كان يتم تعيين مطران مصري من قبل بطريرك الإسكندرية ليكون مسئول عن الكنيسة الحبشية .

مستّر : محمد عبد الصبور

(٢) دتل على صحة العبارة :-

- ١- ساهم سكان شرق القارة الإفريقية فى نشر الإسلام فى القارة .
بسبب العلاقات بين سكان شبه الجزيرة العربية وبين سكان شرق القارة الإفريقية وقد مهد ذلك لانتشار الإسلام فى تلك الأماكن عن طريق :-
(١) المحيط الهندي ومضيق باب المندب . (٢) شبه جزيرة سيناء . (٣) البحر الأحمر .
٢- كان للبحر الأحمر دور مهم فى انتشار الإسلام فى شرق إفريقيا .
- استخدمه المسلمون الأوائل فى التنقل بين شبه الجزيرة العربية وإفريقيا .
- أنشأ المسلمون الأوائل بعض المراكز التجارية على طول الساحل الشرقى لإفريقيا .
- بعد الفتح الإسلامى لمصر تم حفر قناة عرفت باسم خليج أمير المؤمنين .
٣- تعددت أساليب انتشار الإسلام فى إفريقيا .
كان من أهم هذه الأساليب :-
(١) الدعاة . (٢) التجار المسلمون . (٣) الزواج والمصاهرة . (٤) الهجرات .
٤- لعب الدعاة وعلماء الدين دوراً بارزاً فى نشر الإسلام فى إفريقيا .
حيث كان قادة القبائل الإسلامية بإفريقيا يرسلون الدعاة لنشر الإسلام بين بقية القبائل الإفريقية وقد كان الدعاة يحظون بنوع من التقدير والاحترام بين تلك القبائل .
٥- استفاد حكام الحبشة من الخبرات السياسية والإدارية لمصر .
حيث استعانوا ببعض الممالك لتعليمهم فنون الحرب وتصنيع الأسلحة والرمي بالسهم والرمح والضرب بالسيف .
٦- قيام الأزهر الشريف بدور مهم عبر التاريخ فى الحفاظ على الهوية الإسلامية .
لأنه يعد من أهم المؤسسات العلمية الدينية التى قدمت العلوم والمعرفة الى الدول الإسلامية بإفريقيا .
٧- احتفظت مصر بمكانتها الثقافية والدينية بعد انتشار المسيحية .
حيث الكنيسة الحبشية تابعة للكنيسة المصرية وكان يتم تعيين مطران مصري من قبل بطريرك الإسكندرية ليكون مسئولاً عن الكنيسة الحبشية .
٨- ساهم المماليك فى تطوير الجوانب الإدارية بالحبشة .
حيث نظموا طريق جباية الأموال وأنشئوا ديواناً خاصاً بذلك كما وضعوا القوانين التى تساعد على حماية أموال الدولة .

ما المقصود بكل من :-

- ١- الدعاة : الأفراد الذين تلقوا قدراً من العلوم الدينية التى تؤهلهم لنشر الإسلام وتعاليمه بالطرق السلمية .
- ٢- العصور الوسطى : الفترة الزمنية التى امتدت من القرن الخامس الى القرن الخامس عشر الميلادى .
- ٣- أروقة الأزهر الشريف :
أماكن للدراسة والأعاشة الكاملة بالمجان " طعام وإقامة وكسوة ومرتبات وخدمات كثيرة " تخصص للطلاب الدارسين بالأزهر تكريماً وراحة لهم وتقديم حسب مناطق الطلاب الوافدين .